



مدرسایان شریف

فصل اول

« هندسه تحلیلی و جبر خطی »

درسنامه: ماتریس و خواص آن

مثال ۱: فرض کنیم $A = \begin{pmatrix} 1 & 0 & 0 \\ 2 & 1 & 0 \\ 0 & 3 & 0 \\ 0 & 0 & 3 \\ 0 & 0 & 5 \end{pmatrix}$ و $B = \sum_{n=0}^{\infty} A^n$ باشد. مقدار $\text{tr}B$ کدام است؟

۶ (۴)

۴ (۳)

۳ (۲)

۲ (۱)

✓ پاسخ: گزینه «۴» می‌دانیم که اگر A ماتریس قطری باشد، ماتریس A^n همان ماتریس A است که درایه‌هایش به توان n رسیده‌اند. البته این موضوع برای

همه‌ی ماتریس‌ها صحیح نیست، بلکه ماتریس‌های قطری این ویژگی را دارند. از طرفی می‌دانیم که $\text{tr} \sum_{n=0}^{\infty} A^n = \sum_{n=0}^{\infty} \text{tr} A^n$ است، بنابراین خواهیم داشت:

$$A^n = \begin{pmatrix} \left(\frac{1}{2}\right)^n & 0 & 0 \\ 0 & \left(\frac{1}{3}\right)^n & 0 \\ 0 & 0 & \left(\frac{3}{5}\right)^n \end{pmatrix} \Rightarrow \text{tr}B = \text{tr} \sum_{n=0}^{\infty} A^n = \sum_{n=0}^{\infty} \text{tr}(A^n) = \sum_{n=0}^{\infty} \left(\frac{1}{2^n} + \frac{1}{3^n} + \frac{3^n}{5^n} \right)$$

$$\text{tr}B = \frac{1}{1-\frac{1}{2}} + \frac{1}{1-\frac{1}{3}} + \frac{1}{1-\frac{3}{5}} = 6$$

یادآوری می‌کنیم که وقتی $|x| < 1$ باشد، تساوی $\sum_{n=0}^{\infty} x^n = \frac{1}{1-x}$ برقرار است. پس داریم:

مثال ۲: ماتریس‌های $A = \begin{bmatrix} -1 & 2 \\ 3 & 1 \end{bmatrix}$ و $B = \begin{bmatrix} i & 2i \\ 1+i & 0 \end{bmatrix}$ در معادله‌ی $iB + 2A = \begin{bmatrix} z+y & x \\ i+\delta & y \end{bmatrix}$ صدق می‌کنند. مقدار z کدام است؟

-۵i (۴)

۵i (۳)

-۵ (۲)

۵ (۱)

✓ پاسخ: گزینه «۲» با انجام ضرب اسکالر و سپس جمع کردن دو ماتریس خواهیم داشت:

$$iB + 2A = i \begin{bmatrix} i & 2i \\ 1+i & 0 \end{bmatrix} + 2 \begin{bmatrix} -1 & 2 \\ 3 & 1 \end{bmatrix} = \begin{bmatrix} i^2 & 2i^2 \\ i+i^2 & 0 \end{bmatrix} + \begin{bmatrix} -2 & 4 \\ 6 & 2 \end{bmatrix} = \begin{bmatrix} -1 & -2 \\ i-1 & 0 \end{bmatrix} + \begin{bmatrix} -2 & 4 \\ 6 & 2 \end{bmatrix} = \begin{bmatrix} -3 & 2 \\ i+5 & 2 \end{bmatrix}$$

بنابراین داریم: $\begin{bmatrix} z+y & x \\ i+\delta & y \end{bmatrix} = \begin{bmatrix} -3 & 2 \\ i+5 & 2 \end{bmatrix}$ و از این تساوی به نتایج $x=2$ ، $y=2$ ، $z+y=-3$ می‌رسیم که نشان می‌دهند $z=-5$ است.

(مکانیک - آزاد ۸۰)

کجه مثال ۳: اگر $A = \begin{bmatrix} 1 & 2 \\ 0 & 1 \end{bmatrix}$ باشد ماتریس A^{100} عبارت است از:

(۱) $\begin{bmatrix} 100 & 2 \\ 0 & 100 \end{bmatrix}$ (۲) $\begin{bmatrix} 1 & 200 \\ 0 & 1 \end{bmatrix}$ (۳) $\begin{bmatrix} 100 & 200 \\ 0 & 100 \end{bmatrix}$ (۴) $\begin{bmatrix} 1 & 2^{100} \\ 0 & 1 \end{bmatrix}$

$$A^2 = \begin{bmatrix} 1 & 2 \\ 0 & 1 \end{bmatrix} \begin{bmatrix} 1 & 2 \\ 0 & 1 \end{bmatrix} = \begin{bmatrix} 1 & 4 \\ 0 & 1 \end{bmatrix} \Rightarrow A^3 = \begin{bmatrix} 1 & 4 \\ 0 & 1 \end{bmatrix} \begin{bmatrix} 1 & 2 \\ 0 & 1 \end{bmatrix} = \begin{bmatrix} 1 & 6 \\ 0 & 1 \end{bmatrix}, \dots$$

پاسخ: گزینه «۲»

(صنایع - سیستم - آزاد ۸۰)

کجه مثال ۴: در معادله $\begin{bmatrix} 2 & -1 & 1 \\ 4 & 1 & 3 \\ 2 & -2 & -1 \end{bmatrix} \begin{bmatrix} x \\ y \\ z \end{bmatrix} = \begin{bmatrix} 1 \\ 2 \\ 1 \end{bmatrix}$ مجهول x چقدر است؟

(۱) $\frac{1}{3}$ (۲) $\frac{1}{4}$ (۳) ۱ (۴) $\frac{1}{2}$

پاسخ: گزینه «۴»

$$\begin{cases} 2x - y + z = 1 \\ 4x + y + 3z = 2 \\ 2x - 2y - z = 1 \end{cases} \xrightarrow{\substack{\text{جمع معادله (۱) و (۲)} \\ \text{جمع دو برابر معادله (۲) با (۳)}}} \begin{cases} 6x + 4z = 3 \\ 10x + 5z = 5 \end{cases} \Rightarrow x = \frac{1}{2}, z = 0$$

(کشاورزی - سراسری ۸۸)

کجه مثال ۵: اگر $A = \begin{bmatrix} 2 & 3 \\ 4 & 5 \end{bmatrix}$ از رابطه‌ی $X.A = 2A^t$ ماتریس X کدام است؟

(۱) $\begin{bmatrix} -1 & 5 \\ 2 & -6 \end{bmatrix}$ (۲) $\begin{bmatrix} 6 & 5 \\ -2 & -1 \end{bmatrix}$ (۳) $\begin{bmatrix} 1 & 5 \\ -2 & -6 \end{bmatrix}$ (۴) $\begin{bmatrix} 6 & -2 \\ 5 & -1 \end{bmatrix}$

پاسخ: گزینه «۴» قرار می‌دهیم $X = \begin{bmatrix} a & b \\ c & d \end{bmatrix}$ در این صورت داریم:

$$\begin{bmatrix} a & b \\ c & d \end{bmatrix} \begin{bmatrix} 2 & 3 \\ 4 & 5 \end{bmatrix} = 2 \begin{bmatrix} 2 & 4 \\ 3 & 5 \end{bmatrix} \Rightarrow \begin{bmatrix} 2a + 4b & 3a + 5b \\ 2c + 4d & 3c + 5d \end{bmatrix} = \begin{bmatrix} 4 & 8 \\ 6 & 10 \end{bmatrix} \Rightarrow \begin{cases} 2a + 4b = 4 \\ 3a + 5b = 8 \\ 2c + 4d = 6 \\ 3c + 5d = 10 \end{cases}$$

از روابط فوق $a = 6, b = -2, c = 5, d = -1$ به دست می‌آید.

درسنامه: دترمینان و کاربردهایش

کله مثال ۱: اگر $A = \begin{bmatrix} 1 & 0 & 0 \\ i & \frac{-1+i\sqrt{3}}{2} & 0 \\ 0 & 1+2i & \frac{-1-i\sqrt{3}}{2} \end{bmatrix}$ ، آن گاه $|A|^{102}$ کدام است؟

○ (۱) ۱ (۲) ۲ (۳) ۳ (۴)

✓ پاسخ: گزینه «۲» چون ماتریس A پائین مثلثی است در نتیجه دترمینان آن به راحتی قابل محاسبه است و برابر حاصل ضرب عناصر روی قطر اصلی

$$|A|^{102} = \left(\frac{-1+i\sqrt{3}}{2} \right) \left(\frac{-1-i\sqrt{3}}{2} \right) = \frac{(-1)^2 + (\sqrt{3})^2}{4} = 1$$

ماتریس A می‌باشد: $|A|^{102} = 1^{102} = 1$ بنابراین داریم:

کله مثال ۲: اگر $A = \begin{bmatrix} 1 & -1 & 1 \\ 2 & 1 & -3 \\ 1 & 1 & 1 \end{bmatrix}$ و $B = \frac{1}{10} \begin{bmatrix} 4 & 2 & 2 \\ -5 & 0 & \alpha \\ 1 & -2 & 3 \end{bmatrix}$ و بدانیم B معکوس ماتریس A است، مقدار α کدام است؟

○ (۴) ۲ (۳) ۵ (۲) -۱ (۱)

✓ پاسخ: گزینه «۲» اگر B وارون A باشد باید داشته باشیم $AB = I$ بنابراین داریم:

$$\frac{1}{10} \begin{bmatrix} 1 & -1 & 1 \\ 2 & 1 & -3 \\ 1 & 1 & 1 \end{bmatrix} \begin{bmatrix} 4 & 2 & 2 \\ -5 & 0 & \alpha \\ 1 & -2 & 3 \end{bmatrix} = \begin{bmatrix} 1 & 0 & 0 \\ 0 & 1 & 0 \\ 0 & 0 & 1 \end{bmatrix}$$

$$\frac{1}{10}(2 - \alpha + 3) = 0 \Rightarrow \alpha = 5$$

پس حاصل ضرب سطر اول A در ستون سوم B باید صفر شود:

کله مثال ۳: دترمینان ماتریس A کدام است؟

$$A = \begin{bmatrix} -4 & 6 & 4 & 5 & 6 \\ -1 & 1 & 1 & 2 & 3 \\ -1 & 3 & 4 & 5 & 6 \\ -1 & 1 & 2 & 3 & -1 \\ -2 & 2 & 1 & 2 & 1 \end{bmatrix}$$

۱۶ (۱) ۱۲ (۲) -۱۶ (۳) -۱۲ (۴)

✓ پاسخ: گزینه «۲» ابتدا سطر سوم را از سطر اول کم می‌کنیم:

$$\begin{bmatrix} -3 & 3 & 0 & 0 & 0 \\ -1 & 1 & 1 & 2 & 3 \\ -1 & 3 & 4 & 5 & 6 \\ -1 & 1 & 2 & 3 & -1 \\ -2 & 2 & 1 & 2 & 1 \end{bmatrix} \xrightarrow{\text{اکنون ستون اول را با ستون دوم جمع می‌کنیم}} \begin{bmatrix} 0 & 3 & 0 & 0 & 0 \\ 0 & 1 & 1 & 2 & 3 \\ 2 & 3 & 4 & 5 & 6 \\ 0 & 1 & 2 & 3 & -1 \\ 0 & 2 & 1 & 2 & 1 \end{bmatrix}$$

$$\det A = 0 - 3 \begin{vmatrix} 0 & 1 & 2 & 3 \\ 2 & 4 & 5 & 6 \\ 0 & 2 & 3 & -1 \\ 0 & 1 & 2 & 1 \end{vmatrix} + 0 - 0 + 0$$

با استفاده از گسترش روی سطر اول خواهیم داشت:

$$\det A = -3(0 - 2 \begin{vmatrix} 1 & 2 & 3 \\ 2 & 3 & -1 \\ 1 & 2 & 1 \end{vmatrix} + 0 - 0) \Rightarrow \det A = 6 \begin{vmatrix} 1 & 2 & 3 \\ 2 & 3 & -1 \\ 1 & 2 & 1 \end{vmatrix}$$

حال در این ماتریس 4×4 از گسترش روی ستون اول استفاده می‌کنیم:

$$\det A = 6(3 - 2 + 12 - 9 - 4 + 2) = 12$$

حالا با استفاده از روش ساروس خواهیم داشت:

کج مثال ۴: اگر برای ماتریس A داشته باشیم $A^2 - A + I = O$ ، آن‌گاه A^{-1} کدام است؟

- (۱) I (۲) $I + A$ (۳) A^2 (۴) $I - A$

پاسخ: گزینه «۴» از تساوی $A^2 - A + I = O$ خواهیم داشت $A - A^2 = I$ بنابراین $A(I - A) = I$. از طرفی می‌دانیم که اگر $AB = I$ باشد، B وارون A است. پس داریم:

کج مثال ۵: اگر A یک ماتریس 3×3 باشد و $|A| \neq 0$ و همچنین در تساوی‌های $AA' = A'A$ و $B = A^{-1}A'$ صدق کند، آن‌گاه BB' برابر با کدام گزینه است؟

- (۱) I (۲) $I + B$ (۳) $(B^{-1})'$ (۴) $3I$

پاسخ: گزینه «۱» با توجه به تساوی $B = A^{-1}A'$ خواهیم داشت:

اما می‌دانیم که: $(A')' = A$ و $(A^{-1})' = (A')^{-1}$ است. بنابراین داریم:

حال از فرض $A'A = AA'$ استفاده می‌کنیم. خواهیم داشت:

توجه کنید برای ماتریس معکوس‌پذیر A داریم $AA^{-1} = I$.

کج مثال ۶: برای آن که دستگاه معادلات $\begin{cases} ax + 4y = 6 \\ 3x + 8y = 12 \end{cases}$ بی‌شمار جواب داشته باشد، مقدار a کدام است؟

- (۱) $\frac{2}{3}$ (۲) $\frac{3}{2}$ (۳) $\frac{1}{2}$ (۴) 2

پاسخ: گزینه «۲» طبق نکته فوق برای آن که این دستگاه دو معادله و دو مجهولی بی‌شمار جواب داشته باشد باید $\frac{a}{a'} = \frac{b}{b'} = \frac{c}{c'}$ باشد، یعنی داریم:

$$\frac{a}{3} = \frac{4}{8} = \frac{6}{12} \Rightarrow \frac{a}{3} = \frac{1}{2} \Rightarrow a = \frac{3}{2}$$

کج مثال ۷: مقادیر ویژه ماتریس $A = \begin{bmatrix} 4 & -1 \\ 2 & 1 \end{bmatrix}$ را به دست آورید و بردارهای ویژه‌ی مربوط به مقدار ویژه‌ی کوچکتر را تعیین کنید.

پاسخ: ابتدا ماتریس $A - \lambda I$ را تشکیل داده و چند جمله‌ای مشخصه را به دست می‌آوریم.

$$A - \lambda I = \begin{bmatrix} 4 - \lambda & -1 \\ 2 & 1 - \lambda \end{bmatrix} \Rightarrow f(\lambda) = |A - \lambda I| = (4 - \lambda)(1 - \lambda) + 2 = 0 \Rightarrow \lambda^2 - 5\lambda + 6 = 0$$

ریشه‌های معادله‌ی مشخصه عبارتند از $\lambda_1 = 2$ و $\lambda_2 = 3$. برای یافتن بردارهای ویژه‌ی مربوط به $\lambda_1 = 2$ دستگاه $AX = 2X$ را حل می‌کنیم. فرض کنیم

$$AX = 2X \Rightarrow \begin{bmatrix} 4 & -1 \\ 2 & 1 \end{bmatrix} \begin{bmatrix} x \\ y \end{bmatrix} = \begin{bmatrix} 2x \\ 2y \end{bmatrix} \Rightarrow \begin{cases} 4x - y = 2x \\ 2x + y = 2y \end{cases} \Rightarrow \begin{cases} 2x - y = 0 \\ 2x - y = 0 \end{cases} \Rightarrow y = 2x$$

هر دو معادله به نتیجه‌ی $y = 2x$ می‌رسند. بنابراین هر برداری که به صورت $X = \begin{bmatrix} x \\ 2x \end{bmatrix}$ باشد، یک بردار ویژه برای $\lambda_1 = 2$ است. همان‌طور که گفتیم، هر مقدار ویژه دارای بی‌شمار بردار ویژه است. مثلاً $X = \begin{bmatrix} 1 \\ 2 \end{bmatrix}$ یا $X = \begin{bmatrix} 3 \\ 6 \end{bmatrix}$ یا $X = \begin{bmatrix} -1 \\ -2 \end{bmatrix}$ همگی بردارهای ویژه‌ی مربوط به $\lambda_1 = 2$ هستند.

کج مثال ۸: مجموع و حاصل ضرب مقادیر ویژه‌ی ماتریس $A = \begin{bmatrix} 3 & 1 \\ 1 & 1 \end{bmatrix}$ به ترتیب کدامند؟

- (۱) $4, -5$ (۲) $5, -4$ (۳) $6, -4$ (۴) $6, -6$

پاسخ: گزینه «۱» ابتدا معادله‌ی مشخصه را تشکیل داده و مقادیر ویژه را تعیین می‌کنیم:

$$f(\lambda) = |A - \lambda I| = \begin{vmatrix} 3 - \lambda & 1 \\ 1 & 1 - \lambda \end{vmatrix} \Rightarrow |A - \lambda I| = (3 - \lambda)(1 - \lambda) - 1 = \lambda^2 - 4\lambda - 5 = 0 \Rightarrow \lambda_1 = -1, \lambda_2 = 5$$

پس مجموع مقادیر ویژه $\lambda_1 + \lambda_2 = 4$ و حاصل ضرب آن‌ها $\lambda_1 \lambda_2 = -5$ است. حالا از شما می‌خواهیم که $\det A$ و $\text{tr} A$ را محاسبه کنید. می‌بینیم که

$$\det A = 3 - 1 = 2 \text{ و } \text{tr} A = 3 + 1 = 4$$



مثال ۹: مجموع مقادیر ویژه $A = \begin{bmatrix} m & 0 & 1 \\ 0 & m-1 & 2 \\ 1 & 2 & m-2 \end{bmatrix}$ برابر صفر بوده؛ حاصل ضرب مقادیر ویژه، «چه عددی» است؟

(۱) ۳ (۲) -۲ (۳) -۴ (۴) ۱

پاسخ: گزینه «۳» مجموع مقادیر ویژه ماتریس، برابر با حاصل جمع درایه‌های روی قطر اصلی است، لذا داریم:

$$m + (m-1) + (m-2) = 0 \Rightarrow 3m = 3 \Rightarrow m = 1$$

$$A = \begin{bmatrix} 1 & 0 & 1 \\ 0 & 0 & 2 \\ 1 & 2 & -1 \end{bmatrix} \xrightarrow[\text{همان دترمینان ماتریس است}]{\text{حاصل ضرب مقادیر ویژه}} |A| = 1 \times (0-4) + 1 \times (0-0) = -4$$

مثال ۱۰: اگر $\lambda = 1$ مقدار ویژه مکرر مرتبه سوم ماتریس $A = \begin{bmatrix} 5 & -3 & -2 \\ 8 & -5 & -4 \\ -4 & 3 & a \end{bmatrix}$ باشد، مقدار a کدام است؟

(۱) ۱ (۲) -۱ (۳) ۳ (۴) -۳

پاسخ: گزینه «۳» طبق فرض، مقادیر ویژه همگی برابر ۱ هستند و می‌دانیم مجموع مقادیر ویژه برابر مجموع عناصر قطر اصلی هستند، بنابراین داریم:

$$5 - 5 + a = 1 + 1 + 1 \Rightarrow a = 3$$

مثال ۱۱: مقادیر ویژه ماتریس $A = \begin{bmatrix} 2 & 1 & 0 \\ 0 & 1 & 0 \\ -3 & -1 & -1 \end{bmatrix}$ کدام است؟

(۱) ۲، -۱، -۲ (۲) ۲، ۱، ۰ (۳) ۲، ۱، -۲ (۴) ۲، ۱، -۱

پاسخ: گزینه «۴»

روش اول: معادله‌ی مشخصه را تشکیل می‌دهیم:

$$A - \lambda I = \begin{bmatrix} 2 & 1 & 0 \\ 0 & 1 & 0 \\ -3 & -1 & -1 \end{bmatrix} - \begin{bmatrix} \lambda & 0 & 0 \\ 0 & \lambda & 0 \\ 0 & 0 & \lambda \end{bmatrix} = \begin{bmatrix} 2-\lambda & 1 & 0 \\ 0 & 1-\lambda & 0 \\ -3 & -1 & -1-\lambda \end{bmatrix}$$

$$f(\lambda) = |A - \lambda I| = 0 \Rightarrow (2-\lambda)(1-\lambda)(-1-\lambda) = 0 \Rightarrow \lambda_1 = 1, \lambda_2 = -1, \lambda_3 = 2$$

روش دوم: مقادیر $\text{tr} A$ و $\det A$ را محاسبه می‌کنیم. $\text{tr} A = 2 + 1 - 1 = 2$ است و با استفاده از دستور ساروس $\det A = (-2 + 0 + 0) - (0 + 0 + 0) = -2$ به دست می‌آید. بنابراین می‌دانیم که $\lambda_1 + \lambda_2 + \lambda_3 = 2$ و $\lambda_1 \lambda_2 \lambda_3 = -2$ است. این نشان می‌دهد که گزینه‌ی (۴) صحیح است.

مثال ۱۲: اگر A یک ماتریس 5×5 بوده و $|xI - A| = (x-1)(x+2)^2 x$ باشد، مقدار $\text{tr}(A)$ چقدر است؟

(۱) -۵ (۲) ۵ (۳) ۰ (۴) ۱۰

پاسخ: گزینه «۱» مقادیر ویژه ماتریس A از حل معادله‌ی $(x-1)(x+2)^2 x = 0$ به دست می‌آیند و اعداد ۰، ۱، -۲، -۲، -۲ می‌باشند و مجموع مقادیر ویژه برابر $\text{tr}(A)$ است، بنابراین داریم:

$$\text{tr}(A) = -2 - 2 - 2 + 1 + 0 = -5$$

مثال ۱۳: اگر A یک ماتریس با چند جمله‌ای مشخصه $f(x) = x^5 + x^2 - 2$ باشد، $\det(A)$ چقدر است؟

(۱) -۳ (۲) -۱ (۳) ۱ (۴) ۳

پاسخ: گزینه «۴» طبق قضیه‌ی همیلتون، ماتریس A در معادله‌ی مشخصه‌اش صدق می‌کند یعنی $A^5 + A^2 - 2I = 0$ است. طبق نکته‌ای که پیش از این گفته‌ایم خواهیم داشت:

$$\det A = (-1)^n \frac{a_0}{a_n} = (-1)^5 \frac{(-2)}{1} = 3$$

مثال ۱۴: قطری شده‌ی ماتریس $A = \begin{bmatrix} -1 & 2 \\ 1 & 0 \end{bmatrix}$ کدام است؟

(۱) $\begin{bmatrix} 1 & 0 \\ 0 & 2 \end{bmatrix}$ (۲) $\begin{bmatrix} 1 & 0 \\ 0 & -2 \end{bmatrix}$ (۳) $\begin{bmatrix} -1 & 0 \\ 0 & 2 \end{bmatrix}$ (۴) $\begin{bmatrix} -1 & 0 \\ 0 & -2 \end{bmatrix}$

پاسخ: گزینه «۲» ابتدا مقادیر ویژه A را به دست می‌آوریم:

$$\det(A - \lambda I) = \begin{vmatrix} -1-\lambda & 2 \\ 1 & 0-\lambda \end{vmatrix} = \lambda^2 + \lambda - 2 = 0 \Rightarrow \lambda = 1, -2$$

درایه‌های واقع روی قطر اصلی ماتریس قطری شدنی، مقادیر ویژه ماتریس A می‌باشند. بنابراین گزینه (۲) می‌تواند پاسخ صحیح باشد.

کله مثال ۱۵: اگر ماتریس A متعامد باشد دترمینان آن کدام است؟

- (۱) ۰ (۲) ± 1 (۳) ± 2 (۴) ± 3

پاسخ: گزینه «۲» می‌دانیم که اگر A متعامد باشد آن‌گاه $A^t = A^{-1}$ همچنین $\det A^t = \det A^{-1}$ بنابراین داریم:

$$A^t = A^{-1} \Rightarrow \det A^t = \det A^{-1} \Rightarrow \det A = \frac{1}{\det A} \Rightarrow (\det A)^2 = 1 \Rightarrow \det A = \pm 1$$

کله مثال ۱۶: می‌دانیم که $\lambda = 1$ مقدار ویژه ماتریس A است و علاوه بر این ماتریس A دارای وارون نیست. دو مقدار ویژه دیگر ماتریس A

$$A = \begin{bmatrix} 2 & -\frac{5}{4} & -\frac{1}{4} \\ 1 & -\frac{1}{2} & \frac{1}{2} \\ 4 & -\frac{11}{4} & -\frac{1}{4} \end{bmatrix}$$

(عمران - سراسری ۷۸)

کدامند؟

- (۱) $\frac{1}{4}$ و ۰ (۲) $-\frac{1}{2}$ و $\frac{3}{4}$ (۳) -1 و $\frac{5}{4}$ (۴) $\frac{5}{4}$ و ۰

پاسخ: گزینه «۱» ماتریس A وارون پذیر نیست، پس دترمینان A برابر صفر است از طرفی حاصل ضرب مقادیر ویژه یک ماتریس برابر دترمینان

ماتریس می‌باشد، پس یکی از مقادیر ویژه برابر صفر است. از طرفی مجموع مقادیر ویژه برابر مجموع درایه‌های قطر اصلی ماتریس می‌باشد، بنابراین داریم:

$$1 + 0 + \lambda_3 = 2 - \frac{1}{2} - \frac{1}{4} \Rightarrow \lambda_3 = \frac{1}{4}$$

(صنایع - سیستم - سراسری ۷۸)

کله مثال ۱۷: اگر $A = \begin{pmatrix} 1 & 0 & -1 \\ -2 & 1 & 1 \\ 0 & 1 & -1 \end{pmatrix}$ باشد، آن‌گاه $\det(A)$ برابر است با:

- (۱) ۴ (۲) ۲ (۳) ۰ (۴) -۲

پاسخ: گزینه «۳» دترمینان ماتریس را با روش ساروس به دست می‌آوریم:

$$\begin{vmatrix} 1 & 0 & -1 & 1 & 0 & -1 \\ -2 & 1 & 1 & -2 & 1 & 1 \\ 0 & 1 & -1 & 0 & 1 & -1 \end{vmatrix} = (-1+0+2) - (0+1+0) = 0$$

(صنایع - سیستم - سراسری ۷۸)

کله مثال ۱۸: دترمینان ماتریس $\begin{bmatrix} 9 & 5 & -1 & 4 & -18 \\ -11 & -23 & 14 & -45 & 19 \\ 62 & 78 & 12 & -40 & 37 \\ 9 & 5 & -1 & 4 & -18 \\ 18 & -92 & -13 & 47 & 13 \end{bmatrix}$

- (۱) صفر (۲) ۱ (۳) ۱۰ (۴) بی‌نهایت

پاسخ: گزینه «۱» سطر اول و سطر چهارم ماتریس با هم برابرند، پس دترمینان ماتریس برابر صفر است.

(هسته‌ای - سراسری ۷۸)

کله مثال ۱۹: کدام بردار یک بردار ویژه ماتریس $\begin{bmatrix} 5 & 4 \\ 1 & 2 \end{bmatrix}$ است؟

- (۱) $\begin{bmatrix} 1 \\ -2 \end{bmatrix}$ (۲) $\begin{bmatrix} 2 \\ -2 \end{bmatrix}$ (۳) $\begin{bmatrix} 2 \\ -1 \end{bmatrix}$ (۴) $\begin{bmatrix} 2 \\ 2 \end{bmatrix}$

پاسخ: گزینه «۲» ابتدا مقادیر ویژه ماتریس داده شده را به دست می‌آوریم:

$$|A - \lambda I| = \begin{vmatrix} 5-\lambda & 4 \\ 1 & 2-\lambda \end{vmatrix} = (5-\lambda)(2-\lambda) - 4 = \lambda^2 - 7\lambda + 6 = 0 \Rightarrow \lambda = 1, 6$$

حال بردارهای ویژه متناظر با مقادیر فوق را محاسبه می‌کنیم:

$$\begin{bmatrix} 5 & 4 \\ 1 & 2 \end{bmatrix} \begin{bmatrix} x \\ y \end{bmatrix} = 1 \times \begin{bmatrix} x \\ y \end{bmatrix} \Rightarrow \begin{cases} 5x + 4y = x \\ x + 2y = y \end{cases} \Rightarrow y = -x$$

بنابراین $(-1, 1)$ و هر مضربی از آن یک بردار ویژه ماتریس مزبور می‌باشد.



(عمران - سراسری ۷۹)

کج مثال ۲۰: اگر $\lambda = 1$ مقدار ویژه مکرر مرتبه سوم ماتریس $\begin{bmatrix} 5 & -3 & -2 \\ 8 & -5 & -4 \\ -4 & 3 & a \end{bmatrix}$ باشد، مقدار a کدام است؟

- (۱) ۱ (۲) -۱ (۳) ۳ (۴) -۳

پاسخ: گزینه «۳» می‌دانیم مجموع مقادیر ویژه برابر مجموع درایه‌های قطر اصلی ماتریس می‌باشد، بنابراین داریم: $1+1+1 = 5-5+a \Rightarrow a = 3$

(صنایع - سیستم - سراسری ۷۹)

کج مثال ۲۱: اگر $A = \begin{bmatrix} 1 & -1 & 2 \\ 0 & 2 & -1 \\ 2 & 3 & 0 \end{bmatrix}$ عنصر سطر سوم و ستون دوم از ماتریس A^{-1} کدام است؟

- (۱) $-\frac{5}{3}$ (۲) $-\frac{3}{5}$ (۳) $\frac{3}{5}$ (۴) $\frac{5}{3}$

پاسخ: گزینه «۴» به سادگی می‌توان نشان داد $|A| = -3$. برای محاسبه درایه سطر سوم و ستون دوم ماتریس A^{-1} ، لازم است همسازه درایه a_{32} ماتریس A را به دست آوریم.

$a_{32} = (-1)^{3+2} \times \begin{vmatrix} 1 & -1 \\ 0 & 2 \end{vmatrix} = -5 \Rightarrow A^{-1}$ در درایه $a_{32} = \frac{-5}{|A|} = \frac{-5}{-3} = \frac{5}{3}$

(مکانیک - سراسری ۸۰)

کج مثال ۲۲: اگر A و B ماتریس‌های $n \times n$ متقارن باشند، در این صورت می‌توان گفت

- (۱) A معکوس پذیر است. (۲) $(A+B)$ متقارن است. (۳) B معکوس پذیر است. (۴) $(A-B)$ معکوس پذیر نیست.

$(A+B)' = A' + B' = A+B$

پاسخ: گزینه «۲»

(مکانیک - آزاد ۸۰)

کج مثال ۲۳: مطلوبست محاسبه کثیرالجزء مشخصه و مقادیر خاص، ماتریس $A = \begin{bmatrix} 2 & 1 \\ 3 & 4 \end{bmatrix}$.

(۱) $P_r(\lambda) = \lambda^2 - 2\lambda + 1$, $\lambda_1 = 1$, $\lambda_2 = 1$ (۲) $P_r(\lambda) = \lambda^2 + 2\lambda + 1$, $\lambda_1 = -1$, $\lambda_2 = -1$

(۳) $P_r(\lambda) = \lambda^2 - 4\lambda + 4$, $\lambda_1 = 2$, $\lambda_2 = 2$ (۴) $P_r(\lambda) = \lambda^2 - 6\lambda + 5$, $\lambda_1 = 1$, $\lambda_2 = 5$

$|A - \lambda I| = \begin{vmatrix} 2-\lambda & 1 \\ 3 & 4-\lambda \end{vmatrix} = (4-\lambda)(2-\lambda) - 3 = \lambda^2 - 6\lambda + 5 = 0 \Rightarrow \lambda = 1, 5$ پاسخ: گزینه «۴»

(مکانیک - آزاد ۸۰)

کج مثال ۲۴: ماتریس $A = \begin{bmatrix} -5 & 9 \\ -6 & 10 \end{bmatrix}$ را قطری کنید.

- (۱) $D = \begin{bmatrix} 2 & 0 \\ 0 & 1 \end{bmatrix}$ (۲) $D = \begin{bmatrix} 1 & 0 \\ 0 & 2 \end{bmatrix}$ (۳) $D = \begin{bmatrix} 4 & 0 \\ 0 & 1 \end{bmatrix}$ (۴) $D = \begin{bmatrix} 1 & 0 \\ 0 & 1 \end{bmatrix}$

پاسخ: گزینه «۲» می‌دانیم مجموع مقادیر ویژه برابر مجموع درایه‌های قطر اصلی و حاصل ضرب مقادیر ویژه برابر دترمینان ماتریس است، بنابراین داریم:

$\begin{cases} 2 + \lambda_1 + \lambda_2 = 3 + 5 + 3 \\ 2\lambda_1\lambda_2 = 36 \end{cases} \Rightarrow \begin{cases} \lambda_1 + \lambda_2 = 9 \\ \lambda_1\lambda_2 = 18 \end{cases} \Rightarrow \lambda_1 = 3, \lambda_2 = 6$

(عمران - سراسری ۸۰)

کج مثال ۲۵: می‌دانیم که $\lambda_1 = 2$ یک مقدار ویژه ماتریس $A = \begin{bmatrix} 3 & -1 & 1 \\ -1 & 5 & -1 \\ 1 & -1 & 3 \end{bmatrix}$ است و دترمینان A برابر است با ۳۶، مقدار ویژه دیگر A کدام است؟

- (۱) $\lambda_1 = 1, \lambda_2 = 18$ (۲) $\lambda_1 = 3, \lambda_2 = 6$ (۳) $\lambda_1 = 2, \lambda_2 = 9$ (۴) $\lambda_1 = 2, \lambda_2 = 7$

$|A - \lambda I| = \begin{vmatrix} 3-\lambda & -1 & 1 \\ -1 & 5-\lambda & -1 \\ 1 & -1 & 3-\lambda \end{vmatrix} = (\lambda+5)(\lambda-10) + 54 = \lambda^2 - 5\lambda + 4 = 0 \Rightarrow \lambda = 1, 4$ پاسخ: گزینه «۳»

درایه‌های قطر اصلی ماتریس قطری موردنظر همان مقادیر ویژه ماتریس A می‌باشند، بنابراین داریم:

$D = \begin{bmatrix} 4 & 0 \\ 0 & 1 \end{bmatrix}$

کلمه مثال ۲۶: اگر $\lambda = 3$ یکی از مقادیر ویژه $A = \begin{pmatrix} 1 & 0 & -1 \\ 1 & 2 & 1 \\ 2 & 2 & 3 \end{pmatrix}$ باشد، بردار ویژه متناظر با آن موازی کدام است؟ (صنایع - سیستم - سراسری ۸۰)

(۱) $\vec{i} - \vec{j} - 2\vec{k}$ (۲) $\vec{i} + \vec{j} + \vec{k}$ (۳) $2\vec{i} - \vec{j} + \vec{k}$ (۴) $\vec{i} + \vec{j} - \vec{k}$

پاسخ: گزینه «۱»

$$AX = \lambda X \Rightarrow \begin{bmatrix} 1 & 0 & -1 \\ 1 & 2 & 1 \\ 2 & 2 & 3 \end{bmatrix} \begin{bmatrix} x \\ y \\ z \end{bmatrix} = \begin{bmatrix} 3x \\ 3y \\ 3z \end{bmatrix} \Rightarrow \begin{cases} 2x + z = 0 \\ x - y + z = 0 \Rightarrow y = -x, z = -2x \\ x + y = 0 \end{cases}$$

پس بردار ویژه $(x, -x, -2x)$ و یا $x(1, -1, -2)$ خواهد بود.

کلمه مثال ۲۷: اگر $A = \begin{pmatrix} 2 & -1 & 2 \\ 0 & 2 & -1 \\ 0 & 0 & 2 \end{pmatrix}$ عنصر سطر اول و ستون دوم ماتریس A^{-1} کدام است؟ (صنایع - سیستم - سراسری ۸۰)

(۱) $-\frac{1}{4}$ (۲) 0 (۳) $\frac{1}{4}$ (۴) $\frac{1}{2}$

پاسخ: گزینه «۳» چون ماتریس بالا مثلثی است پس دترمینان آن حاصل ضرب قطر اصلی خواهد بود، یعنی $|A| = 8$. برای محاسبه درایه a_{12} در ماتریس A^{-1} ، لازم است همسازه درایه a_{21} در ماتریس A را به دست آوریم. $\frac{2}{8} = \frac{1}{4}$ درایه a_{21} در A^{-1} $\Rightarrow A^{-1} \times \begin{bmatrix} -1 & 2 \\ 0 & 2 \end{bmatrix} = 2 \Rightarrow (-1)^{2+1} \times \dots = 2$ همسازه درایه a_{21}

کلمه مثال ۲۸: اگر $A = \begin{bmatrix} 1 & -1 \\ 2 & a \end{bmatrix}$ و دترمینان ماتریس A^T برابر ۹ باشد، a کدام است؟ (صنایع - سیستم - سراسری ۸۱)

(۱) $-1, 1$ (۲) $5, -1$ (۳) $5, -5$ (۴) $1, -5$

پاسخ: گزینه «۴»

$$A = \begin{bmatrix} 1 & -1 \\ 2 & a \end{bmatrix} \Rightarrow |A| = a + 2 \Rightarrow |A^T| = |A| = (a + 2)^2 = 9 \Rightarrow a = 1, -5$$

کلمه مثال ۲۹: مقادیر ویژه ماتریس $\begin{bmatrix} 1 & -1 & 2 \\ 0 & 1 & 1 \\ 0 & 0 & 1 \end{bmatrix}$ کدام اند؟ (مکانیک - سراسری ۸۲)

(۱) -3 و -2 و -1 (۲) 3 و 2 و 1 (۳) -1 و -1 و -1 (۴) 1 و 1 و 1

پاسخ: گزینه «۴» در ماتریس‌های بالا مثلثی یا پایین مثلثی، درایه‌های قطر اصلی مقادیر ویژه ماتریس می‌باشند.

کلمه مثال ۳۰: دو مقدار از مقادیر مشخصه (eigenvalue) ماتریس $A = \begin{bmatrix} -2 & -1 & 3 \\ 6 & 5 & -6 \\ 2 & 2 & -1 \end{bmatrix}$ ، $\lambda_1 = 1$ و $\lambda_2 = 2$ می‌باشد، مقدار مشخصه سوم آن λ_3 برابر است با: (عمران - آزاد ۸۲)

(۱) 1 (۲) -1 (۳) 2 (۴) -2

پاسخ: گزینه «۲» می‌دانیم مجموع مقادیر ویژه یک ماتریس برابر مجموع درایه‌های قطر اصلی ماتریس می‌باشد. بنابراین داریم:

$$1 + 2 + \lambda_3 = -2 + 5 - 1 \Rightarrow \lambda_3 = -1$$

کلمه مثال ۳۱: یکی از مقادیر ویژه ماتریس $A = \begin{pmatrix} 1 & 0 & -1 \\ 1 & 2 & 1 \\ 2 & 2 & 3 \end{pmatrix}$ برابر $\lambda = 3$ است. اگر $x_1 = c$ انتخاب شود، بردار ویژه مربوطه برابر است با: (صنایع - سیستم - آزاد ۸۲)

(۱) $ci + cj - 2ck$ (۲) $ci - cj - 2ck$ (۳) $2ci + 2cj$ (۴) $ci - cj + ck$

پاسخ: گزینه «۲»

$$\begin{bmatrix} 1 & 0 & -1 \\ 1 & 2 & 1 \\ 2 & 2 & 3 \end{bmatrix} \begin{bmatrix} x_1 \\ x_2 \\ x_3 \end{bmatrix} = 3 \begin{bmatrix} x_1 \\ x_2 \\ x_3 \end{bmatrix} \Rightarrow \begin{cases} 2x_1 + x_3 = 0 \\ x_1 - x_2 + x_3 = 0 \\ x_1 + x_2 = 0 \end{cases}$$

از دستگاه معادلات فوق نتیجه می‌شود $x_2 = -x_1$ و $x_3 = -2x_1$. بنابراین $(c, -c, -2c)$ بردار ویژه مربوطه می‌باشد.



کله مثال ۳۲: اگر $A = \begin{pmatrix} 1 & 0 \\ -1 & 2 \end{pmatrix}$ ، به ازاء چه مقادیری از λ دترمینان ماتریس $A - \lambda I$ که $I = \begin{pmatrix} 1 & 0 \\ 0 & 1 \end{pmatrix}$ صفر می‌شود؟ (ژئوفیزیک و هواشناسی - سراسری ۸۲)

- (۱) ۲ و ۱ (۲) ۱ و ۳ (۳) ۲ و ۳ (۴) ۱ و ۲ و ۳

پاسخ: گزینه «۱»

$$|A - \lambda I| = \begin{vmatrix} 1-\lambda & 0 \\ -1 & 2-\lambda \end{vmatrix} = (1-\lambda)(2-\lambda) = 0 \Rightarrow \lambda = 1, 2$$

روش اول:

روش دوم: در ماتریس بالا مثلثی یا پایین مثلثی مقادیر ویژه همان درایه‌های روی قطر اصلی ماتریس می‌باشند.

(هسته‌ای - سراسری ۸۲)

کله مثال ۳۳: مقادیر ویژه ماتریس $A = \begin{bmatrix} 5 & 4 \\ 1 & 2 \end{bmatrix}$ عبارتند از:

- (۱) ۰ و ۱ (۲) ۶- و ۱ (۳) ۶ و ۱- (۴) ۶ و ۱

$$|A - \lambda I| = \begin{vmatrix} 5-\lambda & 4 \\ 1 & 2-\lambda \end{vmatrix} = (5-\lambda)(2-\lambda) - 4 = \lambda^2 - 7\lambda + 6 = 0 \Rightarrow \lambda = 1, 6$$

پاسخ: گزینه «۴»

(عمران - آزاد ۸۳)

کله مثال ۳۴: به ازای چه مقدار b بردار $\begin{bmatrix} 1 \\ 0 \\ -1 \end{bmatrix}$ یک بردار ویژه ماتریس $\begin{bmatrix} b & -1 & 1 \\ 2 & -3 & 2 \\ 3 & -3 & 4 \end{bmatrix}$ می‌باشد؟

- (۱) $b = 1$ (۲) $b = 2$ (۳) $b = -1$ (۴) $b = 0$

پاسخ: گزینه «۲»

$$AX = \lambda X \Rightarrow \begin{bmatrix} b & -1 & 1 \\ 2 & -3 & 2 \\ 3 & -3 & 4 \end{bmatrix} \begin{bmatrix} 1 \\ 0 \\ -1 \end{bmatrix} = \lambda \begin{bmatrix} 1 \\ 0 \\ -1 \end{bmatrix} \Rightarrow \begin{bmatrix} b-1 \\ 0 \\ -1 \end{bmatrix} = \begin{bmatrix} \lambda \\ 0 \\ -\lambda \end{bmatrix}$$

از تساوی فوق نتیجه می‌شود $\lambda = 1$ و بنابراین $b = 2$.

(صنایع - سیستم - آزاد ۸۳)

کله مثال ۳۵: زاویه امتدادهای ویژه ماتریس $A = \begin{bmatrix} 2 & 2 \\ 3 & 1 \end{bmatrix}$ کدام است؟

- (۱) صفر (۲) $\frac{\pi}{4}$ (۳) $\frac{\pi}{2}$ (۴) $\text{Arctg} 2$

پاسخ: گزینه «۳» چون ماتریس A متقارن می‌باشد، لذا بردارهای ویژه بر هم عمودند.

(ژئوفیزیک و هواشناسی - سراسری ۸۳)

کله مثال ۳۶: اگر دترمینان ماتریس A برابر ۲ باشد دترمینان ماتریس $2A + 4(A^{-1})^2 + A^t$ کدام است؟

- (۱) ۴ (۲) ۵ (۳) ۶ (۴) ۷

پاسخ: هیچ‌کدام از گزینه صحیح نیست. به چند دلیل مسأله اشکال دارد. اول اینکه تعداد سطر و ستون‌های ماتریس A داده نشده، ثانیاً دترمینان جمع و تفریق چند ماتریس را نمی‌توان برحسب دترمینان خود آن ماتریس‌ها پیدا کرد.

کله مثال ۳۷: ماتریس مرتبه سوم $M = \begin{bmatrix} \alpha & \beta & \gamma \\ \beta & \delta & \sigma \\ \gamma & \sigma & \mu \end{bmatrix}$ غیر صفر فرض می‌شود که در آن درایه‌های ماتریس حقیقی هستند. کدامیک از گزینه‌های درست است؟

(هسته‌ای - سراسری ۸۳)

- (۱) ماتریس مذکور مقادیر ویژه حقیقی با سه بردار ویژه متعامد مستقل خطی دارد.
 (۲) ماتریس مقادیر ویژه حقیقی دارد اما ممکن است تعداد بردارهای ویژه مستقل خطی کمتر از ۳ باشد.
 (۳) یک مقدار ویژه حقیقی دارد اما ممکن است دو مقدار ویژه دیگر مزدوج مختلط یکدیگر باشند.
 (۴) با فرض‌های مذکور در حالت کلی نمی‌توان درباره تعداد مقادیر ویژه حقیقی و نوع بردارهای ویژه اظهار نظر کرد.
 پاسخ: گزینه «۱» ماتریس M یک ماتریس متقارن می‌باشد، بنابراین سه بردار ویژه متعامد مستقل خطی دارد.

کله مثال ۳۸: فرض کنید $A = \begin{bmatrix} -2 & 3 & 1 \\ 0 & 1 & 1 \\ -3 & 4 & 1 \end{bmatrix}$ ، مقادیر ویژه‌ی ماتریس A عبارتند از: (معدن - سراسری ۸۳)

- (۱) $-2, 2, 0$ (۲) $-1, 1, 0$ (۳) $1, -1, 2$ (۴) $\frac{1}{2}, 3, 2$

پاسخ: گزینه «۱» برای محاسبه دترمینان، حول ستون اول بسط می‌دهیم:

$$\begin{vmatrix} -2-\lambda & 3 & 1 \\ 0 & 1-\lambda & 1 \\ -3 & 4 & 1-\lambda \end{vmatrix} = 0 \Rightarrow (-2-\lambda)((1-\lambda)(1-\lambda)-4) - 3(3-(1-\lambda)) = 0 \Rightarrow (-2-\lambda)((1-\lambda)^2 - 1) = 0 \Rightarrow \lambda = -2, 2, 0$$

کله مثال ۳۹: اگر $A^{-1} = \begin{bmatrix} 1 & 0 \\ 2 & 1 \end{bmatrix}$ و $B^{-1} = \begin{bmatrix} -1 & 1 \\ -2 & 3 \end{bmatrix}$ باشد در این صورت $-3AB$ کدام است؟ (صنایع - سیستم - آزاد ۸۴)

- (۱) $\begin{bmatrix} 9 & -3 \\ -12 & 3 \end{bmatrix}$ (۲) $\begin{bmatrix} 9 & 3 \\ -12 & 3 \end{bmatrix}$ (۳) $\begin{bmatrix} 3 & -1 \\ 2 & -1 \end{bmatrix}$ (۴) $\begin{bmatrix} 1 & 0 \\ -2 & 1 \end{bmatrix}$

پاسخ: گزینه «۱» نیازی به دست آوردن ماتریس‌های A, B نمی‌باشد. توجه کنید که $|A^{-1}| = 1, |B^{-1}| = -1$ ، بنابراین $|A| = 1$ و $|B| = -1$. در نتیجه داریم:

$$|-3AB| = 9|A||B| = 9 \times 1 \times -1 = -9$$

در بین گزینه‌ها، تنها دترمینان ماتریس گزینه (۱) برابر -9 می‌باشد.

کله مثال ۴۰: حاصل دترمینان $\begin{vmatrix} 1 & 1 & 1 & 1 \\ 1 & 1+a & 1 & 1 \\ 1 & 1 & 1+b & 1 \\ 1 & 1 & 1 & 1+c \end{vmatrix}$ کدام است؟ (صنایع - سیستم - آزاد ۸۴)

- (۱) $(1+a)(1+b)(1+c)$ (۲) 1 (۳) صفر (۴) abc

پاسخ: گزینه «۴»

$$\begin{vmatrix} 1 & 1 & 1 & 1 \\ 1 & 1+a & 1 & 1 \\ 1 & 1 & 1+b & 1 \\ 1 & 1 & 1 & 1+c \end{vmatrix} \Rightarrow \begin{vmatrix} 1 & 1 & 1 & 1 \\ 0 & a & 0 & 0 \\ 0 & 0 & b & 0 \\ 0 & 0 & 0 & c \end{vmatrix} = 1 \times a \times b \times c = abc$$

کله مثال ۴۱: به ازای چه مقادیری از a دستگاه $\begin{cases} x - y + az = 0 \\ 3x - y + 2z = 0 \\ 6x - 4y + 5z = 0 \end{cases}$ بی‌نهایت جواب دارد؟ (صنایع - سیستم - سراسری ۸۵)

- (۱) $a = -1$ (۲) $a = 0$ (۳) $a = 1$ (۴) $a = 2$

پاسخ: گزینه «۳» شرط داشتن بی‌نهایت جواب برای یک دستگاه همگن آن است که دترمینان ضرایب برابر صفر باشد.

$$\begin{vmatrix} 1 & -1 & a \\ 3 & -1 & 2 \\ 6 & -4 & 5 \end{vmatrix} = 0 \Rightarrow 1(-5+8) + 1(15-12) + a(-12+6) = +3+3-6a = 0 \Rightarrow a = 1$$

کله مثال ۴۲: اگر $A = \begin{bmatrix} 1 & -6 & -4 \\ 0 & 4 & 2 \\ 0 & -6 & -3 \end{bmatrix}$ باشد، بردار ویژه نظیر کوچکترین مقدار ویژه آن کدام است؟ (MBA - سراسری ۸۵)

- (۱) $\begin{bmatrix} 1 \\ -3 \\ 2 \end{bmatrix}$ (۲) $\begin{bmatrix} 2 \\ -1 \\ 2 \end{bmatrix}$ (۳) $\begin{bmatrix} 1 \\ -2 \\ 3 \end{bmatrix}$ (۴) $\begin{bmatrix} 1 \\ -2 \\ 1 \end{bmatrix}$

پاسخ: گزینه «۲»

$$|A - \lambda I| = \begin{vmatrix} 1-\lambda & -6 & -4 \\ 0 & 4-\lambda & 2 \\ 0 & -6 & -3-\lambda \end{vmatrix} = (1-\lambda)((4-\lambda)(-3-\lambda) + 12) = (1-\lambda)(\lambda^2 - \lambda) = 0 \Rightarrow \lambda = 0, 1$$

بنابراین $\lambda = 0$ کوچکترین مقدار ویژه می‌باشد. برای به دست آوردن بردار ویژه بایستی دستگاه $AX = \lambda X$ را حل کنیم.



$$AX = 0 \Rightarrow \begin{cases} x - 6y - 4z = 0 \\ 4y + 2z = 0 \\ -6y - 3z = 0 \end{cases}$$

از معادله‌ی دوم $z = -2y$ به دست می‌آید، که با جایگزینی در معادله اول $x = -2y$ به دست می‌آید، بنابراین $(-2y, y, -2y)$ و یا $(2, -1, 2)$ بردار ویژه مورد نظر می‌باشد.

(MBA - سراسری ۸۶)

کج مثال ۴۳: بردار ویژه نظیر بزرگترین مقادیر ویژه ماتریس $\begin{bmatrix} -1 & 6 & 4 \\ 0 & 4 & 2 \\ 0 & -6 & -3 \end{bmatrix}$ ، کدام است؟

$$\begin{bmatrix} -1 \\ 2a \\ 3a \end{bmatrix} \quad (۴)$$

$$\begin{bmatrix} 1 \\ -2a \\ 3a \end{bmatrix} \quad (۳)$$

$$\begin{bmatrix} 0 \\ -2a \\ 3a \end{bmatrix} \quad (۲)$$

$$\begin{bmatrix} 0 \\ -a \\ 2a \end{bmatrix} \quad (۱)$$

پاسخ: گزینه «۲» ابتدا مقادیر ویژه ماتریس را به دست می‌آوریم:

$$|A - \lambda I| = 0 \Rightarrow \begin{vmatrix} -1-\lambda & 6 & 4 \\ 0 & 4-\lambda & 2 \\ 0 & -6 & -3-\lambda \end{vmatrix} = 0 \Rightarrow (-1-\lambda)((4-\lambda)(-3-\lambda)+12) = 0 \Rightarrow \lambda = -1, 0, 1$$

$$AX = \lambda X \Rightarrow \begin{cases} -x + 6y + 4z = x \\ 4y + 2z = y \\ -6y - 3z = z \end{cases} \Rightarrow \begin{cases} x - 3y - 2z = 0 \\ 3y + 2z = 0 \\ 3y + 2z = 0 \end{cases} \Rightarrow (0, -2a, 3a)$$

پس $\lambda = 1$ بزرگترین مقدار ویژه ماتریس می‌باشد.

(صنایع غذایی - سراسری ۸۸)

کج مثال ۴۴: اگر $A = \begin{bmatrix} 2 & 2 \\ 8 & 5 \end{bmatrix}$ از رابطه $AX = A - 2I$ ، دترمینان ماتریس X کدام است؟

$$15 \quad (۴)$$

$$14 \quad (۳)$$

$$13 \quad (۲)$$

$$12 \quad (۱)$$

پاسخ: گزینه «۲»

با توجه به اینکه $A = \begin{bmatrix} 2 & 2 \\ 8 & 5 \end{bmatrix}$ ، بنابراین $A - 2I = \begin{bmatrix} 1 & 2 \\ 8 & 3 \end{bmatrix}$. حال با توجه به اینکه $|A| = 3 \times 5 - 2 \times 8 = -1$ و $|A - 2I| = 1 \times 3 - 2 \times 8 = -13$.

$$AX = A - 2I \Rightarrow |AX| = |A - 2I| \Rightarrow |A| |X| = |A - 2I| \Rightarrow |X| = 13$$

پس داریم:

(صنایع غذایی - سراسری ۹۰)

کج مثال ۴۵: به ازای کدام مقدار k دستگاه معادلات $\begin{cases} 5x - 3y + kz = 0 \\ 3x - 2y + z = 0 \\ -x + y + 2z = 0 \end{cases}$ جواب‌های غیر صفر دارد؟

$$2 \quad (۴)$$

$$3 \quad (۳)$$

$$4 \quad (۲)$$

$$1 \quad (۱)$$

پاسخ: گزینه «۲» دترمینان ضرایب دستگاه را برابر صفر قرار می‌دهیم در این صورت دستگاه جواب غیر صفر دارد.

$$\begin{vmatrix} 5 & -3 & k \\ 3 & -2 & 1 \\ -1 & 1 & 2 \end{vmatrix} = -25 + 21 + k = 0 \Rightarrow k = 4$$



کجه مثال ۴: اگر A یک ماتریس m در n ، B یک ماتریس m در m ناکتین یا وارون پذیر باشد و C یک ماتریس $n \times n$ ناکتین باشد، کدام گزینه در مورد

(آمار - سراسری ۸۴)

رتبه‌ی ماتریس‌ها صحیح است؟

$$r(BAC) \neq r(AC) = r(BA) \quad (۲)$$

$$r(AC) = r(BA) \neq r(A) \quad (۱)$$

$$r(BAC) \neq r(AC) \neq r(A) \quad (۴)$$

$$r(BAC) = r(AC) = r(BA) = r(A) \quad (۳)$$

پاسخ: گزینه «۳» ماتریس‌های B و C طبق فرض وارون پذیرند و می‌دانیم ضرب کردن یک ماتریس وارون پذیر در یک ماتریس، رتبه آن ماتریس را

تغییر نمی‌دهد.

درسنامه ۴: بردارها در فضای سه بعدی

کج مثال ۱: اگر $\vec{A} = (1, 3, 4)$ و $\vec{B} = (2, 1, 2)$ باشد، آنگاه حاصل $\vec{C} = 3\vec{B} - 2\vec{A}$ کدام است؟

- (۱) $(4, 9, -2)$ (۲) $(4, -3, -2)$ (۳) $(8, 9, 14)$ (۴) $(8, 9, 2)$

پاسخ: گزینه «۲» با محاسبه ضرب‌های اسکالر داده شده، داریم: $\vec{C} = 3(2, 1, 2) - 2(1, 3, 4) = (6, 3, 6) + (-2, -6, -8) = (4, -3, -2)$

امتداد نیمساز دو بردار: برداری که امتداد نیمساز بردارهای غیرصفر \vec{A} و \vec{B} را نشان می‌دهد به صورت $\vec{C} = \frac{\vec{A}}{|\vec{A}|} + \frac{\vec{B}}{|\vec{B}|}$ نوشته می‌شود. برای مثال

اگر $\vec{A} = (2, 2, 1)$ و $\vec{B} = (0, 3, 4)$ باشند داریم: $\vec{C} = \frac{(2, 2, 1)}{3} + \frac{(0, 3, 4)}{5} = (\frac{2}{3}, \frac{19}{15}, \frac{17}{15})$

کج مثال ۲: زاویه بین دو بردار $\vec{V}_1(10, 11, -2)$ و $\vec{V}_2(3, 0, 4)$ کدام است؟

- (۱) 30° (۲) 60° (۳) $\text{Arc cos } \frac{1}{3}$ (۴) $\text{Arc cos } \frac{22}{75}$

پاسخ: گزینه «۴» $\cos \theta = \frac{(3 \times 10) + (11 \times 0) - (4 \times 2)}{\sqrt{100 + 121 + 16} \sqrt{9 + 16}} = \frac{22}{15 \times 5} = \frac{22}{75} \Rightarrow \theta = \text{Arc cos}(\frac{22}{75})$

کج مثال ۳: اگر $\vec{a}, \vec{b}, \vec{c}$ بردارهای یک‌ه‌ساز باشند و در تساوی $|\vec{a} - \vec{b}|^2 + |\vec{b} - \vec{c}|^2 + |\vec{c} - \vec{a}|^2 = 9$ صدق کنند، آنگاه مقدار $2\vec{a} + 5\vec{b} + 5\vec{c}$ کدام است؟

- (۱) 3 (۲) 9 (۳) 6 (۴) 2

پاسخ: گزینه «۱» برای هر بردار دلخواه \vec{V} داریم: $|\vec{V}|^2 = \vec{V} \cdot \vec{V}$. پس تساوی $|\vec{a} - \vec{b}|^2 + |\vec{b} - \vec{c}|^2 + |\vec{c} - \vec{a}|^2 = 9$ را می‌توان چنین نوشت:

$(\vec{a} - \vec{b}) \cdot (\vec{a} - \vec{b}) + (\vec{b} - \vec{c}) \cdot (\vec{b} - \vec{c}) + (\vec{c} - \vec{a}) \cdot (\vec{c} - \vec{a}) = 9 \Rightarrow \vec{a} \cdot \vec{a} - \vec{a} \cdot \vec{b} - \vec{b} \cdot \vec{a} + \vec{b} \cdot \vec{b} - \vec{b} \cdot \vec{c} - \vec{c} \cdot \vec{b} + \vec{c} \cdot \vec{c} - \vec{c} \cdot \vec{a} - \vec{a} \cdot \vec{c} + \vec{a} \cdot \vec{a} = 9$
 اما $\vec{a} \cdot \vec{b} = \vec{b} \cdot \vec{a}$ است و $|\vec{a}| = |\vec{b}| = |\vec{c}| = 1$ به همین ترتیب برای سایر بردارها خواهیم داشت:
 $\Rightarrow 2|\vec{a}|^2 + 2|\vec{b}|^2 + 2|\vec{c}|^2 - 2\vec{a} \cdot \vec{b} - 2\vec{b} \cdot \vec{c} - 2\vec{a} \cdot \vec{c} = 9$

$$\Rightarrow 6 - 2(\vec{a} \cdot \vec{b} + \vec{a} \cdot \vec{c} + \vec{b} \cdot \vec{c}) = 9 \Rightarrow \vec{a} \cdot \vec{b} + \vec{a} \cdot \vec{c} + \vec{b} \cdot \vec{c} = -\frac{3}{2}$$

اکنون می‌توانیم اندازه‌ی بردار خواسته شده را حساب کنیم. برای این کار ابتدا نشان می‌دهیم بردار $\vec{a} + \vec{b} + \vec{c}$ بردار صفر است:

$$|\vec{a} + \vec{b} + \vec{c}|^2 = (\vec{a} + \vec{b} + \vec{c}) \cdot (\vec{a} + \vec{b} + \vec{c}) = (\vec{a} \cdot \vec{a} + \vec{b} \cdot \vec{b} + \vec{c} \cdot \vec{c} + 2\vec{a} \cdot \vec{b} + 2\vec{a} \cdot \vec{c} + 2\vec{b} \cdot \vec{c})$$

$$= (|\vec{a}|^2 + |\vec{b}|^2 + |\vec{c}|^2 + 2(\vec{a} \cdot \vec{b} + \vec{a} \cdot \vec{c} + \vec{b} \cdot \vec{c})) = (3 + 2(-\frac{3}{2})) = 3 - 3 = 0$$

پس $|\vec{a} + \vec{b} + \vec{c}| = 0$ است یعنی $\vec{a} + \vec{b} + \vec{c} = 0$ به این ترتیب خواهیم داشت:

$$|2\vec{a} + 5\vec{b} + 5\vec{c}| = |\delta\vec{a} + \delta\vec{b} + \delta\vec{c} - 3\vec{a}| = |\delta(\vec{a} + \vec{b} + \vec{c}) - 3\vec{a}| = |0 - 3\vec{a}| = 3|\vec{a}| = 3$$

کج مثال ۴: طول تصویر بردار $\vec{A} = \vec{i} + \vec{j} + \vec{k}$ بر بردار $\vec{B} = \frac{\vec{i} + \vec{k}}{\sqrt{2}}$ کدام است؟

- (۱) $\sqrt{2}$ (۲) $\frac{\sqrt{2}}{2}$ (۳) $2\sqrt{2}$ (۴) 2

پاسخ: گزینه «۱» طبق فرمول داریم: $\text{Proj}_{\vec{B}}^{\vec{A}} = \frac{\vec{A} \cdot \vec{B}}{|\vec{B}|} = \frac{(\frac{1}{\sqrt{2}} \times 1) + (\frac{1}{\sqrt{2}} \times 1)}{\sqrt{(\frac{1}{\sqrt{2}})^2 + (\frac{1}{\sqrt{2}})^2}} = \frac{\frac{1}{\sqrt{2}} + \frac{1}{\sqrt{2}}}{\sqrt{\frac{1}{2} + \frac{1}{2}}} = \frac{2}{\sqrt{2}} = \frac{2\sqrt{2}}{2} = \sqrt{2}$

کج مثال ۵: اگر $\vec{A}(1, -1, 2)$ و $\vec{B}(2, 1, 3)$ باشد، آنگاه حاصل $\vec{C} = \vec{A} \times \vec{B}$ کدام است؟

- (۱) $-\vec{i} + \vec{j} - \vec{k}$ (۲) $-\vec{i} + \vec{j} + 3\vec{k}$ (۳) $\vec{i} + 7\vec{j} - \vec{k}$ (۴) $-\vec{i} + 7\vec{j} + \vec{k}$

پاسخ: گزینه «۲» با استفاده از دترمینان ماتریس زیر ضرب خارجی را حساب می‌کنیم:

$$\vec{C} = \vec{A} \times \vec{B} = \begin{vmatrix} \vec{i} & \vec{j} & \vec{k} \\ 1 & -1 & 2 \\ 2 & 1 & 3 \end{vmatrix} = [(-1 \times 3) - (2 \times 1)]\vec{i} + [(2 \times 2) - (3 \times 1)]\vec{j} + [(1 \times 1) - (-1 \times 2)]\vec{k} = -5\vec{i} + \vec{j} + 3\vec{k}$$



مثال ۶: مساحت مثلثی که سه رأس آن به ترتیب $A(2,0,0)$ ، $B(0,0,2)$ و $C(1,2,0)$ باشد، کدام است؟

۴ (۴)

۳ (۳)

۲ (۲)

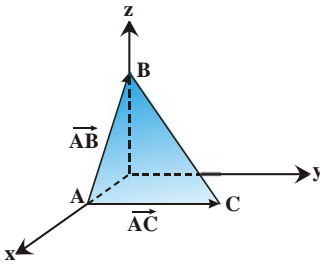
۱ (۱)

پاسخ: گزینه «۳» بردارهای \overline{AB} و \overline{AC} دو ضلع این مثلث هستند، آن‌ها را محاسبه می‌کنیم:

$$\overline{AB} = (0-2, 0-0, 2-0) = (-2, 0, 2) \quad , \quad \overline{AC} = (1-2, 2-0, 0-0) = (-1, 2, 0)$$

$$\overline{AB} \times \overline{AC} = \begin{vmatrix} \vec{i} & \vec{j} & \vec{k} \\ -2 & 0 & 2 \\ -1 & 2 & 0 \end{vmatrix} = -4\vec{i} - 2\vec{j} - 4\vec{k} \Rightarrow |\overline{AB} \times \overline{AC}| = 6$$

$$\text{مساحت مثلث} = \frac{1}{2} |\overline{AB} \times \overline{AC}| = 3$$



مثال ۷: عبارت $(\vec{A} \times \vec{B}) \times (\vec{C} \times \vec{D})$ با کدامیک از عبارات زیر همواره برابر است؟

(۱) $(\vec{A} \cdot \vec{C} \times \vec{D})\vec{B} + (\vec{B} \cdot \vec{C} \times \vec{D})\vec{A}$ (۲) $(\vec{A} \cdot \vec{C} \times \vec{D})\vec{B} - (\vec{B} \cdot \vec{C} \times \vec{D})\vec{A}$ (۳) $(\vec{A} \cdot \vec{B} \times \vec{C})\vec{D} + (\vec{D} \cdot \vec{A} \times \vec{C})\vec{C}$ (۴) $(\vec{A} \cdot \vec{B} \times \vec{C})\vec{D} + (\vec{D} \cdot \vec{A} \times \vec{B})\vec{C}$

پاسخ: گزینه «۲» ابتدا فرض می‌کنیم $\vec{V} = \vec{C} \times \vec{D}$ در این صورت طبق تعریف حاصل ضرب سه‌گانه داریم:

$$(\vec{A} \times \vec{B}) \times (\vec{C} \times \vec{D}) = (\vec{A} \cdot \vec{C} \times \vec{D})\vec{B} - (\vec{B} \cdot \vec{C} \times \vec{D})\vec{A} \quad \text{یا} \quad (\vec{A} \times \vec{B}) \times \vec{V} = -\vec{V} \times (\vec{A} \times \vec{B}) = (\vec{A} \cdot \vec{V})\vec{B} - (\vec{B} \cdot \vec{V})\vec{A}$$

مثال ۸: اگر \vec{A} برداری یکه باشد، حاصل $\vec{A} \times (\vec{A} \times (\vec{A} \times \vec{B}))$ برابر است با:

(۱) $(\vec{A} \cdot \vec{B})\vec{A}$ (۲) $-\vec{A} \times \vec{B}$ (۳) $(\vec{A} \cdot \vec{B})\vec{B}$ (۴) $(\vec{A} \cdot \vec{B})(\vec{A} \times \vec{B})$

$$\vec{A} \times (\vec{A} \times \vec{B}) = (\vec{A} \cdot \vec{B})\vec{A} - (\vec{A} \cdot \vec{A})\vec{B} = (\vec{A} \cdot \vec{B})\vec{A} - \vec{B}$$

پاسخ: گزینه «۲» ابتدا توجه کنید که:

$$\vec{A} \times (\vec{A} \times (\vec{A} \times \vec{B})) = \vec{A} \times ((\vec{A} \cdot \vec{B})\vec{A} - \vec{B}) = (\vec{A} \cdot \vec{B})(\vec{A} \times \vec{A}) - \vec{A} \times \vec{B} = (\vec{A} \cdot \vec{B})(\vec{0}) - \vec{A} \times \vec{B} = -\vec{A} \times \vec{B}$$

بنابراین داریم:

مثال ۹: بردارهای $\vec{V}_1 = (1, 1, 2, 4)$ و $\vec{V}_2 = (2, -1, -5, 2)$ و $\vec{V}_3 = (1, -1, -4, 0)$ و $\vec{V}_4 = (2, 1, 1, 6)$ در فضای برداری حقیقی \mathbb{R}^4 مفروضند.

$\dim \langle \vec{V}_1, \vec{V}_2, \vec{V}_3, \vec{V}_4 \rangle$ برابر است با:

۴ (۴)

۳ (۳)

۲ (۲)

۱ (۱)

پاسخ: گزینه «۲» ابتدا ماتریسی می‌نویسیم که بردارهای داده شده، سطرهای آن باشند:

$$A = \begin{bmatrix} 1 & 1 & 2 & 4 \\ 2 & -1 & -5 & 2 \\ 1 & -1 & -4 & 0 \\ 2 & 1 & 1 & 6 \end{bmatrix}$$

رتبه‌ی این ماتریس، نشان می‌دهد که بُعد زیرفضای تولیدشده توسط بردارهای فوق چند است؟ برای آن که محاسبه‌ی رتبه‌ی A ساده‌تر شود، سعی می‌کنیم با انجام اعمال سطری - مقدماتی برخی از درایه‌ها را صفر کنیم:

$$\begin{bmatrix} 1 & 1 & 2 & 4 \\ 2 & -1 & -5 & 2 \\ 1 & -1 & -4 & 0 \\ 2 & 1 & 1 & 6 \end{bmatrix} \xrightarrow{\substack{\text{سطر دوم، منهای دو برابر سطر اول} \\ \text{سطر چهارم، منهای دو برابر سطر اول} \\ \text{سطر سوم، منهای سطر اول}}} \begin{bmatrix} 1 & 1 & 2 & 4 \\ 0 & -3 & -9 & -6 \\ 0 & -2 & -6 & -4 \\ 0 & -1 & -3 & -2 \end{bmatrix} \xrightarrow{\substack{\text{سطر چهارم، منهای } \frac{1}{3} \text{ برابر سطر دوم} \\ \text{سطر سوم، منهای } \frac{2}{3} \text{ برابر سطر دوم}}} \begin{bmatrix} 1 & 1 & 2 & 4 \\ 0 & -3 & -9 & -6 \\ 0 & 0 & 0 & 0 \\ 0 & 0 & 0 & 0 \end{bmatrix}$$

حالا که ماتریس، بالا مثلثی شده است، معلوم است که رتبه‌ی آن برابر با ۲ است، زیرا دو سطر غیرصفر دارد. پس $\dim \langle \vec{V}_1, \vec{V}_2, \vec{V}_3, \vec{V}_4 \rangle = 2$. در ضمن بردارهای $(1, 1, 2, 4)$ و $(0, -3, -9, -6)$ که سطرهای غیرصفر A هستند، پایه‌ی این زیرفضا را به ما می‌دهند.

مثال ۱۰: دستگاه همگن $\begin{cases} x_1 - x_3 + 2x_4 = 0 \\ 2x_1 + x_2 + x_3 - x_4 = 0 \\ 3x_1 + x_2 + x_4 = 0 \end{cases}$ را در نظر بگیرید. کدام یک از مجموعه‌های زیر پایه‌ی فضای جواب این دستگاه است؟

(۱) $\{(1, -3, 1, 0), (-2, 5, 0, 1)\}$ (۲) $\{(1, 0, 1, 0), (2, 0, 0, 1)\}$

(۳) $\{(-4, 10, 0, 2), (-2, 5, 0, 1)\}$ (۴) $\{(1, 1, 0, 1), (1, 3, -1, 0), (-2, 5, 0, -1)\}$

پاسخ: گزینه «۱» ابتدا باید بُعد فضای جواب را پیدا کنیم تا معلوم شود که پایه‌ی جواب چند عضو دارد. ماتریس ضرایب را می‌نویسیم و روش حذفی گاوس را اجرا می‌کنیم:

$$A = \begin{bmatrix} 1 & 0 & -1 & 2 \\ 2 & 1 & 1 & -1 \\ 3 & 1 & 0 & 1 \end{bmatrix} \xrightarrow{\substack{\text{سطر دوم، منهای دو برابر سطر اول} \\ \text{سطر سوم، منهای سه برابر سطر اول}}} \begin{bmatrix} 1 & 0 & -1 & 2 \\ 0 & 1 & 3 & -5 \\ 0 & 1 & 3 & -5 \end{bmatrix} \xrightarrow{\text{سطر سوم، منهای سطر دوم}} \begin{bmatrix} 1 & 0 & -1 & 2 \\ 0 & 1 & 3 & -5 \\ 0 & 0 & 0 & 0 \end{bmatrix}$$

این ماتریس دارای ۴ ستون است، اما رتبه‌ی آن ۲ است زیرا دو سطر غیرصفر دارد. بنابراین داریم: $۴ - ۲ = ۲ =$ بُعد فضای جواب دستگاه. حالا می‌دانیم که پایه‌ی این فضا باید دو عضو باشد. هر مجموعه‌ای که شامل ۲ بردار باشد و بردارهایش مستقل خطی باشند و در این دستگاه صدق کنند، می‌تواند پایه‌ی جواب باشد. گزینه‌ی (۱) همه‌ی این ویژگی‌ها را دارد، بنابراین پایه‌ی جواب است. گزینه‌ی (۴)، سه عضو است پس نمی‌تواند صحیح باشد. گزینه‌ی (۲) در این دستگاه صدق نمی‌کند. گزینه‌ی (۳) هم این ایراد را دارد که بردارهایش وابسته‌ی خطی هستند، زیرا یکی از آن‌ها مضرب دیگری است.

(هسته‌ای - سراسری ۷۸)

مثال ۱۱: حجم چهار وجهی به رئوس $(۱, ۳, ۰)$ ، $(۲, -۱, ۳)$ ، $(-۲, ۲, -۱)$ و $(-۱, ۱, ۲)$ کدام است؟

- ۵ (۱) ۶ (۲) ۷ (۳) ۸ (۴)

پاسخ: هیچ کدام از گزینه‌ها صحیح نیست. رئوس داده شده را به ترتیب A, B, C, D فرض می‌کنیم. در این صورت داریم:

$$\overline{AB} = (1, -4, 3), \quad \overline{AC} = (-3, -1, -1), \quad \overline{AD} = (-2, -2, 2) \Rightarrow \overline{AB} \cdot (\overline{AC} \times \overline{AD}) = \begin{vmatrix} 1 & -4 & 3 \\ -3 & -1 & -1 \\ -2 & -2 & 2 \end{vmatrix} = -24$$

$$V = \frac{1}{6} |\overline{AB} \cdot (\overline{AC} \times \overline{AD})| = \frac{1}{6} \times 24 = 4$$

بنابراین حجم چهار وجهی موردنظر برابر است با:

(ژئوفیزیک و هواشناسی - سراسری ۷۹)

مثال ۱۲: برداری که در جهت بردار $\vec{A} = 2\vec{i} - \vec{j} + 2\vec{k}$ بوده و طولش برابر ۹ می‌باشد، کدام است؟

- ۱) $4\vec{i} - \vec{j} + 2\vec{k}$ ۲) $9\vec{i} - 3\vec{j} + 6\vec{k}$ ۳) $6\vec{i} - 3\vec{j} + 6\vec{k}$ ۴) $3\vec{i} - \vec{j} + 2\vec{k}$

پاسخ: گزینه «۳»

$$\vec{A} = 2\vec{i} - \vec{j} + 2\vec{k} \Rightarrow |\vec{A}| = \sqrt{4+1+4} = 3$$

چون طول بردار \vec{A} برابر ۳ است، پس بردار موردنظر $3\vec{A}$ خواهد بود.

(صنایع - سیستم - سراسری ۸۰)

مثال ۱۳: مختصات بردار یکه \vec{N} عمود بر دو بردار $\vec{A} = 4\vec{i} - \vec{j} + 2\vec{k}$ و $\vec{B} = -2\vec{i} + \vec{j} - 2\vec{k}$ کدام است؟

- ۱) $(1, -2, 2)$ ۲) $(\frac{1}{3}, -\frac{2}{3}, \frac{2}{3})$ ۳) $(-\frac{1}{3}, \frac{2}{3}, \frac{2}{3})$ ۴) $(-1, 2, 2)$

پاسخ: گزینه «۳» برای به دست آوردن بردار عمود بر \vec{A} و \vec{B} ، کافی است $\vec{A} \times \vec{B}$ را به دست آوریم.

$$\vec{A} \times \vec{B} = \begin{vmatrix} \vec{i} & \vec{j} & \vec{k} \\ 4 & -1 & 2 \\ -2 & 1 & -2 \end{vmatrix} = -\vec{i} + 2\vec{j} + 2\vec{k} \Rightarrow \vec{N} = \frac{\vec{A} \times \vec{B}}{|\vec{A} \times \vec{B}|} = \frac{1}{3}(-1, 2, 2)$$

(معدن - سراسری ۸۱)

مثال ۱۴: اگر داشته باشیم $\vec{A} = \vec{i} + \vec{j}$ و $\vec{B} = 2\vec{k}$ آن‌گاه کدام بردار، مماس بر $\vec{A} \times \vec{B}$ خواهد شد؟

- ۱) $\vec{i} + \vec{j}$ ۲) $\vec{i} - \vec{j}$ ۳) $2(\vec{i} - \vec{j})$ ۴) $2(\vec{i} + \vec{j})$

پاسخ: گزینه «۲» و «۳» طراح سؤال از اصطلاح «مماس» استفاده کرده است و به احتمال قوی منظور «موازی» بوده است.

$$\vec{A} \times \vec{B} = \begin{vmatrix} \vec{i} & \vec{j} & \vec{k} \\ 1 & 1 & 0 \\ 0 & 0 & 2 \end{vmatrix} = 2\vec{i} - 2\vec{j} = 2(\vec{i} - \vec{j})$$

بردار $2\vec{i} - 2\vec{j}$ و هر مضربی از آن پاسخ مسأله می‌باشد، زیرا بردارهایی که مضرب $\vec{A} \times \vec{B}$ باشند با آن موازی هستند.

(معدن - سراسری ۸۱)

مثال ۱۵: برای هر دو بردار \vec{a} و \vec{b} در فضا کدام رابطه همواره درست است؟

- ۱) $\vec{a} \cdot \vec{b} \leq |\vec{a}| |\vec{b}|$ ۲) $\vec{a} \cdot \vec{b} > |\vec{a}| |\vec{b}|$ ۳) $\vec{a} \cdot \vec{b} \leq \vec{a} \times \vec{b}$ ۴) $\vec{a} \cdot \vec{b} \geq |\vec{a}| |\vec{b}|$

پاسخ: گزینه «۱» خاصیت ضرب داخلی:

$$\vec{a} \cdot \vec{b} = |\vec{a}| |\vec{b}| \cos \theta \leq |\vec{a}| |\vec{b}|$$

(معدن - سراسری ۸۱)

مثال ۱۶: کدام بردار عمود بر بردارهای $\vec{u} = 4\vec{i} - \vec{j} + 2\vec{k}$ و $\vec{v} = 2\vec{i} + 3\vec{j} - \vec{k}$ است؟

- ۱) $8\vec{i} - 3\vec{j} - 3\vec{k}$ ۲) $6\vec{i} - 2\vec{j} - 2\vec{k}$ ۳) $6\vec{i} + 2\vec{j} + 2\vec{k}$ ۴) $-8\vec{i} + 10\vec{j} + 14\vec{k}$

پاسخ: گزینه «۴» حاصل ضرب خارجی دو بردار، بر دو بردار اولیه عمود است، بنابراین داریم:

$$\vec{u} \times \vec{v} = \begin{vmatrix} \vec{i} & \vec{j} & \vec{k} \\ 4 & -1 & 2 \\ 2 & 3 & -1 \end{vmatrix} = -8\vec{i} + 10\vec{j} + 14\vec{k}$$



(ریاضی - سراسری ۸۱)

کله مثال ۱۷: اگر a و b و c سه بردار و b و c غیر موازی و $a \cdot (b \times c) = 0$ ، کدام گزاره درست است؟

(۱) $a = 0$ یا $b = 0$ یا $c = 0$

(۱) یک بردار عمود بر صفحه دو بردار دیگر است.

(۴) یک بردار موازی صفحه دو بردار دیگر است.

(۳) صفحه a و b بر صفحه c عمود است.

پاسخ: گزینه «۴» از $a \cdot (b \times c) = 0$ نتیجه می‌شود سه بردار هم صفحه‌اند و چون b و c طبق فرض غیرموازی‌اند پس یک صفحه از آنها عبور می‌کند و چون a در همان صفحه قرار دارد پس با صفحه حاصل از آنها موازی است.

کله مثال ۱۸: بردارهای $\vec{A} = \vec{i} + 2\vec{j} + 3\vec{k}$ و $\vec{B} = -\vec{i} + 2\vec{j} + \vec{k}$ و $\vec{C} = 3\vec{i} + \vec{j}$ مفروض است. مقدار t را طوری پیدا کنید که بردار $\vec{A} + t\vec{B}$ بر بردار \vec{C} عمود باشد.

(صنایع - سیستم - آزاد ۸۲)

(۴) $t = -1$

(۳) $t = 1$

(۲) $t = 5$

(۱) $t = -5$

$$\vec{A} + t\vec{B} = (1-t, 2+2t, 3+t) \Rightarrow (\vec{A} + t\vec{B}) \cdot \vec{C} = 3 - 3t + 2 + 2t = 0$$

 پاسخ: گزینه «۲»که از معادله فوق $t = 5$ به دست می‌آید.

(ریاضی - سراسری ۸۲)

کله مثال ۱۹: حجم متوازی‌السطوح حاصل از سه بردار $\vec{a} = 2\vec{i} - \vec{j} + \vec{k}$ ، $\vec{b} = -\vec{i} - \vec{j} - 2\vec{k}$ و $\vec{c} = -\vec{i} + \vec{j} - \vec{k}$ برابر است با:

(۴) ۶

(۳) ۵

(۲) ۴

(۱) ۳

$$\vec{a} \cdot \vec{b} \times \vec{c} = \begin{vmatrix} 2 & -1 & 1 \\ -1 & -1 & -2 \\ -1 & 1 & -1 \end{vmatrix} = 3$$

 پاسخ: گزینه «۱»

(تاریخ و فلسفه علم - آزاد ۸۵)

کله مثال ۲۰: اگر بردار $\vec{A} + \vec{B}$ بر بردار $\vec{A} - \vec{B}$ عمود باشد داریم:

(۴) $|\vec{A}| = |\vec{B}|$

(۳) $|\vec{A}| = \frac{1}{3} |\vec{B}|$

(۲) $|\vec{A}| = 2 |\vec{B}|$

(۱) $|\vec{A}| = \frac{1}{2} |\vec{B}|$

پاسخ: گزینه «۴» اگر بردار $\vec{A} + \vec{B}$ بر $\vec{A} - \vec{B}$ عمود باشد خواهیم داشت: $(\vec{A} + \vec{B}) \cdot (\vec{A} - \vec{B}) = 0 \Rightarrow \vec{A} \cdot \vec{A} - \vec{A} \cdot \vec{B} + \vec{B} \cdot \vec{A} - \vec{B} \cdot \vec{B} = 0$

حالا توجه کنید که $\vec{A} \cdot \vec{B} = \vec{B} \cdot \vec{A}$ است زیرا مقدار ضرب داخلی با جابه‌جا کردن بردارها تغییری نمی‌کند. همچنین $\vec{A} \cdot \vec{A} = |\vec{A}|^2$ و $\vec{B} \cdot \vec{B} = |\vec{B}|^2$ پس داریم:

$$|\vec{A}|^2 - \vec{A} \cdot \vec{B} + \vec{A} \cdot \vec{B} - |\vec{B}|^2 = 0 \Rightarrow |\vec{A}|^2 = |\vec{B}|^2 \Rightarrow |\vec{A}| = |\vec{B}|$$

توجه کنید که اندازه‌ی بردار هیچ‌گاه منفی نمی‌شود پس لازم نیست حالت $|\vec{A}| = -|\vec{B}|$ را در نظر بگیرید.

(معماری کشتی - سراسری ۸۷)

کله مثال ۲۱: نقاط A, B, C, D در یک صفحه واقع‌اند اگر:

(۴) $\vec{AD} + \vec{AB} + \vec{BC} = 0$

(۳) $\vec{AD} \cdot (\vec{AB} \times \vec{BC}) = 0$

(۲) $\vec{AD} \times \vec{AB} \times \vec{BC} = 0$

(۱) $\vec{AD} \cdot (\vec{AB} + \vec{BC}) = 0$

پاسخ: گزینه «۳» اگر نقاط A, B, C, D در یک صفحه باشند حجم متوازی‌السطوح تشکیل شده توسط سه بردار $\vec{AB}, \vec{BC}, \vec{AD}$ صفر است. یعنی

$$\vec{AD} \cdot (\vec{AB} \times \vec{BC}) = 0$$

داریم:

کله مثال ۲۲: فرض کنید $T: \mathbb{R}^3 \rightarrow \mathbb{R}^3$ یک تبدیل خطی باشد و $T = (1, 0, 0) = (2, 3)$ و $T(0, 1, 0) = (-1, 4)$ و $T(0, 0, 1) = (5, -3)$ حاصل $T(3, -4, 5)$ کدام است؟

(ریاضی محض - آزاد ۸۷)

(۴) $(-22, 35)$

(۳) $(22, 35)$

(۲) $(35, 22)$

(۱) $(35, -22)$

پاسخ: گزینه «۱» طبق متن درس، تبدیل‌های خطی دارای این ویژگی هستند که $T(c_1 \vec{V}_1 + c_2 \vec{V}_2 + c_3 \vec{V}_3) = c_1 T(\vec{V}_1) + c_2 T(\vec{V}_2) + c_3 T(\vec{V}_3)$

بنابراین با انتخاب $\vec{V}_1 = (1, 0, 0)$ ، $\vec{V}_2 = (0, 1, 0)$ و $\vec{V}_3 = (0, 0, 1)$ داریم:

$$T(3, -4, 5) = T(3\vec{V}_1 - 4\vec{V}_2 + 5\vec{V}_3) = 3T(\vec{V}_1) - 4T(\vec{V}_2) + 5T(\vec{V}_3) = 3(2, 3) - 4(-1, 4) + 5(5, -3)$$

$$= (6, 9) + (4, -16) + (25, -15) = (35, -22)$$

درسنامه ۵: خط و صفحه در فضا

مثال ۱: نقطه $A(5, 4, 3)$ و خط L به معادله $\frac{x}{-1} = \frac{y}{2} = z$ مفروضند. از نقطه A خطی عمود بر L رسم شده است. معادله خط عمود کدام است؟

$$(1) \quad \frac{x+1}{6} = \frac{y-2}{2} = \frac{z-1}{2} \quad (2) \quad \frac{x+1}{-6} = \frac{y-2}{2} = \frac{z-1}{2} \quad (3) \quad \frac{x+1}{6} = \frac{y-2}{-2} = \frac{z-1}{-2} \quad (4) \quad \frac{x+1}{-6} = \frac{y-2}{-2} = \frac{z-1}{2}$$

پاسخ: گزینه «۱» نقطه دلخواه $B(-t, 2t, t)$ را روی خط L در نظر می‌گیریم. چون می‌خواهیم \overline{AB} بر خط L عمود باشد، پس باید ضرب داخلی بردار \overline{AB} و بردار هادی خط برابر صفر باشد.

$$(-1, 2, 1) \cdot (\Delta + t, 4 - 2t, 3 - t) = -\Delta - t + 8 - 4t + 3 - t = 0 \Rightarrow t = 1$$

بردار هادی \overline{AB}

یعنی نقطه $B = (-1, 2, 1)$ می‌باشد، و در این صورت بردار $\overline{AB} = (6, 2, 2)$ می‌باشد و بنابراین معادله خط $\frac{x+1}{6} = \frac{y-2}{2} = \frac{z-1}{2}$ است.

مثال ۲: فاصله‌ی دو خط موازی $D_1: \frac{x}{2} = \frac{y-2}{-1} = \frac{z-3}{-2}$ و $D_2: \frac{x-1}{2} = \frac{y+1}{-1} = \frac{z-2}{-2}$ چقدر است؟

$$(1) \quad \frac{10\sqrt{2}}{3} \quad (2) \quad \frac{5\sqrt{2}}{2} \quad (3) \quad \frac{5\sqrt{2}}{3} \quad (4) \quad 5\sqrt{2}$$

پاسخ: گزینه «۳» نقطه $P(0, 2, 3)$ روی خط D_1 قرار دارد. کافی است فاصله این نقطه را تا خط D_2 به دست آوریم. نقطه $Q(1, -1, 2)$ روی خط D_2 قرار دارد. فاصله مورد نظر برابر $\frac{|\overline{PQ} \times \vec{V}|}{|\vec{V}|}$ است که در آن \vec{V} بردار هادی خط D_2 است.

$$\overline{PQ} = (1, -3, -1) \Rightarrow \overline{PQ} \times \vec{V} = \begin{vmatrix} \vec{i} & \vec{j} & \vec{k} \\ 1 & -3 & -1 \\ 2 & -1 & -2 \end{vmatrix} = (5, 0, 5)$$

$$\text{فاصله} = \frac{|\overline{PQ} \times \vec{V}|}{|\vec{V}|} = \frac{\sqrt{25+0+25}}{\sqrt{4+1+4}} = \frac{5\sqrt{2}}{3}$$

مثال ۳: بر خط L به معادله $\frac{x-1}{2} = \frac{y}{3} = z-2$ ، چند نقطه هستند که فاصله‌شان از صفحه‌ی $2x + 2y - z + 3 = 0$ برابر با ۴ است؟

$$(1) \quad 1 \quad (2) \quad 2 \quad (3) \quad 3 \quad (4) \quad \text{صفر}$$

پاسخ: گزینه «۲» خط L را به صورت پارامتری $x = 2t + 1, y = 3t, z = t + 2$ می‌نویسیم. در این صورت نقطه $A(2t+1, 3t, t+2)$ روی خط قرار دارد و فاصله آن تا صفحه مورد نظر برابر است با:

$$\frac{|2(2t+1) + 2(3t) - (t+2) + 3|}{\sqrt{2^2 + 2^2 + (-1)^2}} = 4 \Rightarrow \frac{9t+3}{3} = 4 \Rightarrow |3t+1| = 4$$

از حل معادله فوق $t = 1$ و $t = \frac{-5}{3}$ به دست می‌آید. پس دو نقطه با این ویژگی، روی خط وجود دارد.

مثال ۴: اگر نقطه $(1, 0, -1)$ مرکز یک مکعب و صفحه $x - 2y + 2z = 3$ یکی از وجوه آن باشد، حجم مکعب چقدر است؟

$$(1) \quad \frac{8}{27} \quad (2) \quad \frac{64}{27} \quad (3) \quad \frac{512}{27} \quad (4) \quad \frac{27}{8}$$

پاسخ: گزینه «۳» ابتدا فاصله نقطه داده شده را از صفحه مورد نظر به دست می‌آوریم:

و با توجه به آنکه فاصله مرکز مکعب از هر یک از وجوه آن، نصف طول یال مکعب است، بنابراین هر یال این مکعب به طول $2 \times \frac{4}{3} = \frac{8}{3}$ بوده و حجم مکعب

$$V = \left(2 \times \frac{4}{3}\right)^3 = \frac{512}{27}$$

برابر است با:

مثال ۵: اگر دو صفحه $P: (2-a)x + y - 2z = 2$ و $P': 2x + (b+1)y - 2z = 1$ با هم موازی باشند، آنگاه حاصل $\frac{2a-b+2}{3}$ کدام است؟

- (۱) ۳ (۲) $\frac{10}{3}$ (۳) $\frac{14}{3}$ (۴) ۱

پاسخ: گزینه «۴» $\frac{2-a}{2} = \frac{1}{b+1} = \frac{-2}{-2} \Rightarrow \begin{cases} b+1=1 \\ 2-a=2 \end{cases} \Rightarrow a=b=0 \Rightarrow \frac{2a-b+2}{3} = \frac{2}{3} = 1$

مثال ۶: فاصله‌ی بین صفحه P به معادله‌ی $3x - y + 2z = 4$ از نقطه‌ی $A(1, 2, -3)$ عبور می‌کند و با صفحه‌ی P موازی است، چقدر است؟

- (۱) $\frac{4}{\sqrt{14}}$ (۲) $\frac{2}{\sqrt{14}}$ (۳) $\frac{3}{\sqrt{14}}$ (۴) $\frac{9}{\sqrt{14}}$

پاسخ: گزینه «۴» صفحه‌ی دوم را که از نقطه‌ی A می‌گذرد و با صفحه‌ی P موازی است، با P' نشان می‌دهیم. از آنجا که صفحات P و P' با هم موازی هستند و A نقطه‌ای روی P' است، اگر فاصله‌ی نقطه‌ی A از صفحه‌ی P را حساب کنیم، همین عدد، فاصله‌ی صفحه‌ی P' از صفحه‌ی P را نشان می‌دهد. برای محاسبه‌ی فاصله‌ی نقطه $A(x_0, y_0, z_0)$ از صفحه $P: ax + by + cz + d = 0$ فرمول زیر را داریم:

$$h = \frac{|ax_0 + by_0 + cz_0 + d|}{\sqrt{a^2 + b^2 + c^2}}$$

در این مثال $A: (x_0, y_0, z_0) = (1, 2, -3)$ است و معادله‌ی صفحه‌ی P به صورت $3x - y + 2z - 4 = 0$ داده شده است. پس داریم:

$$\Rightarrow h = \frac{|3(1) - 1(2) + 2(-3) - 4|}{\sqrt{9 + 1 + 4}} = \frac{9}{\sqrt{14}}$$

مثال ۷: خط به معادله $\frac{x-1}{2} = \frac{y-2}{3} = \frac{z-2}{4}$ ، صفحه به معادله $x + y + z = 15$ را در نقطه (x_0, y_0, z_0) قطع کرده است. x_0 کدام است؟

- (۱) -۳ (۲) -۲ (۳) ۲ (۴) ۳

پاسخ: گزینه «۴» نقطه برخورد خط و صفحه روی هر دو آنها واقع است، بنابراین داریم: $z = 2x + 1$ ، $\frac{x-1}{2} = \frac{y-2}{3} = \frac{z-2}{4} \Rightarrow y = \frac{3}{2}x + \frac{1}{2}$

$$x + \frac{3}{2}x + \frac{1}{2} + 2x + 1 = 15 \Rightarrow x = 3$$

با جایگذاری در معادله صفحه خواهیم داشت:

مثال ۸: معادله‌ی خطی که از نقطه $P(-4, 2, 1)$ عبور کرده و موازی با صفحه $x + 2y - z + 1 = 0$ باشد و خط $\frac{x+1}{-3} = \frac{y-5}{2} = \frac{z-2}{-2}$ را قطع کند، کدام است؟

- (۱) $\frac{x+4}{9} = \frac{y-3}{2} = \frac{z-1}{5}$ (۲) $\frac{x+4}{-9} = \frac{y-3}{-2} = \frac{z-1}{5}$ (۳) $\frac{x+4}{-9} = \frac{y-3}{-2} = \frac{z-1}{5}$ (۴) $\frac{x+4}{9} = \frac{y-3}{-2} = \frac{z-1}{5}$

پاسخ: گزینه «۴» معادله‌ی پارامتری خط داده شده را می‌نویسیم: $\frac{x+1}{-3} = \frac{y-5}{2} = \frac{z-2}{-2} = t \Rightarrow x = -3t - 1$ ، $y = 2t + 5$ ، $z = -2t + 2$

اکنون نقطه دلخواه $Q(-3t - 1, 2t + 5, -2t + 2)$ را روی خط در نظر می‌گیریم.

در این صورت $PQ(-3t + 3, 2t + 2, -2t + 1)$ بر بردار نرمال صفحه یعنی $(1, 2, -1)$ باید عمود باشد.

$$(1, 2, -1) \cdot (-3t + 3, 2t + 2, -2t + 1) = 0 \Rightarrow -3t + 3 + 4t + 4 + 2t - 1 = 0 \Rightarrow t = -2$$

به ازای $t = -2$ داریم $PQ(9, -2, 5)$ و معادله خط به صورت $\frac{x+4}{9} = \frac{y-3}{-2} = \frac{z-1}{5}$ در می‌آید.

مثال ۹: اگر نقطه‌ی $A(a, b, c)$ روی فصل مشترک سه صفحه‌ی زیر قرار داشته باشد، آنگاه مقدار « $2a + b^2 + 4c$ » کدام است؟

$$P_1: x - y + 3z = 3, P_2: 2x + y + 5z = 7, P_3: 2x + y + z = 5$$

- (۱) ۵ (۲) ۳ (۳) ۷ (۴) ۸

پاسخ: گزینه «۱» برای به دست آوردن نقطه‌ی $A(a, b, c)$ که روی فصل مشترک سه صفحه قرار دارد کافی است دستگاه معادلات صفحات را حل کنیم. می‌توان این دستگاه را با استفاده از ماتریس افزوده دستگاه و اعمال سطری - اشلی ساده‌تر کرد.

$$\begin{cases} x - y + 3z = 3 \\ 2x + y + 5z = 7 \\ 2x + y + z = 5 \end{cases} \Rightarrow \left[\begin{array}{ccc|c} 1 & -1 & 3 & 3 \\ 2 & 1 & 5 & 7 \\ 2 & 1 & 1 & 5 \end{array} \right] \Rightarrow \left[\begin{array}{ccc|c} 1 & -1 & 3 & 3 \\ 0 & 4 & -4 & -2 \\ 0 & 4 & -8 & -4 \end{array} \right] \Rightarrow \left[\begin{array}{ccc|c} 1 & -1 & 3 & 3 \\ 0 & 4 & -4 & -2 \\ 0 & 0 & -4 & -2 \end{array} \right] \Rightarrow \begin{cases} x - y + 3z = 3 & (1) \\ 4y - 4z = -2 & (2) \\ -4z = -2 \Rightarrow z = \frac{1}{2} & (3) \end{cases} \rightarrow y = 0$$

$$\xrightarrow{(1)} x - 0 + \frac{3}{2} = 3 \Rightarrow x = \frac{3}{2} \Rightarrow A\left(\frac{3}{2}, 0, \frac{1}{2}\right) \Rightarrow 2a + b^2 + 4c = 3 + 0 + 2 = 5$$

مثال ۱۰: فاصله‌ی نقطه $(-1, 3, -1)$ از خط به معادله $\begin{cases} x = 2t + 1 \\ y = 1 \\ z = t \end{cases}$ کدام است؟

(۱) ۱ (۲) ۲ (۳) ۳ (۴) ۴

پاسخ: گزینه «۲» نقطه $A(1, 1, 0)$ روی خط قرار دارد.

$$\overline{AB} = (-2, 2, -1) \Rightarrow AB \times \vec{u} = \begin{vmatrix} \vec{i} & \vec{j} & \vec{k} \\ -2 & 2 & -1 \\ 2 & 0 & 1 \end{vmatrix} = (2, 0, -4) \Rightarrow d = \frac{|\overline{AB} \times \vec{u}|}{|\vec{u}|} = \frac{\sqrt{4+0+16}}{\sqrt{4+0+1}} = 2$$

مثال ۱۱: فاصله عمودی بین دو صفحه به معادله‌های $4x - 8y - z = 6$ و $4x - 8y - z + 9 = 0$ کدام است؟

(۱) $\frac{3}{5}$ (۲) $\frac{3}{2}$ (۳) $\frac{2}{3}$ (۴) $\frac{5}{3}$

پاسخ: گزینه «۴»

$$d = \frac{|-6-9|}{\sqrt{4^2+(-8)^2+(-1)^2}} = \frac{15}{9} = \frac{5}{3}$$

مثال ۱۲: فاصله نقطه $(-1, 3, -1)$ از خط $\begin{cases} x - 2z = 7 \\ y = 1 \end{cases}$ کدام است؟

(۱) $\frac{2}{5}\sqrt{35}$ (۲) $\frac{3}{5}\sqrt{35}$ (۳) $\frac{3}{5}\sqrt{70}$ (۴) $\frac{2}{5}\sqrt{70}$

پاسخ: گزینه «۴» می‌دانیم فاصله نقطه دلخواه P_0 از خط d از فرمول روبرو به دست می‌آید:

$$\text{فاصله} = \frac{|PP_0 \times \vec{u}|}{|\vec{u}|}$$

$$PP_0 = (-4, 2, 1) \Rightarrow PP_0 \times \vec{u} = \begin{vmatrix} \vec{i} & \vec{j} & \vec{k} \\ -4 & 2 & 1 \\ 2 & 0 & 1 \end{vmatrix} = (2, 6, -4) \Rightarrow \text{فاصله} = \frac{|PP_0 \times \vec{u}|}{|\vec{u}|} = \frac{\sqrt{4+36+16}}{\sqrt{4+1}} = \frac{2\sqrt{56}}{\sqrt{5}} = \frac{2\sqrt{70}}{5}$$

مثال ۱۳: معادله‌ی صفحه‌ای که از نقطه‌ی $A \begin{pmatrix} 1 \\ 2 \\ 3 \end{pmatrix}$ می‌گذرد و به بردار $\vec{v} = (1, -1, 3)$ عمود می‌باشد کدام است؟

(۱) $x + y + 2z = 1$ (۲) $x - y + 3z = 6$ (۳) $x - y + 3z = 8$ (۴) $2x - y + 3z = 9$

پاسخ: گزینه «۳»

$$1 \times (x-1) - 1 \times (y-2) + 3 \times (z-3) = 0 \Rightarrow x - y + 3z = 8$$

مثال ۱۴: خط L که معادلاتش عبارتند از $y - 2z = 0$ و $x - 2z - 3 = 0$ ، صفحه $x + 3y - z + 4 = 0$ را در نقطه P قطع می‌کند. معادله خطی را که در این صفحه بر نقطه P می‌گذرد و بر L عمود است به دست آورید.

(عمران - آزاد ۸۱)

(۱) $\frac{x-1}{-5} = \frac{y+2}{3} = \frac{z+1}{4}$ (۲) $\frac{x-2}{-3} = \frac{y-1}{3} = \frac{z-9}{2}$ (۳) $\frac{x-2}{-5} = \frac{y-1}{2} = \frac{z-9}{2}$ (۴) $\frac{x-1}{-5} = \frac{y+2}{3} = \frac{z+1}{4}$

پاسخ: گزینه «۴» بردار هادی خط موردنظر برابر حاصل ضرب خارجی بردار هادی خط L و بردار نرمال صفحه می‌باشد. بنابراین داریم:

$$\vec{u} = \begin{vmatrix} \vec{i} & \vec{j} & \vec{k} \\ 1 & 1 & 1 \\ 1 & 3 & -1 \end{vmatrix} = \left(-\frac{5}{2}, \frac{3}{2}, 2\right) = \frac{1}{2}(-5, 3, 4)$$

توجه کنید که با همین بردار نرمال نیز می‌توان جواب درست را تشخیص داد، زیرا تنها خطی که بردار نرمال آن موازی \vec{u} است گزینه‌ی (۴) می‌باشد. برای به دست آوردن نقطه P دستگاه زیر را حل می‌کنیم:

$$\begin{cases} x + 3y - z + 4 = 0 \\ y - 2z = 0 \\ x - 2z - 3 = 0 \end{cases} \Rightarrow y = 2z, x = 2z + 3 \xrightarrow{\text{جایگزینی در معادله اول}} 2z + 3 + 6z - z + 4 = 0 \Rightarrow z = -1, y = -2, x = 1 \Rightarrow P(1, -2, -1)$$

بنابراین معادله خط موردنظر به صورت روبرو است:

$$\frac{x-1}{-5} = \frac{y+2}{3} = \frac{z+1}{4}$$



کله مثال ۱۵: دو خط متنافر L_1 و L_2 در فضا مفروض است. خط L_1 از نقطه $(1, 0, 1)$ می‌گذرد و با بردار $(1, 2, 1)$ موازی است. خط L_2 از نقطه $(2, 1, 4)$ می‌گذرد و با بردار $(1, -1, 1)$ موازی است. کوتاهترین فاصله بین این دو خط در فضا برابر است با:

(۱) صفر (۲) ۱ (۳) ۲ (۴) بی‌نهایت

پاسخ: هیچ کدام از گزینه‌ها صحیح نیست. می‌دانیم فاصله بین دو خط متنافر که نقاط A و B روی آنها قرار دارند \vec{v} و \vec{v}' بردارهای هادی آنها می‌باشند، از فرمول روبرو به دست می‌آید:

$$d = \frac{|\overline{AB} \cdot (\vec{v} \times \vec{v}')|}{|\vec{v} \times \vec{v}'|}$$

$$\vec{v} \times \vec{v}' = \begin{vmatrix} \vec{i} & \vec{j} & \vec{k} \\ 1 & 2 & 1 \\ 1 & -1 & 1 \end{vmatrix} = (3, 0, -3) \quad , \quad AB = (1, 1, 3) \Rightarrow d = \frac{|3 \times 1 + 0 \times 1 - 3 \times 3|}{\sqrt{9+0+9}} = \frac{6}{\sqrt{18}} = \sqrt{2}$$

(مکانیک - سراسری ۸۲)

کله مثال ۱۶: دو خط $\begin{cases} x+2y=-1 \\ 3y+z=1 \end{cases}$ و $\begin{cases} z=1 \\ 2x+y=2 \end{cases}$ نسبت به هم چه وضعی دارند؟

(۱) متقاطع هستند. (۲) موازی هستند. (۳) متنافر هستند. (۴) برهم منطبق هستند.

پاسخ: گزینه «۳» دو خط موازی نیستند زیرا بردارهای هادی آنها با هم موازی نیست. حال به بررسی متقاطع یا متنافر بودن دو خط می‌پردازیم. اگر دو خط متقاطع باشند، لازم است دستگاه زیر جواب داشته باشد.

$$\begin{cases} z=1 \\ 2x+y=2 \\ x+2y=-1 \\ 3y+z=1 \end{cases} \xrightarrow{z=1} y=0 \Rightarrow x=1, x=-1$$

چون دو مقدار مختلف برای x به دست می‌آید، پس نقطه تقاطع وجود ندارد.

کله مثال ۱۷: معادله صفحه‌ای که شامل محل تقاطع دو صفحه $2x - 2y + 4z = 5$ و $2x + 4y - z = 7$ بوده و از نقطه $(2, 1, 2)$ بگذرد، کدام است؟

(صنایع - سیستم - آزاد ۸۲)

(۱) $17x + 26y - 3z + 54 = 0$ (۲) $5x + 2y + 3z - 18 = 0$ (۳) $17x + 26y - 3z - 54 = 0$ (۴) $13x + 18y - z - 42 = 0$

پاسخ: گزینه «۳»

روش اول: صفحه‌ای که از فصل مشترک دو صفحه‌ی $\begin{cases} a_1x + b_1y + c_1z + d_1 = 0 \\ a_2x + b_2y + c_2z + d_2 = 0 \end{cases}$ می‌گذرد، باید در معادله‌ای به این صورت صدق کند:

$$(a_1x + b_1y + c_1z + d_1) + k(a_2x + b_2y + c_2z + d_2) = 0$$

$$2x + 4y - z - 7 + k(2x - 2y + 4z - 5) = 0 \Rightarrow (2k+2) + (-2k+4)y + (4k-1)z - 5k - 7 = 0 \quad (*)$$

این صفحه طبق صورت سؤال از نقطه $(2, 1, 2)$ نیز می‌گذرد، پس داریم:

$$17x + 26y - 3z - 54 = 0 \quad \text{با جایگذاری } k = \frac{1}{y} \text{ در معادله } (*) \text{ خواهیم داشت:}$$

روش دوم (تستی): نقطه $(3, 0, -1)$ در محل تلاقی دو صفحه قرار دارد، در بین گزینه‌ها، تنها گزینه‌ای که نقطه $(3, 0, -1)$ در آن صدق می‌کند، گزینه (۳) می‌باشد.

کله مثال ۱۸: فاصله دو صفحه موازی $\begin{cases} P_1: x - y + 2z + 1 = 0 \\ P_2: 2x - 2y + 4z + 6 = 0 \end{cases}$ را به دست آورید.

(مکانیک - آزاد ۸۳)

(۱) $\frac{\sqrt{2}}{3}$ (۲) $\frac{\sqrt{6}}{9}$ (۳) $\frac{\sqrt{6}}{3}$ (۴) ۱

پاسخ: گزینه «۳»

$$P_1: x - y + 2z + 1 = 0 \quad , \quad P_2: x - y + 2z + 3 = 0$$

$$d = \frac{|1-3|}{\sqrt{1+1+4}} = \frac{2}{\sqrt{6}} = \frac{\sqrt{6}}{3}$$

مثال ۱۹: معادله خط گذرنده از مبدأ مختصات و موازی صفحه $x + y - z = 0$ و عمود بر خط $x = 2y = z + 1$ از کدام نقطه زیر می‌گذرد؟

(صنایع - سیستم - آزاد ۸۳)

(۴) $(-3, 4, 1)$

(۳) $(3, -4, -1)$

(۲) $(3, -2, 1)$

(۱) $(1, 2, 3)$

پاسخ: گزینه «۳ و ۴» بردار هادی خط موردنظر برابر حاصل ضرب خارجی بردار نرمال صفحه و بردار هادی خط داده شده می‌باشد. بنابراین داریم:

$$\vec{u} = \begin{vmatrix} \vec{i} & \vec{j} & \vec{k} \\ 1 & 1 & -1 \\ 1 & \frac{1}{2} & 1 \end{vmatrix} = \left(\frac{3}{2}, -2, -\frac{1}{2} \right)$$

$$\frac{x}{\frac{3}{2}} = \frac{y}{-2} = \frac{z}{-\frac{1}{2}} \Rightarrow \frac{2x}{3} = \frac{y}{-2} = -2z$$

در نتیجه معادله خط موردنظر به صورت روبرو می‌باشد:

می‌توان ملاحظه کرد هر دو نقطه $(3, -4, -1)$ و $(-3, 4, 1)$ در معادله فوق صدق می‌کند.

مثال ۲۰: صفحه گذرنده بر خط به معادله $\frac{x-1}{2} = \frac{y+1}{-1} = z$ و نقطه $(1, 1, 0)$ محور x ها را با کدام طول قطع می‌کند؟ (معدن - سراسری ۸۳)

(۴) $\frac{4}{3}$

(۳) $\frac{2}{2}$

(۲) $\frac{3}{4}$

(۱) $\frac{2}{3}$

پاسخ: گزینه «۱» نقطه $A(1, -1, 0)$ روی خط داده شده قرار دارد و بنابراین روی صفحه موردنظر قرار دارد از طرفی نقطه $B(2, 1, 1)$ نیز طبق فرض

روی صفحه موردنظر واقع است، بنابراین بردار $\vec{AB} = (1, 2, 1)$ روی صفحه قرار دارد. از طرفی بردار هادی خط داده شده یعنی $\vec{V}(2, -1, 1)$ نیز در صفحه واقع است. بنابراین بردار نرمال صفحه برابر است با:

$$\vec{N} = \vec{AB} \times \vec{V} = \begin{vmatrix} \vec{i} & \vec{j} & \vec{k} \\ 1 & 2 & 1 \\ 2 & -1 & 1 \end{vmatrix} = 3\vec{i} + \vec{j} - 5\vec{k}$$

$$2(x-2) + 1(y-1) - 5(z-1) = 0 \Rightarrow 2x + y - 5z = 2$$

پس معادله صفحه موردنظر به صورت روبرو است:

در نقطه تقاطع با محور x ها، $y = z = 0$ ، بنابراین $x = \frac{2}{3}$.

مثال ۲۱: خط به معادله $\begin{cases} x + 2y = 1 \\ 2y - z = 2 \end{cases}$ موازی صفحه‌ی $x + my + (m-1)z = 1$ است. m کدام است؟ (ژئوفیزیک و هواشناسی - سراسری ۸۴)

(۴) $\frac{2}{3}$

(۳) $\frac{2}{4}$

(۲) $\frac{4}{3}$

(۱) $\frac{3}{2}$

پاسخ: گزینه «۲» برای اینکه خط موازی صفحه باشد، باید بردار هادی خط بر بردار نرمال صفحه عمود باشد. $\vec{N} = (1, m, m-1)$ ، $\vec{u} = (-2, 1, 2)$

$$\vec{u} \cdot \vec{N} = 0 \Rightarrow -2 + m + 2(m-1) = 0 \Rightarrow m = \frac{4}{3}$$

مثال ۲۲: خط به معادله $\frac{x-1}{2} = \frac{y-2}{3} = \frac{z-3}{4}$ صفحه $x + y + z = 15$ را در نقطه (x_0, y_0, z_0) قطع کرده است. مقدار x_0 چقدر است؟ (معدن - سراسری ۸۹)

(۴) ۷

(۳) ۵

(۲) ۳

(۱) ۱

پاسخ: گزینه «۲» معادله پارامتری خط داده شده به صورت $\begin{cases} x = 2t + 1 \\ y = 3t + 2 \\ z = 4t + 3 \end{cases}$ است که با جایگزینی در معادله صفحه نتیجه می‌شود:

$$2t + 1 + 3t + 2 + 4t + 3 = 15 \Rightarrow 9t = 9 \Rightarrow t = 1 \Rightarrow x = 3, y = 5, z = 7$$

مثال ۲۳: فاصله بین مبدأ و فصل مشترک صفحات $x + 2y - z - 5 = 0$ و $x - y + z - 3 = 0$ برابر است با: (علوم کامپیوتر - سراسری ۸۹)

(۴) $\frac{51}{2}$

(۳) $\frac{51}{4}$

(۲) $\sqrt{51}$

(۱) $\frac{\sqrt{51}}{2}$

پاسخ: هیچ‌کدام از گزینه‌های صحیح نیست.

روش اول: فرض کنیم (x, y, z) یک نقطه دلخواه روی فصل مشترک دو صفحه باشد. پس فاصله این نقطه تا مبدأ برابر است با $d = \sqrt{x^2 + y^2 + z^2}$ برای یافتن فاصله مبدأ تا فصل مشترک دو صفحه باید حداقل مقدار $d = \sqrt{x^2 + y^2 + z^2}$ را محاسبه کنیم. برای این منظور این عبارت را بر حسب یک متغیر می‌نویسیم. با استفاده از معادلات دو صفحه نتایج زیر به دست می‌آید:



$$\left. \begin{cases} x - y + z - 3 = 0 \\ x + 2y - z - 5 = 0 \end{cases} \right\} \Rightarrow \begin{cases} 2x + y - 8 = 0 \\ 3y - 2z - 2 = 0 \end{cases} \Rightarrow \begin{cases} x = \frac{8-y}{2} = 4 - \frac{y}{2} \\ z = \frac{3y-2}{2} = \frac{3}{2}y - 1 \end{cases} \Rightarrow d = \sqrt{x^2 + y^2 + z^2} = \sqrt{\left(4 - \frac{y}{2}\right)^2 + y^2 + \left(\frac{3}{2}y - 1\right)^2}$$

برای یافتن حداقل مقدار عبارت فوق می‌بایست نقطه مینیمم آن را بیابیم:

$$d' = \frac{-\left(4 - \frac{y}{2}\right) + 2y + 3\left(\frac{3}{2}y - 1\right)}{2\sqrt{\left(4 - \frac{y}{2}\right)^2 + y^2 + \left(\frac{3}{2}y - 1\right)^2}} = 0 \Rightarrow \frac{y}{2} + 2y + \frac{9}{2}y = 7 \rightarrow y = 1 \Rightarrow d = \sqrt{\left(4 - \frac{1}{2}\right)^2 + 1 + \left(\frac{3}{2} - 1\right)^2} = \sqrt{\frac{54}{4}} = \frac{\sqrt{54}}{2}$$

روش دوم: می‌دانیم فصل مشترک دو صفحه یک خط می‌باشد که بردار هادی آن خط برابر حاصل ضرب خارجی بردارهای نرمال دو صفحه است، بنابراین:

$$\vec{V} = \vec{N}_1 \times \vec{N}_2 = \begin{vmatrix} \vec{i} & \vec{j} & \vec{k} \\ 1 & 2 & -1 \\ 1 & -1 & 1 \end{vmatrix} = \vec{i} - 2\vec{j} - 3\vec{k}$$

نقطه $A(4, 0, -1)$ در هر دو صفحه قرار دارد، پس روی فصل مشترک دو صفحه قرار دارد، بنابراین معادله فصل مشترک دو صفحه به صورت

$$\frac{|\vec{OA} \times \vec{V}|}{|\vec{V}|} \text{ می‌باشد.} \quad \frac{x-4}{1} = \frac{y}{-2} = \frac{y+1}{-3}$$

$$\vec{OA} \times \vec{V} = \begin{vmatrix} \vec{i} & \vec{j} & \vec{k} \\ 4 & 0 & -1 \\ 1 & -2 & -3 \end{vmatrix} = -2\vec{i} + 11\vec{j} - 8\vec{k} \Rightarrow \text{فاصله} = \frac{|\vec{OA} \times \vec{V}|}{|\vec{V}|} = \frac{\sqrt{4+121+64}}{\sqrt{1+4+9}} = \frac{\sqrt{189}}{\sqrt{14}} = \frac{\sqrt{54}}{2}$$

(صنایع - سیستم - سراسری ۹۰)

مثال ۲۴: مکان هندسی نقاطی که از نقطه $(0, 0, c)$ و صفحه $z = -c$ به یک فاصله‌اند عبارت است از:

$$\begin{aligned} (1) \quad x^2 + y^2 + 2z^2 &= c^2 + 4cz \\ (2) \quad x^2 + y^2 &= 4cz \\ (3) \quad x^2 - y^2 &= 2cz \end{aligned}$$

پاسخ: گزینه «۴» نقاط مربوط به مکان هندسی موردنظر را (x, y, z) در نظر می‌گیریم:

$$\text{فاصله نقاط } (x, y, z) \text{ از نقطه } (0, 0, c) = \sqrt{(x-0)^2 + (y-0)^2 + (z-c)^2}$$

$$\text{فاصله نقاط } (x, y, z) \text{ از صفحه } z = -c = z + c$$

$$\sqrt{x^2 + y^2 + (z-c)^2} = z + c \Rightarrow x^2 + y^2 + z^2 - 2cz + c^2 = z^2 + 2cz + c^2 \Rightarrow x^2 + y^2 = 4cz$$

(آمار - سراسری ۹۰)

مثال ۲۵: برای چه مقدار پارامتر m ، خط $3x = 2y = z$ روی صفحه $mx + y + z = 0$ قرار می‌گیرد؟

$$\begin{aligned} (1) \quad -9 \\ (2) \quad -\frac{9}{2} \\ (3) \quad \frac{9}{2} \\ (4) \quad 9 \end{aligned}$$

پاسخ: گزینه «۲»

روش اول: برای اینکه خط $3x = 2y = z$ روی صفحه $mx + y + z = 0$ قرار گیرد باید موازی با صفحه $mx + y + z = 0$ باشد و همچنین خط و صفحه با هم تلاقی داشته باشند. لذا بردار هادی خط مذکور (\vec{U}) بر بردار نرمال صفحه (\vec{N}) عمود است. ضمناً معادله خط را به صورت استاندارد (فرم متقارن) می‌نویسیم:

$$3x = 2y = z \rightarrow \frac{3x}{6} = \frac{2y}{6} = \frac{z}{6} \Rightarrow \frac{x}{2} = \frac{y}{3} = \frac{z}{6} \Rightarrow \vec{U} = (2, 3, 6)$$

$$\vec{N} = (m, 1, 1)$$

از طرفی بردار نرمال صفحه برابر است با:

$$\vec{U} \cdot \vec{N} = 0 \text{ چون } \vec{U} \text{ بر } \vec{N} \text{ عمود است پس}$$

$$(2, 3, 6) \cdot (m, 1, 1) = 0 \Rightarrow 2m + 3(1) + 6(1) = 0 \Rightarrow m = -\frac{9}{2}$$

روش دوم: همانطور که در بالا بیان شد برای اینکه خط بر روی صفحه قرار گیرد باید خط و صفحه با هم تلاقی داشته باشند، بنابراین داریم:

$$3x = 2y = z \Rightarrow \begin{cases} x = \frac{z}{3} \\ y = \frac{z}{2} \end{cases}$$

$$mx + y + z = \frac{mz}{3} + \frac{z}{2} + z = 0 \Rightarrow \frac{m}{3} = -\frac{3}{2} \Rightarrow m = -\frac{9}{2}$$

با قرار دادن معادله خط در صفحه داریم:



مدرس‌ان شریف

فصل دوم

«رویه‌ها، خم‌ها و توابع برداری»

درسنامه: انواع رویه‌ها در فضای سه بعدی

مثال ۱: معادله رویه‌ای که از دوران منحنی $x^2 + y^2 = 1$ حول محور x ها پدید می‌آید، کدام است؟

(۱) $x^2 + y^2 + z^2 = 1$ (۲) $x^2 + (y^2 + z^2)^2 = 1$ (۳) $(x^2 + z^2)^2 + y^2 = 1$ (۴) $x^2 + y^2 + z^2 = 1$

پاسخ: گزینه «۲» متغیرهای فعلی x و y هستند. پس از دوران در معادله‌ی رویه متغیر جدید z نیز ظاهر خواهد شد. دوران حول محور x انجام می‌شود.

بنابراین با متغیر x کاری نداریم اما به جای y باید $\sqrt{y^2 + z^2}$ را قرار بدهیم:

$$x^2 + y^2 = 1 \Rightarrow x^2 + (\sqrt{y^2 + z^2})^2 = 1 \Rightarrow x^2 + (y^2 + z^2) = 1$$

مثال ۲: نمودار به معادله $2z^2 - y^2 - x^2 = 1$ در فضا کدام است؟

(۱) هذلولی وار یک پارچه (۲) هذلولی وار دو پارچه (۳) سهمی وار یک پارچه (۴) مخروط

پاسخ: گزینه «۲» با قرار دادن $x = 0$ در معادله‌ی رویه به $2z^2 - y^2 = 1$ می‌رسیم که هذلولی است. همچنین با قرار دادن $y = 0$ در معادله به

$2z^2 - x^2 = 1$ می‌رسیم که هذلولی است. پس این رویه یک هذلولی وار (هذلولی گون) است. همان‌طور که در متن درس توضیح داده شده است، وقتی ثابت سمت راست معادله مثبت باشد، تعداد منفی‌ها در سمت چپ تساوی، چند تکه بودن رویه را نشان می‌دهد. در این مثال $2z^2 - y^2 - x^2 = 1$ دارای دو جمله‌ی منفی در سمت چپ است پس هذلولی وار دو پارچه است. در مورد گزینه (۴) دقت کنید که در معادله‌ی مخروط اگر $x = 0$ یا $y = 0$ قرار دهید باید دو خط متقاطع به دست آید. در حالی که در این معادله وقتی $x = 0$ قرار می‌دهیم هذلولی به دست می‌آید. در مورد گزینه‌ی (۳) دقت کنید که در سهمی وار هذلولی وقتی $x = 0$ و $y = 0$ قرار می‌دهیم باید سهمی به دست آید اما در این معادله چه $x = 0$ و چه $y = 0$ هر دو به معادله‌ی هذلولی می‌رسند. پس رویه‌ی داده شده هذلولی وار است.

مثال ۳: معادله $z^2 = xy$ مربوط به کدام یک از اشکال زیر است؟

(۱) مخروط (۲) سهمی گون (۳) استوانه (۴) هذلولی گون

پاسخ: گزینه «۱» ابتدا معادله را به صورت $2z^2 - 2xy = 0$ می‌نویسیم، ماتریس مربوط به این معادله به صورت $A = \begin{bmatrix} 0 & -1 & 0 \\ -1 & 0 & 0 \\ 0 & 0 & 2 \end{bmatrix}$ است، مقادیر ویژه

$|A - \lambda I| = \begin{vmatrix} -\lambda & -1 & 0 \\ -1 & -\lambda & 0 \\ 0 & 0 & 2 - \lambda \end{vmatrix} = (2 - \lambda)(\lambda^2 - 1) = 0 \Rightarrow \lambda = 2, 1, -1$ را به دست می‌آوریم.



اگر مختصات جدید را $Y = \begin{bmatrix} x' \\ y' \\ z' \end{bmatrix}$ در نظر بگیریم، معادله به صورت $z'^2 = 2x'^2 + y'^2$ درمی‌آید. یعنی $z'^2 = 2x'^2 + y'^2$ که مربوط به یک مخروط است.

توجه کنید که نمی‌توانیم با اطمینان بگوییم که کدام مقدار ویژه در x'^2 ، کدام در y'^2 و کدام یک در z'^2 ضرب می‌شود. این بستگی به نحوه نامگذاری محورها در دستگاه جدید دارد. در این مثال اگر بگوییم معادله به صورت $z'^2 = 2x'^2 + y'^2$ در می‌آید جمله‌ی نادرستی نگفته‌ایم. البته در هر صورت یک مخروط به دست خواهد آمد.

(ژئوفیزیک و هواشناسی - سراسری ۸۳)

کج مثال ۴: منحنی $\begin{cases} xz=1 \\ y=0 \end{cases}$ هادی یک استوانه است، معادله‌ی استوانه کدام است؟

$$x^2 + z^2 = 1 \quad (۴)$$

$$x + z = 1 \quad (۳)$$

$$x^2 z^2 = 1 \quad (۲)$$

$$xz = 1 \quad (۱)$$

پاسخ: گزینه «۱» استوانه یک منحنی است که یکی از مؤلفه‌های آن بدون قید و محدودیت می‌باشد. معادله‌ی یک استوانه، مانند معادله‌ی هادی آن است، فقط به جای صفحه در فضا رسم می‌شود. پس معادله‌ی استوانه به صورت $xz = 1$ است، فقط شرط $y = 0$ از آن برداشته می‌شود.

(صنایع - سیستم - سراسری ۸۴)

کج مثال ۵: کدام معادله معرف یک مخروط است؟

$$x^2 + y^2 + z^2 = 1 \quad (۴)$$

$$x^2 - 2xy + y^2 = z \quad (۳)$$

$$y^4 = x^2 + z^2 \quad (۲)$$

$$x^2 + y^2 = z^2 \quad (۱)$$

پاسخ: گزینه «۱» اگر در معادله‌ی مخروط $x = 0$ یا $y = 0$ قرار دهیم باید دو خط متقاطع به دست بیاید. در گزینه‌ی (۱) وقتی $x = 0$ قرار می‌دهیم $z = \pm y$ به دست می‌آید.

(صنایع - سیستم - سراسری ۸۷)

کج مثال ۶: کدام معادله معرف یک رویه دوار است؟

$$z = 2(x^2 + y^2)^2 + \sqrt{x^2 + y^2} \quad (۴)$$

$$z^2 + x^2 - 2y^2 = y \quad (۳)$$

$$\frac{x^2}{4} + \frac{y^2}{5} = 1 \quad (۲)$$

$$z = 2y^4 + y \quad (۱)$$

پاسخ: گزینه «۳ و ۴» در گزینه‌ی (۴) عبارت $x^2 + y^2$ تکرار شده است. اگر منحنی $z = 2x^4 + x$ را حول محور z دوران دهیم به رویه‌ی دوار زیر می‌رسیم:

$$z = 2(\sqrt{x^2 + y^2})^4 + \sqrt{x^2 + y^2} \Rightarrow z = 2(x^2 + y^2)^2 + \sqrt{x^2 + y^2}$$

اما گزینه‌ی (۳) نیز شامل عبارت $x^2 + z^2$ است. اگر منحنی $x^2 - 2y^2 = y$ را حول محور y دوران دهیم. به رویه‌ی دوار زیر می‌رسیم:

$$(\sqrt{x^2 + z^2})^2 - 2y^2 = y \Rightarrow x^2 + z^2 - 2y^2 = y$$

بنابراین گزینه‌های (۳) و (۴) هر دو صحیح هستند.

درسنامه ۲: منحنی‌های پارامتری و تعریف توابع برداری

کله مثال ۱: تابع $f: \mathbb{R} \rightarrow \mathbb{R}^3$ با ضابطه $\vec{F}(t) = \frac{\cos 2t}{\sin 4t} \vec{i} + \sin t \vec{j} + \frac{\sin t}{2 \cos t} \vec{k}$ مفروض است، حد تابع در نقطه $t_0 = \frac{\pi}{4}$ کدام است؟

(۱) حد موجود نیست. (۲) $\frac{\sqrt{2}}{2}(\vec{i} + \vec{j} + \vec{k})$ (۳) $\frac{1}{2}(\vec{i} + \sqrt{2}\vec{j} + \vec{k})$ (۴) $\frac{3}{2}$

پاسخ: گزینه «۳» برای محاسبه $\lim_{t \rightarrow \frac{\pi}{4}} \vec{F}(t)$ باید از همهی مؤلفه‌های $\vec{F}(t)$ حد بگیریم:

$$\lim_{t \rightarrow \frac{\pi}{4}} \vec{F}(t) = \lim_{t \rightarrow \frac{\pi}{4}} \frac{\cos 2t}{\sin 4t} \vec{i} + \lim_{t \rightarrow \frac{\pi}{4}} \sin t \vec{j} + \lim_{t \rightarrow \frac{\pi}{4}} \frac{\sin t}{2 \cos t} \vec{k}$$

$$\lim_{t \rightarrow \frac{\pi}{4}} \frac{\cos 2t}{\sin 4t} = \lim_{t \rightarrow \frac{\pi}{4}} \frac{-2 \sin 2t}{4 \cos 4t} = \frac{1}{2}$$

در اولین مؤلفه، حالت مبهم $\frac{0}{0}$ ایجاد می‌شود، پس از هوییتال استفاده می‌کنیم:

$$\lim_{t \rightarrow \frac{\pi}{4}} \vec{F}(t) = \frac{1}{2} \vec{i} + \frac{\sqrt{2}}{2} \vec{j} + \frac{1}{2} \vec{k} = \frac{1}{2}(\vec{i} + \sqrt{2}\vec{j} + \vec{k})$$

در سایر مؤلفه‌ها حالت مبهم ایجاد نمی‌شود و مقدار حد معلوم است.

کله مثال ۲: ذره‌ای روی منحنی با معادله $\vec{R}(t) = \vec{i} - 4t^2 \vec{j} + 3t^2 \vec{k}$ حرکت می‌کند، اندازه‌ی سرعت و شتاب ذره به ترتیب کدام است؟

(۱) ۱۰ و صفر (۲) $6t$ و $8t$ (۳) $8t$ و $10t$ (۴) $10t$ و 10

$$\vec{V}(t) = \vec{R}'(t) = -8t \vec{j} + 6t \vec{k} \Rightarrow |\vec{V}(t)| = \sqrt{(-8t)^2 + (6t)^2} = 10t$$

پاسخ: گزینه «۴»

$$\vec{a}(t) = \vec{V}'(t) = -8 \vec{j} + 6 \vec{k} \Rightarrow |\vec{a}(t)| = \sqrt{(-8)^2 + (6)^2} = 10$$

کله مثال ۳: بردار مکان ذره‌ای در لحظه‌ی t ، به صورت $\vec{R}(t) = \ln(t^2 + 1) \vec{i} + (tg^{-1}t) \vec{j} + [\operatorname{sech}(3t)] \vec{k}$ می‌باشد. زاویه‌ی بین بردارهای سرعت و شتاب

این ذره در $t = 0$ کدام است؟

(۱) $\frac{\pi}{6}$ (۲) $\frac{\pi}{4}$ (۳) $\frac{\pi}{2}$ (۴) $\frac{\pi}{3}$

پاسخ: گزینه «۳» بردارهای سرعت و شتاب عبارتند از: $\vec{V} = \vec{R}'$ و $\vec{a} = \vec{R}''$. با مشتق‌گیری از $\vec{R}(t)$ داریم:

$$\vec{V}(t) = \vec{R}'(t) = \left(\frac{2t}{t^2 + 1}, \frac{1}{1 + t^2}, -3 \operatorname{sech} 3t \cdot \operatorname{tgh} 3t \right)$$

$$\vec{a}(t) = \vec{R}''(t) = \left(\frac{2 - 2t^2}{(t^2 + 1)^2}, \frac{-2t}{(1 + t^2)^2}, -3(-3 \operatorname{sech} 3t \cdot \operatorname{tgh}^2 3t + \operatorname{sech} 3t \cdot 3(1 - \operatorname{tgh}^2 3t)) \right)$$

$$\vec{V} = (0, 1, 0), \quad \vec{a} = (2, 0, -9)$$

با توجه به صورت سؤال، بردارهای سرعت و شتاب را در لحظه‌ی $t = 0$ به‌دست می‌آوریم:

$$\cos \theta = \frac{\vec{V} \cdot \vec{a}}{|\vec{V}| |\vec{a}|} = \frac{0 + 0 + 0}{\sqrt{1} \times \sqrt{10}} = 0$$

فرض کنید زاویه‌ی بین این بردارها θ باشد. داریم:

$$\cos \theta = 0, \quad \text{بنابراین } \theta = \frac{\pi}{2} \text{ است.}$$

کله مثال ۴: طول قوس منحنی $\vec{R}(t) = (e^t \cos t, e^t \sin t, e^t)$ از $t = 0$ تا $t = 1$ کدام است؟

(۱) $\frac{\sqrt{2}(e-1)}{2}$ (۲) $\sqrt{2}(e-1)$ (۳) $\sqrt{3}(e+1)$ (۴) $\sqrt{3}(e-1)$

پاسخ: گزینه «۴» ابتدا باید با مشتق‌گیری از $\vec{R}(t)$ بردار سرعت را تعیین کنیم. با کمی دقت متوجه می‌شویم که می‌توان تابع حقیقی e^t را از این بردار خارج کرد.

$$\vec{R}(t) = e^t (\cos t, \sin t, 1)$$

$$\vec{R}'(t) = e^t (\cos t, \sin t, 1) + e^t (-\sin t, \cos t, 0) = e^t [\cos t - \sin t, \cos t + \sin t, 1]$$

حالا از قواعد مشتق‌گیری استفاده می‌کنیم:

$$|\vec{R}'(t)| = \sqrt{e^{2t} [(\cos t - \sin t)^2 + (\cos t + \sin t)^2 + 1]} = e^t \sqrt{2 \cos^2 t + 2 \sin^2 t + 1} = \sqrt{3} e^t$$

اندازه‌ی این بردار را حساب می‌کنیم:

با انتگرال‌گیری از این عبارت می‌توانیم طول قوس را به‌دست آوریم. توجه کنید که حدود t در صورت سؤال داده شده‌اند.

$$s = \int_0^1 \sqrt{3} e^t dt = \sqrt{3} e^t \Big|_0^1 = \sqrt{3} e^t \Big|_0^1 = \sqrt{3}(e-1)$$

مثال ۵: طول منحنی C که از فصل مشترک کره $x^2 + y^2 + z^2 = 1$ و استوانه‌ی بیضوی $x^2 + 2z^2 = 1$ ، پدید می‌آید، کدام است؟

۴π (۴)

۳π (۳)

۲π (۲)

√۵ (۱)

پاسخ: گزینه «۲» با استفاده از معادلات داده شده، منحنی C را پارامتری می‌کنیم. ابتدا از معادله‌ی $x^2 + 2z^2 = 1$ که در صفحه‌ی xOz یک بیضی

به مرکز مبدأ با شعاع‌های ۱ و $\frac{1}{\sqrt{2}}$ است استفاده می‌کنیم. طبق متن درس داریم: $x = \cos t$ و $z = \frac{1}{\sqrt{2}} \sin t$ در ضمن برای یک دور کامل از بیضی باید $0 \leq t \leq 2\pi$ باشد. حالا با قرار دادن این نتایج در معادله‌ی کره، y را بر حسب t به دست می‌آوریم.

$$x^2 + y^2 + z^2 = 1 \Rightarrow y^2 = 1 - \cos^2 t - \frac{1}{2} \sin^2 t \Rightarrow y^2 = \sin^2 t - \frac{1}{2} \sin^2 t \Rightarrow y^2 = \frac{1}{2} \sin^2 t \Rightarrow y = \frac{1}{\sqrt{2}} \sin t$$

به این ترتیب منحنی C را به صورت $\vec{R}(t) = (\cos t, \frac{\sqrt{2}}{2} \sin t, \frac{\sqrt{2}}{2} \sin t)$ پارامتری می‌کنیم، اکنون داریم:

$$L = \int_0^{2\pi} \sqrt{x_t'^2 + y_t'^2 + z_t'^2} dt = \int_0^{2\pi} \sqrt{(-\sin t)^2 + (\frac{\sqrt{2}}{2} \cos t)^2 + (\frac{\sqrt{2}}{2} \cos t)^2} dt = \int_0^{2\pi} dt = 2\pi$$

مثال ۶: منحنی C با معادله‌ی پارامتری $\vec{R}(t) = (\frac{2}{3}t^3, \frac{\sqrt{3}}{3}t^3, \frac{\sqrt{2}}{3}t^3)$ در محدوده‌ی $0 \leq t \leq 2$ مشخص شده است. معادله‌ی این منحنی بر حسب

پارامتر طول قوس (s) کدام است؟

$$\vec{R}(s) = (\frac{2}{3}s, \frac{\sqrt{3}}{3}s, \frac{\sqrt{2}}{3}s) \quad (۲)$$

$$\vec{R}(s) = (\frac{2}{3}s^2, \sqrt{3}s^2, \frac{\sqrt{2}}{3}s^2) \quad (۱)$$

$$\vec{R}(s) = (\frac{2}{3}s, \frac{\sqrt{3}}{3}s, \frac{\sqrt{2}}{3}s) \quad (۴)$$

$$\vec{R}(s) = (\frac{2}{3}s^2, \frac{\sqrt{3}}{3}s^2, \frac{\sqrt{2}}{3}s^2) \quad (۳)$$

پاسخ: گزینه «۴» از آنجا که محدوده‌ی داده شده برای t از $t = 0$ آغاز شده است، فرمول طول قوس را برای بازه‌ی $[0, t]$ می‌نویسیم:

$$s = \int_0^t \sqrt{x'(u)^2 + y'(u)^2 + z'(u)^2} du = \int_0^t \sqrt{(2u)^2 + (\sqrt{3}u)^2 + (\sqrt{2}u)^2} du = \int_0^t 3u du = [u^2]_0^t = t^2$$

اکنون از رابطه‌ی $s = t^2$ می‌توانیم t را بر حسب s به دست آورده و در $\vec{R}(t)$ قرار دهیم. با قرار دادن $t = \sqrt{s}$ به معادله‌ی پارامتری $\vec{R}(s) = (\frac{2}{3}s, \frac{\sqrt{3}}{3}s, \frac{\sqrt{2}}{3}s)$ می‌رسیم. در ضمن چون $0 \leq t \leq 2$ است، بنابراین $0 \leq t^2 \leq 4$ یعنی $0 \leq s \leq 4$ است.

مثال ۷: اگر بخواهیم منحنی $\vec{R}(t) = (a \cos^2 t)\vec{i} + (a \sin^2 t)\vec{j} + (b \cos 2t)\vec{k}$ را برای $0 \leq t \leq \frac{\pi}{4}$ بر حسب طول قوس منحنی (s) مجدداً پارامتری

کنیم، معادله‌ی پارامتری بر حسب s کدام است؟

$$\vec{R}(t) = a(1 - \frac{2s}{\sqrt{9a^2 + 16b^2}})^2 \vec{i} + a(\frac{2s}{\sqrt{9a^2 + 16b^2}})^2 \vec{j} + b(1 - \frac{4s}{\sqrt{9a^2 + 16b^2}}) \vec{k} \quad (۱)$$

$$\vec{R}(t) = a(1 - \frac{2s}{\sqrt{9a^2 + 16b^2}})^2 \vec{i} + a(\frac{2s}{\sqrt{9a^2 + 16b^2}})^2 \vec{j} + b(1 + \frac{2s}{\sqrt{9a^2 + 16b^2}}) \vec{k} \quad (۲)$$

$$\vec{R}(t) = a(1 - \frac{s}{\sqrt{9a^2 + 16b^2}})^2 \vec{i} + a(\frac{s}{\sqrt{9a^2 + 16b^2}})^2 \vec{j} + b(1 - \frac{2s}{\sqrt{9a^2 + 16b^2}}) \vec{k} \quad (۳)$$

$$\vec{R}(t) = a(1 - \frac{s}{\sqrt{9a^2 + 16b^2}})^2 \vec{i} + a(\frac{s}{\sqrt{9a^2 + 16b^2}})^2 \vec{j} + b(1 + \frac{2s}{\sqrt{9a^2 + 16b^2}}) \vec{k} \quad (۴)$$

پاسخ: گزینه «۱» ابتدا طول قوس منحنی $\vec{R}(t)$ را به دست می‌آوریم. طول قوس منحنی $\vec{R}(t)$ را با s نمایش می‌دهیم و برابر است با:

$$s = \int_0^t \sqrt{(x'(t))^2 + (y'(t))^2 + (z'(t))^2} dt = \int_0^t \sqrt{(-2a \sin t \cos^2 t)^2 + (2a \cos t \sin^2 t)^2 + (-2b \sin 2t)^2} dt$$

$$= \int_0^t \sqrt{\sin^2 t \cos^2 t (9a^2 + 16b^2)} dt = \sqrt{9a^2 + 16b^2} \int_0^t \sin t \cos t dt = \sqrt{9a^2 + 16b^2} \cdot \frac{1}{2} \sin^2 t \Rightarrow \frac{2s}{\sqrt{9a^2 + 16b^2}} = \sin^2 t$$

حال با استفاده از روابط مثلثاتی داریم:

$$\sin^2 t = \left(\frac{rs}{\sqrt{9a^2 + 16b^2}} \right)^2, \quad \cos^2 t = (\cos^2 t)^2 = (1 - \sin^2 t)^2 = \left(1 - \frac{rs}{\sqrt{9a^2 + 16b^2}} \right)^2$$

$$\cos 2t = \cos^2 t - \sin^2 t = 1 - 2\sin^2 t = 1 - \frac{rs}{\sqrt{9a^2 + 16b^2}}$$

بنابراین معادله پارامتری $\vec{R}(t)$ بر حسب s به صورت مقابل است:

$$\vec{R}(s) = a \left(1 - \frac{rs}{\sqrt{9a^2 + 16b^2}} \right)^2 \vec{i} + a \left(\frac{rs}{\sqrt{9a^2 + 16b^2}} \right)^2 \vec{j} + b \left(1 - \frac{rs}{\sqrt{9a^2 + 16b^2}} \right) \vec{k}$$

مثال ۸: فرض کنیم $\Delta \vec{T} = \vec{T}_1 - \vec{T}_0$ میزان تغییر بردار مماس واحد (\vec{T}) بر خم $\vec{R}(t) = (\cos^2 t)\vec{i} + (\sin^2 t)\vec{j}$ از نقطه‌ی $t = 0$ تا $t = \frac{\pi}{4}$ باشد. طول

$\Delta \vec{T}$ کدام است؟

- (۱) ۳ (۲) $\sqrt{3}$ (۳) $\sqrt{2}$ (۴) ۲

پاسخ: گزینه «۳» ابتدا با مشتق‌گیری، بردار $\vec{R}'(t)$ را به دست می‌آوریم. سپس با تقسیم آن بر اندازه‌اش، بردار $\vec{T}(t)$ را تعیین می‌کنیم.

$$\vec{R}'(t) = (-2\sin t \cos^2 t, 2\sin^2 t \cos t)$$

$$|\vec{R}'(t)| = \sqrt{4\sin^2 t \cos^4 t + 4\sin^4 t \cos^2 t} = \sqrt{4\sin^2 t \cos^2 t (\cos^2 t + \sin^2 t)} = 2\sin t \cos t$$

$$\vec{T}(t) = \frac{\vec{R}'(t)}{|\vec{R}'(t)|} = \frac{(-2\sin t \cos^2 t, 2\sin^2 t \cos t)}{2\sin t \cos t} = (-\cos t, \sin t) \Rightarrow \begin{cases} t = 0 \Rightarrow \vec{T}_0 = (-1, 0) \\ t = \frac{\pi}{4} \Rightarrow \vec{T}_1 = (0, 1) \end{cases}$$

$$\Delta \vec{T} = \vec{T}_1 - \vec{T}_0 = (0, 1) - (-1, 0) = (1, 1) \Rightarrow |\Delta \vec{T}| = \sqrt{1+1} = \sqrt{2}$$

مثال ۹: معادله‌ی صفحه بوسان (مماس) بر خم فضایی $\vec{R}(t) = (\cosh t)\vec{i} + (\sinh t)\vec{j} + t\vec{k}$ در نقطه‌ی نظیر $t = 0$ کدام است؟

- (۱) $x + y = 2z + 1$ (۲) $y + z = 0$ (۳) $x + y + z = 1$ (۴) $y = z$

پاسخ: گزینه «۴» ابتدا با جایگذاری $t = 0$ در معادله خم، مختصات نقطه موردنظر را می‌یابیم.

$$t = 0 \Rightarrow \begin{cases} x = \cosh 0 = 1 \\ y = \sinh 0 = 0 \\ z = 0 \end{cases} \Rightarrow A(1, 0, 0)$$

صفحه موردنظر از نقطه $A(1, 0, 0)$ عبور می‌کند و بردار نرمال آن $\vec{R}' \times \vec{R}''$ است.

$$\vec{R}'(t) = (\sinh t, \cosh t, 1) \Rightarrow \vec{R}'(0) = (0, 1, 1), \quad \vec{R}''(t) = (\cosh t, \sinh t, 0) \Rightarrow \vec{R}''(0) = (1, 0, 0)$$

$$\vec{R}' \times \vec{R}'' = \begin{vmatrix} \vec{i} & \vec{j} & \vec{k} \\ 0 & 1 & 1 \\ 1 & 0 & 0 \end{vmatrix} = \vec{j} - \vec{k} \Rightarrow \vec{n} = (0, 1, -1)$$

$$\text{معادله صفحه بوسان: } 0(x-1) + (y-0) - (z-0) = 0 \Rightarrow y - z = 0$$

مثال ۱۰: می‌دانیم بردار سرعت متحرکی در مختصات قطبی به صورت $\vec{V} = U_r \frac{d\vec{r}}{dt} + U_\theta \vec{r} \frac{d\theta}{dt}$ است. مؤلفه شتاب آن در امتداد شعاع حامل قطبی

(هسته‌ای - سراسری ۷۹)

کدام است؟

- (۱) $\frac{d^2 \vec{r}}{dt^2}$ (۲) $\frac{d^2 \vec{r}}{dt^2} + \frac{d\vec{r}}{dt}$ (۳) $\frac{d^2 \vec{r}}{dt^2} + \vec{r} \left(\frac{d\theta}{dt} \right)^2$ (۴) $\frac{d^2 \vec{r}}{dt^2} - \vec{r} \left(\frac{d\theta}{dt} \right)^2$

پاسخ: گزینه «۴» می‌دانیم شتاب یک ذره در مختصات از فرمول مقابل به دست می‌آید:

$$\vec{a} = \left(\frac{d^2 \vec{r}}{dt^2} - \vec{r} \left(\frac{d\theta}{dt} \right)^2 \right) \vec{u}_r + \left(\vec{r} \frac{d^2 \theta}{dt^2} + 2 \frac{d\vec{r}}{dt} \cdot \frac{d\theta}{dt} \right) \vec{u}_\theta$$

بنابراین مؤلفه شتاب در امتداد شعاع برابر $\frac{d^2 \vec{r}}{dt^2} - \vec{r} \left(\frac{d\theta}{dt} \right)^2$ می‌باشد.



مثال ۱۱: اگر نیروی مؤثر بر متحرک با بردار موضع \vec{R} ، نیروی جاذبه‌ای باشد، آن‌گاه بردار $\vec{R} \times \frac{d\vec{R}}{dt}$ چگونه است؟ (هسته‌ای - سراسری ۷۹)

(۱) بردار ثابت (۲) با افزایش نیرو کاهش دارد. (۳) با افزایش نیرو افزایش دارد. (۴) فقط اندازه آن ثابت

پاسخ: گزینه «۱» چون تنها نیروی مؤثر بر جسم نیروی جاذبه می‌باشد، لذا بردار مکان در راستای نیرو خواهد بود و داریم:

$$\vec{F} = m\vec{a} = \lambda\vec{R} \Rightarrow \vec{a} = \frac{\lambda}{m}\vec{R}$$

$$\frac{d}{dt}(\vec{R} \times \frac{d\vec{R}}{dt}) = \frac{d\vec{R}}{dt} \times \frac{d\vec{R}}{dt} + \vec{R} \times \frac{d^2\vec{R}}{dt^2} = 0 + \vec{R} \times \vec{a} = \vec{R} \times \frac{\lambda}{m}\vec{R} = \frac{\lambda}{m}(\vec{R} \times \vec{R}) = 0$$

از طرفی توجه کنید که:

که از رابطه فوق نتیجه می‌شود $\vec{R} \times \frac{d\vec{R}}{dt} = C$. (برای اطلاعات بیشتر به کتاب حساب دیفرانسیل و انتگرال و هندسه تحلیلی توماس مراجعه کنید).

مثال ۱۲: مکان هندسی نقطه $P: \begin{cases} r = 2 \\ \theta = t \\ z = t \end{cases}$ وقتی $t \in \mathbb{R}$ کدام است؟ (ریاضی - سراسری ۸۱)

(۱) استوانه (۲) کره (۳) مارپیچ مخروطی (۴) مارپیچ استوانه‌ای

پاسخ: گزینه «۴» از معادله‌ی $r = 2$ داریم $\sqrt{x^2 + y^2} = 2$ پس $x^2 + y^2 = 4$ بنابراین x و y را می‌توان به صورت $x = 2 \cos \theta$ و $y = 2 \sin \theta$ نوشت که معادلات پارامتری یک دایره به شعاع ۲ و مرکز مبدأ هستند. حالا از صورت سؤال داریم $\theta = t$ پس $x = 2 \cos t$ و $y = 2 \sin t$. از طرفی طبق صورت سؤال $z = t$ است. پس معادلات پارامتری این منحنی به این صورت هستند:

$$\vec{R}(t) = (2 \cos t, 2 \sin t, t)$$

همان‌طور که در متن درس آمده است، این منحنی مارپیچ ارشمیدس است که شکلی مانند فنر دارد. در واقع یک مارپیچ است که روی سطح استوانه‌ای $x^2 + y^2 = 4$ قرار دارد. گزینه‌ی (۴) این منحنی را مارپیچ استوانه‌ای نامیده است که صحیح هم هست.

مثال ۱۳: طول منحنی زنجیری $\vec{r}(t) = t\vec{i} + \cosh t\vec{j} = (t, \cosh t)$ از نقطه $(0, 1)$ تا نقطه $(x, \cosh x)$ ، $x > 0$ ، کدام است؟ (عمران - سراسری ۸۱)

(۱) $\cosh x$ (۲) $1 - \sinh x$ (۳) $\sinh x$ (۴) $\sinh x - 1$

پاسخ: گزینه «۳» تابع برداری $\vec{r}(t) = X(t)\vec{i} + Y(t)\vec{j} + Z(t)\vec{k}$ که در آن X, Y, Z توابعی اسکالر هستند را در نظر بگیرید طول تابع برداری $\vec{r}(t)$ از $t = t_0$ تا $t = t_1$ از رابطه‌ی مقابل به دست می‌آید:

$$L = \int_{t_0}^{t_1} \sqrt{X'^2(t) + Y'^2(t) + Z'^2(t)} dt$$

حال با توجه به مطالب فوق به حل سؤال می‌پردازیم، داریم:

$$L = \int_0^x \sqrt{(x'(t))^2 + (y'(t))^2} dt = \int_0^x \sqrt{1 + \sinh^2 t} dt = \int_0^x \cosh t dt = \sinh t \Big|_0^x = \sinh x$$

مثال ۱۴: اگر $\vec{r}(t) = (t, \frac{4}{3}t^{\frac{3}{2}}, t^2)$ نمایش پارامتری یک منحنی C باشد، به ازای چه مقدار b مثبت، طول منحنی C از $t = 0$ تا $t = b$ برابر 30 واحد است؟ (عمران - سراسری ۸۲)

(۱) $b = 3$ (۲) $b = 4$ (۳) $b = 5$ (۴) $b = 6$

پاسخ: گزینه «۳»

$$\vec{r}(t) = (t, \frac{4}{3}t^{\frac{3}{2}}, t^2) \Rightarrow \vec{V}(t) = (1, 2t^{\frac{1}{2}}, 2t) \Rightarrow |\vec{V}(t)| = \sqrt{1 + 4t + 4t^2} = 1 + 2t$$

$$\Rightarrow \int_0^b |\vec{V}(t)| dt = 30 \Rightarrow \int_0^b (1 + 2t) dt = 30 \Rightarrow b^2 + b = 30 \Rightarrow b = 5$$

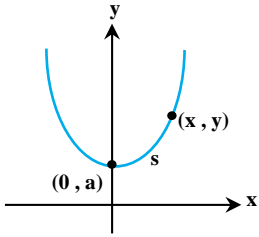
مثال ۱۵: اگر V سرعت متحرکی باشد که روی منحنی $[x(t) = 3t, y(t) = 4t, z(t) = 2]$ حرکت می‌کند، $|\vec{V}|$ کدام است؟ (صنایع - سیستم - سراسری ۸۲)

(۱) 5 (۲) $|3t| + |4t| + 2$ (۳) $\sqrt{7}$ (۴) $\sqrt{25t^2 + 4}$

پاسخ: گزینه «۱»

$$\vec{R}(t) = (3t, 4t, 2) \Rightarrow \vec{V}(t) = R'(t) = (3, 4, 0) \Rightarrow |\vec{V}(t)| = 5$$

کله مثال ۱۶: اگر قوس S منحنی زنجیری $y = a \cosh\left(\frac{x}{a}\right)$ از پایین‌ترین نقطه‌ی آن سنجیده شده باشد، مقدار $\frac{dy}{dx}$ برابر است با: (ریاضی - سراسری ۸۲)



(۱) $\frac{s}{a}$

(۲) $\frac{s}{2a}$

(۳) as

(۴) $2as$

پاسخ: گزینه «۱» منظور از پایین‌ترین نقطه، نقطه $(0, a)$ روی منحنی می‌باشد، که طول قوس از این نقطه تا نقطه دلخواه x, y برابر است با:

$$s = \int_0^x \sqrt{1 + y'^2} dx = \int_0^x \sqrt{1 + \sinh^2 \frac{x}{a}} dx = \int_0^x \cosh \frac{x}{a} dx = a \sinh \frac{x}{a}$$

$$y = a \cosh \frac{x}{a} \Rightarrow \frac{dy}{dx} = \sinh \frac{x}{a} \Rightarrow \frac{dy}{dx} = \frac{s}{a}$$

از طرفی داریم:

کله مثال ۱۷: جزء طول قوس ds برای منحنی با معادلات پارامتری $x = e^t \sin t, y = e^t \cos t$ برابر است با: (هسته‌ای - سراسری ۸۳)

(۴) $\sqrt{2}e^t dt$

(۳) $2e^{2t} (dt)^2$

(۲) $2e^t dt$

(۱) $e^t dt$

$$ds = \sqrt{\left(\frac{dx}{dt}\right)^2 + \left(\frac{dy}{dt}\right)^2} dt = \sqrt{(e^t \sin t + e^t \cos t)^2 + (e^t \cos t - e^t \sin t)^2} dt = \sqrt{2}e^t dt$$

پاسخ: گزینه «۴»

کله مثال ۱۸: اگر $\vec{F}(t) = \frac{2t}{1+t^2} \vec{i} + \frac{1-t^2}{1+t^2} \vec{j} + \vec{k}$ یک تابع برداری باشد، آن‌گاه زاویه بین $\vec{F}(t)$ و $\vec{F}'(t)$ برابر است با: (هسته‌ای - سراسری ۸۳)

(۴) $\frac{3\pi}{4}$

(۳) $\frac{\pi}{4}$

(۲) $\frac{\pi}{2}$

(۱) π

پاسخ: گزینه «۲» ابتدا توجه کنید که $\vec{F}(t) = \frac{2(1-t^2)}{(1+t^2)^2} \vec{i} + \frac{-4t}{(1+t^2)^2} \vec{j}$ است و چون $\vec{F}(t) \cdot \vec{F}'(t) = 0$ ، بنابراین \vec{F}' و \vec{F} بر هم عمودند.

کله مثال ۱۹: سرعت یک ذره متحرک در لحظه t در امتداد خطی مستقیم برابر است با $v(t) = 3t^2 - 2t + 4$ فاصله‌ی بین مواضع ذره در لحظات $t = 2$ و $t = 5$ را بیابید. (معدن - سراسری ۸۳)

(۴) ۱۳۲

(۳) ۱۲۰

(۲) ۱۰۸

(۱) ۶۰

پاسخ: گزینه «۲» با انتگرال‌گیری از اندازه‌ی سرعت می‌توانیم میزان جابجایی یعنی همان طول قوس را حساب کنیم:

$$s = \int_2^5 (3t^2 - 2t + 4) dt = (t^3 - t^2 + 4t) \Big|_2^5 = 108$$

کله مثال ۲۰: اگر $\vec{r}: [a, b] \rightarrow \mathbb{R}^2$ یک منحنی پارامتری با طول قوس L و $A = \{(t_1, t_2) | \vec{r}(t_1) = \vec{r}(t_2)\}$ در این صورت کدام حکم در مورد A صحیح است؟ (ریاضی - سراسری ۸۳)

(۲) ممکن است A نامتناهی باشد ولی $L < \infty$.

(۱) اگر A نامتناهی باشد آن‌گاه $L = \infty$.

(۴) همواره A نامتناهی است یا $L = \infty$.

(۳) اگر A متناهی باشد آن‌گاه $L < \infty$.

پاسخ: گزینه «۲» مجموعه A تعداد نقاط تلاقی خم با خودش را نشان می‌دهد. منحنی پارامتری $\vec{R}(t) = (\cos t, \sin t), 0 \leq t \leq 4\pi$ ، یک دایره را نشان می‌دهد که دو بار طی شده است و بنابراین بی‌نهایت بار خودش را قطع کرده است و این در حالی است که طول خم برابر 4π می‌باشد.

مثال ۲۱: طول قوس منحنی زنجیری به معادله $y = a \cosh\left(\frac{x}{a}\right)$ و $a > 0$ از نقطه $(0, a)$ تا نقطه (x_1, y_1) ، $x_1 > 0$ ، برابر است با: (عمران - سراسری ۸۵)

(۱) $\sinh\left(\frac{x_1}{a}\right)$ (۲) $a \sinh\left(\frac{x_1}{a}\right)$ (۳) $\frac{1}{a} \sinh\left(\frac{x_1}{a}\right)$ (۴) $a^2 \sinh\left(\frac{x_1}{a}\right)$

پاسخ: گزینه «۲»

$$ds = \sqrt{1 + y'^2} dx = \sqrt{1 + \sinh^2 \frac{x}{a}} dx = \sqrt{\cosh^2 \frac{x}{a}} dx = \cosh \frac{x}{a} dx \Rightarrow s = \int_0^{x_1} \cosh \frac{x}{a} dx = a \sinh \frac{x}{a} \Big|_0^{x_1} = a \sinh \frac{x_1}{a}$$

مثال ۲۲: بردار یکه قائم اصلی یعنی $\vec{N}(t)$ برای ماریج $\vec{R}(t) = (\cos t)\vec{i} + (\sin t)\vec{j} + t\vec{k}$ کدام است؟ (مکانیک - سراسری ۸۶)

(۱) $(-\cos t)\vec{i} + (\sin t)\vec{j}$ (۲) $(-\cos t)\vec{i} + (-\sin t)\vec{j}$ (۳) $(\cos t)\vec{i} + (-\sin t)\vec{j}$ (۴) $(\cos t)\vec{i} + (\sin t)\vec{j}$

پاسخ: گزینه «۲»

$$\vec{R}(t) = (\cos t)\vec{i} + (\sin t)\vec{j} + t\vec{k}$$

$$\vec{V}(t) = (-\sin t)\vec{i} + (\cos t)\vec{j} + \vec{k} \Rightarrow \vec{T} = \frac{\vec{V}}{|\vec{V}|} = \left(\frac{-1}{\sqrt{2}} \sin t, \frac{1}{\sqrt{2}} \cos t, \frac{1}{\sqrt{2}} \right)$$

$$\vec{N} = \frac{\vec{T}'}{|\vec{T}'|} = \frac{\left(\frac{-1}{\sqrt{2}} \cos t, \frac{-1}{\sqrt{2}} \sin t, 0 \right)}{\sqrt{\frac{1}{2} \cos^2 t + \frac{1}{2} \sin^2 t}} = (-\cos t, -\sin t, 0)$$

مثال ۲۳: صفحه قائم بر منحنی به معادلات $x = t^2 - t$ ، $y = t^2 + t$ ، $z = t^2$ در نقطه نظیر $t = 1$ محور x ها را با کدام طول قطع می‌کند؟ (صنایع غذایی - سراسری ۸۸)

(۱) ۴ (۲) ۵ (۳) ۶ (۴) ۹

پاسخ: گزینه «۴» بردار مماس بر خم $\vec{R}(t) = (t^2 - t, t^2 + t, t^2)$ به صورت $\vec{R}'(t) = (2t - 1, 2t + 1, 2t)$ می‌باشد که در نقطه $t = 1$

به صورت $\vec{N}(1, 3, 3)$ در می‌آید، این بردار همان بردار نرمال صفحه قائم بر خم می‌باشد، پس معادله صفحه مورد نظر به صورت زیر است:

$$1(x - 0) + 3(y - 2) + 3(z - 1) = 0 \Rightarrow x + 3y + 3z = 9$$

برای به دست آوردن نقطه تلاقی صفحه با محور x ها قرار می‌دهیم $y = z = 0$ که در این صورت $x = 9$ حاصل می‌شود.

مثال ۲۴: طول قوسی از منحنی $y = 4e^{\frac{1}{2}t}$ و $x = e^t - t$ از $t = 0$ تا $t = 2$ کدام است؟ (صنایع غذایی - سراسری ۸۸)

(۱) $e^2 - 3$ (۲) $2e^2 - 1$ (۳) $e^2 - 1$ (۴) $e^2 + 1$

پاسخ: گزینه «۴» طول قوس منحنی $\begin{cases} x = f(t) \\ y = g(t) \end{cases}$ از فرمول $s = \int_a^b \sqrt{f'^2 + g'^2} dt$ به دست می‌آید، بنابراین داریم:

$$s = \int_0^2 \sqrt{(e^t - 1)^2 + (2e^{\frac{1}{2}t})^2} dt = \int_0^2 \sqrt{(e^t + 1)^2} dt = \int_0^2 (e^t + 1) dt = (e^t + t) \Big|_0^2 = e^2 + 1$$

مثال ۲۵: طول قوس منحنی به معادله $x = e^t \cos t$ ، $y = e^t \sin t$ ، $0 \leq t \leq 2$ ، کدام است؟ (کشاورزی - سراسری ۸۸)

(۱) $\sqrt{2}e^2 - 1$ (۲) $\sqrt{2}e^2 - 2$ (۳) $\sqrt{2}(e^2 - 1)$ (۴) $\sqrt{2}(e^2 - 2)$

پاسخ: گزینه «۳» می‌دانیم طول قوس منحنی پارامتری از فرمول زیر به دست می‌آید:

$$s = \int_a^b \sqrt{x'^2 + y'^2} dt = \int_0^2 \sqrt{(e^t \cos t - e^t \sin t)^2 + (e^t \sin t + e^t \cos t)^2} dt = \int_0^2 \sqrt{2e^{2t}} dt = \sqrt{2}e^t \Big|_0^2 = \sqrt{2}(e^2 - 1)$$

مثال ۲۶: کدام یک از گزینه‌های زیر معادله خط مماس بر منحنی $x = t^3 + 1$ و $y = t^2 + 1$ و $z = 2t + 1$ در نقطه $A(2, 2, 3)$ می‌باشد؟

(صنایع - سیستم - سراسری ۸۹)

$$z = \frac{x-2}{3} \quad (1) \quad \frac{z-3}{3} = \frac{y-3}{2} \quad (2) \quad \frac{z-3}{2} = \frac{x-2}{3} \quad (3) \quad \frac{1}{3}z - 1 = \frac{1}{2}x - 1 \quad (4)$$

پاسخ: هیچ‌کدام از گزینه‌ها صحیح نمی‌باشد. بردار هادی خط مماس بر منحنی پارامتری داده شده از مشتق‌گیری آن حاصل می‌شود.

$$\vec{R}(t) = (t^3 + 1, t^2 + 1, 2t + 1) \Rightarrow \vec{R}'(t) = (3t^2, 2t, 2)$$

توجه کنید که نقطه $A(2, 2, 3)$ متناظر $t = 1$ در رابطه پارامتری می‌باشد، بنابراین داریم:

$$\vec{R}'(1) = (3, 2, 2) \Rightarrow \text{معادله خط مماس} = \frac{x-2}{3} = \frac{y-2}{2} = \frac{z-3}{2}$$

مثال ۲۷: مشتق سویی تابع $f(x, y, z) = \frac{1}{\sqrt{x^2 + y^2 + z^2}}$ در امتداد مماس بر منحنی با معادلات $x = \frac{1}{4}t^2$ و $y = -2t$ و $z = t^4$ در نقطه $(\frac{1}{4}, -2, 1)$ کدام است؟

(مواد - سراسری ۸۹)

$$-\frac{1040}{6561} \quad (1) \quad -\frac{45}{9^4} \quad (2) \quad -\frac{520}{729} \quad (3) \quad -\left(\frac{1}{4}\right)^4 \quad (4)$$

پاسخ: گزینه «۱» مشتق سویی تابع $f(x, y, z)$ در امتداد بردار \vec{u} در نقطه $P_0(x_0, y_0, z_0)$ به صورت حاصل ضرب داخلی بردار \vec{u} در بردار

گرادیان f در نقطه P_0 به دست می‌آید. بردار گرادیان f نیز به صورت $\vec{\nabla}f = \frac{\partial f}{\partial x}\vec{i} + \frac{\partial f}{\partial y}\vec{j} + \frac{\partial f}{\partial z}\vec{k}$ محاسبه می‌شود. برای یافتن امتداد مماس بر منحنی

$$\frac{dx}{dt} = \frac{1}{2}t, \quad \frac{dy}{dt} = -2, \quad \frac{dz}{dt} = 4t^3$$

داده شده می‌بایست مشتق آن را محاسبه کنیم:

$$y = -2 \Rightarrow -2t = -2 \Rightarrow t = 1$$

پس مقدار t را با توجه به نقطه داده شده، جایگذاری می‌کنیم:

$$\vec{u} = \frac{1}{\sqrt{\frac{1}{16} + 4 + 16}} \left(\frac{1}{2}, -2, 4\right) \quad \text{در نتیجه امتداد مماس بر منحنی به صورت } \left(\frac{1}{2}, -2, 4\right) = \left(\frac{1}{2}(1), -2, 4(1^3)\right) \text{ می‌باشد. این بردار را یک‌ه می‌کنیم:}$$

$$\vec{\nabla}f = \frac{-x}{(x^2 + y^2 + z^2)^{\frac{3}{2}}}\vec{i} - \frac{y}{(x^2 + y^2 + z^2)^{\frac{3}{2}}}\vec{j} - \frac{z}{(x^2 + y^2 + z^2)^{\frac{3}{2}}}\vec{k} \quad \text{بنابراین } \vec{u} = \frac{2}{9} \left(\frac{1}{2}, -2, 4\right) \text{ از طرفی داریم:}$$

$$\vec{\nabla}f \Big|_{\left(\frac{1}{4}, -2, 1\right)} = \frac{-\frac{1}{4}}{\left(\frac{17}{16}\right)^{\frac{3}{2}}}\vec{i} + \frac{2}{\left(\frac{17}{16}\right)^{\frac{3}{2}}}\vec{j} - \frac{1}{\left(\frac{17}{16}\right)^{\frac{3}{2}}}\vec{k}$$

لذا به ازای نقطه داده شده داریم:

$$\vec{\nabla}f \cdot \vec{u} \Big|_{\left(\frac{1}{4}, -2, 1\right)} = -\frac{1040}{6561} \quad \text{در نتیجه مشتق سویی } f \text{ در امتداد مماس بر منحنی داده شده برابر است با:}$$

(کشاورزی - سراسری ۹۰)

مثال ۲۸: طول قوسی از منحنی پارامتری $(x = t^2, y = \frac{1}{3}t^3 - t)$ از نقطه $t = 0$ تا $t = 3$ کدام است؟

$$12 \quad (4) \quad 10 \quad (3) \quad 9 \quad (2) \quad 8 \quad (1)$$

پاسخ: گزینه «۴» در صورتی که $\begin{cases} x = f(t) \\ y = g(t) \end{cases}$ باشد آن‌گاه طول قوس برابر است با:

با مشتق‌گیری از $f(t)$ و $g(t)$ و قرار دادن در رابطه‌ی طول قوس فوق نتیجه می‌شود که:

$$s = \int_0^3 \sqrt{4t^2 + (t^2 - 1)^2} dt = \int_0^3 \sqrt{t^4 + 4t^2 - 2t^2 + 1} dt = \int_0^3 \sqrt{t^4 + 2t^2 + 1} dt$$

$$\Rightarrow s = \int_0^3 \sqrt{(t^2 + 1)^2} dt = \int_0^3 (t^2 + 1) dt = \left[\frac{t^3}{3} + t\right]_0^3 = 9 + 3 = 12$$



درسنامه ۳: انحنا و تاب

مثال ۱: انحناى منحنى $\vec{R}(t) = \cos t \vec{i} + \sin t \vec{j} + t\vec{k}$ کدام است؟

$$\sqrt{2} \quad (۴)$$

$$\frac{1}{\sqrt{2}} \quad (۳)$$

$$\frac{1}{2} \quad (۲)$$

$$2 \quad (۱)$$

پاسخ: گزینه «۲»

$$\vec{R}'(t) = -\sin t \vec{i} + \cos t \vec{j} + \vec{k} \Rightarrow |\vec{R}'(t)| = \sqrt{\sin^2 t + \cos^2 t + 1} = \sqrt{2}$$

$$\vec{R}''(t) = -\cos t \vec{i} - \sin t \vec{j}$$

$$\vec{R}'(t) \times \vec{R}''(t) = \begin{vmatrix} \vec{i} & \vec{j} & \vec{k} \\ -\sin t & \cos t & 1 \\ -\cos t & -\sin t & 0 \end{vmatrix} = \sin t \vec{i} - \cos t \vec{j} + \vec{k} \Rightarrow |\vec{R}'(t) \times \vec{R}''(t)| = \sqrt{\sin^2 t + \cos^2 t + 1} = \sqrt{2}$$

$$\kappa = \frac{|\vec{R}'(t) \times \vec{R}''(t)|}{|\vec{R}'(t)|^3} = \frac{\sqrt{2}}{(\sqrt{2})^3} = \frac{\sqrt{2}}{2\sqrt{2}} = \frac{1}{2}$$

مثال ۲: انحناى منحنى $x = e^t$ و $y = e^{-t}$ ، $z = t\sqrt{2}$ در چه نقطه‌ای ماکزیمم است؟

$$(1, -1, 0) \quad (۴)$$

$$(-1, -1, 0) \quad (۳)$$

$$(-1, 1, 0) \quad (۲)$$

$$(1, 1, 0) \quad (۱)$$

پاسخ: گزینه «۱» معادله‌ی پارامتری منحنی را می‌نویسیم و بردارهای $\vec{R}'(t)$ و $\vec{R}''(t)$ را حساب می‌کنیم:

$$\vec{R}(t) = x\vec{i} + y\vec{j} + z\vec{k} = e^t \vec{i} + e^{-t} \vec{j} + t\sqrt{2}\vec{k} \Rightarrow \vec{R}'(t) = e^t \vec{i} - e^{-t} \vec{j} + \sqrt{2}\vec{k} \Rightarrow \vec{R}''(t) = e^t \vec{i} + e^{-t} \vec{j}$$

$$\vec{R}'(t) \times \vec{R}''(t) = \begin{vmatrix} \vec{i} & \vec{j} & \vec{k} \\ e^t & -e^{-t} & \sqrt{2} \\ e^t & e^{-t} & 0 \end{vmatrix} = (-\sqrt{2}e^{-t})\vec{i} + (\sqrt{2}e^t)\vec{j} + 2\vec{k}$$

$$\Rightarrow |\vec{R}'(t) \times \vec{R}''(t)| = \sqrt{2e^{-2t} + 2e^{2t} + 4} = \sqrt{2} \cdot \sqrt{e^{-2t} + e^{2t} + 2} = \sqrt{2} \cdot \sqrt{(e^{-t} + e^t)^2} = \sqrt{2}(e^{-t} + e^t)$$

$$|\vec{R}'(t)| = \sqrt{e^{2t} + e^{-2t} + 2} = \sqrt{(e^t + e^{-t})^2} = e^t + e^{-t} \Rightarrow \kappa = \frac{|\vec{R}'(t) \times \vec{R}''(t)|}{|\vec{R}'(t)|^3} = \frac{\sqrt{2}(e^{-t} + e^t)}{(e^t + e^{-t})^3} = \frac{\sqrt{2}}{e^{2t} + e^{-2t} + 2}$$

برای ماکزیمم شدن باید از تابع انحنا مشتق بگیریم و آن را مساوی صفر قرار می‌دهیم:

$$\frac{d\kappa}{dt} = \frac{-\sqrt{2}(2e^{2t} - 2e^{-2t})}{(e^{2t} + e^{-2t} + 2)^2} = 0 \Rightarrow e^{2t} - e^{-2t} = 0 \Rightarrow e^{2t} = e^{-2t} \Rightarrow e^{4t} = 1 \Rightarrow t = 0$$

اکنون در معادله‌ی منحنی $t = 0$ قرار می‌دهیم: $x = e^0 = 1$ ، $y = e^0 = 1$ ، $z = 0$ ، بنابراین مختصات نقطه مطلوب $(1, 1, 0)$ می‌باشد.

مثال ۳: عرض نقطه‌ای روی منحنی $y = e^x$ که در آن نقطه انحناى منحنی بیشترین مقدار خود را دارد، کدام است؟

$$\ln 2 \quad (۴)$$

$$\frac{\sqrt{2}}{2} \quad (۳)$$

$$\sqrt{2} \quad (۲)$$

$$-\frac{\ln 2}{2} \quad (۱)$$

پاسخ: گزینه «۳»

$$y' = e^x, \quad y'' = e^x \Rightarrow \kappa = \frac{y''}{|1 + (y')^2|^{3/2}} = \frac{e^x}{(1 + e^{2x})^{3/2}}$$

برای این که نقطه با انحناى max را به دست آوریم مشتق κ بر حسب x را برابر صفر قرار می‌دهیم:

$$\Rightarrow \frac{e^x(1 + e^{2x})^{-3/2} [3e^{2x} - (1 + e^{2x})]}{(1 + e^{2x})^3} = 0 \Rightarrow 3e^{2x} = 1 \Rightarrow e^{2x} = \frac{1}{3} \Rightarrow x = -\frac{\ln 3}{2} \Rightarrow y = \frac{\sqrt{2}}{2}$$

مثال ۴: انحناى یک دایره به معادله‌ی $x^2 + y^2 = R^2$ را در نقطه‌ی (x, y) واقع بر آن محاسبه کنید.

پاسخ: با استفاده از مشتق‌گیری ضمنی داریم $y' = -\frac{2x}{2y} = -\frac{x}{y}$ اکنون با مشتق‌گیری دوباره از طرفین خواهیم داشت:

$$y'' = -\frac{y - xy'}{y^2}$$

حالا با جایگذاری $y' = -\frac{x}{y}$ در فرمول y'' داریم:

$$y'' = -\frac{y + \frac{x^2}{y}}{y^2} = -\frac{y^2 + x^2}{y^3} = -\frac{R^2}{y^3}$$

در نتیجه انحناى منحنی برابر است با:

$$\kappa = \frac{|y''|}{[1+(y')^2]^{\frac{3}{2}}} = \frac{\frac{R^2}{y^3}}{[1+\frac{x^2}{y^2}]^{\frac{3}{2}}} = \frac{\frac{R^2}{y^3}}{[\frac{y^2+x^2}{y^2}]^{\frac{3}{2}}} = \frac{\frac{R^2}{y^3}}{\frac{R^3}{y^3}} = \frac{1}{R}$$

بهتر است نتیجه‌ی به‌دست آمده در این مثال را به یاد داشته باشید. انحناى هر دایره به شعاع R برابر با $\kappa = \frac{1}{R}$ است.

مثال ۵: خمیدگی منحنی با ضابطه $x(t) = 2\cos^2 t$ و $y(t) = 2\sin^2 t$ در نقطه $t = \frac{\pi}{4}$ کدام است؟

- (۱) $\frac{1}{3}$ (۲) $\frac{2}{3}$ (۳) $\frac{1}{2}$ (۴) $\frac{3}{2}$

پاسخ: گزینه «۱»

$$x'(t) = -6\cos^2 t \sin t \Rightarrow x'(\frac{\pi}{4}) = -6 \times (\frac{\sqrt{2}}{2})^2 \times \frac{\sqrt{2}}{2} = -\frac{3\sqrt{2}}{2}$$

$$x''(t) = 12\cos t \sin^2 t - 6\cos^3 t \Rightarrow x''(\frac{\pi}{4}) = 12 \times (\frac{\sqrt{2}}{2})^2 - 6 \times (\frac{\sqrt{2}}{2})^3 = \frac{3\sqrt{2}}{2}$$

$$y'(t) = 6\sin^2 t \cos t \Rightarrow y'(\frac{\pi}{4}) = 6 \times (\frac{\sqrt{2}}{2})^2 \times \frac{\sqrt{2}}{2} = \frac{3\sqrt{2}}{2}$$

$$y''(t) = 12\cos^2 t \sin t - 6\sin^3 t \Rightarrow y''(\frac{\pi}{4}) = 12 \times (\frac{\sqrt{2}}{2})^2 \times \frac{\sqrt{2}}{2} - 6 \times (\frac{\sqrt{2}}{2})^3 = \frac{3\sqrt{2}}{2}$$

$$\kappa(\frac{\pi}{4}) = \frac{|-\frac{3\sqrt{2}}{2} \times \frac{3\sqrt{2}}{2} - \frac{3\sqrt{2}}{2} \times \frac{3\sqrt{2}}{2}|}{27} = \frac{|-\frac{9}{2} - \frac{9}{2}|}{27} = \frac{|-9|}{27} = \frac{1}{3}$$

مثال ۶: اگر $r(t)$ خم منظمی در \mathbb{R}^3 با انحناى κ باشد و $v(t) = \|\frac{dr}{dt}\|$ ، کدام رابطه برقرار است؟

(۱) $\kappa^2 v^4 = \|\frac{d^2r}{dt^2}\|^2 - (\frac{dv}{dt})^2$ (۲) $\kappa^2 v^4 = \|\frac{d^2r}{dt^2}\|^2 + (\frac{dv}{dt})^2$ (۳) $\kappa v^2 = \|\frac{d^2r}{dt^2}\|^2 - \frac{dv}{dt}$ (۴) $\kappa v^2 = \|\frac{d^2r}{dt^2}\|^2 + \frac{dv}{dt}$

پاسخ: گزینه «۱» طبق صورت سؤال $|\vec{r}'(t)| = v(t)$ است. بنابراین $\vec{v}(t)$ همان $\frac{ds}{dt}$ است و داریم:

حالا به تساوی $|\vec{r}''(t)|^2 = a_T^2 + a_N^2$ توجه کنید: $|\vec{r}''(t)|^2 = (\frac{dv}{dt})^2 + \kappa^2 v^4(t)$ $\Rightarrow |\vec{r}''(t)|^2 = (\frac{dv}{dt})^2 + \kappa^2 v^4(t)$

تساوی به‌دست آمده همان گزینه‌ی یک است.

$$\kappa^2 v^4(t) = |\vec{r}''(t)|^2 - (\frac{dv}{dt})^2$$

مثال ۷: شعاع انحنا و معادله دایره بوسان منحنی $y = e^x$ را در نقطه $P(0,1)$ به‌دست آورید.

پاسخ: ابتدا مرکز دایره بوسان را پیدا می‌کنیم:

$$x_c = x - \frac{y'(1+y'^2)}{y''} = x - \frac{e^x(1+e^{2x})}{e^x} \xrightarrow{x=0} x_c = -2, \quad y_c = y + \frac{1+y'^2}{y''} = e^x + \frac{1+e^{2x}}{e^x} \xrightarrow{x=0} y_c = 3$$

پس معادله دایره بوسان به‌صورت $\rho^2 = (x+2)^2 + (y-3)^2$ خواهد بود، برای پیدا کردن شعاع دایره بوسان می‌توان از رابطه $\rho = \frac{1}{\kappa}$ استفاده کرد. اما یک راه ساده‌تر هم وجود دارد. می‌دانیم که این دایره از نقطه‌ی $(0,1)$ عبور می‌کند پس می‌توانیم این نقطه را در معادله‌ی دایره قرار دهیم:

$$(0+2)^2 + (1-3)^2 = \rho^2 \Rightarrow \rho = 2\sqrt{2} \Rightarrow (x+2)^2 + (y-3)^2 = 8$$



کج مثال ۸: شعاع انحنای منحنی $4x^2 + 2y^2 = 8$ در نقطه $(\sqrt{2}, 0)$ کدام است؟

$$\sqrt{2} \quad (۴)$$

$$2\sqrt{2} \quad (۳)$$

$$\frac{\sqrt{2}}{2} \quad (۲)$$

$$\frac{1}{2\sqrt{2}} \quad (۱)$$

پاسخ: گزینه «۳» برای محاسبه‌ی شعاع انحنای منحنی را حساب کنیم. طبق فرمول انحنای داریم: $\kappa = \frac{|x'y'' - x''y'|}{(x'^2 + y'^2)^{3/2}}$. محاسبه‌ی

مشتق دوم برای منحنی‌های ضمنی کمی وقت‌گیر است. بهتر است از معادله‌ی پارامتری بیضی استفاده کنیم. معادله‌ی $4x^2 + 2y^2 = 8$ را به صورت $\frac{x^2}{2} + \frac{y^2}{4} = 1$ می‌نویسیم. یک بیضی با شعاع‌های $a = \sqrt{2}$ و $b = 2$ داریم. معادله‌ی پارامتری آن چنین است: $(x = \sqrt{2} \cos t, y = 2 \sin t)$. در نقطه‌ی $(\sqrt{2}, 0)$ داریم $\sqrt{2} \cos t = \sqrt{2}$ پس $t = 0$ است.

$$\begin{cases} x' = -\sqrt{2} \sin t \Rightarrow x'' = -\sqrt{2} \cos t \\ y' = 2 \cos t \Rightarrow y'' = -2 \sin t \end{cases} \xrightarrow{t=0} \begin{cases} x' = 0, x'' = -\sqrt{2} \\ y' = 2, y'' = 0 \end{cases} \Rightarrow \kappa = \frac{|0 + 2\sqrt{2}|}{(0 + 4)^{3/2}} = \frac{2\sqrt{2}}{8}$$

$$\rho = \frac{1}{\kappa} \Rightarrow \rho = \frac{8}{2\sqrt{2}} = \frac{4}{\sqrt{2}} \times \frac{\sqrt{2}}{\sqrt{2}} = 2\sqrt{2}$$

شعاع انحنای معکوس انحنای است، در نتیجه داریم:

کج مثال ۹: متحرکی بر روی یک مسیر تحت معادله‌ی مقابل حرکت می‌کند:

$$x = 3 \int_0^t \sin(u^2) du, \quad y = 5 \int_0^t \cos(u^2) du, \quad z = 4 \int_0^t \sin(u^2) du$$

شعاع انحنای مسیر فوق در نقطه‌ی $t = 1$ کدام است؟ ($t \geq 0$)

$$\frac{50}{125} \quad (۴)$$

$$\frac{5}{2} \quad (۳)$$

$$\frac{4}{5} \quad (۲)$$

$$\frac{5}{125} \quad (۱)$$

پاسخ: گزینه «۳» فرض کنیم $\vec{R}(t) = (x(t), y(t), z(t))$. با مشتق‌گیری از انتگرال‌ها داریم:

$$\vec{R}'(t) = (x'(t), y'(t), z'(t)) = (3 \sin t^2, 5 \cos t^2, 4 \sin t^2), \quad \vec{R}''(t) = (x''(t), y''(t), z''(t)) = (6t \cos t^2, -10t \sin t^2, 8t \cos t^2)$$

به ازای $t = 1$ داریم: $\vec{R}' = (3 \sin(1), 5 \cos(1), 4 \sin(1))$ و $\vec{R}'' = (6 \cos(1), -10 \sin(1), 8 \cos(1))$ پس داریم:

$$\vec{R}' \times \vec{R}'' = \begin{vmatrix} \vec{i} & \vec{j} & \vec{k} \\ 3 \sin(1) & 5 \cos(1) & 4 \sin(1) \\ 6 \cos(1) & -10 \sin(1) & 8 \cos(1) \end{vmatrix}$$

$$= (40 \cos^2(1) + 40 \sin^2(1))\vec{i} - (24 \sin(1) \cos(1) - 24 \sin(1) \cos(1))\vec{j} + (-30 \sin^2(1) - 30 \cos^2(1))\vec{k} = 40\vec{i} - 30\vec{k}$$

بنابراین $|\vec{R}' \times \vec{R}''| = \sqrt{40^2 + 30^2} = \sqrt{2500} = 50$ و $|\vec{R}'| = \sqrt{9 \sin^2(1) + 25 \cos^2(1) + 16 \sin^2(1)} = \sqrt{25(\sin^2(1) + \cos^2(1))} = \sqrt{25} = 5$

$$\kappa = \frac{|\vec{R}' \times \vec{R}''|}{|\vec{R}'|^3} = \frac{\sqrt{30^2 + 40^2}}{5^3} = \frac{50}{125} = \frac{2}{5}$$

در $t = 1$ به دست می‌آوریم:

$$\rho = \frac{1}{\kappa} = \frac{5}{2}$$

شعاع انحنای برابر با وارون انحنای است:

کج مثال ۱۰: دایره‌ای بر منحنی $y = x^2 + 1$ در نقطه $(1, 2)$ مماس است و مقدار y'' برای هر دو منحنی در آن نقطه برابر است. شعاع دایره کدام است؟

$$\frac{5\sqrt{5}}{2} \quad (۴)$$

$$\frac{3\sqrt{3}}{2} \quad (۳)$$

$$\frac{2\sqrt{5}}{5} \quad (۲)$$

$$\frac{2\sqrt{3}}{3} \quad (۱)$$

پاسخ: گزینه «۴» در این مثال دایره‌ی موردنظر بر منحنی $y = x^2 + 1$ مماس است. پس در نقطه‌ی تماس مقدار y' برای دایره و این منحنی

یکسان است. مقدار y'' هم طبق صورت سؤال برای هر دوی آنها یکی شده است. در نتیجه انحنای آنها و شعاع انحنای آنها با هم برابر می‌شود. با توجه به تذکر فوق دایره‌ی موردنظر همان دایره‌ی بوسان است پس شعاع دایره در واقع همان شعاع انحنای خم است:

$$y = x^2 + 1 \Rightarrow y' = 2x, \quad y'' = 2, \quad \rho = \frac{1}{\kappa} = \frac{(1 + (y')^2)^{3/2}}{|y''|} = \frac{(1 + 4)^{3/2}}{2} = \frac{5\sqrt{5}}{2}$$

👁 مثال ۱۱: تاب خم $\vec{R}(t) = (\cos t, \sin t, t)$ کدام است؟

(۴) $\cos 2t$

(۳) $\sqrt{2}$

(۲) $\frac{1}{2}$

(۱) $\sin 2t$

✅ پاسخ: گزینه «۲»

$\vec{R}'(t) = (-\sin t, \cos t, 1)$, $\vec{R}''(t) = (-\cos t, -\sin t, 0)$, $\vec{R}'''(t) = (\sin t, -\cos t, 0)$

$$\Rightarrow \vec{R}' \times \vec{R}'' = \begin{vmatrix} \vec{i} & \vec{j} & \vec{k} \\ -\sin t & \cos t & 1 \\ -\cos t & -\sin t & 0 \end{vmatrix} = (\sin t, -\cos t, 1) \Rightarrow |\vec{R}' \times \vec{R}''| = \sqrt{2} , (\vec{R}' \times \vec{R}''). \vec{R}''' = 1 \Rightarrow \tau = \frac{(\vec{R}' \times \vec{R}''). \vec{R}'''}{|\vec{R}' \times \vec{R}''|^2} = \frac{1}{2}$$

👁 مثال ۱۲: تاب خم $\vec{R}(t) = (2 + \cos t, 3 + \sin t, \cos t + \sin t)$ در نقطه $t = 1$ کدام است؟

(۴) $\cos 1$

(۳) $\sin 1$

(۲) ۱

(۱) صفر

$x + y - z = 2 + \cos t + 3 + \sin t - \cos t - \sin t = 5$

✅ پاسخ: گزینه «۱» اگر t را بین پارامترهای x ، y و z حذف کنیم، داریم:

به عبارت دیگر خم بر یک صفحه واقع است و تاب برابر صفر است.

👁 مثال ۱۳: به ازای چه مقادیری از t ، منحنی پارامتری $x = t^2$ ، $y = 1 - 3t$ و $z = 4t - 2$ در یک صفحه قرار دارد؟

(۴) به ازای تمام مقادیر t

(۳) ۲

(۲) ۱

(۱) ۰

✅ پاسخ: گزینه «۴» همان‌طور که در متن درس آمده است، برای آن که یک منحنی در صفحه قرار داشته باشد، باید تاب آن برابر با صفر شود. از

طرفی فرمول محاسبه‌ی تاب به صورت $\tau = \frac{\vec{R}'(t).(\vec{R}''(t) \times \vec{R}'''(t))}{|\vec{R}'(t) \times \vec{R}''(t)|^2}$ است. برای آن که $\tau = 0$ باشد، باید صورت کسر صفر شود:

$$\vec{R}'(t).(\vec{R}''(t) \times \vec{R}'''(t)) = 0 \Rightarrow \begin{vmatrix} x'_t & y'_t & z'_t \\ x''_t & y''_t & z''_t \\ x'''_t & y'''_t & z'''_t \end{vmatrix} = 0 \Rightarrow \begin{vmatrix} 2t & -3 & 4 \\ 2 & 0 & 0 \\ 0 & 0 & 0 \end{vmatrix} = 0 \Rightarrow 0 = 0$$

این تساوی به ازای هر مقدار از t برقرار است. در واقع اگر x و y و z برحسب t حداکثر از درجه‌ی ۲ باشند آن‌گاه $x'''_t = 0$ و $y'''_t = 0$ و $z'''_t = 0$ است و تاب در این حالت، صفر می‌شود.

👁 مثال ۱۴: اگر C خم فصل مشترک رویه‌های $z + y\sqrt{3} = 1$ و $x^2 + 4y^2 = 4$ باشد، آن‌گاه انحنا و تاب خم C به ترتیب از راست به چپ کدام است؟

(۴) $\frac{1}{2}$ و ۰

(۳) ۰ و ۱

(۲) $\frac{1}{2}$ و ۲

(۱) $\frac{1}{2}$ و ۴

✅ پاسخ: گزینه «۴» منحنی C فصل مشترک رویه‌های $z + y\sqrt{3} = 1$ و $x^2 + 4y^2 = 4$ است. با استفاده از این دو معادله، منحنی C را به شکل

پارامتری می‌نویسیم. قرار می‌دهیم $y = t$ در این صورت داریم:

$z = 1 - y\sqrt{3} = 1 - t\sqrt{3}$, $x^2 = 4 - 4y^2 \Rightarrow x = \sqrt{4 - 4t^2}$

برای محاسبه‌ی تاب و انحنا به بردارهای $\vec{R}'(t)$ ، $\vec{R}''(t)$ و $\vec{R}'''(t)$ نیاز داریم:

$\vec{R}(t) = \sqrt{4 - 4t^2} \vec{i} + t \vec{j} + (1 - t\sqrt{3}) \vec{k} \Rightarrow \vec{R}'(t) = \frac{-2t}{\sqrt{1 - t^2}} \vec{i} + \vec{j} - \sqrt{3} \vec{k}$

$\Rightarrow \vec{R}''(t) = \frac{-2\sqrt{1 - t^2} - (-2t) \times \frac{-2t}{2\sqrt{1 - t^2}}}{1 - t^2} \vec{i} = \frac{-2}{(1 - t^2)^{3/2}} \vec{i} \Rightarrow \vec{R}'''(t) = -2 \times (-2t) \times \frac{-3}{2} (1 - t^2)^{-5/2} \vec{i} = -6t(1 - t^2)^{-5/2} \vec{i}$

حاصل ضرب خارجی $\vec{R}'(t) \times \vec{R}''(t)$ را حساب می‌کنیم:

$$\vec{R}' \times \vec{R}'' = \begin{vmatrix} \vec{i} & \vec{j} & \vec{k} \\ \frac{-2t}{\sqrt{1-t^2}} & 1 & -\sqrt{3} \\ \frac{-2}{(1-t^2)^{3/2}} & 0 & 0 \end{vmatrix} = -\vec{j} \left(\frac{-2\sqrt{3}}{(1-t^2)^{3/2}} \right) + \vec{k} \left(\frac{2}{(1-t^2)^{3/2}} \right)$$

$$|\vec{R}' \times \vec{R}''| = \sqrt{\frac{4 \times 3}{(1-t^2)^3} + \frac{4}{(1-t^2)^3}} = \sqrt{\frac{16}{(1-t^2)^3}} \Rightarrow \kappa(t) = \frac{|\vec{R}' \times \vec{R}''|}{|\vec{R}'|^3} = \frac{\sqrt{\frac{16}{(1-t^2)^3}}}{\left(\sqrt{\frac{4t^2}{1-t^2} + 1 + 3}\right)^3} = \frac{4}{8} = \frac{1}{2}$$

$$\vec{R}'' \times \vec{R}''' = \vec{0} \Rightarrow \tau = 0$$

برای محاسبه‌ی تاب، با توجه به آن که بردارهای $\vec{R}''(t)$ و $\vec{R}'''(t)$ فقط دارای مؤلفه‌ی \vec{i} هستند، داریم:

مثال ۱۵: اگر خم هموار C برحسب پارامتر طول قوس به صورت $\vec{R}(s)$ پارامتری شده باشد مقدار $\vec{R}'' \cdot (\vec{R}' \times \vec{R}''')$ کدام است؟

- (۱) κ (۲) $\kappa^2 \tau$ (۳) τ^2 (۴) ۰

پاسخ: گزینه «۲»

روش اول: ابتدا یادآوری می‌کنیم که وقتی معادله پارامتری را برحسب طول قوس می‌نویسیم، همواره تندی حرکت برابر با یک است یعنی

$$|\vec{R}'(s)| = |\vec{V}(s)| = 1 \quad \vec{T}(s) = \frac{\vec{R}'(s)}{|\vec{R}'(s)|} \quad \text{نتیجه می‌شود که } \vec{T}(s) = \vec{R}'(s) \quad \text{پس } \vec{T}'(s) = \vec{R}''(s) \quad \text{است. طبق فرمول فرنه}$$

$$\vec{R}' \times \vec{R}'' = \vec{T} \times \kappa \vec{N} = \kappa (\vec{T} \times \vec{N}) = \kappa \vec{B} \quad \vec{R}'''(s) = \kappa \vec{N} \quad \text{است پس داریم: } \vec{T}'(s) = \kappa \vec{N}$$

تا اینجا $\vec{R}' \times \vec{R}''$ را حساب کردیم فقط باید بتوانیم $\vec{R}'''(s)$ را نیز محاسبه کنیم.

$$\vec{R}''(s) = \kappa(s) \vec{N}(s) \Rightarrow \vec{R}'''(s) = \kappa'(s) \vec{N}(s) + \kappa(s) \vec{N}'(s) \quad \text{طبق فرمول فرنه } \vec{N}'(s) = -\kappa \vec{T} + \tau \vec{B} \quad \text{است. پس داریم:}$$

$$\vec{R}''' = \kappa' \vec{N} - \kappa \tau \vec{T} + \kappa \tau \vec{B}$$

$$(\vec{R}' \times \vec{R}'') \cdot \vec{R}''' = \kappa \vec{B} \cdot (\kappa' \vec{N} - \kappa \tau \vec{T} + \kappa \tau \vec{B}) = \kappa \kappa' \vec{B} \cdot \vec{N} - \kappa^2 \tau \vec{B} \cdot \vec{T} + \kappa^2 \tau \vec{B} \cdot \vec{B} = 0 - 0 + \kappa^2 \tau |\vec{B}|^2 = \kappa^2 \tau$$

روش دوم: از فرمول محاسبه‌ی تاب استفاده می‌کنیم. طبق این فرمول، پارامتر داده شده هر چه باشد خواهیم داشت: $\tau = \frac{(\vec{R}' \times \vec{R}'') \cdot \vec{R}'''}{|\vec{R}' \times \vec{R}''|^2}$ بنابراین به

$$(\vec{R}' \times \vec{R}'') \cdot \vec{R}''' = \tau |\vec{R}' \times \vec{R}''|^2 \quad (1)$$

حالا باید بتوانیم مقدار $|\vec{R}' \times \vec{R}''|^2$ را برحسب انحناء و تاب محاسبه کنیم. طبق فرمول انحناء داریم $\kappa = \frac{|\vec{R}' \times \vec{R}''|}{|\vec{R}'|^3}$ پس $|\vec{R}' \times \vec{R}''| = \kappa |\vec{R}'|^3$ است.

اما می‌دانیم که وقتی پارامتر استفاده شده، طول قوس باشد، تندی حرکت برابر با یک است یعنی $|\vec{R}'| = |\vec{V}| = 1$ و در نتیجه داریم:

$$(\vec{R}' \times \vec{R}'') \cdot \vec{R}''' = \tau \kappa^2$$

با استفاده از نتیجه‌ی اخیر و قرار دادن آن در رابطه‌ی (۱) داریم:

مثال ۱۶: انحناء منحنی $\vec{R}(t) = e^t \cos t \vec{i} + e^t \sin t \vec{j} + e^t \vec{k}$ در $t = 0$ کدام است؟

(مکانیک - سراسری ۷۸)

$$\frac{\sqrt{3}}{3} \quad (4)$$

$$\frac{\sqrt{3}}{2} \quad (3)$$

$$\frac{\sqrt{2}}{3} \quad (2)$$

$$\frac{\sqrt{2}}{2} \quad (1)$$

$$\vec{V}(t) = (e^t \cos t - e^t \sin t, e^t \sin t + e^t \cos t, e^t) \Rightarrow \vec{V}(0) = (1, 1, 1)$$

پاسخ: گزینه «۲»

$$\vec{a}(t) = (-2e^t \sin t, 2e^t \cos t, e^t) \Rightarrow \vec{a}(0) = (0, 2, 1)$$

$$\vec{V}(0) \times \vec{a}(0) = \begin{vmatrix} \vec{i} & \vec{j} & \vec{k} \\ 1 & 1 & 1 \\ 0 & 2 & 1 \end{vmatrix} = (-1, -1, 2)$$

$$\kappa = \frac{|\vec{V} \times \vec{a}|}{|\vec{V}|^3} = \frac{\sqrt{1+1+4}}{(\sqrt{1+1+1})^3} = \frac{\sqrt{6}}{3\sqrt{3}} = \frac{\sqrt{2}}{3}$$

(عمران - سراسری ۷۹)

کج مثال ۱۷: انحناى منحنى $\vec{r}(t) = (\frac{t^2}{3}, \frac{t^2}{3}, 0)$ ، برابر با کدام رابطه است؟ $t > 0$

$$\kappa = \frac{1}{t(t^2+1)^{3/2}} \quad (۴)$$

$$\kappa = \frac{t}{(t^2+1)^{3/2}} \quad (۳)$$

$$\kappa = \frac{1}{(t^2+1)^{3/2}} \quad (۲)$$

$$\kappa = \frac{1}{\sqrt{t^2+1}} \quad (۱)$$

پاسخ: گزینه «۴»

$$\vec{r}(t) = (\frac{t^2}{3}, \frac{t^2}{3}, 0) \Rightarrow \vec{V}(t) = (t^2, t^2, 0) \Rightarrow \vec{a}(t) = (2t, 2t, 0)$$

$$\vec{V} \times \vec{a} = \begin{vmatrix} \vec{i} & \vec{j} & \vec{k} \\ t^2 & t^2 & 0 \\ 2t & 2t & 0 \end{vmatrix} = (0, 0, -t^2) \Rightarrow \kappa = \frac{|\vec{V} \times \vec{a}|}{|\vec{V}|^3} = \frac{t^2}{(t^4+t^4)^{3/2}} = \frac{1}{t(1+t^2)^{3/2}}$$

(صنایع - سیستم - سراسری ۷۹)

کج مثال ۱۸: انحناى منحنى $\vec{R}(t) = (\sin t, \cos t, \frac{1}{2}t^2)$ در نقطه $t = 0$ کدام است؟

$$2 \quad (۴)$$

$$\sqrt{2} \quad (۳)$$

$$\frac{\sqrt{2}}{2} \quad (۲)$$

$$\frac{1}{2} \quad (۱)$$

پاسخ: گزینه «۳»

$$\vec{R}(t) = (\sin t, \cos t, \frac{1}{2}t^2) \Rightarrow \vec{V} = \frac{d\vec{R}}{dt} = (\cos t, -\sin t, t) \Rightarrow \vec{V}(0) = (1, 0, 0)$$

$$\vec{a} = \frac{d\vec{V}}{dt} = (-\sin t, -\cos t, 1) \Rightarrow \vec{a}(0) = (0, -1, 1)$$

$$\kappa = \frac{|\vec{V} \times \vec{a}|}{|\vec{V}|^3} = \frac{\sqrt{2}}{1} = \sqrt{2}$$

چون دو بردار $\vec{V}(0)$ و $\vec{a}(0)$ بر هم عمودند، پس $|\vec{V} \times \vec{a}| = |\vec{V}| |\vec{a}| = \sqrt{2}$ در نتیجه داریم:

(مکانیک - سراسری ۸۰)

کج مثال ۱۹: شعاع انحناى منحنى $x^2 + xy + y^2 = 3$ در نقطه $(1, 1)$ کدام است؟

$$\frac{5\sqrt{10}}{3} \quad (۴)$$

$$3\sqrt{2} \quad (۳)$$

$$4\sqrt{3} \quad (۲)$$

$$6 \quad (۱)$$

پاسخ: گزینه «۳» ابتدا توجه کنید که:

$$x^2 + xy + y^2 = 3 \Rightarrow 2x + y + xy' + 2yy' = 0 \xrightarrow[y=1]{x=1} y' = -1$$

$$2 + y' + y' + xy'' + 2y'y'' + 2yy'' = 0 \xrightarrow[y'=-1]{x=y=1} y'' = \frac{-2}{3}$$

$$\kappa = \frac{\frac{2}{3}}{(1+1)^2} = \frac{1}{3\sqrt{2}} \Rightarrow \rho = \frac{1}{\kappa} = 3\sqrt{2}$$

از طرفی $\kappa = \frac{|y''|}{(1+y'^2)^{3/2}}$ بنابراین داریم:

(ژئوفیزیک و هواشناسی - سراسری ۸۰)

کج مثال ۲۰: انحناى سهمى به معادله $y = x^2$ در رأس سهمى کدام است؟

$$2 \quad (۴)$$

$$\frac{3}{2} \quad (۳)$$

$$1 \quad (۲)$$

$$\frac{1}{2} \quad (۱)$$

پاسخ: گزینه «۴» رأس سهمى $y = x^2$ نقطه $(0, 0)$ می‌باشد.

$$y = x^2 \Rightarrow y' = 2x, y'' = 2$$

$$\kappa = \frac{|y''|}{(1+y'^2)^{3/2}} = \frac{2}{(1+4x^2)^{3/2}} \Big|_{(0,0)} = 2$$



(معدن - سراسری ۸۱)

کله مثال ۲۱: انحناى منحنى $y = \ln x$ در نقطه $(1, 0)$ کدام مقدار است؟

(۱) $\sqrt{2}$ (۲) $\frac{\sqrt{2}}{4}$ (۳) $2\sqrt{2}$ (۴) $\frac{\sqrt{2}}{2}$

پاسخ: گزینه «۲» ابتدا توجه کنید که:

$$y = \ln x \Rightarrow y' = \frac{1}{x}, y'' = \frac{-1}{x^2} \Rightarrow y' \Big|_{(1,0)} = 1, y'' \Big|_{(1,0)} = -1$$

$$\kappa = \frac{|y''|}{(1+y'^2)^{\frac{3}{2}}} = \frac{1}{(1+1)^{\frac{3}{2}}} = \frac{1}{2\sqrt{2}} = \frac{\sqrt{2}}{4}$$

از طرفی داریم:

کله مثال ۲۲: حرکت متحرکی در صفحه xoy با رابطه $R = \vec{i}t \cos t + \vec{j}t \sin t$ داده شده است. مؤلفه قائم شتاب کدام است؟ (مکانیک - سراسری ۸۳)

(۱) $\frac{1}{\sqrt{t^2+1}}$ (۲) $\frac{t^2}{\sqrt{t^2+1}}$ (۳) $\frac{2t}{\sqrt{t^2+1}}$ (۴) $\frac{t^2+2}{\sqrt{t^2+1}}$

پاسخ: گزینه «۴»

$$\vec{R} = (t \cos t, t \sin t) \Rightarrow \vec{V} = (\cos t - t \sin t, \sin t + t \cos t) \Rightarrow |\vec{V}| = \sqrt{t^2+1}$$

$$\vec{a} = (-2 \sin t - t \cos t, 2 \cos t - t \sin t) \Rightarrow \vec{V} \times \vec{a} = (0, 0, t^2+2)$$

$$\Rightarrow \kappa = \frac{|\vec{V} \times \vec{a}|}{|\vec{V}|^3} = \frac{t^2+2}{(t^2+1)^{\frac{3}{2}}} \Rightarrow a_N = \kappa |\vec{V}|^2 = \frac{t^2+2}{\sqrt{t^2+1}}$$

کله مثال ۲۳: انحناى منحنى C به معادلات پارامتری $x = g(t), y = f(t)$ که در لحظه t در معادلات $x' = 2$ و $y' = 2t$ صدق کند، در لحظه $t = 0$ کدام

(صنایع - سیستم - سراسری ۸۴)

است؟

(۱) $k = 0$ (۲) $k = 1$ (۳) $k = 2$ (۴) $k = \frac{1}{2}$

$$\kappa = \frac{|x'y'' - x''y'|}{(x'^2 + y'^2)^{\frac{3}{2}}} = \frac{|2 \times 2 - 0 \times 2t|}{(2^2 + (2t)^2)^{\frac{3}{2}}} = \frac{4}{(4 + 4t^2)^{\frac{3}{2}}} \Big|_{t=0} = \frac{1}{2}$$

پاسخ: گزینه «۴»

کله مثال ۲۴: خمیدگی (یا انحنا) $\kappa(t)$ خم با معادله برداری $\vec{r}(t) = (t + \cos t)\vec{i} + (t - \cos t)\vec{j} + (\sqrt{2} \sin t)\vec{k}$ در یک نقطه کلی خم برابر است با:

(معدن - سراسری ۸۴)

(۱) $\frac{1}{2}$ (۲) $\frac{1}{2\sqrt{2}}$ (۳) $\frac{1}{\sqrt{2}}$ (۴) $|\sin 2t|$

پاسخ: گزینه «۲»

$$\vec{r}(t) = (t + \cos t, t - \cos t, \sqrt{2} \sin t) \Rightarrow \vec{V}(t) = (1 - \sin t, 1 + \sin t, \sqrt{2} \cos t)$$

$$\Rightarrow \vec{a}(t) = (-\cos t, \cos t, -\sqrt{2} \sin t), |\vec{V}| = \sqrt{(1 - \sin t)^2 + (1 + \sin t)^2 + 2 \cos^2 t} = 2$$

$$\vec{V}(t) \times \vec{a}(t) = \begin{vmatrix} \vec{i} & \vec{j} & \vec{k} \\ 1 - \sin t & 1 + \sin t & \sqrt{2} \cos t \\ -\cos t & \cos t & -\sqrt{2} \sin t \end{vmatrix} = (-\sqrt{2} \sin t - \sqrt{2})\vec{i} + (\sqrt{2} \sin t - \sqrt{2})\vec{j} + 2 \cos t \vec{k}$$

$$\Rightarrow |\vec{V} \times \vec{a}| = \sqrt{2(\sin t + 1)^2 + 2(\sin t - 1)^2 + 4 \cos^2 t} = 2\sqrt{2}$$

$$\kappa = \frac{|\vec{V} \times \vec{a}|}{|\vec{V}|^3} = \frac{2\sqrt{2}}{8} = \frac{\sqrt{2}}{4}$$

انحنا منحنی پارامتری از فرمول $\kappa = \frac{|\vec{V} \times \vec{a}|}{|\vec{V}|^3}$ به دست می‌آید، بنابراین

(مکانیک - سراسری ۸۵)

مثال ۲۵: انحناى منحنى $\vec{P}(u)$ در نقطه کلی برابر است با:

$$\begin{cases} x = \cos u \\ y = \sin u \\ z = u \end{cases}$$

- (۱) $\frac{1}{\sqrt{2}}$ (۲) $\frac{1}{2}$ (۳) ۱ (۴) ۲

پاسخ: گزینه «۲»

$$\vec{V}(u) = (-\sin u, \cos u, 1), \vec{a}(u) = (-\cos u, -\sin u, 0)$$

$$\vec{V} \times \vec{a} = \begin{vmatrix} \vec{i} & \vec{j} & \vec{k} \\ -\sin u & \cos u & 1 \\ -\cos u & -\sin u & 0 \end{vmatrix} = (\sin u, -\cos u, 1) \Rightarrow |\vec{V} \times \vec{a}| = \sqrt{2}, |\vec{V}| = \sqrt{2}$$

$$\kappa = \frac{|\vec{V} \times \vec{a}|}{|\vec{V}|^3} = \frac{\sqrt{2}}{(\sqrt{2})^3} = \frac{1}{2}$$

بنابراین داریم:

(صنایع - سیستم - سراسری ۸۵)

مثال ۲۶: انحناى مسیر $\vec{r}(t) = 3\cos t \vec{i} + 3\sin t \vec{j} + 4t \vec{k}$ کدام است؟

- (۱) ۱ (۲) $\frac{3}{25}$ (۳) $\frac{3}{4}$ (۴) ۵

پاسخ: گزینه «۲»

$$\vec{r}(t) = (3\cos t, 3\sin t, 4t) \Rightarrow \vec{V}(t) = (-3\sin t, 3\cos t, 4) \Rightarrow \vec{a}(t) = (-3\cos t, -3\sin t, 0)$$

$$\vec{V} \times \vec{a} = \begin{vmatrix} \vec{i} & \vec{j} & \vec{k} \\ -3\sin t & 3\cos t & 4 \\ -3\cos t & -3\sin t & 0 \end{vmatrix} = (12\sin t, -12\cos t, 9) \Rightarrow |\vec{V} \times \vec{a}| = 15, |\vec{V}| = 5$$

$$\kappa = \frac{|\vec{V} \times \vec{a}|}{|\vec{V}|^3} = \frac{15}{5^3} = \frac{3}{25}$$

مثال ۲۷: اگر یک متحرک بر روی مسیری با خمیدگی $\kappa(t) \neq 0$ در فضا با سرعت $\vec{V}(t)$ و شتاب $\vec{a}(t)$ حرکت کند، آن‌گاه $\vec{V} \times \vec{a} = \alpha \vec{B}$ ، که در آن \vec{B} قائم دوم بر خم است. در این صورت ثابت α برابر است با:

(هستای - سراسری ۸۵)

- (۱) $\kappa(t) \|\vec{V}(t)\|$ (۲) $\kappa(t) \|\vec{V}(t)\|^2$ (۳) $\kappa(t) \|\vec{V}(t)\|^3$ (۴) $\kappa(t)$

پاسخ: گزینه «۳» همان‌طور که در متن درس گفتیم، در برخی از منابع، اندازه‌ی بردار \vec{V} را با علامت $\|\vec{V}\|$ نشان می‌دهند.

$$\vec{B} = \frac{\vec{V} \times \vec{a}}{\|\vec{V} \times \vec{a}\|} \Rightarrow \vec{V} \times \vec{a} = \vec{B} \|\vec{V} \times \vec{a}\|$$

$$\kappa(t) = \frac{\|\vec{V} \times \vec{a}\|}{\|\vec{V}\|^3} \Rightarrow \|\vec{V} \times \vec{a}\| = \kappa(t) \|\vec{V}\|^3$$

بنابراین $\|\vec{V} \times \vec{a}\| = \alpha \|\vec{V}\|^3$. از طرفی داریم:

مثال ۲۸: مقدار انحناء در هر نقطه مارپیچ $\vec{r}(t) = (a\cos \omega t)\vec{i} + (a\sin \omega t)\vec{j} + (b\omega t)\vec{k}$ که در آن a و ω اعدادی ثابت و مثبت هستند، برابر است با:

(معدن - سراسری ۸۵)

- (۱) $\kappa = \frac{a^2 + b^2}{b}$ (۲) $\kappa = \frac{a^2 + b^2}{a}$ (۳) $\kappa = \frac{a}{a^2 + b^2}$ (۴) $\kappa = \frac{b}{a^2 + b^2}$

پاسخ: گزینه «۳»

$$\vec{V}(t) = (-a\omega \sin \omega t, a\omega \cos \omega t, b\omega), \vec{a}(t) = (-a\omega^2 \cos \omega t, -a\omega^2 \sin \omega t, 0)$$

روش اول:

$$\vec{V}(t) \times \vec{a}(t) = \begin{vmatrix} \vec{i} & \vec{j} & \vec{k} \\ -a\omega \sin \omega t & a\omega \cos \omega t & b\omega \\ -a\omega^2 \cos \omega t & -a\omega^2 \sin \omega t & 0 \end{vmatrix} = (ab\omega^3 \sin \omega t, -ab\omega^3 \cos \omega t, a^2\omega^3)$$

$$\Rightarrow |\vec{V} \times \vec{a}| = a\omega^3 \sqrt{a^2 + b^2}, |\vec{V}| = \omega \sqrt{a^2 + b^2}$$

$$\kappa = \frac{|\vec{V} \times \vec{a}|}{|\vec{V}|^3} = \frac{a\omega^3 \sqrt{a^2 + b^2}}{(\omega \sqrt{a^2 + b^2})^3} = \frac{a}{a^2 + b^2}$$



$$\vec{r}(t) = (a \cos \omega t, a \sin \omega t, 0)$$

روش دوم: با فرض $b = 0$ ، خم به صورت روبرو در می‌آید:

یعنی در این حالت خم یک دایره به شعاع a می‌باشد که انحنای آن $\frac{1}{a}$ خواهد بود و در بین گزینه‌ها، تنها گزینه (۳) به ازای $b = 0$ برابر $\frac{1}{a}$ می‌باشد. پس فقط گزینه (۳) می‌تواند صحیح باشد.

(صنایع - سیستم - سراسری ۸۶)

کج مثال ۲۹: انحنای منحنی $y = \frac{1}{6}x^3$ در نقطه $x = 1$ کدام است؟

(۴) $\frac{5\sqrt{5}}{8}$

(۳) $\frac{8}{5\sqrt{5}}$

(۲) ۸

(۱) $\frac{5}{8}$

$$\kappa = \frac{|y''|}{(1+y'^2)^{\frac{3}{2}}}$$

پاسخ: گزینه «۳» انحنای منحنی $y = f(x)$ از فرمول مقابل به دست می‌آید:

$$y = \frac{1}{6}x^3 \Rightarrow y' = \frac{1}{2}x^2 \Rightarrow y'' = x \Rightarrow \kappa = \frac{|x|}{(1+\frac{1}{4}x^4)^{\frac{3}{2}}} \xrightarrow{x=1} \frac{1}{(\frac{5}{4})^{\frac{3}{2}}} = \frac{8}{5\sqrt{5}}$$

(ریاضی - سراسری ۸۷)

کج مثال ۳۰: برای تابع برداری با ضابطه $\vec{F}(t) = (\cos t, \sin t, t)$ مقدار $\frac{(\vec{F}' \times \vec{F}'') \cdot \vec{F}'''}{|\vec{F}' \times \vec{F}''|^2}$ کدام است؟

(۴) ۱

(۳) $\frac{3}{5}$

(۲) $\frac{1}{2}$

(۱) صفر

پاسخ: گزینه «۲» مقدار مورد نظر همان تاب منحنی \vec{F} می‌باشد.

$$\vec{F}'(t) = (-\sin t, \cos t, 1), \vec{F}''(t) = (-\cos t, -\sin t, 0), \vec{F}'''(t) = (\sin t, -\cos t, 0)$$

$$\vec{F}' \times \vec{F}'' = \begin{vmatrix} \vec{i} & \vec{j} & \vec{k} \\ -\sin t & \cos t & 1 \\ -\cos t & -\sin t & 0 \end{vmatrix} = (\sin t, -\cos t, 1)$$

$$\Rightarrow |\vec{F}' \times \vec{F}''| = \sqrt{\sin^2 t + \cos^2 t + 1} = \sqrt{2}, (\vec{F}' \times \vec{F}'') \cdot \vec{F}''' = \sin^2 t + \cos^2 t = 1 \Rightarrow \frac{(\vec{F}' \times \vec{F}'') \cdot \vec{F}'''}{|\vec{F}' \times \vec{F}''|^2} = \frac{1}{(\sqrt{2})^2} = \frac{1}{2}$$

(ریاضی - سراسری ۸۷)

کج مثال ۳۱: اندازه انحنای ماریچ $x = t, y = \frac{1}{4}t^2$ و $z = \frac{1}{4}t^3$ در نقطه $A(1, \frac{1}{4}, \frac{1}{4})$ کدام است؟

(۴) $\sqrt{2}$

(۳) $\frac{1}{3}$

(۲) $\frac{\sqrt{2}}{3}$

(۱) $\frac{\sqrt{2}}{9}$

پاسخ: گزینه «۲» ابتدا توجه کنید که:

$$\vec{R}(t) = (t, \frac{t^2}{4}, \frac{t^3}{4}) \Rightarrow \vec{V}(t) = (1, t, t^2) \Rightarrow \vec{a}(t) = (0, 1, 2t)$$

$$\vec{V} = (1, 1, 1), \vec{a} = (0, 1, 2) \Rightarrow \vec{V} \times \vec{a} = (1, -2, 1) \Rightarrow \kappa = \frac{|\vec{V} \times \vec{a}|}{|\vec{V}|^3} = \frac{\sqrt{6}}{3\sqrt{3}} = \frac{\sqrt{2}}{3}$$

بنابراین در $t = 1$ خواهیم داشت:

(معدن - سراسری ۸۷)

کج مثال ۳۲: انحنای (یا خمیدگی) خم $\vec{r}(t) = (t + \cos t)\vec{i} + (t - \cos t)\vec{j} + \sqrt{2} \sin t \vec{k}$ کدام است؟

(۴) $\frac{1}{4\sqrt{2}}$

(۳) $\frac{1}{2\sqrt{2}}$

(۲) $\frac{1}{2}$

(۱) $\frac{1}{\sqrt{2}}$

پاسخ: گزینه «۳»

$$\vec{V}(t) = (1 - \sin t)\vec{i} + (1 + \sin t)\vec{j} + \sqrt{2} \cos t \vec{k}$$

$$\vec{a}(t) = -\cos t \vec{i} + \cos t \vec{j} - \sqrt{2} \sin t \vec{k}$$

$$\vec{V} \times \vec{a} = \begin{vmatrix} \vec{i} & \vec{j} & \vec{k} \\ 1 - \sin t & 1 + \sin t & \sqrt{2} \cos t \\ -\cos t & \cos t & -\sqrt{2} \sin t \end{vmatrix} = (-\sqrt{2} \sin t - \sqrt{2})\vec{i} + (-\sqrt{2} + \sqrt{2} \sin t)\vec{j} + 2 \cos t \vec{k}$$

$$|\vec{V} \times \vec{a}| = \sqrt{2(\sin t + 1)^2 + 2(\sin t - 1)^2 + 4 \cos^2 t} = \sqrt{8}$$

$$|\vec{V}| = \sqrt{(1 - \sin t)^2 + (1 + \sin t)^2 + 2 \cos^2 t} = 2 \Rightarrow \kappa = \frac{|\vec{V} \times \vec{a}|}{|\vec{V}|^3} = \frac{\sqrt{8}}{2^3} = \frac{1}{2\sqrt{2}}$$

(مواد - سراسری ۸۸)

کج مثال ۳۳: اگر $xy = 1$ معادله منحنی C باشد، شعاع انحناء C در نقطه $(1,1)$ کدام است؟

۱ (۱) $\frac{1}{2}$ (۲) $\frac{\sqrt{2}}{2}$ (۳) $\sqrt{2}$ (۴)

پاسخ: گزینه «۴» عکس انحناء یعنی $\frac{1}{\kappa}$ را شعاع انحناء می‌گویند. حال توجه کنید که:

$$y = \frac{1}{x} \Rightarrow y' = -\frac{1}{x^2}, y'' = \frac{2}{x^3} \Rightarrow y'(1) = -1, y''(1) = 2$$

$$\kappa = \frac{|y''|}{(1+y'^2)^{\frac{3}{2}}} = \frac{2}{(1+1)^{\frac{3}{2}}} = \frac{1}{\sqrt{2}} \Rightarrow r = \frac{1}{\kappa} = \sqrt{2}$$

(معدن - سراسری ۸۸)

کج مثال ۳۴: خمیدگی منحنی $x = \ln(\sec y)$ کدام است؟

۱ (۱) $|\sin y|$ (۲) $|\cos y|$ (۳) $|\sec y|$ (۴) $|\operatorname{tg} y|$

پاسخ: گزینه «۲» می‌دانیم که اگر منحنی به صورت $x = f(y)$ باشد، خمیدگی (انحناء) از فرمول $\kappa = \frac{|f''(y)|}{(1+f'^2)^{\frac{3}{2}}}$ به دست می‌آید.

$$x = \ln(\sec y) \Rightarrow x' = \operatorname{tg} y \Rightarrow x'' = 1 + \operatorname{tg}^2 y \Rightarrow \kappa = \frac{1 + \operatorname{tg}^2 y}{(1 + \operatorname{tg}^2 y)^{\frac{3}{2}}} = \frac{1}{\sqrt{1 + \operatorname{tg}^2 y}} = \frac{1}{\sqrt{\cos^2 y}} = |\cos y|$$

(کشاورزی - سراسری ۸۸)

کج مثال ۳۵: مقدار انحناء منحنی به معادله $y = \sqrt{x}$ در نقطه $x = 2$ کدام است؟

۱ (۱) $\frac{2}{27}$ (۲) $\frac{2}{16}$ (۳) $\frac{2}{9}$ (۴) $\frac{2}{8}$

پاسخ: گزینه «۱» انحناء منحنی $y = f(x)$ از فرمول $\kappa = \frac{|y''|}{(1+y'^2)^{\frac{3}{2}}}$ به دست می‌آید.

$$y = \sqrt{x} \Rightarrow y' = \frac{1}{2\sqrt{x}} \Rightarrow y'(2) = \frac{1}{2\sqrt{2}}, y'' = \frac{-1}{4x\sqrt{x}} \Rightarrow y''(2) = \frac{-1}{8\sqrt{2}}$$

$$\kappa = \frac{\frac{1}{8\sqrt{2}}}{(1 + \frac{1}{8})^{\frac{3}{2}}} = \frac{\frac{1}{8\sqrt{2}}}{\frac{27}{16\sqrt{2}}} = \frac{2}{27}$$

(عمران - نقشه‌برداری - سراسری ۸۹)

کج مثال ۳۶: انحنای خم $\vec{R}(t) = (t + \cos t, t - \cos t, \sqrt{2} \sin t)$ در یک نقطه به پارامتر t کدام است؟

۱ (۱) $\kappa = \frac{\sqrt{2}}{4}$ (۲) $\kappa = \frac{\sqrt{2}}{4} t$ (۳) $\kappa = \frac{\sqrt{2}}{8}$ (۴) $\kappa = \frac{\sqrt{2}}{8}$

پاسخ: گزینه «۱» انحنای منحنی از رابطه $\kappa = \frac{|\vec{V} \times \vec{a}|}{|\vec{V}|^3}$ به دست می‌آید، بنابراین داریم:

$$\vec{V}(t) = \vec{R}'(t) = (1 - \sin t, 1 + \sin t, \sqrt{2} \cos t)$$

$$\vec{a}(t) = \vec{R}''(t) = (-\cos t, \cos t, -\sqrt{2} \sin t)$$

$$\vec{V} \times \vec{a} = \begin{vmatrix} \vec{i} & \vec{j} & \vec{k} \\ 1 - \sin t & 1 + \sin t & \sqrt{2} \cos t \\ -\cos t & \cos t & -\sqrt{2} \sin t \end{vmatrix} = (-\sqrt{2} \sin t - \sqrt{2})\vec{i} + (\sqrt{2} \sin t - \sqrt{2})\vec{j} + (2 \cos t)\vec{k}$$

$$\Rightarrow |\vec{V} \times \vec{a}| = \sqrt{(\sqrt{2} \sin t + \sqrt{2})^2 + (\sqrt{2} \sin t - \sqrt{2})^2 + (2 \cos t)^2} = 2\sqrt{2}$$

$$|\vec{V}| = \sqrt{(1 - \sin t)^2 + (1 + \sin t)^2 + (\sqrt{2} \cos t)^2} = 2$$

$$\Rightarrow \kappa = \frac{|\vec{V} \times \vec{a}|}{|\vec{V}|^3} = \frac{2\sqrt{2}}{8} = \frac{\sqrt{2}}{4}$$



مثال ۳۷: فرض کنید $\vec{R}(t) = (e^t \sin t)\vec{i} + (e^t \cos t)\vec{j} + t\vec{k}, t \in \mathbb{R}$ در اینصورت خمیدگی منحنی فوق در نقطه $t = 0$ کدام است؟ (مواد - سراسری ۸۹)

- (۱) $\frac{2}{3\sqrt{3}}$ (۲) $(\frac{2}{3})^{\frac{2}{3}}$ (۳) $\frac{2\sqrt{2}}{3}$ (۴) $(\frac{2}{3})^{\frac{2}{3}}$

پاسخ: گزینه «۴» خمیدگی منحنی $\vec{R}(t)$ در نقطه $t = 0$ برابر است با $\kappa = \frac{|\vec{V}(0) \times \vec{a}(0)|}{|\vec{V}(0)|^3}$ که در آن $\vec{a}(0) = \frac{d\vec{v}(t)}{dt} \Big|_{t=0}$ و $\vec{V}(0) = \frac{d\vec{R}(t)}{dt} \Big|_{t=0}$

می‌باشد. با توجه به منحنی داده شده به دست می‌آوریم:

$$\vec{V}(t) = (e^t \sin t + e^t \cos t)\vec{i} + (e^t \cos t - e^t \sin t)\vec{j} + \vec{k} \Rightarrow \vec{v}(0) = \vec{i} + \vec{j} + \vec{k}$$

$$\vec{a}(t) = (e^t(\sin t + \cos t) + e^t(\cos t - \sin t))\vec{i} + (e^t(\cos t - \sin t) + e^t(-\sin t - \cos t))\vec{j} \Rightarrow \vec{a}(0) = 2\vec{i}$$

$$\Rightarrow \vec{V}(0) \times \vec{a}(0) = \begin{vmatrix} \vec{i} & \vec{j} & \vec{k} \\ 1 & 1 & 1 \\ 2 & 0 & 0 \end{vmatrix} = 2\vec{j} - 2\vec{k} \Rightarrow |\vec{V}(0) \times \vec{a}(0)| = 2\sqrt{2}$$

$$|\vec{V}(0)| = \sqrt{3} \Rightarrow |\vec{V}(0)|^3 = 3\sqrt{3} \Rightarrow t = 0 \text{ در خمیدگی منحنی در } \kappa = \frac{2\sqrt{2}}{3\sqrt{3}} = (\frac{2}{3})^{\frac{2}{3}}$$

مثال ۳۸: بیشترین مقدار انحناء منحنی به معادله $y = \ln(\sec x)$ کدام است؟ (کشاورزی - سراسری ۸۹)

- (۱) $\sqrt{2}$ (۲) $\frac{1}{2}$ (۳) ۱ (۴) ۲

پاسخ: گزینه «۳» انحناء منحنی $y = f(x)$ ، از رابطه $\kappa = \frac{|y''|}{(1+(y')^2)^{\frac{3}{2}}}$ به دست می‌آید. با توجه به اینکه $\kappa = \cos x$ است پس بیشترین مقدار انحناء منحنی برابر ۱ خواهد بود.

مثال ۳۹: مقدار انحناء منحنی تابع $f(x) = xe^{-x}$ در مبداء مختصات کدام است؟ (MBA - سراسری ۹۰)

- (۱) ۱ (۲) $\frac{1}{2}$ (۳) $\frac{\sqrt{2}}{2}$ (۴) $\sqrt{2}$

پاسخ: گزینه «۳» برای تابع $y = f(x)$ ، انحناء از رابطه مقابل محاسبه می‌شود:

$$\begin{cases} y' = e^{-x} - xe^{-x} \xrightarrow{x=0} y'(0) = e^0 = 1 \\ y'' = -e^{-x} - e^{-x} + xe^{-x} = -2e^{-x} + xe^{-x} \xrightarrow{x=0} y''(0) = -2e^0 = -2 \end{cases}$$

انحناء تابع $f(x) = xe^{-x}$ را محاسبه می‌کنیم. بنابراین داریم:

$$\kappa(x) \Big|_{x=0} = \frac{|y''(0)|}{(1+(y'(0))^2)^{\frac{3}{2}}} = \frac{2}{(1+1)^{\frac{3}{2}}} = \frac{2}{2\sqrt{2}} = \frac{\sqrt{2}}{2}$$

مقادیر فوق را در رابطه انحناء جایگذاری می‌کنیم.

مثال ۴۰: خمیدگی (انحناء) خم با معادله $\vec{R}(t) = (3 \cos 3t)\vec{i} + (3 \sin 3t)\vec{j} + 2t\vec{k}$ چقدر است؟ (معماری کشتی - سراسری ۹۰)

- (۱) $\frac{9}{85}$ (۲) $\frac{27}{85}$ (۳) $\frac{9}{4}$ (۴) $\frac{9}{2}$

پاسخ: گزینه «۲» خمیدگی منحنی $\vec{R}(t)$ از رابطه مقابل محاسبه می‌شود.

$$\vec{R}'(t) = (-9 \sin 3t, 9 \cos 3t, 2), \quad \vec{R}''(t) = (-27 \cos 3t, -27 \sin 3t, 0)$$

$$\vec{R}'(t) \times \vec{R}''(t) = \begin{vmatrix} \vec{i} & \vec{j} & \vec{k} \\ -9 \sin 3t & 9 \cos 3t & 2 \\ -27 \cos 3t & -27 \sin 3t & 0 \end{vmatrix} = (\Delta 4 \sin 3t, -\Delta 4 \cos 3t, 243)$$

$$|\vec{R}'(t) \times \vec{R}''(t)| = \sqrt{(\Delta 4 \sin 3t)^2 + (-\Delta 4 \cos 3t)^2 + (243)^2} = \sqrt{61965}$$

اندازه بردار فوق را محاسبه می‌کنیم، بنابراین داریم:

$$|\vec{R}'(t)| = \sqrt{(-9 \sin 3t)^2 + (9 \cos 3t)^2 + 4} = \sqrt{85}$$

اندازه بردار $\vec{R}'(t)$ برابر است با:

$$\kappa = \frac{\sqrt{61965}}{85\sqrt{85}} = \frac{(\sqrt{729})(\sqrt{85})}{85(\sqrt{85})} = \frac{27}{85}$$

حال مقادیر فوق را در رابطه خمیدگی منحنی جایگذاری می‌کنیم:



مدرسان شریف

فصل سوم

«توابع چند متغیره»

درسنامه: دامنه، برد، حد و پیوستگی توابع چند متغیره

کله مثال ۱: اگر تابع $f: \mathbb{R}^2 \rightarrow \mathbb{R}^2$ ، با ضابطه $f(x,y,z) = (xy, yz)$ و تابع $g: \mathbb{R}^2 \rightarrow \mathbb{R}^2$ با ضابطه $g(x,y) = (e^{x+y}, e^{x-y}, e^y)$ تعریف شده باشد، در این صورت $f \circ g$ را به دست آورید.

- (۱) (e^{2x}, e^x) (۲) (e^x, e^y, e^{x+y}) (۳) (e^{x-y}, e^{x+y}) (۴) (e^x, e^{x+y})

پاسخ: گزینه «۱» مشابه توابع یک متغیره منظور از $f \circ g$ این است که $f(g(x,y))$ را به دست آوریم، یعنی داریم:

$$f \circ g = f(g(x,y)) = f(e^{x+y}, e^{x-y}, e^y) = (e^{x+y} \cdot e^{x-y}, e^{x-y} \cdot e^y) = (e^{2x}, e^x)$$

کله مثال ۲: دامنه تعریف تابع $f(x,y) = \sqrt{xy} + \sin^{-1} x$ کدام است؟

- (۱) $D = \{(x,y) \mid x \text{ و } y \text{ هم علامت‌اند و } -1 \leq x \leq 1\}$ (۲) $D = \{(x,y) \mid x \in \mathbb{R}^+ \text{ و } x \text{ و } y \text{ هم علامت‌اند}\}$

- (۳) $D = \{(x,y) \mid -\frac{\pi}{2} \leq x \leq \frac{\pi}{2} \text{ و } x \text{ و } y \text{ هم علامت‌اند}\}$ (۴) $D = \{(x,y) \mid -1 < x < 1 \text{ و } x \text{ و } y \text{ هم علامت‌اند}\}$

پاسخ: گزینه «۱» عبارت زیر رادیکال، یعنی xy باید نامنفی باشد، بنابراین x و y باید هم علامت باشند. عبارت مقابل \sin^{-1} همواره باید بین -1 و 1 باشد یعنی $-1 \leq x \leq 1$.

کله مثال ۳: برد تابع دو متغیره $z = \sqrt{9-x^2-y^2}$ کدام است؟

- (۱) \mathbb{R} (۲) \mathbb{R}^+ (۳) $[0, 3]$ (۴) $\mathbb{R} - \{0\}$

پاسخ: گزینه «۳» از آنجائیکه $-x^2 - y^2$ همواره کوچکتر یا مساوی صفر می‌باشد، پس مقدار زیر رادیکال کوچکتر یا مساوی ۹ خواهد بود. لذا مقدار z از عدد ۳ نمی‌تواند بیشتر باشد، و همچنین واضح است که z منفی نیست؛ چون رادیکال با فرجه‌ی زوج نمی‌تواند منفی باشد.

کله مثال ۴: برد تابع دو متغیره $z = \sqrt{12-4x^2-y^2+12x+4y}$ کدام بازه است؟

- (۱) $[0, 5]$ (۲) $[0, 4]$ (۳) $[1, 5]$ (۴) $[1, 2\sqrt{3}]$

پاسخ: گزینه «۱» عبارت زیر رادیکال را مربع کامل می‌کنیم.

$$12 - 4x^2 - y^2 + 12x + 4y = 12 - 4(x - \frac{3}{2})^2 - (y - 2)^2 + 13 = 25 - 4(x - \frac{3}{2})^2 - (y - 2)^2 \leq 25$$

از طرفی عبارت زیر رادیکال باید نامنفی باشد و لذا این عبارت در بازه $[0, 25]$ و بنابراین z در بازه $[0, 5]$ قرار می‌گیرد.



کج مثال ۵: با چه شرطی حد $\lim_{(x,y) \rightarrow (0,0)} \frac{x^m y^n}{(x^2 + y^2)^p}$ وجود دارد؟ (p, m و n اعدادی طبیعی هستند).

$$(1) m+n \geq 2p \quad (2) m+n > 2p \quad (3) m+n > 2p+1 \quad (4) m+n \geq 2p+1$$

پاسخ: گزینه «۲»

روش اول: حد موردنظر به صورت مبهم $\frac{0}{0}$ است و برای وجود حد لازم است که درجه صورت از درجه مخرج بزرگتر باشد. درجه صورت برابر $m+n$ و درجه مخرج برابر $2p$ می باشد؛ بنابراین باید $m+n > 2p$ باشد.

روش دوم: با توجه به وجود $x^2 + y^2$ در مخرج، از مختصات قطبی استفاده می کنیم. با جایگذاری $x = r \cos \theta$ و $y = r \sin \theta$ داریم:

$$\lim_{r \rightarrow 0} \frac{r^{m+n} \cos^m \theta \sin^n \theta}{r^{2p}} = \lim_{r \rightarrow 0} r^{m+n-2p} \cos^m \theta \sin^n \theta$$

با این شرط که $m+n > 2p$ باشد، مقدار حد صفر می شود و به θ بستگی نخواهد داشت.

کج مثال ۶: مقدار حد $\lim_{(x,y) \rightarrow (0,0)} \frac{x^2 + y^2}{y + x^2}$ چقدر است؟

$$(1) 0 \quad (2) 1 \quad (3) 2 \quad (4) \text{ حد وجود ندارد.}$$

پاسخ: گزینه «۴» در این مثال تنها ریشه‌ی مخرج، مبدأ نیست، بلکه روی مسیر $y = -x^2$ مخرج کسر صفر می شود؛ بنابراین حد وجود ندارد. اما اگر بخواهیم با انتخاب مسیر، مسأله را حل کنیم روی مسیرهای معمولی $y = mx$ ، $y = 0$ یا $x = 0$ مقدار حد صفر می شود. بهتر است مسیری را انتخاب کنیم که جملات صورت و مخرج را هم درجه کند. برای رسیدن به این هدف باید x^2 را از مخرج حذف کنیم؛ پس مسیر $y = -x^2 + mx^3$ مناسب است.

$$\lim_{x \rightarrow 0} \frac{x^3 + (-x^2 + mx^3)^3}{(-x^2 + mx^3) + x^2} = \lim_{x \rightarrow 0} \frac{x^3 + x^6(-1+mx)^3}{mx^3} \xrightarrow{\text{کمترین درجه}} \lim_{x \rightarrow 0} \frac{x^3}{mx^3} = \frac{1}{m}$$

بنابراین حد وجود ندارد.

کج مثال ۷: اگر $A = \lim_{(x,y) \rightarrow (1,\infty)} \frac{(x-1)^2}{(x-1)^2 y^2 + 1}$ و $B = \lim_{(x,y) \rightarrow (\infty,\infty)} \frac{x^2 + 1}{x^2 y^2 + 1}$ ، آن گاه کدام گزینه درست است؟

$$(1) A = B = 1 \quad (2) A = B = 0 \quad (3) A - B = 1 \quad (4) B - A = 1$$

پاسخ: گزینه «۲» برای محاسبه‌ی A با جایگذاری $x = 1$ و $y \rightarrow \infty$ نتیجه می شود:

$$A = \lim_{(x,y) \rightarrow (1,\infty)} \frac{(x-1)^2}{(x-1)^2 y^2 + 1} = \frac{0}{0+1} = 0$$

برای محاسبه‌ی B روی مسیر $y = x$ ، حد را حساب می کنیم:

$$B = \lim_{x \rightarrow \infty} \frac{x^2 + 1}{x^2 x^2 + 1} = \lim_{x \rightarrow \infty} \frac{x^2}{x^4} = 0$$

بنابراین $A = B = 0$ است.

کج مثال ۸: در مورد حد $\lim_{(x,y) \rightarrow (3,-1)} \frac{x^2 - 9}{y + 1}$ کدام گزینه صحیح است؟

$$(1) \text{ حد موجود و برابر } -3 \text{ است.} \quad (2) \text{ حد موجود و برابر } 6 \text{ است.} \quad (3) \text{ حد موجود و برابر } 1 \text{ است.} \quad (4) \text{ حد وجود ندارد.}$$

پاسخ: گزینه «۴» نقطه‌ی $(3, -1)$ تنها ریشه‌ی مخرج نیست، بلکه روی خط $y = -1$ مخرج صفر می شود؛ پس حد وجود ندارد. با این حال مسأله را از طریق

مسیرها هم بررسی می کنیم. اگر روی مسیر $x = 3$ به نقطه $(3, -1)$ میل کنیم، در این صورت حد به صورت مقابل درمی آید: $\lim_{y \rightarrow -1} \frac{9-9}{y+1} = \lim_{y \rightarrow -1} \frac{0}{y+1} = 0$

ولی اگر روی مسیر $x = -3y$ به نقطه $(3, -1)$ نزدیک شویم، در این صورت حد به صورت زیر درمی آید:

$$\lim_{y \rightarrow -1} \frac{(-3y)^2 - 9}{y + 1} = \lim_{y \rightarrow -1} \frac{9y^2 - 9}{y + 1} = \lim_{y \rightarrow -1} 9(y-1) = -18$$

چون روی دو مسیر مختلف جواب‌های متفاوتی به دست آمد، پس حد وجود ندارد.

توضیح: ممکن است دانشجویان خود بپرسند مسیر $x = -3y$ بر چه اساسی انتخاب شد؟ در واقع $x = -3y$ خطی است که از نقطه $(3, -1)$ عبور می کند. شما می توانید هر خط یا منحنی دیگری را که از این نقطه می گذرد، انتخاب کنید، مثلاً $x = 3y^2$ یا $y = x - 4$.

مثال ۹: مقدار حد $\lim_{(x,y) \rightarrow (0,0)} \frac{x^2 y^2}{x^3 + y^3}$ چقدر است؟

- (۱) $\frac{1}{2}$ (۲) ۰ (۳) ∞ (۴) وجود ندارد.

پاسخ: گزینه «۴» دانشجوی عجول ممکن است بلافاصله گزینه (۲) را انتخاب کند؛ چون درجه صورت از مخرج بیشتر است. ولی توجه کنید که تنها ریشه مخرج مبدأ مختصات نیست. در واقع روی خط $y = -x$ این تابع تعریف نشده است؛ بنابراین حد وجود ندارد. اما اگر بخواهیم با انتخاب مسیر، مسأله را حل کنیم، روی همه‌ی مسیرهای معمول مقدار حد صفر می‌شود. مسیری را انتخاب می‌کنیم که باعث شود صورت و مخرج هم‌درجه شوند (البته منظور کوچک‌ترین درجه از صورت و مخرج است). صورت از درجه ۵ است؛ پس انتخاب مسیر $y^3 = -x^3 + mx^5$ مناسب است. با جایگذاری این مسیر، x^3 از مخرج حذف می‌شود و mx^5 باقی می‌ماند:

$$\lim_{(x,y) \rightarrow (0,0)} \frac{x^2 y^2}{x^3 + y^3} = \lim_{x \rightarrow 0} \frac{x^2 (-x^3 + mx^5)}{x^3 - x^3 + mx^5} = \lim_{x \rightarrow 0} \left(\frac{-x^5 + mx^7}{mx^5} \right) \xrightarrow{\text{کمترین درجه}} \lim_{x \rightarrow 0} \frac{-x^5}{mx^5} = -\frac{1}{m}$$

بنابراین حاصل حد برابر $-\frac{1}{m}$ به دست می‌آید و چون مقدار حد وابسته به m است، حد وجود ندارد.

مثال ۱۰: وضعیت تابع $f(x,y) = \begin{cases} \frac{x^2 y^2}{x^2 + y^2} & ; (x,y) \neq (0,0) \\ 0 & ; (x,y) = (0,0) \end{cases}$ چگونه است؟

- (۱) پیوسته است. (۲) حد دارد اما پیوسته نیست. (۳) حد وجود ندارد. (۴) تابع در این نقطه تعریف نشده است.

پاسخ: گزینه «۱»

روش اول: با توجه به صورت سؤال f در $(0,0)$ تعریف شده است و $f(0,0) = 0$ می‌باشد. توجه کنید که حد f در نقطه $(0,0)$ برابر صفر است؛ زیرا درجه صورت بیشتر از درجه مخرج است و تنها ریشه مخرج $(0,0)$ است و جملات مخرج هم‌درجه هستند؛ پس مقدار حد با مقدار $f(0,0)$ برابر است و f در مبدأ پیوسته است.

روش دوم: با استفاده از مختصات قطبی داریم:

$$\lim_{r \rightarrow 0} \frac{r^2 \cos^2 \theta \times r^2 \sin^2 \theta}{r^2} = \lim_{r \rightarrow 0} r^2 \cos^2 \theta \sin^2 \theta = 0$$

مثال ۱۱: کدام تابع را در نقطه $(0,0)$ می‌توان طوری تعریف کرد که تابع در این نقطه پیوسته شود؟

- (۱) $f(x,y) = \frac{xy}{x^2 + y^2}$ (۲) $f(x,y) = \frac{x^2 y^2}{x^2 + y^2}$ (۳) $f(x,y) = \frac{xy}{x-y}$ (۴) $f(x,y) = \frac{x^2}{x+y}$

پاسخ: گزینه «۲» تنها گزینه (۲) در $(0,0)$ حدی برابر صفر دارد و سایر گزینه‌ها در $(0,0)$ حد ندارند و در نتیجه نمی‌توانند در $(0,0)$ پیوسته باشند. در گزینه (۱) درجه صورت و مخرج برابرند؛ پس حد وجود ندارد. در گزینه (۳) روی خط $y = x$ و در گزینه‌ی (۴) روی خط $y = -x$ مخرج صفر می‌شود؛ پس حد وجود ندارد.

مثال ۱۲: مقدار $f(0,0)$ چقدر باشد تا تابع $f(x,y) = \frac{\sin x \sin^2 y}{1 - \cos(x^2 + y^2)}$ در نقطه $(0,0)$ پیوسته شود؟

- (۱) ۱ (۲) ۲ (۳) ۰ (۴) ممکن نیست.

پاسخ: گزینه «۴» در روی مسیر $y = 0$ ، حد f برابر صفر است ولی در روی مسیر $y = x$ با استفاده از هم‌ارزی‌های $\sin u \sim u$ و $1 - \cos u \sim \frac{u^2}{2}$

$$\lim_{x \rightarrow 0} \frac{\sin x \cdot \sin^2 x}{1 - \cos(2x^2)} \xrightarrow{\text{هم‌ارزی}} \lim_{x \rightarrow 0} \frac{x^3}{2x^4} = \frac{1}{2}$$

داریم:

پس حد وجود ندارد و بنابراین f نمی‌تواند در نقطه $(0,0)$ پیوسته شود.

مثال ۱۳: تابع $f(x,y) = \frac{\sqrt{x^2 + y^2}}{y}$ در کجا پیوسته نیست؟

- (۱) محور x ها (۲) محور y ها (۳) مبدأ مختصات (۴) روی خط $y = x$

پاسخ: گزینه «۱» تابع در کلیه نقاط دامنه پیوسته است، بنابراین فقط در ریشه مخرج یعنی $y = 0$ (محور x ها) تابع پیوسته نیست.



مثال ۱۴: تابع $f(x,y) = \begin{cases} \frac{x-y}{x^2-y} & ; y \neq x^2 \\ 1 & ; y = x^2 \end{cases}$ در نقطه $(1,1)$ چگونه است؟

- (۱) حد دارد. (۲) پیوسته است. (۳) ناپیوسته است. (۴) دارای حد $\frac{1}{3}$ است.

پاسخ: گزینه «۳» حد f را روی دو مسیر $y = x$ و $y = x^2$ که هر دو از نقطه $(1,1)$ می‌گذرند به دست می‌آوریم:

روی مسیر $y = x$: $\lim_{(x,y) \rightarrow (1,1)} \frac{x-y}{x^2-y} = \lim_{x \rightarrow 1} \frac{x-x}{x^2-x} = 0$

روی مسیر $y = x^2$: $\lim_{(x,y) \rightarrow (1,1)} \frac{x-y}{x^2-y} = \lim_{x \rightarrow 1} \frac{x-x^2}{x^2-x^2} = \lim_{x \rightarrow 1} \frac{x(1-x)}{x^2(x-1)} = \lim_{x \rightarrow 1} \frac{-1}{x} = -1$

چون روی دو مسیر مختلف حد به دست آمده برابر نیست، پس حد وجود ندارد و بنابراین تابع پیوسته نیست.

(صنایع - سیستم - سراسری ۷۸)

مثال ۱۵: مقدار $\lim_{(x,y) \rightarrow (0,0)} \frac{xye^{xy}}{x^2+y^2}$

- (۱) ۰ (۲) $\frac{1}{2}$ (۳) ۱ (۴) وجود ندارد.

$\lim_{(x,y) \rightarrow (0,0)} \frac{xye^{xy}}{x^2+y^2} = \lim_{x \rightarrow 0} \frac{mx^2 e^{mx^2}}{x^2+m^2x^2} = \lim_{x \rightarrow 0} \frac{me^{mx^2}}{1+m^2} = \frac{m}{1+m^2}$

پاسخ: گزینه «۴» اگر روی خط $y = mx$ به مبدأ نزدیک شویم:

چون حاصل حد به m بستگی دارد، پس حد وجود ندارد.

(هسته‌ای - سراسری ۷۸)

مثال ۱۶: اگر $f(x,y) = \begin{cases} \frac{xy}{|x|+|y|} & ; (x,y) \neq (0,0) \\ a & ; (x,y) = (0,0) \end{cases}$ پیوسته باشد، a کدام است؟

- (۱) صفر (۲) $\frac{1}{2}$ (۳) ۱ (۴) ۲

پاسخ: گزینه «۱»

روش اول: $\lim_{(x,y) \rightarrow (0,0)} f(x,y) = \lim_{(x,y) \rightarrow (0,0)} \frac{xy}{|x|+|y|} = \lim_{(x,y) \rightarrow (0,0)} \left(\frac{x}{|x|+|y|}\right) \times y = (1 \text{ و } -1) \times 0 = 0$

بنابراین برای پیوستگی لازم است $a = 0$ باشد.

روش دوم: درجه صورت برابر ۲ و درجه مخرج برابر ۱، و تنها ریشه مخرج مبدأ مختصات یعنی $(0,0)$ است بنابراین حد f در مبدأ موجود و برابر صفر است و در نتیجه برای پیوستگی لازم است $a = 0$.

مثال ۱۷: اگر $f: \mathbb{R}^2 \rightarrow \mathbb{R}^2$ با ضابطه $f(x,y) = (x+y, x,y)$ و $g: \mathbb{R}^2 \rightarrow \mathbb{R}^2$ با ضابطه $g(x,y,z) = (x+y, y+z)$ مفروض باشند، $g \circ f$ کدام است؟ (آمار - سراسری ۷۸)

(۱) $g \circ f(x,y) = (x+y, 2x+y)$ (۲) $g \circ f(x,y) = (2x+y, x+y)$
 (۳) $g \circ f(x,y) = (x+2y, x+y)$ (۴) $g \circ f(x,y) = (x+y, x+2y)$

پاسخ: گزینه «۲» در تابع $g(x,y,z)$ باید به جای x, y, z به ترتیب $x, x+y, y$ را قرار بدهیم:

$g \circ f(x,y) = g(x+y, x, y) = (x+y+x, x+y) = (2x+y, x+y)$

(آمار - سراسری ۷۹)

مثال ۱۸: حد تابع $\lim_{(x,y) \rightarrow (0,0)} \frac{\sqrt{1-x^2-y^2}}{y}$ چقدر است؟

- (۱) حد برابر ۱- است. (۲) حد برابر صفر است. (۳) حد برابر ۱ است. (۴) حد وجود ندارد.

$\lim_{(x,y) \rightarrow (0,0)} \frac{\sqrt{1-x^2-y^2}}{y} = \lim_{y \rightarrow 0} \frac{\sqrt{1-y^2}}{y} = \pm\infty$

پاسخ: گزینه «۴» در امتداد مسیر $x = 0$ ، حد را به دست می‌آوریم:

چون در امتداد مسیر $x = 0$ ، حد وجود ندارد، پس تابع f در $(0,0)$ حد ندارد.

مثال ۱۹: در مورد $\lim_{(x,y) \rightarrow (1,2)} \frac{\text{Arctg}(2xy - 2y)}{\text{Arcsin}(2xy - 6x)}$ کدام گزینه صحیح است؟
 (۱) حد موجود و برابر $\frac{1}{4}$ است. (۲) حد موجود نیست. (۳) حد موجود و برابر $\frac{3}{4}$ است. (۴) حد موجود و برابر ۱ است.

پاسخ: گزینه «۲» چون کمان‌های مقابل Arctg و Arcsin به سمت صفر میل می‌کنند، می‌توانیم از هم‌ارزی استفاده کنیم:

$$\lim_{(x,y) \rightarrow (1,2)} \frac{\text{Arctg}(2xy - 2y)}{\text{Arcsin}(2xy - 6x)} = \lim_{(x,y) \rightarrow (1,2)} \frac{2xy - 2y}{2xy - 6x}$$

حال توجه کنید که روی مسیر $x = 1$ حد برابر ۰ می‌شود، اما روی مسیر $y = 3x$ داریم $\lim_{x \rightarrow 1} \frac{9x^2 - 9x}{6x^2 - 6x} = \lim_{x \rightarrow 1} \frac{9x(x-1)}{6x(x-1)} = \frac{9}{6}$ بنابراین حد وجود ندارد.

مثال ۲۰: در مورد $\lim_{(x,y) \rightarrow (4,\pi)} x^2 \sin\left(\frac{y}{x}\right)$ کدام گزینه صحیح است؟
 (۱) حد موجود و برابر 8π است. (۲) حد موجود و برابر $8\sqrt{2}$ است. (۳) حد موجود و برابر $4\pi^2$ است. (۴) حد موجود نیست.

پاسخ: گزینه «۲» با جایگذاری مقدار حد به دست می‌آید:

$$\lim_{(x,y) \rightarrow (4,\pi)} x^2 \sin\left(\frac{y}{x}\right) = 16 \sin\left(\frac{\pi}{4}\right) = 8\sqrt{2}$$

مثال ۲۱: حاصل $\lim_{(x,y) \rightarrow (0,0)} \frac{2x^2y}{x^4 + y^2}$ کدام است؟
 (۱) صفر (۲) ۱ (۳) وجود ندارد. (۴) ۲

پاسخ: گزینه «۳» بر روی مسیر $x = 0$ مقدار حد برابر صفر می‌شود و در روی مسیر $y = x^2$ داریم:

$$I = \lim_{x \rightarrow 0} \frac{2x^4}{x^4 + x^4} = 1$$

چون بر روی دو مسیر مختلف، دو مقدار مختلف برابر حد به دست آمد، بنابراین حد وجود ندارد.

مثال ۲۲: کدامیک از توابع زیر در نقطه $(0,0)$ دارای حد می‌باشند؟

- | | | | |
|-------------------------|-----------------------|----------------------------|--------------------------------|
| (الف) $\frac{x-y}{x+y}$ | (ب) $\frac{xy}{ xy }$ | (ج) $\frac{xy}{x^2 + y^2}$ | (د) $\frac{x^2y^2}{x^2 + y^2}$ |
| (۱) فقط د | (۲) ج و د | (۳) فقط ب | (۴) د و الف |

پاسخ: گزینه «۱»

روش اول: موارد (الف)، (ج)، روی خط $y = mx$ ، دارای حد وابسته به m خواهند بود، مثلاً برای (ج) روی مسیر $y = mx$ داریم:

$$\lim_{x \rightarrow 0} \frac{x(mx)}{x^2 + m^2x^2} = \lim_{x \rightarrow 0} \frac{mx^2}{(1+m^2)x^2} = \frac{m}{1+m^2}$$

بنابراین حد ندارند. برای (ب) با توجه به علامت x و y مقادیر ± 1 به دست می‌آید پس حد وجود ندارد. حال نشان می‌دهیم مورد (د)، در $(0,0)$ دارای حد است.

$$\lim_{(x,y) \rightarrow (0,0)} \frac{x^2y^2}{x^2 + y^2} = \lim_{(x,y) \rightarrow (0,0)} \left(\frac{x^2}{x^2 + y^2}\right)y^2 \leq \lim_{(x,y) \rightarrow (0,0)} y^2 = 0$$

روش دوم: چون درجه صورت بیشتر از مخرج و تنها ریشه مخرج مبدأ یعنی $(0,0)$ و جملات مخرج هم درجه هستند، بنابراین حد $\lim_{(x,y) \rightarrow (0,0)} \frac{x^2y^2}{x^2 + y^2}$ موجود و برابر صفر است.

مثال ۲۳: تابع $\frac{x^2 - y^2}{x^2 + y^2}$ وقتی که $(x,y) \rightarrow (0,0)$ دارای حدی:

- (۱) برابر ۱- است. (۲) برابر ۱ است. (۳) برابر ∞ است. (۴) نیست.

پاسخ: گزینه «۴»

روش اول: درجه‌ی جملات صورت و مخرج برابر است، پس حد در $(0,0)$ وجود ندارد.

$$\lim_{(x,y) \rightarrow (0,0)} \frac{x^2 - y^2}{x^2 + y^2} = \lim_{x \rightarrow 0} \frac{x^2 - m^2x^2}{x^2 + m^2x^2} = \frac{1-m^2}{1+m^2}$$

روش دوم: حد تابع داده شده را روی مسیر $y = mx$ مورد بررسی قرار می‌دهیم.

با توجه به اینکه حاصل حد به مقدار m بستگی دارد، پس تابع در $(0,0)$ دارای حد نیست.



کله مثال ۲۴: کدام تابع در نقطه $(0,0)$ پیوسته است؟

(مدیریت در سوانج طبیعی سراسری ۸۸)

$$g(0,0) = 0 \text{ و } g(x,y) = \frac{x^2}{x^2 - y^2} \text{ و } x^2 + y^2 \neq 0 \quad (۲)$$

$$f(0,0) = 0 \text{ و } f(x,y) = \frac{xy \sin x}{x^2 + y^2} \text{ و } x^2 + y^2 \neq 0 \quad (۱)$$

$$k(0,0) = 0 \text{ و } k(x,y) = \frac{x^2 - y^2}{x^2 + y^2} \text{ و } (x,y) \neq (0,0) \quad (۴)$$

$$h(0,0) = 0 \text{ و } h(x,y) = \frac{xy^2}{x^2 + y^4} \text{ و } (x,y) \neq (0,0) \quad (۳)$$

پاسخ: گزینه «۱» به کمک هم‌ارزی $\sin x \sim x$ می‌توان نوشت:

$$\lim_{(x,y) \rightarrow (0,0)} f(x,y) = \lim_{(x,y) \rightarrow (0,0)} \frac{x^2 y}{x^2 + y^2} = 0 \text{ (چون درجه صورت از مخرج بیشتر است.)}$$

و چون $f(0,0) = 0$ پس این تابع پیوسته است.

در گزینه (۲) و (۴) درجه صورت و مخرج برابرند پس این توابع فاقد حد در مبدأ بوده و لذا ناپیوسته‌اند. گزینه (۳) در مبدأ حد ندارد، زیرا روی مسیر

$x = y^2$ مقدار حد برابر $\frac{1}{4}$ و روی مسیر $x = 0$ ، حد آن برابر صفر می‌شود، بنابراین h در $(0,0)$ پیوسته نیست.

کله مثال ۲۵: مقدار $\lim_{(x,y) \rightarrow (0,0)} \frac{2x - y}{x^2 - y^2}$ کدام است؟

(ریاضی - آزاد ۸۸)

$$\frac{1}{2} \quad (۴)$$

موجود نیست. (۳)

$$2 \quad (۲)$$

صفر (۱)

پاسخ: گزینه «۳» درجه‌ی جملات مخرج بیشتر از جملات صورت است؛ پس حد در $(0,0)$ وجود ندارد.

کله مثال ۲۶: اگر $f(x,y) = \frac{2xy^2}{x^2 + y^4}$ آن‌گاه مقدار $\lim_{(x,y) \rightarrow (0,0)} f(x,y)$ کدام است؟

(آمار - سراسری ۹۰)

موجود نیست (۴)

$$3 \quad (۳)$$

$$1 \quad (۲)$$

$$0 \quad (۱)$$

پاسخ: گزینه «۴» مسیری را انتخاب می‌کنیم که درجه‌ی جملات مخرج را یکسان کند. پس روی مسیر $x = my^2$ به سمت نقطه $(0,0)$ میل

$$\lim_{(x,y) \rightarrow (0,0)} \frac{2xy^2}{x^2 + y^4} = \lim_{y \rightarrow 0} \frac{2my^2 \times y^2}{(my^2)^2 + y^4} = \lim_{y \rightarrow 0} \frac{2my^4}{m^2 y^4 + y^4} = \frac{2m}{m^2 + 1}$$

می‌کنیم، خواهیم داشت:

از آنجایی که پاسخ حد وابسته به مقدار m می‌باشد بنابراین حد تابع موجود نیست.

کله مثال ۲۷: حد تابع $f(x,y) = \frac{xy}{x^2 + y^2}$ در نقطه $(0,0)$ در امتداد خط $y = 2x$ کدام است؟

(کشاورزی - سراسری ۹۰)

$$0/8 \quad (۴)$$

$$0/6 \quad (۳)$$

$$0/4 \quad (۲)$$

$$0/2 \quad (۱)$$

پاسخ: گزینه «۲» برای یافتن حد در مسیر داده شده کافی است که رابطه $y = 2x$ را در تابع داده شده قرار دهیم:

$$\lim_{(x,y) \rightarrow (0,0)} \frac{xy}{x^2 + y^2} \xrightarrow{y=2x} \lim_{(x,y) \rightarrow (0,0)} \frac{xy}{x^2 + y^2} = \lim_{x \rightarrow 0} \frac{x \times 2x}{x^2 + 4x^2} = \lim_{x \rightarrow 0} \frac{2x^2}{5x^2} = 0/5$$

درسنامه ۲: مشتق جزئی توابع چند متغیره

کج مثال ۱: تابع f به صورت $f(x,y) = \begin{cases} \frac{xy(x^2 - y^2)}{x^2 + y^2} & ; (x,y) \neq (0,0) \\ 0 & ; (x,y) = (0,0) \end{cases}$ تعریف شده است. در این صورت حاصل $\frac{\partial^2 f}{\partial x \partial y}(0,0)$ و $\frac{\partial^2 f}{\partial y \partial x}(0,0)$ به ترتیب کدام است؟

- (۱) ۰ و ۰ (۲) ۱ و -۱ (۳) -۱ و ۱ (۴) ۱ و ۱

پاسخ: گزینه «۲» ابتدا $\frac{\partial f}{\partial x}$ و $\frac{\partial f}{\partial y}$ را در همه نقاط به دست می‌آوریم، توجه کنید که برای محاسبه این مقادیر در مبدأ باید از تعریف استفاده کنیم چون ضابطه تابع f در مبدأ تغییر می‌کند. ولی برای محاسبه $\frac{\partial f}{\partial x}$ و $\frac{\partial f}{\partial y}$ در سایر نقاط فقط کافی است از ضابطه بالایی مشتق بگیریم.

$$f_x(0,0) = \lim_{h \rightarrow 0} \frac{f(h,0) - f(0,0)}{h} = \lim_{h \rightarrow 0} \frac{0 - 0}{h} = 0$$

به همین ترتیب $f_y(0,0) = 0$ به دست می‌آید.

$$f_x = \begin{cases} \frac{y(x^2 + 4x^2y^2 - y^2)}{(x^2 + y^2)^2} & (x,y) \neq (0,0) \\ 0 & (x,y) = (0,0) \end{cases} \quad f_y = \begin{cases} \frac{x(x^2 - 4x^2y^2 - y^2)}{(x^2 + y^2)^2} & (x,y) \neq (0,0) \\ 0 & (x,y) = (0,0) \end{cases}$$

حال اگر f_x به دست آمده در بالا را به عنوان یک تابع بر حسب x و y در نظر بگیریم، می‌توانیم مشتق جزئی آن را نسبت به y در مبدأ محاسبه کنیم.

$$f_{xy}(0,0) = \lim_{h \rightarrow 0} \frac{f_x(0,h) - f_x(0,0)}{h} = \lim_{h \rightarrow 0} \frac{-h - 0}{h} = -1$$

از محاسبه بالا نتیجه می‌شود که $\frac{\partial^2 f}{\partial y \partial x}(0,0) = -1$ می‌باشد، با انجام محاسبات مشابه نتیجه می‌شود که $\frac{\partial^2 f}{\partial x \partial y}(0,0) = 1$ می‌باشد.

سؤال دانشجو: پس چرا در این سؤال $\frac{\partial^2 f}{\partial x \partial y}$ ، $\frac{\partial^2 f}{\partial y \partial x}$ برابر نیستند، مگر نگفتید این دو همواره برابرند؟

پاسخ: می‌دانیم در اغلب سؤال‌ها این دو یعنی $\frac{\partial^2 f}{\partial x \partial y}$ و $\frac{\partial^2 f}{\partial y \partial x}$ (مشتقات مخلوط) با هم برابرند ولی این در حالت کلی برقرار نیست و برای برابری لازم است این مشتق‌ها پیوسته باشند. بهتر است این مثال را به خاطر بسپارید چون بارها سؤال آمده و در کل سؤال جالب و مهمی است.

کج مثال ۲: کدام گزینه در مورد تابع $f(x,y) = \begin{cases} \frac{xy}{x^2 + y^2} & ; (x,y) \neq (0,0) \\ 0 & ; (x,y) = (0,0) \end{cases}$ در مبدأ صحیح است؟

- (۱) f مشتق‌پذیر است. (۲) f پیوسته است. (۳) f فاقد مشتق‌های نسبی است. (۴) f حد ندارد.

پاسخ: گزینه «۴» چون درجه صورت و مخرج با هم برابر است، پس f در مبدأ حد ندارد و لذا پیوسته و مشتق‌پذیر نیست. توجه کنید که f در مبدأ دارای مشتق‌های نسبی است، زیرا داریم: $f_x(0,0) = \lim_{h \rightarrow 0} \frac{f(h,0) - f(0,0)}{h} = \lim_{h \rightarrow 0} \frac{0 - 0}{h} = 0$ به طور مشابه $f_y(0,0) = 0$ است.

کج مثال ۳: از رابطه $f(x,y) = 2 \operatorname{Arctg} \frac{y}{x}$ ، دیفرانسیل کامل تابع در نقطه (۱،۱) کدام است؟

- (۱) $dx + dy$ (۲) $-dx - dy$ (۳) $-dx + dy$ (۴) $dx - dy$

پاسخ: گزینه «۳» ابتدا $\frac{\partial f}{\partial x}$ ، $\frac{\partial f}{\partial y}$ را در نقطه (۱، ۱) به دست می‌آوریم:

$$\frac{\partial f}{\partial x} = \frac{-2y}{x^2 + \frac{y^2}{x^2}}, \quad \frac{\partial f}{\partial y} = \frac{2}{1 + \frac{y^2}{x^2}} \quad (x,y)=(1,1) \rightarrow \frac{\partial f}{\partial x} = -1, \quad \frac{\partial f}{\partial y} = 1$$

$$df = \frac{\partial f}{\partial x} dx + \frac{\partial f}{\partial y} dy = -dx + dy$$

بنابراین دیفرانسیل کامل تابع برابر است با:



👉 مثال ۴: اگر $u = x^y$ باشد آن‌گاه دیفرانسیل کامل u کدام است؟

$du = yx^{y-1}dx + x^y \ln x dy$ (۴) $du = x^y \ln x dx + x^{y-1} \ln y dy$ (۳) $du = yx^{y-1}dx + yx^{y-1}dy$ (۲) $du = x^y \ln x dx + yx^{y-1}dy$ (۱)

$du = \frac{\partial u}{\partial x} dx + \frac{\partial u}{\partial y} dy = yx^{y-1}dx + x^y \ln x dy$

☑ پاسخ: گزینه «۴»

👉 مثال ۵: دیفرانسیل تابع دو متغیری $z = \frac{x+y}{x-y}$ در نقطه (۱، ۲) در امتداد مسیری که تغییرات y نصف تغییرات x باشد، کدام است؟

$-dx$ (۱) dx (۲) صفر (۳) $2dx$ (۴)

☑ پاسخ: گزینه «۳» چون $z_x = \frac{-2y}{(x-y)^2} = -2$ و $z_y = \frac{2x}{(x-y)^2} = 4$ و $dy = \frac{1}{2}dx$ داریم:

$$dz = z_x dx + z_y dy = -2dx + 4dy = -2dx + 2dx = 0$$

👉 مثال ۶: هرگاه $z = av$ و $y = u \sin v$ و $x = u \cos v$ باشد، d^2z برابر است با:

$d^2z = \frac{2axy}{(x^2+y^2)^2} dx^2 + \frac{-2axy}{(x^2+y^2)^2} dy^2$ (۲) $d^2z = \frac{ax^2}{(x^2+y^2)^2} dx^2 + \frac{2axy}{(x^2+y^2)^2} dx dy + \frac{ay^2}{(x^2+y^2)^2} dy^2$ (۱)

$d^2z = \frac{2ax^2}{(x^2+y^2)^2} dx^2 + \frac{-2ay^2}{(x^2+y^2)^2} dy^2$ (۴) $d^2z = \frac{2axy}{(x^2+y^2)^2} dx^2 + \frac{2a(y^2-x^2)}{(x^2+y^2)^2} dx dy - \frac{2axy}{(x^2+y^2)^2} dy^2$ (۳)

☑ پاسخ: گزینه «۳» می‌دانیم d^2z یعنی دیفرانسیل دوم تابع z برابر است با:

$$d^2z = \frac{\partial^2 z}{\partial x^2} dx^2 + 2 \frac{\partial^2 z}{\partial x \partial y} dx dy + \frac{\partial^2 z}{\partial y^2} dy^2$$

$$\frac{\partial z}{\partial x} = a \frac{\partial v}{\partial x} \quad \text{و} \quad \frac{\partial z}{\partial y} = a \frac{\partial v}{\partial y}$$

$$\Rightarrow \frac{\partial^2 z}{\partial x^2} = \frac{\partial}{\partial x} \left(a \frac{\partial v}{\partial x} \right) = a \frac{\partial^2 v}{\partial x^2} \quad \text{و} \quad \frac{\partial^2 z}{\partial x \partial y} = a \frac{\partial^2 v}{\partial x \partial y} \quad \text{و} \quad \frac{\partial^2 z}{\partial y^2} = a \frac{\partial^2 v}{\partial y^2}$$

بنابراین باید مشتقات پارامتر دوم v را نسبت به x و y محاسبه کنیم، به همین جهت جهت v را بر حسب x و y به دست می‌آوریم:

$$\frac{y}{x} = \operatorname{tg} v \Rightarrow v = \operatorname{tg}^{-1} \frac{y}{x} \Rightarrow \frac{\partial v}{\partial x} = -\frac{y}{x^2+y^2} \quad \text{و} \quad \frac{\partial v}{\partial y} = \frac{x}{x^2+y^2}$$

$$\frac{\partial^2 v}{\partial x^2} = \frac{-2xy}{(x^2+y^2)^2} \quad \text{و} \quad \frac{\partial^2 v}{\partial y^2} = -\frac{2xy}{(x^2+y^2)^2} \quad \text{و} \quad \frac{\partial^2 v}{\partial x \partial y} = \frac{x^2+y^2-2x^2}{(x^2+y^2)^2} = \frac{y^2-x^2}{(x^2+y^2)^2}$$

با توجه به محاسبات بالا نتیجه می‌شود:

$$d^2z = a \frac{\partial^2 v}{\partial x^2} dx^2 + 2a \frac{\partial^2 v}{\partial x \partial y} dx dy + a \frac{\partial^2 v}{\partial y^2} dy^2 = \frac{2axy}{(x^2+y^2)^2} dx^2 + \frac{2a(y^2-x^2)}{(x^2+y^2)^2} dx dy - \frac{2axy}{(x^2+y^2)^2} dy^2$$

👉 مثال ۷: مقدار تقریبی $f(x,y) = \sqrt{e^{2x} + y^2} - 1$ در نقطه $A(0.03, 2/94)$ چقدر است؟

$3/03$ (۴) $3/02$ (۳) $2/96$ (۲) $2/95$ (۱)

☑ پاسخ: گزینه «۱» در این مثال $x = 0.03$ و $y = 2/94$ است. در نزدیکی آن‌ها $x_0 = 0$ و $y_0 = 3$ را انتخاب می‌کنیم. پس $\Delta x = x - x_0 = 0.03$

و $\Delta y = y - y_0 = -0.06$ است. حالا مقادیر $\frac{\partial f}{\partial y}$ و $\frac{\partial f}{\partial x}$ را در نقطه $(0, 3)$ به دست می‌آوریم:

$$\frac{\partial f}{\partial x} = \frac{2e^{2x}}{2\sqrt{e^{2x} + y^2 - 1}} \Big|_{(0,3)} = \frac{1}{3}, \quad \frac{\partial f}{\partial y} = \frac{2y}{2\sqrt{e^{2x} + y^2 - 1}} \Big|_{(0,3)} = 1$$

$$f(0.03, 2/94) \approx f(0, 3) + df = \sqrt{1+9-1} + \frac{0.03}{3} - 0.06 = 3 + 0.01 - 0.06 = 2.95$$

مثال ۸: فرض کنید $f(x,y) = \sqrt{x^2 - y^2}$ ، در این صورت مقدار تقریبی $f(5/02, 2/96)$ چقدر است؟

۳/۹۹۵ (۴)

۴/۰۵۵ (۳)

۴/۰۱۵ (۲)

۳/۹۹۷ (۱)

پاسخ: گزینه «۳» با توجه به نکته فوق قرار می‌دهیم $x_0 = 5, y_0 = 3, \Delta x = 0/02, \Delta y = -0/04$ ، در این صورت:

$$\frac{\partial f}{\partial x} = \frac{2x}{2\sqrt{x^2 - y^2}} \Rightarrow \frac{\partial f}{\partial x}(5, 3) = \frac{5}{4}, \quad \frac{\partial f}{\partial y} = \frac{-2y}{2\sqrt{x^2 - y^2}} \Rightarrow \frac{\partial f}{\partial y}(5, 3) = \frac{-3}{4}$$

$$\Rightarrow f(5/02, 2/96) \sim f(5, 3) + \frac{5}{4} \times 0/02 - \frac{3}{4} \times (-0/04) = 4 + 0/025 + 0/03 = 4/055$$

مثال ۹: فرض کنید $f(x,y,z) = e^{xy-z^2}$ ، در این صورت مقدار تقریبی $f(4/03, 1/02, 1/95)$ چقدر است؟

۱/۳۶ (۴)

۱/۳۴ (۳)

۱/۳۱ (۲)

۱/۲۹ (۱)

پاسخ: گزینه «۲» چون تابع f ، سه متغیره می‌باشد از همان فرمول تقریب خطی بالا در حالت سه متغیره استفاده می‌کنیم، یعنی داریم:

$$f(x, y, z) \approx f(x_0, y_0, z_0) + \frac{\partial f}{\partial x} \Delta x + \frac{\partial f}{\partial y} \Delta y + \frac{\partial f}{\partial z} \Delta z$$

در این مثال $(x, y, z) = (4/03, 1/02, 1/95)$ داده شده است پس داریم $x_0 = 4, y_0 = 1, z_0 = 2$ و در نتیجه $\Delta x = 0/03, \Delta y = 0/02, \Delta z = -0/05$ و حالا $\frac{\partial f}{\partial z}, \frac{\partial f}{\partial y}, \frac{\partial f}{\partial x}$ را در نقطه $(4, 1, 2)$ به دست می‌آوریم.

$$\frac{\partial f}{\partial x} = ye^{xy-z^2} \Big|_{(4,1,2)} = 1, \quad \frac{\partial f}{\partial y} = xe^{xy-z^2} \Big|_{(4,1,2)} = 4 \quad \text{و} \quad \frac{\partial f}{\partial z} = -2ze^{xy-z^2} \Big|_{(4,1,2)} = -4$$

$$\Rightarrow f(4/03, 1/02, 1/95) \approx f(4, 1, 2) + 1 \times 0/03 + 4 \times 0/02 + (-4) \times (-0/05) = e^{4 \times 1 - 2^2} + 0/03 + 0/08 + 0/2 = 1/31$$

مثال ۱۰: فرض کنید $w = \frac{x^2 y^3}{z^4}$ ، در این صورت مقدار w چند درصد کاهش یا افزایش پیدا می‌کند اگر مقدار x به میزان ۱٪، y به میزان ۲٪ و z به میزان ۳٪ زیاد شود؟

(۲) w به میزان ۲۰٪ افزایش می‌یابد. (۳) w به میزان ۴٪ کاهش می‌یابد. (۴) w به میزان ۲٪ زیاد می‌شود.

(۱) w تغییر نمی‌کند.

پاسخ: گزینه «۳» ابتدا توجه کنید که:

$$w = \frac{x^2 y^3}{z^4} \Rightarrow \frac{\partial w}{\partial x} = \frac{2xy^3}{z^4} = \frac{2w}{x}, \quad \frac{\partial w}{\partial y} = \frac{3x^2 y^2}{z^4} = \frac{3w}{y}, \quad \frac{\partial w}{\partial z} = -\frac{4x^2 y^3}{z^5} = -\frac{4w}{z}$$

بنابراین می‌توان نوشت:

$$dw = \frac{\partial w}{\partial x} dx + \frac{\partial w}{\partial y} dy + \frac{\partial w}{\partial z} dz \Rightarrow dw = \frac{2w}{x} dx + \frac{3w}{y} dy - \frac{4w}{z} dz \Rightarrow \frac{dw}{w} = 2 \frac{dx}{x} + 3 \frac{dy}{y} - 4 \frac{dz}{z}$$

از آنجا که x به میزان ۱٪ زیاد می‌شود، بنابراین $\frac{dx}{x} = \frac{1}{100}$ و به همین ترتیب $\frac{dy}{y} = \frac{2}{100}$ و $\frac{dz}{z} = \frac{3}{100}$ در نتیجه داریم:

$$\frac{\Delta w}{w} \approx \frac{dw}{w} = 2 \times \frac{1}{100} + 3 \times \frac{2}{100} - 4 \times \frac{3}{100} = \frac{-4}{100}$$

یعنی w به میزان ۴٪ کاهش می‌یابد.

مثال ۱۱: بسط مک لورن تابع $f(x,y) = e^{x-2y}$ تا درجه دوم به کدام صورت زیر است؟

$$1 + x - 2y + x^2 - 2xy - 4y^2 \quad (۴) \quad 1 + x - 2y + \frac{x^2}{2} - xy + y^2 \quad (۳) \quad 1 + x - 2y + x^2 - 2xy + 4y^2 \quad (۲) \quad 1 + x - 2y + \frac{1}{2}x^2 - 2xy + 2y^2 \quad (۱)$$

پاسخ: گزینه «۱»

روش اول: می‌توانیم این مثال را نیز مانند مثال قبل به کمک فرمول بسط مک‌لورن توابع دو متغیره حل کنیم، ولی با تغییر متغیر $u = x - 2y$ تابع f به صورت e^u در می‌آید و می‌دانیم بسط مک لورن e^u به صورت $1 + u + \frac{u^2}{2!} + \dots$ است، بنابراین با جایگذاری $(x - 2y)$ به جای u در بسط e^u نتیجه می‌شود:

$$e^{x-2y} = 1 + x - 2y + \frac{1}{2!}(x - 2y)^2 = 1 + (x - 2y) + \frac{1}{2}x^2 - 2xy + 2y^2$$

روش دوم: ابتدا تابع f را به صورت $f(x,y) = e^x \cdot e^{-2y}$ می‌نویسیم، حال بسط مک لورن e^x و e^{-2y} را نوشته و در هم ضرب می‌کنیم:

$$e^x \cdot e^{-2y} = (1 + x + \frac{x^2}{2!} + \dots)(1 - 2y + \frac{4y^2}{2!} + \dots) = 1 + x - 2y + \underbrace{\frac{x^2}{2} - 2xy + 2y^2}_{\text{بسط مک‌لورن تا درجه ۲}} + \underbrace{2xy^2 - x^2 y + x^2 y^2}_{\text{حذف}}$$



کدام گزینه چندجمله‌ای اول از بسط تیلور تابع $f(x,y) = x^2y + \sin y + e^x$ حول نقطه‌ی $(1, \pi)$ را به درستی نشان می‌دهد؟

$$(1) (\pi + e) + (2\pi - e)(x - 1) + \frac{1}{2}[(2\pi + e)(x - 1)^2 - 4(x - 1)(y - \pi)] + \dots$$

$$(2) (\pi + e) + (2\pi - e)(x - 1) + \frac{1}{2}[(2\pi + e)(x - 1)^2 + 4(x - 1)(y - \pi)] + \dots$$

$$(3) (\pi + e) + (2\pi + e)(x - 1) + \frac{1}{2}[(2\pi + e)(x - 1)^2 - 4(x - 1)(y - \pi)] + \dots$$

$$(4) (\pi + e) + (2\pi + e)(x - 1) + \frac{1}{2}[(2\pi + e)(x - 1)^2 + 4(x - 1)(y - \pi)] + \dots$$

پاسخ: گزینه «۴» بسط تیلور $f(x,y)$ را حول نقطه‌ی $(x_0, y_0) = (1, \pi)$ می‌خواهیم، بنابراین مقدار f و مشتق‌های جزئی مرتبه‌ی اول و مرتبه‌ی دوم آن را در این نقطه به دست می‌آوریم.

$$\begin{cases} f(x,y) = x^2y + \sin y + e^x = \pi + \sin \pi + e = \pi + e \\ f_x = 2xy + e^x = 2\pi + e \\ f_y = x^2 + \cos y = 1 + \cos \pi = 1 - 1 = 0 \end{cases} \Rightarrow \begin{cases} f_{xx} = 2y + e^x = 2\pi + e \\ f_{yy} = -\sin y = -\sin \pi = 0 \\ f_{xy} = 2x = 2 \end{cases}$$

با جایگذاری این مقادیر در فرمول بسط تیلور حول نقطه‌ی $(1, \pi)$ داریم:

$$f(x,y) = f(1,\pi) + (x-1)f_x(1,\pi) + (y-\pi)f_y(1,\pi) + \frac{1}{2!}[(x-1)^2f_{xx}(1,\pi) + 2(x-1)(y-\pi)f_{xy}(1,\pi) + (y-\pi)^2f_{yy}(1,\pi)] + \dots$$

$$\Rightarrow x^2y + \sin y + e^x = (\pi + e) + (2\pi + e)(x - 1) + \frac{1}{2}[(2\pi + e)(x - 1)^2 + 4(x - 1)(y - \pi)] + \dots$$

(مکانیک - سراسری ۷۸)

کدام نقطه مشتق‌پذیر است؟ تابع $f(x,y) = \frac{x^2 + y^2}{y}$ با ضابطه

(۱) بر \mathbb{R}

(۲) در هر نقطه از دامنه‌اش

(۴) بر مجموعه $\{(x,y) : x \neq 0 \text{ یا } y \neq 0\}$

(۳) بر مجموعه $\{(x,y) : (x,y) \neq (0,0)\}$

پاسخ: گزینه «۲» تابع f در کلیه نقاط، به جز نقاطی که مخرج را صفر می‌کنند مشتق‌پذیر می‌باشد، یعنی در تمام نقاط دامنه‌اش مشتق‌پذیر است.

(ژئوفیزیک و هواشناسی - سراسری ۷۸)

کدام گزینه «۳» ابتدا بر حسب x و سپس بر حسب y مشتق می‌گیریم.

$$f(x,y) = e^x y - y \cosh xy \Rightarrow f_x = e^x y - y^2 \sinh xy$$

$$f_{xy} = e^x - 2y \sinh xy - y^2 x \cosh xy \Big|_{(1,0)} = e$$

(عمران - آزاد ۸۰)

کدام گزینه «۱» اگر $f(x,y) = x \cos 2y + ye^{2x}$ باشد مقدار $\frac{\partial^2 f}{\partial x \partial y}$ را به دست آورید:

$$(4) 2x \sin 2y - 2e^{2x}$$

$$(3) x \sin 2y + 2e^{2x}$$

$$(2) 2x \sin 2y + 2e^{2x}$$

$$(1) -2 \sin 2y + 2e^{2x}$$

$$f(x,y) = x \cos 2y + ye^{2x} \Rightarrow \frac{\partial f}{\partial x} = \cos 2y + 2ye^{2x} \Rightarrow \frac{\partial^2 f}{\partial x \partial y} = -2 \sin 2y + 2e^{2x}$$

پاسخ: گزینه «۱»

(ریاضی - سراسری ۸۱)

کدام گزینه «۱» تابع $f(x,y) = \sqrt{x^5 + y^5}$ با ضابطه داده شده است، در این صورت:

(۲) f در همه نقاط \mathbb{R}^2 مشتق‌پذیر است.

(۱) f در همه نقاط \mathbb{R}^2 مشتق‌پذیر است.

(۴) f در نقطه $(0,0)$ مشتق‌پذیر است.

(۳) f در نقطه $(0,0)$ مشتق‌پذیر نیست.

پاسخ: گزینه «۳» می‌دانیم اگر f تابعی همگن از مرتبه ۱ باشد، شرط لازم و کافی برای مشتق‌پذیری در مبدأ آن است که f خطی باشد یعنی $f(x,y) = ax + by$ و چون f خطی نیست پس مشتق‌پذیر هم نیست.

(هسته‌ای - سراسری ۸۲)

کله مثال ۱۷: اگر $\phi(x,y) = e^{xy^2}$ باشد $\frac{\partial^2 \phi}{\partial x \partial y}$ کدام است؟

(۱) $2ye^{xy^2} + 2xy^3e^{xy^2}$ (۲) $2xy^3e^{xy^2} + e^{xy^2}$ (۳) $2y^3e^{xy^2} + 2ye^{xy^2}$ (۴) $2y^3e^{xy^2} + 2ye^{xy^2}$

پاسخ: گزینه «۱» ابتدا از تابع بر حسب x سپس بر حسب y مشتق می‌گیریم: $\frac{\partial \phi}{\partial x} = y^2 e^{xy^2} \Rightarrow \frac{\partial^2 \phi}{\partial x \partial y} = 2ye^{xy^2} + 2xy^3e^{xy^2}$

کله مثال ۱۸: اگر $f(x,y) = \begin{cases} x & ; (0 < y \leq x^2 \text{ یا } x \leq 0), (y \geq 0) \\ 0 & ; \text{بقیه نقاط} \end{cases}$ در این صورت $f_x(0,1)$ ، $f_y(0,1)$ به ترتیب (از راست به چپ) چگونه است؟

(علوم کامپیوتر - سراسری ۸۳)

(۱) $0-0$ (۲) وجود ندارد - (۳) وجود ندارد - ۱ (۴) وجود ندارد - وجود ندارد.

پاسخ: گزینه «۲» چون ضابطه f در همسایگی نقطه $(0,1)$ عوض می‌شود، بنابراین حد چپ و راست را مجزا به دست می‌آوریم: چون حد چپ و راست با هم برابر نیست، پس حد $f_x(0,1)$ وجود ندارد.

$$\left\{ \begin{aligned} f_x(0,1) &= \lim_{x \rightarrow 0^+} \frac{f(x,1) - f(0,1)}{x - 0} = \lim_{x \rightarrow 0^+} \frac{0 - 0}{x} = 0 \\ f_x(0,1) &= \lim_{x \rightarrow 0^-} \frac{f(x,1) - f(0,1)}{x - 0} = \lim_{x \rightarrow 0^-} \frac{x}{x} = 1 \end{aligned} \right. \quad \text{و} \quad f_y(0,1) = \lim_{y \rightarrow 1} \frac{f(0,y) - f(0,1)}{y - 1} = \lim_{y \rightarrow 1} \frac{0 - 0}{y - 1} = 0$$

(ژئوفیزیک و هواشناسی - سراسری ۸۳)

کله مثال ۱۹: اگر $f(x,y) = \begin{cases} \frac{xy}{x+y} & x+y \neq 0 \\ \alpha & x+y = 0 \end{cases}$ به ازای کدام مقدار α ، $f_x(1,-1)$ موجود نیست؟

(۱) -۱ (۲) صفر (۳) ۱ (۴) هر مقدار α

پاسخ: گزینه «۴» $f_x(1,-1) = \lim_{x \rightarrow 1} \frac{f(x,-1) - f(1,-1)}{x - 1} = \lim_{x \rightarrow 1} \frac{\frac{-x}{x-1} - \alpha}{x - 1} = \lim_{x \rightarrow 1} \frac{-x - \alpha(x-1)}{(x-1)^2}$

به ازای تمام مقادیر α حد فوق وجود ندارد.

(آمار - آزاد ۸۳)

کله مثال ۲۰: هرگاه $z = \text{Arctg} \frac{6x+y}{3-2xy}$ باشد، $\frac{\partial^2 z}{\partial x \partial y}$ برابر است با:

(۱) $\frac{172x + 17y^2}{(9 + 4x^2y^2 + 36x^2 + y^2)^2}$ (۲) ۱ (۳) ۰ (۴) $\frac{36x + 18xy^2}{(9 + 4x^2y^2 + 36x^2 + y^2)^2}$

پاسخ: گزینه «۳» توجه کنید که $z = \text{Arctg} \frac{2x + \frac{y}{3}}{1 - \frac{2}{3}xy}$ چون $z = \text{Arctg} \frac{2x + \frac{y}{3}}{1 - \frac{2}{3}xy}$ برابر حاصل ضرب عبارات موجود در صورت است.

با استفاده از $\text{Arctg} a + \text{Arctg} b = \text{Arctg} \frac{a+b}{1-ab}$ داریم: $z = \text{Arctg} 2x + \text{Arctg} \frac{y}{3} \Rightarrow \frac{\partial z}{\partial y} = \frac{1}{3} \frac{1}{1 + \frac{y^2}{9}} = \frac{3}{9 + y^2} \Rightarrow \frac{\partial^2 z}{\partial x \partial y} = 0$

(صنایع - سیستم - سراسری ۸۴)

کله مثال ۲۱: کدام تابع در معادله لاپلاس $\frac{\partial^2 f}{\partial x^2} + \frac{\partial^2 f}{\partial y^2} = 0$ صدق می‌کند؟

(۱) x^2y^2 (۲) $\sqrt{x^2 + y^2}$ (۳) $\text{tg}^{-1} \frac{y^2}{x^2}$ (۴) $\text{tg}^{-1} \frac{y}{x}$

پاسخ: گزینه «۴»

$$\left. \begin{aligned} f(x,y) = \text{Arctg} \frac{y}{x} &\rightarrow \frac{\partial f}{\partial x} = \frac{-y}{x^2 + y^2} = \frac{-y}{x^2 + y^2} \Rightarrow \frac{\partial^2 f}{\partial x^2} = \frac{2xy}{(x^2 + y^2)^2} \\ f(x,y) = \text{Arctg} \frac{y}{x} &\rightarrow \frac{\partial f}{\partial y} = \frac{1}{1 + \frac{y^2}{x^2}} = \frac{x}{x^2 + y^2} \Rightarrow \frac{\partial^2 f}{\partial y^2} = \frac{-2xy}{(x^2 + y^2)^2} \end{aligned} \right\} \Rightarrow \frac{\partial^2 f}{\partial x^2} + \frac{\partial^2 f}{\partial y^2} = 0$$



مثال ۲۲: تابع f با ضابطه $f(x,y) = \begin{cases} ye^{-\frac{1}{x^2}} & ; x \neq 0 \\ 0 & ; x = 0 \end{cases}$ در کدامیک از گزاره‌های زیر صدق می‌کند؟ (علوم کامپیوتر - سراسری ۸۴)

(۱) f بی‌نهایت بار مشتق‌پذیر است.

(۲) f در نقطه $(0,0)$ فقط مشتق‌پذیر مرتبه اول است.

(۳) f دارای بردار گرادیان نیست.

(۴) f دارای مشتق مرتبه دوم پیوسته نیست.

پاسخ: گزینه «۱» همان‌طور که در زیر نشان داده‌ایم، تابع داده شده را می‌توان به صورت حاصل ضرب دو تابع بی‌نهایت بار مشتق‌پذیر $g(x)$ و $h(y)$ نوشت و چون حاصل ضرب دو تابع مشتق‌پذیر، تابعی مشتق‌پذیر است، بنابراین گزینه (۱) صحیح است.

$$g(x) = \begin{cases} e^{-\frac{1}{x^2}} & ; x \neq 0 \\ 0 & ; x = 0 \end{cases}, h(y) = y \Rightarrow f(x,y) = g(x)h(y)$$

این‌که تابع $h(y) = y$ بی‌نهایت بار مشتق‌پذیر است، امری واضح است. اما در مورد تابع $g(x)$ با محاسبه‌ی $g'(x)$ در $x \neq 0$ داریم $g'(x) = \frac{2}{x^3} e^{-\frac{1}{x^2}}$ و

$$g'(0) = \lim_{x \rightarrow 0} \frac{g(x) - g(0)}{x} = \lim_{x \rightarrow 0} \frac{e^{-\frac{1}{x^2}}}{x}$$

در $x = 0$ از راه تعریف مشتق داریم:

$$g'(0) = \lim_{x \rightarrow 0} \frac{e^{-\frac{1}{x^2}}}{x} = \lim_{t \rightarrow \pm\infty} \frac{e^{-t^2}}{\frac{1}{t}} = \lim_{t \rightarrow \pm\infty} \frac{t}{te^{t^2}} \xrightarrow{\text{هویتال}} \lim_{t \rightarrow \pm\infty} \frac{1}{2te^{t^2}} = 0$$

با تغییر متغیر $t = \frac{1}{x}$ داریم $t \rightarrow \pm\infty$ و در نتیجه داریم:

پس داریم: $g'(x) = \begin{cases} \frac{2}{x^3} e^{-\frac{1}{x^2}} & ; x \neq 0 \\ 0 & ; x = 0 \end{cases}$. به همین ترتیب مشتق‌های مرتبه‌ی بالاتر آن هم وجود دارند. به این ترتیب $f(x)$ بی‌نهایت مرتبه مشتق‌پذیر است. در نتیجه ضمن اثبات گزینه‌ی (۱)، سایر گزینه‌ها هم رد می‌شوند.

توجه: تابع $g(x) = \begin{cases} e^{-\frac{1}{x^2}} & ; x \neq 0 \\ 0 & ; x = 0 \end{cases}$ یک مثال خاص از توابع مشتق‌پذیر است که همه‌ی مشتق‌های آن از هر مرتبه، در $x = 0$ موجود و برابر با صفر هستند.

مثال ۲۳: دیفرانسیل تابع $z = 2x^2 - 3xy - y^2$ کدام است؟ (هسته‌ای - سراسری ۸۴)

$$(4x - 3y)dx - (3x + 2y)dy \quad (4) \quad (4x - 3y) - (3x + 2y) \frac{dy}{dx} \quad (3) \quad -3x - 2y \quad (2) \quad 4x - 3y \quad (1)$$

پاسخ: گزینه «۴»

مثال ۲۴: اگر $f(x,y) = \begin{cases} \frac{x^2 - xy}{x+y} & ; (x,y) \neq (0,0) \\ 0 & ; (x,y) = (0,0) \end{cases}$ مقدار $\frac{\partial f}{\partial x} - \frac{\partial f}{\partial y}$ در نقطه $(0,0)$ ، کدام است؟ (MBA - سراسری ۸۵)

$$1 \quad (3) \quad 0 \quad (2) \quad -1 \quad (1)$$

پاسخ: گزینه «۳» برای محاسبه $\frac{\partial f}{\partial x}$ و $\frac{\partial f}{\partial y}$ باید از تعریف مشتق جزئی استفاده کنیم.

$$\frac{\partial f}{\partial x} = \lim_{h \rightarrow 0} \frac{f(h,0) - f(0,0)}{h} = \lim_{h \rightarrow 0} \frac{h-0}{h} = 1 \quad \text{و} \quad \frac{\partial f}{\partial y} = \lim_{h \rightarrow 0} \frac{f(0,h) - f(0,0)}{h} = \lim_{h \rightarrow 0} \frac{0-0}{h} = 0$$

مثال ۲۵: اگر $f(x,y) = \begin{cases} \frac{xy}{|x|+|y|} & ; (x,y) \neq (0,0) \\ 1 & ; (x,y) = (0,0) \end{cases}$ کدام است؟ (ریاضی - سراسری ۸۶)

$$\frac{y|y|}{(|x|+|y|)^2} \quad (4) \quad \infty \quad (3) \quad 1 \quad (2) \quad 0 \quad (1)$$

پاسخ: هیچ‌کدام از گزینه‌ها صحیح نیست.

بنابراین $f_x(0,0)$ موجود نیست $\Rightarrow \lim_{h \rightarrow 0} \frac{f(h,0) - f(0,0)}{h} = \lim_{h \rightarrow 0} \frac{0-1}{h} = \pm\infty$

مثال ۲۶: فرض کنید $f(x,y) = \begin{cases} \frac{x^2 y^2}{x^{12} + y^4} & ; (x,y) \neq (0,0) \\ 0 & ; (x,y) = (0,0) \end{cases}$ ، در این صورت کدام گزاره درست است؟

- (۱) f در $(0,0)$ پیوسته است. (۲) f در $(0,0)$ مشتق پذیر است.
 (۳) $f_x(0,0)$ و $f_y(0,0)$ وجود ندارند. (۴) $f_x(0,0)$ و $f_y(0,0)$ وجود دارند ولی f در $(0,0)$ مشتق پذیر نیست.
پاسخ: گزینه «۴» در $f(0,0)$ پیوسته نیست. دو مسیر $x=0$ و $y=x^3$ را در نظر بگیرید و بنابراین f در $(0,0)$ مشتق پذیر نیست.

$$\left. \begin{aligned} x=0 \text{ مسیر} \Rightarrow \text{حد} &= \lim_{y \rightarrow 0} \frac{0 \cdot y^2}{0 + y^4} = \lim_{y \rightarrow 0} \frac{0}{y^4} = 0 \\ y=x^3 \text{ مسیر} \Rightarrow \text{حد} &= \lim_{x \rightarrow 0} \frac{x^2 (x^3)^2}{x^{12} + (x^3)^4} = \lim_{x \rightarrow 0} \frac{x^8}{2x^{12}} = \frac{1}{2} \end{aligned} \right\} \Rightarrow \text{حد وجود ندارد}$$

$f_x(0,0)$ و $f_y(0,0)$ به کمک تعریف به ترتیب برابرند با:

$$f_x(0,0) = \lim_{h \rightarrow 0} \frac{f(h,0) - f(0,0)}{h} = \lim_{h \rightarrow 0} \frac{0 - 0}{h} = 0 \quad \text{و} \quad f_y(0,0) = \lim_{h \rightarrow 0} \frac{f(0,h) - f(0,0)}{h} = \lim_{h \rightarrow 0} \frac{0 - 0}{h} = 0$$

مثال ۲۷: $f(x,y)$ و $f_y(x,y)$ به وسیله دستگاه $\begin{cases} f_1 - y f_y = 0 \\ f_1 + f_y = x \end{cases}$ تعریف شده است. $d^2 f_y$ برابر است با:

$$\begin{aligned} d^2 f_y &= -\frac{2}{(1+y)^2} dx dy + \frac{2f_y}{(1+y)^2} dy^2 \quad (۲) & d^2 f_y &= \frac{y}{(1+y)^2} dx^2 + \frac{f_y}{(1+y)^2} dy^2 \quad (۱) \\ d^2 f_y &= \frac{f_1}{(1+y)^2} dx^2 + \frac{f_y}{(1+y)^2} dx dy \quad (۴) & d^2 f_y &= \frac{2}{(1+y)^2} dx dy - \frac{2f_y}{(1+y)^2} dy^2 \quad (۳) \end{aligned}$$

پاسخ: گزینه «۲» معادله اول را در منفی ضرب و به معادله دوم اضافه می‌کنیم، در این صورت $(1+y)f_y = x$ و یا $f_y(x,y) = \frac{x}{1+y}$ بنابراین داریم:

$$\frac{\partial f_y}{\partial x} = \frac{1}{1+y}, \quad \frac{\partial f_y}{\partial y} = -\frac{x}{(1+y)^2} \Rightarrow \frac{\partial^2 f_y}{\partial x^2} = 0, \quad \frac{\partial^2 f_y}{\partial y^2} = \frac{2x}{(1+y)^3} = \frac{2f_y}{(1+y)^2}, \quad \frac{\partial^2 f_y}{\partial x \partial y} = -\frac{1}{(1+y)^2}$$

$$\Rightarrow d^2 f_y = \frac{\partial^2 f_y}{\partial x^2} dx^2 + 2 \frac{\partial^2 f_y}{\partial x \partial y} dx dy + \frac{\partial^2 f_y}{\partial y^2} dy^2 = -\frac{2}{(1+y)^2} dx dy + \frac{2f_y}{(1+y)^2} dy^2$$

مثال ۲۸: تابع $f(x,y) = \begin{cases} \frac{y(x^2 + y^2)}{y^2 + (x^2 + y^2)^2} & ; (x,y) \neq (0,0) \\ 0 & ; (x,y) = (0,0) \end{cases}$ در کدام گزاره صدق می‌کند؟

- (۱) در نقطه $(0,0)$ حد ندارد. (۲) $\frac{\partial f}{\partial y}(0,0) = \frac{\partial f}{\partial x}(0,0) = 2$
 (۳) حد f در مسیرهای مستقیم منتهی به $(0,0)$ ، $\frac{1}{2}$ است. (۴) حد f در مسیری دایره‌ای شکل که به $(0,0)$ منتهی می‌شود، 0 است.
پاسخ: گزینه «۱» حد داده شده را روی دو مسیر مختلف به دست می‌آوریم.

$$y=0 \text{ مسیر} \Rightarrow \lim_{x \rightarrow 0} \frac{0(x^2 + 0)}{0 + (x^2 + 0)^2} = 0$$

$$y=x^2 \text{ مسیر} \Rightarrow \lim_{x \rightarrow 0} \frac{x^2(x^2 + x^4)}{x^4 + (x^2 + x^4)^2} = \lim_{x \rightarrow 0} \frac{x^4 + x^6}{2x^4 + 2x^6 + x^8} = \frac{1}{2}$$

چون حد در روی دو مسیر متفاوت به دست آمده پس حد وجود ندارد.

مثال ۲۹: فرض کنید $f(x,y) = \begin{cases} \frac{x^2 + y^2}{x^2 + y^2} & ; (x,y) \neq (0,0) \\ 0 & ; (x,y) = (0,0) \end{cases}$ کدام گزاره درست است؟

- (۱) f در $(0,0)$ پیوسته نمی‌باشد. (۲) f در $(0,0)$ مشتق پذیر نمی‌باشد.
 (۳) ماکزیمم افزایش f در $(0,0)$ در جهت بردار $(1,1)$ است. (۴) f در $(0,0)$ در سوی هر بردار یکانی دارای مشتق سوئی یک است.
پاسخ: گزینه «۲» تابع f یک تابع همگن از درجه یک می‌باشد و می‌دانیم شرط لازم و کافی برای مشتق پذیری توابع همگن از درجه یک در مبدأ این است که خطی باشند یعنی به صورت $f(x,y) = \alpha x + \beta y$ باشد که چون f خطی نیست پس در مبدأ مختصات یعنی $(0,0)$ مشتق پذیر نمی‌باشد.



(ژئوفیزیک و هواشناسی - سراسری ۸۸)

مثال ۳۰: برای تابع $f(x,y) = \begin{cases} \frac{\sin^2(x-y)}{|x|+|y|} & ; (x,y) \neq (0,0) \\ 0 & ; (x,y) = (0,0) \end{cases}$ مقدار $\frac{\partial f}{\partial x}(0,0)$ چقدر است؟

(۱) -۱ (۲) ۰ (۳) ۱ (۴) موجود نیست.

پاسخ: گزینه «۴» با توجه به دو ضابطه‌ای بودن f در مبدأ برای محاسبه $\frac{\partial f}{\partial x}$ در مبدأ از تعریف مشتق جزئی نسبت به x استفاده می‌کنیم:

$$\frac{\partial f}{\partial x}(0,0) = \lim_{h \rightarrow 0} \frac{f(h,0) - f(0,0)}{h} = \lim_{h \rightarrow 0} \frac{\sin^2 h}{|h|} = \lim_{h \rightarrow 0} \frac{\sin^2 h}{h|h|} \stackrel{\text{هم‌ارزی}}{=} \lim_{h \rightarrow 0} \frac{h^2}{h|h|} = \lim_{h \rightarrow 0} \frac{h}{|h|}$$

حد اخیر وجود ندارد، زیرا حد راست برابر ۱ و حد چپ آن برابر -۱ است، پس $\frac{\partial f}{\partial x}$ در مبدأ موجود نیست.

مثال ۳۱: تابع $f(x,y) = \begin{cases} \frac{2xy}{x^2+y^2} & ; (x,y) \neq (0,0) \\ 0 & ; (x,y) = (0,0) \end{cases}$ وضعیت مشتق‌های جزئی و پیوستگی f در نقطه $(0,0)$ کدام است؟

(صنایع - سیستم - آزاد ۸۸)

(۱) $\frac{\partial f}{\partial y}$ و $\frac{\partial f}{\partial x}$ در مبدأ مختصات موجود است و لیکن تابع در این نقطه ناپیوسته است.

(۲) $\frac{\partial f}{\partial y}$ و $\frac{\partial f}{\partial x}$ در مبدأ مختصات موجود نیست و تابع در این نقطه ناپیوسته است.

(۳) $\frac{\partial f}{\partial y}$ و $\frac{\partial f}{\partial x}$ در مبدأ مختصات موجود نیست و تابع در این نقطه پیوسته است.

(۴) $\frac{\partial f}{\partial y}$ و $\frac{\partial f}{\partial x}$ در مبدأ مختصات موجود است و تابع در این نقطه پیوسته است.

پاسخ: گزینه «۱» واضح است که f در نقطه $(0,0)$ حد ندارد (زیرا درجه صورت و مخرج با هم برابر است)، بنابراین f در $(0,0)$ پیوسته نیست. برای

محاسبه $\frac{\partial f}{\partial y}$ و $\frac{\partial f}{\partial x}$ از تعریف استفاده می‌کنیم.

$$\frac{\partial f}{\partial x}(0,0) = \lim_{h \rightarrow 0} \frac{f(h,0) - f(0,0)}{h} = \lim_{h \rightarrow 0} \frac{0-0}{h} = 0, \quad \frac{\partial f}{\partial y}(0,0) = \lim_{h \rightarrow 0} \frac{f(0,h) - f(0,0)}{h} = \lim_{h \rightarrow 0} \frac{0-0}{h} = 0$$

بنابراین مشتق‌های جزئی در مبدأ وجود دارند.

(صنایع غذایی - سراسری ۸۹)

مثال ۳۲: دیفرانسیل کامل $z = e^{x-2y} + \ln(3y-x)$ در نقطه $(2,1,1)$ کدام است؟

(۱) dx (۲) $dx - dy$ (۳) $dx + dy$ (۴) dy

$$dz = (e^{x-2y} + \frac{-1}{3y-x})dx + (-2e^{x-2y} + \frac{3}{3y-x})dy \Big|_{(2,1,1)} = dy$$

پاسخ: گزینه «۴»

(علوم کامپیوتر - سراسری ۸۹)

مثال ۳۳: کدام گزاره در مورد تابع $f(x,y) = \begin{cases} \frac{xy}{x^2+y^2} & ; (x,y) \neq (0,0) \\ 0 & ; (x,y) = (0,0) \end{cases}$ درست است؟

(۱) مشتقات جزئی f در $(0,0)$ موجود و پیوسته‌اند.

(۲) مشتقات جزئی f کراندارند و در $(0,0)$ موجود می‌باشند.

(۳) مشتقات جزئی f بی‌کرانند و در $(0,0)$ موجود می‌باشند.

(۴) مشتقات جزئی f در $(0,0)$ موجودند و لذا تابع f در $(0,0)$ پیوسته‌است.

پاسخ: گزینه «۳» برای محاسبه $\frac{\partial f}{\partial y}$ و $\frac{\partial f}{\partial x}$ در $(0,0)$ از تعریف مشتق جزئی استفاده می‌کنیم.

$$\frac{\partial f}{\partial x}(0,0) = \lim_{h \rightarrow 0} \frac{f(h,0) - f(0,0)}{h} = \lim_{h \rightarrow 0} \frac{0-0}{h} = 0$$

$$\frac{\partial f}{\partial y}(0,0) = \lim_{h \rightarrow 0} \frac{f(0,h) - f(0,0)}{h} = \lim_{h \rightarrow 0} \frac{0-0}{h} = 0$$

بنابراین مشتق‌های جزئی در مبدأ وجود دارند. در ضمن در نقاط به جز مبدأ $f_x = \frac{y^3 - x^2y}{(x^2+y^2)^2}$ است که تابعی کراندار نیست.

(علوم دریایی و اقیانوسی - سراسری ۸۹)

کج مثال ۳۴: اگر $z = x \cos y - y \cos x$ آن گاه $\frac{\partial^2 z}{\partial x \partial y}$ برابر است با:

$$\left(-\left(\frac{1}{y} \frac{\partial^2 z}{\partial x^2} + \frac{1}{x} \frac{\partial^2 z}{\partial y^2} \right) \right) \quad (۴) \quad \left(-\left(\frac{1}{x} \frac{\partial^2 z}{\partial x^2} + \frac{1}{y} \frac{\partial^2 z}{\partial y^2} \right) \right) \quad (۳) \quad \frac{1}{y} \frac{\partial^2 z}{\partial x^2} - \frac{1}{x} \frac{\partial^2 z}{\partial y^2} \quad (۲) \quad \frac{1}{x} \frac{\partial^2 z}{\partial x^2} - \frac{1}{y} \frac{\partial^2 z}{\partial y^2} \quad (۱)$$

$$\frac{\partial z}{\partial y} = -x \sin y - \cos x \Rightarrow \frac{\partial^2 z}{\partial x \partial y} = -\sin y + \sin x$$

پاسخ: گزینه «۴»

$$\frac{\partial^2 z}{\partial y^2} = -x \cos y, \quad \frac{\partial^2 z}{\partial y^2} = x \sin y, \quad \frac{\partial z}{\partial x} = \cos y + y \sin x, \quad \frac{\partial^2 z}{\partial x^2} = y \cos x, \quad \frac{\partial^2 z}{\partial x^2} = -y \sin x$$

$$\Rightarrow \frac{\partial^2 z}{\partial x \partial y} = -\sin y + \sin x = -\frac{1}{x} \frac{\partial^2 z}{\partial y^2} - \frac{1}{y} \frac{\partial^2 z}{\partial x^2} = -\left(\frac{1}{y} \frac{\partial^2 z}{\partial x^2} + \frac{1}{x} \frac{\partial^2 z}{\partial y^2} \right)$$

(MBA - سراسری ۹۰)

کج مثال ۳۵: اگر $A = x^2 y \bar{i} - 2y^2 z \bar{j} + xy^2 z^2 \bar{k}$ اندازه بردار $\frac{\partial^2 A}{\partial x^2} \times \frac{\partial^2 A}{\partial y^2}$ در نقطه $(2, 1, -2)$ کدام است؟

$$16\sqrt{5} \quad (۴) \quad 8\sqrt{5} \quad (۳) \quad 16 \quad (۲) \quad 8 \quad (۱)$$

$$\frac{\partial A}{\partial x} = (2xy, 0, y^2 z^2) \Rightarrow \frac{\partial^2 A}{\partial x^2} = (2y, 0, 0) \Big|_{(2, 1, -2)} = (2, 0, 0)$$

پاسخ: گزینه «۴» ابتدا هر یک از مشتقات جزئی را محاسبه می‌کنیم:

$$\Rightarrow \frac{\partial A}{\partial y} = (x^2, -4yz, 2yxz^2) \Rightarrow \frac{\partial^2 A}{\partial y^2} = (0, -4z, 2xz^2) \Big|_{(2, 1, -2)} = (0, 8, 16)$$

حال با جایگذاری مقادیر فوق، ضرب خارجی موردنظر را محاسبه می‌کنیم:

$$\Rightarrow \frac{\partial^2 A}{\partial x^2} \times \frac{\partial^2 A}{\partial y^2} = \begin{vmatrix} \bar{i} & \bar{j} & \bar{k} \\ 2 & 0 & 0 \\ 0 & 8 & 16 \end{vmatrix} = -32\bar{j} + 16\bar{k} \Rightarrow \left| \frac{\partial^2 A}{\partial x^2} \times \frac{\partial^2 A}{\partial y^2} \right| = 16\sqrt{5}$$

(صنایع غذایی - سراسری ۹۰)

کج مثال ۳۶: در تابع $z = \ln \sqrt{x^2 + y^2} + \text{Arctg} \frac{y}{x}$ مقدار $\frac{\partial z}{\partial x}$ در نقطه $y = 2$ و $x = -1$ کدام است؟

$$-0.6 \quad (۴) \quad 0.2 \quad (۳) \quad 0.4 \quad (۲) \quad -0.8 \quad (۱)$$

$$\frac{\partial z}{\partial x} = \frac{x}{\sqrt{x^2 + y^2}} + \frac{-y}{x^2 + y^2} = \frac{x}{x^2 + y^2} + \frac{-y}{x^2 + y^2} = \frac{x - y}{x^2 + y^2} \Big|_{x=-1, y=2} = \frac{-1 - 2}{1 + 4} = \frac{-3}{5} = -0.6$$

پاسخ: گزینه «۴»

(صنایع غذایی - سراسری ۹۰)

کج مثال ۳۷: در تابع $z = \sin(x\sqrt{y})$ مقدار $x \frac{\partial z}{\partial x} + y \frac{\partial z}{\partial y}$ به ازای $x = \frac{\pi}{3}$ و $y = 4$ کدام است؟

$$\frac{-2\pi}{3} \quad (۴) \quad \frac{\pi}{3} \quad (۳) \quad \frac{5\pi}{6} \quad (۲) \quad \frac{-\pi}{2} \quad (۱)$$

پاسخ: گزینه «۱» عبارت $x \frac{\partial z}{\partial x} + y \frac{\partial z}{\partial y}$ را به روش ساده‌تری هم می‌توان محاسبه کرد که در درسنامه‌ی بعدی مطالعه می‌شود. در حال حاضر این

عبارت را با محاسبه‌ی مستقیم به دست می‌آوریم:

$$\frac{\partial z}{\partial x} = \sqrt{y} \cos(x\sqrt{y}) \xrightarrow{(x,y) = (\frac{\pi}{3}, 4)} 2 \left(-\frac{1}{2}\right) = -1; \quad \frac{\partial z}{\partial y} = \frac{x}{2\sqrt{y}} \cos(x\sqrt{y}) \xrightarrow{(x,y) = (\frac{\pi}{3}, 4)} \frac{\pi}{3} \left(-\frac{1}{2}\right) = \frac{-\pi}{6}$$

$$x \frac{\partial z}{\partial x} + y \frac{\partial z}{\partial y} = \left(\frac{\pi}{3}\right)(-1) + 4 \times \left(\frac{-\pi}{6}\right) = \frac{-\pi}{3} - \frac{2\pi}{3} = \frac{-3\pi}{3} = -\pi$$

سپس با جایگذاری مقادیر فوق در رابطه موردنظر داریم:



کج مثال ۳۸: در تابع $z = \frac{x}{y} - xy^2$ مقدار dz در نقطه $(2, -1)$ به ازای $(dy = 0/02, dx = 0/01)$ کدام است؟ (کشاورزی - سراسری ۹۰)

- (۱) $-0/03$ (۲) $-0/01$ (۳) $0/02$ (۴) $0/03$

پاسخ: گزینه «۳» دیفرانسیل کامل برابر است با: $dz = \frac{\partial z}{\partial x} dx + \frac{\partial z}{\partial y} dy$

$$\frac{\partial z}{\partial x} = \frac{1}{y} - y^2 \Big|_{(2,-1)} = -1 - 1 = -2, \quad \frac{\partial z}{\partial y} = \frac{-x}{y^2} - 2xy \Big|_{(2,-1)} = -2 + 4 = 2$$

با قراردادن مشتقات نسبی مقدار dz در نقطه $(2, -1)$ محاسبه می‌شود: $dz = -2dx + 2dy \xrightarrow{\substack{dx=0/01 \\ dy=0/02}} dz = -0/02 + 0/04 = 0/02$

کج مثال ۳۹: هرگاه $f(x, y) = |x| + |y|$ ، آن‌گاه f در $(0, 0)$: (ژئوفیزیک و هواشناسی - سراسری ۹۰)

- (۱) پیوسته نیست و مشتقات جزئی در $(0, 0)$ موجود نیست. (۲) پیوسته و دارای مشتقات جزئی پیوسته در $(0, 0)$ می‌باشد.
(۳) پیوسته هست ولی مشتقات جزئی آن در $(0, 0)$ موجود نیست. (۴) پیوسته نیست ولی مشتقات جزئی در $(0, 0)$ موجودند.

پاسخ: گزینه «۳» واضح است که حد f در $(0, 0)$ برابر صفر است و چون $f(0, 0) = 0$ ، بنابراین f در $(0, 0)$ پیوسته است. برای محاسبه $f_x(0, 0)$ ، چون $f(x, 0) = |x|$ در $x = 0$ مشتق‌پذیر نیست پس $f_x(0, 0)$ وجود ندارد و به طور مشابه $f_y(0, 0)$ هم موجود نیست. (توابع قدر مطلق در ریشه‌های ساده درون قدر مطلق مشتق ندارند.)

کج مثال ۴۰: فرض کنید $\mathbb{R}^3 \rightarrow \mathbb{R}$ به صورت $f(x, y, z) = \begin{cases} \frac{xyz}{x^2 + y^2 + z^2} & ; (x, y, z) \neq (0, 0, 0) \\ 0 & ; (x, y, z) = (0, 0, 0) \end{cases}$ تعریف شده است. در آن صورت f در مبدأ پیوسته... و مشتقات جزئی آن در مبدأ موجود... (نساجی - سراسری ۹۰)

- (۱) است، است. (۲) است، نیست. (۳) نیست، است. (۴) نیست، نیست.

پاسخ: گزینه «۱» درجه صورت از مخرج بیشتر و بنابراین حد f در مبدأ موجود و برابر $f(0, 0, 0) = 0$ است و f در مبدأ پیوسته است از طرفی برای محاسبه $f_x(0, 0, 0)$ با استفاده از تعریف باید از $f(x, 0, 0) = 0$ نسبت به x در $x = 0$ مشتق بگیریم و لذا $f_x(0, 0, 0)$ و با استدلال مشابه f_y و f_z در مبدأ موجود و برابر صفر می‌باشند.

کج مثال ۴۱: مقدار تقریبی $\sqrt{(2/01)^2 + (1/96)^2} + 1$ با کمک دیفرانسیل کامل کدام است؟ (ژئوفیزیک و هواشناسی - سراسری ۹۰)

- (۱) $2/96$ (۲) $2/97$ (۳) $2/98$ (۴) $2/99$

پاسخ: گزینه «۳» قرار می‌دهیم $f(x, y) = \sqrt{x^2 + y^2} + 1$ برای محاسبه $f(2/01, 1/96)$ قرار می‌دهیم: $(x_0, y_0) = (2, 2)$ و $\Delta x = 0/01, \Delta y = -0/04$ در این صورت داریم:

$$\frac{\partial f}{\partial x}(2, 2) = \frac{x}{\sqrt{x^2 + y^2} + 1} = \frac{2}{3}, \quad \frac{\partial f}{\partial y}(2, 2) = \frac{y}{\sqrt{x^2 + y^2} + 1} = \frac{2}{3}$$

$$f(2/01, 1/96) \approx f(2, 2) + \frac{\partial f}{\partial x}(2, 2)\Delta x + \frac{\partial f}{\partial y}(2, 2)\Delta y = 3 + \frac{2}{3}(0/01) + \frac{2}{3}(-0/04) = 2/98$$

یادآوری: $f(x_0 + \Delta x, y_0 + \Delta y) \sim f(x_0, y_0) + \frac{\partial f}{\partial x}(x_0, y_0)\Delta x + \frac{\partial f}{\partial y}(x_0, y_0)\Delta y$

کج مثال ۴۲: هرگاه $F(x, y) = \int_0^{xy} \frac{\sin t}{t} dt$ آن‌گاه $\frac{\partial F}{\partial x}(2, \frac{\pi}{4})$ کدام است؟ (تاریخ و فلسفه علم - سراسری ۹۰)

- (۱) $\frac{1}{2}$ (۲) $\frac{2}{\pi}$ (۳) $\frac{4}{\pi}$ (۴) $\frac{\pi}{4}$

پاسخ: گزینه «۱» از قاعده مشتق گرفتن از انتگرال در حالت کلی استفاده می‌کنیم.

$$F(x, y) = \int_{f(x, y)}^{g(x, y)} R(t) dt \Rightarrow \frac{\partial F(x, y)}{\partial x} = \frac{\partial g(x, y)}{\partial x} R(g(x, y)) + \frac{\partial f(x, y)}{\partial x} R(f(x, y))$$

حال با جایگذاری در رابطه بالا داریم: $\frac{\partial F(x, y)}{\partial x} = \frac{\partial}{\partial x}(xy) \times \frac{\sin(xy)}{xy} + 0 = y \frac{\sin(xy)}{xy} = \frac{\sin(xy)}{x} \Rightarrow \frac{\partial F}{\partial x}(2, \frac{\pi}{4}) = \frac{\sin(2 \times \frac{\pi}{4})}{2} = \frac{1}{2}$

درسنامه ۳: مشتق زنجیره‌ای و ضمنی

کله مثال ۱: اگر $z = u^2 + v^2 + uv$ و $u = x^2 - y^2$ و $v = xy$ باشد، در این صورت مقدار $\frac{\partial z}{\partial x}$ به ازای $x = 3$ و $y = 2$ چقدر است؟

- (۱) ۱۱۰ (۲) ۱۲۰ (۳) ۱۳۰ (۴) ۱۴۰

پاسخ: گزینه «۳» ابتدا توجه کنید که به ازای $x = 3$ و $y = 2$ ، مقدار $u = 5$ و $v = 6$ به دست می‌آید. حال با استفاده از قاعده مشتق‌گیری زنجیری داریم:

$$\frac{\partial z}{\partial x} = \frac{\partial z}{\partial u} \frac{\partial u}{\partial x} + \frac{\partial z}{\partial v} \frac{\partial v}{\partial x} = (2u + v)(2x) + (2v + u)(y) = (2 \times 5 + 6)(2 \times 3) + (2 \times 6 + 5)(2) = 130$$

کله مثال ۲: اگر $z = u^2 + v^2$ و $u = e^{x^2+y^2}$ ، $v = \frac{x}{y}$ باشد، در این صورت $z'_x(1,1)$ کدام است؟

- (۱) $4e^4 + 2e^2$ (۲) $4e^4 + 2e$ (۳) $4e^4 + 2$ (۴) $4e^4$

پاسخ: گزینه «۳» در نقطه‌ی $(x, y) = (1, 1)$ داریم $u = e^2$ و $v = 1$. حالا از قاعده‌ی مشتق زنجیره‌ای داریم:

$$\frac{\partial z}{\partial x} = \frac{\partial z}{\partial u} \frac{\partial u}{\partial x} + \frac{\partial z}{\partial v} \frac{\partial v}{\partial x} = (2u)(2xe^{x^2+y^2}) + (2v)\left(\frac{1}{y}\right) \Rightarrow \frac{\partial z}{\partial x} = 4e^4 + 2$$

کله مثال ۳: اگر $z = u^2 + v^2$ و $y = uv$ ، $x = u + v$ باشد، $\frac{\partial z}{\partial y}$ را برای کدام گزینه است؟

- (۱) $\frac{1}{v-u}$ (۲) $\frac{1}{u-v}$ (۳) -2 (۴) 4

پاسخ: گزینه «۳» اگر بخواهیم از قاعده‌ی زنجیره‌ای استفاده کنیم، ابتدا باید از معادلات $x = u + v$ و $y = uv$ استفاده کرده و u و v را بر حسب x

و y پیدا کنیم. بنابراین برای ساده‌تر شدن مسأله، به جای مشتق‌گیری زنجیره‌ای، ابتدا z را بر حسب x و y به دست می‌آوریم، در این صورت داریم:

$$z = u^2 + v^2 = (u+v)^2 - 2uv = x^2 - 2y \Rightarrow \frac{\partial z}{\partial y} = -2$$

کله مثال ۴: فرض کنید $z = f(x, y)$ ، و مقادیر $\frac{\partial z}{\partial x}$ و $\frac{\partial z}{\partial y}$ در نقطه $A(1, 1)$ به ترتیب برابر ۵ و -۲ باشند. اگر (r, θ) مؤلفه‌های دستگاه قطبی باشند، مقدار

$\frac{\partial z}{\partial \theta}$ چقدر است؟

- (۱) $3\sqrt{2}$ (۲) $-3\sqrt{2}$ (۳) $-4\sqrt{2}$ (۴) -7

پاسخ: گزینه «۴» نقطه $A(1, 1)$ در مختصات قطبی به صورت $r = \sqrt{2}$ و $\theta = \frac{\pi}{4}$ در می‌آید. در مختصات قطبی $x = r \cos \theta$ و $y = r \sin \theta$ می‌باشد،

بنابراین $\frac{\partial x}{\partial \theta} = -r \sin \theta$ و $\frac{\partial y}{\partial \theta} = r \cos \theta$. پس طبق قاعده مشتق‌گیری زنجیری برابر است با:

$$\frac{\partial z}{\partial \theta} = \frac{\partial z}{\partial x} \frac{\partial x}{\partial \theta} + \frac{\partial z}{\partial y} \frac{\partial y}{\partial \theta} = -r \sin \theta \frac{\partial z}{\partial x} + r \cos \theta \frac{\partial z}{\partial y} = (-\sqrt{2})\left(\frac{\sqrt{2}}{2}\right)(5) + (\sqrt{2})\left(\frac{\sqrt{2}}{2}\right)(-2) = -7$$

کله مثال ۵: اگر $z = f\left(\frac{x}{y}\right)$ آن‌گاه $\frac{\partial z}{\partial x}$ در نقطه $(x, y) = (2, 2)$ کدام است؟

- (۱) $-\frac{1}{2}f'(1)$ (۲) $\frac{1}{2}f'(1)$ (۳) $f'(1)$ (۴) $\frac{1}{2}$

پاسخ: گزینه «۲» فرض کنیم $u = \frac{x}{y}$ باشد. می‌دانیم که مشتق $f(u)$ برابر $u'f'(u)$ می‌باشد که در این مثال منظور ما از u' همان u'_x است زیرا

$$z = f\left(\frac{x}{y}\right) \Rightarrow \frac{\partial z}{\partial x} = \frac{1}{y}f'\left(\frac{x}{y}\right) \Rightarrow \frac{\partial z}{\partial x}(2, 2) = \frac{1}{2}f'\left(\frac{2}{2}\right) = \frac{f'(1)}{2}$$

مشتق نسبت به x را می‌خواهیم.



کله مثال ۶: اگر $z = yf(x^2 - y^2)$ ، آن گاه کدام یک از معادلات زیر صحیح است؟

$$\frac{1}{x} \frac{\partial z}{\partial x} + \frac{1}{y} \frac{\partial z}{\partial y} = \frac{y^2}{z} \quad (۴) \quad \frac{1}{x} \frac{\partial z}{\partial x} + \frac{1}{y} \frac{\partial z}{\partial y} = \frac{y}{z} \quad (۳) \quad \frac{1}{x} \frac{\partial z}{\partial x} + \frac{1}{y} \frac{\partial z}{\partial y} = \frac{z}{y} \quad (۲) \quad \frac{1}{x} \frac{\partial z}{\partial x} + \frac{1}{y} \frac{\partial z}{\partial y} = \frac{z}{y^2} \quad (۱)$$

پاسخ: گزینه «۱» ابتدا $\frac{\partial z}{\partial x}$ و $\frac{\partial z}{\partial y}$ را به دست می آوریم. $\frac{\partial z}{\partial x} = y \times 2xf'(x^2 - y^2)$ ، $\frac{\partial z}{\partial y} = f(x^2 - y^2) + y \times (-2y)f'(x^2 - y^2)$

در این صورت $\frac{1}{x} \frac{\partial z}{\partial x} + \frac{1}{y} \frac{\partial z}{\partial y} = 2yf'(x^2 - y^2) + \frac{1}{y} f(x^2 - y^2) - 2yf'(x^2 - y^2) = \frac{1}{y} f(x^2 - y^2) = \frac{z}{y^2}$ برابر است با:

توضیح: از درس ریاضی (۱) به خاطر دارید که مشتق $f(u)$ نسبت به x برابر $u'f'(u)$ است که در آن تابعی u بر حسب x است.

کله مثال ۷: معادله $2 \frac{\partial f}{\partial x} - 3 \frac{\partial f}{\partial y} = 0$ با تغییر متغیرهای $r = 2y - 3x$ و $D = 2y + 3x$ به کدام صورت بیان می شود؟

$$\frac{\partial f}{\partial r} + \frac{\partial f}{\partial D} = 0 \quad (۴) \quad \frac{\partial f}{\partial r} - \frac{\partial f}{\partial D} = 0 \quad (۳) \quad \frac{\partial f}{\partial D} = 0 \quad (۲) \quad \frac{\partial f}{\partial r} = 0 \quad (۱)$$

پاسخ: گزینه «۱» طبق قاعدهی زنجیره‌ای عمل می کنیم:

$$\left. \begin{aligned} \frac{\partial f}{\partial x} &= \frac{\partial f}{\partial r} \cdot \frac{\partial r}{\partial x} + \frac{\partial f}{\partial D} \cdot \frac{\partial D}{\partial x} = -3 \frac{\partial f}{\partial r} + 3 \frac{\partial f}{\partial D} \\ \frac{\partial f}{\partial y} &= \frac{\partial f}{\partial r} \cdot \frac{\partial r}{\partial y} + \frac{\partial f}{\partial D} \cdot \frac{\partial D}{\partial y} = 2 \frac{\partial f}{\partial r} + 3 \frac{\partial f}{\partial D} \end{aligned} \right\} \Rightarrow 2 \frac{\partial f}{\partial x} - 3 \frac{\partial f}{\partial y} = -12 \frac{\partial f}{\partial r} = 0 \Rightarrow \frac{\partial f}{\partial r} = 0$$

کله مثال ۸: تابع $u = f(4x^2 - 5y^2)$ مفروض است. کدام رابطه صحیح است؟

$$3y^2 \frac{\partial u}{\partial x} - 5y^2 \frac{\partial u}{\partial y} = 0 \quad (۴) \quad 5y^2 \frac{\partial u}{\partial x} + 4y^2 \frac{\partial u}{\partial y} = 0 \quad (۳) \quad 4y^2 \frac{\partial u}{\partial x} + 5y^2 \frac{\partial u}{\partial y} = 0 \quad (۲) \quad 15y^2 \frac{\partial u}{\partial x} + 8x \frac{\partial u}{\partial y} = 0 \quad (۱)$$

پاسخ: گزینه «۱» u_x و u_y را تشکیل می دهیم. $u_x = 8xf'(4x^2 - 5y^2)$ ، $u_y = -10y^2 f'(4x^2 - 5y^2) \Rightarrow 15y^2 u_x + 8x u_y = 0$

کله مثال ۹: فرض کنید $z = f(x^2 - 2y)$ ، در این صورت حاصل عبارت $\frac{\partial^2 z}{\partial x^2} + x \frac{\partial^2 z}{\partial x \partial y} + \frac{\partial z}{\partial y}$ کدام است؟

$$4xyf' \quad (۱) \quad f'' + f' \quad (۲) \quad f'' - f' \quad (۳) \quad 0 \quad (۴)$$

پاسخ: گزینه «۴» فرض می کنیم $u = x^2 - 2y$ باشد. بنابراین $z = f(u)$ است و u تابعی دو متغیره بر حسب x و y می باشد. پس $\frac{\partial z}{\partial x} = u'_x f'(u)$

و $\frac{\partial z}{\partial y} = u'_y f'(u)$. به همین ترتیب مشتق‌های مرتبه‌ی دوم را با رعایت مشتق حاصل ضرب و قاعدهی زنجیره‌ای محاسبه می کنیم:

$$\frac{\partial z}{\partial x} = 2xf'(x^2 - 2y) \Rightarrow \frac{\partial^2 z}{\partial x^2} = 2f'(x^2 - 2y) + 4x^2 f''(x^2 - 2y)$$

$$\frac{\partial z}{\partial y} = -2f'(x^2 - 2y) \Rightarrow \frac{\partial^2 z}{\partial x \partial y} = -4xf''(x^2 - 2y)$$

$$\frac{\partial^2 z}{\partial x^2} + x \frac{\partial^2 z}{\partial x \partial y} + \frac{\partial z}{\partial y} = 2f' + 4x^2 f'' - 4x^2 f'' - 2f' = 0$$

حال با جایگذاری عبارات فوق نتیجه می شود:

کله مثال ۱۰: با فرض $w = f(u, v)$ و $u = x + y$ و $v = x - y$ مقدار $\frac{\partial w}{\partial x} \cdot \frac{\partial w}{\partial y}$ کدام است؟

$$\left(\frac{\partial f}{\partial u}\right)^2 - \left(\frac{\partial f}{\partial v}\right)^2 \quad (۴) \quad \left(\frac{\partial f}{\partial u}\right)^2 + \left(\frac{\partial f}{\partial v}\right)^2 \quad (۳) \quad \frac{\partial f}{\partial u} \cdot \frac{\partial f}{\partial v} \quad (۲) \quad \frac{\partial^2 f}{\partial u \partial v} \quad (۱)$$

پاسخ: گزینه «۴» توجه کنید که w همان f است. پس فرقی بین $\frac{\partial w}{\partial u}$ با $\frac{\partial f}{\partial u}$ وجود ندارد. با توجه به قاعده مشتق زنجیره‌ای داریم:

$$\left\{ \begin{aligned} \frac{\partial w}{\partial x} &= \frac{\partial w}{\partial u} \cdot \frac{\partial u}{\partial x} + \frac{\partial w}{\partial v} \cdot \frac{\partial v}{\partial x} = \frac{\partial f}{\partial u} + \frac{\partial f}{\partial v} \\ \frac{\partial w}{\partial y} &= \frac{\partial w}{\partial u} \cdot \frac{\partial u}{\partial y} + \frac{\partial w}{\partial v} \cdot \frac{\partial v}{\partial y} = \frac{\partial f}{\partial u} - \frac{\partial f}{\partial v} \end{aligned} \right. \xrightarrow{\text{اتحاد مزدوج}} \frac{\partial w}{\partial x} \cdot \frac{\partial w}{\partial y} = \left(\frac{\partial f}{\partial u}\right)^2 - \left(\frac{\partial f}{\partial v}\right)^2$$

مثال ۱۱: عبارت $w = f(y-z, z-x, x-y)$ جواب کدام معادله دیفرانسیل با مشتقات نسبی است؟

$$\frac{\partial w}{\partial x} = \frac{\partial w}{\partial z} + \frac{\partial w}{\partial y} \quad (۴) \quad \frac{\partial w}{\partial x} + \frac{\partial w}{\partial y} + \frac{\partial w}{\partial z} = 0 \quad (۳) \quad \frac{\partial w}{\partial z} = \frac{\partial w}{\partial x} + \frac{\partial w}{\partial y} \quad (۲) \quad \frac{\partial w}{\partial x} + \frac{\partial w}{\partial y} + \frac{\partial w}{\partial z} = 1 \quad (۱)$$

$$u = y - z, \quad v = z - x, \quad t = x - y$$

پاسخ: گزینه «۳» با استفاده از قاعده مشتق گیری زنجیره‌ای داریم:

$$\frac{\partial w}{\partial x} = \frac{\partial w}{\partial u} \cdot \frac{\partial u}{\partial x} + \frac{\partial w}{\partial v} \cdot \frac{\partial v}{\partial x} + \frac{\partial w}{\partial t} \cdot \frac{\partial t}{\partial x} = 0 - \frac{\partial w}{\partial v} + \frac{\partial w}{\partial t}, \quad \frac{\partial w}{\partial y} = \frac{\partial w}{\partial u} \cdot \frac{\partial u}{\partial y} + \frac{\partial w}{\partial v} \cdot \frac{\partial v}{\partial y} + \frac{\partial w}{\partial t} \cdot \frac{\partial t}{\partial y} = \frac{\partial w}{\partial u} + 0 - \frac{\partial w}{\partial t}$$

$$\frac{\partial w}{\partial z} = \frac{\partial w}{\partial u} \cdot \frac{\partial u}{\partial z} + \frac{\partial w}{\partial v} \cdot \frac{\partial v}{\partial z} + \frac{\partial w}{\partial t} \cdot \frac{\partial t}{\partial z} = -\frac{\partial w}{\partial u} + \frac{\partial w}{\partial v} + 0$$

$$\frac{\partial w}{\partial x} + \frac{\partial w}{\partial y} + \frac{\partial w}{\partial z} = -\frac{\partial w}{\partial v} + \frac{\partial w}{\partial t} + \frac{\partial w}{\partial u} - \frac{\partial w}{\partial t} - \frac{\partial w}{\partial u} + \frac{\partial w}{\partial v} = 0$$

لذا با جمع طرفین تساوی‌های فوق داریم:

مثال ۱۲: هرگاه داشته باشیم $z = r^2 \ln r$ و $r = \sqrt{x^2 + y^2}$ اگر $u = \frac{\partial^2 z}{\partial x^2} + \frac{\partial^2 z}{\partial y^2}$ حاصل $\frac{\partial^2 u}{\partial x^2} + \frac{\partial^2 u}{\partial y^2}$ برابر کدام است؟

$$\frac{2}{r} \quad (۴) \quad \frac{1}{r} \quad (۳) \quad 1 \quad (۲) \quad \text{صفر} \quad (۱)$$

پاسخ: گزینه «۱» چون $\frac{\partial r}{\partial x} = \frac{rx}{r\sqrt{x^2+y^2}} = \frac{x}{r}$ پس خواهیم داشت:

$$\frac{\partial z}{\partial x} = \frac{dz}{dr} \cdot \frac{\partial r}{\partial x} = (2r \ln r + r) \cdot \frac{x}{r} = 2x \ln r + x \Rightarrow \frac{\partial^2 z}{\partial x^2} = 2 \ln r + 2x \cdot \frac{1}{r} \cdot \frac{\partial r}{\partial x} + 1 = 1 + 2 \ln r + \frac{2x^2}{r^2}$$

و به خاطر تقارن ضابطه‌ی z نسبت به x و y داریم $\frac{\partial^2 z}{\partial y^2} = 1 + 2 \ln r + \frac{2y^2}{r^2}$ ، بنابراین خواهیم داشت:

$$u = 2 + 4 \ln r + \frac{2(x^2 + y^2)}{r^2} = 2 + 4 \ln r$$

$$\frac{\partial u}{\partial x} = \frac{du}{dr} \cdot \frac{\partial r}{\partial x} = \frac{4}{r} \cdot \frac{\partial r}{\partial x} = \frac{4x}{r^2} = \frac{4x}{x^2 + y^2} \Rightarrow \frac{\partial^2 u}{\partial x^2} = \frac{4(x^2 + y^2) - 8x^2}{(x^2 + y^2)^2} = \frac{4(y^2 - x^2)}{(x^2 + y^2)^2}$$

و بنا به تقارن $\frac{\partial^2 u}{\partial y^2} = \frac{4(x^2 - y^2)}{(x^2 + y^2)^2}$ و لذا مجموع آن‌ها صفر است.

مثال ۱۳: معادله $\frac{\partial^2 u}{\partial r^2} + \frac{2}{r} \frac{\partial u}{\partial r} = \frac{\partial u}{\partial t}$ با تغییر متغیر $u = \frac{w}{r}$ به کدام یک از معادلات زیر تبدیل می‌شود؟

$$\frac{\partial^2 w}{\partial r^2} + \frac{1}{r} \frac{\partial w}{\partial r} = \frac{\partial w}{\partial t} \quad (۴) \quad \frac{1}{r} \frac{\partial^2 w}{\partial r^2} = \frac{\partial w}{\partial t} \quad (۳) \quad \frac{\partial^2 w}{\partial r^2} = \frac{\partial w}{\partial t} \quad (۲) \quad r \frac{\partial^2 w}{\partial r^2} = \frac{\partial w}{\partial t} \quad (۱)$$

پاسخ: گزینه «۲» از معادله داده شده مشخص است که u تابعی از r و t می‌باشد، یعنی r و t متغیرهای مستقل می‌باشند.

$$\frac{\partial u}{\partial r} = \frac{1}{r} w_r - \frac{1}{r^2} w \Rightarrow \frac{\partial^2 u}{\partial r^2} = \frac{1}{r} w_{rr} - \frac{1}{r^2} w_r - \frac{1}{r^2} w_r + \frac{2}{r^3} w = \frac{1}{r} w_{rr} - \frac{2}{r^2} w_r + \frac{2}{r^3} w$$

$$\frac{\partial u}{\partial t} = \frac{1}{r} w_t$$

با جایگذاری مقادیر به دست آمده در بالا، در معادله داده شده نتیجه می‌شود:

$$\frac{1}{r} w_{rr} - \frac{2}{r^2} w_r + \frac{2}{r^3} w + \frac{2}{r^2} w_r - \frac{2}{r^3} w = \frac{1}{r} w_t \Rightarrow \frac{1}{r} w_{rr} = \frac{1}{r} w_t \Rightarrow w_{rr} = w_t \Rightarrow \frac{\partial^2 w}{\partial r^2} = \frac{\partial w}{\partial t}$$

مثال ۱۴: در رابطه $z = e^{x-y-2z} + 2xy + x^2z$ متغیرهای x و y مستقل از یکدیگرند، مقدار $\frac{\partial z}{\partial x}$ در نقطه $(1, -1, 1)$ کدام است؟

$$3 \quad (۴) \quad 2 \quad (۳) \quad -2 \quad (۲) \quad -3 \quad (۱)$$

$$\frac{\partial z}{\partial x} = -\frac{F'_x}{F'_z} = -\frac{2xz + e^{x-y-2z}}{x^2 - 2e^{x-y-2z}} \Rightarrow \frac{\partial z}{\partial x}(1, -1, 1) = -\frac{2 \times 1 \times 1 + e^{1+1-2}}{1 - 2e^{1+1-2}} = 3$$

پاسخ: گزینه «۴»



کله مثال ۱۵: هرگاه $x^y + y^z + z = 3$ باشد، حاصل z'_y در نقطه $A(1,1,1)$ کدام است؟

(۴) تابع مشتق ندارد.

(۳) -۱

(۲) صفر

(۱) ۱

پاسخ: گزینه «۳» همه‌ی جملات داده شده را به یک طرف منتقل می‌کنیم:

$$F(x, y, z) = x^y + y^z + z - 3 = 0$$

$$\frac{\partial z}{\partial y} = -\frac{F'_y}{F'_z} = -\frac{x^y \text{Ln} x + zy^{z-1}}{y^z \text{Ln} y + 1} \Rightarrow \frac{\partial z}{\partial y}(1,1,1) = -1$$

حالا با مشتق‌گیری ضمنی داریم:

کله مثال ۱۶: فرض کنید f تابعی مشتق‌پذیر بوده و z به عنوان تابعی بر حسب x و y توسط معادله ضمنی $f(x+y, z-y) = 0$ داده شده باشد. در این صورت z در کدامیک از معادلات زیر صدق می‌کند؟

$$\frac{\partial z}{\partial y} - \frac{\partial z}{\partial x} = 0 \quad (۴)$$

$$\frac{\partial z}{\partial x} + \frac{\partial z}{\partial y} = 0 \quad (۳)$$

$$\frac{\partial z}{\partial x} - \frac{\partial z}{\partial y} = -1 \quad (۲)$$

$$\frac{\partial z}{\partial x} + \frac{\partial z}{\partial y} = 1 \quad (۱)$$

پاسخ: گزینه «۲» باید z_x و z_y را محاسبه کنیم. فرمول داده شده را F می‌گیریم و از مشتق ضمنی استفاده می‌کنیم. اگر f_1 مشتق f نسبت به مؤلفه اول و f_2 مشتق f نسبت به مؤلفه دوم باشد، داریم:

$$z_x = \frac{\partial z}{\partial x} = -\frac{F'_x}{F'_z} = -\frac{f_1 + 0}{0 + f_2} = -\frac{f_1}{f_2} \Rightarrow z_y = \frac{\partial z}{\partial y} = -\frac{F'_y}{F'_z} = -\frac{f_1 - f_2}{0 + f_2} = 1 - \frac{f_1}{f_2} \Rightarrow z_x - z_y = -1$$

کله مثال ۱۷: اگر $u = x \text{Ln}(xy)$ باشد و داشته باشیم $x^z + y^z + 3xy = 1$ مقدار $\frac{du}{dx}$ کدام است؟

$$1 + \frac{y(y^z + x)}{x(x^z + y)} \quad (۴)$$

$$1 + \text{Ln} xy + \frac{y(y^z + x)}{x(x^z + y)} \quad (۳)$$

$$1 + \text{Ln} xy - \frac{x(x^z + y)}{y(y^z + x)} \quad (۲)$$

$$1 - \frac{x(x^z + y)}{y(y^z + x)} \quad (۱)$$

$$y' = \frac{dy}{dx} = -\frac{F'_x}{F'_y} = -\frac{zx^z + 3y}{3y^z + 3x} = -\frac{x^z + y}{y^z + x}$$

پاسخ: گزینه «۲» با فرض آنکه y تابعی از x باشد از $F: x^z + y^z + 3xy - 1 = 0$ داریم:

$$\frac{du}{dx} = \text{Ln} xy + x \frac{y + xy'}{xy} = 1 + \text{Ln} xy + \frac{xy'}{y} = 1 + \text{Ln} xy - \frac{x(x^z + y)}{y(y^z + x)}$$

حال از $u = x \text{Ln}(xy)$ نسبت به x مشتق می‌گیریم:

کله مثال ۱۸: هرگاه $f(x, y) = (x^z + y^z) \text{tg}\left(\frac{\sqrt{x} - \sqrt{y}}{\sqrt{x+y}}\right)$ باشد، آنگاه حاصل عبارت $x \frac{\partial f}{\partial x} + y \frac{\partial f}{\partial y}$ کدام است؟

(۴) صفر

(۳) $3f$

(۲) $2f$

(۱) f

پاسخ: گزینه «۲» با توجه به خواسته مسأله ابتدا بررسی می‌کنیم که آیا تابع f همگن است:

$$f(\lambda x, \lambda y) = (\lambda^z x^z + \lambda^z y^z) \text{tg}\left(\frac{\sqrt{\lambda x} - \sqrt{\lambda y}}{\sqrt{\lambda x + \lambda y}}\right) = \lambda^z (x^z + y^z) \text{tg}\left(\frac{\sqrt{\lambda}(\sqrt{x} - \sqrt{y})}{\sqrt{\lambda} \sqrt{x+y}}\right) = \lambda^z f(x, y)$$

$$x \frac{\partial f}{\partial x} + y \frac{\partial f}{\partial y} = 2f(x, y)$$

تابع f تابعی همگن از درجه ۲ می‌باشد، لذا طبق قضیه اویلر داریم:

کله مثال ۱۹: کدام تابع در معادله $x \frac{\partial f}{\partial x} + y \frac{\partial f}{\partial y} = 2f$ صدق می‌کند؟

$$f(x, y) = x^z \text{Ln} \frac{x}{y} - xy \quad (۴)$$

$$f(x, y) = \frac{x^z + y^z}{xy} \quad (۳)$$

$$f(x, y) = 1 + \sin \frac{x}{y} \quad (۲)$$

$$f(x, y) = \sqrt{x} - \sqrt{y} \quad (۱)$$

پاسخ: گزینه «۴» طبق قضیه اویلر، باید تابعی را انتخاب کنیم که همگن از درجه ۲ باشد، تنها گزینه ۴، همگن از درجه دو می‌باشد (گزینه ۱)

از درجه $\frac{1}{2}$ است و گزینه‌های (۲) و (۳) همگن از درجه ۰ می‌باشند.

مثال ۲۰: در تابع $z = \frac{\log x - \log y}{x^2 + y^2}$ اگر $x \frac{\partial z}{\partial x} + y \frac{\partial z}{\partial y} + az = 0$ باشد، a کدام است؟

- (۱) $\log e$ (۲) $\ln 10$ (۳) -2 (۴) 2

پاسخ: گزینه «۴» ابتدا توجه کنید با استفاده از رابطه $\log x - \log y = \log \frac{x}{y}$ ، عبارت را بازنویسی می‌کنیم:

$$z = \frac{\log x - \log y}{x^2 + y^2} = \frac{\log \frac{x}{y}}{x^2 + y^2} \Rightarrow z = \frac{\log \frac{\lambda x}{\lambda y}}{(\lambda x)^2 + (\lambda y)^2} = \frac{\log \frac{x}{y}}{\lambda^2 (x^2 + y^2)} = \lambda^{-2} \left(\frac{\log \frac{x}{y}}{x^2 + y^2} \right)$$

پس z تابعی همگن از درجه -2 می‌باشد، و در نتیجه طبق قضیه اویلر داریم:

$$x \frac{\partial z}{\partial x} + y \frac{\partial z}{\partial y} = -2z \Rightarrow x \frac{\partial z}{\partial x} + y \frac{\partial z}{\partial y} + 2z = 0 \Rightarrow a = 2$$

مثال ۲۱: هرگاه $f(x, y) = \sin \frac{\sqrt{x^2 + y^2}}{x + y}$ باشد، آن‌گاه حاصل $\frac{\partial f}{\partial x} - \frac{\partial f}{\partial y}$ کدام است؟

- (۱) $\frac{x}{y}$ (۲) $\frac{y}{x}$ (۳) $-\frac{x}{y}$ (۴) $-\frac{y}{x}$

پاسخ: گزینه «۴» توجه کنید که تابع f همگن از درجه صفر است، زیرا داریم:

$$f(\lambda x, \lambda y) = \sin \frac{\sqrt{\lambda^2 (x^2 + y^2)}}{\lambda(x + y)} = \sin \frac{\lambda \sqrt{x^2 + y^2}}{\lambda(x + y)} = \sin \frac{\sqrt{x^2 + y^2}}{x + y} = f(x, y)$$

بنابراین طبق قضیه اویلر داریم:

$$x \frac{\partial f}{\partial x} + y \frac{\partial f}{\partial y} = 0 \Rightarrow x \frac{\partial f}{\partial x} = -y \frac{\partial f}{\partial y} \Rightarrow \frac{\partial f}{\partial x} = -\frac{y}{x} \frac{\partial f}{\partial y}$$

مثال ۲۲: در تابع $z = \frac{x^2}{y} - \frac{x}{x + y}$ حاصل $A = x \frac{\partial z}{\partial x} + y \frac{\partial z}{\partial y}$ کدام است؟

- (۱) $\frac{x^2}{y}$ (۲) $\frac{x}{y}$ (۳) z (۴) صفر

پاسخ: گزینه «۱» توجه شود تابع z از جمع جبری دو تابع $z_1 = \frac{x^2}{y}$ و $z_2 = -\frac{x}{x + y}$ حاصل می‌گردد که تابع z_1 همگن از درجه یک و تابع z_2 همگن از درجه صفر می‌باشد، لذا طبق قضیه اویلر مقدار A برابر خواهد بود با:

$$A = 1 \times z_1 + 0 \times z_2 = \frac{x^2}{y}$$

مثال ۲۳: اگر $u = \text{Arctg} \frac{x^2 - y^2}{x + y}$ ، حاصل $x \frac{\partial u}{\partial x} + y \frac{\partial u}{\partial y}$ کدام است؟

- (۱) $\cos 2u$ (۲) $\sin 2u$ (۳) τu (۴) τtgu

پاسخ: گزینه «۲» تابع داده شده در صورت سوال همگن نیست، ولی $\text{tgu} = \frac{x^2 - y^2}{x + y}$ می‌باشد که یک عبارت همگن از درجه ۲ است،

بنابراین قرار می‌دهیم $F(u) = \text{tgu}$ در این صورت طبق نکته فوق داریم:

$$x \frac{\partial u}{\partial x} + y \frac{\partial u}{\partial y} = 2 \times \frac{\text{tgu}}{1 + \text{tg}^2 u} = \sin 2u$$

مثال ۲۴: اگر $u = \text{Arcsin} \left(\frac{x + y}{\sqrt{x} + \sqrt{y}} \right)$ آن‌گاه حاصل $x \frac{\partial u}{\partial x} + y \frac{\partial u}{\partial y}$ کدام است؟

- (۱) $\cos u$ (۲) $\sin u$ (۳) $\frac{1}{2} \text{tgu}$ (۴) tgu

پاسخ: گزینه «۳»

$$u = \text{Arcsin} \left(\frac{x + y}{\sqrt{x} + \sqrt{y}} \right) \Rightarrow F(u) = \sin u = \frac{x + y}{\sqrt{x} + \sqrt{y}}$$

تابع $\frac{x + y}{\sqrt{x} + \sqrt{y}}$ همگن از درجه $n = \frac{1}{2}$ می‌باشد، لذا داریم:

$$x \frac{\partial u}{\partial x} + y \frac{\partial u}{\partial y} = \frac{1}{2} \frac{F(u)}{F'(u)} = \frac{1}{2} \times \frac{\sin u}{\cos u} = \frac{\text{tgu}}{2}$$



مثال ۲۵: تابع $z = yf\left(\frac{x}{y}\right) + \frac{y}{x}F\left(\frac{x}{y}\right)$ در کدامیک از معادلات زیر صدق می‌کند؟

$$z_{xx} - 2z_{xy} + z_{yy} = 0 \quad (۴) \quad z_{xx} + 2z_{xy} + z_{yy} = 0 \quad (۳) \quad x^2 z_{xx} + y^2 z_{yy} = 0 \quad (۲) \quad x^2 z_{xx} + 2xyz_{xy} + y^2 z_{yy} = 0 \quad (۱)$$

پاسخ: گزینه «۱» تابع z از جمع جبری دو تابع $z_1 = yf\left(\frac{x}{y}\right)$ و $z_2 = \frac{y}{x}F\left(\frac{x}{y}\right)$ حاصل می‌گردد که تابع z_1 همگن از درجه یک و تابع z_2 همگن از

درجه صفر است، لذا داریم: $x^2 z_{xx} + 2xyz_{xy} + y^2 z_{yy} = 1(1-1) \times z_1 + 0(0-1) \times z_2 = 0$

مثال ۲۶: اگر (r, θ) مختصات قطبی باشد و داشته باشیم $u = Ar + B$ که A و B ثابت هستند کدام حکم زیر نتیجه می‌شود؟

$$\frac{\partial^2 u}{\partial x^2} + \frac{\partial^2 u}{\partial y^2} = 0 \quad (۲) \quad \frac{\partial^2 u}{\partial x \partial y} = 0 \quad (۱)$$

$$\cos^2 \theta \frac{\partial^2 u}{\partial x^2} + 2 \sin \theta \cos \theta \frac{\partial^2 u}{\partial x \partial y} + \sin^2 \theta \frac{\partial^2 u}{\partial y^2} = 0 \quad (۴) \quad \frac{\partial^2 u}{\partial x^2} - \frac{\partial^2 u}{\partial y^2} = 0 \quad (۳)$$

پاسخ: گزینه «۴» چون $r = \sqrt{x^2 + y^2}$ پس $u = A\sqrt{x^2 + y^2} + B$ توجه کنید که $\sqrt{x^2 + y^2}$ همگن از درجه ۱ و B همگن از درجه ۰ است.

بنابراین طبق نکته‌ی گفته شده در این مورد، نتیجه می‌شود: $x^2 u_{xx} + 2xyu_{xy} + y^2 u_{yy} = n(n-1)u = 0$

با جایگذاری $x = r \cos \theta$ و $y = r \sin \theta$ و تقسیم طرفین بر r^2 خواهیم داشت: $\cos^2 \theta \frac{\partial^2 u}{\partial x^2} + 2 \sin \theta \cos \theta \frac{\partial^2 u}{\partial x \partial y} + \sin^2 \theta \frac{\partial^2 u}{\partial y^2} = 0$

مثال ۲۷: اگر $u = x^2 - y^2$ ، $v = 2xy$ ، $x = r \cos \theta$ و $y = r \sin \theta$ باشد، حاصل $\frac{\partial(u, v)}{\partial(r, \theta)}$ کدام است؟

$$4r^3 \quad (۴) \quad 2r^3 \quad (۳) \quad 4r^2 \quad (۲) \quad 2r^2 \quad (۱)$$

پاسخ: گزینه «۴» ابتدا u و v را بر حسب r و θ به دست می‌آوریم.

$$\begin{cases} v = 2xy = 2r^2 \sin \theta \cos \theta = r^2 \sin 2\theta \\ u = x^2 - y^2 = r^2 \cos^2 \theta - r^2 \sin^2 \theta = r^2 \cos 2\theta \end{cases} \Rightarrow \frac{\partial(u, v)}{\partial(r, \theta)} = \begin{vmatrix} 2r \cos 2\theta & -2r^2 \sin 2\theta \\ 2r \sin 2\theta & 2r^2 \cos 2\theta \end{vmatrix} = 4r^3$$

مثال ۲۸: اگر $u = x^2 + y^2 + z^2$ ، $v = x + y + z$ ، $w = xy + yz + zx$ ، حاصل $\frac{\partial(u, v, w)}{\partial(x, y, z)}$ کدام است؟

$$x^2 y^2 z^2 \quad (۴) \quad xyz \quad (۳) \quad ۱ \quad (۲) \quad \text{صفر} \quad (۱)$$

پاسخ: گزینه «۱»

$$\frac{\partial(u, v, w)}{\partial(x, y, z)} = \begin{vmatrix} 2x & 2y & 2z \\ 1 & 1 & 1 \\ y+z & x+z & x+y \end{vmatrix} \xrightarrow{\text{روش ساروس}} 2x(x+y) + 2y(y+z) + 2z(x+z) - 2z(y+z) - 2y(x+y) - 2x(x+z) = 0$$

توضیح: در حالتی که $x = y = z$ باشد، سطرهای اول و سوم ماتریس با هم برابر می‌شوند؛ پس دترمینان صفر است. حال در گزینه‌ها هر کدام از آن‌ها که

به ازای $x = y = z$ برابر صفر شد، جواب است، لذا فقط گزینه (۱) می‌تواند صحیح باشد.

کله مثال ۲۹: اگر $u = xyz$ ، $v = xy + yz + zx$ ، $w = x + y + z$ ، آن گاه حاصل $\frac{\partial(u, v, w)}{\partial(x, y, z)}$ کدام است؟

- (۱) ۱ (۲) ۰ (۳) $(x - y)(y - z)(z - x)$ (۴) $(y - x)(y - z)(z - x)$

پاسخ: گزینه «۳» ابتدا دترمینان مربوطه را تشکیل می‌دهیم:

$$\frac{\partial(u, v, w)}{\partial(x, y, z)} = \begin{vmatrix} \frac{\partial u}{\partial x} & \frac{\partial u}{\partial y} & \frac{\partial u}{\partial z} \\ \frac{\partial v}{\partial x} & \frac{\partial v}{\partial y} & \frac{\partial v}{\partial z} \\ \frac{\partial w}{\partial x} & \frac{\partial w}{\partial y} & \frac{\partial w}{\partial z} \end{vmatrix} = \begin{vmatrix} yz & xz & xy \\ y+z & x+z & y+x \\ 1 & 1 & 1 \end{vmatrix} = \begin{vmatrix} yz-xy & xz-xy & xy \\ z-x & z-y & x+y \\ 0 & 0 & 1 \end{vmatrix}$$

در تساوی فوق ستون سوم را از ستون‌های اول و دوم کم کردیم:

$$\begin{vmatrix} y(z-x) & x(z-y) & xy \\ z-x & z-y & x+y \\ 0 & 0 & 1 \end{vmatrix} = (z-x)(z-y) \begin{vmatrix} y & x & xy \\ 1 & 1 & x+y \\ 0 & 0 & 1 \end{vmatrix} = (z-x)(z-y)[(-1)^{r+c}(y \times 1 - x \times 1)]$$

با توجه به وجود دو صفر در سطر سوم، بسط مناسب دترمینان را با توجه به این سطر نوشته و حاصل دترمینان برابر با $y - x$ می‌شود و لذا حاصل ژاکوبین برابر با مقدار مقابل است:

$$(z-x)(z-y)(y-x) = (z-x)(-1)(y-z)(-1)(x-y) = (z-x)(y-z)(x-y)$$

کله مثال ۳۰: اگر $u^2 + v = x - y$ و $u + v^2 = x + y$ باشد، آن گاه $(\frac{\partial u}{\partial x})_y$ کدام است؟

- (۱) $\frac{2v+1}{4uv-1}$ (۲) $\frac{2v-1}{4uv-1}$ (۳) $\frac{2u+1}{4uv-1}$ (۴) $\frac{2u-1}{4uv-1}$

پاسخ: گزینه «۲» نماد $(\frac{\partial u}{\partial x})_y$ یعنی از u بر حسب x مشتق بگیریم در حالی که متغیر دیگر y فرض شده است، یعنی u و v توابعی از x و y هستند.

$$\begin{cases} F(x, y, u, v) = u^2 + v - x + y = 0 \\ G(x, y, u, v) = u + v^2 - x - y = 0 \end{cases} \Rightarrow \frac{\partial u}{\partial x} = - \frac{\frac{\partial(F, G)}{\partial(x, v)}}{\frac{\partial(F, G)}{\partial(u, v)}} = - \frac{\begin{vmatrix} F_x & F_v \\ G_x & G_v \end{vmatrix}}{\begin{vmatrix} F_u & F_v \\ G_u & G_v \end{vmatrix}} = - \frac{\begin{vmatrix} -1 & 1 \\ -1 & 2v \end{vmatrix}}{\begin{vmatrix} 2u & 1 \\ 1 & 2v \end{vmatrix}} = \frac{2v-1}{4uv-1}$$

کله مثال ۳۱: اگر $1 = x - y + u^2 + v^2$ و $2 = x + y + u^2 e^v$ باشد، آن گاه $(\frac{\partial u}{\partial y})_x$ کدام است؟

- (۱) $\frac{u^2 - 2ve^{-v}}{2u^4 - 6u^2v}$ (۲) $\frac{u^2 + 2ve^{-v}}{2u^4 - 6u^2v}$ (۳) $\frac{u^2 + 2ve^{-v}}{2u^4 + 6u^2v}$ (۴) $\frac{u^2 - 2ve^{-v}}{2u^4 + 6u^2v}$

پاسخ: گزینه «۲» نماد $(\frac{\partial u}{\partial y})_x$ یعنی از u بر حسب y مشتق بگیریم در حالی که x نیز متغیر است. بنابراین در این مثال x و y متغیرها و u و v

دو تابع بر حسب x و y هستند.

$$\begin{cases} F(x, y, u, v) = x - y + u^2 + v^2 - 1 = 0 \\ G(x, y, u, v) = x + y + u^2 e^v - 2 = 0 \end{cases}$$

$$\frac{\partial u}{\partial y} = - \frac{\frac{\partial(F, G)}{\partial(y, v)}}{\frac{\partial(F, G)}{\partial(u, v)}} = - \frac{\begin{vmatrix} -1 & 2v \\ 1 & u^2 e^v \end{vmatrix}}{\begin{vmatrix} 2u & 2v \\ 2u^2 e^v & u^2 e^v \end{vmatrix}} = \frac{u^2 e^v + 2v}{2u^2 e^v - 6u^2 v} = \frac{u^2 + 2ve^{-v}}{2u^4 - 6u^2 v}$$



کلمه مثال ۳۲: فرض کنید در یک همسایگی از نقطه‌ی $(x, y) = (1, 1)$ توابع $w = w(x, y)$ و $z = z(x, y)$ در معادله‌های $2x^2 + y^2 + z^2 - zw = 0$ و $x^2 + y^2 + 2z^2 + zw - 8 = 0$ در نقطه مذکور کدام اند؟
 (۱) ± 6 و -1 (۲) ± 2 و -1 (۳) ± 4 و ± 1 (۴) ± 2 و ± 4

پاسخ: گزینه «۱» معادلات داده شده را به ترتیب F_1 و F_2 فرض می‌کنیم، در این صورت:

$$\frac{\partial(F_1, F_2)}{\partial(z, w)} = \begin{vmatrix} 2z - w & -z \\ 4z + w & z \end{vmatrix} = 6z^2$$

$$\frac{\partial(F_1, F_2)}{\partial(x, w)} = \begin{vmatrix} 4x & -z \\ 2x & z \end{vmatrix} = 6xz, \quad \frac{\partial(F_1, F_2)}{\partial(z, x)} = \begin{vmatrix} 2z - w & 4x \\ 4z + w & 2x \end{vmatrix} = -12xz - 6wx$$

در همسایگی نقطه $(1, 1)$ ، مقادیر $z = 1, w = 4$ یا $z = -1, w = -4$ به دست می‌آیند، بنابراین داریم:

$$\frac{\partial z}{\partial x} = -\frac{\frac{\partial(F_1, F_2)}{\partial(x, w)}}{\frac{\partial(F_1, F_2)}{\partial(z, w)}} = -\frac{6xz}{6z^2} = -\frac{x}{z} = \pm 1 \quad \text{و} \quad \frac{\partial w}{\partial x} = -\frac{\frac{\partial(F_1, F_2)}{\partial(z, x)}}{\frac{\partial(F_1, F_2)}{\partial(z, w)}} = -\frac{-12xz - 6wx}{6z^2} = \frac{x(2z + w)}{z^2} = \pm 6$$

کلمه مثال ۳۳: روابط $\begin{cases} xy - e^{z-x} = 0 \\ x^2y + x^2z^2 - 2z = 0 \end{cases}$ بین سه متغیر x و y و z داده شده‌اند، می‌دانیم که در نزدیکی نقطه $(x, y, z) = (1, 1, 1)$ می‌توان z را به عنوان تابعی مشتق‌پذیر از x در نظر گرفت. در این صورت کدام حکم در نقطه $(1, 1, 1)$ درست است؟

$$\frac{dz}{dx} = 2, \quad \frac{dy}{dx} = 3 \quad (1) \quad \frac{dz}{dx} = -2, \quad \frac{dy}{dx} = -3 \quad (2) \quad \frac{dz}{dx} = -3, \quad \frac{dy}{dx} = -5 \quad (3) \quad \frac{dz}{dx} = 3, \quad \frac{dy}{dx} = 5 \quad (4)$$

پاسخ: گزینه «۳» روابط داده شده را با $F: xy - e^{z-x} = 0$ و $G: x^2y + x^2z^2 - 2z = 0$ نشان می‌دهیم. داریم:

$$\frac{\partial(F, G)}{\partial(y, z)} = \begin{vmatrix} x & -e^{z-x} \\ x^2 & 2xz^2 - 2 \end{vmatrix} = \begin{vmatrix} 1 & -1 \\ 1 & 0 \end{vmatrix} = 1$$

$$\frac{\partial(F, G)}{\partial(x, z)} = \begin{vmatrix} y + e^{z-x} & -e^{z-x} \\ 2xy + 2xz^2 & 2xz^2 - 2 \end{vmatrix} = \begin{vmatrix} 2 & -1 \\ 5 & 0 \end{vmatrix} = 5 \Rightarrow \frac{dy}{dx} = -\frac{\frac{\partial(F, G)}{\partial(x, z)}}{\frac{\partial(F, G)}{\partial(y, z)}} = -\frac{5}{1} = -5, \quad \frac{dz}{dx} = -\frac{\frac{\partial(F, G)}{\partial(x, y)}}{\frac{\partial(F, G)}{\partial(y, z)}} = -\frac{-3}{-1} = -3$$

$$\frac{\partial(F, G)}{\partial(x, y)} = \begin{vmatrix} y + e^{z-x} & x \\ 2xy + 2xz^2 & x^2 \end{vmatrix} = \begin{vmatrix} 2 & 1 \\ 5 & 1 \end{vmatrix} = -3$$

توجه کنید که $-\frac{\partial(F, G)}{\partial(z, y)} = -\frac{\partial(F, G)}{\partial(y, z)} = -1$ است.

کلمه مثال ۳۴: اگر $F(x, y, z, u, v) = xy^2 + zv + v^2 - 2$ ، $G(x, y, z, u, v) = x^2z + 2y - uv - 2$ و $H(x, y, z, u, v) = xu + yv - xyz - 1$ آن‌گاه مقدار

$$\frac{\partial(F, G, H)}{\partial(y, x, z)}$$
 در نقطه‌ی $x = y = z = u = v = 1$ کدام است؟

$$-4 \quad (4)$$

$$2 \quad (3)$$

$$4 \quad (2)$$

$$-2 \quad (1)$$

پاسخ: گزینه «۴» ژاکوبین موردنظر برابر است با:

$$\frac{\partial(F, G, H)}{\partial(y, x, z)} = \begin{vmatrix} 2xy & y^2 & v \\ 2 & 2xz^2 & x^2 \\ v - xz & u - yz & -xy \end{vmatrix} \xrightarrow{x=y=z=u=v=1} \begin{vmatrix} 2 & 1 & 1 \\ 2 & 3 & 1 \\ 0 & 0 & -1 \end{vmatrix} = -4$$

کلمه مثال ۳۵: با کدام شرط زیر می‌توان از روابط $\begin{cases} u = x^2 + y^2 \\ v = xy \end{cases}$ متغیرهای x, y را به عنوان تابعی از u, v در نظر گرفت؟

$$xy \neq 1 \quad (4)$$

$$xy = 1 \quad (3)$$

$$x^2 \neq y^2 \quad (2)$$

$$x^2 = y^2 \quad (1)$$

پاسخ: گزینه «۲» طبق نکته فوق بایستی $\frac{\partial(u, v)}{\partial(x, y)} \neq 0$ باشد، یعنی داریم:

$$\frac{\partial(u, v)}{\partial(x, y)} = \begin{vmatrix} 2x & 2y \\ y & x \end{vmatrix} = 2x^2 - 2y^2 \neq 0 \Rightarrow x^2 \neq y^2$$

مثال ۳۶: در کدام نقاط (u, v) نمی‌توان دستگاه معادلات $y = uv - v^2$ و $x = u^2 + v^2$ را بر حسب u و v (به عنوان توابعی از x و y) حل نمود؟

$$u^2 - 2uv - v^2 = 0 \quad (۴) \quad u^2 - uv - v^2 = 0 \quad (۳) \quad uv = v^2 \quad (۲) \quad u = 2v \quad (۱)$$

پاسخ: گزینه «۴» اگر $F_1 = u^2 + v^2 - x = 0$ و $F_2 = uv - v^2 - y = 0$ با توجه به قضیه تابع ضمنی شرط آنکه u و v توابعی از x و y باشند آن است که:

$$\frac{\partial(F_1, F_2)}{\partial(u, v)} \neq 0 \Rightarrow \begin{vmatrix} 2u & 2v \\ v & u - 2v \end{vmatrix} = 2u^2 - 4uv - 2v^2 \neq 0 \Rightarrow u^2 - 2uv - v^2 \neq 0$$

مثال ۳۷: در کدامیک از نواحی زیر تابع $f(x, y) = (x^2 + y^2 + xy, 1 + xy)$ معکوس دارد؟

(۱) کل ناحیه \mathbb{R}^2 به جزء مبدأ

(۳) کل ناحیه \mathbb{R}^2 به جز نیمساز ربع اول و سوم و نیمساز ربع دوم و چهارم

پاسخ: گزینه «۳» قرار می‌دهیم $\begin{cases} u = x^2 + y^2 + xy \\ v = xy + 1 \end{cases}$ برای معکوس‌پذیری تابع فوق لازم است ژاکوبین یا به عبارتی $\frac{\partial(u, v)}{\partial(x, y)}$ مخالف صفر باشد،

$$\frac{\partial(u, v)}{\partial(x, y)} = \begin{vmatrix} 2x + y & 2y + x \\ y & x \end{vmatrix} = 2x^2 + xy - 2y^2 - xy = 2(x^2 - y^2) \neq 0$$

یعنی داریم:

در نتیجه $x^2 \neq y^2$ یا به عبارتی $x \neq \pm y$ باشد.

مثال ۳۸: اگر $x = t \cos t$ و $y = t \sin t$ و $z = x^2 + 2xy + y^2$ مقدار $\frac{dz}{dt}$ در $t = \frac{\pi}{4}$ کدام است؟

$$\pi(2 + \frac{\pi}{4}) \quad (۴) \quad \pi(1 + \frac{\pi}{4}) \quad (۳) \quad \pi(2 - \frac{\pi}{4}) \quad (۲) \quad \pi(1 - \frac{\pi}{4}) \quad (۱)$$

پاسخ: گزینه «۱» می‌توانیم از قاعده مشتق‌گیری زنجیری استفاده کنیم، ولی جایگذاری و محاسبه مستقیم ساده‌تر می‌باشد.

$$z = t^2 \cos^2 t + 2t \cos t \times t \sin t + t^2 \sin^2 t = t^2 + t^2 \sin 2t \Rightarrow \frac{dz}{dt} = 2t + 2t \sin 2t + 2t^2 \cos 2t \xrightarrow{t = \frac{\pi}{4}} \frac{dz}{dt} = \pi - \frac{\pi^2}{2} = \pi(1 - \frac{\pi}{2})$$

مثال ۳۹: اگر $z = f(u, v)$ و $u = x - y$ و $v = x^2 y$ باشد، $\frac{\partial z}{\partial x}$ برابر است با:

$$2xy \frac{\partial z}{\partial v} + \frac{\partial z}{\partial u} \quad (۴) \quad -y \frac{\partial z}{\partial u} + 2xy \frac{\partial z}{\partial v} \quad (۳) \quad \frac{\partial z}{\partial u} + 2 \frac{\partial z}{\partial v} \quad (۲) \quad \frac{\partial z}{\partial u} + y \frac{\partial z}{\partial v} \quad (۱)$$

پاسخ: گزینه «۴» از قاعده مشتق‌گیری زنجیری استفاده می‌کنیم.

$$\frac{\partial z}{\partial x} = \frac{\partial z}{\partial u} \cdot \frac{\partial u}{\partial x} + \frac{\partial z}{\partial v} \cdot \frac{\partial v}{\partial x} = \frac{\partial z}{\partial u} \cdot 1 + \frac{\partial z}{\partial v} \cdot 2xy = 2xy \frac{\partial z}{\partial v} + \frac{\partial z}{\partial u}$$

مثال ۴۰: اگر $u = x^2 + y^2 + z^2$ ، $v = x + y + z$ ، $w = xy + yz + zx$ ، حاصل $\frac{\partial(u, v, w)}{\partial(x, y, z)}$ کدام است؟

$$x^2 y^2 z^2 \quad (۴) \quad xyz \quad (۳) \quad 1 \quad (۲) \quad \text{صفر} \quad (۱)$$

پاسخ: گزینه «۱»

$$\frac{\partial(u, v, w)}{\partial(x, y, z)} = \begin{vmatrix} \frac{\partial u}{\partial x} & \frac{\partial u}{\partial y} & \frac{\partial u}{\partial z} \\ \frac{\partial v}{\partial x} & \frac{\partial v}{\partial y} & \frac{\partial v}{\partial z} \\ \frac{\partial w}{\partial x} & \frac{\partial w}{\partial y} & \frac{\partial w}{\partial z} \end{vmatrix} = \begin{vmatrix} 2x & 2y & 2z \\ 1 & 1 & 1 \\ y+z & x+z & x+y \end{vmatrix}$$

دترمینان ماتریس فوق به ازای $x = y = z = 1$ برابر صفر می‌شود و با توجه به گزینه‌ها، فقط گزینه (۱) می‌تواند صحیح باشد.



(صنایع - سیستم - سراسری ۷۹)

کله مثال ۴۱: اگر $z = x^{\Delta} f\left(\frac{y}{x^{\Gamma}}\right)$ حاصل عبارت $x \frac{\partial z}{\partial x} + \Gamma y \frac{\partial z}{\partial y} - \Delta z$ کدام است؟

$$\frac{y}{x} \cdot f'\left(\frac{y}{x^{\Gamma}}\right) \quad (۴) \quad \frac{-y}{x^{\Gamma}} + f'\left(\frac{y}{x^{\Gamma}}\right) \quad (۳) \quad -z \quad (۱) \quad ۰ \quad (۲)$$

$$z = x^{\Delta} f\left(\frac{y}{x^{\Gamma}}\right) \Rightarrow \frac{\partial z}{\partial x} = \Delta x^{\Delta-1} f\left(\frac{y}{x^{\Gamma}}\right) - \Gamma y x^{\Delta-1} f'\left(\frac{y}{x^{\Gamma}}\right), \quad \frac{\partial z}{\partial y} = x^{\Delta} f'\left(\frac{y}{x^{\Gamma}}\right)$$

پاسخ: گزینه «۲» ابتدا توجه کنید که:

$$x \frac{\partial z}{\partial x} + \Gamma y \frac{\partial z}{\partial y} - \Delta z = \Delta x^{\Delta} f\left(\frac{y}{x^{\Gamma}}\right) - \Gamma y x^{\Delta-1} f'\left(\frac{y}{x^{\Gamma}}\right) + \Gamma y x^{\Delta} f'\left(\frac{y}{x^{\Gamma}}\right) - \Delta z = 0$$

بنابراین داریم:

(ژئوفیزیک و هواشناسی - سراسری ۷۹)

کله مثال ۴۲: اگر $f(x, y) = x^{\Gamma} + y^{\Gamma}$ و $x = r + s$ و $y = r - s$ ، مقدار $\frac{\partial f}{\partial s}$ در نقطه $s = -\frac{1}{\Gamma}$ کدام است؟

$$۴ \quad (۴) \quad -۲ \quad (۳) \quad ۲ \quad (۲) \quad -۴ \quad (۱)$$

$$f(r, s) = \Gamma r^{\Gamma} + \Gamma s^{\Gamma} \Rightarrow \frac{\partial f}{\partial s} = \Gamma s \quad \left| \quad s = -\frac{1}{\Gamma} = -۲ \right.$$

پاسخ: گزینه «۳» با جایگزینی x و y برحسب r و s در تابع f خواهیم داشت:

کله مثال ۴۳: اگر f و F دو تابع چند متغیره و دارای مشتقات نسبی مرتبه اول باشند، بعلاوه $F(x, y) = f(u, v)$ که در آن $u = x - y$ و $v = -x + y$ آن گاه

(آمار - سراسری ۷۹)

مقدار $\frac{\partial F}{\partial x} + \frac{\partial F}{\partial y}$ در $(۲, ۲)$ کدام است؟

$$۲(f_u - f_v)_{(۰,۰)} \quad (۴) \quad ۲(f_u + f_v)_{(۰,۰)} \quad (۳) \quad (f_u + f_v)_{(۰,۰)} \quad (۲) \quad \text{صفر} \quad (۱)$$

پاسخ: گزینه «۱» از روش مشتق گیری زنجیری استفاده می کنیم:

$$\frac{\partial F}{\partial x} = \frac{\partial f}{\partial u} \cdot \frac{\partial u}{\partial x} + \frac{\partial f}{\partial v} \cdot \frac{\partial v}{\partial x} = f_u \times 1 + f_v \times (-1) = f_u - f_v \quad \text{و} \quad \frac{\partial F}{\partial y} = \frac{\partial f}{\partial u} \cdot \frac{\partial u}{\partial y} + \frac{\partial f}{\partial v} \cdot \frac{\partial v}{\partial y} = f_u \times (-1) + f_v \times 1 = f_v - f_u$$

$$\frac{\partial F}{\partial x} + \frac{\partial F}{\partial y} = 0$$

(مکانیک - سراسری ۸۰)

کله مثال ۴۴: اگر $z = \sin^{-1} \frac{x}{y}$ باشد، کدام رابطه برقرار است؟

$$x \frac{\partial z}{\partial x} - y \frac{\partial z}{\partial y} = 0 \quad (۴) \quad y \frac{\partial z}{\partial x} - x \frac{\partial z}{\partial y} = 0 \quad (۳) \quad x \frac{\partial z}{\partial x} + y \frac{\partial z}{\partial y} = 0 \quad (۲) \quad y \frac{\partial z}{\partial x} + x \frac{\partial z}{\partial y} = 0 \quad (۱)$$

پاسخ: گزینه «۲» تابع Z همگن از درجه ۰ می باشد، پس طبق قضیه اویلر گزینه (۲) صحیح است.

$$f(x, y) = \sin^{-1} \frac{x}{y} \Rightarrow f(\lambda x, \lambda y) = \sin^{-1} \frac{\lambda x}{\lambda y} = \sin^{-1} \frac{x}{y} = f(x, y)$$

(صنایع - سیستم - سراسری ۸۰)

کله مثال ۴۵: اگر $u = \frac{x^{\Gamma} y^{\Gamma}}{x + y}$ باشد، مقدار $x \frac{\partial u}{\partial x} + y \frac{\partial u}{\partial y}$ برابر است با:

$$۶u \quad (۴) \quad ۳u^{\Gamma} \quad (۳) \quad ۳u \quad (۲) \quad \frac{u}{۳} \quad (۱)$$

$$x \frac{\partial u}{\partial x} + y \frac{\partial u}{\partial y} = ۳u$$

پاسخ: گزینه «۲» تابع u ، تابع همگن از مرتبه ۳ می باشد، بنابراین طبق قضیه اویلر داریم:

(صنایع - سیستم - سراسری ۸۰)

کله مثال ۴۶: اگر $z = x^{\Gamma} - ۲y^{\Gamma}$ و $x = ۳s + ۲r$ و $y = ۳s - ۲r$ به ازای $r = ۲$ و $s = ۱$ کدام است؟

$$۲۰ \quad (۴) \quad ۱۴ \quad (۳) \quad ۱۲ \quad (۲) \quad ۸ \quad (۱)$$

$$\frac{\partial z}{\partial r} = \frac{\partial z}{\partial x} \cdot \frac{\partial x}{\partial r} + \frac{\partial z}{\partial y} \cdot \frac{\partial y}{\partial r} = ۲x \cdot ۲ + (-۴y) \times (-۲) = ۲۰$$

پاسخ: گزینه «۴» به ازای $r = ۲$ و $s = ۱$ ، مقادیر $x = ۷$ و $y = -۱$ به دست می آید.

کله مثال ۴۷: اگر $x = \sin t$ ، $y = e^t$ ، مقدار $\frac{dz}{dt}$ در $t = 0$ کدام است؟
 ۱ (۱) ۲ (۲) ۳ (۳) ۴ (۴)

پاسخ: گزینه «۲» ابتدا توجه کنید که به ازای $t = 0$ ، مقادیر $x = 0$ و $y = 1$ به دست می آیند.

$$\frac{dz}{dt} = \frac{\partial z}{\partial x} \cdot \frac{dx}{dt} + \frac{\partial z}{\partial y} \cdot \frac{dy}{dt} = (2x \cos t + 2y \times e^t) \Big|_{t=0} = 2$$

(معدن - سراسری ۸۰)

کله مثال ۴۸: هرگاه $f(x, y) = (x^2 + y^2) \operatorname{tg} \frac{\sqrt{x} - \sqrt{y}}{\sqrt{x+y}}$ ، عبارت $x \frac{\partial f}{\partial x} + y \frac{\partial f}{\partial y}$ برابر است با:

۱) ۲f (۲) صفر (۳) $x^2 + y^2$ (۴) $y \frac{\partial f}{\partial x} + x \frac{\partial f}{\partial y}$

پاسخ: گزینه «۱» تابع f همگن از درجه ۲ است و بنابراین طبق قضیه اویلر، $x \frac{\partial f}{\partial x} + y \frac{\partial f}{\partial y} = 2f$ می باشد.

$$f(\lambda x, \lambda y) = (\lambda^2 x^2 + \lambda^2 y^2) \operatorname{tg} \frac{\sqrt{\lambda x} - \sqrt{\lambda y}}{\sqrt{\lambda x + \lambda y}} = \lambda^2 (x^2 + y^2) \operatorname{tg} \frac{\sqrt{x} - \sqrt{y}}{\sqrt{x+y}} = \lambda^2 f(x, y)$$

(ریاضی - سراسری ۸۰)

کله مثال ۴۹: اگر $xyz = c$ ، $f(x, y, z) = 0$ (ثابت) و f تابع مشتق پذیر باشد آن گاه $\frac{dy}{dx}$ برابر است با:

۱) $\frac{-y(xf_x - zf_z)}{x(yf_y - zf_z)}$ (۲) $\frac{y(xf_x + zf_z)}{x(yf_y - zf_z)}$ (۳) $\frac{-x(yf_y - zf_x)}{y(xf_x - zf_z)}$ (۴) $\frac{x(yf_y + zf_z)}{y(xf_x - zf_z)}$

پاسخ: گزینه «۱» ابتدا رابطه $xyz = c$ را به صورت $g(x, y, z) = xyz - c = 0$ می نویسیم. در این صورت داریم:

$$\frac{dy}{dx} = - \frac{\frac{\partial(f, g)}{\partial(x, z)}}{\frac{\partial(f, g)}{\partial(y, z)}} = - \frac{\begin{vmatrix} f_x & f_z \\ yz & xy \end{vmatrix}}{\begin{vmatrix} f_y & f_z \\ xz & xy \end{vmatrix}} = - \frac{xyf_x - yzf_z}{xyf_y - xzf_z}$$

(عمران - آزاد ۸۱)

کله مثال ۵۰: $\frac{dw}{dt}$ را بر حسب تابعی از t به دست آورید اگر $w = xy + z$ ، $x = \cos t$ ، $y = \sin t$ و $z = t$ باشد.

۱) $1 + \cos 2t$ (۲) $\cos 2t$ (۳) $\sin 2t$ (۴) $1 - \sin 2t$

پاسخ: گزینه «۱»
 $w = xy + z = \sin t \cos t + t = \frac{1}{2} \sin 2t + t \Rightarrow \frac{dw}{dt} = \cos 2t + 1$

(صنایع - سیستم - سراسری ۸۱)

کله مثال ۵۱: اگر $u = x^2 + y^2$ و $x = 4s - 3t$ و $y = st^2$ مقدار $\frac{\partial^2 u}{\partial t^2}$ در نقطه $s = 0$ و $t = 0$ کدام است؟

۱) ۰ (۲) ۱۰ (۳) ۱۲ (۴) ۱۸

پاسخ: گزینه «۴» می توان از قاعده مشتق زنجیره ای استفاده کرد ولی جایگزینی و محاسبه مستقیم ساده تر است:

$$u = (4s - 3t)^2 + s^2 t^2 \Rightarrow \frac{\partial u}{\partial t} = -6(4s - 3t) + 2s^2 t \Rightarrow \frac{\partial^2 u}{\partial t^2} = 18 + 4s^2 \Rightarrow \frac{\partial^2 u}{\partial t^2} \Big|_{s=t=0} = 18$$

(صنایع - سیستم - آزاد ۸۱)

کله مثال ۵۲: چنانچه $u = f(x - y, y - x)$ باشد، آن گاه:

۱) $\frac{\partial u}{\partial x} - \frac{\partial u}{\partial y} = 0$ (۲) $2 \frac{\partial u}{\partial x} + \frac{\partial u}{\partial y} = 0$ (۳) $\frac{\partial u}{\partial x} + 2 \frac{\partial u}{\partial y} = 0$ (۴) $\frac{\partial u}{\partial x} + \frac{\partial u}{\partial y} = 0$

پاسخ: گزینه «۴» ابتدا قرار می دهیم $v = x - y$ و $w = y - x$ ، در این صورت داریم:

$$\frac{\partial u}{\partial x} = \frac{\partial u}{\partial v} \cdot \frac{\partial v}{\partial x} + \frac{\partial u}{\partial w} \cdot \frac{\partial w}{\partial x} = \frac{\partial u}{\partial v} - \frac{\partial u}{\partial w}$$

$$\frac{\partial u}{\partial y} = \frac{\partial u}{\partial v} \cdot \frac{\partial v}{\partial y} + \frac{\partial u}{\partial w} \cdot \frac{\partial w}{\partial y} = -\frac{\partial u}{\partial v} + \frac{\partial u}{\partial w} \Rightarrow \frac{\partial u}{\partial x} + \frac{\partial u}{\partial y} = 0$$



(صنایع - سیستم - آزاد ۸۱)

کله مثال ۵۳: چنانچه $u = f\left(\frac{1}{y}bx^2 - \frac{1}{y}ay^2\right)$ باشد، آن گاه:

$$ay^2 \frac{\partial u}{\partial x} + bx^2 \frac{\partial u}{\partial y} = 0 \quad (۴) \quad ax \frac{\partial u}{\partial x} + by \frac{\partial u}{\partial y} = 0 \quad (۳) \quad ay \frac{\partial u}{\partial x} + bx \frac{\partial u}{\partial y} = 0 \quad (۲) \quad ay^2 \frac{\partial u}{\partial x} + bx \frac{\partial u}{\partial y} = 0 \quad (۱)$$

پاسخ: گزینه «۱» فرض می‌کنیم $v = \frac{1}{y}bx^2 - \frac{1}{y}ay^2$ باشد. در این صورت $u = f(v)$ است بنابراین داریم: $\frac{\partial u}{\partial x} = v_y f'(v)$ و $\frac{\partial u}{\partial y} = v_x f'(v)$

داریم:

$$\frac{\partial u}{\partial x} = bx f'(v), \quad \frac{\partial u}{\partial y} = -ay^2 f'(v) \Rightarrow ay^2 \frac{\partial u}{\partial x} + bx \frac{\partial u}{\partial y} = 0$$

(ژئوفیزیک و هواشناسی - سراسری ۸۱)

کله مثال ۵۴: اگر $u = x^2 + y^2$ و $x = 4s - 2t$ و $y = st^2$ مقدار $\frac{\partial^2 u}{\partial t^2}$ در نقطه $s=0$ و $t=0$ کدام است؟

$$18 \quad (۴) \quad 12 \quad (۳) \quad 10 \quad (۲) \quad 0 \quad (۱)$$

$$\frac{\partial^2 u}{\partial t^2} = \frac{\partial u}{\partial x} \cdot \frac{\partial x}{\partial t} + \frac{\partial u}{\partial y} \cdot \frac{\partial y}{\partial t} = 2x \times (-2) + 2y \times 2st = -24s + 18t + 4s^2 t^2 \Rightarrow \frac{\partial^2 u}{\partial t^2} = 18 + 12s^2 t^2 \Big|_{(0,0)} = 18$$

پاسخ: گزینه «۴»

(ریاضی - سراسری ۸۱)

کله مثال ۵۵: رابطه $z = x^n f\left(\frac{y}{x}\right)$ در کدام گزینه صدق می‌کند؟

$$\frac{\partial z}{\partial y} + x \frac{\partial z}{\partial x} - nz = 0 \quad (۴) \quad \frac{\partial z}{\partial x} - n \frac{\partial z}{\partial y} = 0 \quad (۳) \quad y \frac{\partial z}{\partial y} + x \frac{\partial z}{\partial x} - nz = 0 \quad (۲) \quad y \frac{\partial z}{\partial y} + x \frac{\partial z}{\partial x} + nz = 0 \quad (۱)$$

پاسخ: گزینه «۲» تابع داده شده یک تابع همگن از درجه n می‌باشد، بنابراین طبق قضیه اوپلر گزینه (۲) صحیح است.

(MBA - سراسری ۸۲)

کله مثال ۵۶: مشتق‌های جزئی $\frac{\partial z}{\partial v}$ ، $\frac{\partial z}{\partial u}$ برای $z = \cos(x^2 + y^2)$ که $\begin{cases} x = u \cos v \\ y = u \sin v \end{cases}$ به ترتیب عبارتند از:

$$2u \cos u^2 \text{ و } -2u \sin u^2 \quad (۴) \quad 2u \cos v^2 \text{ و } 0 \quad (۳) \quad 2u \cos v^2 \text{ و } -2u \sin v^2 \quad (۲) \quad 0 \text{ و } -2u \sin u^2 \quad (۱)$$

پاسخ: گزینه «۱» می‌توان از مشتق‌گیری زنجیری استفاده کرد ولی اگر به جای x و y برحسب u و v جایگزین کنیم سریعتر و ساده‌تر به جواب می‌رسیم:

$$z = \cos(x^2 + y^2) = \cos(u^2 \cos^2 v + u^2 \sin^2 v) = \cos u^2$$

$$\frac{\partial z}{\partial u} = -2u \sin u^2, \quad \frac{\partial z}{\partial v} = 0$$

(مکانیک - سراسری ۸۳)

کله مثال ۵۷: معادله $2 \frac{\partial f}{\partial x} - 3 \frac{\partial f}{\partial y} = 0$ با تغییر متغیرهای $r = 2y - 3x$ و $p = 2y + 3x$ به کدام صورت بیان می‌شود؟

$$\frac{\partial f}{\partial r} + \frac{\partial f}{\partial p} = 0 \quad (۴) \quad \frac{\partial f}{\partial r} - \frac{\partial f}{\partial p} = 0 \quad (۳) \quad \frac{\partial f}{\partial p} = 0 \quad (۲) \quad \frac{\partial f}{\partial r} = 0 \quad (۱)$$

$$\frac{\partial f}{\partial x} = \frac{\partial f}{\partial r} \cdot \frac{\partial r}{\partial x} + \frac{\partial f}{\partial p} \cdot \frac{\partial p}{\partial x} = -3 \frac{\partial f}{\partial r} + 3 \frac{\partial f}{\partial p} \quad \text{و} \quad \frac{\partial f}{\partial y} = \frac{\partial f}{\partial r} \cdot \frac{\partial r}{\partial y} + \frac{\partial f}{\partial p} \cdot \frac{\partial p}{\partial y} = 2 \frac{\partial f}{\partial r} + 2 \frac{\partial f}{\partial p}$$

پاسخ: گزینه «۱»

با جایگزینی روابط فوق در معادله داده شده، نتیجه می‌شود $\frac{\partial f}{\partial r} = 0$.

(مکانیک - آزاد ۸۳)

کله مثال ۵۸: اگر $u = \frac{x^2 y^2}{x+y}$ باشد، مقدار عبارت $x \frac{\partial u}{\partial x} + y \frac{\partial u}{\partial y}$ برابر است با:

$$6u \quad (۴) \quad 3u \quad (۳) \quad 3u^2 \quad (۲) \quad \frac{u}{3} \quad (۱)$$

پاسخ: گزینه «۳» تابع u یک تابع همگن مرتبه ۳ می‌باشد، بنابراین طبق قضیه اوپلر گزینه (۳) صحیح است.

کله مثال ۵۹: در تابع دو متغیره $z = x^2 \text{Arctg} \frac{y}{x}$ حاصل $x \frac{\partial z}{\partial x} + y \frac{\partial z}{\partial y}$ به ازای $x = \sqrt{3}$ و $y = 1$ کدام است؟ (صنایع - سیستم - سراسری ۸۳)

(۱) π (۲) $\frac{\pi}{2}$ (۳) $\frac{\pi}{3}$ (۴) $\frac{2\pi}{3}$

پاسخ: گزینه «۱» تابع داده شده، یک تابع همگن از درجه ۲ می باشد، بنابراین طبق قضیه اویلر داریم:

$$x \frac{\partial z}{\partial x} + y \frac{\partial z}{\partial y} = 2z \Rightarrow x \frac{\partial z}{\partial x} + y \frac{\partial z}{\partial y} = 2x^2 \text{Arctg} \frac{y}{x} \Big|_{(\sqrt{3}, 1)} = 2(\sqrt{3})^2 \text{Arctg} \frac{1}{\sqrt{3}} = \pi$$

کله مثال ۶۰: اگر f و g دو تابع مشتق پذیر باشند از رابطه $g(z-x) + f(y-z) = 0$ حاصل $\frac{\partial z}{\partial x} + \frac{\partial z}{\partial y}$ کدام است؟ (MBA - سراسری ۸۳)

(۱) -1 (۲) صفر (۳) 1 (۴) $g' - f'$

پاسخ: گزینه «۳» از روش مشتق گیری ضمنی استفاده می کنیم:

$$\frac{\partial z}{\partial x} = -\frac{-g'(z-x)}{g'(z-x) - f'(y-z)}, \quad \frac{\partial z}{\partial y} = -\frac{f'(y-z)}{g'(z-x) - f'(y-z)} \Rightarrow \frac{\partial z}{\partial x} + \frac{\partial z}{\partial y} = 1$$

کله مثال ۶۱: اگر $z = e^x \cos y$ و مقدار $\frac{dz}{dt}$ در $t = 0$ کدام است؟ (ژئوفیزیک و هواشناسی - سراسری ۸۳)

(۱) -1 (۲) 0 (۳) 1 (۴) $+\infty$

پاسخ: گزینه «۳» ابتدا توجه کنید که به ازای $t = 0$ ، $x = 0$ و $y = 0$ به دست می آید. از طرفی داریم:

$$\frac{dz}{dt} = \frac{\partial z}{\partial x} \times \frac{dx}{dt} + \frac{\partial z}{\partial y} \times \frac{dy}{dt} = e^x \cos y \frac{dx}{dt} - e^x \sin y \frac{dy}{dt} \Big|_{t=0} = \frac{dx}{dt} \Big|_{t=0}$$

بنابراین کافی است $\frac{dx}{dt}$ را در $t = 0$ به دست آوریم:

$$x^2 + e^x - t^2 - t = 1 \Rightarrow 2x \frac{dx}{dt} + e^x \frac{dx}{dt} - 2t - 1 = 0$$

به ازای $t = 0$ و $x = 0$ ، از رابطه فوق نتیجه می شود $\frac{dx}{dt} = 1$.

کله مثال ۶۲: جواب معادله دیفرانسیل با مشتقات جزئی $y \frac{\partial z}{\partial x} + x \frac{\partial z}{\partial y} = 0$ کدامیک از توابع زیر است؟ (مکانیک - سراسری ۸۴)

(۱) $z = f\left(\frac{x}{y}\right)$ (۲) $z = f(x, y)$ (۳) $z = f(x - y)$ (۴) $z = f(x^2 - y^2)$

پاسخ: گزینه «۴» $z = f(x^2 - y^2) \Rightarrow \frac{\partial z}{\partial x} = 2xf'(x^2 - y^2)$ ، $\frac{\partial z}{\partial y} = -2yf'(x^2 - y^2) \Rightarrow y \frac{\partial z}{\partial x} + x \frac{\partial z}{\partial y} = 0$

کله مثال ۶۳: تابع $w = f(y - z, z - x, x - y)$ جواب کدام معادله دیفرانسیل با مشتقات نسبی است؟ (مکانیک - آزاد ۸۴)

(۱) $\frac{\partial w}{\partial x} + \frac{\partial w}{\partial y} + \frac{\partial w}{\partial z} = 1$ (۲) $\frac{\partial w}{\partial z} = \frac{\partial w}{\partial x} + \frac{\partial w}{\partial y}$ (۳) $\frac{\partial w}{\partial z} + \frac{\partial w}{\partial y} + \frac{\partial w}{\partial x} = 0$ (۴) قابل محاسبه به فرم فوق نیست.

پاسخ: گزینه «۳»

$$\left. \begin{aligned} \frac{\partial w}{\partial x} &= \frac{\partial(z-x)}{\partial x} \times f'_1 + \frac{\partial(x-y)}{\partial x} f'_2 = -f'_1 + f'_2 \\ \frac{\partial w}{\partial y} &= \frac{\partial(y-z)}{\partial y} \times f'_1 + \frac{\partial(x-y)}{\partial y} f'_2 = +f'_1 - f'_2 \\ \frac{\partial w}{\partial z} &= \frac{\partial(y-z)}{\partial z} \times f'_1 + \frac{\partial(z-x)}{\partial z} f'_2 = -f'_1 + f'_2 \end{aligned} \right\} \Rightarrow \frac{\partial w}{\partial x} + \frac{\partial w}{\partial y} + \frac{\partial w}{\partial z} = -f'_1 + f'_2 + f'_1 - f'_2 - f'_1 + f'_2 = 0$$



(مکانیک - آزاد ۸۴)

🔗 مثال ۶۴: تابع $z = yf\left(\frac{x}{y}\right) + F\left(\frac{x}{y}\right)$ در کدامیک از معادلات دیفرانسیل زیر صدق می‌کند؟

$$z_{xx} - 2z_{xy} + z_{yy} = 0 \quad (۲)$$

$$z_{xx} + 2z_{xy} + z_{yy} = 0 \quad (۱)$$

$$x^2 z_{xx} - 2xy z_{xy} + y^2 z_{yy} = 0 \quad (۴)$$

$$x^2 z_{xx} + 2xy z_{xy} + y^2 z_{yy} = 0 \quad (۳)$$

🔗 پاسخ: گزینه «۳» تابع z از جمع جبری دو تابع $z_1 = yf\left(\frac{x}{y}\right)$ و $z_2 = F\left(\frac{x}{y}\right)$ حاصل می‌شود که تابع z_1 همگن از درجه یک و تابع z_2 همگن از درجه صفر است، بنابراین طبق قضیه اویلر داریم:

$$x^2 z_{xx} + 2xy z_{xy} + y^2 z_{yy} = 1(1-1)z_1 + 0(0-1)z_2 = 0$$

🔗 مثال ۶۵: معادله $u_{tt} - u_{xx} = 0$ با تغییر متغیر $r = x + t$ و $s = x - t$ به کدام یک از صورت‌های زیر تبدیل می‌گردد؟ (فرض کنید مشتقات پاره‌ای u پیوسته می‌باشند.)

(مکانیک - آزاد ۸۴)

پیوسته می‌باشند.)

$$u_{ss} = 0 \quad (۴)$$

$$u_{rs} = 0 \quad (۳)$$

$$u_{rs} + u_r = 0 \quad (۲)$$

$$u_{rr} = 0 \quad (۱)$$

🔗 پاسخ: گزینه «۳» از روش مشتق زنجیره‌ای استفاده می‌کنیم: $u_{tt} = \frac{\partial}{\partial t} \left(\frac{\partial u}{\partial r} - \frac{\partial u}{\partial s} \right) = \frac{\partial}{\partial t} \left(\frac{\partial u}{\partial r} \right) - \frac{\partial}{\partial t} \left(\frac{\partial u}{\partial s} \right)$

$$= \left(\frac{\partial^2 u}{\partial r^2} \cdot \frac{\partial r}{\partial t} + \frac{\partial^2 u}{\partial s \partial r} \cdot \frac{\partial s}{\partial t} \right) - \left(\frac{\partial^2 u}{\partial r \partial s} \cdot \frac{\partial r}{\partial t} + \frac{\partial^2 u}{\partial s^2} \cdot \frac{\partial s}{\partial t} \right) = \frac{\partial^2 u}{\partial r^2} \cdot \frac{\partial^2 r}{\partial s \partial r} - \frac{\partial^2 u}{\partial r \partial s} \cdot \frac{\partial^2 s}{\partial s^2} = u_{rr} - 2u_{sr} + u_{ss}$$

توجه کنید که چون مشتق‌های جزئی پیوسته‌اند پس $\frac{\partial^2 u}{\partial s \partial r} = \frac{\partial^2 u}{\partial r \partial s}$. به طور مشابه می‌توان نشان داد که $u_{ss} = u_{rr} + 2u_{sr} + u_{ss}$ ، که با جایگذاری در معادله $u_{tt} - u_{xx} = 0$ نتیجه می‌شود $4u_{sr} = 0$ یا $u_{sr} = 0$.

روش دوم: معادله مشخصه معادله داده شده به صورت $\lambda^2 - 1 = 0$ است که از آن $\lambda = \pm 1$ حاصل می‌شود، بنابراین به کمک تغییر متغیرهای $r = x + t$ و $s = x - t$ معادله به صورت $u_{sr} = 0$ در می‌آید.

🔗 مثال ۶۶: دو معادله $\begin{cases} 2x = v^2 - u^2 \\ y = uv \end{cases}$ و u و v را به عنوان تابعی از x و y تعریف می‌کنند. $\frac{\partial u}{\partial x}$ برابر با چیست؟ (عمران - نقشه‌برداری - سراسری ۸۵)

$$-\frac{v}{u^2 + v^2} \quad (۴)$$

$$-\frac{u}{u^2 + v^2} \quad (۳)$$

$$\frac{v}{u^2 + v^2} \quad (۲)$$

$$\frac{u}{u^2 + v^2} \quad (۱)$$

🔗 پاسخ: گزینه «۳» روابط داده شده را به صورت $F_1 = v^2 - u^2 - 2x = 0$ و $F_2 = uv - y = 0$ می‌نویسیم. در این صورت داریم:

$$\frac{\partial(F_1, F_2)}{\partial(u, v)} = \begin{vmatrix} -2u & 2v \\ v & u \end{vmatrix} = -2(u^2 + v^2) \quad \text{و} \quad \frac{\partial(F_1, F_2)}{\partial(x, v)} = \begin{vmatrix} -2 & 2v \\ 0 & u \end{vmatrix} = -2u$$

$$\frac{\partial u}{\partial x} = -\frac{\frac{\partial(F_1, F_2)}{\partial(x, v)}}{\frac{\partial(F_1, F_2)}{\partial(u, v)}} = -\frac{-2u}{-2(u^2 + v^2)} = -\frac{u}{u^2 + v^2}$$

بنابراین داریم:

(MBA - سراسری ۸۵)

🔗 مثال ۶۷: اگر $u = \text{tg}^{-1}\left(\frac{y^2}{x}\right)$ باشد، مقدار $x \frac{\partial u}{\partial x} + y \frac{\partial u}{\partial y}$ در نقطه $(2, 2)$ کدام است؟

$$\frac{12}{25} \quad (۴)$$

$$\frac{16}{25} \quad (۳)$$

$$\frac{8}{15} \quad (۲)$$

$$\frac{3}{5} \quad (۱)$$

🔗 پاسخ: گزینه «۴»

$$u = \text{tg}^{-1}\left(\frac{y^2}{x}\right) \Rightarrow \frac{\partial u}{\partial x} = \frac{-\frac{y^2}{x^2}}{1 + \left(\frac{y^2}{x}\right)^2} = \frac{-y^2}{x^2 + y^4}, \quad \frac{\partial u}{\partial y} = \frac{\frac{2y}{x}}{1 + \left(\frac{y^2}{x}\right)^2} = \frac{2xy}{x^2 + y^4}$$

روش اول:

$$x \frac{\partial u}{\partial x} + y \frac{\partial u}{\partial y} = \frac{xy^2}{x^2 + y^4} = \frac{12}{25}$$

روش دوم: می‌دانیم که اگر $F(u) = f(x, y)$ و f تابع همگن از درجه n باشد، آن‌گاه $x \frac{\partial u}{\partial x} + y \frac{\partial u}{\partial y} = n \frac{F(u)}{F'(u)}$

حال توجه کنید که $F(u) = \text{tgu} = \frac{y^2}{x}$ به‌دست می‌آید که عبارت $\frac{y^2}{x}$ همگن از درجه یک است، پس طبق نکته فوق داریم:

$$x \frac{\partial u}{\partial x} + y \frac{\partial u}{\partial y} = \frac{\text{tgu}}{1 + \text{tg}^2 u} = \frac{\frac{y^2}{x}}{1 + \left(\frac{y^2}{x}\right)^2} \xrightarrow{x=2, y=2} \frac{12}{25}$$

مثال ۶۸: جواب معادله دیفرانسیل با مشتقات جزئی $y \frac{\partial z}{\partial x} + x \frac{\partial z}{\partial y} = 0$ کدامیک از توابع زیر است؟ (هسته‌ای - سراسری ۸۵)

(۱) $z = f\left(\frac{x}{y}\right)$ تابع دلخواه ولی مشتق پذیر

(۲) $z = f(x^2 - y^2)$ تابع دلخواه ولی مشتق پذیر

(۳) $z = f(xy)$ تابع دلخواه ولی مشتق پذیر

(۴) $z = f(x - y)$ تابع دلخواه ولی مشتق پذیر

پاسخ: گزینه «۲» $z = f(x^2 - y^2) \Rightarrow \frac{\partial z}{\partial x} = 2xf'(x^2 - y^2), \frac{\partial z}{\partial y} = -2yf'(x^2 - y^2) \Rightarrow y \frac{\partial z}{\partial x} + x \frac{\partial z}{\partial y} = 0$

(معماری کشتی - سراسری ۸۵)

مثال ۶۹: اگر $\begin{cases} x = 2u - v + w \\ y = u + v - w \\ z = 2u + 2v + w \end{cases}$ آن گاه $\frac{\partial(u, v, w)}{\partial(x, y, z)}$ برابر است با:

(۱) ۸ (۲) ۱۲ (۳) $\frac{1}{8}$ (۴) $\frac{1}{12}$

پاسخ: گزینه «۴» $\frac{\partial(x, y, z)}{\partial(u, v, w)} = \begin{vmatrix} 2 & -1 & 1 \\ 1 & 1 & -1 \\ 2 & 2 & 1 \end{vmatrix} = 12 \Rightarrow \frac{\partial(u, v, w)}{\partial(x, y, z)} = \frac{1}{12}$

(کشاورزی - سراسری ۸۵)

مثال ۷۰: اگر $z = x^2 + \text{Arctg} \frac{y}{x}$ و $x = r \cos \theta$ و $y = r \sin \theta$ مقدار $\frac{\partial z}{\partial r}$ به ازای $\theta = \frac{\pi}{4}$ و $r = 1$ کدام است؟

(۱) ۰ (۲) $\sqrt{2}$ (۳) ۱ (۴) ۲

پاسخ: گزینه «۳» مقدار $\frac{\partial z}{\partial r}$ را می‌توان به روش مشتق گیری زنجیری محاسبه کرد، ولی جایگزینی و سپس مشتق گیری ساده تر می‌باشد.

$z = r^2 \cos^2 \theta + \text{Arctg} \frac{r \sin \theta}{r \cos \theta} = r^2 \cos^2 \theta + \theta$

$\frac{\partial z}{\partial r} = 2r \cos^2 \theta + 0 = 2r \cos^2 \theta \Rightarrow \frac{\partial z}{\partial r} \left(1, \frac{\pi}{4}\right) = 2 \times 1 \times \cos^2 \frac{\pi}{4} = 1$

(ابزار دقیق و اتوماسیون - سراسری ۸۵)

مثال ۷۱: با تغییر متغیر $v = y$ و $z = x + y$ معادله $u_{xx} - 2u_{xy} + u_{yy} = 0$ به کدام شکل تبدیل می‌شود؟

(۱) $u_{vv} = 0$ (۲) $u_{vz} = 0$ (۳) $u_{zz} = 0$ (۴) $u_{zz} + u_{vv} = 0$

پاسخ: گزینه «۱» از قاعده مشتق گیری زنجیری نتیجه می‌شود:

به همین ترتیب، به طور مشابه با مشتق گیری زنجیری خواهیم داشت:

$u_x = u_v v_x + u_z z_x = 0 + u_z = u_z$

$\Rightarrow u_{xx} = u_{zz}, u_{xy} = u_{zv} + u_{zz}$

$u_y = u_v v_y + u_z z_y = u_v + u_z \Rightarrow u_{yy} = u_{vv} + u_{vz} + u_{zv} + u_{zz} = u_{vv} + 2u_{zv} + u_{zz}$

$(u_{zz}) - 2(u_{vz} + u_{zz}) + u_{vv} + 2u_{zv} + u_{zz} = u_{vv} = 0$ با جایگزینی در معادله داده شده به دست می‌آید:

مثال ۷۲: فرض کنید x و y و u و v به وسیله روابط $\begin{cases} u = x^2 + 2xy \\ x^2 - y^2 = c \end{cases}$ با هم مرتبط باشند آن گاه $\frac{\partial x}{\partial u}$ هنگامی که c یک عدد ثابت باشد در نقطه

(کنکور دکتری دانشگاه امیرکبیر - سال ۸۵)

$(x, y) = (2, -1)$ برابر است با:

(۱) $-\frac{1}{11}$ (۲) $\frac{1}{13}$ (۳) -12 (۴) $-\frac{1}{12}$

پاسخ: گزینه «۱» با فرض $F: u - x^2 - 2xy = 0$ و $G: x^2 - y^2 = c$ داریم:

$\frac{\partial x}{\partial u} = \frac{\frac{\partial(F, G)}{\partial(u, y)}}{\frac{\partial(F, G)}{\partial(x, y)}} = \frac{\begin{vmatrix} F_u & F_y \\ G_u & G_y \end{vmatrix}}{\begin{vmatrix} F_x & F_y \\ G_x & G_y \end{vmatrix}} = \frac{\begin{vmatrix} 1 & -2x \\ 0 & -2y \end{vmatrix}}{\begin{vmatrix} -2x - 2y & -2x \\ 2x & -2y \end{vmatrix}} = \frac{-2y}{2y(2x + 2y) + 4x^2}$

پس به ازای $(x, y) = (2, -1)$ داریم: $\frac{\partial x}{\partial u} = \frac{-2}{-2 + 24} = -\frac{1}{11}$



کله مثال ۷۳: اگر $u = f(x, y)$ و $x = r \cos \theta$ و $y = r \sin \theta$ باشد. کدام یک از گزینه‌های زیر صحیح می‌باشد؟ (پزشکی - بیومکانیک - آزاد ۸۶)

$$u_x^2 + u_y^2 = \frac{1}{r^2} u_\theta^2 + u_r^2 \quad (۴) \quad u_x^2 + u_y^2 = u_r^2 + r^2 u_\theta^2 \quad (۳) \quad u_x^2 + u_y^2 = \frac{1}{r^2} u_r^2 + u_\theta^2 \quad (۲) \quad u_x^2 + u_y^2 = u_r^2 + u_\theta^2 \quad (۱)$$

پاسخ: گزینه «۴» می‌دانیم در مختصات قطبی $\vec{\nabla} f = \frac{\partial u}{\partial r} \vec{r} + \frac{1}{r} \frac{\partial u}{\partial \theta} \vec{\theta}$ ، و چون بردارهای \vec{r} و $\vec{\theta}$ متعامد هستند بنابراین طول برابر برداریان برابر است است با:

$$|\vec{\nabla} f| = \left(\frac{\partial u}{\partial r}\right)^2 + \left(\frac{1}{r} \frac{\partial u}{\partial \theta}\right)^2 = u_r^2 + \frac{1}{r^2} u_\theta^2$$

یادآوری: اگر $u = f(x, y)$ ، آن‌گاه $\vec{\nabla} f = (u_x \vec{i}, u_y \vec{j})$ و بنابراین $|\vec{\nabla} f| = u_x^2 + u_y^2$.

یادآوری: اگر $\vec{v} = \alpha_1 \vec{v}_1 + \alpha_2 \vec{v}_2 + \dots + \alpha_n \vec{v}_n$ ، که $\vec{v}_1, \vec{v}_2, \dots, \vec{v}_n$ همگی بردار یک‌ه و دوجه‌دو بر هم عمودند آن‌گاه $|\vec{v}| = \alpha_1^2 + \alpha_2^2 + \dots + \alpha_n^2$.

(معدن - آزاد ۸۶)

کله مثال ۷۴: اگر $u = f(x + 2t) + f(x - 2t)$ آن‌گاه $\frac{\partial^2 u}{\partial t^2} - 4 \frac{\partial^2 u}{\partial x^2}$ برابر است با:

$$2x^2 + t^2 \quad (۴) \quad x^2 - 4t^2 \quad (۳) \quad x^2 + 4t^2 \quad (۲) \quad \text{صفر} \quad (۱)$$

پاسخ: گزینه «۱» با استفاده از قانون مشتق زنجیره‌ای:

$$\frac{\partial u}{\partial t} = 2f'(x + 2t) - 2f'(x - 2t) \Rightarrow \frac{\partial^2 u}{\partial t^2} = 4f''(x + 2t) + 4f''(x - 2t)$$

$$\frac{\partial u}{\partial x} = f'(x + 2t) + f'(x - 2t) \Rightarrow \frac{\partial^2 u}{\partial x^2} = f''(x + 2t) + f''(x - 2t) \Rightarrow \frac{\partial^2 u}{\partial t^2} - 4 \frac{\partial^2 u}{\partial x^2} = 0$$

(MBA - سراسری ۸۷)

کله مثال ۷۵: اگر $u = x + y + z$ و $uv = y + z$ و $uvw = z$ باشد، آن‌گاه حاصل $\frac{\partial(x, y, z)}{\partial(u, v, w)}$ ، کدام است؟

$$u^2 v \quad (۴) \quad uv^2 \quad (۳) \quad 2uv \quad (۲) \quad \frac{u}{v} \quad (۱)$$

پاسخ: گزینه «۴»

$$\begin{cases} z = uvw \\ y = uv - uvw \\ x = u - uv \end{cases} \Rightarrow \frac{\partial(x, y, z)}{\partial(u, v, w)} = \begin{vmatrix} 1-v & -u & 0 \\ v-vw & u-uw & -uv \\ vw & uw & uv \end{vmatrix} = u^2 v$$

(عمران - سراسری ۸۷)

کله مثال ۷۶: اگر $f, z = yf(x^2 - y^2)$ تابعی مشتق‌پذیر باشد، آن‌گاه $xy \frac{\partial z}{\partial x} + y^2 \frac{\partial z}{\partial y}$ برابر است با:

$$xyz \quad (۴) \quad xz \quad (۳) \quad xy \quad (۲) \quad yz \quad (۱)$$

پاسخ: گزینه «۳»

$$z = yf(x^2 - y^2) \Rightarrow \frac{\partial z}{\partial x} = 2xyf'(x^2 - y^2)$$

$$\frac{\partial z}{\partial y} = f(x^2 - y^2) - 2y^2 f'(x^2 - y^2) \Rightarrow y^2 \frac{\partial z}{\partial x} + xy \frac{\partial z}{\partial y} = yxf'(x^2 - y^2) = xz$$

(کشاورزی - سراسری ۸۷)

کله مثال ۷۷: اگر $w = r^2 \cos 2\theta$ و $x = r \cos \theta$ و $y = r \sin \theta$ آن‌گاه $\frac{\partial w}{\partial y}$ کدام است؟

$$2y \quad (۴) \quad \frac{2}{y} \quad (۳) \quad -\frac{2}{y} \quad (۲) \quad -2y \quad (۱)$$

پاسخ: گزینه «۱»

$$w = r^2 \cos 2\theta = r^2 \cos^2 \theta - r^2 \sin^2 \theta = x^2 - y^2 \Rightarrow \frac{\partial w}{\partial y} = -2y$$

کج مثال ۷۸: فرض کنید f مشتق پذیر و $f(x,y,z) = 0$ باشد و $f_x + 3y + 4z - 2z = c$ که عدد ثابت است. در اینصورت $\frac{dy}{dx}$ کدام است؟

(تاریخ و فلسفه علم - سراسری ۸۷)

$$\frac{-2f_x + 4f_z}{2f_y + 3f_z} \quad (۱) \quad \frac{-4f_x + 2f_z}{f_x + 2f_z} \quad (۲) \quad \frac{-4f_x + 3f_z}{4f_y + 2f_z} \quad (۳) \quad \frac{-2f_x + 2f_z}{f_y + 2f_z} \quad (۴)$$

پاسخ: گزینه «۱» قرار می‌دهیم $g(x,y,z) = 4x + 3y - 2z - c = 0$ ، در این صورت طبق فرمول مشتق ضمنی با استفاده از ژاکوبین داریم:

$$\frac{dy}{dx} = -\frac{\frac{\partial(f,g)}{\partial(x,z)}}{\frac{\partial(f,g)}{\partial(y,z)}} = -\frac{\begin{vmatrix} f_x & f_z \\ 4 & -2 \end{vmatrix}}{\begin{vmatrix} f_y & f_z \\ 3 & -2 \end{vmatrix}} = -\frac{2f_x + 4f_z}{2f_y + 3f_z}$$

(مکانیک - آزاد ۸۷)

کج مثال ۷۹: اگر $u = \ln\sqrt{x^2 + y^2}$ و $x = re^s$ و $y = re^{-s}$ باشند، کدام گزینه است؟

$$\frac{xe^s - ye^{-s}}{x^2 + y^2} \quad (۱) \quad \frac{r(e^s - e^{-s})}{x^2 + y^2} \quad (۲) \quad \frac{r(xe^s - ye^{-s})}{x^2 + y^2} \quad (۳) \quad \frac{xe^s + ye^{-s}}{x^2 + y^2} \quad (۴)$$

پاسخ: گزینه «۱» توجه کنید که $u = \frac{1}{2} \ln(x^2 + y^2)$ ، از قانون مشتق زنجیره‌ای:

$$\frac{\partial u}{\partial r} = \frac{\partial u}{\partial x} \cdot \frac{\partial x}{\partial r} + \frac{\partial u}{\partial y} \cdot \frac{\partial y}{\partial r} = \frac{x}{x^2 + y^2} e^s + \frac{y}{x^2 + y^2} e^{-s} = \frac{xe^s + ye^{-s}}{x^2 + y^2}$$

(صنایع - سیستم - سراسری ۸۸)

کج مثال ۸۰: اگر $z = f(x-y)$ ، $\frac{\partial z}{\partial x} + \frac{\partial z}{\partial y}$ کدام است؟

$$f'(y-x) - f'(x-y) \quad (۱) \quad (x-y)f'(1) \quad (۲) \quad f'(x-y) \quad (۳) \quad 0 \quad (۴)$$

پاسخ: گزینه «۱» ابتدا توجه کنید که: $z = f(x-y) \Rightarrow \frac{\partial z}{\partial x} = f'(x-y)$ و $\frac{\partial z}{\partial y} = -f'(x-y)$

بنابراین $\frac{\partial z}{\partial x} + \frac{\partial z}{\partial y} = 0$ است.

(صنایع - سیستم - سراسری ۸۸)

کج مثال ۸۱: اگر $\frac{\partial z}{\partial t} = y^2 + tv^2$ ، $y = u + tv^2$ ، $x = t^2 uv$ ، $z = y^2 tgx$ به ازای $u=1, v=0, t=2$ کدام است؟

$$\frac{1}{2} \quad (۱) \quad 2 \quad (۲) \quad 1 \quad (۳) \quad 0 \quad (۴)$$

پاسخ: گزینه «۱» ابتدا توجه کنید که به ازای $u=1, v=0, t=2$ خواهیم داشت $x=0$ و $y=1$. برای محاسبه $\frac{\partial z}{\partial t}$ از قاعده مشتق گیری زنجیری استفاده می‌کنیم.

$$\frac{\partial z}{\partial t} = \frac{\partial z}{\partial x} \cdot \frac{\partial x}{\partial t} + \frac{\partial z}{\partial y} \cdot \frac{\partial y}{\partial t} = (y^2(1 + tg^2x))(2tuv) + (2ytgx)(v^2) \xrightarrow{v=0} \frac{\partial z}{\partial t} = 0$$

کج مثال ۸۲: با فرض اینکه توابع f و g دوبار مشتق پذیر باشند و $z = f(x^2 - y) + g(x^2 + y)$ ، کدام یک از رابطه‌های زیر درست است؟ (آمار - سراسری ۸۸)

$$\frac{\partial^2 z}{\partial x^2} - 4x^2 \frac{\partial^2 z}{\partial y^2} = \frac{1}{x} \frac{\partial z}{\partial x} \quad (۱) \quad \frac{\partial^2 z}{\partial x^2} + 4x^2 \frac{\partial^2 z}{\partial y^2} = \frac{1}{x} \frac{\partial z}{\partial x} \quad (۲) \quad \frac{\partial^2 z}{\partial x^2} - 4x^2 \frac{\partial^2 z}{\partial y^2} = \frac{2}{x} \frac{\partial z}{\partial x} \quad (۳) \quad \frac{\partial^2 z}{\partial x^2} + 4x^2 \frac{\partial^2 z}{\partial y^2} = \frac{2}{x} \frac{\partial z}{\partial x} \quad (۴)$$

پاسخ: گزینه «۴» با توجه به گزینه‌ها Z_{xx} و Z_{yy} را محاسبه می‌کنیم.

$$Z_{xx} = 2xf'(x^2 - y) + 2xg'(x^2 + y), \quad Z_{yy} = -f'(x^2 - y) + g'(x^2 + y)$$

$$Z_{xx} - 4x^2 Z_{yy} = 2(f' + g') = \frac{1}{x} Z_x$$



کله مثال ۸۳: اگر $D_x f(x, y)$ بیانگر مشتق جزئی تابع $f(x, y)$ نسبت به x باشد و داشته باشیم $f(x, y) = \begin{cases} \frac{x^2 y^2}{x^4 + y^4} & (x, y) \neq (0, 0) \\ 0 & (x, y) = (0, 0) \end{cases}$ پیوستگی $f(x, y)$ ، چگونه است؟

(آمار - سراسری ۸۸)

(۲) $f(x, y)$ ناپیوسته و $D_x f(x, y)$ پیوسته

(۱) $f(x, y)$ پیوسته و $D_x f(x, y)$ ناپیوسته

(۴) هر دو پیوسته

(۳) هر دو ناپیوسته

پاسخ: گزینه «۳» درجه صورت و مخرج برابر است و بنابراین تابع f در $(0, 0)$ ناپیوسته است. از طرفی $\frac{\partial f}{\partial x} = \frac{2xy^2(x^4 + y^4) - 4x^3 y^2}{(x^4 + y^4)^2}$ و درجه

صورت از مخرج کمتر است و بنابراین $\frac{\partial f}{\partial x}$ نیز در $(0, 0)$ ناپیوسته می‌باشد.

(فراوری و انتقال گاز - سراسری ۸۸)

کله مثال ۸۴: جاکوبی $\frac{\partial(x, y, z)}{\partial(u, v, \omega)}$ با تبدیل $x = u \cos v$ و $y = u \sin v$ و $z = \omega$ عبارت است از:

(۴) $u + v + \omega$

(۳) $u + v$

(۲) u

(۱) v

$$\text{ژاکوبین} = \begin{vmatrix} \cos v & -u \sin v & 0 \\ \sin v & u \cos v & 0 \\ 0 & 0 & 1 \end{vmatrix} = u$$

پاسخ: گزینه «۲» از تعریف ژاکوبین داریم:

(آمار - آزاد ۸۸)

کله مثال ۸۵: فرض کنید $z = z(x, y)$ به صورت $x + y - z = e^{-(x+y+z)}$ بیان شده در این صورت:

(۴) $z_x + z_y = 1$

(۳) $z_x - z_y = 0$

(۲) $z_x + z_y = 0$

(۱) $z_x - z_y = 1$

پاسخ: گزینه «۳» اگر $F = x + y - z - e^{-(x+y+z)} = 0$ از قاعده مشتق ضمنی داریم:

$$z_x = -\frac{F'_x}{F'_z} = -\frac{1 + e^{-(x+y+z)}}{-1 + e^{-(x+y+z)}}, \quad z_y = -\frac{F'_y}{F'_z} = -\frac{1 + e^{-(x+y+z)}}{-1 + e^{-(x+y+z)}} \Rightarrow z_x = z_y \Rightarrow z_x - z_y = 0$$

(ریاضی محض - آزاد ۸۸)

کله مثال ۸۶: اگر $u = \frac{x+y}{1-xy}$ و $v = \text{tg}^{-1}x + \text{tg}^{-1}y$ و $xy \neq 1$ آن گاه $\frac{\partial(u, v)}{\partial(x, y)}$ برابر است با:

(۴) ۲

(۳) صفر

(۲) -۱

(۱) ۱

پاسخ: گزینه «۳»

$$\frac{\partial(u, v)}{\partial(x, y)} = \begin{vmatrix} \frac{1-xy+xy+y^2}{(1-xy)^2} & \frac{1-xy+xy+x^2}{(1-xy)^2} \\ \frac{1}{1+x^2} & \frac{1}{1+y^2} \end{vmatrix} = \begin{vmatrix} \frac{1+y^2}{(1-xy)^2} & \frac{1+x^2}{(1-xy)^2} \\ \frac{1}{1+x^2} & \frac{1}{1+y^2} \end{vmatrix} = 0$$

روش اول:

روش دوم: چون $u = \text{tg}^{-1} \frac{x+y}{1-xy} = \text{tg}^{-1}x + \text{tg}^{-1}y = v$ ، پس رابطه‌ای بین u و v مستقل از x و y وجود دارد، بنابراین $\frac{\partial(u, v)}{\partial(x, y)} = 0$.

(عمران - سراسری ۸۹)

کله مثال ۸۷: هرگاه $x^2 + y^2 + z^2 = 1$ آن گاه $x \frac{\partial z}{\partial x} + y \frac{\partial z}{\partial y}$ برابر است با:

(۴) $z + \frac{1}{z}$

(۳) $z^2 + \frac{1}{z}$

(۲) $\frac{1}{z}$

(۱) $z - \frac{1}{z}$

پاسخ: گزینه «۱» برای یافتن $\frac{\partial z}{\partial x}, \frac{\partial z}{\partial y}$ از روش مشتق‌گیری ضمنی استفاده می‌کنیم.

$$f(x, y, z) = x^2 + y^2 + z^2 - 1 = 0 \Rightarrow \frac{\partial z}{\partial x} = -\frac{f'_x}{f'_z} = -\frac{2x}{2z} = -\frac{x}{z}, \quad \frac{\partial z}{\partial y} = -\frac{f'_y}{f'_z} = -\frac{2y}{2z} = -\frac{y}{z}$$

$$\Rightarrow x \frac{\partial z}{\partial x} + y \frac{\partial z}{\partial y} = x \left(-\frac{x}{z}\right) + y \left(-\frac{y}{z}\right) = \frac{-x^2}{z} + \frac{-y^2}{z} = -\frac{(x^2 + y^2)}{z} = -\frac{(1 - z^2)}{z} = \frac{-1}{z} + z$$

کج مثال ۸۸: در تابع با ضابطه $z = xy + x\sqrt{xy}$ حاصل $x \frac{\partial z}{\partial x} + y \frac{\partial z}{\partial y}$ در نقطه $(1, 4)$ واقع بر آن کدام است؟ (صنایع غذایی - سراسری ۸۹)

۸ (۱) ۶ (۲) ۱۲ (۳) ۱۴ (۴)

پاسخ: گزینه «۳» قضیه اویلر: اگر تابع دو متغیره $f(x, y)$ ، همگن از درجه n باشد آن گاه:

همچنین تابع $z = f(x, y)$ را همگن از درجه n گویند هرگاه:

تابع Z یک تابع همگن از درجه ۲ می باشد زیرا: $z(\lambda x, \lambda y) = (\lambda x)(\lambda y) + \lambda x \sqrt{(\lambda x)(\lambda y)} = \lambda^2 xy + \lambda^2 x \sqrt{xy} = \lambda^2 (xy + x\sqrt{xy}) = \lambda^2 z(x, y)$

$$\Rightarrow x \frac{\partial z}{\partial x} + y \frac{\partial z}{\partial y} = \lambda z \Big|_{\substack{x=1 \\ y=4}} = 2(1 \times 4 + 1\sqrt{4}) = 2(6) = 12$$

کج مثال ۸۹: از رابطه $z^2 = e^{2x-y} + \sqrt{z+3} + y$ مقدار $\frac{\partial z}{\partial x}$ در نقطه $(1, 2, -2)$ کدام است؟ (صنایع غذایی - سراسری ۸۹)

۹ (۱) $-\frac{9}{4}$ (۲) $\frac{4}{9}$ (۳) $\frac{9}{4}$ (۴)

پاسخ: گزینه «۱» با استفاده از روش مشتق گیری ضمنی داریم:

$$f(x, y, z) = z^2 - e^{2x-y} - \sqrt{z+3} - y = 0$$

$$\frac{\partial z}{\partial x} = -\frac{f'_x}{f'_z} = -\frac{-2e^{2x-y}}{2z - \frac{1}{2\sqrt{z+3}}} \Big|_{(1, 2, -2)} = -\frac{4}{9}$$

کج مثال ۹۰: اگر $u = x^2 + y^2$ و $v = x + xy$ مقدار $\frac{\partial x}{\partial u}$ به ازای $x = 2$ و $y = -1$ در حالی که v ثابت باشد کدام است؟ (صنایع غذایی - سراسری ۸۹)

$-\frac{1}{2}$ (۱) $-\frac{1}{4}$ (۲) $\frac{1}{4}$ (۳) $\frac{1}{2}$ (۴)

پاسخ: گزینه «۳» اگر $f(x, y, u, v) = 0$ و $g(x, y, u, v) = 0$ و $u = u(x, y)$ و $v = v(x, y)$ آن گاه:

$$\frac{du}{dx} = -\frac{\frac{\partial(f, g)}{\partial(x, v)}}{\frac{\partial(f, g)}{\partial(u, v)}}; \frac{\partial(f, g)}{\partial(u, v)} = \begin{vmatrix} f_u & f_v \\ g_u & g_v \end{vmatrix}$$

بنابراین با فرض این که $f(x, y, u, v) = u - x^2 - y^2 = 0$ و $g(x, y, u, v) = v - x - xy = 0$ باشد خواهیم داشت:

$$\frac{du}{dx} = -\frac{\begin{vmatrix} -2x & 0 \\ -1-y & 1 \end{vmatrix}}{\begin{vmatrix} 1 & 0 \\ 0 & 1 \end{vmatrix}} = 2x \Big|_{x=2} = 4 \Rightarrow \frac{du}{dx} = \frac{1}{4}$$

کج مثال ۹۱: متغیرهای x و y و z در معادله $x^2 y^2 + z^2 + xyz - 3 = 0$ صدق می کنند. فرض کنید x تابعی از y و z باشد، $\frac{\partial x}{\partial z}$ و $\frac{\partial x}{\partial y}$ در

نقطه $(y, z) = (1, 1)$ کدام است؟ (مدیریت در سوانح طبیعی - سراسری ۸۹)

$\frac{\partial x}{\partial z} = -1, \frac{\partial x}{\partial y} = \frac{3}{4}$ (۴) $\frac{\partial x}{\partial z} = \frac{3}{4}, \frac{\partial x}{\partial y} = 1$ (۳) $\frac{\partial x}{\partial z} = 1, \frac{\partial x}{\partial y} = \frac{3}{4}$ (۲) $\frac{\partial x}{\partial z} = -1, \frac{\partial x}{\partial y} = -\frac{3}{4}$ (۱)

پاسخ: گزینه «۱» با قرار دادن $z = 1$ و $y = 1$ داریم $x^2 + x - 2 = 0$ و لذا $x = 1$. اگر $F = x^2 y^2 + z^2 + xyz - 3 = 0$ آن گاه:

$$\frac{\partial x}{\partial z} = -\frac{F'_z}{F'_x} = -\frac{2z^2 + xy}{2x^2 y^2 + yz} = -1, \quad \frac{\partial x}{\partial y} = -\frac{F'_y}{F'_x} = -\frac{2x^2 y + xz}{2x^2 y^2 + yz} = -\frac{3}{4}$$



(ریاضی - سراسری ۹۰)

کج مثال ۹۲: اگر $\begin{cases} x^2 + y^2 = u \\ x \sin y + y = v \end{cases}$ آن گاه حاصل $\frac{\partial x}{\partial v}$ کدام است؟

(۱) $\frac{x^2 \cos y + x + y \sin y}{-y}$ (۲) $\frac{x}{x^2 \cos y + x + y \sin y}$ (۳) $x \cos y + 1$ (۴) $\frac{-y}{x^2 \cos y + x - y \sin y}$

پاسخ: گزینه «۴» در نظر می‌گیریم x و y به عنوان متغیرهای وابسته و u و v به عنوان متغیرهای مستقل می‌باشند. بنابراین از تعریف ژاکوبین برای

دستگاه معادلات $\begin{cases} F(u, v, x, y) = x^2 + y^2 - u = 0 \\ G(u, v, x, y) = x \sin y + y - v = 0 \end{cases}$ استفاده می‌کنیم.

$$\frac{\partial x}{\partial v} = - \frac{\frac{\partial(F, G)}{\partial(v, y)}}{\frac{\partial(F, G)}{\partial(x, y)}} = - \frac{\begin{vmatrix} F_v & F_y \\ G_v & G_y \end{vmatrix}}{\begin{vmatrix} F_x & F_y \\ G_x & G_y \end{vmatrix}} = - \frac{\begin{vmatrix} 0 & 2y \\ -1 & x \cos y + 1 \end{vmatrix}}{\begin{vmatrix} 2x & 2y \\ \sin y & x \cos y + 1 \end{vmatrix}} \Rightarrow \frac{\partial x}{\partial v} = \frac{-2y}{2x^2 \cos y + 2x - 2y \sin y} = \frac{-y}{x^2 \cos y + x - y \sin y}$$

(صنایع غذایی - سراسری ۹۰)

کج مثال ۹۳: اگر $z = x^2 + xy - y^2$ و $x = 2t - s$ و $y = t^2 + s^2$ مقدار $\frac{\partial z}{\partial t}$ به ازای $t = 2$ و $s = 3$ کدام است؟

(۱) -75 (۲) -40 (۳) -45 (۴) -70

پاسخ: گزینه «۴» طبق قاعده مشتق‌گیری داریم: $\frac{\partial z}{\partial t} = \frac{\partial z}{\partial x} \frac{\partial x}{\partial t} + \frac{\partial z}{\partial y} \frac{\partial y}{\partial t} = (2x + y)(2) + (x - 2y)(2t)$ (۱)

به ازای $t = 2, s = 3$: $x = 2t - s = 4 - 3 = 1$; $y = t^2 + s^2 = 4 + 9 = 13$

مقادیر فوق را در رابطه (۱) جایگذاری می‌کنیم: $\frac{\partial z}{\partial t} = (2 \times 1 + 13)(2) + (1 - 2 \times 13)(2 \times 2) = 30 - 100 = -70$

(معدن - سراسری ۹۰)

کج مثال ۹۴: در تابع دو متغیره $z = \frac{x^2}{y} - \frac{x}{x+y}$ حاصل $x \frac{\partial z}{\partial x} + y \frac{\partial z}{\partial y} + \frac{\partial z}{\partial x}$ برابر کدام است؟

(۱) 0 (۲) $\frac{x}{y}$ (۳) $2z$ (۴) $\frac{x^2}{y}$

پاسخ: گزینه «۴» چون x و y متغیر مستقل هستند. پس $\frac{\partial y}{\partial x} = 0$

z_1 تابع همگن درجه ۱ و z_2 تابع همگن درجه ۰ $z = \frac{x^2}{y} - \frac{x}{x+y}$, $z_1 = \frac{x^2}{y}$, $z_2 = \frac{x}{x+y}$

$x \frac{\partial z}{\partial x} + y \frac{\partial z}{\partial y} = (1)z_1 + (0)z_2 = z_1 = \frac{x^2}{y}$

(علوم کامپیوتر - سراسری ۹۰)

کج مثال ۹۵: هرگاه $z = \arcsin \frac{x^2 y^2}{x^2 + y^2}$ آن گاه عبارت $x \frac{\partial z}{\partial x} + y \frac{\partial z}{\partial y}$ برابر است با:

(۱) $2 \sin z$ (۲) $\cos z$ (۳) $2 \operatorname{tg} z$ (۴) $\cot g z$

پاسخ: گزینه «۳» می‌دانیم که اگر $u = F(z)$ باشد که u عبارتی همگن بر حسب x و y است آن گاه $x \frac{\partial z}{\partial x} + y \frac{\partial z}{\partial y} = n \frac{F(z)}{F'(z)}$

در این سؤال قرار می‌دهیم $u = \frac{x^2 y^2}{x^2 + y^2}$ ، در این صورت $u = \sin z$ و در نتیجه داریم: $x \frac{\partial z}{\partial x} + y \frac{\partial z}{\partial y} = 2 \times \frac{\sin z}{\cos z} = 2 \tan z$

کله مثال ۹۶: فرض کنید تابع f بر R مشتق پذیر است کدام گزینه برای تابع $u = f(x^2 + y^2)$ صحیح است؟ (ژئوفیزیک و هواشناسی - سراسری ۹۰)

$$(1) \quad x \frac{\partial u}{\partial x} - y \frac{\partial u}{\partial y} = 0 \quad (2) \quad x \frac{\partial u}{\partial x} + y \frac{\partial u}{\partial y} = 0 \quad (3) \quad y \frac{\partial u}{\partial x} + x \frac{\partial u}{\partial y} = 0 \quad (4) \quad y \frac{\partial u}{\partial x} - x \frac{\partial u}{\partial y} = 0$$

پاسخ: گزینه «۴» ابتدا مشتقات جزئی u نسبت به x و y را می یابیم.

$$x^2 + y^2 = v \Rightarrow u = f(v) \Rightarrow \frac{\partial u}{\partial x} = \frac{df}{dv} \cdot \frac{\partial v}{\partial x} = f_v \cdot 2x = 2xf_v$$

$$\frac{\partial u}{\partial y} = \frac{df}{dv} \cdot \frac{\partial v}{\partial y} = f_v \cdot 2y = 2yf_v$$

$$y \frac{\partial u}{\partial x} - x \frac{\partial u}{\partial y} = 2xyf_v - 2xyf_v = 0$$

که با بررسی گزینه ها، گزینه ۴ صحیح است، زیرا:

کله مثال ۹۷: اگر $u = \frac{\sqrt{x} - \sqrt{y}}{x + y}$ در این صورت $x \frac{\partial u}{\partial x} + y \frac{\partial u}{\partial y}$ کدام است؟ (ژئوفیزیک و هواشناسی - سراسری ۹۰)

$$(1) \quad \frac{\sqrt{x} - \sqrt{y}}{2(x + y)} \quad (2) \quad \frac{2(\sqrt{x} - \sqrt{y})}{x + y} \quad (3) \quad -\frac{2(\sqrt{x} - \sqrt{y})}{x + y} \quad (4) \quad -\frac{\sqrt{x} - \sqrt{y}}{2(x + y)}$$

پاسخ: گزینه «۴» با توجه به قضیه اولر، اگر تابع $u = f(x, y)$ همگن و از مرتبه n باشد، بنابراین داریم:

لذا ابتدا همگنی تابع $u = \frac{\sqrt{x} - \sqrt{y}}{x + y}$ را مورد بررسی قرار می دهیم:

$$f(\lambda x, \lambda y) = \frac{\sqrt{\lambda x} - \sqrt{\lambda y}}{\lambda x + \lambda y} = \frac{\sqrt{\lambda}(\sqrt{x} - \sqrt{y})}{\lambda(x + y)} = \lambda^{-\frac{1}{2}} \frac{(\sqrt{x} - \sqrt{y})}{x + y} = \lambda^{-\frac{1}{2}} f(x, y)$$

بنابراین تابع u همگن از مرتبه $n = -\frac{1}{2}$ می باشد، لذا با جایگذاری در رابطه (۱) داریم:

$$x \frac{\partial u}{\partial x} + y \frac{\partial u}{\partial y} = -\frac{1}{2} u = -\frac{1}{2} \left(\frac{\sqrt{x} - \sqrt{y}}{x + y} \right)$$

کله مثال ۹۸: اگر $z = \frac{xy}{x^2 + y^2}$ مقدار $x \frac{\partial z}{\partial x} + y \frac{\partial z}{\partial y}$ برابر کدام است؟ (کشاورزی - سراسری ۹۰)

$$(1) \quad \text{صفر} \quad (2) \quad -z \quad (3) \quad z \quad (4) \quad (x + y)z$$

پاسخ: گزینه «۱» تابع داده شده همگن از مرتبه صفر است، بنابراین طبق قضیه اولر می توان نوشت:

$$x \frac{\partial z}{\partial x} + y \frac{\partial z}{\partial y} = 0 \times z = 0$$

کله مثال ۹۹: از رابطه $xz^2 + (2x - y)z = 7$ مقدار $\frac{\partial z}{\partial x}$ در نقطه $(2, -1, 1)$ کدام است؟ (کشاورزی - سراسری ۹۰)

$$(1) \quad -\frac{1}{2} \quad (2) \quad -\frac{1}{3} \quad (3) \quad \frac{2}{3} \quad (4) \quad \frac{3}{4}$$

پاسخ: گزینه «۲» چون رابطه ی ضمنی بین x و z برقرار است، از تعریف مشتق ضمنی برای محاسبه ی $\frac{\partial z}{\partial x}$ استفاده می کنیم:

$$\frac{\partial z}{\partial x} = -\frac{f_x}{f_z} = -\frac{z^2 + 2z}{2xz + (2x - y)} \Big|_{(2, -1, 1)} = -\frac{3}{4 + (1 + 4)} = -\frac{1}{3}$$



درسنامه ۴: گرادیان و مشتق جهت سوئی



مثال ۱: گرادیان تابع $\phi(x, y, z) = xy + yz^2$ در نقطه‌ای با مختصات $M(2, -1, -1)$ کدام است؟

(۱) $\vec{\nabla}\phi = -\vec{i} + 3\vec{j} - 2\vec{k}$ (۲) $\vec{\nabla}\phi = -\vec{i} + 3\vec{j} + 2\vec{k}$ (۳) $\vec{\nabla}\phi = -2\vec{i} + \vec{j} + 2\vec{k}$ (۴) $\vec{\nabla}\phi = -2\vec{i} + 2\vec{k} - 3\vec{j}$

پاسخ: گزینه «۲» اگر $\phi = \phi(x, y, z)$ آن‌گاه گرادیان ϕ بفرم $\vec{\nabla}\phi = \left(\frac{\partial\phi}{\partial x}, \frac{\partial\phi}{\partial y}, \frac{\partial\phi}{\partial z}\right)$ می‌باشد لذا داریم:

$$\vec{\nabla}\phi = (y, x + z^2, 2yz) \Rightarrow \vec{\nabla}\phi(2, -1, -1) = (-1, 3, 2) \Rightarrow \vec{\nabla}\phi(2, -1, -1) = -\vec{i} + 3\vec{j} + 2\vec{k}$$

مثال ۲: در کدام نقطه یا نقاط، گرادیان تابع $z = \ln(x + \frac{1}{y})$ برابر با $\vec{i} - \frac{16}{9}\vec{j}$ است؟

(۱) $(\frac{1}{3}, -\frac{3}{4})$ و $(\frac{1}{3}, \frac{3}{4})$ (۲) $(-\frac{1}{3}, \frac{3}{4})$ و $(\frac{1}{3}, -\frac{3}{4})$ (۳) فقط $(\frac{1}{3}, \frac{3}{4})$ (۴) فقط $(-\frac{1}{3}, \frac{3}{4})$

پاسخ: گزینه «۲» ابتدا توجه کنید که $\vec{\nabla}z = \left(\frac{1}{x + \frac{1}{y}}, -\frac{1}{y^2}\right)$ بنابراین برای این که گرادیان برابر $\vec{i} - \frac{16}{9}\vec{j}$ باشد، لازم است:

$$\begin{cases} \frac{1}{x + \frac{1}{y}} = 1 \\ -\frac{1}{y^2} = -\frac{16}{9} \end{cases} \Rightarrow \frac{-1}{y^2} = \frac{-16}{9} \Rightarrow y = \pm \frac{3}{4}$$

به ازای $y = \frac{3}{4}$ ، از معادله $1 = \frac{1}{x + \frac{1}{y}}$ ، نتیجه می‌شود $x = \frac{-1}{3}$ ، به ازای $y = -\frac{3}{4}$ ، نتیجه می‌شود $x = \frac{1}{3}$. بنابراین نقاط $(-\frac{1}{3}, \frac{3}{4})$ و $(\frac{1}{3}, -\frac{3}{4})$ نقاط موردنظر هستند.

مثال ۳: مشتق سوئی تابع $\phi(x, y, z) = x^2 + y^2 - z^2$ در نقطه $(3, 4, -1)$ در امتداد بردار $\vec{A} = 3\vec{i} - 2\vec{j} + 6\vec{k}$ کدام است؟

(۱) -۳ (۲) -۲ (۳) ۲ (۴) -۳

پاسخ: گزینه «۳» ابتدا بردار یکه را برای \vec{A} محاسبه می‌کنیم:

$$|\vec{A}| = \sqrt{(3)^2 + (-2)^2 + (6)^2} = \sqrt{49} = 7 \quad \text{و} \quad \vec{u} = \frac{\vec{A}}{|\vec{A}|} = \frac{3\vec{i} - 2\vec{j} + 6\vec{k}}{7} = \frac{3}{7}\vec{i} - \frac{2}{7}\vec{j} + \frac{6}{7}\vec{k}$$

گرادیان ϕ در نقطه $(3, 4, -1)$ برابر است با:

$$\vec{\nabla}\phi = 2x\vec{i} + 2y\vec{j} - 2z\vec{k} \Rightarrow \vec{\nabla}\phi(3, 4, -1) = 6\vec{i} + 8\vec{j} + 2\vec{k}$$

$$\vec{A} \cdot \vec{\nabla}\phi(3, 4, -1) = (3\vec{i} - 2\vec{j} + 6\vec{k}) \cdot (6\vec{i} + 8\vec{j} + 2\vec{k}) = \frac{18}{7} - \frac{16}{7} + \frac{12}{7} = \frac{14}{7} = 2$$

مثال ۴: مشتق سوئی تابع $f(x, y) = e^{-xy}$ در نقطه $(1, -1)$ و در راستای $\theta = \frac{2\pi}{3}$ کدام است؟

(۱) $\frac{e}{2}(1 + \sqrt{3})$ (۲) $-\frac{e}{2}(1 + \sqrt{3})$ (۳) $\frac{e}{2}(1 - \sqrt{3})$ (۴) $\frac{e}{2}(\sqrt{3} - 1)$

پاسخ: گزینه «۲» منظور از راستای $\theta = \frac{2\pi}{3}$ ، همان بردار یکه $\vec{u}_\theta = (\cos\theta, \sin\theta) = \left(-\frac{1}{2}, \frac{\sqrt{3}}{2}\right)$ می‌باشد. از طرفی داریم:

$$\vec{\nabla}f = (-ye^{-xy}, -xe^{-xy}) \Rightarrow \vec{\nabla}f \Big|_{(1, -1)} = (e, -e)$$

$$D_{\vec{u}_\theta} f = \vec{\nabla}f \cdot \vec{u}_\theta = (e, -e) \cdot \left(-\frac{1}{2}, \frac{\sqrt{3}}{2}\right) = -\frac{e}{2}(1 + \sqrt{3})$$

بنابراین مشتق سوئی به صورت مقابل خواهد بود:

مثال ۵: فرض کنید $f(x,y,z) = xyz^2 - y^3z$ ، در این صورت آهنگ تغییرات تابع f وقتی از نقطه $A(2,1,-1)$ به سمت نقطه $B(-1,1,3)$ حرکت می‌کنیم چقدر است؟

(۱) $\frac{-17}{5}$ (۲) $\frac{-23}{5}$ (۳) -5 (۴) $\frac{-14}{5}$

پاسخ: گزینه «۲» منظور از آهنگ تغییرات همان مشتق جهتی تابع f در نقطه A ، در جهت بردار \overline{AB} می‌باشد. ابتدا بردار \overline{AB} را به دست آورده و

آن را یک‌ه می‌کنیم: $\overline{AB} = (-3, 0, 4) \Rightarrow |\overline{AB}| = \sqrt{9+16} = 5 \Rightarrow \vec{u} = \frac{\overline{AB}}{|\overline{AB}|} = (\frac{-3}{5}, 0, \frac{4}{5})$

گرادیان تابع f را در نقطه A به دست می‌آوریم: $\vec{\nabla}f = (yz^2, xz^2 - 3y^2z, 2xyz - y^3) \Rightarrow \vec{\nabla}f(A) = (1, 5, -5)$

بنابراین مشتق جهتی f در نقطه A ، در جهت بردار یک‌ه برابر است با: $D_{\vec{u}}f(A) = (\frac{-3}{5}, 0, \frac{4}{5}) \cdot (1, 5, -5) = \frac{-3}{5} + 0 + \frac{-20}{5} = \frac{-23}{5}$

مثال ۶: تابع $f(x,y) = \begin{cases} \frac{x^2+y^3}{|x|+|y|} & ; (x,y) \neq (0,0) \\ 0 & ; (x,y) = (0,0) \end{cases}$ را در نظر بگیرید. مشتق سوئی تابع f در مبدأ مختصات در جهت بردار یک‌ه $\vec{u} = \frac{3}{5}\vec{i} + \frac{4}{5}\vec{j}$ چقدر است؟

(۱) $\frac{9}{35}$ (۲) $\frac{9}{50}$ (۳) $\frac{9}{25}$ (۴) وجود ندارد.

پاسخ: گزینه «۱» چون ضابطه f در مبدأ مختصات تغییر می‌کند، برای محاسبه مشتق جهتی از تعریف استفاده می‌کنیم، یعنی داریم:

$$D_{\vec{u}}f(0,0) = \lim_{h \rightarrow 0^+} \frac{f(\frac{3}{5}h, \frac{4}{5}h) - f(0,0)}{h} = \lim_{h \rightarrow 0^+} \frac{\frac{\frac{9}{25}h^2 + \frac{64}{125}h^3}{|\frac{3}{5}h| + |\frac{4}{5}h|} - 0}{h} = \lim_{h \rightarrow 0^+} \frac{\frac{9}{25}h + \frac{64}{125}h^2}{\frac{3}{5}h + \frac{4}{5}h} = \lim_{h \rightarrow 0^+} \frac{\frac{9}{25}h + \frac{64}{125}h^2}{\frac{7}{5}h} = \frac{9}{35}$$

مثال ۷: بزرگترین مشتق سوئی تابع $f(x,y,z) = x^2y^3z^4$ در نقطه $(1,1,1)$ کدام است؟

(۱) ۹ (۲) ۲۹ (۳) $\sqrt{29}$ (۴) $9\sqrt{29}$

پاسخ: گزینه «۳» مقدار بزرگترین مشتق جهتی برابر اندازه بردار گرادیان است، یعنی داریم:

$$\vec{\nabla}f = \frac{\partial f}{\partial x}\vec{i} + \frac{\partial f}{\partial y}\vec{j} + \frac{\partial f}{\partial z}\vec{k} = 2xy^3z^4\vec{i} + 3x^2y^2z^4\vec{j} + 4x^2y^3z^3\vec{k}$$

$$\vec{\nabla}f(1,1,1) = 2\vec{i} + 3\vec{j} + 4\vec{k} \Rightarrow |\vec{\nabla}f| = \sqrt{(2)^2 + (3)^2 + (4)^2} = \sqrt{29}$$

مثال ۸: مشتق تابع $f(x,y,z) = \frac{x}{\sqrt{x^2+y^2+z^2}}$ ، در امتداد خط مماس بر منحنی C به معادله‌ی $z = 2t^4$ و $y = 2t^2$ و $x = t$ ، در نقطه‌ی $A(1,2,2)$ کدام است؟

(۱) $\frac{-16}{243}$ (۲) $\frac{32}{81}$ (۳) $\frac{-32}{81}$ (۴) $\frac{16}{243}$

پاسخ: گزینه «۱» واضح است که نقطه $A(1,2,2)$ ، به ازای $t=1$ روی منحنی C به دست آمده است. ابتدا بردار یک‌ه مماس بر منحنی C را به دست می‌آوریم:

$$\vec{r}(t) = (t, 2t^2, 2t^4) \Rightarrow \vec{r}'(t) = (1, 4t, 8t^3) \Big|_{t=1} = (1, 4, 8) \Rightarrow \vec{u} = \frac{\vec{r}'(t)}{|\vec{r}'(t)|} = \frac{(1, 4, 8)}{\sqrt{1+16+64}} = (\frac{1}{9}, \frac{4}{9}, \frac{8}{9})$$

گرادیان تابع f در نقطه A را به دست می‌آوریم:

$$\vec{\nabla}f = \left(\frac{\sqrt{x^2+y^2+z^2} - \frac{2x^2}{2\sqrt{x^2+y^2+z^2}}}{x^2+y^2+z^2}, \frac{-2xy}{2\sqrt{(x^2+y^2+z^2)^3}}, \frac{-2xz}{2\sqrt{(x^2+y^2+z^2)^3}} \right) \Big|_A = \left(\frac{8}{27}, \frac{-2}{27}, \frac{-2}{27} \right)$$

بنابراین مشتق تابع f در امتداد \vec{u} برابر است با: $D_{\vec{u}}f = \vec{\nabla}f \cdot \vec{u} = (\frac{8}{27})(\frac{1}{9}) + (\frac{-2}{27})(\frac{4}{9}) + (\frac{-2}{27})(\frac{8}{9}) = \frac{-16}{243}$



کلمه مثال ۹: فرض کنیم تابع $f(x, y)$ در نقطه $\{a, b\}$ مشتق پذیر باشد. اگر مشتق جهتی این تابع در نقطه مذکور در امتداد $\vec{i} + \vec{j}$ برابر $3\sqrt{2}$ و در امتداد $2\vec{i} - 4\vec{j}$ برابر ۵ باشد، آن گاه بردار $\nabla f(a, b)$ کدام است؟

(۱) $7\vec{i} - \vec{j}$ (۲) $7\vec{i} + \vec{j}$ (۳) $-\vec{i} + 7\vec{j}$ (۴) $\frac{12\sqrt{2} + 5}{7}\vec{i} + \frac{9\sqrt{2} - 5}{7}\vec{j}$

پاسخ: گزینه «۱» فرض می‌کنیم $\nabla f = (f_x, f_y)$ ، در این صورت داریم:

$$\vec{A} = \vec{i} + \vec{j} \Rightarrow \vec{u} = \frac{\vec{A}}{|\vec{A}|} = \frac{1}{\sqrt{2}}(\vec{i} + \vec{j})$$

$$\vec{B} = 2\vec{i} - 4\vec{j} \Rightarrow \vec{V} = \frac{\vec{B}}{|\vec{B}|} = \frac{1}{5}(2\vec{i} - 4\vec{j})$$

$$\begin{cases} \nabla f \cdot \frac{1}{\sqrt{2}}(\vec{i} + \vec{j}) = 3\sqrt{2} \\ \nabla f \cdot \frac{1}{5}(2\vec{i} - 4\vec{j}) = 5 \end{cases} \Rightarrow \begin{cases} f_x + f_y = 6 \\ 2f_x - 4f_y = 25 \end{cases} \Rightarrow f_x = 7, f_y = -1 \Rightarrow \nabla f = (7, -1)$$

کلمه مثال ۱۰: تابع $f(x, y, z) = x^2y + yz + z^2$ را در نظر بگیرید. مشتق سوئی مرتبه دوم f در نقطه $(1, -1, 1)$ در جهت بردار $2\vec{k} + \vec{j} + \vec{i}$ چقدر است؟

(۱) $\frac{10}{6}$ (۲) $\frac{14}{3}$ (۳) $\frac{14}{6}$ (۴) $\frac{20}{3}$

پاسخ: گزینه «۳» ابتدا مشتق سوئی مرتبه اول f را در نقطه دلخواه $p(x, y, z)$ به دست می‌آوریم. یکه شده بردار داده شده به صورت

$$D_{\vec{u}}f(p) = \nabla f \cdot \vec{u} = (2xy, x^2 + z, y + 2z) \cdot \left(\frac{1}{\sqrt{6}}, \frac{1}{\sqrt{6}}, \frac{2}{\sqrt{6}}\right) = \frac{1}{\sqrt{6}}(2xy + x^2 + z + 2y + 4z)$$

قرار می‌دهیم $g = \frac{1}{\sqrt{6}}(2xy + x^2 + 5z + 2y)$ ، در این صورت برای به دست آوردن مشتق سوئی مرتبه دوم f کافی است $D_{\vec{u}}g(p)$ را به دست آوریم:

$$D_{\vec{u}}g(p) = \nabla g \cdot \vec{u} = \frac{1}{\sqrt{6}}(2y + 2x, 2x + 2, 5) \cdot \frac{1}{\sqrt{6}}(1, 1, 2) = \frac{1}{6}(2y + 2x + 2x + 2 + 10) = \frac{1}{6}(4x + 2y + 12)$$

که در نقطه $(1, -1, 1)$ مقدار مشتق سوئی برابر $\frac{14}{6} = \frac{7}{3}$ است.

کلمه مثال ۱۱: در مورد تابع $f(x, y) = \begin{cases} \frac{x^2y^2}{x^6 + y^6} & ; (x, y) \neq (0, 0) \\ 0 & ; (x, y) = (0, 0) \end{cases}$ کدام گزینه درست است؟ (در گزینه‌ها $u_1 \neq 0$ است.)

(۱) تابع f در مبدأ پیوسته است و مشتق جهتی f در مبدأ در امتداد بردار یکه $\vec{u} = (u_1, u_2)$ برابر با $\frac{u_1^3}{u_2^3}$ می‌باشد.

(۲) تابع f در مبدأ پیوسته نیست و مشتق جهتی f در مبدأ در امتداد بردار یکه $\vec{u} = (u_1, u_2)$ برابر با $\frac{u_1^3}{u_2^3}$ است.

(۳) مشتقات جزئی مرتبه اول تابع f در $(0, 0)$ پیوسته نیستند و مشتق جهتی f در مبدأ در امتداد بردار یکه $\vec{u} = (u_1, u_2)$ برابر با $\frac{u_1^3}{2u_2^3}$ می‌باشد.

(۴) مشتقات جزئی مرتبه اول تابع f در $(0, 0)$ پیوسته هستند و مشتق جهتی f در مبدأ در امتداد بردار یکه $\vec{u} = (u_1, u_2)$ برابر با $\frac{u_1^3}{2u_2^3}$ می‌باشد.

پاسخ: گزینه «۲» حد f روی مسیر $y^2 = mx^3$ به دست می‌آوریم، در این صورت داریم:

$$\lim_{(x, y) \rightarrow (0, 0)} \frac{x^2y^2}{x^6 + y^6} = \lim_{x \rightarrow 0} \frac{x^2 \cdot mx^3}{x^6 + m^2x^6} = \lim_{x \rightarrow 0} \frac{mx^5}{x^6(1 + m^2)} = \frac{m}{1 + m^2}$$

بنابراین حد وجود ندارد و در نتیجه f در مبدأ پیوسته نیست.

مشتق جهتی f را در مبدأ جهت بردار یکه $\vec{u} = (u_1, u_2)$ به دست می‌آوریم:

$$D_{\vec{u}}f(0, 0) = \lim_{h \rightarrow 0^+} \frac{f(hu_1, hu_2) - f(0, 0)}{h} = \lim_{h \rightarrow 0^+} \frac{h^3u_1^2h^3u_2^2}{h^6u_1^6 + h^6u_2^6} = \lim_{h \rightarrow 0^+} \frac{u_1^3u_2^2}{h^3u_1^6 + u_2^6}$$

حال اگر $u_2 \neq 0$ ، آن گاه حد اخیر برابر $\frac{u_1^3}{u_2^6}$ خواهد بود.

حل در این جا به اتمام رسیده است ولی برای اطمینان بیشتر سایر گزینه‌ها را نیز بررسی می‌کنیم، بدین منظور مشتق‌های جزئی مرتبه اول f را در مبدأ به دست می‌آوریم.

$$\frac{\partial f}{\partial x}(0,0) = \lim_{h \rightarrow 0} \frac{f(h,0) - f(0,0)}{h} = \lim_{h \rightarrow 0} \frac{0-0}{h} = 0$$

$$\frac{\partial f}{\partial y}(0,0) = \lim_{h \rightarrow 0} \frac{f(0,h) - f(0,0)}{h} = \lim_{h \rightarrow 0} \frac{0-0}{h} = 0$$

$$\frac{\partial f}{\partial x} = \frac{3x^2y^2(x^6+y^6) - 6x^5 \cdot x^2y^2}{(x^6+y^6)^2} = \frac{3x^2y^8 - 3x^7y^2}{(x^6+y^6)^2}$$

$$\frac{\partial f}{\partial y} = \frac{2x^2y(x^6+y^6) - 4y^3x^2y^2}{(x^6+y^6)^2} = \frac{2x^8y - 2x^2y^5}{(x^6+y^6)^2}$$

چون درجه صورت از درجه مخرج کوچک‌تر یا مساوی می‌باشد پس $\frac{\partial f}{\partial x}$ و $\frac{\partial f}{\partial y}$ در مبدأ حد ندارند و بنابراین پیوسته نیستند.

مثال ۱۲: در تابع $f(x,y,z) = ax^2y + byz + cz^2x^3$ اگر ثابت‌های a و b و c را به گونه‌ای انتخاب کرده باشیم که ماکزیمم مشتق سوئی آن در نقطه $(1,2,-1)$ در جهت محور z ها و مقدار آن 64 باشد آن‌گاه حاصل $a+b+c$ کدام است؟

(۴) -۲۴

(۳) -۲۲

(۲) ۲۴

(۱) ۲۲

پاسخ: گزینه «۱» می‌دانیم حداکثر مقدار مشتق جهتی در جهت بردار گرادیان و مقدار آن $|\vec{\nabla}f|$ است چون حداکثر مشتق در جهت محور z ها و اندازه آن 64 است پس $\vec{\nabla}f = (0,0,64)$.

$$\vec{\nabla}f = (ay^2 + 2cz^2x^2, 2axy + bz, by + 2czx^3) = (4a + 3c, 4a - b, 2b - 2c) = (0,0,64)$$

$$\Rightarrow \begin{cases} 4a + 3c = 0 \\ 4a - b = 0 \\ 2b - 2c = 64 \end{cases} \Rightarrow c = -8, b = 24, a = 6 \Rightarrow a + b + c = 22$$

مثال ۱۳: مکان هندسی نقاطی که مجموع مشتق‌های سوئی تابع $f(x,y) = x^2 + y^2$ در جهت‌های $(1,1)$ و $(1,-1)$ برابر مقدار تابع یعنی $x^2 + y^2$ باشد، کدام است؟

(۴) $x^2 + (y + \sqrt{2})^2 = 2$

(۳) $(x + \sqrt{2})^2 + y^2 = 2$

(۲) $y^2 + (x - \sqrt{2})^2 = 2$

(۱) $x^2 + y^2 = 2$

پاسخ: گزینه «۲» ابتدا بردارهای داده شده را یک می‌کنیم در این صورت $\vec{u} = \frac{(1,1)}{\sqrt{2}} = (\frac{1}{\sqrt{2}}, \frac{1}{\sqrt{2}})$ و $\vec{v} = \frac{(1,-1)}{\sqrt{2}} = (\frac{1}{\sqrt{2}}, -\frac{1}{\sqrt{2}})$. بنابراین مشتق

سوئی تابع f در نقطه دلخواه $p(x,y)$ در جهت \vec{u} و \vec{v} برابر است با:

$$D_{\vec{u}}f(p) = \vec{\nabla}f \cdot \vec{u} = (2x, 2y) \cdot (\frac{1}{\sqrt{2}}, \frac{1}{\sqrt{2}}) = \frac{2x}{\sqrt{2}} + \frac{2y}{\sqrt{2}} = \sqrt{2}(x+y)$$

$$D_{\vec{v}}f(p) = \vec{\nabla}f \cdot \vec{v} = (2x, 2y) \cdot (\frac{1}{\sqrt{2}}, -\frac{1}{\sqrt{2}}) = \frac{2x}{\sqrt{2}} - \frac{2y}{\sqrt{2}} = \sqrt{2}(x-y)$$

بنابراین مجموع مشتق‌های سوئی برابر $\sqrt{2}(x+y) + \sqrt{2}(x-y) = 2\sqrt{2}x$ است که طبق خواسته سؤال می‌خواهیم برابر $x^2 + y^2$ باشد، یعنی داریم:

$$x^2 + y^2 = 2\sqrt{2}x \Rightarrow (x - \sqrt{2})^2 + y^2 = 2$$

مثال ۱۴: مشتق جهت‌دار تابع $f(x,y) = 2x^2 - 3xy + 5y^2$ در نقطه $(1,2)$ در جهت بردار واحد \vec{U} که با محور x زاویه 45° درجه بسازد چقدر است؟

(صنایع - سیستم - سراسری ۷۸)

(۴) $\frac{19\sqrt{2}}{2}$

(۳) ۱۵

(۲) $\frac{15\sqrt{2}}{2}$

(۱) $\frac{\sqrt{2}}{2}$

پاسخ: گزینه «۲» $\vec{\nabla}f = (4x - 3y, -3x + 10y) \Rightarrow \vec{\nabla}f(1,2) = (-2, 17)$

چون بردار واحد \vec{u} ، با محور x زاویه 45° می‌سازد، پس $\vec{u} = (\cos 45^\circ, \sin 45^\circ) = (\frac{\sqrt{2}}{2}, \frac{\sqrt{2}}{2})$. بنابراین مشتق سوئی f در نقطه $(1,2)$ در جهت

$$D_{\vec{u}}f(1,2) = (-2, 17) \cdot (\frac{\sqrt{2}}{2}, \frac{\sqrt{2}}{2}) = \frac{15\sqrt{2}}{2}$$

بردار \vec{u} برابر است با:



📌 مثال ۱۵: مشتق تابع $z = x^2y^2 - xy^2 - 3y$ در نقطه (۱ و ۲) و در جهتی که این نقطه را به مبدأ وصل می‌کند برابر است با: (مکانیک - سراسری ۷۹)

(۱) $\sqrt{5}$ (۲) $\frac{1}{\sqrt{5}}$ (۳) $\frac{-1}{\sqrt{5}}$ (۴) $-\sqrt{5}$

☑ پاسخ: گزینه «۴» بردار واحدی که نقطه (۱ و ۲) را به مبدأ وصل می‌کند $\vec{u} = (\frac{-2}{\sqrt{5}}, \frac{-1}{\sqrt{5}})$ می‌باشد.

$$f(x, y, z) = x^2y^2 - xy^2 - 3y - z = 0 \Rightarrow \vec{\nabla}f = (2xy^2 - y^2, 2x^2y - 2xy^2 - 3, -1) \Rightarrow \vec{\nabla}f \Big|_{(2,1)} = (3, -1, -1)$$

$$D_{\vec{u}}f = \vec{\nabla}f \cdot \vec{u} = (3, -1, -1) \cdot (\frac{-2}{\sqrt{5}}, \frac{-1}{\sqrt{5}}, 0) = \frac{-5}{\sqrt{5}} = -\sqrt{5}$$

📌 مثال ۱۶: مشتق سوئی تابع $f(x, y, z) = xz^2 - \sin xy$ در نقطه $(1, \frac{\pi}{2}, -1)$ در جهت بردار $\vec{i} - 2\vec{j} + 2\vec{k}$ کدام است؟ (صنایع - سیستم - سراسری ۷۹)

(۱) -2 (۲) -1 (۳) 0 (۴) 1

☑ پاسخ: گزینه «۲» $\vec{\nabla}f \Big|_{(1, \frac{\pi}{2}, -1)} = (1, 0, -2)$

اگر قرار دهیم $\vec{u} = \vec{i} - 2\vec{j} + 2\vec{k}$ ، آن‌گاه داریم:

$$\frac{\vec{u}}{|\vec{u}|} = \frac{1}{3}(\vec{i} - 2\vec{j} + 2\vec{k}) = (\frac{1}{3}, \frac{-2}{3}, \frac{2}{3})$$

بنابراین مشتق سوئی f در نقطه $(1, \frac{\pi}{2}, -1)$ در جهت بردار \vec{u} برابر است با:

$$D_{\vec{u}}f = (1, 0, -2) \cdot (\frac{1}{3}, \frac{-2}{3}, \frac{2}{3}) = -1$$

📌 مثال ۱۷: اگر \vec{u} بردار بیکه در جهت ماکزیمم مقدار مشتق جهت‌دار تابع $f(x, y) = x^2e^y$ در نقطه $(-2, 0)$ باشد، در این صورت مقدار \vec{u} با کدام عبارت برابر است؟ (مکانیک - سراسری ۸۰)

(۱) $\vec{u} = \frac{2}{\sqrt{13}}\vec{i} - \frac{3}{\sqrt{13}}\vec{j}$ (۲) $\vec{u} = -\frac{1}{\sqrt{2}}\vec{i} + \frac{1}{\sqrt{2}}\vec{j}$ (۳) $\vec{u} = \frac{3}{5}\vec{i} + \frac{4}{5}\vec{j}$ (۴) $\vec{u} = -\frac{1}{\sqrt{10}}\vec{i} - \frac{3}{\sqrt{10}}\vec{j}$

☑ پاسخ: گزینه «۲» جهت موردنظر، جهت بردار گرادیان می‌باشد.

$$\vec{\nabla}f = (2xe^y, x^2e^y) \Big|_{(-2, 0)} = (-4, 4) \Rightarrow \vec{u} = \frac{\vec{\nabla}f}{|\vec{\nabla}f|} = (\frac{-1}{\sqrt{2}}, \frac{1}{\sqrt{2}})$$

📌 مثال ۱۸: تابع با ضابطه $f(x, y) = \text{tg}^{-1}(\frac{y}{x})$ مفروض است. از نقطه $P(1, 1)$ در سوی چه امتدادی حرکت کنیم تا حداکثر سرعت افزایش برای تابع f به دست آید؟ (ریاضی - سراسری ۸۰)

(۱) $(\frac{1}{\sqrt{2}}, -\frac{1}{\sqrt{2}})$ (۲) $(-1, 1)$ (۳) $(-\frac{1}{2}, \frac{1}{2})$ (۴) $(-\frac{1}{\sqrt{2}}, \frac{1}{\sqrt{2}})$

☑ پاسخ: گزینه «۲ و ۳ و ۴» جهت $\vec{\nabla}f$ ، راستای بیشترین افزایش تابع می‌باشد، بنابراین داریم:

$$f(x, y) = \text{Arctg} \frac{y}{x} \Rightarrow \vec{\nabla}f = (\frac{-y}{x^2 + y^2}, \frac{x}{x^2 + y^2}) \Big|_{(1, 1)} = (\frac{-1}{2}, \frac{1}{2})$$

با توجه به اینکه سه بردار $(-1, 1)$ ، $(-\frac{1}{2}, \frac{1}{2})$ و $(\frac{-1}{\sqrt{2}}, \frac{1}{\sqrt{2}})$ هر سه با بردار $\vec{\nabla}f$ هم‌راستا هستند، بنابراین هر سه صحیح می‌باشند و فقط گزینه (۱) درست نیست!

📌 مثال ۱۹: معادله ارتفاع یک کوه به صورت $h(x, y) = 2x^2 - 2xy + y^2$ است. محور x ها در امتداد شرق و محور y ها در امتداد شمال است. یک کوهنورد در نقطه (۱ و ۲) برای بالا رفتن از کوه به کدام سمت باید برود؟ (MBA - سراسری ۸۱)

(۱) شرق (۲) غرب (۳) جنوب (۴) شمال

☑ پاسخ: گزینه «۴» $\vec{\nabla}h = (4x - 2y, -2x + 2y^2) \Big|_{(1, 2)} = (0, 10) = 10(0, 1)$

برای حداکثر افزایش ارتفاع، باید در جهت بردار گرادیان حرکت کرد و چون بردار گرادیان با توجه به مفروضات مسأله در امتداد شمال است، پس باید کوهنورد به سمت شمال حرکت کند.

(معدن - سراسری ۸۱)

مثال ۲۰: گرادیان تابع $f(x,y) = x^2y^2$ در نقطه $(-1,2)$ کدام است؟

- (۱) $4\vec{i} - 3\vec{j}$ (۲) $3\vec{i} - 12\vec{j}$ (۳) $4\vec{i} + 12\vec{j}$ (۴) $12\vec{i} - 4\vec{j}$

$f(x,y) = x^2y^2 \Rightarrow \vec{\nabla}f = (2xy^2, 2x^2y) \Rightarrow \vec{\nabla}f \Big|_{(-1,2)} = (12, -4)$ پاسخ: گزینه «۴»

(آمار - سراسری ۸۱)

مثال ۲۱: مشتق سوئی تابع f با ضابطه $f(x,y) = y^2 + 2xy^2 + x^2y^2$ در نقطه $(0,1)$ و در جهت $\vec{i} + \vec{j}$ کدام است؟

- (۱) $\sqrt{2}$ (۲) $\sqrt{3}$ (۳) $3\sqrt{2}$ (۴) $2\sqrt{3}$

$\vec{u} = \frac{1}{\sqrt{2}}(\vec{i} + \vec{j}) = (\frac{1}{\sqrt{2}}, \frac{1}{\sqrt{2}})$ پاسخ: گزینه «۳» ابتدا بردار داده شده را به صورت یکه در می آوریم.

$\vec{\nabla}f = (2y^2 + 2xy^2)\vec{i} + (4y^2 + 6xy^2 + 2x^2y)\vec{j} \Rightarrow \vec{\nabla}f \Big|_{(0,1)} = 2\vec{i} + 4\vec{j}$ از طرفی داریم:

$D_{\vec{u}}f = (2, 4) \cdot (\frac{1}{\sqrt{2}}, \frac{1}{\sqrt{2}}) = 3\sqrt{2}$ بنابراین می توان نوشت:

مثال ۲۲: اگر $f(x,y) = 3x^2 - y^2 + 4x$ آن گاه مشتق جهت دار f در جهت بردار یکه \vec{U} که با جهت مثبت محور x زاویه $\frac{\pi}{6}$ می سازد کدام است؟

(علوم کامپیوتر - سراسری ۸۲)

- (۱) $3x - 2\sqrt{3}y$ (۲) $x - 3\sqrt{3}y + 2\sqrt{3}$ (۳) $3\sqrt{3}x - y + 4$ (۴) $3\sqrt{3}x - y + 2\sqrt{3}$

$\vec{u} = (\cos \frac{\pi}{6}, \sin \frac{\pi}{6}) = (\frac{\sqrt{3}}{2}, \frac{1}{2})$ پاسخ: گزینه «۴» بردار یکه که با جهت مثبت محور x زاویه $\frac{\pi}{6}$ می سازد به صورت مقابل است:

$f(x,y) = 3x^2 - y^2 + 4x \Rightarrow \vec{\nabla}f = (6x + 4, -2y)$

$D_{\vec{u}}f = \vec{\nabla}f \cdot \vec{u} = (6x + 4, -2y) \cdot (\frac{\sqrt{3}}{2}, \frac{1}{2}) = 3x\sqrt{3} - y + 2\sqrt{3}$

(MBA - سراسری ۸۲)

مثال ۲۳: مشتق جهت دار $f(x,y) = e^x tgy + 2x^2y$ در نقطه $(0, \frac{\pi}{4})$ در جهت $\vec{i} - \vec{j}$ عبارت است از:

- (۱) $-\sqrt{2}$ (۲) $\sqrt{2}$ (۳) $-\frac{\sqrt{2}}{2}$ (۴) $\frac{\sqrt{2}}{2}$

$\vec{\nabla}f = (e^x tgy + 4xy, e^x(1 + tg^2y) + 2x^2)$ پاسخ: گزینه «۳» $\Big|_{(0, \frac{\pi}{4})} = (1, 2)$

$D_{\vec{u}}f = \vec{\nabla}f \cdot \vec{u} = (1, 2) \cdot (\frac{1}{\sqrt{2}}, \frac{-1}{\sqrt{2}}) = \frac{-1}{\sqrt{2}}$

مثال ۲۴: اگر $f(x,y,z) = z^2 - xe^{2x-y}$ اندازه تصویر بردار $\text{grad } f$ در نقطه $(1, 3, -1)$ بر روی بردار $\vec{A} = -\vec{i} + \vec{j}$ کدام است؟ (مکانیک - سراسری ۸۳)

- (۱) $\frac{5}{\sqrt{2}}$ (۲) $2\sqrt{2}$ (۳) $\frac{\sqrt{2}}{2}$ (۴) 3

$\vec{\nabla}f = (-e^{2x-y} - 3xe^{2x-y}, xe^{2x-y}, 2z)$ پاسخ: گزینه «۱» $\Big|_{(1, 3, -1)} = (-4, 1, -2)$

اندازه تصویر $= \frac{|\vec{\nabla}f \cdot \vec{A}|}{|\vec{A}|} = \frac{4+1}{\sqrt{1+1}} = \frac{5}{\sqrt{2}}$

(MBA - سراسری ۸۳)

مثال ۲۵: بیشترین مقدار مشتق سوئی تابع $f(x,y,z) = x^2 + y^2 + 3z$ در نقطه $(3, -3, 2)$ چقدر است؟

- (۱) 4 (۲) 6 (۳) 9 (۴) 12

$\vec{\nabla}f = (2x, 2y, 3)$ پاسخ: گزینه «۳» بیشترین مقدار سوئی برابر اندازه بردار گرادیان است. $\Big|_{(3, -3, 2)} = (6, -6, 3) \Rightarrow |\vec{\nabla}f| = 9$



کله مثال ۲۶: گرادیان تابع عکس فاصله از مبدأ در فضای سه بعدی یعنی $\vec{\nabla}\left(\frac{1}{r}\right)$ برابر کدام یک از بردارهای زیر است؟ (توجه شود

$$\text{که } \vec{r} = x\vec{i} + y\vec{j} + z\vec{k}$$

(علوم دریایی - آزاد ۸۳)

$$\frac{\vec{r}}{r^3} \quad (۱) \qquad \frac{\vec{r}}{r^2} \quad (۲) \qquad -\frac{\vec{r}}{r^2} \quad (۳) \qquad -\frac{\vec{r}}{r^3} \quad (۴)$$

پاسخ: گزینه «۴» می‌دانیم که اگر $w = f(r)$ ، که $\vec{r} = (x, y, z)$ و $r = |\vec{r}| = \sqrt{x^2 + y^2 + z^2}$ آن‌گاه $\vec{\nabla}f(r) = f'(r) \cdot \frac{\vec{r}}{r}$

$$\vec{\nabla}\left(\frac{1}{r}\right) = \frac{-1}{r^2} \cdot \frac{\vec{r}}{r} = -\frac{\vec{r}}{r^3}$$

بنابراین داریم:

کله مثال ۲۷: تابع f با ضابطه $f(x, y) = \begin{cases} \frac{\sin xy}{x^2 + y^2} & ; (x, y) \neq (0, 0) \\ 0 & ; (x, y) = (0, 0) \end{cases}$ در کدامیک از گزاره‌های زیر صدق می‌کند؟ (علوم کامپیوتر - سراسری ۸۴)

(۱) f در $(0, 0)$ پیوسته است.

(۲) f در $(0, 0)$ مشتق پذیر است.

(۳) f در $(0, 0)$ دارای مشتق سوئی در هر جهت می‌باشد.

(۴) f در $(0, 0)$ دارای مشتقات جزئی مرتبه اول بوده ولی پیوسته نمی‌باشد.

پاسخ: گزینه «۴» ابتدا نشان می‌دهیم f در $(0, 0)$ حد ندارد.

$$\lim_{\substack{(x,y) \rightarrow (0,0) \\ y=mx}} \frac{\sin(xy)}{x^2 + y^2} = \lim_{x \rightarrow 0} \frac{\sin(mx^2)}{x^2 + m^2x^2} \stackrel{\text{هم‌ارزی}}{=} \lim_{x \rightarrow 0} \frac{mx^2}{x^2 + m^2x^2} = \frac{m}{1+m^2}$$

چون مقدار حد به m وابسته است، پس حد وجود ندارد. حال به بررسی وجود مشتقات جزئی در $(0, 0)$ می‌پردازیم.

$$f_x(0, 0) = \lim_{x \rightarrow 0} \frac{f(x, 0) - f(0, 0)}{x - 0} = \lim_{x \rightarrow 0} \frac{0 - 0}{x} = 0 \quad \text{و} \quad f_y(0, 0) = \lim_{y \rightarrow 0} \frac{f(0, y) - f(0, 0)}{y - 0} = \lim_{y \rightarrow 0} \frac{0 - 0}{y} = 0$$

کله مثال ۲۸: مشتق جهت‌دار تابع $f(x, y) = 2x^2 - 3xy + 5y^2$ در نقطه $(1, 2)$ در جهت بردار واحد \vec{u} که با محور x زاویه 45° بسازد چقدر است؟ (عمران - آزاد ۸۴)

(عمران - آزاد ۸۴)

$$\frac{15\sqrt{2}}{2} \quad (۱) \qquad \frac{\sqrt{2}}{2} \quad (۲) \qquad ۱۵ \quad (۳) \qquad \frac{۱۹\sqrt{2}}{2} \quad (۴)$$

پاسخ: گزینه «۱»

$$\vec{\nabla}f = (4x - 3y, -3x + 10y) \Big|_{(1, 2)} = (-2, 17)$$

بردار یکه موردنظر $\vec{u} = \left(\cos \frac{\pi}{4}, \sin \frac{\pi}{4}\right)$ می‌باشد، بنابراین داریم:

$$D_{\vec{u}}f = \vec{\nabla}f \cdot \vec{u} = (-2, 17) \cdot \left(\frac{\sqrt{2}}{2}, \frac{\sqrt{2}}{2}\right) = \frac{15\sqrt{2}}{2}$$

کله مثال ۲۹: تابع f با ضابطه $f(x, y) = x^2 + x^2y + y^2 - 1$ در نقطه $(1, -1)$ در امتداد کدام بردار نزولی است؟ (مکانیک - سراسری ۸۵)

(مکانیک - سراسری ۸۵)

$$-\vec{i} + \vec{j} \quad (۱) \qquad \vec{i} - \vec{j} \quad (۲) \qquad -2\vec{i} + \vec{j} \quad (۳) \qquad 4\vec{i} - \vec{j} \quad (۴)$$

پاسخ: گزینه «۲»

$$f(x, y) = x^2 + x^2y + y^2 - 1 \Rightarrow \vec{\nabla}f = (2x + 2xy, x^2 + 2y) \Big|_{(-1, 1)} = (1, 3)$$

مشتق سوئی تابع f در جهت بردار موردنظر باید منفی باشد و با توجه به گزینه‌ها، گزینه (۲) این خاصیت را دارد.

$$D_{\vec{u}}f = (1, 3) \cdot \frac{(1, -1)}{\sqrt{2}} = -\frac{\sqrt{2}}{2} < 0$$

کله مثال ۳۰: در نقطه $(e, 1)$ در چه سوئی تابع $f(x, y) = x^y$ بیشترین افزایش را دارد؟ (آمار - سراسری ۸۵)

(آمار - سراسری ۸۵)

$$(e, 1) \quad (۱) \qquad (1, e) \quad (۲) \qquad (e, -1) \quad (۳) \qquad (e, 1) \quad (۴)$$

پاسخ: گزینه «۲» جهت بیشترین افزایش، جهت بردار گرادیان می‌باشد.

$$f(x, y) = x^y \Rightarrow \vec{\nabla}f = (yx^{y-1}, x^y \ln x) \Big|_{(e, 1)} = (1, e)$$

کله مثال ۳۱: مشتق سوئی تابع $f(x,y) = \begin{cases} \frac{x}{x-y} & ; (x,y) \neq (0,0) \\ 0 & ; (x,y) = (0,0) \end{cases}$ در نقطه $(0,0)$ در کدام جهت موجود است؟ (ریاضی - سراسری ۸۵)

- (۱) در جهت بردار $\vec{i} - \vec{j}$ (۲) در جهت بردار $\vec{i} + \vec{j}$ (۳) در جهت بردار \vec{i} (۴) در جهت بردار \vec{j}

پاسخ: گزینه «۴» به طور کلی مشتق سوئی تابع f در نقطه دلخواه $P(0,0)$ در راستای بردار دلخواه $\vec{v} = (v_1, v_2)$ از فرمول زیر به دست می آید:

$$D_{\vec{v}}f = \lim_{t \rightarrow 0^+} \frac{f(0 + tv_1, 0 + tv_2) - f(0,0)}{t} = \lim_{t \rightarrow 0^+} \frac{tv_1 - tv_2}{t} = \lim_{t \rightarrow 0^+} \frac{v_1}{(v_1 - v_2)t}$$

برای اینکه حد فوق موجود باشد، لازم است $v_1 = 0$ باشد، بنابراین بردار \vec{v} به صورت $\vec{v} = (0, 1)$ خواهد بود.

کله مثال ۳۲: اگر مشتق سوئی تابع $f(x,y,z) = x^2 - 2yz$ در $p(1,1,1)$ در جهت یک بردار \vec{u} صفر باشد، آن گاه این بردار \vec{u} کدام است؟ (معدن - سراسری ۸۵)

- (۱) $\vec{i} - \vec{k}$ (۲) $\vec{i} + \vec{j}$ (۳) $\vec{i} + \vec{j} + \vec{k}$ (۴) $\vec{i} - \vec{j} - \vec{k}$

پاسخ: گزینه «۲» $\vec{\nabla}f = (2x, -2z, -2y) \Big|_{(1,1,1)} = (2, -2, -2)$

بردار u را باید طوری انتخاب کنیم که $\vec{\nabla}f \cdot \vec{u} = 0$ باشد، که با توجه به گزینه‌ها، گزینه (۲) صحیح است.

کله مثال ۳۳: اگر $f(x,y) = \begin{cases} \frac{xy}{\sqrt{x^2+y^2}} & ; (x,y) \neq (0,0) \\ 0 & ; (x,y) = (0,0) \end{cases}$ مشتق سوئی f در مبدأ در کدام جهت موجود است؟ (ریاضی - سراسری ۸۶)

- (۱) \vec{i} (۲) $\frac{\sqrt{2}}{2}\vec{i} - \frac{\sqrt{2}}{2}\vec{j}$ (۳) $\frac{\sqrt{2}}{2}\vec{i} + \frac{\sqrt{2}}{2}\vec{j}$ (۴) $\frac{\sqrt{3}}{2}\vec{i} + \frac{1}{2}\vec{j}$

پاسخ: گزینه «۱» مشتق سوئی (جهتی) را در راستای $\vec{u} = (u_1, u_2)$ به دست می آوریم.

$$D_{\vec{u}}f(0,0) = \lim_{h \rightarrow 0^+} \frac{f(hu_1, hu_2) - f(0,0)}{h} = \lim_{h \rightarrow 0^+} \frac{u_1 u_2}{h \sqrt{u_1^2 + u_2^2}}$$

حد فوق وقتی موجود است که $u_1 = 0$ یا $u_2 = 0$ باشد یعنی، فقط در راستای $\pm \vec{i}$ و $\pm \vec{j}$ حد فوق وجود دارد.

کله مثال ۳۴: میزان تغییرات تابع $f(x,y) = e^{-xy} \sin x$ در نقطه $(\frac{\pi}{6}, 0)$ در چه جهتی ماکزیمم است؟ (نفت - سراسری ۸۶)

- (۱) $\frac{1}{2}\vec{i} - \frac{\sqrt{3}}{2}\vec{j}$ (۲) $\frac{\sqrt{3}}{2}\vec{i} - \frac{1}{2}\vec{j}$ (۳) $\frac{1}{2}\vec{i} + \frac{\sqrt{3}}{2}\vec{j}$ (۴) $\frac{\sqrt{3}}{2}\vec{i} - 2\vec{j}$

پاسخ: گزینه «۴» می دانیم جهت حداکثر افزایش تابع f هم جهت با گرادیان است. $\vec{\nabla}f = (e^{-xy} \cos x, -xe^{-xy} \sin x) = (\frac{\sqrt{3}}{2}, -2)$

کله مثال ۳۵: مشتق جهتی (سوئی) تابع $f(x,y,z) = xtg^{-1}\frac{y}{z}$ در نقطه $(1, 0, 1)$ ، در جهت بردار $\vec{u} = 2\vec{i} + \vec{j} - 2\vec{k}$ کدام است؟ (مکانیک - سراسری ۸۷)

- (۱) ۱ (۲) $\frac{2}{3}$ (۳) $\frac{2}{3}$ (۴) $\frac{1}{3}$

پاسخ: گزینه «۴» نیازی به محاسبه $\frac{\partial f}{\partial z}$ ، $\frac{\partial f}{\partial x}$ نیست، زیرا در نقطه داده شده مقادیر آن‌ها برابر صفر است و در محاسبه مقدار مشتق سوئی تأثیری ندارند.

$$\frac{\partial f}{\partial y} = x \times \frac{1}{z} \Rightarrow \frac{\partial f}{\partial y} \Big|_{(1,0,1)} = 1$$

$$\vec{u} = 2\vec{i} + \vec{j} - 2\vec{k} \Rightarrow \text{یکه شده } \vec{u} = (\frac{2}{3}, \frac{1}{3}, -\frac{2}{3}) \Rightarrow D_{\vec{u}}f = \vec{\nabla}f \cdot \vec{u} = \frac{1}{3}$$



کلمه مثال ۳۶: مشتق سوئی تابع $w = f(x, y)$ در نقطه $P_0(1, 2)$ به طرف $P_1(2, 2)$ برابر $2\sqrt{2}$ و در سوی P_0 به طرف $P_2(1, 0)$ برابر -3 می باشد مقدار $\frac{dw}{ds}$

(مکانیک ماشین های کشاورزی - سراسری ۸۷)

در سوی P_0 به طرف مبدأ کدام است؟

$$(1) \frac{-y}{\sqrt{\Delta}} \quad (2) \frac{-2}{\sqrt{\Delta}} \quad (3) \frac{-3}{\sqrt{\Delta}} \quad (4) \frac{-4}{\sqrt{\Delta}}$$

پاسخ: گزینه «۱» جهت $\overline{P_0P_1}$ را \vec{u} و جهت $\overline{P_0P_2}$ را \vec{v} می نامیم، در این صورت داریم:

$$\overline{P_0P_1} = (1, 1) \Rightarrow \vec{u} = \frac{\overline{P_0P_1}}{|\overline{P_0P_1}|} = \frac{1}{\sqrt{2}}(1, 1) \quad \text{و} \quad \overline{P_0P_2} = (0, -2) \Rightarrow \vec{v} = \frac{\overline{P_0P_2}}{|\overline{P_0P_2}|} = (0, -1)$$

بنابراین $D_{\vec{v}}f = -3$ و $D_{\vec{u}}f = 2\sqrt{2}$.

$$\vec{s} = \frac{\overline{P_0O}}{|\overline{P_0O}|} = \frac{(-1, -2)}{\sqrt{1+4}} = \left(\frac{-1}{\sqrt{5}}, \frac{-2}{\sqrt{5}}\right)$$

توجه کنید که جهتی که P_0 را به مبدأ وصل می کند به صورت مقابل است:

حال به محاسبه $\vec{\nabla}f(P_0)$ می پردازیم. فرض می کنیم $\vec{\nabla}f(P_0) = (\alpha, \beta)$ ، در این صورت داریم:

$$\begin{cases} D_{\vec{u}}f(P_0) = \vec{\nabla}f \cdot \vec{u} = \frac{\alpha}{\sqrt{2}} + \frac{\beta}{\sqrt{2}} = 2\sqrt{2} \\ D_{\vec{v}}f(P_0) = \vec{\nabla}f \cdot \vec{v} = -\beta = -3 \end{cases} \Rightarrow \beta = 3, \alpha = 1 \Rightarrow \vec{\nabla}f(P_0) = (1, 3)$$

$$\frac{dw}{ds} = \vec{\nabla}f(P_0) \cdot \vec{s} = (1, 3) \cdot \left(\frac{-1}{\sqrt{5}}, \frac{-2}{\sqrt{5}}\right) = \frac{-7}{\sqrt{5}}$$

بنابراین $\frac{dw}{ds}$ برابر است با:

(MBA - سراسری ۸۸)

کلمه مثال ۳۷: اندازه بردار گرادیان تابع $f(x, y) = x^2e^{-y}$ در نقطه $(2, 1)$ ، کدام است؟

$$(1) \frac{2}{e} \quad (2) \frac{4}{e} \quad (3) \frac{2\sqrt{2}}{e} \quad (4) \frac{4\sqrt{2}}{e}$$

$$f(x, y) = x^2e^{-y} \Rightarrow \vec{\nabla}f = (2xe^{-y}, -x^2e^{-y}) \Big|_{(2, 1)} = \left(\frac{4}{e}, -\frac{4}{e}\right) \Rightarrow |\vec{\nabla}f| = \sqrt{\frac{16}{e^2} + \frac{16}{e^2}} = \frac{4\sqrt{2}}{e}$$

پاسخ: گزینه «۴»

(صنایع - سیستم - سراسری ۸۸)

کلمه مثال ۳۸: نرخ تغییر تابع $f(x, y) = xe^y$ در نقطه $P(2, 0)$ و در سوی از P به $Q(5, 4)$ کدام است؟

$$(1) \frac{2}{5} \quad (2) \frac{11}{5} \quad (3) \frac{5}{11} \quad (4) \frac{7}{8}$$

پاسخ: گزینه «۲» منظور از نرخ تغییر همان مشتق سوئی تابع f در راستای بردار \overline{PQ} است.

$$\left. \begin{aligned} f(x, y) = xe^y \Rightarrow \vec{\nabla}f = (e^y, xe^y) \Rightarrow \vec{\nabla}f \Big|_{P(2, 0)} = (1, 2) \\ \overline{PQ} = (3, 4) \xrightarrow{\text{بردار یکه}} \vec{u} = \frac{\overline{PQ}}{|\overline{PQ}|} = \left(\frac{3}{5}, \frac{4}{5}\right) \end{aligned} \right\} \Rightarrow \text{مشتق سوئی} = \vec{\nabla}f \cdot \vec{u} = \frac{3}{5} \times 1 + \frac{4}{5} \times 2 = \frac{11}{5}$$

(صنایع غذایی - سراسری ۸۸)

کلمه مثال ۳۹: مشتق سوئی تابع $z = x^2 - \frac{y}{x} + y$ در نقطه $(-1, 3)$ در امتداد بردار $4\vec{j} - 2\vec{i}$ کدام است؟

$$(1) -2 \quad (2) -1 \quad (3) 1 \quad (4) 2$$

پاسخ: گزینه «۲»

$$\left. \begin{aligned} f(x, y) = x^2 - \frac{y}{x} + y \Rightarrow \vec{\nabla}f = \left(2x + \frac{y}{x^2}, -\frac{1}{x} + 1\right) \Big|_{(-1, 3)} = (1, 2) \\ \vec{v} = 3\vec{i} - 4\vec{j} \Rightarrow \vec{u} = \frac{\vec{v}}{|\vec{v}|} = \frac{3\vec{i} - 4\vec{j}}{\sqrt{9+16}} = \frac{3}{5}\vec{i} - \frac{4}{5}\vec{j} \end{aligned} \right\} \Rightarrow D_{\vec{u}}f = \vec{\nabla}f \cdot \vec{u} = (1, 2) \cdot \left(\frac{3}{5}, -\frac{4}{5}\right) = \frac{3}{5} - \frac{8}{5} = -1$$

کج مثال ۴۰: مشتق سوئی تابع $z = \frac{x^2}{y} + \frac{\sqrt{y}}{x}$ در نقطه $(-1, 1)$ در امتداد بردار $3\vec{i} + 4\vec{j} - 2\vec{k}$ کدام است؟ (کشاورزی - سراسری ۸۸)

- (۱) $-\frac{4}{5}$ (۲) $\frac{2}{5}$ (۳) $\frac{3}{5}$ (۴) $\frac{6}{5}$

پاسخ: گزینه «۳» برای محاسبه مشتق سوئی لازم است گرادیان تابع را در بردار یکه ضرب داخلی کنیم.

$$f(x, y) = \frac{x^2}{y} + \frac{\sqrt{y}}{x} \Rightarrow \vec{\nabla}f = \left(\frac{2x}{y} - \frac{\sqrt{y}}{x^2}, \frac{-x^2}{y^2} + \frac{1}{2x\sqrt{y}} \right) \Big|_{(-1, 1)} = \left(-3, \frac{-3}{2} \right)$$

حال لازم است بردار داده شده را یکه کنیم: $\vec{u} = \frac{-3\vec{i} + 4\vec{j}}{\sqrt{9+16}} = \left(\frac{-3}{5}, \frac{4}{5} \right) \Rightarrow D_{\vec{u}}f = \left(-3, \frac{-3}{2} \right) \cdot \left(\frac{-3}{5}, \frac{4}{5} \right) = \frac{3}{5}$

کج مثال ۴۱: با فرض مشتق پذیری f در نقطه (x_0, y_0) بردار $\vec{\nabla}f(x_0, y_0)$ بر کدام عمود است؟ (ژئوفیزیک و هواشناسی - سراسری ۸۸)

- (۱) منحنی $f(x, y) = f(x_0, y_0)$ در صفحه $z = 0$ (۲) سطح $z = f(x, y)$ در نقطه (x_0, y_0, z_0)

- (۳) سطح $z = f(x_0, y_0)$ در نقطه (x_0, y_0, z_0) (۴) منحنی $f(x, y) = f(x_0, y_0)$ در صفحه $z = f(x_0, y_0)$

پاسخ: گزینه «۱» منحنی تراز f در صفحه $z = 0$ که از نقطه $p(x_0, y_0)$ عبور می کند یعنی $f(x, y) = f(x_0, y_0)$ را در نظر می گیریم. با تعریف $g(x, y) = f(x, y) - f(x_0, y_0)$ بردار $\vec{\nabla}g(p) = (f_x(p), f_y(p)) = \vec{\nabla}f(p)$ در نقطه p بر آن عمود است.

کج مثال ۴۲: در چه جهتی تابع $f(x, y) = \frac{x^2}{y} + \frac{y^2}{x}$ در نقطه $(1, 1)$ بیشترین کاهش را دارد؟ (عمران - نقشه برداری - سراسری ۸۹)

- (۱) $\frac{1}{\sqrt{2}}(-1, 1)$ (۲) $\frac{1}{\sqrt{2}}(1, -1)$ (۳) $\frac{1}{\sqrt{2}}(1, 1)$ (۴) $\frac{1}{\sqrt{2}}(-1, -1)$

پاسخ: گزینه «۴» می دانیم تابع در جهت بردار گرادیان بیشترین افزایش و در جهت عکس گرادیان بیشترین کاهش را دارد، بنابراین داریم:

$$f(x, y) = \frac{x^2}{y} + \frac{y^2}{x} \Rightarrow \vec{\nabla}f = (x, y) \Rightarrow \vec{\nabla}f(1, 1) = (1, 1)$$

پس تابع f در جهت $(1, 1)$ بیشترین افزایش و در جهت $(-1, -1)$ بیشترین کاهش را دارد که اگر جهت $(-1, -1)$ را یکه (واحد) کنیم به صورت $\frac{1}{\sqrt{2}}(-1, -1)$ در می آید.

کج مثال ۴۳: مشتق سوئی تابع $z = x^2y + \sqrt{x^2 + 3y^2}$ در نقطه $(2, -2)$ در امتداد بردار $3\vec{i} - 4\vec{j}$ کدام است؟ (کشاورزی - سراسری ۸۹)

- (۱) $-4/7$ (۲) $5/2$ (۳) $-6/8$ (۴) $-6/5$

پاسخ: گزینه «۴» یادآوری: اگر \vec{u} یک بردار یکه باشد آن گاه $D_{\vec{u}}f = \vec{\nabla}f(p) \cdot \vec{u}$ در اینجا داریم:

$$\vec{\nabla}z = \left(2xy + \frac{x}{\sqrt{x^2 + 3y^2}}, x^2 + \frac{3y}{\sqrt{x^2 + 3y^2}} \right)$$

$$\Rightarrow \vec{\nabla}z = (2, -2) = \left(-1 + \frac{2}{\sqrt{16}}, 4 - \frac{6}{\sqrt{16}} \right) = \left(-\frac{15}{2}, \frac{5}{2} \right) \text{ و } \vec{u} = \frac{3\vec{i} - 4\vec{j}}{|3\vec{i} - 4\vec{j}|} = \frac{3}{5}\vec{i} - \frac{4}{5}\vec{j}$$

$$\Rightarrow f'_{\vec{u}}(2, -2) = \left(-\frac{15}{2}, \frac{5}{2} \right) \cdot \left(\frac{3}{5}, -\frac{4}{5} \right) = -\frac{13}{2} = -6/5$$

کج مثال ۴۴: مشتق تابع $u = x^2z + \frac{y^2}{z}$ در نقطه $(3, 2, 1)$ در امتداد بردار $(2, -1, 2)$ کدام است؟ (MBA - سراسری ۹۰)

- (۱) ۶ (۲) ۵ (۳) ۴ (۴) ۳

$$p = (3, 2, 1), u(x, y, z) = x^2z + \frac{y^2}{z}, \vec{v} = (2, -1, 2)$$

پاسخ: گزینه «۱»

$$D_{\vec{v}}u(p) = \vec{\nabla}u(p) \cdot \frac{\vec{v}}{|\vec{v}|}$$

مشتق تابع u در نقطه p را در امتداد بردار \vec{v} به دست می آوریم.

$$\vec{\nabla}u = 2xz\vec{i} + \frac{2y}{z}\vec{j} + \left(x^2 - \frac{y^2}{z^2} \right)\vec{k} \Rightarrow \vec{\nabla}u(p) = 6\vec{i} + 4\vec{j} + 5\vec{k}, \frac{\vec{v}}{|\vec{v}|} = \frac{1}{3}(2, -1, 2)$$
 بنابراین:

$$D_{\vec{v}}u(p) = (6\vec{i} + 4\vec{j} + 5\vec{k}) \cdot \frac{1}{3}(2\vec{i} - \vec{j} + 2\vec{k}) = \frac{1}{3}(12 - 4 + 10) = \frac{18}{3} = 6$$

مقادیر به دست آمده را در رابطه فوق جایگذاری می کنیم.



(عمران - سراسری ۹۰)

کله مثال ۴۵: اگر $\vec{r} = x\vec{i} + y\vec{j} + z\vec{k}$ و $p = |\vec{r}|$ باشد، با فرض موجود بودن $\frac{df}{dp}$ ، $f'(p)$ ، گرادیان $f(p)$ کدام است؟

(۴) $pf'(p)\vec{r}$

(۳) $f'(p)\vec{r}$

(۲) $\frac{f'(p)}{p}\vec{r}$

(۱) $\frac{f'(p)}{p}\vec{r}$

پاسخ: گزینه «۱» می‌دانیم اگر $w = f(r)$ که $\vec{r} = (x, y, z)$ و $r = \sqrt{x^2 + y^2 + z^2}$ آن‌گاه $\vec{\nabla}w = \frac{f'(r)}{r}\vec{r}$.

کله مثال ۴۶: مشتق جهتی $f(x, y, z) = x^2 + 2y^5 \sin(y^5) \cos(y^5) + z^3$ در نقطه $(-1, 0, 2)$ در جهت بردار $(\frac{-1}{\sqrt{3}}, \frac{1}{\sqrt{3}}, \frac{-1}{\sqrt{3}})$ کدام است؟

(صنایع - سیستم - سراسری ۹۰)

(۴) $13\frac{\sqrt{3}}{3}$

(۳) $8\frac{\sqrt{3}}{3}$

(۲) $-10\frac{\sqrt{3}}{3}$

(۱) $-11\frac{\sqrt{3}}{3}$

پاسخ: گزینه «۲» بردار $\vec{u} = (\frac{-1}{\sqrt{3}}, \frac{1}{\sqrt{3}}, \frac{-1}{\sqrt{3}})$ یکه است، بردار $\vec{\nabla}f$ را در نقطه $P(-1, 0, 2)$ به دست می‌آوریم.

$$\vec{\nabla}f = \left(\frac{\partial f}{\partial x}, \frac{\partial f}{\partial y}, \frac{\partial f}{\partial z} \right) = (2x, 10y^4 \sin y^5 \cos y^5 + 10y^9 \cos^2 y^5 - 10y^9 \sin^2 y^5, 3z^2) \Rightarrow \vec{\nabla}f(-1, 0, 2) = (-2, 0, 12)$$

$$D_{\vec{u}}f = (-2, 0, 12) \cdot \left(\frac{-1}{\sqrt{3}}, \frac{1}{\sqrt{3}}, \frac{-1}{\sqrt{3}} \right) = -\frac{10}{\sqrt{3}} = -\frac{10\sqrt{3}}{3}$$

بنابراین مشتق جهتی f در جهت داده شده برابر است با:

توضیح: توجه کنید که نیازی به محاسبه $\frac{\partial f}{\partial y}$ و انجام محاسبات طولانی در بالا نبود، زیرا در نقطه $P(-1, 0, 1)$ مقدار y برابر صفر است و به علت وجود

$$\frac{\partial f}{\partial y}, y^5 \text{ برابر صفر است.}$$

(کشاورزی - سراسری ۹۰)

کله مثال ۴۷: مشتق تابع $z = x^2 - y^2 + 2xy$ در نقطه $(1, -2)$ در امتداد بردار $\vec{i} - \vec{j}$ کدام است؟

(۴) $4\sqrt{2}$

(۳) $2\sqrt{2}$

(۲) $-2\sqrt{2}$

(۱) $-4\sqrt{2}$

پاسخ: گزینه «۱» ابتدا بردار $\vec{i} - \vec{j}$ را یکه می‌کنیم $\vec{u} = \frac{1}{\sqrt{2}}(\vec{i} - \vec{j})$ ، حال بردار گرادیان f را در نقطه $(1, -2)$ به دست می‌آوریم:

$$\vec{\nabla}f = (2x + 2y, -2y + 2x) \Rightarrow \vec{\nabla}f \Big|_{(1, -2)} = (-2, 6)$$

$$D_{\vec{u}}f = \vec{\nabla}f \cdot \vec{u} = (-2, 6) \cdot \left(\frac{1}{\sqrt{2}}, \frac{-1}{\sqrt{2}} \right) = \frac{-2}{\sqrt{2}} - \frac{6}{\sqrt{2}} = \frac{-8}{\sqrt{2}} = -4\sqrt{2}$$

بنابراین مشتق جهتی برابر است با:

درسنامه: کاربردهای دیگر گرادیان

مثال ۱: معادله صفحه مماس بر کره $x^2 + y^2 + z^2 = 14$ در نقطه $A(1, 2, 3)$ واقع بر کره کدام است؟

$$(1) \quad x + 2y + 3z = 14 \quad (2) \quad x + y + z = 6 \quad (3) \quad 3x + 2y + z = 10 \quad (4) \quad x + y + z = 9$$

پاسخ: گزینه «۱» برای نوشتن معادله یک صفحه لازم است بردار نرمال صفحه مشخص باشد، می‌دانیم گرادیان رویه همان بردار نرمال صفحه مماس است. پس لازم است بردار گرادیان را به دست آوریم. قرار می‌دهیم $f(x, y, z) = x^2 + y^2 + z^2 - 14 = 0$ در این صورت داریم:

$$\vec{\nabla} f = (2x, 2y, 2z) \xrightarrow{x=1, y=2, z=3} \vec{\nabla} f(1, 2, 3) = (2, 4, 6) = \vec{\nabla} f \text{ در نقطه } A$$

پس معادله صفحه مورد نظر به صورت مقابل است: $2(x-1) + 4(y-2) + 6(z-3) = 0 \Rightarrow x + 2y + 3z = 14$

مثال ۲: بردار یکه عمود بر سطح $xyz^2 = 8$ در نقطه $A(2, -2, 1)$ کدام است؟

$$(1) \quad \frac{1}{\sqrt{14}}(2, 3, 1) \quad (2) \quad \frac{1}{\sqrt{21}}(4, -2, 1) \quad (3) \quad \frac{1}{\sqrt{41}}(1, -2, 6) \quad (4) \quad \frac{1}{\sqrt{33}}(4, 1, -4)$$

پاسخ: گزینه «۳» می‌دانیم بردار گرادیان یک رویه، بر رویه عمود است. پس کافی است بردار گرادیان سطح داده شده را به دست آورده و سپس آن را یکه (واحد) کنیم. بدین منظور قرار می‌دهیم $f(x, y, z) = xyz^2 - 8 = 0$ در این صورت داریم:

$$\vec{\nabla} f = (y^2 z^2, 2xyz, 2xy^2 z) \Rightarrow \vec{\nabla} f(2, -2, 1) = (4, -8, 24) = 4(1, -2, 6)$$

توجه کنید که بردار $(1, -2, 6)$ هم جهت با گرادیان است و بنابراین بر رویه عمود است، کافی است آن را یکه کنیم:

$$\vec{u} = \frac{\vec{\nabla} f}{|\vec{\nabla} f|} = \frac{(1, -2, 6)}{\sqrt{1^2 + (-2)^2 + 6^2}} = \frac{1}{\sqrt{41}}(1, -2, 6)$$

مثال ۳: معادله خط قائم بر رویه $x^2 + \text{Arctgy} = e^z + 1$ در نقطه $P(2, 0, \text{Ln}3)$ کدام است؟

$$(1) \quad x + y = 2, \quad y + z = \text{Ln}3 \quad (2) \quad 2x + y = 4, \quad 4y + z = 2 \quad (3) \quad x - 4y = 2, \quad 2y + z = \text{Ln}3 \quad (4) \quad x - y = 2, \quad 2y + z = \text{Ln}3$$

پاسخ: گزینه «۳» می‌دانیم که بردار گرادیان بر رویه عمود است و در نتیجه همان بردار هادی خط قائم بر رویه است.

$$\vec{\nabla} f = (2x, \frac{1}{1+y^2}, -e^z) \Rightarrow \vec{\nabla} f(2, 0, \text{Ln}3) = (4, 1, -3) \quad \text{قرار می‌دهیم } f(x, y, z) = x^2 + \text{Arctan } y - e^z - 1 = 0 \text{ در این صورت داریم:}$$

$$\frac{x-2}{4} = \frac{y}{1} = \frac{z-\text{Ln}3}{-3} \Rightarrow x-4y=2, 3y+z=\text{Ln}3 \quad \text{پس معادله خط قائم به صورت مقابل است:}$$

مثال ۴: معادله صفحه مماس بر سطح به معادله $x^2 + y^2 + xz^2 = 2$ در نقطه $(1, 0, 1)$ کدام است؟

$$(1) \quad x + y + 2z = 3 \quad (2) \quad x + y + z = 3 \quad (3) \quad 3x + 2z = 5 \quad (4) \quad 2x + 3z = 5$$

پاسخ: گزینه «۳» قرار می‌دهیم $f(x, y, z) = x^2 + y^2 + xz^2 - 2 = 0$ در این صورت بردار گرادیان (بردار نرمال صفحه‌ی مورد نظر) به صورت مقابل می‌باشد:

$$\vec{\nabla} f = (2x + z^2, 2y, 2xz) \Rightarrow \vec{\nabla} f(1, 0, 1) = (3, 0, 2)$$

و در نتیجه معادله‌ی صفحه‌ی مماس به صورت مقابل خواهد بود: $3(x-1) + 2(z-1) = 0 \Rightarrow 3x + 2z = 5$

مثال ۵: اگر $f(x, y, z) = \text{Ln}\sqrt{x^2 + y^2 + z^2}$ و \vec{n} بردار قائم بر نیم کره $z = \sqrt{16 - x^2 - y^2}$ باشد، مشتق سوئی تابع f در امتداد بردار \vec{n} چقدر است؟

$$(1) \quad \frac{1}{2} \quad (2) \quad \frac{1}{4} \quad (3) \quad 2 \quad (4) \quad 4$$

معادله رویه $z = \sqrt{16 - x^2 - y^2} \Rightarrow G(x, y, z) = x^2 + y^2 + z^2 - 16 = 0$ **پاسخ:** گزینه «۲»

$$\vec{n} = \frac{\vec{\nabla} G}{|\vec{\nabla} G|} = \frac{(2x, 2y, 2z)}{\sqrt{4x^2 + 4y^2 + 4z^2}} = \left(\frac{x}{4}, \frac{y}{4}, \frac{z}{4}\right)$$

$$f(x, y, z) = \frac{1}{2} \text{Ln}(x^2 + y^2 + z^2) \Rightarrow \nabla f = \left(\frac{x}{x^2 + y^2 + z^2}, \frac{y}{x^2 + y^2 + z^2}, \frac{z}{x^2 + y^2 + z^2}\right)$$

$$\text{مشتق سوئی} = \vec{\nabla} f \cdot \vec{n} = \frac{x^2}{4(x^2 + y^2 + z^2)} + \frac{y^2}{4(x^2 + y^2 + z^2)} + \frac{z^2}{4(x^2 + y^2 + z^2)} = \frac{1}{4} \quad \text{بنابراین داریم:}$$



مثال ۶: صفحه مماس بر رویه $xyz = a^3$ ، در هر نقطه دلخواه از آن، همراه با صفحات مختصات تشکیل یک چهار وجهی (هرم) می‌دهند، حجم این چهار وجهی چقدر است؟ ($a > 0$)

$$(1) \frac{16a^3}{3} \quad (2) \frac{8a^3}{3} \quad (3) \frac{9a^3}{2} \quad (4) fa^3$$

پاسخ: گزینه «۳» چون در صورت سؤال گفته شده در هر نقطه دلخواه رویه این موضوع برقرار است، نقطه دلخواه را $P(a, a, a)$ در نظر می‌گیریم که

$$f = xyz - a^3 = 0 \Rightarrow \vec{\nabla} f = (yz, xz, xy) \Big|_P = (a^2, a^2, a^2) \quad \text{می‌آوریم:}$$

بردار نرمال صفحه مماس (a^2, a^2, a^2) یا به طور معادل $(1, 1, 1)$ است، بنابراین معادله صفحه به صورت $1(x-a) + 1(y-a) + 1(z-a) = 0$ یعنی $x + y + z = 3a$ ، این صفحه محورهای مختصات را به ترتیب در $A(3a, 0, 0)$ ، $B(0, 3a, 0)$ و $C(0, 0, 3a)$ قطع می‌کند و بنابراین حجم موردنظر برابر

$$\frac{9a^3}{2} = \frac{1}{6} \times 3a \times 3a \times 3a \quad \text{است. یادآوری می‌کنیم که حجم محدود مابین صفحه } \frac{x}{a} + \frac{y}{b} + \frac{z}{c} = 1 \text{ و صفحات مختصات برابر } \frac{1}{6} |abc| \text{ است.}$$

مثال ۷: صفحه قائم بر منحنی فضایی $2xz - x^2y = 3$ و $3x^2y + y^2z = -2$ در نقطه $A(1, -1, 1)$ کدام است؟

$$(1) 6x + 4y + 3z = 5 \quad (2) 6x + 8y + 2z = 0 \quad (3) 3x + 8y + 2z = -3 \quad (4) 3x + 16y + 2z = -11$$

پاسخ: گزینه «۴» قرار می‌دهیم:

$$g(x, y, z) = 2xz - x^2y - 3 = 0, \quad f(x, y, z) = 3x^2y + y^2z + 2 = 0$$

$$\vec{\nabla} f = (6xy, 3x^2 + 2yz, y^2) \Rightarrow \vec{\nabla} f(1, -1, 1) = (-6, 1, 1)$$

در این صورت بردار نرمال صفحه قائم برابر $\vec{\nabla} f \times \vec{\nabla} g$ است.

$$\vec{\nabla} g = (2z - 2xy, -x^2, 2x) \Rightarrow \vec{\nabla} g(1, -1, 1) = (4, -1, 2)$$

$$\vec{N} = \vec{\nabla} f \times \vec{\nabla} g = \begin{vmatrix} \vec{i} & \vec{j} & \vec{k} \\ -6 & 1 & 1 \\ 4 & -1 & 2 \end{vmatrix} = 3\vec{i} + 16\vec{j} + 2\vec{k}$$

$$3(x-1) + 16(y+1) + 2(z-1) = 0 \Rightarrow 3x + 16y + 2z = -11$$

بنابراین معادله صفحه قائم به صورت روبرو است:

مثال ۸: بردار مماس بر فصل مشترک دو رویه $z = e^{2x-y}$ و $xLnz + y^2 - Lnx = 4$ در نقطه $P(1, 2, 1)$ کدام است؟

$$(1) 3\vec{i} - \vec{j} + 7\vec{k} \quad (2) 3\vec{i} + \vec{j} + 7\vec{k} \quad (3) 5\vec{i} + \vec{j} + 9\vec{k} \quad (4) 5\vec{i} - \vec{j} + 9\vec{k}$$

پاسخ: گزینه «۱» قرار می‌دهیم $f = e^{2x-y} - z = 0$ و $g = xLnz + y^2 - Lnx - 4 = 0$ ، در این صورت بردار مماس بر فصل مشترک دو رویه

$$\begin{cases} \vec{\nabla} f = (2e^{2x-y}, -e^{2x-y}, -1) \Rightarrow \vec{\nabla} f(1, 2, 1) = (2, -1, -1) \\ \vec{\nabla} g = (Lnz - \frac{1}{x}, 2y, \frac{x}{z}) \Rightarrow \vec{\nabla} g(1, 2, 1) = (-1, 4, 1) \end{cases} \Rightarrow \vec{\nabla} f \times \vec{\nabla} g = \begin{vmatrix} \vec{i} & \vec{j} & \vec{k} \\ 2 & -1 & -1 \\ -1 & 4 & 1 \end{vmatrix} = 3\vec{i} - \vec{j} + 7\vec{k} \quad \text{خواهد بود.}$$

مثال ۹: خط D مماس بر فصل مشترک دو رویه $3x^2 + y^2 - z^2 = 3$ و $x^2 + y^2 + z = 1$ در نقطه $p(1, -1, -1)$ مماس است. معادله صفحه S

که از نقطه $A(2, 3, 4)$ عبور می‌کند و بر D عمود است، کدام است؟

$$(1) 2x - y + 4z - 17 = 0 \quad (2) x - y - 4z + 17 = 0 \quad (3) x + y + z - 9 = 0 \quad (4) -x + y - 4z + 15 = 0$$

پاسخ: گزینه «۲» قرار می‌دهیم $f = 3x^2 + y^2 - z^2 - 3 = 0$ و $g = x^2 + y^2 + z - 1 = 0$ ، در این صورت بردار هادی خط D بردار $\vec{\nabla} f \times \vec{\nabla} g$ می‌باشد.

$$\begin{cases} \vec{\nabla} f = (6x, 2y, -2z) \Big|_P = (6, -2, 2) \\ \vec{\nabla} g = (2x, 2y, 1) \Big|_P = (2, -2, 1) \end{cases} \Rightarrow \vec{\nabla} f \times \vec{\nabla} g = \begin{vmatrix} \vec{i} & \vec{j} & \vec{k} \\ 6 & -2 & 2 \\ 2 & -2 & 1 \end{vmatrix} = (2, -2, -8)$$

چون صفحه موردنظر به خط D عمود است، پس بردار $(2, -2, -8)$ ، بردار نرمال صفحه S خواهد بود و معادله S به صورت زیر است:

$$2(x-2) - 2(y-3) - 8(z-4) = 0 \Rightarrow x - y - 4z = -17$$

مثال ۱۰: زاویه بین رویه‌های $xyz = 2$ و $x^2 + z^2 - y^2 = 4$ در نقطه $A(1, 1, 2)$ چقدر است؟

$$\text{Arccos} \frac{\sqrt{2}}{6} \quad (4) \quad \text{Arccos} \frac{\sqrt{3}}{4} \quad (3) \quad \text{Arccos} \frac{\sqrt{6}}{9} \quad (2) \quad \circ (1)$$

پاسخ: گزینه «۲» ابتدا قرار می‌دهیم $f(x, y, z) = xyz - 2 = 0$ و $g(x, y, z) = x^2 + z^2 - y^2 - 4 = 0$ در این صورت داریم:

$$\vec{\nabla} f = (yz, xz, xy) \Rightarrow \vec{\nabla} f(1, 1, 2) = (2, 2, 1)$$

$$\vec{\nabla} g = (2x, -2y, 2z) \Rightarrow \vec{\nabla} g(1, 1, 2) = (2, -2, 4)$$

زاویه بین دو رویه برابر زاویه بین بردارهای گرادیان است، بنابراین داریم:

$$\cos \theta = \frac{\vec{\nabla} f \cdot \vec{\nabla} g}{|\vec{\nabla} f| |\vec{\nabla} g|} = \frac{2 \times 2 + 2 \times (-2) + 1 \times 4}{\sqrt{4+4+1} \times \sqrt{4+4+16}} = \frac{4}{3\sqrt{24}} = \frac{\sqrt{6}}{9} \Rightarrow \theta = \text{Arccos} \frac{\sqrt{6}}{9}$$

مثال ۱۱: به ازای چه مقادیری از a دو رویه به معادلات $x^2 + y^2 + z^2 = 6$ و $ax^2 + y^2 - z^2 = 0$ در نقطه $P(1, 2, 1)$ متعامد هستند؟

$$-4 \quad (4) \quad 3 \quad (3) \quad 4 \quad (2) \quad -3 \quad (1)$$

پاسخ: گزینه «۱» اگر $f(x, y, z) = x^2 + y^2 + z^2 - 6 = 0$ و $g(x, y, z) = ax^2 + y^2 - z^2 = 0$ آن‌گاه: $\vec{\nabla} f(1, 2, 1) = (2, 4, 2)$

$$\vec{\nabla} g = (2ax, 2y, -2z) \Rightarrow \vec{\nabla} g(1, 2, 1) = (2a, 4, -2)$$

با توجه به اینکه زاویه بین دو رویه برابر زاویه بین بردارهای گرادیان آن‌ها است، پس لازم است بردارهای گرادیان به‌دست آمده برهم عمود باشند یعنی

$$2a \times 2 + 4 \times 4 + 2 \times (-2) = 0 \Rightarrow a = -3 \quad \vec{\nabla} f \cdot \vec{\nabla} g = 0 \text{ در نتیجه داریم:}$$

مثال ۱۲: معادله صفحه مماس بر سطح $x^2 = 12y$ در نقطه $(6, 3, 1)$ کدام است؟

$$x - y + z = 4 \quad (4) \quad x - y = 3 \quad (3) \quad x - z = 5 \quad (2) \quad y - z = 2 \quad (1)$$

پاسخ: گزینه «۳» بردار گرادیان، بردار نرمال صفحه مماس می‌باشد، بنابراین داریم:

$$f(x, y, z) = x^2 - 12y = 0 \Rightarrow \vec{\nabla} f = (2x, -12, 0) \Big|_{(6, 3, 1)} = (12, -12, 0)$$

$$\Rightarrow 12(x - 6) - 12(y - 3) + 0(z - 1) = 0 \Rightarrow x - y - 3 = 0$$

مثال ۱۳: معادله صفحه مماس بر سطح به معادله $3x^2 + xy - 2y^2 = 2z$ در نقطه $(1, 1, 1)$ کدام است؟

$$4x - 3y - 2z + 1 = 0 \quad (4) \quad 4x + 3y - 5z - 2 = 0 \quad (3) \quad 3x + 4y - 5z - 2 = 0 \quad (2) \quad 3x - 4y + 2z - 1 = 0 \quad (1)$$

پاسخ: هیچ‌کدام از گزینه‌ها صحیح نمی‌باشد. ابتدا معادله رویه را به‌صورت $f = 3x^2 + xy - 2y^2 - 2z = 0$ می‌نویسیم، در این صورت داریم:

$$\vec{\nabla} f = (6x + y, x - 4y, -2) \Rightarrow \vec{\nabla} f \Big|_{(1, 1, 1)} = (7, -3, -2)$$

$$7(x - 1) - 3(y - 1) - 2(z - 1) = 0 \Rightarrow 7x - 3y - 2z = 2 \quad \text{بنابراین معادله صفحه موردنظر به‌صورت روبرو است:}$$

مثال ۱۴: معادله خط مماس بر منحنی $\begin{cases} y = x^2 \\ z^2 = 16 - y \end{cases}$ در نقطه $(4, 16, 0)$ کدام است؟

$$\begin{cases} x + y = 20 \\ z = 0 \end{cases} \quad (4) \quad \begin{cases} y - x = 12 \\ z = 0 \end{cases} \quad (3) \quad \begin{cases} x = 4 \\ y = 16 \end{cases} \quad (2) \quad \begin{cases} 4x = y \\ z = 0 \end{cases} \quad (1)$$

پاسخ: گزینه «۲» بردار هادی خط مماس برابر حاصل‌ضرب خارجی بردار نرمال دو رویه می‌باشد.

$$\begin{cases} f_1(x, y, z) = y - x^2 = 0 \Rightarrow \vec{\nabla} f_1 = (-2x, 1, 0) \Big|_{(4, 16, 0)} = (-8, 1, 0) \\ f_2(x, y, z) = z^2 + y - 16 = 0 \Rightarrow \vec{\nabla} f_2 = (0, 1, 2z) \Big|_{(4, 16, 0)} = (0, 1, 0) \end{cases} \Rightarrow \vec{u} = \vec{\nabla} f_1 \times \vec{\nabla} f_2 = \begin{vmatrix} \vec{i} & \vec{j} & \vec{k} \\ -8 & 1 & 0 \\ 0 & 1 & 0 \end{vmatrix} = (0, 0, -8)$$

بنابراین معادله خط مماس $\frac{x - 4}{0} = \frac{y - 16}{0} = \frac{z - 0}{-8}$ یا به‌طور معادل $\begin{cases} x = 4 \\ y = 16 \end{cases}$ خواهد بود.



مثال ۱۵: بردار عمود بر صفحه مماس بر رویه $x^2 + \frac{y^2}{4} + \frac{z^2}{9} = 3$ در نقطه $(1, 2, 3)$ برابر است با (کامپیوتر - سراسری ۸۰)

(۱) $(2, \frac{2}{3}, \frac{4}{3})$ (۲) $(2, 1, 2)$ (۳) $(2, 1, \frac{2}{3})$ (۴) $5!5!$

$f(x, y, z) = x^2 + \frac{y^2}{4} + \frac{z^2}{9} = 3 \Rightarrow \vec{\nabla}f = (2x, \frac{y}{2}, \frac{2z}{9}) \Rightarrow \vec{N} = \vec{\nabla}f \Big|_{(1, 2, 3)} = (2, 1, \frac{2}{3})$ پاسخ: گزینه «۳»

مثال ۱۶: معادله صفحه مماس بر سطح به معادله $\frac{x^2}{4} + \frac{y^2}{4} + \frac{z^2}{9} = 1$ در نقطه $(0, 0, 3)$ از کدام نقطه دیگر می‌گذرد؟ (ژئوفیزیک و هواشناسی - سراسری ۸۰)

(۱) $(\sqrt{3}, 1, 2)$ (۲) $(3, 0, 1)$ (۳) $(3, \sqrt{3}, 0)$ (۴) $(1, \sqrt{3}, 3)$

$f(x, y, z) = \frac{x^2}{4} + \frac{y^2}{4} + \frac{z^2}{9} - 1 = 0 \Rightarrow \vec{\nabla}f = (\frac{x}{2}, \frac{y}{2}, \frac{2z}{9}) \Big|_{(0, 0, 3)} = (0, 0, \frac{2}{3})$ پاسخ: گزینه «۴»

بنابراین معادله صفحه موردنظر به صورت روبرو است که از نقطه $(1, \sqrt{3}, 3)$ عبور می‌کند.
 $\frac{2}{3}(z-3) = 0 \Rightarrow z = 3$

مثال ۱۷: معادله خط قائم بر سطح به معادله $3x^2 + \text{Arctg}(2z) = e^y + 1$ در نقطه $(1, \text{Ln}2, 0)$ کدام است؟ (ریاضی - سراسری ۸۰)

(۱) $3z = (x-1), z+y = \text{Ln}2$ (۲) $z = (x-1), z+y = 2$ (۳) $3z = 3x-2, z+y = \text{Ln}2$ (۴) $x-y = \text{Ln} \frac{e}{2}, z+x = 1$

$f(x, y, z) = 3x^2 + \text{Arctg}(2z) - e^y - 1 = 0 \Rightarrow \vec{\nabla}f = (6x, -e^y, \frac{2}{1+4z^2}) \Big|_{(1, \text{Ln}2, 0)} = (6, -2, 2)$ پاسخ: گزینه «۱»

بنابراین معادله خط قائم عبارتست از:
 $\frac{x-1}{6} = \frac{y-\text{Ln}2}{-2} = \frac{z}{2} \Rightarrow \begin{cases} 3z = x-1 \\ z+y = \text{Ln}2 \end{cases}$

مثال ۱۸: معادله صفحه مماس بر مخروط به معادله $\frac{x^2}{4} + \frac{y^2}{9} = z^2$ در نقطه $(2, \frac{3}{2}, \frac{\sqrt{5}}{2})$ برابر است با: (ریاضی - سراسری ۸۰)

(۱) $3x+y = 3\sqrt{5}z+4$ (۲) $x+2y = \sqrt{5}z+4$ (۳) $x-2y = \sqrt{5}z-5$ (۴) $3x-y = 3\sqrt{5}z-3$

$f(x, y, z) = \frac{x^2}{4} + \frac{y^2}{9} - z^2 \Rightarrow \vec{\nabla}f = (\frac{x}{2}, \frac{2y}{9}, -2z) \Big|_{(2, \frac{3}{2}, \frac{\sqrt{5}}{2})} = (1, \frac{1}{3}, -\sqrt{5})$ پاسخ: گزینه «۱»

بنابراین معادله صفحه موردنظر به صورت روبرو است:
 $(x-2) + \frac{1}{3}(y-\frac{3}{2}) - \sqrt{5}(z-\frac{\sqrt{5}}{2}) = 0 \Rightarrow x + \frac{1}{3}y - \sqrt{5}z = 0$

مثال ۱۹: صفحه‌ای را که در نقطه $P_0(1, -2, 5)$ بر سطح $z = x^2 + y^2$ مماس است به دست آورید. (مکانیک - آزاد ۸۱)

(۱) $2x - 4y - z = 5$ (۲) $2x + 4y + z = 5$ (۳) $2x + 2y + 2z = 4/5$ (۴) $2x + y - z = 2$

$f(x, y, z) = x^2 + y^2 - z = 0 \Rightarrow \vec{\nabla}f = (2x, 2y, -1) \Big|_{(1, -2, 5)} = (2, -4, -1)$ پاسخ: گزینه «۱»

$\Rightarrow 2(x-1) - 4(y+2) - 1(z-5) = 0 \Rightarrow 2x - 4y - z = 5$

مثال ۲۰: معادله صفحه مماس بر سطح $4x^2 + y^2 + 2z^2 = 26$ در نقطه $(1, -2, 3)$ کدام است؟ (عمران - سراسری ۸۱)

(۱) $x - 2y + 3z = 13$ (۲) $2x - y + 3z = 13$ (۳) $x + y + 3z = 13$ (۴) $2x + y - 3z = 13$

$f(x, y, z) = 4x^2 + y^2 + 2z^2 - 26 = 0 \Rightarrow \vec{\nabla}f = (8x, 2y, 4z) \Big|_{(1, -2, 3)} = (8, -4, 12)$ پاسخ: گزینه «۲»

بنابراین معادله صفحه مماس به صورت روبرو می‌باشد:
 $8(x-1) - 4(y+2) + 12(z-3) = 0 \Rightarrow 2x - y + 3z = 13$

مثال ۲۱: معادله‌ی صفحه‌ی مماس بر سطح $x^2 + 4y^2 - 4z^2 - 4 = 0$ در نقطه‌ی $(2, 1, 1)$ برابر است با
 (۱) $x + 2y - 2z = 2$ (۲) $x + 2y + 2z = 6$ (۳) $x - 2y - 2z = -2$ (۴) $x - 2y + 2z = 2$

پاسخ: گزینه «۱»
 $f(x, y, z) = x^2 + 4y^2 - 4z^2 - 4 = 0 \Rightarrow \vec{\nabla}f = (2x, 8y, -8z) \Big|_{(2, 1, 1)} = (4, 8, -8) = 4(1, 2, -2)$

بنابراین معادله صفحه مماس به صورت روبرو خواهد بود:
 $1(x-2) + 2(y-1) - 2(z-1) = 0 \Rightarrow x + 2y - 2z = 2$

مثال ۲۲: اگر θ زاویه‌ی اشتراک سطوح $x^2 + y^2 - 2z = 0$ و $x^2 + y^2 - 2z = 0$ باشد در این صورت $\cos \theta$ برابر است با
 (۱) $\frac{\sqrt{2}}{2}$ (۲) $\frac{\sqrt{3}}{3}$ (۳) $\frac{\sqrt{2}}{4}$ (۴) $\frac{\sqrt{6}}{3}$

پاسخ: گزینه «۴» زاویه بین دو رویه برابر زاویه بین بردارهای عمود به دو رویه (بردارهای گرادیان) می‌باشد.
 $f_1(x, y, z) = x^2 + y^2 - 2z = 0 \Rightarrow \vec{\nabla}f_1 = (2x, 2y, 0) \Big|_{(1, 1, 1)} = (2, 2, 0)$
 $f_2(x, y, z) = x^2 + y^2 - 2z = 0 \Rightarrow \vec{\nabla}f_2 = (2x, 2y, -2) \Big|_{(1, 1, 1)} = (2, 2, -2)$

$$\cos \theta = \frac{\vec{\nabla}f_1 \cdot \vec{\nabla}f_2}{\|\vec{\nabla}f_1\| \|\vec{\nabla}f_2\|} = \frac{4 + 4 + 0}{\sqrt{8} \times \sqrt{12}} = \frac{2}{\sqrt{6}} = \frac{\sqrt{6}}{3}$$

مثال ۲۳: در چه نقاطی از سطح $2x^2 + y - z^2 = 5$ صفحه مماس در آن‌ها با صفحه $24x + y - 6z = 3$ موازی است؟
 (۱) $(-1, 24, 3), (2, 2, 3)$ (۲) $(-1, 8, 1), (1, 4, 1)$ (۳) $(-2, 25, 2), (2, -7, 2)$ (۴) $(-2, 30, 3), (2, -2, 3)$

پاسخ: گزینه «۴» در نقاط مورد نظر گرادیان تابع با بردار نرمال صفحه موازی می‌باشد.

$$\vec{\nabla}f = (4x, 1, -2z), \vec{N} = (24, 1, -6) \Rightarrow \frac{4x}{24} = \frac{1}{1} = \frac{-2z}{-6} \Rightarrow x = \pm 2, z = 3$$

با جایگزینی در معادله رویه y نقاط مربوطه نیز به دست می‌آید.

$$x = 2, z = 3 \Rightarrow 16 + y - 9 = 5 \Rightarrow y = -2 \Rightarrow A(2, -2, 3)$$

$$x = -2, z = 3 \Rightarrow -16 + y - 9 = 5 \Rightarrow y = 30 \Rightarrow B(-2, 30, 3)$$

مثال ۲۴: معادله صفحه مماس بر بیضوی $4x^2 + y^2 - 16z = 0$ در نقطه $(2, 4, 2)$ کدام است؟
 (۱) $2x - y - 2z = -4$ (۲) $2x - y + 2z = 2$ (۳) $2x + y - 2z = 4$ (۴) $2x + y + 2z = 12$

پاسخ: گزینه «۳»
 $f(x, y, z) = 4x^2 + y^2 - 16z = 0 \Rightarrow \vec{\nabla}f = (8x, 2y, -16) \Big|_{(2, 4, 2)} = (16, 8, -16)$

بنابراین معادله صفحه مورد نظر عبارت است از:
 $16(x-2) + 8(y-4) - 16(z-2) = 0 \Rightarrow 2x + y - 2z = 4$

مثال ۲۵: صفحه‌ی مماس بر رویه به معادله‌ی $z = \sqrt{x+1} + \sqrt{y+1}$ در نقطه $(3, 3, 4)$ محور x ها را در A و محور y ها را در B و محور z ها را در C قطع می‌کند. $x_A + y_B + z_C$ چقدر است؟
 (۱) 17 (۲) 10 (۳) -10 (۴) $-17/5$

پاسخ: گزینه «۴»
 $f(x, y, z) = \sqrt{x+1} + \sqrt{y+1} - z = 0 \Rightarrow \vec{\nabla}f = \left(\frac{1}{2\sqrt{x+1}}, \frac{1}{2\sqrt{y+1}}, -1 \right) \Big|_{(3, 3, 4)} = \left(\frac{1}{4}, \frac{1}{4}, -1 \right)$

بنابراین معادله صفحه مورد نظر به صورت روبرو است:
 $\frac{1}{4}(x-3) + \frac{1}{4}(y-3) - (z-4) = 0 \Rightarrow x + y - 4z = -10$
 بنابراین نقاط تلاقی با محورها به ترتیب عبارتند از: $A(-10, 0, 0), B(0, -10, 0), C(0, 0, 2/5)$.



مثال ۲۶: خط مماس بر منحنی فضایی C فصل مشترک دو رویه $z = x^2 - y^2$ و $2xy - 2z = 0$ در نقطه $(2, 1, 3)$ موازی کدام بردار است؟

(MBA - سراسری ۸۳)

$$(1) \quad 2\vec{i} + \vec{j} + 6\vec{k} \quad (2) \quad 2\vec{i} - \vec{j} + 6\vec{k} \quad (3) \quad \vec{i} - 2\vec{j} + 3\vec{k} \quad (4) \quad 5\vec{i} + 2\vec{j} + 4\vec{k}$$

$$f_1(x, y, z) = x^2 - y^2 - z \Rightarrow \vec{\nabla} f_1 = (2x, -2y, -1) \Big|_{(2, 1, 3)} = (4, -2, -1) \quad \checkmark \text{ پاسخ: گزینه «۱»}$$

$$f_2(x, y, z) = 2xy - 2z \Rightarrow \vec{\nabla} f_2 = (2y, 2x, -2) \Big|_{(2, 1, 3)} = (3, 6, -2)$$

$$\vec{u} = \vec{\nabla} f_1 \times \vec{\nabla} f_2 = \begin{vmatrix} \vec{i} & \vec{j} & \vec{k} \\ 4 & -2 & -1 \\ 3 & 6 & -2 \end{vmatrix} = (10, 5, 30) = 5(2, 1, 6)$$

مثال ۲۷: بردار مماس بر منحنی به معادله $\begin{cases} x+z=2 \\ x^2=8y \end{cases}$ در نقطه $(4, 8, -2)$ کدام است؟ (ژئوفیزیک و هواشناسی - سراسری ۸۳)

$$(1) \quad \vec{i} - 6\vec{j} - \vec{k} \quad (2) \quad \vec{i} + 6\vec{j} + \vec{k} \quad (3) \quad \vec{i} + 6\vec{j} - \vec{k} \quad (4) \quad \vec{i} - 6\vec{j} + \vec{k}$$

$$f_1(x, y, z) = x + z - 2 = 0 \Rightarrow \vec{\nabla} f_1 = (1, 0, 1) \quad \checkmark \text{ پاسخ: گزینه «۳»}$$

$$f_2(x, y, z) = x^2 - 8y = 0 \Rightarrow \vec{\nabla} f_2 = (2x, -8, 0) \Big|_{(4, 8, -2)} = (8, -8, 0)$$

$$\vec{\nabla} f_1 \times \vec{\nabla} f_2 = \begin{vmatrix} \vec{i} & \vec{j} & \vec{k} \\ 1 & 0 & 1 \\ 8 & -8 & 0 \end{vmatrix} = 8\vec{i} + 8\vec{j} - 8\vec{k} = 8(\vec{i} + \vec{j} - \vec{k})$$

بردار مماس موردنظر برابر حاصل ضرب خارجی بردارهای گرادیان دو رویه می‌باشد:

مثال ۲۸: بردار یکه عمود بر سطح f به معادله $f(x, y, z) = x^2 + 2xyz + 2y^2 - z^2 - 5$ در نقطه $(1, 1, 1)$ واقع بر آن کدام است؟ (علوم کامپیوتر - سراسری ۸۴)

$$(1) \quad \frac{2\vec{i} + 3\vec{j}}{\sqrt{13}} \quad (2) \quad \frac{2\vec{i} + 3\vec{j} + \vec{k}}{\sqrt{14}} \quad (3) \quad \frac{6\vec{i} + 9\vec{j}}{\sqrt{117}} \quad (4) \quad \frac{6\vec{i} + 9\vec{j} + 2\vec{k}}{\sqrt{261}}$$

$$f(x, y, z) = x^2 + 2xyz + 2y^2 - z^2 - 5 \Rightarrow \vec{\nabla} f = (2x, 2yz, 2xz + 6y, 2xy - 2z) \Big|_{(1, 1, 1)} = (6, 9, 0) \quad \checkmark \text{ پاسخ: گزینه «۱ و ۳»}$$

$$\Rightarrow \vec{N} = \frac{\vec{\nabla} f}{|\vec{\nabla} f|} = \frac{(6, 9, 0)}{\sqrt{6^2 + 9^2 + 0}} = \left(\frac{2}{\sqrt{13}}, \frac{3}{\sqrt{13}}, 0 \right)$$

با ضرب صورت و مخرج کسرها در $\sqrt{9} = 3$ متوجه می‌شویم که گزینه‌های (۳) و (۱) با هم برابرند.

مثال ۲۹: معادله خط مماس بر مقطع دو سطح فضایی به معادله‌های $z = 2x^2 - 3y^2 + 1$ و $z = x^2 + 2y^2$ در نقطه $(2, 1, 6)$ از کدام نقطه می‌گذرد؟

(ریاضی - سراسری ۸۴)

$$(1) \quad (-8, 3, -50) \quad (2) \quad (-8, -3, -50) \quad (3) \quad (8, -3, -50) \quad (4) \quad (-8, -3, 50)$$

$$f_1(x, y, z) = 2x^2 - 3y^2 + 1 - z \Rightarrow \vec{\nabla} f_1 = (4x, -6y, -1) \Big|_{(2, 1, 6)} = (8, -6, -1) \quad \checkmark \text{ پاسخ: گزینه «۲»}$$

$$f_2(x, y, z) = x^2 + 2y^2 - z \Rightarrow \vec{\nabla} f_2 = (2x, 4y, -1) \Big|_{(2, 1, 6)} = (4, 4, -1)$$

$$\vec{u} = \vec{\nabla} f_1 \times \vec{\nabla} f_2 = \begin{vmatrix} \vec{i} & \vec{j} & \vec{k} \\ 8 & -6 & -1 \\ 4 & 4 & -1 \end{vmatrix} = (10, 4, 56)$$

بردار هادی خط مماس برابر $(10, 4, 56)$ می‌باشد.

$$\frac{x-2}{10} = \frac{y-1}{4} = \frac{z-6}{56}$$

بنابراین معادله خط مماس به صورت روبرو است:

در بین گزینه‌ها تنها نقطه $(-8, -3, -50)$ در معادله فوق صدق می‌کند.

مثال ۳۰: معادله صفحه مماس بر سطح (رویه): $4x^2 + y^2 - 16z = 0$ در نقطه $(2, 4, 2)$ کدامیک از گزینه‌های زیر است؟ (عمران - نقشه‌برداری - سراسری ۸۵)

$$(1) \quad x - 2y + z = 2 \quad (2) \quad x + 2y - z = 2 \quad (3) \quad 2x - y + 2z = 4 \quad (4) \quad 2x + y - 2z = 4$$

پاسخ: گزینه «۴» بردار نرمال صفحه موردنظر، بردار گرادیان رویه $F = 4x^2 + y^2 - 16z = 0$ می‌باشد، بنابراین داریم:

$$\vec{N} = \vec{\nabla}F = (\lambda x, 2y, -16) \Big|_{(2, 4, 2)} = (16, 8, -16)$$

بنابراین معادله صفحه موردنظر به صورت روبرو است:

$$16(x-2) + 8(y-4) - 16(z-2) = 0 \Rightarrow 2x + y - 2z = 4$$

(صنایع - سیستم - سراسری ۸۵)

مثال ۳۱: معادله خط مماس بر منحنی $\begin{cases} x^2 + y^2 + z^2 = 9 \\ x^2 + y^2 - 8z = 0 \end{cases}$ در نقطه‌ی $(2, 2, 1)$ کدامند؟

$$(2) \quad x + y = 4, \quad z = 1$$

$$(1) \quad \frac{x}{2} = \frac{y}{2} = \frac{z}{1}$$

$$(3) \quad \frac{x-2}{2} = \frac{y-2}{2} = \frac{z-1}{1}$$

$$(4) \quad x = 2t + 2, \quad y = 2t + 2, \quad z = 2 \text{ و } t \text{ پارامتر}$$

پاسخ: گزینه «۲» قرار می‌دهیم $F(x, y, z) = x^2 + y^2 + z^2 - 9 = 0$ و $G(x, y, z) = x^2 + y^2 - 8z = 0$ در این صورت بردار هادی خط موردنظر

برابر $\vec{\nabla}F \times \vec{\nabla}G$ خواهد بود.

$$\vec{\nabla}F = (2x, 2y, 2z) \Big|_{(2, 2, 1)} = (4, 4, 2), \quad \vec{\nabla}G = (2x, 2y, -8) \Big|_{(2, 2, 1)} = (4, 4, -8) \Rightarrow \vec{\nabla}F \times \vec{\nabla}G = \begin{vmatrix} \vec{i} & \vec{j} & \vec{k} \\ 4 & 4 & 2 \\ 4 & 4 & -8 \end{vmatrix} = (-40, 40, 0)$$

بنابراین معادله خط موردنظر به صورت روبرو خواهد بود:

$$\frac{x-2}{-40} = \frac{y-2}{40} = \frac{z-1}{0} \Rightarrow \begin{cases} x + y = 4 \\ z = 1 \end{cases}$$

مثال ۳۲: صفحه قائم بر منحنی (C) فصل مشترک استوانه $x^2 + y^2 = 5$ و رویه $z = xy$ در نقطه $(2, -1, -2)$ محور x ها را با کدام طول قطع

می‌کند؟

(MBA - سراسری ۸۶)

$$(4) \quad -6$$

$$(3) \quad -4$$

$$(2) \quad 3$$

$$(1) \quad 5$$

$$f(x, y, z) = x^2 + y^2 - 5 = 0 \Rightarrow \vec{\nabla}f = (2x, 2y, 0)$$

پاسخ: گزینه «۴»

$$g(x, y, z) = xy - z = 0 \Rightarrow \vec{\nabla}g = (y, x, -1)$$

$$\vec{N} = \vec{\nabla}f \times \vec{\nabla}g = \begin{vmatrix} \vec{i} & \vec{j} & \vec{k} \\ 2x & 2y & 0 \\ y & x & -1 \end{vmatrix} = (-2y, +2x, 2x^2 - 2y^2) = (2, 4, 6)$$

بردار نرمال صفحه موردنظر برابر است با:

$$\Rightarrow 2(x-2) + 4(y+1) + 6(z+2) = 0 \Rightarrow x + 2y + 3z + 6 = 0$$

$$x + 6 = 0 \Rightarrow x = -6$$

برای به دست آوردن نقطه تلاقی صفحه با محور x ها قرار می‌دهیم $y = z = 0$ ، در این صورت داریم:

(مکانیک - سراسری ۸۶)

مثال ۳۳: بردار مماس بر منحنی فصل مشترک دو رویه زیر در نقطه $(-3, 2, 5)$ کدام است؟

$$z = x^2 - y^2, \quad xyz + 3 = 0 = 0$$

$$(4) \quad 9\vec{i} + 46\vec{j} - 130\vec{k}$$

$$(3) \quad 9\vec{i} - 46\vec{j} - 130\vec{k}$$

$$(2) \quad 9\vec{i} + 46\vec{j} + 130\vec{k}$$

$$(1) \quad 9\vec{i} - 46\vec{j} + 130\vec{k}$$

$$f(x, y, z) = xyz + 3 = 0 \Rightarrow \vec{\nabla}f = (yz, xz, xy) = (10, -15, -6)$$

پاسخ: گزینه «۱»

$$g(x, y, z) = x^2 - y^2 - z = 0 \Rightarrow \vec{\nabla}g = (2x, -2y, -1) = (-6, -4, -1)$$

$$\vec{N} = \vec{\nabla}f \times \vec{\nabla}g = \begin{vmatrix} \vec{i} & \vec{j} & \vec{k} \\ 10 & -15 & -6 \\ -6 & -4 & -1 \end{vmatrix} = -9\vec{i} + 46\vec{j} - 130\vec{k}$$



مثال ۳۴: معادله‌ی صفحه مماس بر سهمی گون $z = 2x^2 + y^2$ در نقطه $(1, 1, 3)$ کدام است؟ (صنایع - سیستم - سراسری ۸۶)

$$\begin{aligned} (1) \quad & 4x - 2y - z + 3 = 0 \\ (2) \quad & 4x - 2y + z + 3 = 0 \\ (3) \quad & 4x + 2y - z - 3 = 0 \\ (4) \quad & 4x - 2y - z + 3 = 0 \end{aligned}$$

پاسخ: گزینه «۳» معادله سهمی گون را به صورت $f(x, y, z) = 2x^2 + y^2 - z = 0$ می‌نویسیم، در این صورت داریم:

$$\vec{\nabla} f = (4x, 2y, -1) \Big|_{(1, 1, 3)} = (4, 2, -1) \Rightarrow 4(x-1) + 2(y-1) - (z-3) = 0 \Rightarrow 4x + 2y - z - 3 = 0$$

مثال ۳۵: معادله صفحه قائم بر منحنی C فصل مشترک دو رویه $z = x^2 + y^2$ و $x^2z - y^2 = 1$ در نقطه $(1, -2, 5)$ کدام است؟ (MBA - سراسری ۸۷)

$$\begin{aligned} (1) \quad & 4z - y = 22 \\ (2) \quad & 2x + y + 4z = 20 \\ (3) \quad & 4x - y + 2z = 16 \\ (4) \quad & 3x + y = 5 \end{aligned}$$

پاسخ: گزینه «۱» قرار می‌دهیم $F(x, y, z) = x^2 + y^2 - z = 0$ و $G(x, y, z) = x^2z - y^2 - 1 = 0$ ، در این صورت:

$$\vec{\nabla} F \times \vec{\nabla} G = \begin{vmatrix} \vec{i} & \vec{j} & \vec{k} \\ 2 & -4 & -1 \\ 15 & 4 & 1 \end{vmatrix} = (0, -17, 68)$$

$$\text{معادله صفحه قائم: } -17(y+2) + 68(z-5) = 0 \Rightarrow 4z - y = 22$$

مثال ۳۶: معادله صفحه مماس بر رویه $z = e^{2+2x+y^2}$ در نقطه $(-6, 3, 1)$ کدام یک از موارد زیر است؟ (ریاضی - سراسری ۸۷)

$$\begin{aligned} (1) \quad & 2x + 6y - z = -5 \\ (2) \quad & 2x + 6y - z = 5 \\ (3) \quad & x + y - z = -2 \\ (4) \quad & x + y - z = -4 \end{aligned}$$

پاسخ: گزینه «۲» قرار می‌دهیم $F(x, y, z) = e^{2+2x+y^2} - z$ در این صورت داریم: $(2, 6, -1)$

$$\vec{\nabla} F = (2e^{2+2x+y^2}, 2ye^{2+2x+y^2}, -1) \Big|_{(-6, 3, 1)} = (2, 6, -1)$$

$$\text{معادله صفحه مورد نظر: } 2(x+6) + 6(y-3) + (-1)(z-1) = 0 \Rightarrow 2x + 6y - z = 5$$

مثال ۳۷: معادله خط مماس بر منحنی فصل مشترک دو رویه $z = 6 - x^2 - 2y^2 + 3z^2$ و $xyz = 1$ در نقطه $(1, 1, 1)$ کدام است؟ (مکانیک - سراسری ۸۷)

$$\begin{aligned} (1) \quad & \begin{cases} y = z \\ 2y + x = 3 \end{cases} \\ (2) \quad & \begin{cases} x = z \\ y + 2x = 3 \end{cases} \\ (3) \quad & \begin{cases} x = z \\ 2y + x = 3 \end{cases} \\ (4) \quad & \begin{cases} y = z \\ y + 2x = 3 \end{cases} \end{aligned}$$

پاسخ: گزینه «۲» قرار می‌دهیم $f_1(x, y, z) = x^2 + 2y^2 + 3z^2 - 6 = 0$ و $f_2(x, y, z) = xyz - 1 = 0$ در این صورت داریم:

$$\vec{\nabla} f_1 = (2x, 4y, 6z) \Rightarrow \vec{\nabla} f_1 \Big|_{(1, 1, 1)} = (2, 4, 6)$$

$$\vec{\nabla} f_2 = (yz, xz, xy) \Rightarrow \vec{\nabla} f_2 \Big|_{(1, 1, 1)} = (1, 1, 1)$$

$$\vec{\nabla} f_1 \times \vec{\nabla} f_2 = \begin{vmatrix} \vec{i} & \vec{j} & \vec{k} \\ 2 & 4 & 6 \\ 1 & 1 & 1 \end{vmatrix} = -2\vec{i} + 4\vec{j} - 2\vec{k} \Rightarrow \text{معادله خط مورد نظر} \Rightarrow \begin{cases} z = x \\ 2x + y = 3 \end{cases}$$

مثال ۳۸: در چه نقاطی از هذلولی گون $\frac{x^2}{4} - \frac{y^2}{2} - \frac{z^2}{4} = 1$ صفحه مماس با صفحه $2x + y + z = 0$ موازی می‌باشد؟ (عمران - نقشه‌برداری - سراسری ۸۷)

$$(1) \quad \left(-2\sqrt{\frac{2}{5}}, \frac{1}{2}\sqrt{\frac{2}{5}}, \sqrt{\frac{2}{5}}\right), \left(2\sqrt{\frac{2}{5}}, -\frac{1}{2}\sqrt{\frac{2}{5}}, -\sqrt{\frac{2}{5}}\right)$$

$$(2) \quad \left(-4\sqrt{\frac{2}{3}}, \sqrt{\frac{2}{3}}, 2\sqrt{\frac{2}{3}}\right), \left(4\sqrt{\frac{2}{3}}, -\sqrt{\frac{2}{3}}, -2\sqrt{\frac{2}{3}}\right)$$

$$(3) \quad \left(-4\sqrt{\frac{2}{5}}, \sqrt{\frac{2}{5}}, 2\sqrt{\frac{2}{5}}\right), \left(4\sqrt{\frac{2}{5}}, -\sqrt{\frac{2}{5}}, -2\sqrt{\frac{2}{5}}\right)$$

پاسخ: گزینه «۴» باید بردار عمود بر صفحه مماس یعنی بردارهای $(2, 1, 1)$ با نرمال صفحه داده شده موازی باشد. اگر $g = \frac{x^2}{4} - \frac{y^2}{2} - \frac{z^2}{4} - 1 = 0$ آن‌گاه:

$$\vec{\nabla} g = \left(\frac{x}{2}, -y, -\frac{z}{2}\right) \text{ و } \vec{n} = (2, 1, 1) \Rightarrow \vec{\nabla} g \parallel \vec{n} \Rightarrow \frac{\frac{x}{2}}{2} = \frac{-y}{1} = \frac{-\frac{z}{2}}{1} \Rightarrow x = -4y, z = 2y$$

$$\text{در معادله سطح: } 4y^2 - \frac{1}{2}y^2 - y^2 = 1 \Rightarrow y^2 = \frac{2}{5} \Rightarrow y = \pm\sqrt{\frac{2}{5}}$$

$$\Rightarrow x = \mp 4\sqrt{\frac{2}{5}}, z = \pm 2\sqrt{\frac{2}{5}} \Rightarrow 4 \text{ گزینه}$$

مثال ۳۹: معادله صفحه‌ی مماس بر رویه‌ی $x^2 + y^2 + z^2 + 6xyz = 1$ در نقطه $(0, 0, 1)$ کدام است؟ (صنایع - سیستم - سراسری ۸۸)

(۱) $z = 1$ (۲) $x + y + z = 1$ (۳) $z = x + y + 1$ (۴) $2z + 2x + y = 0$

پاسخ: گزینه «۱» می‌دانیم بردار گرادیان بر رویه داده شده عمود است، و این بردار همان بردار نرمال صفحه مورد نظر خواهد بود.

$$f(x, y, z) = x^2 + y^2 + z^2 + 6xyz - 1 = 0 \Rightarrow \vec{\nabla} f = (2x + 6yz, 2y + 6xz, 2z + 6xy)$$

$$\vec{\nabla} f \Big|_{(0, 0, 1)} = (0, 0, 2) \xrightarrow{\text{معادله صفحه}} 2(z - 1) = 0 \Rightarrow z = 1$$

بردار نرمال صفحه مورد نظر $= \vec{\nabla} f \Big|_{(0, 0, 1)}$

مثال ۴۰: صفحه مماس بر نمودار $z = x^2 + y^2 + e^{xy}$ در نقطه $(1, 0, 2)$ برابر کدام است؟ (مواد - سراسری ۸۸)

(۱) $z = x - 2y$ (۲) $z = x + 2y$ (۳) $z = 2x - y$ (۴) $z = 2x + y$

پاسخ: گزینه «۴» ابتدا رابطه داده شده را به صورت $f(x, y, z) = x^2 + y^2 + e^{xy} - z = 0$ می‌نویسیم، در این صورت $\vec{\nabla} f$ در نقطه $(1, 0, 2)$ همان بردار

$$\vec{N} = \vec{\nabla} f = (2x + ye^{xy}, 2y + xe^{xy}, -1) \Big|_{(1, 0, 2)} = (2, 1, -1) \Rightarrow 2(x - 1) + 1(y - 0) + (-1)(z - 2) = 0 \Rightarrow z = 2x + y$$

نرمال صفحه مورد نظر خواهد بود.

مثال ۴۱: کدام یک، مقدار بردار مماس بر منحنی فصل مشترک صفحه $x + y + z = 6$ و کره $x^2 + y^2 + z^2 = 14$ را نشان می‌دهد؟ (معدن - سراسری ۸۸)

(۱) $(-1, -2, -1)$ (۲) $(1, 2, 1)$ (۳) $(2, -1, 2)$ (۴) $(1, -2, 1)$

پاسخ: گزینه «۴» قرار می‌دهیم $f(x, y, z) = x + y + z - 6 = 0$ و $g(x, y, z) = x^2 + y^2 + z^2 - 14 = 0$ ، در این صورت داریم:

$\vec{\nabla} f = (1, 1, 1)$ ، $\vec{\nabla} g = (2x, 2y, 2z)$ بردار مماس بر منحنی فصل مشترک دو رویه برابر $\vec{\nabla} f \times \vec{\nabla} g$ می‌باشد، بنابراین داریم:

$$\vec{\nabla} f \times \vec{\nabla} g = \begin{vmatrix} \vec{i} & \vec{j} & \vec{k} \\ 1 & 1 & 1 \\ 2x & 2y & 2z \end{vmatrix} = (2z - 2y)\vec{i} + (2x - 2z)\vec{j} + (2y - 2x)\vec{k}$$

با توجه به بردار مماس به دست آمده در بالا واضح است که جمع مؤلفه‌های بردار مماس همواره برابر صفر است که تنها گزینه «۴» این ویژگی را دارد.

مثال ۴۲: خط مماس بر منحنی C فصل مشترک صفحه $z = 2x + y$ و استوانه $x^2 + y^2 = 2$ در نقطه $(1, -1, 1)$ صفحه xOz را با کدام ارتفاع قطع می‌کند؟ (کشاورزی - سراسری ۸۸)

(۱) -3 (۲) 2 (۳) 3 (۴) 4

پاسخ: گزینه «۴» بردار هادی خط مماس برابر حاصل ضرب خارجی بردارهای گرادیان می‌باشد.

$$f = x^2 + y^2 - 2 = 0 \Rightarrow \vec{\nabla} f = (2x, 2y, 0) \Big|_{(1, -1, 1)} = (2, -2, 0) \Rightarrow \vec{N}_f = (2, -2, 0)$$

$$\vec{V} = \vec{N}_1 \times \vec{N}_2 = \begin{vmatrix} \vec{i} & \vec{j} & \vec{k} \\ 2 & 1 & -1 \\ 2 & -2 & 0 \end{vmatrix} = -2\vec{i} - 2\vec{j} - 6\vec{k}$$

بردار هادی خط \vec{V}

$$\text{معادله خط: } \frac{x-1}{-2} = \frac{y+1}{-2} = \frac{z-1}{-6}$$

برای به دست آوردن نقطه تلاقی خط با صفحه xOz ، قرار می‌دهیم $y = 0$ که در این صورت $z = 4$ به دست می‌آید.

مثال ۴۳: صفحه مماس بر رویه $2x - y + xyz + 1 = 0$ در نقطه $(1, 2, -1)$ محور z ها را با کدام ارتفاع قطع می‌کند؟ (MBA - سراسری ۹۰)

(۱) $-\frac{3}{2}$ (۲) $\frac{3}{2}$ (۳) $-\frac{5}{2}$ (۴) $\frac{5}{2}$

پاسخ: گزینه «۳» قرار می‌دهیم $f = 2x - y + xyz + 1 = 0$ ، در این صورت $\vec{\nabla} f = (2 + yz, -1 + xz, xy)$ که در نقطه $P(1, 2, -1)$ به صورت

$1(x - 1) - 2(y - 2) + 2(z + 1) = 0 \Rightarrow x - 2y + 2z = -5$ در می‌آید، بنابراین معادله صفحه مماس بر رویه به صورت مقابل است:

برای یافتن نقطه تلاقی صفحه با محور z ، x و y را مساوی صفر قرار می‌دهیم در این صورت $z = \frac{-5}{2}$ به دست می‌آید.



(ریاضی - سراسری ۹۰)

مثال ۴۴: خط مماس بر منحنی مشترک رویه‌های $x^2 + y^2 = 1$ و $z = 1$ در نقطه $(0, 1, 1)$ کدام است؟

$$\begin{cases} y = 1 \\ z = 1 \end{cases} \quad (1) \quad \begin{cases} x + y = 1 \\ y + z = 2 \end{cases} \quad (2) \quad \begin{cases} x + y = 1 \\ z = 1 \end{cases} \quad (3) \quad \begin{cases} y = 1 \\ z = 1 \end{cases} \quad (4)$$

پاسخ: گزینه «۴»

روش اول: توجه کنید که گزینه‌های (۲) و (۳) معادله صفحه هستند نه خط! و نقطه داده شده یعنی $(0, 1, 1)$ در معادله گزینه (۱) صدق نمی‌کند، پس فقط گزینه (۴) می‌تواند جواب صحیح باشد.

روش دوم: گرادیان رویه‌های داده شده را در نقطه $P(0, 1, 1)$ به دست می‌آوریم:

$$\left. \begin{cases} f(x, y, z) = x^2 + y^2 - 1 = 0 \Rightarrow \vec{\nabla} f = (2x, 2y, 0) \\ g(x, y, z) = z - 1 = 0 \Rightarrow \vec{\nabla} g = (0, 0, 1) \end{cases} \right|_P = (0, 2, 0)$$

در این صورت بردارهای خط مماس همان $\vec{\nabla} f \times \vec{\nabla} g$ است:

$$\vec{\nabla} f \times \vec{\nabla} g = \begin{vmatrix} \vec{i} & \vec{j} & \vec{k} \\ 0 & 2 & 0 \\ 0 & 0 & 1 \end{vmatrix} = (2, 0, 0)$$

بنابراین معادله خط مماس به صورت $\frac{x-0}{2} = \frac{y-1}{0} = \frac{z-1}{0}$ یا $\begin{cases} y = 1 \\ z = 1 \end{cases}$ است.

(معماری کشتی - سراسری ۹۰)

مثال ۴۵: صفحه‌ی مماس بر سطح $z = 2x^2y^2 - 3xy^2$ در نقطه‌ی $(1, 1, -1)$ برابر است با:

$$\begin{cases} x - \Delta y + z = -5 \\ 2x - 3y - z = 0 \\ x - \Delta y - z = -3 \\ x + y - 3z = 5 \end{cases} \quad (1) \quad (2) \quad (3) \quad (4)$$

پاسخ: گزینه «۱»

بنابراین بردار نرمال صفحه مماس بر رویه‌ی داده شده در نقطه $(1, 1, -1)$ برابر است با: $(1, -5, -1)$. لذا معادله صفحه مماس بر رویه به این صورت خواهد بود:

$$1(x-1) - 5(y-1) - 1(z+1) = 0 \Rightarrow x - 5y - z = -3$$

(صنایع غذایی - سراسری ۹۰)

مثال ۴۶: صفحه مماس بر رویه $z = x^2 - y^2 + 4$ در نقطه $(-1, 2, 1)$ محور z ها را با کدام ارتفاع قطع می‌کند؟

$$\begin{cases} 5 \\ 6 \\ 7 \\ 4 \end{cases} \quad (1) \quad (2) \quad (3) \quad (4)$$

پاسخ: گزینه «۲»

بردار نرمال صفحه مماس $\vec{\nabla} f \Big|_{(-1, 2, 1)} = (-2, -4, -1)$

لذا صفحه مماس بر رویه داده شده در نقطه $(-1, 2, 1)$ برابر است با:

$$P: -2(x+1) - 4(y-2) - (z-1) = 0$$

برای به دست آوردن نقطه تلاقی صفحه مماس با محور z ها کافیست که در معادله صفحه مماس $x = y = 0$ قرار دهیم، بنابراین داریم:

$$-2(0+1) - 4(0-2) - (z-1) = 0 \Rightarrow -2 + 8 - z + 1 = 0 \Rightarrow -z = -7 \Rightarrow z = 7$$

مثال ۴۷: خط نرمال بر رویه‌ی به معادله‌ی $z^2 = x^2 + y^2 - 3$ در نقطه $(3, 0, 2)$ رویه‌ی مذکور را در کدام نقطه دیگر قطع می‌کند؟ (آمار - سراسری ۹۰)

$$\begin{cases} (0, 0, 0) \\ (3, 0, -3) \\ \left(\frac{27}{4}, 0, -\frac{9}{4}\right) \\ \left(-\frac{27}{4}, \frac{9}{4}, 0\right) \end{cases} \quad (1) \quad (2) \quad (3) \quad (4)$$

پاسخ: گزینه «۳» قرار می‌دهیم $f = z^2 = x^2 + y^2 - 3$ ، در این صورت $\vec{\nabla} f = (2x, 2y, -2z)$ که در نقطه $P(3, 0, 2)$ به صورت $(3, 0, -4)$ می‌آید، بنابراین معادله خط قائم (نرمال) بر رویه به صورت زیر است:

$$\frac{x-3}{3} = \frac{y-0}{0} = \frac{z-2}{-4} \xrightarrow{\text{پارامتری}} \begin{cases} x = 3t + 3 \\ y = 0 \\ z = -4t + 2 \end{cases}$$

حال نقطه تقاطع دیگر این خط را با رویه به دست می‌آوریم لذا معادله پارامتری خط را در معادله رویه قرار می‌دهیم:

$$3(3+3t) + (0)^2 - (3-4t)^2 = 0 \Rightarrow 45t - 36t^2 = 0 \Rightarrow 9t(5-4t) = 0 \Rightarrow t = \frac{5}{4}, t = 0$$

نقطه تقاطع خط نرمال بر رویه با رویه $\left(\frac{27}{4}, 0, -\frac{9}{4}\right)$ است.

به ازای $t = 0$ نقطه $(3, 0, 2)$ به دست می‌آید که همان نقطه داده شده در سؤال است که روی رویه نیز قرار داشت.

درسنامه 4: کرل، دیورژانس و لاپلاسیان

کله مثال 1 (سخت): اگر \vec{a} برداری ثابت باشد، آنگاه عبارت $\vec{\nabla} \times (\vec{a} \times \vec{\nabla} \log r)$ برابر با کدام گزینه است؟

$$\frac{\vec{a} \cdot \vec{r}}{r^4} \vec{r} \quad (1) \quad \frac{\vec{a} \cdot \vec{r}}{2r^3} \quad (2) \quad \frac{\vec{a} \cdot \vec{r}}{r^3} \vec{r} \quad (3) \quad \frac{\vec{a} \cdot \vec{r}}{r^4} \vec{r} \quad (4)$$

پاسخ: گزینه «4» $\log r$ یک تابع حقیقی است، ابتدا حاصل عبارت $\vec{\nabla} \log r$ را حساب می‌کنیم:

$$\vec{\nabla} \log r = \left(\vec{i} \frac{\partial}{\partial x} + \vec{j} \frac{\partial}{\partial y} + \vec{k} \frac{\partial}{\partial z} \right) \log r = \left(\frac{1}{r} \frac{\partial r}{\partial x} \vec{i} + \frac{1}{r} \frac{\partial r}{\partial y} \vec{j} + \frac{1}{r} \frac{\partial r}{\partial z} \vec{k} \right) = \frac{1}{r} \left(\frac{x}{r} \vec{i} + \frac{y}{r} \vec{j} + \frac{z}{r} \vec{k} \right) = \frac{\vec{r}}{r^2}$$

$$\vec{\nabla} \times (\vec{a} \times \vec{\nabla} \log r) = \vec{\nabla} \times \left(\vec{a} \times \frac{\vec{r}}{r^2} \right) = \vec{\nabla} \times \left(\frac{\vec{a} \times \vec{r}}{r^2} \right) = \vec{\nabla} \times (r^{-2} \vec{A})$$

بنابراین داریم:

در آخرین تساوی فرض کرده‌ایم $\vec{a} \times \vec{r} = \vec{A}$ ، یک میدان برداری و r^{-2} یک میدان اسکالر است، می‌توان از اتحاد زیر استفاده کرد:

$$\vec{\nabla} \times (\phi \vec{F}) = \phi (\vec{\nabla} \times \vec{F}) + (\vec{\nabla} \phi) \times \vec{F}$$

طبق این اتحاد داریم:

$$\begin{aligned} \vec{\nabla} \times (r^{-2} \vec{A}) &= r^{-2} (\vec{\nabla} \times \vec{A}) + (\vec{\nabla} r^{-2}) \times \vec{A} = r^{-2} \left[\vec{\nabla} \times (\vec{a} \times \vec{r}) \right] + (\vec{\nabla} r^{-2}) \times (\vec{a} \times \vec{r}) \\ &= r^{-2} \left[(\vec{r} \cdot \vec{\nabla}) \vec{a} - \vec{r} (\vec{\nabla} \cdot \vec{a}) - (\vec{a} \cdot \vec{\nabla}) \vec{r} + \vec{a} (\vec{\nabla} \cdot \vec{r}) \right] + \left[\left(\vec{i} \frac{\partial}{\partial x} + \vec{j} \frac{\partial}{\partial y} + \vec{k} \frac{\partial}{\partial z} \right) r^{-2} \right] \times (\vec{a} \times \vec{r}) \end{aligned}$$

چون \vec{a} برداری ثابت است، بنابراین داریم: $\vec{\nabla} \cdot \vec{a} = 0$ ، $(\vec{r} \cdot \vec{\nabla}) \vec{a} = 0$ ، همچنین به سادگی معلوم است که $\vec{\nabla} \cdot \vec{r} = \frac{\partial x}{\partial x} + \frac{\partial y}{\partial y} + \frac{\partial z}{\partial z} = 3$ و برای محاسبه‌ی

$$(\vec{a} \cdot \vec{\nabla}) \vec{r} = (a_1 \frac{\partial}{\partial x} + a_2 \frac{\partial}{\partial y} + a_3 \frac{\partial}{\partial z}) \vec{r} = a_1 \vec{i} + a_2 \vec{j} + a_3 \vec{k} = \vec{a}$$

فرض کنیم $\vec{a} = a_1 \vec{i} + a_2 \vec{j} + a_3 \vec{k}$ آن‌گاه داریم:

$$\vec{\nabla} \times (\vec{a} \times \vec{\nabla} \log r) = r^{-2} [0 - 0 - \vec{a} + 3\vec{a}] + (-2r^{-3}) \left(\vec{i} \frac{\partial}{\partial x} + \vec{j} \frac{\partial}{\partial y} + \vec{k} \frac{\partial}{\partial z} \right) \times (\vec{a} \times \vec{r})$$

با این جایگذاری‌ها خواهیم داشت:

با توجه به تساوی $r^2 = x^2 + y^2 + z^2$ می‌دانیم که $\frac{\partial r}{\partial x} = \frac{x}{r}$ ، $\frac{\partial r}{\partial y} = \frac{y}{r}$ ، $\frac{\partial r}{\partial z} = \frac{z}{r}$ در نتیجه داریم:

$$\vec{\nabla} \times (\vec{a} \times \vec{\nabla} \log r) = r^{-2} 2\vec{a} + (-2r^{-3}) \left(\frac{x}{r} \vec{i} + \frac{y}{r} \vec{j} + \frac{z}{r} \vec{k} \right) \times (\vec{a} \times \vec{r})$$

از طرفی $\frac{x}{r} \vec{i} + \frac{y}{r} \vec{j} + \frac{z}{r} \vec{k} = \frac{1}{r} (x\vec{i} + y\vec{j} + z\vec{k}) = \frac{1}{r} \vec{r}$ در نتیجه $\vec{\nabla} \times (\vec{a} \times \vec{\nabla} \log r) = r^{-2} 2\vec{a} + (-2r^{-4}) \vec{r} \times (\vec{a} \times \vec{r})$ در نهایت با استفاده از ویژگی‌های

$$\vec{\nabla} \times (\vec{a} \times \vec{\nabla} \log r) = r^{-2} 2\vec{a} - 2r^{-4} [(\vec{r} \cdot \vec{r}) \vec{a} - (\vec{r} \cdot \vec{a}) \vec{r}] = \frac{2\vec{a}}{r^2} - \frac{2\vec{a}}{r^2} + \frac{2(\vec{a} \cdot \vec{r}) \vec{r}}{r^4} = \frac{2(\vec{a} \cdot \vec{r}) \vec{r}}{r^4}$$

ضرب خارجی خواهیم داشت:

کله مثال 2: فرض کنیم \vec{u} و \vec{v} توابع یا مقادیر حقیقی و از کلاس C^2 باشند و \vec{F} یک میدان برداری از کلاس C^2 و $\Delta = \nabla^2$ اپراتور لاپلاس باشد،

(عمران - سراسری 78)

کدام گزینه نادرست است؟

$$\text{div}(u\vec{F}) = u \text{div} \vec{F} + \text{grad} u \cdot \vec{F} \quad (1)$$

$$\text{grad}(uv) = u \text{grad} v + v \text{grad} u \quad (1)$$

$$\text{curl}(u\vec{F}) = u \text{curl} \vec{F} + \text{grad} u \times \vec{F} \quad (4)$$

$$\Delta(uv) = u\Delta v + v\Delta u \quad (3)$$

پاسخ: گزینه «3» گزینه‌های 1، 2 و 4 خواص عملگرهای گرادینان، دیورژانس و کرل می‌باشند. اتحادهای مطرح شده در متن درس را مرور کنید.

کله مثال 3: میدان برداری $\vec{F}(x, y, z) = (x \sin xz, y, xz)$ را در نظر بگیرید. در این صورت $\text{div} \vec{F}$ (دیورژانس \vec{F}) در نقطه $(1, 1, \pi)$ برابر است با

(کامپیوتر - سراسری 80)

$$\text{صفر} \quad (4)$$

$$1 - \pi \quad (3)$$

$$2 - \pi \quad (2)$$

$$1 \quad (1)$$

$$\vec{F} = (x \sin xz, y, xz) \Rightarrow \text{div} \vec{F} = \sin xz + xz \cos xz + 1 + x \left|_{(1, 1, \pi)} = -\pi + 2$$

پاسخ: گزینه «2»



🔗 مثال ۴: با کدام مقادیر a و b تابع $u(x,y) = x^2 + ay^2 + by$ همساز است؟

(مکانیک - سراسری ۸۱)

(۱) $a = b = +1$ (۲) $a = -1$ و b دلخواه (۳) $a = -1$ و فقط $b = 0$ (۴) هیچ مقدار a و b

$$\nabla^2 u = \frac{\partial^2 u}{\partial x^2} + \frac{\partial^2 u}{\partial y^2} + \frac{\partial^2 u}{\partial z^2} = 2 + 2a + 0 = 2 + 2a$$

پاسخ: گزینه «۲»

برای اینکه u همساز باشد، لازم است $\nabla^2 u = 0$ ، در نتیجه $2 + 2a = 0$ پس $a = -1$.

🔗 مثال ۵: اگر $\vec{V} = \vec{i} \frac{\partial}{\partial x} + \vec{j} \frac{\partial}{\partial y} + \vec{k} \frac{\partial}{\partial z}$ و \vec{j} و \vec{i} بردارهای یکه «معمول» و u یک تابع اسکالر از متغیرهای مستقل (x,y,z) و \vec{v} یک بردار و تابعی از (x,y,z) و نقطه بین دو بردار، به معنی ضرب داخلی بین آن دو باشند، عبارت $\vec{V} \cdot (u\vec{v})$ به کدام عبارت زیر ساده می‌شود؟

(مکانیک - آزاد ۸۱)

(۱) $\vec{V} \cdot (\vec{V} \cdot \vec{v}) - \nabla^2 \vec{v}$ (۲) $(\vec{v} \cdot \vec{V})u - u\vec{v}$ (۳) $\vec{V}u \cdot \vec{v} + u\vec{V} \cdot \vec{v}$ (۴) $u\vec{V} \times \vec{v} + \vec{V}u \times \vec{v}$ (× به معنی ضرب خارجی بین دو بردار)

پاسخ: گزینه «۳» این اتحاد در متن درسنامه اثبات شده است.

🔗 مثال ۶: اگر $\vec{B} = xy^2\vec{i} + 2x^2yz\vec{j} - 3yz^2\vec{k}$ در این صورت مقدار $\text{curl} \vec{B}$ در نقطه $(1,0,1)$ برابر است با

(کامپیوتر - سراسری ۸۱)

(۱) $(-3, 0, 0)$ (۲) $(-3, 0, 1)$ (۳) $(-3, 1, 0)$ (۴) $(-3, 0, -1)$

پاسخ: گزینه «۱»

$$\text{curl} \vec{B} = \begin{vmatrix} \vec{i} & \vec{j} & \vec{k} \\ \frac{\partial}{\partial x} & \frac{\partial}{\partial y} & \frac{\partial}{\partial z} \\ xy^2 & 2x^2yz & -3yz^2 \end{vmatrix} = (-3z^2 - 2x^2y, 0, 4xyz - 2xy) \Big|_{(1,0,1)} = (-3, 0, 0)$$

🔗 مثال ۷: اگر $\vec{F}(x,y,z) = (3x^2 + y^2)\vec{i} + 2xy\vec{j} - 2z^2\vec{k}$ آن‌گاه مقدار $\text{curl} \vec{F}$ کدام است؟

(هسته‌ای - سراسری ۸۱)

(۱) بردار صفر (۲) $\vec{i} + \vec{j} + \vec{k}$ (۳) $6x\vec{i} + 2y\vec{j} - 4z\vec{k}$ (۴) $(2y - 6z)\vec{i} + \vec{j} - \vec{k}$

پاسخ: گزینه «۱» به راحتی می‌توان دید $\text{curl} \vec{F} = 0$ به دست می‌آید.

🔗 مثال ۸: اگر $\vec{F}(x,y) = y^2\vec{i} + x^2\vec{j}$ ، آن‌گاه $\text{div} \vec{F}$ و $\text{curl} \vec{F}$ به ترتیب کدام‌اند؟

(معدن - سراسری ۸۱)

(۱) صفر و $2(x+y)\vec{k}$ (۲) صفر و $2(x-y)\vec{k}$ (۳) غیر صفر و $2(x+y)\vec{k}$ (۴) غیر صفر و $2(x-y)\vec{k}$

$$\vec{F} = y^2\vec{i} + x^2\vec{j} \Rightarrow \text{div} \vec{F} = \frac{\partial(y^2)}{\partial x} + \frac{\partial(x^2)}{\partial y} = 0 + 0 = 0$$

پاسخ: گزینه «۲»

$$\text{curl} \vec{F} = \begin{vmatrix} \vec{i} & \vec{j} & \vec{k} \\ \frac{\partial}{\partial x} & \frac{\partial}{\partial y} & \frac{\partial}{\partial z} \\ y^2 & x^2 & 0 \end{vmatrix} = (2x - 2y)\vec{k}$$

🔗 مثال ۹: کدامیک از میدان‌های زیر گرادیان یک تابع است؟

(کامپیوتر - سراسری ۸۲)

(۱) $\cos xy\vec{i} + \sin xy\vec{j}$ (۲) $e^{xy} \cos xy(y\vec{i} + x\vec{j})$ (۳) $ye^{xy} \cos xy\vec{i} + xe^{xy} \sin xy\vec{j}$ (۴) $ye^{xy} (\cos xy + \sin xy)\vec{i} + xe^{xy} (\cos xy + \sin xy)\vec{j}$

پاسخ: گزینه «۴» برای اینکه میدان \vec{F} ، گرادیان یک تابع باشد، لازم است که میدان \vec{F} پایستار باشد یعنی $\text{curl} \vec{F} = 0$ پس برای

$$\frac{\partial F_y}{\partial x} = \frac{\partial F_x}{\partial y} \quad \text{میدان } \vec{F} = F_x\vec{i} + F_y\vec{j} \text{ باید داشته باشیم:}$$

$$\frac{\partial F_y}{\partial x} = e^{xy} (\cos xy + \sin xy) + xye^{xy} (\cos xy + \sin xy) + xe^{xy} (-y \sin xy + y \cos xy) = e^{xy} (\cos xy + \sin xy + 2xy \cos xy)$$

$$\frac{\partial F_x}{\partial y} = e^{xy} (\cos xy + \sin xy) + xye^{xy} (\cos xy + \sin xy) + ye^{xy} (-x \sin xy + x \cos xy) = e^{xy} (\cos xy + \sin xy + 2xy \cos xy)$$

(هسته‌ای - سراسری ۸۲)

کج مثال ۱۰: اگر $\vec{A} = A_1\vec{i} + A_2\vec{j} + A_3\vec{k}$ مقدار $\text{div}(\text{curl}\vec{A})$ کدام است؟

(۴) $A_1\vec{i} + A_2\vec{j} + A_3\vec{k}$

(۳) $A_1^2 + A_2^2 + A_3^2$

(۲) $A_1 + A_2 + A_3$

(۱) ۰

پاسخ: گزینه «۱» ✓

روش اول: طبق متن درس می‌دانیم که $\text{div}(\text{curl}\vec{A}) = 0$ است.

روش دوم: (محاسبه‌ی مستقیم) توجه داشته باشید که A_1, A_2, A_3 را ثابت در نظر نگیرید. ابتدا $\text{curl}\vec{A}$ را می‌نویسیم:

$$\text{curl}\vec{A} = \begin{vmatrix} \vec{i} & \vec{j} & \vec{k} \\ \frac{\partial}{\partial x} & \frac{\partial}{\partial y} & \frac{\partial}{\partial z} \\ A_1 & A_2 & A_3 \end{vmatrix} = \left(\frac{\partial A_3}{\partial y} - \frac{\partial A_2}{\partial z} - \frac{\partial A_3}{\partial x} + \frac{\partial A_1}{\partial z}, \frac{\partial A_2}{\partial x} - \frac{\partial A_1}{\partial y} \right)$$

حالا از این میدان برداری، دیورژانس می‌گیریم:

$$\text{div}(\text{curl}\vec{A}) = \frac{\partial}{\partial x} \left(\frac{\partial A_3}{\partial y} - \frac{\partial A_2}{\partial z} \right) + \frac{\partial}{\partial y} \left(-\frac{\partial A_3}{\partial x} + \frac{\partial A_1}{\partial z} \right) + \frac{\partial}{\partial z} \left(\frac{\partial A_2}{\partial x} - \frac{\partial A_1}{\partial y} \right) = \frac{\partial^2 A_3}{\partial x \partial y} - \frac{\partial^2 A_2}{\partial x \partial z} - \frac{\partial^2 A_3}{\partial x \partial y} + \frac{\partial^2 A_1}{\partial y \partial z} + \frac{\partial^2 A_2}{\partial z \partial x} - \frac{\partial^2 A_1}{\partial z \partial y} = 0$$

(هسته‌ای - سراسری ۸۲)

کج مثال ۱۱: اگر $\phi = 2x^2y - xz^3$ باشد آن‌گاه $\nabla^2\phi$ برابر است با:

(۴) $4 - 6xz$

(۳) $4y - 3xz$

(۲) $4x - 6xz$

(۱) $4y - 6xz$

$$\phi = 2x^2y - xz^3 \Rightarrow \nabla^2\phi = \frac{\partial^2\phi}{\partial x^2} + \frac{\partial^2\phi}{\partial y^2} + \frac{\partial^2\phi}{\partial z^2} = 4y + 0 - 6xz = 4y - 6xz$$

پاسخ: گزینه «۱» ✓

(عمران - آزاد ۸۳)

کج مثال ۱۲: کرل بردار $\vec{I} = 3x^2y\vec{i} + 7xz\vec{j} + 4zy\vec{k}$ در نقطه $(1, 2, 3)$ برابر است با:

(۴) $6\vec{i} + 18\vec{k}$

(۳) صفر

(۲) $5\vec{i} + 18\vec{k}$

(۱) $5\vec{i} + 19\vec{k}$

$$\text{curl}\vec{I} = \begin{vmatrix} \vec{i} & \vec{j} & \vec{k} \\ \frac{\partial}{\partial x} & \frac{\partial}{\partial y} & \frac{\partial}{\partial z} \\ 3x^2y & 7xz & 4yz \end{vmatrix} = (4z - 7x, 0, 7z - 3x^2) \Big|_{(1, 2, 3)} = (5, 0, 18)$$

پاسخ: گزینه «۲» ✓

(عمران - آزاد ۸۳)

کج مثال ۱۳: کدامیک از جملات زیر نادرست است؟

(۲) کرل گرادیان صفر است.

(۱) گرادیان یک میدان اسکالر دارای خاصیت خطی است.

(۴) دیورژانس یک میدان برداری با تغییر محورهای مختصات تغییر می‌کند.

(۳) دیورژانس کرل صفر است.

پاسخ: گزینه «۴» ✓ جمله‌ی درستی است. مفهوم خطی بودن گرادیان آن است که اگر f و g دو میدان اسکالر (توابع حقیقی) و c عددی حقیقی باشد، داریم:

$$\text{grad}(cf + g) = c\text{grad}(f) + \text{grad}(g)$$

گزینه‌های (۲) و (۳) هم جزء اتحادهای معروفی هستند که در متن درس آمده‌اند.

در مورد گزینه‌ی (۴) به یاد داشته باشید که کرل و دیورژانس با تغییر محورهای مختصات یا با انتقال مبدأ مختصات به یک نقطه‌ی دیگر تغییری نمی‌کنند.

کج مثال ۱۴: برای اینکه میدان برداری $\vec{F}(x, y, z) = (a_1x + a_2y + a_3z)\vec{i} + (b_1x + b_2y + b_3z)\vec{j} + (c_1x + c_2y + c_3z)\vec{k}$ غیر چرخشی باشد، لازم و کافی

(هسته‌ای - سراسری ۸۳)

است که:

(۴) $a_2 = b_1$ و $a_3 = c_1$ و $b_2 = c_2$ (۳) $a_2 = b_1$ و $a_3 = c_1$ و $b_2 = c_2$ (۲) $a_2 = b_1$ و $a_3 = c_1$ و $b_3 = c_2$ (۱) $a_2 = b_2$ و $a_3 = c_1$ و $b_3 = c_2$

پاسخ: گزینه «۴» ✓ برای اینکه میدان \vec{F} غیر چرخشی باشد، لازم است $\text{curl}\vec{F} = 0$ ، بنابراین داریم:

$$\begin{vmatrix} \vec{i} & \vec{j} & \vec{k} \\ \frac{\partial}{\partial x} & \frac{\partial}{\partial y} & \frac{\partial}{\partial z} \\ a_1x + a_2y + a_3z & b_1x + b_2y + b_3z & c_1x + c_2y + c_3z \end{vmatrix} = (c_2 - b_3, a_3 - c_1, b_1 - a_2)$$

برای اینکه $\text{curl}\vec{F} = 0$ باشد، لازم است $b_1 = a_2, a_3 = c_1, c_2 = b_3$ باشد.



(علوم کامپیوتر - سراسری ۸۴)

کله مثال ۱۵: اگر $\vec{F}(x,y,z) = x^2y\vec{i} + 2xz\vec{j} - 3yz\vec{k}$ آن گاه:

$\text{div}(\text{curl}\vec{F}) = xy$ (۴)

$\text{curl}(\text{curl}\vec{F}) = (2x-3)\vec{j}$ (۳)

$\text{div}(\text{curl}\vec{F}) = y$ (۲)

$\text{curl}(\text{curl}\vec{F}) = \vec{0}$ (۱)

پاسخ: گزینه «۳»

$$\text{curl}\vec{F} = \begin{vmatrix} \vec{i} & \vec{j} & \vec{k} \\ \frac{\partial}{\partial x} & \frac{\partial}{\partial y} & \frac{\partial}{\partial z} \\ x^2y & 2xz & -3yz \end{vmatrix} = (-3z-2x)\vec{i} + (2z-x^2)\vec{k} \Rightarrow \text{curl}\vec{F} = \begin{vmatrix} \vec{i} & \vec{j} & \vec{k} \\ \frac{\partial}{\partial x} & \frac{\partial}{\partial y} & \frac{\partial}{\partial z} \\ -3z-2x & 0 & 2z-x^2 \end{vmatrix} = (2x-3)\vec{j}$$

کله مثال ۱۶: اگر $\vec{F}(x,y,z) = \frac{m}{r^3}(x\vec{i} + y\vec{j} + z\vec{k})$ ، که در آن $m > 0$ ثابت و $r^2 = x^2 + y^2 + z^2$ ، آن گاه $\text{div}\vec{F} = \nabla \cdot \vec{F}$ در نقاط $r \neq 0$ کدام است؟

(معدن - سراسری ۸۴)

$-\frac{4m}{r^3}$ (۴)

$\frac{6m}{r^2}$ (۳)

$-\frac{m}{r^2}$ (۲)

صفر (۱)

پاسخ: گزینه «۱»

$$F_1 = \frac{mx}{(x^2+y^2+z^2)^{\frac{3}{2}}} \Rightarrow \frac{\partial F_1}{\partial x} = \frac{m(x^2+y^2+z^2)^{\frac{3}{2}} - 3mx^2(x^2+y^2+z^2)^{\frac{1}{2}}}{(x^2+y^2+z^2)^3} = \frac{m(x^2+y^2+z^2) - 3mx^2}{(x^2+y^2+z^2)^{\frac{5}{2}}} = \frac{mr^2 - 3mx^2}{r^5}$$

به طور مشابه $\frac{\partial F_1}{\partial y}$ و $\frac{\partial F_1}{\partial z}$ به دست می‌آیند. در این صورت داریم:

$$\text{div}\vec{F} = \frac{mr^2 - 3mx^2}{r^5} + \frac{mr^2 - 3my^2}{r^5} + \frac{mr^2 - 3mz^2}{r^5} = \frac{3mr^2 - 3m(x^2+y^2+z^2)}{r^5} = 0$$

(ریاضی - سراسری ۸۴)

کله مثال ۱۷: حاصل $\nabla \times (\nabla u)$ کدام است؟

$|u|^2$ (۴)

$|u|$ (۳)

۱ (۲)

صفر (۱)

$\nabla \times (\nabla u) = \text{curl}(\text{grad}(u)) = \vec{0}$

پاسخ: گزینه «۱» این اتحاد در متن درسنامه ثابت شده است.

(معدن - سراسری ۸۶)

کله مثال ۱۸: اگر $f(x,y,z) = xyz + e^{xz}$ ، آن گاه حاصل $\text{div}(\text{grad}f)$ برابر است با:

$(x^2+z^2)e^{xz}$ (۴)

$(x+z)e^{xz}$ (۳)

$(z^2+y^2)e^{zy}$ (۲)

$(x^2+y^2)e^{xy}$ (۱)

$f(x,y,z) = xyz + e^{xz} \Rightarrow \text{grad}f = (yz + ze^{xz}, xz, xy + xe^{xz})$

پاسخ: گزینه «۴»

$\text{div}(\text{grad}f) = z^2e^{xz} + x^2e^{xz} = (x^2+z^2)e^{xz}$

کله مثال ۱۹: می‌دانیم تابع برداری \vec{X} به صورت $\vec{X} = (2xz^2 - 2xz^2, 3x^2y + y^2 - yz^2, 4zx^2 + 2zy^2)$ تعریف شده. $\text{curl}\vec{X}$ مساوی کدامیک از عبارات داده شده است؟

(معدن - سراسری ۸۶)

$6zy\vec{i} - 12xz\vec{j} - 6xy\vec{k}$ (۴)

$6zy\vec{i} + 12xz\vec{j} - 6xy\vec{k}$ (۳)

$6zy\vec{i} + 12xz\vec{j} + 6xy\vec{k}$ (۲)

$6zy\vec{i} - 12xz\vec{j} + 6xy\vec{k}$ (۱)

پاسخ: گزینه «۱»

$$\text{curl}\vec{X} = \begin{vmatrix} \vec{i} & \vec{j} & \vec{k} \\ \frac{\partial}{\partial x} & \frac{\partial}{\partial y} & \frac{\partial}{\partial z} \\ 2xz^2 - 2xz^2 & 3x^2y + y^2 - yz^2 & 4zx^2 + 2zy^2 \end{vmatrix} = (6yz, -12xz, 6xy)$$

مثال ۲۰: کدام میدان یک میدان گرادیان است؟

(صنایع سیستم - سراسری ۸۷)

(۱) $\vec{F}(x, y) = (xy, y)$ (۲) $\vec{F}(x, y) = (4x + y, x + 2y)$ (۳) $\vec{F}(x, y) = (xy, 2x - y)$ (۴) $\vec{F}(x, y) = (xy + 2, 2x + y)$

پاسخ: گزینه «۲» می‌دانیم میدان $\vec{F} = (F_1, F_2)$ ابقایی است اگر $\frac{\partial F_1}{\partial y} = \frac{\partial F_2}{\partial x}$ باشد که فقط گزینه ۲ این ویژگی را دارد.

$$F_1 = 4x + y \Rightarrow \frac{\partial F_1}{\partial y} = 1, \quad F_2 = x + 2y \Rightarrow \frac{\partial F_2}{\partial x} = 1$$

(معماری کشتی - سراسری ۸۸)

مثال ۲۱: اگر $\vec{F} = r\vec{i} + \theta\vec{j} + z\vec{k}$ ، آن‌گاه مقدار $\vec{\nabla} \times \vec{F} = \text{curl}(\vec{F})$ کدام است؟

(۱) $\vec{0}$ (۲) $\sin \theta \vec{k}$ (۳) $\vec{i} + \vec{j} + \vec{k}$ (۴) $(\frac{-1}{r} \sin \theta - \sin \theta) \vec{k}$

پاسخ: گزینه «۴» با توجه به اینکه $\theta = \text{tg}^{-1} \frac{y}{x}$ و $r = \sqrt{x^2 + y^2}$ ، پس خواهیم داشت:

$$\vec{\nabla} \times \vec{F} = \begin{vmatrix} \vec{i} & \vec{j} & \vec{k} \\ \frac{\partial}{\partial x} & \frac{\partial}{\partial y} & \frac{\partial}{\partial z} \\ r & \theta & z \end{vmatrix} = \underbrace{\left(\frac{\partial z}{\partial y} - \frac{\partial \theta}{\partial z} \right)}_{\text{صفر}} \vec{i} - \underbrace{\left(\frac{\partial z}{\partial x} - \frac{\partial r}{\partial z} \right)}_{\text{صفر}} \vec{j} + \left(\frac{\partial \theta}{\partial x} - \frac{\partial r}{\partial y} \right) \vec{k}$$

$$\theta = \text{tg}^{-1} \frac{y}{x} \Rightarrow \frac{\partial \theta}{\partial x} = \frac{-\frac{y}{x^2}}{1 + \frac{y^2}{x^2}} = \frac{-y}{x^2 + y^2} = \frac{-r \sin \theta}{r^2} = \frac{-1}{r} \sin \theta$$

$$r = \sqrt{x^2 + y^2} \Rightarrow \frac{\partial r}{\partial y} = \frac{2y}{2\sqrt{x^2 + y^2}} = \frac{y}{r} = \sin \theta$$

بنابراین $\vec{\nabla} \times \vec{F} = \left(\frac{\partial \theta}{\partial x} - \frac{\partial r}{\partial y} \right) \vec{k}$ از طرفی داریم:

مثال ۲۲: میدان برداری $\vec{F} = [\alpha(x) - \beta(y) + \alpha(x)\beta(y)]\vec{i} + [\alpha(y) - \beta(x) + \alpha(y)\beta(x)]\vec{j}$ در \mathbb{R}^2 در کدام حالت لزوماً یک میدان گرادیان است؟

(ریاضی - سراسری ۸۹)

(۱) α تابعی خطی و β تابعی مشتق پذیر باشد. (۲) α تابعی خطی و β تابعی مشتق پذیر باشد.
(۳) α تابعی ثابت و β تابعی پیوسته باشد. (۴) β تابعی خطی و α تابعی ثابت باشد.

پاسخ: گزینه «۴» اگر β تابع خطی باشد آن را می‌توانیم به صورت $\beta(x) = ax + b$ و α تابع ثابت باشد آن را به صورت $\alpha(x) = c$ در نظر می‌گیریم در این صورت \vec{F} به صورت زیر در می‌آید:

$$\vec{F} = (c - (ay + b) + c(ay + b))\vec{i} + (c - (ax + b) + c(ax + b))\vec{j} \Rightarrow \frac{\partial F_x}{\partial x} = -a + ac, \quad \frac{\partial F_x}{\partial y} = -a + ac$$

چون $\frac{\partial F_x}{\partial x} = \frac{\partial F_x}{\partial y}$ است، پس میدان \vec{F} حتماً یک میدان گرادیان است.

(علوم کامپیوتر - سراسری ۸۹)

مثال ۲۳: اگر $z = x^2 \sin y + y^2 \sin x$ ، آن‌گاه $\nabla^2 z$ برابر است با:

(۱) $(2 + x^2) \sin y + (2 + y^2) \sin x$ (۲) $(2 - x^2) \sin y + (2 - y^2) \sin x$
(۳) $(2 + x^2) \cos y + (2 + y^2) \cos x$ (۴) $(2 - x^2) \cos y + (2 - y^2) \cos x$

پاسخ: گزینه «۲» داریم $\nabla^2 z = \frac{\partial^2 z}{\partial x^2} + \frac{\partial^2 z}{\partial y^2}$ بنابراین از $z = x^2 \sin y + y^2 \sin x$ نتیجه می‌شود:

$$\begin{cases} \frac{\partial z}{\partial x} = 2x \sin y + y^2 \cos x \Rightarrow \frac{\partial^2 z}{\partial x^2} = 2 \sin y - y^2 \sin x \\ \frac{\partial z}{\partial y} = x^2 \cos y + 2y \sin x \Rightarrow \frac{\partial^2 z}{\partial y^2} = -x^2 \sin y + 2 \sin x \end{cases} \Rightarrow \frac{\partial^2 z}{\partial x^2} + \frac{\partial^2 z}{\partial y^2} = (2 - x^2) \sin y + (2 - y^2) \sin x$$

(ژئوفیزیک و هواشناسی - سراسری ۸۹)

مثال ۲۴: اگر $\vec{F} = F_1\vec{i} + F_2\vec{j}$ یک میدان برداری روی \mathbb{R}^2 باشد، آن‌گاه $\text{div}(\vec{\nabla} \times \vec{F})$ برابر است با:

صفر (۱) $\frac{\partial F_1}{\partial x^2} - \frac{\partial^2 F_2}{\partial y^2}$ (۲) $\frac{\partial F_1}{\partial x^2} - \frac{\partial^2 F_2}{\partial y^2}$ (۳) $\frac{\partial^2 F_1}{\partial x^2} + \frac{\partial^2 F_2}{\partial y^2}$ (۴) $\frac{\partial^2 F_1}{\partial x^2} - \frac{\partial^2 F_2}{\partial y^2}$

پاسخ: گزینه «۱» به طور کلی اگر F یک میدان برداری با مشتقات جزئی مرتبه دوم پیوسته باشد، آن‌گاه:

$$\text{div}(\text{curl} \vec{F}) = 0$$



درسنامه ۷: نقاط بحرانی توابع چند متغیره

کج مثال ۱: نقطه $P(0,0)$ برای تابع $z = -\sqrt{x^2 + xy + y^2}$ چگونه نقطه‌ای است؟

- (۱) مینیمم (۲) ماکزیمم (۳) زینی (۴) عادی

پاسخ: گزینه «۲» با توجه به این که $\nabla z = \left(\frac{-(2x+y)}{2\sqrt{x^2+xy+y^2}}, \frac{-(x+2y)}{2\sqrt{x^2+xy+y^2}} \right)$ پس در نقطه P ، ∇z وجود ندارد، یعنی P نقطه بحرانی

است. از طرفی مقدار تابع z همواره منفی است و در نقطه $P(0,0)$ مقدار تابع z برابر صفر است، پس نقطه P نقطه ماکزیمم تابع است.

کج مثال ۲: نقطه‌ی بحرانی تابع $z = -2x^2 - y^2 + 2x + 2y$ کدام است و نوع نقطه چیست؟

- (۱) $\left(\frac{3}{2}, \frac{1}{2}\right)$ مینیمم (۲) $\left(\frac{1}{2}, \frac{3}{2}\right)$ ماکزیمم (۳) $\left(\frac{3}{2}, \frac{1}{2}\right)$ ماکزیمم (۴) $\left(\frac{1}{2}, \frac{3}{2}\right)$ مینیمم

پاسخ: گزینه «۲» ابتدا نقطه‌ی بحرانی تابع را از حل معادلات $\frac{\partial z}{\partial x} = 0$ و $\frac{\partial z}{\partial y} = 0$ به دست می‌آوریم و سپس طبق آزمون مشتق دوم نوع نقطه‌ی

بحرانی را مشخص می‌کنیم.

$$\begin{cases} \frac{\partial z}{\partial x} = -4x + 2 = 0 \Rightarrow x = \frac{1}{2}, \frac{\partial^2 z}{\partial x^2} = -4 < 0, \frac{\partial z}{\partial x \partial y} = 0 \\ \frac{\partial z}{\partial y} = -2y + 2 = 0 \Rightarrow y = \frac{1}{2}, \frac{\partial^2 z}{\partial y^2} = -2, \Delta = z_{xx} \cdot z_{yy} - z_{xy}^2 = (-4)(-2) = 8 \end{cases}$$

چون Δ مثبت و $\frac{\partial^2 z}{\partial x^2}$ منفی می‌باشد پس نقطه $\left(\frac{1}{2}, \frac{3}{2}\right)$ ماکزیمم است.

کج مثال ۳: تابع $z = x^2 - xy + y^2 - 3x$ دارای چه نوع نقطه‌ای می‌باشد؟

- (۱) زینی (۲) مینیمم (۳) ماکزیمم (۴) همه‌ی نقاط آن، عادی هستند.

پاسخ: گزینه «۲» با حل دستگاه $\begin{cases} z_x = 2x - y - 3 = 0 \\ z_y = -x + 2y = 0 \end{cases}$ متوجه می‌شویم که نقطه‌ی $(2, 1)$ یک نقطه‌ی بحرانی است. برای تعیین نوع نقطه‌ی

بحرانی طبق آزمون مشتق دوم لازم است مبین را به دست آوریم. $\Delta = z_{xx} \cdot z_{yy} - z_{xy}^2 = 2 \times 2 - (-1)^2 = 3 > 0$

چون Δ مثبت و z_{xx} نیز مثبت است پس نقطه‌ی بحرانی تابع، نقطه‌ی مینیمم می‌باشد.

کج مثال ۴: اگر $f(x, y) = x^2y - y^2 - x^2 + xy$ ، کدام گزینه صحیح است؟

- (۱) $(0, 0)$ نقطه بحرانی نیست (۲) $(0, 0)$ یک نقطه زینی است (۳) $(0, 0)$ مینیمم نسبی است (۴) $(0, 0)$ ماکزیمم نسبی است

پاسخ: گزینه «۲» ابتدا نقاط بحرانی f را به دست می‌آوریم:

$$\begin{cases} f_x = 2xy - 2x + y = 0 \\ f_y = x^2 - 2y + x = 0 \end{cases} \Rightarrow A(0, 0) \rightarrow \text{نقطه بحرانی می‌باشد}$$

$$\begin{cases} f_{xx} = 2y - 2 \\ f_{yy} = -2 \\ f_{xy} = 2x + 1 \end{cases} \Rightarrow \Delta(0, 0) = 0 - (-1)^2 = -1 < 0 \rightarrow \text{نقطه زینی}$$

کله مثال ۵: فرض کنید $f(x,y) = x^2 + y^2 + x^m + x^n - cx^m y^n$ که در آن m و n اعداد صحیح بزرگتر از ۲ هستند و c یک عدد حقیقی ثابت است. کدام یک از احکام زیر درست است؟

(۱) نقطه $(0,0)$ یک نقطه مینیمم موضعی برای f است.

(۲) اگر دست کم یکی از m و n فرد باشد، $(0,0)$ یک نقطه زینی برای f است.

(۳) اگر c صفر نباشد، نقطه $(0,0)$ یک نقطه زینی برای f است.

(۴) اگر m و n هر دو فرد باشند، $(0,0)$ یک نقطه ماکسیمم موضعی برای f است.

پاسخ: گزینه «۱» برای تعیین نوع نقطه $(0,0)$ مبین را تشکیل می‌دهیم:

$$f_x = 2x + mx^{m-1} + nx^{n-1} - cmx^{m-1}y^n \quad \text{و} \quad f_y = 2y - cnx^m y^{n-1} \Rightarrow f_{xy} = -cmnx^{m-1}y^{n-1}$$

$$f_{xx} = 2 + m(m-1)x^{m-2} + n(n-1)x^{n-2} - cm(m-1)x^{m-2}y^n \quad \text{و} \quad f_{yy} = 2 - cn(n-1)x^m y^{n-2}$$

چون $m, n > 2$ پس در نقطه $(0,0)$ داریم: $f_{xx} = 2 > 0$ و $f_{yy} = 2 > 0$ و $f_{xy} = 0$ مینیمم نسبی است. $\Delta = f_{xx} \cdot f_{yy} - f_{xy}^2 = 2 \times 2 - 0 = 4 > 0$

کله مثال ۶: مقدار ماکزیمم تابع $w = 2x + y + 2z$ با شرط $x^2 + y^2 + z^2 = 36$ چقدر است؟

(۴) ۳۶

(۳) ۲۴

(۲) ۱۸

(۱) ۱۲

$$\begin{cases} x^2 + y^2 + z^2 - 36 = 0 & (1) \\ \frac{2}{2x} = \frac{1}{2y} = \frac{2}{2z} & (2) \end{cases}$$

پاسخ: گزینه «۲» برای حل این مثال از روش لاگرانژ ساده شده استفاده می‌کنیم:

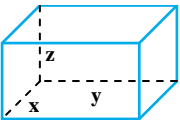
از معادله (۲)، (با طرفین وسطین) نتیجه می‌شود $x = z = 2y$. بنابراین در معادله (۱)، به جای x و z قرار می‌دهیم $2y$. در این صورت معادله (۱) به صورت

$$(2y)^2 + y^2 + (2y)^2 - 36 = 0 \Rightarrow 9y^2 = 36 \Rightarrow y = \pm 2$$

مقابل در می‌آید:

به ازای $y = 2$ ، $x = z = 4$ به دست می‌آید یعنی به نقطه $A(4, 2, 4)$ می‌رسیم. به ازای $y = -2$ ، $x = z = -4$ به دست می‌آید یعنی به نقطه $B(-4, -2, -4)$ می‌رسیم، در نقطه A مقدار w برابر ۱۸ و در نقطه B مقدار w برابر -۱۸ به دست می‌آید.

کله مثال ۷: مطابق شکل می‌خواهیم یک استخر روباز به شکل مکعب با حجم ۳۲ متر مکعب بسازیم. ابعاد این استخر برای اینکه کمترین مصالح ساختمانی در ساخت آن مصرف شود، کدام مقادیر باید باشد؟



(۲) $x = 2, y = 16, z = 1$

(۱) $x = 4, y = 2, z = 4$

(۴) $z = 4, x = 2, y = 4$

(۳) $x = 4, y = 4, z = 2$

پاسخ: گزینه «۳» برای اینکه کمترین مقدار مصالح مصرف شود باید مساحت آن مینیمم شود. از طرفی مساحت این استخر با توجه به اینکه روباز است به صورت $S = xy + 2yz + 2zx$ قابل بیان است. لذا با شرط $V = xyz = 32$ باید S مینیمم گردد:

$$\begin{cases} y + 2z = \lambda(yz) & (1) \\ x + 2z = \lambda(xz) & (2) \\ 2y + 2x = \lambda(xy) & (3) \end{cases}$$

رابطه (۱) را در x و رابطه (۲) را در y ضرب کرده و از هم کم کنیم، داریم:

به همین ترتیب از ترکیب روابط (۱) و (۳) خواهیم داشت $x = 2z$ و $y = 4$ ، لذا داریم: $x = 2z$ و $y = 4$ ، $V = xyz = 2z \times 2z \times z \Rightarrow 32 = 4z^3 \Rightarrow z^3 = 8 \Rightarrow z = 2 \Rightarrow x = 4, y = 4$

کله مثال ۸: فاصله نزدیکترین و دورترین نقاط روی کره $x^2 + y^2 + z^2 = 9$ از نقطه $P(4, 3, 12)$ چقدر است؟

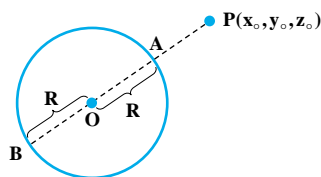
(۴) ۱۶ و ۶

(۳) ۸ و ۹

(۲) ۱۶ و ۱۰

(۱) ۱۵ و ۹

پاسخ: گزینه «۲»



روش اول: با توجه به شکل مقابل اگر شعاع کره و O مرکز کره و P نقطه‌ای دلخواه درون یا بیرون کره باشد، بیشترین فاصله نقطه P از کره برابر BP یا همان $OP + R$ و کمترین فاصله نقطه از کره

$AP = |OP - R|$ است. در این سؤال شعاع کره برابر ۳ و $OP = \sqrt{4^2 + 3^2 + 12^2} = 13$ است، بنابراین

کمترین فاصله $10 = 13 - 3$ و بیشترین فاصله $16 = 13 + 3$ است.

روش دوم: فاصله نقطه دلخواه مانند (x, y, z) روی سطح کره از نقطه $(4, 3, 12)$ برابر $\sqrt{(x-4)^2 + (y-3)^2 + (z-12)^2}$ می‌باشد، یعنی می‌خواهیم عبارت

$\sqrt{(x-4)^2 + (y-3)^2 + (z-12)^2}$ را تحت قید $x^2 + y^2 + z^2 = 9$ بهینه کنیم که در این صورت می‌توانیم از روش لاگرانژ استفاده کنیم که طولانی خواهد بود.



کلمه مثال ۹: حداقل فاصله تلاقی دو سطح $z = xy + 5$ و $x + y + z = 1$ از مبدأ مختصات برابر است با:

- ۱ (۳) ۲ (۴) ۳ (۱) ۴ (۲)

پاسخ: گزینه «۱» تابعی که فاصله از مبدأ مختصات را حساب می‌کند، تابع $f(x, y, z) = \sqrt{x^2 + y^2 + z^2}$ است. البته برای راحتی بیشتر ابتدا تابع $F(x, y, z) = x^2 + y^2 + z^2$ را در نظر می‌گیریم و در پایان از جواب به دست آمده رادیکال می‌گیریم. پس ما می‌خواهیم کمترین مقدار تابع F را با وجود دو قید $g_1: x + y + z = 1$ و $g_2: z - xy = 5$ به دست آوریم. ابتدا از معادله g_1 داریم $z = 1 - x - y$ که با جایگذاری در فرمول F به تابع دو متغیره $F(x, y) = x^2 + y^2 + (1 - x - y)^2$ می‌رسیم. همچنین این رابطه را در قید دوم جایگذاری می‌کنیم و به شرط $h(x, y) = xy + x + y + 4 = 0$ خواهیم رسید. اکنون تابع $F(x, y) = 2x^2 + 2y^2 + 2xy - 2x - 2y + 1$ و قید $h(x, y) = xy + x + y + 4 = 0$ را داریم. از روش ضرایب لاگرانژ برای یک قید استفاده می‌کنیم.

$$\vec{\nabla} F = \lambda \vec{\nabla} h \Rightarrow \begin{cases} 4x + 2y - 2 = \lambda(y + 1) & (1) \\ 4y + 2x - 2 = \lambda(x + 1) & (2) \\ xy + x + y + 4 = 0 & (3) \end{cases}$$

$$\text{کم کردن رابطه (1) و (2)} \Rightarrow 2(x - y) = \lambda(y - x) \Rightarrow (y - x)(\lambda + 2) = 0 \Rightarrow y = x \text{ یا } \lambda = -2$$

اگر $y = x$ از رابطه (۳) داریم $x^2 + 2x + 4 = 0$ که چون $\Delta = 4 - 16 = -12 < 0$ پس فاقد جواب است. اگر $\lambda = -2$ با جایگذاری در رابطه (۱) داریم $x = -y$ و لذا از رابطه (۳) داریم $-x^2 + 4 = 0$ پس $x = \pm 2$ و بنابراین $y = \mp 2$ که با جایگذاری در $F(x, y)$ عدد ۹ برای کمترین مقدار F به دست می‌آید و لذا حداقل فاصله یعنی کمترین مقدار f برابر ۳ است.

کلمه مثال ۱۰: کمترین و بیشترین فاصله مبدأ مختصات از منحنی $x^2 + xy + y^2 = 9$ چقدر است؟

- ۱) کمترین $\sqrt{3}$ و بیشترین $2\sqrt{3}$ ۲) کمترین $\sqrt{6}$ و بیشترین $3\sqrt{2}$ ۳) کمترین $3\sqrt{2}$ و بیشترین $6\sqrt{2}$ ۴) کمترین $\frac{2\sqrt{3}}{3}$ و بیشترین $3\sqrt{2}$

پاسخ: گزینه «۲» معادله داده شده در مختصات قطبی به صورت زیر در می‌آید:

$$r^2 + r^2 \sin \theta \cos \theta = 9 \Rightarrow r^2 = \frac{9}{1 + \sin \theta \cos \theta} = \frac{9}{1 + \frac{1}{2} \sin 2\theta} = \frac{18}{2 + \sin 2\theta}$$

با توجه به اینکه فاصله از مبدأ در مختصات قطبی برابر r می‌باشد، پس لازم است مقادیر مینیمم و ماکزیمم تابع $r^2 = \frac{18}{2 + \sin 2\theta}$ را به دست آوریم. برای به دست آوردن ماکزیمم r لازم است که مخرج کسر مینیمم شود یعنی $\sin 2\theta = -1$ که در این صورت $\max(r^2) = \frac{18}{2 - 1} = 18$ و یا $\max(r) = \sqrt{18} = 3\sqrt{2}$ به دست می‌آید. به همین ترتیب r^2 وقتی مینیمم می‌شود که مخرج کسر ماکزیمم شود یعنی $\sin 2\theta = 1$ که در این صورت $\min(r^2) = \frac{18}{2 + 1} = 6$ و یا $\min(r) = \sqrt{6}$ به دست می‌آید.

کلمه مثال ۱۱: ماکزیمم و مینیمم تابع $z = 1 + x + 2y$ تحت قید $x^2 + y^2 = 5$ کدامند؟

- ۱) $1 + 3\sqrt{5}$ و ۲ ۲) $5\sqrt{5} - 1$ و -4 ۳) 6 و -4 ۴) $2 + 2\sqrt{5}$ و 6

پاسخ: گزینه «۳»

روش اول: قید داده شده را می‌توان به صورت پارامتری $\begin{cases} x = \sqrt{5} \cos t \\ y = \sqrt{5} \sin t \end{cases}$ نوشت. در این صورت تابع به شکل $z = 1 + \sqrt{5} \cos t + 2\sqrt{5} \sin t$ در می‌آید. حال با

$$\text{توجه به رابطه } -\sqrt{a^2 + b^2} \leq a \cos t + b \sin t \leq \sqrt{a^2 + b^2} \text{ نتیجه می‌شود: } \frac{-\sqrt{5 + 20}}{-5} \leq \sqrt{5} \cos t + 2\sqrt{5} \sin t \leq \frac{\sqrt{5 + 20}}{5} \Rightarrow -4 \leq z \leq 6$$

روش دوم: در این مثال تابع $f(x, y) = 1 + x + 2y$ و شرط (قید) $g(x, y) = x^2 + y^2 = 5$ را داریم. از روش لاگرانژ به این صورت استفاده می‌کنیم:

$$\frac{f_x}{g_x} = \frac{f_y}{g_y} \Rightarrow \frac{1}{2x} = \frac{2}{2y} \Rightarrow y = 2x$$

$$x^2 + y^2 = 5 \Rightarrow x^2 + 4x^2 = 5 \Rightarrow 5x^2 = 5 \Rightarrow x = \pm 1 \Rightarrow y = \pm 2$$

$$\min f = f(-1, -2) = -4, \quad \max f = 6$$

این نتیجه را در معادله‌ی قید قرار می‌دهیم:

نقاط $(1, 2)$ و $(-1, -2)$ را در f قرار می‌دهیم، خواهیم داشت:

کلمه مثال ۱۲: کمترین فاصله مبدأ مختصات تا خم $\begin{cases} x^2 + y^2 = 1 \\ x + y + z = 1 \end{cases}$ چقدر است؟

- (۱) $\sqrt{2}$ (۲) $\sqrt{2}$ (۳) $\frac{\sqrt{2}}{2}$ (۴) $\sqrt{2} - 1$

پاسخ: گزینه «۱»

روش اول: با توجه به رابطه $x^2 + y^2 = 1$ ، می‌توانیم این شرط را به صورت $x = \cos t, y = \sin t$ بنویسیم و در این صورت z نیز بر حسب t به دست می‌آید:

هدف یافتن مینیمم فاصله مبدأ تا خم می‌باشد. برای ساده‌تر شدن مینیمم مربع فاصله خم تا مبدأ یعنی $f(x, y, z) = x^2 + y^2 + z^2$ را به دست می‌آوریم. با جایگذاری x, y, z بر حسب پارامتری t در تابع f نتیجه می‌شود:

واضح است که کمترین مقدار f وقتی اتفاق می‌افتد که $(1 - \sin t - \cos t)^2$ برابر صفر باشد (به ازای $t = 0$ ، عبارت $(1 - \sin t - \cos t)^2$ برابر صفر می‌شود)، پس مینیمم f برابر یک به دست می‌آید.

روش دوم: هدف یافتن کمترین مقدار تابع $f(x, y, z) = x^2 + y^2 + z^2$ می‌باشد، طبق قید اول $x^2 + y^2 = 1$ می‌باشد که در این صورت تابع f به صورت $f(x, y, z) = 1 + z^2$ در می‌آید که مینیمم آن وقتی رخ می‌دهد که $z = 0$ باشد و در این صورت مینیمم f با توجه به قیود برابر ۱ است.

کلمه مثال ۱۳: ماکزیمم تابع $f(x, y) = xy - y^2$ ، روی قرص $x^2 + y^2 \leq 1$ ، کدام است؟

- (۱) $\frac{\sqrt{2}-1}{2}$ (۲) $\frac{\sqrt{3}-1}{2}$ (۳) $\frac{\sqrt{2}}{4}$ (۴) $\frac{\sqrt{2}}{4}$

پاسخ: گزینه «۱» با توجه به شرط $x^2 + y^2 \leq 1$ ، قرار می‌دهیم $x = \cos t$ و $y = \sin t$. در این صورت تابع f به صورت زیر در می‌آید:

$$f(t) = \cos t \sin t - \sin^2 t \Rightarrow f'(t) = \cos 2t - \sin 2t = 0$$

$$f(t) = \sin t \cos t - \sin^2 t = \frac{1}{2} \sin 2t - \frac{1 - \cos 2t}{2} \Rightarrow f\left(\frac{\pi}{8}\right) = \frac{\sqrt{2}-1}{2}$$

از معادله اخیر $t = \frac{\pi}{8}$ به دست می‌آید و در این صورت داریم:

(مکانیک - سراسری ۷۸)

کلمه مثال ۱۴: بیشترین حجم مکعب مستطیلی که داخل یک کره به شعاع ۲ قرار می‌گیرد کدام است؟

- (۱) $\frac{4\sqrt{3}}{9}$ (۲) $\frac{4\sqrt{2}}{9}$ (۳) $\frac{8\sqrt{3}}{9}$ (۴) $\frac{8\sqrt{2}}{9}$

پاسخ: هیچ کدام از گزینه‌ها صحیح نیست. (طراح سؤال فقط $\frac{1}{8}$ اول از مکعب را حساب کرده است.)

کره‌ی $x^2 + y^2 + z^2 = 4$ را در نظر بگیرید. فرض کنیم نقطه‌ی $A(x, y, z)$ در یک هشتم اول از فضای سه بعدی رأس آن مکعب مستطیل باشد. در این صورت حجم واقع در یک هشتم اول این مکعب برابر است با xyz پس حجم کامل مکعب با رابطه‌ی $V = 8xyz$ به دست می‌آید. حالا می‌خواهیم بیشترین مقدار V را با قید $x^2 + y^2 + z^2 = 4$ به دست آوریم. از دستگاه لاگرانژ به این صورت استفاده می‌کنیم:

$$\frac{V_x}{g_x} = \frac{V_y}{g_y} = \frac{V_z}{g_z} \Rightarrow \frac{8yz}{2x} = \frac{8xz}{2y} = \frac{8xy}{2z} \Rightarrow \frac{yz}{x} = \frac{xz}{y} = \frac{xy}{z} \Rightarrow y^2 z = x^2 z, z^2 x = y^2 x \Rightarrow y^2 = x^2, z^2 = y^2 \Rightarrow y = \pm x, z = \pm y$$

البته نقطه‌ی $A(x, y, z)$ در $\frac{1}{8}$ اول قرار دارد پس x, y, z مثبت هستند در نتیجه $y = x = z$ است. با جایگذاری در معادله‌ی کره داریم:

$$x^2 + x^2 + x^2 = 4 \Rightarrow x^2 = \frac{4}{3} \Rightarrow x = \frac{2}{\sqrt{3}}$$

$$V = 8xyz = 8\left(\frac{2}{\sqrt{3}}\right)^3 = \frac{64}{3\sqrt{3}} = \frac{64\sqrt{3}}{9}$$

پس $x = y = z = \frac{2}{\sqrt{3}}$ و حجم مکعب حداکثر برابر است با:

توجه: به علت تقارن موجود در معادله‌ی کره و یکسان بودن x و y و z در فرمول $V = 8xyz$ از همان اول مشخص بود که در حالت $z = y = x$ به بیشترین مقدار حجم خواهیم رسید.



(عمران - سراسری ۷۸)

🔗 مثال ۱۵: فاصله مینیمم مبدأ تا سطح $z = \sqrt{x^2 - 1}$ برابر است با:

$$(۱) \frac{1}{2} \quad (۲) ۱ \quad (۳) \frac{3}{2} \quad (۴) ۲$$

✅ پاسخ: گزینه «۲» در واقع می‌خواهیم عبارت $d = f(x, y, z) = \sqrt{x^2 + y^2 + z^2}$ را تحت شرط $z = \sqrt{x^2 - 1}$ مینیمم کنیم. با توجه به شرط لازم است $x \geq 1$ ، بنابراین مینیمم f در نقطه $(1, 0, 0)$ رخ می‌دهد، در نتیجه داریم:

$$\min(d) = f(1, 0, 0) = \sqrt{1 + 0 + 0} = 1$$

توجه کنید که برای حل این مسأله می‌توانستیم از روش ضرایب لاگرانژ نیز استفاده کنیم.

🔗 مثال ۱۶: به فرض اینکه تابع هزینه تولید برای یک واحد صنعتی به صورت $c = 5x^2 + 2xy + 3y^2 + 800$ است که در آن x و y به ترتیب میزان تولید کالای x ، میزان تولید کالای y و میزان کل هزینه است. برای تولید جمعاً ۳۹ واحد از کالای x و y و $(x + y = 39)$ حداقل هزینه چقدر خواهد بود؟

(صنایع - سیستم - سراسری ۷۸)

$$(۱) \bar{y} = 17, \bar{x} = 11 \quad (۲) \bar{y} = 23, \bar{x} = 9 \quad (۳) \bar{y} = 24, \bar{x} = 11 \quad (۴) \bar{y} = 26, \bar{x} = 13$$

✅ پاسخ: گزینه «۴»

روش اول: می‌خواهیم تابع $C = 5x^2 + 2xy + 3y^2 + 800$ را تحت شرط $g = x + y - 39 = 0$ مینیمم کنیم. از روش ضرایب لاگرانژ استفاده می‌کنیم.

$$\vec{\nabla} C = (10x + 2y, 2x + 6y), \quad \vec{\nabla} g = (1, 1)$$

بنابراین داریم:

$$\begin{cases} \nabla C = \lambda \nabla g \\ x + y - 39 = 0 \end{cases} \Rightarrow \begin{cases} 10x + 2y = \lambda \\ 2x + 6y = \lambda \\ x + y - 39 = 0 \end{cases}$$

از حل دستگاه فوق $x = 13$ و $y = 26$ به دست می‌آید.

روش دوم: در بین گزینه‌ها، تنها گزینه‌ای که در شرط $x + y = 39$ صدق می‌کند، گزینه (۴) است.

(آمار - سراسری ۷۸)

🔗 مثال ۱۷: کدام گزاره در مورد تابع دو متغیره f با ضابطه $f(x, y) = x \sin y$ درست است؟

- (۱) دارای نقطه زینی است اما مینیمم مطلق ندارد. (۲) نقطه زینی نداشته اما مینیمم مطلق دارد.
 (۳) دارای نقطه زینی است و ماکسیمم نسبی دارد. (۴) مینیمم نسبی ندارد ولی دارای ماکسیمم نسبی است.

✅ پاسخ: گزینه «۱»

$$\begin{cases} f_x = \sin y = 0 \Rightarrow y = k\pi \\ f_y = x \cos y = 0 \Rightarrow x = 0 \text{ یا } y = k\pi + \frac{\pi}{2} \end{cases} \Rightarrow \text{نقاط بحرانی تابع می‌باشند}$$

$$\Delta = f_{xx}f_{yy} - f_{xy}^2 = 0 - \cos^2 y = -\cos^2 y$$

چون $\Delta < 0$ ، پس نقاط $(0, k\pi)$ نقاط زینی می‌باشند.

(صنایع - سیستم - سراسری ۷۹)

🔗 مثال ۱۸: مقدار q در تابع $q = K^{0/4} L^{0/5}$ با رعایت قید $3K + 4L = 108$ بهینه می‌گردد، مقدار L کدام است؟

$$(۱) ۱۲ \quad (۲) ۱۵ \quad (۳) ۱۶ \quad (۴) ۲۰$$

✅ پاسخ: گزینه «۲» ابتدا قرار می‌دهیم $f = 3k + 4L - 108 = 0$ ، بنابراین به روش ضرایب لاگرانژ خواهیم داشت:

$$\begin{cases} \vec{\nabla} q = \lambda \vec{\nabla} f \\ 3k + 4L = 108 \end{cases} \Rightarrow \begin{cases} 0/4 k^{-0/4} L^{0/5} = 3\lambda \\ 0/5 k^{0/4} L^{-0/5} = 4\lambda \\ 3k + 4L = 108 \end{cases}$$

با تقسیم معادله‌ی اول بر معادله دوم در دستگاه فوق، به دست می‌آید $\frac{L}{k} = \frac{15}{16}$. با استفاده از این رابطه و معادله سوم $k = 16$ و $L = 15$ به دست می‌آید.

مثال ۱۹: در ورقه نازک فلزی با ناحیه $x^2 + y^2 \leq 9$ ، اندازه درجه حرارت در هر نقطه $M(x,y)$ به صورت $T = x^2 + 2y^2 - 4x$ است کمترین مقدار T کدام است؟

(هسته‌ای - سراسری ۷۹)

- (۱) ۴- (۲) ۲- (۳) ۱- (۴) صفر

پاسخ: گزینه «۱»

$$\begin{cases} T_x = 2x - 4 = 0 \\ T_y = 4y = 0 \end{cases} \Rightarrow x = 2, y = 0$$

$$\Delta = T_{xx}T_{yy} - T_{xy}^2 = 2 \times 4 - 0 = 8$$

$$T(2,0) = 4 + 0 - 4 = 0$$

بنابراین نقطه $(2,0)$ تنها نقطه بحرانی می‌باشد که در شرط موردنظر نیز صدق می‌کند. از طرفی داریم: چون $T_{xx} > 0$ و $\Delta > 0$ ، بنابراین $(2,0)$ نقطه مینیمم یا به عبارتی دارای کمترین درجه حرارت است.

(مکانیک - سراسری ۸۰)

مثال ۲۰: نقطه مینیمم تابع $f(x,y,z) = 4x^2 + y^2 + z^2$ با شرط $2x + 3y + z = 12$ کدام است؟

- (۱) $(\frac{36}{11}, \frac{6}{11}, \frac{12}{11})$ (۲) $(\frac{6}{11}, \frac{36}{11}, \frac{12}{11})$ (۳) $(\frac{36}{11}, \frac{12}{11}, \frac{6}{11})$ (۴) $(\frac{12}{11}, \frac{6}{11}, \frac{36}{11})$

پاسخ: گزینه «۲» از روش ضرایب لاگرانژ استفاده می‌کنیم:

$$\begin{cases} 2x + 3y + z = 12 \\ \lambda x = 2\lambda \\ 2y = 3\lambda \\ z = \lambda \end{cases} \Rightarrow \lambda = \frac{24}{11} \Rightarrow x = \frac{6}{11}, y = \frac{36}{11}, z = \frac{12}{11}$$

(مکانیک - آزاد ۸۰)

مثال ۲۱: در مورد تابع $F(x,y) = xy + \ln xy$ کدام گزینه صحیح است؟

- (۱) $(-\frac{1}{4}, -\frac{1}{4})$ یک مینیمم نسبی تابع است.
 (۲) $(-\frac{1}{4}, -\frac{1}{4})$ یک ماکزیمم نسبی تابع است.
 (۳) $(-\frac{1}{4}, -\frac{1}{4})$ یک نقطه زینی است.
 (۴) $(-\frac{1}{4}, -\frac{1}{4})$ تعریف نشده است.

پاسخ: هیچ کدام از گزینه‌ها صحیح نیست.

$$\begin{cases} F_x = y + \frac{1}{x} = 0 \\ F_y = x + \frac{1}{y} = 0 \end{cases} \Rightarrow \text{نقطه } (\frac{-1}{4}, \frac{-1}{4}) \text{ در معادلات روبرو صدق نمی‌کند، بنابراین نقطه بحرانی نمی‌باشد.}$$

(صنایع - سیستم - سراسری ۸۰)

مثال ۲۲: نقطه بحرانی تابع $z = x + y$ با شرط $x > 0, y > 0, x^2 + y^2 = 1$ کدام است؟

- (۱) ماکزیمم (۲) مینیمم (۳) زینی (۴) با شرط مفروض فاقد نقطه بحرانی

$$x = \cos t, y = \sin t, 0 < t < \frac{\pi}{2}$$

پاسخ: گزینه «۱» شرط داده شده را می‌توان به صورت پارامتری روبرو نوشت:

بنابراین تابع به صورت $z = \cos t + \sin t$ در می‌آید، که در نقطه $t = \frac{\pi}{4}$ دارای ماکسیمم $\sqrt{2}$ خواهد بود.

(صنایع - سیستم - آزاد ۸۰)

مثال ۲۳: در تابع $z = xy^2 - x^2 - y^3 + xy$ مبدأ مختصات:

- (۱) ماکزیمم نسبی است. (۲) نقطه‌ی زینی است. (۳) مینیمم نسبی است. (۴) نقطه عادی است.

$$\begin{cases} z_x = y^2 - 2x + y = 0 \\ z_y = 2xy - 3y^2 + x = 0 \end{cases}$$

پاسخ: گزینه «۲»

واضح است که نقطه $(0,0)$ یکی از جوابهای دستگاه فوق می‌باشد، بنابراین $(0,0)$ یک نقطه بحرانی تابع می‌باشد.

$$\Delta = z_{xx}z_{yy} - z_{xy}^2 = -2 \times (2x - 6y) - (2y + 1)^2$$

در نقطه $(0,0)$ ، مقدار $\Delta < 0$ ، بنابراین $(0,0)$ یک نقطه زینی می‌باشد.



(آمار - سراسری ۸۰)

مثال ۲۴: نقطه (۱ و ۱) برای سطح به معادله $z = x^2 + y^2 - 3xy$ چگونه نقطه‌ای است؟

(۴) عادی

(۳) زینی

(۲) مینیمم موضعی

(۱) ماکسیمم موضعی

$$\begin{cases} f_x = 2x^2 - 3y = 0 \\ f_y = 2y^2 - 3x = 0 \end{cases} \Rightarrow \text{نقاط بحرانی } (1,1), (0,0)$$

پاسخ: گزینه «۲»

$$\Delta = f_{xx}f_{yy} - f_{xy}^2 = 36xy - 9$$

در نقطه (۱, ۱)، $\Delta > 0$ و $f_{xx} > 0$ بنابراین نقطه (۱ و ۱) مینیمم موضعی است.

(عمران - سراسری ۸۱)

مثال ۲۵: کدامیک از نقاط زیر یک مینیمم نسبی تابع $f(x,y) = x^2 - 4xy + y^2 + 4y$ می‌باشد؟(۴) $(-\frac{2}{3}, -\frac{4}{3})$ (۳) $(\frac{4}{3}, \frac{2}{3})$

(۲) (۴, ۲)

(۱) (-۲, -۴)

$$\begin{cases} f_x = 2x - 4y = 0 \\ f_y = -4x + 2y + 4 = 0 \end{cases} \Rightarrow \begin{cases} x = 2y \\ 3y^2 - 4x + 4 = 0 \end{cases}$$

پاسخ: گزینه «۲»

$$\Delta = f_{xx}f_{yy} - f_{xy}^2 = 2 \times 6y - (-4)^2 = 12y - 16$$

از حل دستگاه فوق نقاط بحرانی $A(4, 2)$ و $B(\frac{4}{3}, \frac{2}{3})$ به دست می‌آیند.چون در نقطه A ، $\Delta > 0$ و $f_{xx} > 0$ بنابراین A نقطه مینیمم می‌باشد.

(عمران - سراسری ۸۲)

مثال ۲۶: مقدار ماکزیمم و مینیمم تابع $f(x,y) = 3x^2 + 2y^2 - 4y + 1$ روی قرص $x^2 + y^2 \leq 16$ ، کدامیک از مقادیر زیراند؟

(۴) ۱۷ و ۵۳

(۳) ۴۹ و -۱

(۲) ۴۹ و ۱۷

(۱) ۵۳ و -۱

$$\begin{cases} f_x = 6x = 0 \Rightarrow x = 0 \\ f_y = 4y - 4 = 0 \Rightarrow y = 1 \end{cases}$$

پاسخ: گزینه «۱» مقادیر ماکزیمم و مینیمم در نقاط بحرانی یا روی مرز به دست می‌آیند.

$$\Delta = f_{xx}f_{yy} - f_{xy}^2 = 6 \times 4 - 0 = 24$$

بنابراین $A(0, 1)$ تنها نقطه بحرانی تابع می‌باشد.چون $f_{xx} > 0$ و $\Delta > 0$ ، بنابراین A نقطه مینیمم تابع می‌باشد و $f(0, 1) = -1$. در روی مرز ناحیه یعنی $x^2 + y^2 = 16$ ، تابع f به صورت زیر در می‌آید:

$$f(x, y) = 3(16 - y^2) + 2y^2 - 4y + 1 = -y^2 - 4y + 49 \Rightarrow f' = -2y - 4 = 0$$

$$\Rightarrow y = -2, x = \pm 2\sqrt{3} \Rightarrow \text{Max}(f) = f(\pm 2\sqrt{3}, -2) = 53$$

مثال ۲۷: صفحه $x + y + z = 1$ استوانه $x^2 + y^2 = 2$ را در یک خم C قطع می‌کند. نقاط P و Q را روی C چنان بیابید که به ترتیب ارتفاع ماکسیمم و مینیمم را از صفحه xy داشته باشند.

(MBA - سراسری ۸۲)

 $Q = (1, 1, -1)$ ، $P = (-1, -1, 3)$ (۲) $Q = (\sqrt{2}, 0, 1 - \sqrt{2})$ ، $P = (0, \sqrt{2}, 1 - \sqrt{2})$ (۱) $Q = (\frac{\sqrt{3}}{2}, \frac{\sqrt{2}}{2}, 1 - \frac{\sqrt{2} + \sqrt{3}}{2})$ ، $P = (\frac{\sqrt{2}}{2}, \frac{\sqrt{3}}{2}, 1 - \frac{\sqrt{2} + \sqrt{3}}{2})$ (۴) $Q = (-\sqrt{2}, 0, 1 + \sqrt{2})$ ، $P = (0, -\sqrt{2}, 1 + \sqrt{2})$ (۳)پاسخ: گزینه «۲» در واقع می‌خواهیم مقادیر ماکسیمم و مینیمم $Z = 1 - x - y$ را تحت قید $x^2 + y^2 = 2$ به دست آوریم. بنابراین از روش ضرایب

$$\begin{cases} x^2 + y^2 = 2 \\ \vec{\nabla} f = \lambda \vec{\nabla} g \end{cases} \Rightarrow \begin{cases} x^2 + y^2 = 2 \\ (-1, -1) = \lambda(2x, 2y) \end{cases}$$

لاگرانژ استفاده می‌کنیم.

$$f(1, 1) = -1, f(-1, -1) = 3$$

از حل دستگاه فوق نقاط (۱ و ۱) و (-۱ و -۱) به عنوان نقاط بحرانی حاصل می‌شوند.

(معدن - سراسری ۸۲)

مثال ۲۸: در صورتی که x و y و z مخالف صفر و $x + y + z = 1$ باشد، ماکزیمم xy^2z^3 کدام عدد است؟(۴) $\frac{1}{432}$ (۳) $\frac{1}{628}$ (۲) $\frac{1}{36}$ (۱) $\frac{1}{32}$ پاسخ: گزینه «۴» می‌دانیم وقتی $x + y + z$ برابر مقدار ثابتی باشد، عبارت $x^a y^b z^c$ وقتی ماکسیمم است که $\frac{x}{a} = \frac{y}{b} = \frac{z}{c}$ باشد. بنابراین داریم:

$$\begin{cases} x + y + z = 1 \\ \frac{x}{1} = \frac{y}{2} = \frac{z}{3} \end{cases} \Rightarrow x = \frac{1}{6}, y = \frac{1}{3}, z = \frac{1}{2} \Rightarrow xy^2z^3 = \frac{1}{432}$$

(ریاضی - سراسری ۸۲)

کج مثال ۲۹: در مورد تابع دو متغیره $z = f(x, y)$ کدام گزاره صحیح است؟

(۱) اگر f در نقطه (x_0, y_0, z_0) دارای اکسترمم نسبی باشد آن گاه $f_x(x_0, y_0) = f_y(x_0, y_0) = 0$

(۲) اگر $f_x(x_0, y_0) = f_y(x_0, y_0) = 0$ ، آن گاه مماس بر سطح f در نقطه (x_0, y_0, z_0) افقی است.

(۳) اگر f در نقطه (x_0, y_0) مشتق پذیر و $f_x(x_0, y_0) = f_y(x_0, y_0) = 0$ آن گاه مشتق سوئی f در نقطه (x_0, y_0) در هر جهتی صفر است.

(۴) اگر f همه جا پیوسته و دارای دو مینیمم نسبی باشد، آن گاه f حداقل دارای یک ماکزیمم نسبی است.

پاسخ: گزینه «۳» اگر مشتقات جزئی برابر صفر باشند، بردار گرادیان برابر صفر است و بنابراین واضح است که مشتق سوئی نیز برابر صفر است. اکنون سایر گزینه‌ها را بررسی می‌کنیم:

بررسی گزینه (۱): گزینه‌ی (۱) نادرست است برای مثال تابع $f(x, y, z) = |x| + |y| + |z|$ در نقطه‌ی $(0, 0, 0)$ دارای مینیمم نسبی است اما مشتق‌های جزئی آن در این نقطه صفر نمی‌شوند بلکه وجود ندارند.

بررسی گزینه (۲): گزینه‌ی (۲) نادرست است برای مثال تابع $f(x, y) = |x^3| + |y^3|$ را در نقطه‌ی $(0, 0)$ در نظر بگیرید، طبق تعریف مشتق جزئی داریم:

$$f_x(0, 0) = \lim_{\Delta x \rightarrow 0} \frac{f(\Delta x, 0) - f(0, 0)}{\Delta x} = \lim_{\Delta x \rightarrow 0} \frac{|\Delta x|^3}{\Delta x} = 0$$

به همین ترتیب $f_y(0, 0) = 0$ اما تابع f در مبدأ مشتق پذیر نیست پس اصلاً صفحه‌ی مماس بر رویه f وجود ندارد.

بررسی گزینه (۴): گزینه‌ی (۴) نادرست است برای مثال تابع $f(x, y) = x^3 + 3xy - y^3$ فقط دارای ۳ نقطه‌ی بحرانی در $B(1, -1)$ ، $C(0, 0)$ و $A(-1, 1)$ که A و B نقاط مینیمم نسبی و C نقطه‌ی زینی است.

کج مثال ۳۰: تابع $f(x, y) = xy(4 - x - y)$ مفروض است. کدامیک از عبارات زیر در رابطه با نقاط بحرانی این تابع صحیح است؟ (صنایع - سیستم - آزاد ۸۲)

(۱) این تابع دارای سه نقطه زین اسبی و یک نقطه ماکزیمم است.

(۲) این تابع دارای یک نقطه زین اسبی و یک نقطه ماکزیمم است.

(۳) این تابع دارای سه نقطه زین اسبی و یک نقطه مینیمم است.

(۴) این تابع دارای دو نقطه زین اسبی و یک نقطه ماکزیمم و یک نقطه مینیمم است.

$$\begin{cases} f_x = 4y - 2xy - y^2 = 0 \\ f_y = 4x - x^2 - 2xy = 0 \end{cases} \Rightarrow \begin{cases} y(4 - 2x - y) = 0 \\ x(4 - x - 2y) = 0 \end{cases}$$

کج از معادله فوق نقاط بحرانی $A(0, 0)$ ، $B(0, 4)$ ، $C(4, 0)$ و $D(\frac{4}{3}, \frac{4}{3})$ به دست می‌آیند. حال به بررسی نوع نقاط بحرانی می‌پردازیم.

$$\Delta = f_{xx}f_{yy} - f_{xy}^2 = (-2y) \times (-2x) - (4 - 2x - 2y)^2 = 4xy - (4 - 2x - 2y)^2$$

در نقاط A ، B ، C مقدار $\Delta < 0$ ، بنابراین نقاط A ، B ، C زینی هستند ولی در نقطه $(\frac{4}{3}, \frac{4}{3})$ مقدار $\Delta > 0$ و $f_{xx} < 0$ ، بنابراین D یک نقطه ماکسیمم می‌باشد.

کج مثال ۳۱: کوچکترین و بزرگترین مقدار تابع $f(x, y) = x^2 + y^2$ بر قرص بسته، $(x - \sqrt{2})^2 + (y - \sqrt{2})^2 \leq 9$ کدامیک از مقادیر زیراند:

(عمران - سراسری ۸۳)

(۴) و ۳۶

(۳) و ۱۴

(۲) و ۱۶

(۱) و ۲۵

پاسخ: گزینه «۱» تنها نقطه‌ی بحرانی f ، درون این قرص بسته، نقطه‌ی $(0, 0)$ است. در واقع از حل دستگاه $\begin{cases} f_x = 2x = 0 \\ f_y = 2y = 0 \end{cases}$ نقطه‌ی $(0, 0)$

به دست می‌آید و در این نقطه $f(0, 0) = 0$ است. واضح است که در این نقطه، کمترین مقدار $f(x, y) = x^2 + y^2$ به دست می‌آید. برای تعیین بزرگترین مقدار f از روش ضرایب لاگرانژ استفاده می‌کنیم. می‌خواهیم تابع $f(x, y) = x^2 + y^2$ را تحت قید $g(x, y) = (x - \sqrt{2})^2 + (y - \sqrt{2})^2 = 9$ ماکسیمم کنیم.

$$\begin{cases} (x - \sqrt{2})^2 + (y - \sqrt{2})^2 = 9 \\ \nabla f = \lambda \nabla g \end{cases} \Rightarrow \begin{cases} (x - \sqrt{2})^2 + (y - \sqrt{2})^2 = 9 \\ 2x = 2\lambda(x - \sqrt{2}) \\ 2y = 2\lambda(y - \sqrt{2}) \end{cases} \Rightarrow x = y = \frac{\sqrt{2}\lambda}{\lambda - 1}$$

$$f\left(\frac{5\sqrt{2}}{2}, \frac{5\sqrt{2}}{2}\right) = \frac{25}{2} + \frac{25}{2} = 25$$

با جایگزینی x و y در شرط g نتیجه می‌شود، $\lambda = \frac{5}{3}$ و بنابراین $x = y = \frac{5\sqrt{2}}{2}$.



(صنایع - سیستم - سراسری ۸۳)

مثال ۳۲: ماکزیمم عبارت $2x + y$ در صورتی که $x + y \leq 4$ و $-x + y \geq -2$ باشد چیست؟

۹ (۴)

۷ (۳)

۶ (۲)

۵ (۱)

پاسخ: گزینه «۳» با ضرب کردن شرط دوم در یک علامت منفی، آن را می‌توان به صورت مقابل نوشت:

$$\begin{cases} x + y \leq 4 \\ x - y \leq 2 \end{cases} \Rightarrow 2x \leq 6 \Rightarrow x \leq 3$$

پس ماکسیمم مقدار برای x که در هر دو شرط صدق کند برابر ۳ است و با توجه به شرط $x + y \leq 4$ ، می‌توان نتیجه گرفت ماکسیمم مقدار برای y برابر ۱ است. پس ماکسیمم $2x + y$ برابر ۷ خواهد بود.

(صنایع - سیستم - آزاد ۸۳)

مثال ۳۳: اگر $z = 2x + y^2 + 1$ باشد، کمترین مقدار $x - y + z^2$ کدام است؟

$-\frac{1}{32}$ (۴)

$-\frac{1}{16}$ (۳)

$\frac{1}{8}$ (۲)

$\frac{1}{4}$ (۱)

پاسخ: گزینه «۳» با جایگزینی z از رابطه داده شده به دست می‌آید:

$$f(x, y) = x - y + (2x + y^2 + 1)^2$$

$$\begin{cases} f_x = 1 + 4(2x + y^2 + 1) = 0 \\ f_y = -1 + 4y(2x + y^2 + 1) = 0 \end{cases} \Rightarrow x = \frac{-9}{8}, y = -1$$

بنابراین نقطه $A(\frac{-9}{8}, -1)$ یک نقطه بحرانی تابع می‌باشد.

چون در نقطه A ، مقدار $\Delta > 0$ و $f_{xx} > 0$ ، بنابراین A نقطه مینیمم f می‌باشد و مقدار f در آن برابر $\frac{-1}{16}$ می‌باشد.

(معدن - سراسری ۸۳)

مثال ۳۴: نقطه اکسترمم $f(x, y) = x^2 - y^2 + 3xy$ چگونه است؟

(۴) و (۱) ماکسیمم نسبی

(۳) و (۱) مینیمم نسبی

(۲) و (۱) مینیمم نسبی

(۱) و (-۱) ماکسیمم نسبی

پاسخ: گزینه «۲»

$$\begin{cases} f_x = 2x + 3y = 0 \\ f_y = -2y + 3x = 0 \end{cases} \Rightarrow x^2 = x \Rightarrow x = 0, x = 1$$

به ازای $x = 0$ ، مقدار $y = 0$ و به ازای $x = 1$ ، $y = -1$ خواهد بود. بنابراین نقاط بحرانی f عبارتند از $(0, 0)$ و $(1, -1)$.

$$\Delta = f_{xx}f_{yy} - f_{xy}^2 = 6x \times (-6y) - 9 = -36xy - 9$$

در نقطه $(1, -1)$ ، $\Delta > 0$ و $f_{xx} > 0$ بنابراین نقطه $(1, -1)$ مینیمم نسبی است.

(ریاضی - سراسری ۸۳)

مثال ۳۵: اگر $f(x, y) = ax^2 + 2bxy + cy^2$ ، شرط لازم و کافی برای آنکه $f(0, 0)$ ماکسیمم موضعی باشد کدام است؟

$ac - b^2 > 0, a > 0$ (۴)

$ac - b^2 > 0, a > 0$ (۳)

$ac - b^2 < 0, a < 0$ (۲)

$ac - b^2 > 0, a < 0$ (۱)

پاسخ: گزینه «۱» ابتدا توجه کنید که:

$$f_x = 2ax + 2by, f_y = 2bx + 2cy, f_{xx} = 2a, f_{yy} = 2c, f_{xy} = 2b$$

$$\Delta = f_{xx}f_{yy} - f_{xy}^2 = 2a \times 2c - 4b^2 = 4(ac - b^2)$$

بنابراین داریم:

برای ماکسیمم بودن نقطه بحرانی لازم است $f_{xx} < 0$ و $\Delta > 0$ باشد یعنی $a < 0$ و $ac - b^2 > 0$.

(ریاضی - سراسری ۸۳)

مثال ۳۶: اکسترمم‌های تابع $w = f(x, y, z)$ با شرط $\begin{cases} H(x, y, z) = 0 \\ G(x, y, z) = 0 \end{cases}$ جواب کدام معادله نیستند؟

$\bar{\nabla}f - \lambda(\bar{\nabla}H \times \bar{\nabla}G) = 0$ (۴)

$\bar{\nabla}G \cdot (\bar{\nabla}f \times \bar{\nabla}H) = 0$ (۳)

$\bar{\nabla}f \cdot (\bar{\nabla}H \times \bar{\nabla}G) = 0$ (۲)

$\bar{\nabla}H \cdot (\bar{\nabla}f \times \bar{\nabla}G) = 0$ (۱)

پاسخ: گزینه «۴» طبق روش ضرایب لاگرانژ، اکسترمم تابع f تحت دو شرط G و H وقتی اتفاق می‌افتد که $\bar{\nabla}f = \lambda \bar{\nabla}G + \mu \bar{\nabla}H$ و این رابطه یعنی $\bar{\nabla}f$

در صفحه دو بردار $\bar{\nabla}G$ و $\bar{\nabla}H$ قرار دارد (سه بردار گرادینان هم صفحه‌اند) و در نتیجه هر سه رابطه ذکر شده در گزینه‌های (۱)، (۲) و (۳) صحیح هستند.

(هسته‌ای - سراسری ۸۳)

مثال ۳۷: مقدار ماکزیمم مطلق و مینیمم مطلق تابع $f(x, y) = 2xy$ بر روی قرص بسته $x^2 + y^2 \leq 4$ برابر است با:

-8 و 8 (۴)

-4 و 4 (۳)

-2 و 2 (۲)

0 و 8 (۱)

پاسخ: گزینه «۳» مقادیر ماکسیمم و مینیمم f روی مرز و یا نقاط بحرانی رخ می‌دهد. مرز ناحیه داده شده را می‌توان به صورت پارامتری زیر نوشت:

$$x = 2 \cos t, y = 2 \sin t \quad 0 \leq t \leq 2\pi$$

بنابراین در روی مرز، f به صورت $f(t) = 4 \sin 2t$ در می‌آید که ماکسیمم آن برابر ۴ و مینیمم آن -۴ است. از طرفی نقطه بحرانی $f(x, y) = 2xy$ ، نقطه $(0, 0)$ می‌باشد و در این نقطه $f(0, 0) = 0$ بنابراین همان مقادیر -۴ و ۴ به ترتیب مینیمم و ماکسیمم f می‌باشد.

کله مثال ۳۸: اگر $f(x,y) = xe^{-(x+y^2)} + ye^{-y^2-1}$ باشد، حداکثر مقدار f به ازای چه مقدار y به دست می آید؟ (صنایع - سیستم - آزاد ۸۳)

(۱) $\frac{-1 \pm \sqrt{3}}{4}$ (۲) $\frac{-1 \pm \sqrt{3}}{2}$ (۳) $\frac{-1 \pm \sqrt{5}}{4}$ (۴) $\frac{-1 \pm \sqrt{5}}{2}$

پاسخ: گزینه «۲»

$$\begin{cases} f_x = e^{-(x+y^2)} - xe^{-(x+y^2)} = e^{-(x+y^2)}(1-x) = 0 \Rightarrow x=1 \\ f_y = -2xye^{-(x+y^2)} + e^{-y^2-1} - 2y^2e^{-y^2-1} = 0 \end{cases}$$

با جایگزینی $x=1$ در معادله دوم نتیجه می شود: $-2ye^{-(1+y^2)} + e^{-(1+y^2)} - 2y^2e^{-(1+y^2)} = 0 \Rightarrow -2y + 1 - 2y^2 = 0 \Rightarrow y = \frac{-1 \pm \sqrt{3}}{2}$

کله مثال ۳۹: ماکسیمم تابع $f(x,y) = 3x - 2y + 1$ با توجه به شرط $9x^2 + 4y^2 = 18$ در چه نقاطی رخ می دهد و چقدر است؟ (صنایع - سیستم - سراسری ۸۴)

(۱) $1, \left(1, \frac{3}{2}\right)$ (۲) $-5, \left(-1, -\frac{3}{2}\right)$ (۳) $7, \left(\frac{3}{2}, -1\right)$ (۴) $7, \left(1, -\frac{3}{2}\right)$

پاسخ: گزینه «۴» برای تابع $f(x,y) = 3x - 2y + 1$ با قید $g(x,y) = 9x^2 + 4y^2 = 18$ از روش ضرایب لاگرانژ استفاده می کنیم:

$$\begin{cases} 9x^2 + 4y^2 = 18 \\ \nabla f = \lambda \nabla g \end{cases} \Rightarrow \begin{cases} 9x^2 + 4y^2 = 18 \\ 6\lambda x = 1 \\ 4\lambda y = -1 \end{cases} \Rightarrow x=1, y=-\frac{3}{2}, \lambda=\frac{1}{6}$$

پس نقطه ماکسیمم نقطه $\left(1, -\frac{3}{2}\right)$ می باشد و در این نقطه مقدار تابع f برابر 7 می باشد.

کله مثال ۴۰: ماکسیمم و مینیمم مطلق تابع $f(x,y) = x^2 - y^2$ روی ناحیه $D = \{(x,y) | x^2 + y^2 \leq 4\}$ کدامند و در چه نقاطی رخ می دهد؟ (صنایع - سیستم - سراسری ۸۴)

(۱) $0, 4$ و $(2, 0)$ و $(0, 0)$ (۲) $-4, 0$ و $(0, 0)$ و $(-2, 0)$ (۳) $-4, 4$ و $(\pm 2, 0)$ و $(0, \pm 2)$ (۴) $4, 4$ و $(2, 0)$ و $(-2, 0)$

پاسخ: گزینه «۳»

روش اول: واضح است که در ناحیه D تابع f می تواند مثبت یا منفی باشد، پس با توجه به مقادیر داده شده در گزینه ها فقط گزینه (۳) می تواند صحیح باشد.

روش دوم: باید نقاط مرزی و بحرانی درون ناحیه D را بررسی کنیم.

$$\begin{cases} fx = 2x = 0 \\ fy = 2y = 0 \end{cases} \Rightarrow x=y=0, f(0,0)=0$$

با توجه به اینکه معادله مرز $x^2 + y^2 = 4$ می باشد در نتیجه داریم: $y^2 = 4 - x^2$ ، با جایگذاری y^2 در تابع f داریم:

$$f = x^2 - (4 - x^2) = 2x^2 - 4, -2 \leq x \leq 2 \Rightarrow \begin{cases} x=0 \Rightarrow f=-4 \\ x=\pm 2 \Rightarrow f=+4 \end{cases}$$

کله مثال ۴۱: مینیمم عبارت $2xy^2 + 2x + 3y$ با قید $x^2 - y = 1$ در کدام نقطه است؟ (علوم کامپیوتر - سراسری ۸۴)

(۱) $(0, -1)$ (۲) $(-1, 0)$ (۳) $\left(-\frac{3}{4}, -\frac{7}{16}\right)$ (۴) $\left(-\frac{3}{4}, \frac{7}{16}\right)$

پاسخ: گزینه «۳» می توان از روش ضرایب لاگرانژ مسأله را حل کرد. ولی جایگزینی y بر حسب x در عبارت داده شده سریعتر به جواب می رسد.

$$f(x) = x^2 + 2(x^2 - 1)^2 + 2x + 3(x^2 - 1) = 2(x^2 - 1)^2 + 2x^3 + 4x^2 - 3$$

$$f'(x) = 4x(x^2 - 1) + 6x^2 + 2 = 4x^3 + 6x^2 = x^2(4x + 6)$$

$$f'(x) = 0 \Rightarrow x^2(4x + 6) = 0 \Rightarrow x = 0 \quad \text{ریشه مضاعف}, \quad x = -\frac{3}{2}$$

بنابراین نقطه $\left(-\frac{3}{2}, -\frac{7}{16}\right)$ نقطه اکسترمم تابع می باشد و چون $f''\left(-\frac{3}{2}\right) > 0$ ، پس $\left(-\frac{3}{2}, -\frac{7}{16}\right)$ نقطه مینیمم تابع می باشد.



(معدن - سراسری ۸۴)

کله مثال ۴۲: کمترین فاصله نقاط رویه $xyz = 1$ از مبدأ مختصات، کدام است؟

$$1 \quad (1) \quad \sqrt{2} \quad (2) \quad \sqrt{3} \quad (3) \quad \frac{\sqrt{3}}{2} \quad (4)$$

پاسخ: گزینه «۳» می‌خواهیم فاصله یعنی $d = \sqrt{x^2 + y^2 + z^2}$ را تحت شرط $xyz = 1$ مینیمم کنیم. یا به طور معادل می‌خواهیم

$d^2 = x^2 + y^2 + z^2$ را تحت شرط $x^2 y^2 z^2 = 1$ مینیمم کنیم. از طرفی می‌دانیم هرگاه حاصل ضرب چند متغیر ثابت باشد، مجموع آن‌ها وقتی مینیمم است که تمام متغیرها با هم برابر باشند یعنی $x^2 = y^2 = z^2$.

در نتیجه داریم: $x^2 \cdot x^2 \cdot x^2 = 1 \Rightarrow x = \pm 1, y = \pm 1, z = \pm 1 \Rightarrow \min(d) = \sqrt{1+1+1} = \sqrt{3}$

(معدن - سراسری ۸۴)

کله مثال ۴۳: مقدار ماکزیم موضعی (نسبی) تابع $f(x, y) = xy - x^2 - y^2 - 2x - 2y + 4$ را در صورت وجود بیابید.

$$4 \quad (1) \quad 5 \quad (2) \quad 8 \quad (3) \quad 4 \quad (4) \quad \text{وجود ندارد.}$$

پاسخ: گزینه «۳»

$$\begin{cases} f_x = y - 2x - 2 = 0 \\ f_y = x - 2y - 2 = 0 \end{cases} \Rightarrow x = -2, y = -2 \Rightarrow \text{بنابراین نقطه } (-2, -2) \text{ تنها نقطه بحرانی تابع می‌باشد.}$$

$$\Delta = f_{xx} f_{yy} - f_{xy}^2 = (-2)(-2) - 1^2 = 3$$

چون $\Delta > 0$ و $f_{xx} < 0$ ، بنابراین نقطه $(-2, -2)$ نقطه ماکزیم می‌باشد.

$$f(-2, -2) = 4 - 4 - 4 + 4 + 4 + 4 = 8$$

(صنایع - سیستم - سراسری ۸۵)

کله مثال ۴۴: نزدیکترین نقطه منحنی $1 = x^2 + y^2 = x^2 - xy + y^2 - z^2$ به مبدأ کدام است؟

$$\left(\frac{1}{\sqrt{2}}, \frac{1}{\sqrt{2}}, 0\right) \quad (1) \quad \left(\frac{-1}{\sqrt{2}}, \frac{1}{\sqrt{2}}, 0\right) \quad (2) \quad \left(\pm \frac{1}{\sqrt{2}}, \pm \frac{1}{\sqrt{2}}, 0\right) \quad (3) \quad (0, \pm 1, 0), (\pm 1, 0, 0) \quad (4)$$

پاسخ: گزینه «۴»

روش اول: هیچ کدام از گزینه‌های (۱)، (۲) و (۳) روی منحنی داده شده قرار ندارند. پس فقط گزینه (۴) می‌تواند پاسخ صحیح باشد.

روش دوم: یا باید مینیمم $f(x, y, z) = x^2 + y^2 + z^2 = f(x, y, z)$ را تحت دو قید $x^2 + y^2 = 1$ و $x^2 - xy + y^2 - z^2 = 1$ به دست می‌آوریم.

با توجه به قید $x^2 + y^2 = 1$ ، تابع f به صورت $f(x, y, z) = 1 + z^2$ در می‌آید که واضح است مینیمم تابع f وقتی حاصل می‌شود که $z^2 = 0$ یعنی $z = 0$

باشد. حال توجه کنید که اگر قید $x^2 + y^2 = 1$ را در قید دوم جایگزین کنیم نتیجه می‌شود که $xy + z^2 = 0$ ، و چون $z = 0$ به دست آمده پس

$xy = 0$ حاصل می‌شود و در این صورت $x = 0$ یا $y = 0$ به دست می‌آید، پس نقاط مورد نظر به صورت $(\pm 1, 0, 0)$ و $(0, \pm 1, 0)$ هستند.

کله مثال ۴۵: کدام حکم در مورد نقاط $M_1(0, -4, 0)$ و $M_2(-1, -2, -4)$ متعلق به سطح $z = 4xy^2 + xy^3 + x^2 y^2$ درست است؟ (ریاضی - سراسری ۸۶)

(۱) M_2 نقطه‌ی مینیمم است و M_1 نه ماکزیمم است و نه مینیمم. (۲) M_2 و M_1 نقطه‌های مینیمم هستند.

(۳) M_1 و M_2 نقطه‌های ماکزیمم هستند. (۴) هیچ کدام از نقاط M_1 و M_2 اکسترمم نیست.

پاسخ: گزینه «۱»

$$\begin{cases} f_x = 4y^2 + y^3 + 2xy^2 \\ f_y = 8xy + 3xy^2 + 2x^2 y \end{cases}$$

در هر دو نقطه M_1 و M_2 ، مقادیر f_x و f_y برابر صفرند، پس این نقاط، نقاط بحرانی تابع f می‌باشند.

$$\Delta = f_{xx} f_{yy} - f_{xy}^2 = 2y^2 \times (\lambda x + 6xy + 2x^2) - (\lambda y + 3y^2 + 4xy)^2$$

در نقطه M_1 ، مقدار $\Delta < 0$ است، پس M_1 نقطه زینی است. در نقطه M_2 ، $\Delta > 0$ و $f_{xx} > 0$ پس M_2 نقطه مینیمم است.

کلمه مثال ۴۶: می‌خواهیم جعبه مکعب مستطیل شکل در بازی با حجم ثابت ۱۶ بسازیم. ابعاد جعبه را طوری تعیین می‌کنیم تا مساحت کل حداقل شود. مساحت جعبه کدام است؟

(ریاضی - سراسری ۸۶)

(۱) $۸\sqrt{۲}$ (۲) $۱۶\sqrt{۲}$ (۳) $۲۴\sqrt{۲}$ (۴) $۶۴\sqrt{۲}$

پاسخ: گزینه «۳» طول، عرض و ارتفاع مستطیل را x, y, z فرض می‌کنیم. در این صورت حجم مکعب مستطیل $f(x, y, z) = xyz = ۱۶$ و

مساحت جانبی مکعب مستطیل در باز $g(x, y, z) = xy + ۲xz + ۲yz$ است. $xyz = ۱۶ \Rightarrow x^2 y^2 z^2 = ۲^8 \Rightarrow xy(۲xz)(۲yz) = ۲^{10}$

می‌دانیم اگر حاصل ضرب چند متغیر مقداری ثابت باشد، حاصل جمع آن‌ها وقتی مینیمم است که متغیرها با هم برابر باشند، یعنی داریم:

$$xy = ۲xz = ۲yz \Rightarrow y = ۲z, x = ۲z, x = y$$

از روابط فوق و $xyz = ۱۶$ نتیجه می‌شود:

$$۴z^3 = ۱۶ \Rightarrow z = \sqrt[۳]{۴}, y = ۲\sqrt[۳]{۴}, x = ۲\sqrt[۳]{۴} \Rightarrow \text{جانبی } S = xy + ۲xz + ۲yz = ۴\sqrt[۳]{۱۶} + ۴\sqrt[۳]{۱۶} + ۴\sqrt[۳]{۱۶} = ۲۴\sqrt[۳]{۲}$$

کلمه مثال ۴۷: صفحه‌ای از نقطه $A(۲, ۳, ۴)$ گذشته و حجم محصور بین آن و صفحات مختصات مینیمم شده است، این حجم کدام است؟ (ریاضی - سراسری ۸۶)

(۱) ۱۰۴ (۲) ۱۰۸ (۳) ۱۱۰ (۴) ۱۱۲

پاسخ: گزینه «۲» صفحه را به صورت $ax + by + cz = d$ فرض می‌کنیم، چون نقطه $A(۲, ۳, ۴)$ روی صفحه قرار دارد پس $۲a + ۳b + ۴c = d$ ، حجم

محصور بین این صفحه و صفحات مختصات یک هرم تشکیل می‌دهد. نقاط تقاطع این صفحه با محورهای مختصات به ترتیب $\frac{d}{a}, \frac{d}{b}, \frac{d}{c}$ می‌باشد پس حجم

موردنظر برابر $\frac{1}{6} \cdot \frac{d}{a} \cdot \frac{d}{b} \cdot \frac{d}{c}$ یعنی $\frac{d^3}{۶abc}$ می‌باشد. بنابراین هدف مینیمم کردن $V = \frac{d^3}{۶abc}$ تحت قید $۲a + ۳b + ۴c = d$ خواهد بود. که با روش ضرایب

لاگرانژ می‌توان به نتیجه رسید. ولی راه حل ساده‌تر آن است که ابتدا مسأله را به شکل زیر بنویسیم:

$$\begin{cases} \frac{۲a}{d} + \frac{۳b}{d} + \frac{۴c}{d} = ۱ \\ V = \frac{d^3}{۶abc} \end{cases}$$

حال با توجه به اینکه مجموع سه متغیر $\frac{۲a}{d}, \frac{۳b}{d}, \frac{۴c}{d}$ ثابت است حاصل ضرب آن‌ها یعنی $\frac{۲۴abc}{d^3}$ وقتی ماکسیمم می‌شود که متغیرها با هم برابر باشند و لذا

$$\Rightarrow \frac{۲a}{d} = \frac{۳b}{d} = \frac{۴c}{d} \Rightarrow a = \frac{d}{۶}, b = \frac{d}{۹}, c = \frac{d}{۱۲} \Rightarrow V_{\min} = ۱۰۸ \quad \text{عکس آن یعنی } \frac{d^3}{۲۴abc} \text{ مینیمم می‌شود.}$$

کلمه مثال ۴۸: نقطه $(-۲, ۳)$ و مقدار -۱۳ برای تابع $f(x, y) = x^2 + ۴x + y^2 - ۶y$ چه نوع نقطه و مقداری هستند؟ (آمار - سراسری ۸۶)

(۱) نقطه‌ی ماکسیمم و مقدار ماکسیمم نسبی (۲) نقطه‌ی مینیمم نسبی و مقدار مینیمم نسبی

(۳) نقطه زینی و مقدار معمولی (۴) نقطه غیر بحرانی و مقدار معمولی

پاسخ: گزینه «۲» $f(x, y) = x^2 + ۴x + y^2 - ۶y$

$$\begin{cases} f_x = ۲x + ۴ = 0 \Rightarrow x = -۲ \\ f_y = ۲y - ۶ = 0 \Rightarrow y = ۳ \end{cases} \Rightarrow P(-۲, ۳) \text{ نقطه بحرانی}$$

$$\Delta = f_{xx}f_{yy} - f_{xy}^2 = ۲ \times ۲ - 0^2 = ۴$$

چون $\Delta > 0$ و $f_{xx} > 0$ ، پس نقطه بحرانی، نقطه مینیمم می‌باشد.

کلمه مثال ۴۹: ماکسیمم و مینیمم تابع $f(x, y) = x^2 - y^2$ نسبت به قید $x^2 + y^2 = ۱$ کدام‌اند؟ (صنایع - سیستم - سراسری ۸۶)

(۱) $-۱, 0$ (۲) $-۱, ۱$ (۳) $0, ۱$ (۴) $-\frac{\sqrt{۲}}{۲}, \frac{\sqrt{۲}}{۲}$

پاسخ: گزینه «۲» واضح است که ماکسیمم به ازای $x = ۱$ و $y = 0$ به دست می‌آید و مقدار آن $f(۱, 0) = ۱$ است و همچنین مینیمم به ازای $x = 0$ و $y = ۱$ حاصل می‌شود و مقدار مینیمم برابر $-۱ = f(0, ۱)$ است.



کله مثال ۵۰: ماکسیمم و مینیمم مطلق تابع $f(x,y) = 4x^2 + 2xy - 3y^2$ بر روی مربع $0 \leq x \leq 1, 0 \leq y \leq 1$ به ترتیب کدامند؟ (آمار - سراسری ۸۷)

- (۱) $0, 0$ (۲) $0, 4$ (۳) $-\frac{13}{3}, -3$ (۴) $3, -3$

پاسخ: گزینه «۳» نقاط مرزی مربع نقاط $A(0,0)$ ، $B(1,0)$ و $C(0,1)$ و $D(1,1)$ می‌باشند که با جایگزین این نقاط در f و $f(A) = 0$ و $f(B) = 4$ و $f(D) = 3$ و $f(C) = -3$ به دست می‌آید. حال لازم است مقدار f را روی اضلاع مربع نیز پیدا کنیم:

$$\begin{array}{llll} C_1 = x = 0 & 0 \leq y \leq 1 & f_{C_1}(y) = -3y^2 & f'_{C_1} = -6y = 0 \Rightarrow y = 0 \Rightarrow f(0,0) = 0 \\ C_2 = x = 1 & 0 \leq y \leq 1 & f_{C_2}(y) = 4 + 2y - 3y^2 & f'_{C_2} = 2 - 6y = 0 \Rightarrow y = \frac{1}{3} \Rightarrow f(1, \frac{1}{3}) = \frac{13}{3} \\ C_3 = y = 0 & 0 \leq x \leq 1 & f_{C_3}(x) = 4x^2 & f'_{C_3} = 8x \Rightarrow x = 0 \Rightarrow f(0,0) = 0 \\ C_4 = y = 1 & 0 \leq x \leq 1 & f_{C_4}(x) = 4x^2 + 2x - 3 & f'_{C_4} = 8x + 2 \Rightarrow x = -\frac{1}{4} \text{ غق ق} \end{array}$$

بنابراین ماکسیمم مطلق f برابر $\frac{13}{3}$ و مینیمم مطلق f برابر -3 می‌باشد.

کله مثال ۵۱: مقدار مینیمم تابع $f(x,y) = x^2 - 4x + y^2 - y - xy$ برابر است با: (نفت - سراسری ۸۷)

- (۱) -7 (۲) 2 (۳) 7 (۴) -2

$$\begin{cases} \frac{\partial f}{\partial x} = 2x - y - 4 = 0 \\ \frac{\partial f}{\partial y} = 2y - x - 1 = 0 \end{cases} \Rightarrow x = 3, y = 2 \Rightarrow f(3,2) = -7$$

پاسخ: گزینه «۱»

کله مثال ۵۲: بیشترین مقدار تابع $z = x^2 + 2xy$ با شرط $z = x^2 + 2xy = 6$ کدام است؟ (صنایع غذایی - سراسری ۸۸)

- (۱) 8 (۲) 9 (۳) 12 (۴) 14

$$\begin{cases} 2x + y = 6 \\ 2x + 2y = \frac{2x}{1} \end{cases} \Rightarrow \begin{cases} 2x + y = 6 \\ y = x \end{cases} \Rightarrow x = y = 2 \Rightarrow z = 12$$

پاسخ: گزینه «۳» از روش ضرایب لاگرانژ استفاده می‌کنیم.

کله مثال ۵۳: تابع $z = 12xy - 3y^2 - x^2$ مفروض است. اگر داشته باشیم $x + y \leq 16$ ، ماکزیمم این تابع چقدر است؟ (معدن - سراسری ۸۸)

- (۱) 108 (۲) 405 (۳) 528 (۴) 652

پاسخ: گزینه «۳» در واقع می‌خواهیم تابع $z = 12xy - 3y^2 - x^2$ را تحت قید $x + y = 16$ ماکزیمم کنیم. بدین منظور از روش ضرایب لاگرانژ استفاده می‌کنیم.

$$\begin{cases} x + y = 16 \\ 12y - 2x = 12x - 6y \end{cases} \Rightarrow \begin{cases} x + y = 16 \\ 9y = 7x \end{cases} \Rightarrow x = 9, y = 7$$

با جایگزینی مقادیر به دست آمده در بالا در تابع z ، مقدار تابع برابر 528 به دست می‌آید.

کله مثال ۵۴: کدام گزینه برای تابع $f(x,y) = 4xy - x^4 - y^4$ درست است؟ (ریاضی - سراسری ۸۹)

- (۱) $(0,0)$ یک نقطه زینی و $(1,1)$ ماکسیمم موضعی است. (۲) $(1,1)$ یک نقطه زینی و $(0,0)$ مینیمم موضعی است.
(۳) $(0,0)$ مینیمم موضعی و $(1,1)$ ماکسیمم موضعی است. (۴) $(1,1)$ مینیمم موضعی و $(0,0)$ یک نقطه زینی است.

پاسخ: گزینه «۱» ابتدا نقاط بحرانی f را به دست می‌آوریم.

$$\begin{cases} f_x = 4y - 4x^3 = 0 \\ f_y = 4x - 4y^3 = 0 \end{cases} \Rightarrow \begin{cases} y = x^3 \\ x = y^3 \end{cases} \Rightarrow \text{نقاط } (0,0) \text{ و } (1,1) \text{ و } (-1,-1) \text{ بحرانی هستند.}$$

$$\Delta = f_{xx}f_{yy} - f_{xy}^2 = (-12x^2)(-12y^2) - 4^2 = 144x^2y^2 - 16$$

در نقطه بحرانی $A(0,0)$ ، مقدار Δ منفی می‌باشد، پس A ، نقطه زینی است.
و در نقطه $B(1,1)$ مقدار Δ مثبت و f_{xx} منفی است، پس B نقطه ماکزیمم موضعی است.

مثال ۵۵: مقدار تابع $f(x,y) = 2x^2 - 6xy + 3y^2$ در نقطه مینیمم نسبی آن کدام است؟ (صنایع غذایی - سراسری ۸۹)

- (۱) $-\frac{3}{2}$ (۲) -2 (۳) -1 (۴) صفر

پاسخ: گزینه «۳» از معادله دوم $y = x$ به دست می‌آید که با جایگذاری در معادله اول به $x^2 = x$ می‌رسیم که از آن $x = 0$ و $x = 1$ حاصل می‌شود بنابراین نقاط $A(0,0)$ و $B(1,1)$ نقاط بحرانی هستند.

$$\begin{cases} f_x = 6x^2 - 6y = 0 \Rightarrow 6x^2 = 6y \\ f_y = -6x + 6y = 0 \Rightarrow 6x = 6y \Rightarrow x = y \end{cases} \Rightarrow \begin{cases} (x,y) = (0,0) \\ (x,y) = (1,1) \end{cases}$$

$$f_{xx} = 12x, f_{yy} = 6, f_{xy} = -6$$

$$(x,y) = (0,0) \Rightarrow \Delta = 0 - (-6)^2 < 0 \Rightarrow \text{نقطه زینی است}$$

$$(x,y) = (1,1) \Rightarrow \Delta = (12)(6) - (36) > 0, f_{xx}(1,1) = 12 > 0 \Rightarrow \text{نقطه } (1,1), \text{ مینیمم نسبی است. } f(1,1) = 2 - 6 + 3 = -1$$

مثال ۵۶: نقاط بحرانی تابع با ضابطه $z = 3x^2 - x^3 + 3y^2 + 4y$ چگونه‌اند؟ (MBA - سراسری ۹۰)

- (۱) زینی - زینی (۲) مینیمم - زینی (۳) مینیمم - ماکسیمم (۴) ماکسیمم - زینی

پاسخ: گزینه «۲» با در نظر گرفتن $z(x,y) = f(x,y) = 3x^2 - x^3 + 3y^2 + 4y$ ، ابتدا نقاط بحرانی را محاسبه می‌کنیم:

$$\frac{\partial z}{\partial x} = 6x - 3x^2 = f_x, \quad \frac{\partial z}{\partial y} = 6y + 4 = f_y$$

حال برای نقاط بحرانی معادله $\vec{\nabla}F = 0$ را حل می‌کنیم که از حل آن به دست می‌آوریم:

$$\begin{cases} x = 0, y = -\frac{2}{3} \\ x = 2, y = -\frac{2}{3} \end{cases}$$

پس $(0, -\frac{2}{3})$ ، $(2, -\frac{2}{3})$ نقاط بحرانی‌اند. طبق تعریف نوع نقاط بحرانی را مشخص می‌کنیم.

$$f_{xy} = 0, \quad f_{xx} = 6 - 6x = 6, \quad f_{yy} = 6 \Rightarrow \Delta = 6(6 - 6x) - 0 = 36(1 - x)$$

اگر $\Delta = f_{xx}f_{yy} - f_{xy}^2$ را در نظر بگیریم، برای $x = 0$ ، $\Delta > 0$ و $f_{xx} > 0$ لذا $(0, -\frac{2}{3})$ نقطه مینیمم نسبی و برای $x = 2$ ، $\Delta < 0$ ، نقطه $(2, -\frac{2}{3})$ یک نقطه زینی است.

مثال ۵۷: ماکزیمم و مینیمم مقید تابع $f(x,y) = x^2 + y^2$ نسبت به شرط $x^2 - 2x + y^2 - 4y = 0$ ، کدام است؟ (ریاضی - سراسری ۹۰)

- (۱) $\text{Max } f = 20, \text{Min } f = 0$ (۲) $\text{Max } f = 0, \text{Min } f = -10$ (۳) $\text{Max } f = 10, \text{Min } f = 0$ (۴) $\text{Max } f = 0, \text{Min } f = -20$

پاسخ: گزینه «۱» برای یافتن اکسترمم مطلق تابع $f(x,y)$ نسبت به شرط $g(x,y) = 0$ طبق روش ضرایب لاگرانژ داریم:

$$\begin{cases} \vec{\nabla}f(x,y) = \lambda \vec{\nabla}g(x,y) \\ g(x,y) = 0 \end{cases}, \quad f(x,y) = x^2 + y^2, \quad g(x,y) = x^2 - 2x + y^2 - 4y$$

$$\begin{cases} 2x = \lambda(2x - 2) \Rightarrow x = \lambda x - \lambda \Rightarrow \lambda = x(\lambda - 1) \Rightarrow x = \frac{\lambda}{\lambda - 1} & (1) \end{cases}$$

$$\begin{cases} 2y = \lambda(2y - 4) \Rightarrow y = \lambda y - 2\lambda \Rightarrow 2\lambda = y(\lambda - 1) \Rightarrow y = \frac{2\lambda}{\lambda - 1} & (2) \end{cases}$$

$$\begin{cases} g(x,y) = 0 \Rightarrow x^2 - 2x + y^2 - 4y = 0 & (3) \end{cases}$$

روابط (۱) و (۲) را در رابطه (۳) جایگذاری می‌کنیم.

$$\frac{\lambda^2}{(\lambda - 1)^2} - 2\left(\frac{\lambda}{\lambda - 1}\right) + \frac{4\lambda^2}{(\lambda - 1)^2} - 4\left(\frac{2\lambda}{\lambda - 1}\right) = 0 \Rightarrow \lambda(\lambda - 2(\lambda - 1) + 4\lambda - 8(\lambda - 1)) = \lambda(10 - 5\lambda) = 0 \Rightarrow \begin{cases} \lambda = 0 \\ \lambda = 2 \end{cases}$$

$$\begin{cases} \lambda = 0 \Rightarrow x = 0, y = 0 \Rightarrow (0,0) \\ \lambda = 2 \Rightarrow x = 2, y = 4 \Rightarrow (2,4) \end{cases}$$

بنابراین نقاط بحرانی تابع $f(x,y)$ تحت قید $g(x,y)$ عبارتند از:

$$\begin{cases} f(0,0) = 0 + 0 = 0 \\ f(2,4) = 4 + 16 = 20 \end{cases} \Rightarrow \min f = 0, \max f = 20$$

حال نقاط $(0,0)$ و $(2,4)$ را در تابع $f(x,y)$ جایگذاری می‌کنیم.



(علوم کامپیوتر - سراسری ۹۰)

کج مثال ۵۸: اکستریم‌های تابع $f(x,y) = x^2 - y^2$ با شرط $xy = 1$ کدام است؟

(۴) اکستریم وجود ندارد.

(۳) ۱ و -۱

(۲) ۱ و ۰

(۱) ۰ و -۱

$$y = \frac{1}{x}$$

پاسخ: گزینه «۴» ابتدا با استفاده از شرط داده شده متغیر y را بر حسب متغیر x می‌یابیم.

$$f(x, \frac{1}{x}) = x^2 - \frac{1}{x^2} \Rightarrow k(x) = \frac{x^4 - 1}{x^2}$$

با جایگذاری رابطه فوق در ضابطه تابع f آن را به یک تابع یک متغیره تبدیل می‌کنیم.

حال برای یافتن نقاط اکستریم تابع $k(x)$ همانند توابع یک متغیره عمل می‌کنیم.

$$k'(x) = \frac{4x^3 \times x^2 - 2x(x^4 - 1)}{x^4} = \frac{4x^5 - 2x^5 + 2}{x^4} = \frac{2x^5 + 2}{x^4} \neq 0$$

رابطه فوق هیچگاه صفر نمی‌شود، بنابراین تابع $k(x)$ و در نتیجه تابع دو متغیره $f(x,y)$ فاقد نقطه بحرانی است، بنابراین برای این تابع اکستریم وجود ندارد.

(کشاورزی - سراسری ۹۰)

کج مثال ۵۹: کمترین مقدار تابع $z = xy + \frac{\lambda}{x} + \frac{\lambda}{y}$ کدام است؟(۴) $8\sqrt{2}$

(۳) ۱۶

(۲) ۱۲

(۱) ۸

پاسخ: گزینه «۲» ابتدا نقطه بحرانی تابع Z را به دست می‌آوریم.

$$\left. \begin{aligned} f_x &= y - \frac{\lambda}{x^2} = 0 \\ f_y &= x - \frac{\lambda}{y^2} = 0 \end{aligned} \right\} \Rightarrow y - \frac{\lambda}{64} = 0 \Rightarrow y^3 = \lambda \Rightarrow y = 2, x = 2$$

$$f_{xx} = \frac{16}{x^3}, f_{yy} = \frac{16}{y^3}, f_{xy} = 1 \Rightarrow \Delta = f_{xx}f_{yy} - f_{xy}^2 \Big|_{(2,2)} = 2 \times 2 - 1 = 3 > 0$$

برای تشخیص نوع نقطه بحرانی فوق داریم:

در نتیجه نقطه $(2,2)$ یک نقطه اکستریم نسبی است، از آنجایی که $\Delta > 0$ می‌باشد در نتیجه نقطه $(2,2)$ یک نقطه مینیمم نسبی است. و مقدار تابع Z در نقطه $(2,2)$ برابر ۱۲ است.

(کشاورزی - سراسری ۹۰)

کج مثال ۶۰: نقطه بحرانی تابع $z = x^2y - y^2 + 8x$ چگونه است؟

(۴) مینیمم مطلق

(۳) مینیمم نسبی

(۲) ماکزیمم

(۱) زینی

$$z = x^2y - y^2 + 8x$$

پاسخ: گزینه «۱» ابتدا نقاط بحرانی را به دست می‌آوریم:

$$\left. \begin{aligned} z_x &= 2xy + 8 = 0 \Rightarrow y = \frac{-4}{x} \\ z_y &= x^2 - 2y = 0 \end{aligned} \right\} \Rightarrow x^2 + \frac{\lambda}{x} = 0 \Rightarrow x = -2, y = 2$$

$$z_{xx} = 2y, z_{yy} = -2, z_{xy} = 2x$$

برای تعیین نوع نقاط بحرانی Δ را تشکیل می‌دهیم:

$$\Delta = z_{xx}z_{yy} - z_{xy}^2 = -4y - (2x)^2 \Big|_{(-2,2)} = -8 - 16 = -24 < 0$$

چون $\Delta < 0$ به دست آمده در نتیجه نقطه بحرانی $(-2,2)$ یک نقطه زینی می‌باشد.



مدرسان شریف

فصل چهارم

«انتگرال‌های چندگانه»

درسنامه: محاسبه‌ی انتگرال‌های دوگانه

مثال ۱: حاصل انتگرال دوگانه‌ی $\int_0^{\pi} \int_0^{\frac{\pi}{4}} [\sin(x+2y) + \sin(x-2y)] dy dx$ کدام است؟

$\frac{1}{2}$ (۴)

$\frac{\pi}{2}$ (۳)

۲ (۲)

2π (۱)

پاسخ: گزینه «۲» می‌دانیم که $\sin \alpha \cos \beta = \frac{1}{2} [\sin(\alpha + \beta) + \sin(\alpha - \beta)]$ است. در نتیجه عبارت جلوی انتگرال برابر است با $f(x, y) = 2 \sin x \cos 2y$

یعنی حاصل ضرب دو تابع یک متغیره است. در ضمن حدود انتگرال هم اعداد ثابت هستند. پس می‌توانیم به این صورت انتگرال‌ها را جدا کنیم:

$$I = \left(\int_0^{\pi} \sin x dx \right) \left(\int_0^{\frac{\pi}{4}} 2 \cos 2y dy \right) = [-\cos x]_0^{\pi} \times [\sin 2y]_0^{\frac{\pi}{4}} = 2 \times 1 = 2$$

طبیعی است اگر این کار را نمی‌کردیم، حجم محاسبات کمی بیشتر می‌شد.

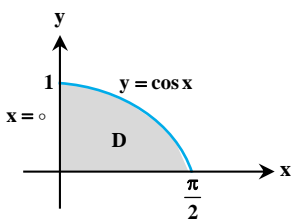
مثال ۲: مقدار انتگرال $I = \int_0^1 \int_0^{\cos^{-1} y} \sin^2 x dx dy$ کدام است؟

$\frac{1}{5}$ (۴)

$\frac{2}{11}$ (۳)

$\frac{1}{11}$ (۲)

$\frac{1}{10}$ (۱)



پاسخ: گزینه «۲» تابع زیر انتگرال $f(x) = \sin^2 x$ یک متغیره و بر حسب x است. بنابراین با

جابجا کردن متغیرها dy را به انتگرال میانی می‌آوریم. برای این کار ابتدا باید ناحیه‌ی D را تشخیص

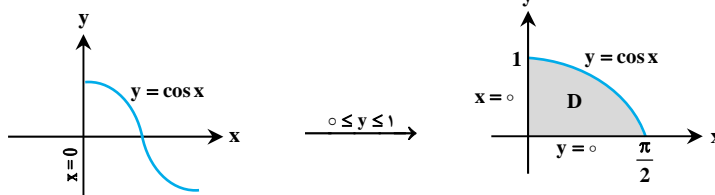
دهیم. پس کران‌های انتگرال میانی را رسم می‌کنیم. آن‌ها کران‌های x هستند؛ یعنی خط $x = 0$ و منحنی $y = \cos^{-1} x$ را رسم می‌کنیم. معادله‌ی $x = \cos^{-1} y$ همان $y = \cos x$ است. به محدودیت $0 \leq y \leq 1$

در اینجا لازم است مطلبی را توضیح دهیم. اول آن که رسم منحنی $y = \cos x$ به طور کامل برخی از دانشجویان را ممکن است سردرگم کند. اگر ما بدون دقت، خط $x = 0$ (محور y ‌ها) و منحنی $y = \cos x$ را رسم کنیم، به شکل مقابل می‌رسیم. حالا نواحی مختلفی به وجود می‌آیند و ممکن است در تشخیص

محل D دچار اشتباه شویم، دیگر حتی محدودیت $0 \leq y \leq 1$ نیز نمی‌تواند در یافتن ناحیه‌ی D به ما کمک کند.

برای این که دچار چنین اشکالاتی نشوید باید کمی ظرافت به خرج دهید. کران‌های انتگرال میانی مربوط به متغیر x هستند. پس، از چپ به راست، ناحیه‌ی مابین خط $x = 0$ و منحنی $x = \cos^{-1} y$ (یعنی $y = \cos x$) است. بنابراین فقط ناحیه‌ای را که از $x = 0$ تا منحنی کسینوس ادامه دارد در نظر

بگیرید. لازم نیست منحنی $y = \cos x$ را کامل رسم کنید.



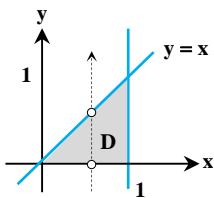
حالا محدودیت $0 \leq y \leq 1$ نیز کمک می‌کند تا محدوده‌ی دقیق مرزهای D را تعیین کنیم. به هر حال، پس از رسم ناحیه‌ی D ، حدود انتگرال دوگانه را برای ترتیب $\iint_D \sin^{10} x \, dy \, dx$ مشخص می‌کنیم. ابتدا کران‌های x را به صورت $0 \leq x \leq \frac{\pi}{2}$ می‌نویسیم و سپس برای تشخیص حدود y از پایین به بالا حرکت می‌کنیم. $y = 0$ مرز ورودی و $y = \cos x$ مرز خروجی است. پس $0 \leq y \leq \cos x$ است و بنابراین فقط حل انتگرال باقی می‌ماند:

$$I = \int_0^{\frac{\pi}{2}} \int_0^{\cos x} \sin^{10} x \, dy \, dx = \int_0^{\frac{\pi}{2}} \left[y \sin^{10} x \right]_0^{\cos x} dx = \int_0^{\frac{\pi}{2}} \cos x \sin^{10} x \, dx = \left[\frac{\sin^{11} x}{11} \right]_0^{\frac{\pi}{2}} = \frac{1}{11}$$

کج مثال ۳: مقدار $I = \iint_D \frac{\sin x}{x} \, dA$ که در آن D مثلثی واقع در صفحه xOy و محدود به محور x ها، خط $y = x$ و خط $x = 1$ می‌باشد، کدام است؟

- (۱) $1 - \cos 1$ (۲) $1 + \cos 1$ (۳) $\cos 1 - 1$ (۴) صفر

پاسخ: گزینه «۱» تابع $f(x) = \frac{\sin x}{x}$ یک متغیره و برحسب x است، در نتیجه ترجیح می‌دهیم dy به انتگرال میانی برود و dx مربوط به انتگرال بیرونی باشد. پس ترتیب $I = \iint_D \frac{\sin x}{x} \, dy \, dx$ را انتخاب می‌کنیم. در واقع انتگرال $\int \frac{\sin x}{x} \, dx$ با روش‌های مرسوم انتگرال‌گیری قابل حل نیست. اما



انتگرال $\int \frac{\sin x}{x} \, dy$ به سادگی حل می‌شود چون $\frac{\sin x}{x}$ به عدد ثابت تبدیل می‌شود.

در ادامه، ابتدا حدود x را به صورت دو عدد ثابت و حدود y را برحسب x پیدا می‌کنیم. با توجه به شکل $0 \leq x \leq 1$ است و اگر از پایین به بالا حرکت کنیم $y = 0$ مرز ورودی و $y = x$ مرز خروجی است.

$$I = \int_0^1 \int_0^x \frac{\sin x}{x} \, dy \, dx = \int_0^1 \left[y \cdot \frac{\sin x}{x} \right]_0^x dx = \int_0^1 \sin x \, dx = [-\cos x]_0^1 = 1 - \cos 1$$

کج مثال ۴: اگر $\iint_D e^{\sin x \cos y} \, dA$ که در این جا D دایره‌ای به مرکز مبدأ مختصات و به شعاع ۲ است، آن‌گاه کدام گزینه زیر، دقیق‌تر از سایرین، حدود

تغییرات I را نشان می‌دهد؟

- (۱) $\frac{4\pi^2 e}{\sqrt{e}} < I < \frac{4\pi^2 e^2}{\sqrt{e}}$ (۲) $\frac{4\pi}{e} < I < 4\pi e$ (۳) $\frac{4\pi}{e} \leq I \leq 4\pi e$ (۴) $\frac{4\pi^2 e}{\sqrt{e}} \leq I \leq \frac{4\pi^2 e^2}{\sqrt{e}}$

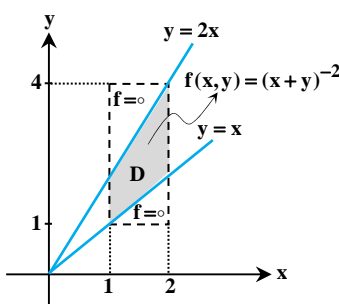
پاسخ: گزینه «۳» با توجه به نکته (۴) جواب به سؤال راحت است. اولاً توجه کنید که $\sin x$ و $\cos y$ هر یک بین ۱ و -۱ تغییرات دارند، در واقع داریم:

$$\left. \begin{aligned} -1 \leq \sin x \leq 1 \\ -1 \leq \cos y \leq 1 \end{aligned} \right\} \Rightarrow -1 \leq \sin x \cos y \leq 1 \Rightarrow e^{-1} \leq e^{\sin x \cos y} \leq e^1$$

بنابراین مینیمم تابع زیر انتگرال $m = e^{-1}$ و ماکزیمم آن $M = e^1$ است. از طرفی مساحت ناحیه D برابر با $4\pi = \pi(2)^2$ است و لذا حدود I به صورت مقابل است:

کج مثال ۵: فرض کنید f روی مستطیل $Q = [1, 2] \times [1, 4]$ به صورت روبه‌رو تعریف شده است: $f(x, y) = \begin{cases} (x+y)^{-2} & ; x \leq y \leq 2x \\ 0 & ; \text{در غیر این صورت} \end{cases}$ حاصل $\iint_Q f(x, y) \, dx \, dy$ کدام است؟

- (۱) $\frac{\ln 2}{6}$ (۲) $\frac{\ln 2}{3}$ (۳) $\frac{\ln 2}{4}$ (۴) $\frac{\ln 2}{2}$



پاسخ: گزینه «۱» مستطیل $Q = [1, 2] \times [1, 4]$ در ناحیه‌ی $1 \leq x \leq 2$ و $1 \leq y \leq 4$ قرار دارد. خطوط $y = x$ و $y = 2x$ را نیز در نظر می‌گیریم:

مستطیل Q به سه ناحیه شکسته می‌شود که در دو تا از آن‌ها مطابق شکل مقدار $f(x, y)$ برابر با صفر است در نتیجه حاصل انتگرال روی این دو ناحیه صفر می‌شود. در نتیجه کفایت حاصل انتگرال را روی ناحیه‌ی D که بین خطوط $y = x$ و $y = 2x$ قرار دارد و در آن $1 \leq x \leq 2$ است محاسبه کنیم:

$$\iint_Q f(x, y) \, dy \, dx = 0 + 0 + \iint_D f(x, y) \, dy \, dx = \int_1^2 \int_x^{2x} (x+y)^{-2} \, dy \, dx = \int_1^2 \left[\frac{-1}{x+y} \right]_x^{2x} dx = \int_1^2 \frac{-1}{x} dx = \left[-\ln x \right]_1^2 = \frac{\ln 2}{6}$$

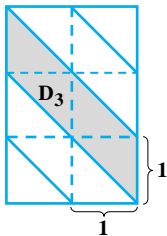
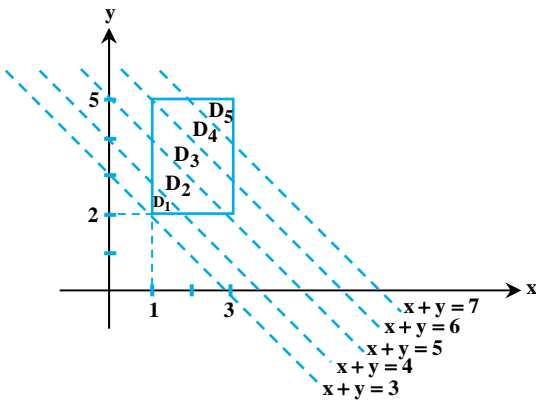
کله مثال ۶: اگر $[x]$ نمایانگر بخش صحیح عدد x باشد، حاصل $I = \iint [x+y] dA$ در صورتی که R ناحیه $1 \leq x \leq 3$ و $2 \leq y \leq 5$ باشد، چقدر می‌شود؟

۳۰ (۴)

۱۵ (۳)

۲۰ (۲)

۱۰ (۱)



پاسخ: گزینه «۴» این که حاصل $[x+y]$ چه عددی باشد بستگی به این دارد که $x+y$ بین کدام دو عدد صحیح متوالی قرار بگیرد. برای مثال در ناحیه‌ای که $2 \leq x+y < 3$ است داریم $[x+y] = 2$. به همین دلیل باید خطوط $x+y = m$ را برای اعداد صحیح مختلف $m = 0, 1, 2, \dots$ رسم کنیم و ببینیم مستطیل $1 \leq x \leq 3$ و $2 \leq y \leq 5$ توسط این خطوط به چند ناحیه تقسیم می‌شود. مطابق شکل، ۵ ناحیه به دست می‌آید. در ناحیه D_1 داریم $3 \leq x+y < 4$ پس $[x+y] = 3$. به همین ترتیب در هر ناحیه مقدار تابع جزء صحیح را محاسبه می‌کنیم:

$$\begin{aligned} \iint [x+y] dA &= \iint_{D_1} 3 dA + \iint_{D_2} 4 dA + \iint_{D_3} 5 dA + \iint_{D_4} 6 dA + \iint_{D_5} 7 dA \\ &= 3 \times \frac{1}{2} + 4 \times \frac{3}{2} + 5 \times \frac{4}{2} + 6 \times \frac{3}{2} + 7 \times \frac{1}{2} = \frac{3}{2} + \frac{12}{2} + \frac{20}{2} + \frac{18}{2} + \frac{7}{2} = 30 \end{aligned}$$

به عنوان مثال روی ناحیه D_3 داریم:

$\iint_{D_3} 5 dA = 5 \times (\text{مساحت } D_3)$
برای تعیین مساحت D_3 بهتر است آن را به تعدادی مثلث تقسیم کنید.
ناحیه D_3 از ۴ مثلث کوچک تشکیل شده است که مساحت هر کدام $\frac{1}{4}$ واحد است. پس مساحت D_3 برابر است با $\frac{4}{4} = 1$. برای سایر نواحی هم از شمارش تعداد مثلث‌ها استفاده کنید.

کله مثال ۷: حاصل $I = \iint_D (2 + x^2 y^2) dA$ در صورتی که D درون بیضی $\frac{x^2}{4} + y^2 = 1$ باشد، کدام است؟

4π (۴)

2π (۳)

π (۲)

π (۱)

پاسخ: گزینه «۴» با تبدیل x به $-x$ معادله بیضی (ناحیه D) تغییر نمی‌کند، همچنین تابع $x^2 y^2$ نسبت به x فرد است پس حاصل $\iint_D x^2 y^2 dA$ روی این ناحیه برابر صفر است، بنابراین مقدار I برابر $2 \iint_D dA$ یا دو برابر مساحت درون بیضی است یعنی $I = 2(2\pi) = 4\pi$ است.

کله مثال ۸: اگر D ناحیه $D = \{(x, y) | x^2 + y^2 \leq 2\}$ باشد، آن‌گاه حاصل $I = \iint_D (x^{1396} \tan x + y^{1395} + 697) dA$ چند برابر π است؟

۲۷۸۸ (۴)

۱۳۹۶ (۳)

۱۳۹۵ (۲)

۱۳۹۴ (۱)

پاسخ: گزینه «۱» در معادله $x^2 + y^2 = 2$ تبدیل x به $-x$ یا y به $-y$ تغییری ایجاد نمی‌کند. البته این دایره آنقدر شناخته شده است که بدون این بررسی‌ها هم می‌دانیم نسبت به محورهای x و y تقارن دارد.

تابع $x^{1396} \tan x$ نسبت به x فرد است، همچنین y^{1395} نسبت به y فرد است، بنابراین داریم $\iint_D (x^{1396} \tan x + y^{1395}) dA = 0$ به این ترتیب خواهیم داشت:

$$I = \iint_D 697 dA = 697 \times (\text{مساحت } D) = 697 \times 2\pi = 1394\pi$$

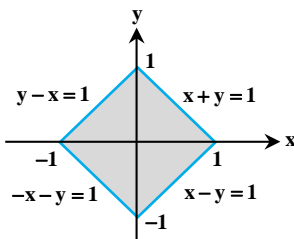
کله مثال ۹: حاصل $I = \iint_{|x|+|y| \leq 1} (|x| + |y|) dx dy$ برابر کدام گزینه است؟

۲ (۴)

$\frac{8}{3}$ (۳)

$\frac{4}{3}$ (۲)

$\frac{5}{3}$ (۱)



پاسخ: گزینه «۲» ناحیه انتگرال‌گیری نسبت به هر دو محور x و y تقارن دارد. زیرا در معادله $|x| + |y| = 1$ تبدیل x به $-x$ و y به $-y$ تغییری ایجاد نمی‌کند. از طرفی تابع زیر انتگرال هم نسبت به x و y زوج است، پس می‌توانیم فقط ربع اول از این ناحیه را در نظر گرفته و جواب انتگرال را چهار برابر کنیم.

$$I = 4 \int_0^1 \int_0^{1-x} (x+y) dy dx \Rightarrow I = 4 \int_0^1 \left[\frac{(x+y)^2}{2} \right]_0^{1-x} dx = 4 \int_0^1 \left(\frac{1}{2} - \frac{x^2}{2} \right) dx = 2 \left[x - \frac{x^3}{3} \right]_0^1 = \frac{4}{3}$$

کلمه مثال ۱۰: اگر ناحیه D درون دایره $x^2 + y^2 = 4$ و ناحیه بین $x = \sqrt{3}y$ و $y = \sqrt{3}x$ در ربع اول و سوم باشد، آن‌گاه حاصل $I = \iint_D \frac{\sin x^2}{\sin x^2 + \sin y^2} dA$ کدام است؟

(۴) $\frac{\pi}{3}$

(۳) $\frac{\pi}{6}$

(۲) $\frac{2\pi}{3}$

(۱) $\frac{4\pi}{3}$

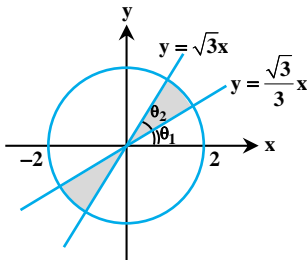
پاسخ: گزینه «۴» معادله‌ی ناحیه D ، درون دایره $x^2 + y^2 = 4$ و محدود به مرزهای $x = \sqrt{3}y$ و $y = \sqrt{3}x$ است. هرگاه در تمام این معادلات

جای x و y را با هم عوض کنیم، باز هم به همین سه معادله می‌رسیم، پس انتگرال I با انتگرال مقابل برابر است:

$$I = \iint_D \frac{\sin y^2}{\sin x^2 + \sin y^2} dA$$

با جمع طرفین دو رابطه‌ی فوق داریم:

$$2I = \iint_D \frac{\sin x^2 + \sin y^2}{\sin x^2 + \sin y^2} dA \Rightarrow I = \frac{1}{2} \iint_D dA = \frac{1}{2} (\text{مساحت ناحیه } D)$$



حالا کافیست مساحت ناحیه D را حساب کنیم و برای این کار، مساحت یکی از دو قطاع را حساب کرده و آن را در عدد ۲ ضرب می‌کنیم. اما برای به‌دست آوردن مساحت یک قطاع توجه کنید که داریم:

$$\left. \begin{aligned} y = \frac{\sqrt{3}}{3}x &\Rightarrow \theta_1 = \text{tg}^{-1}\left(\frac{y}{x}\right) = \text{tg}^{-1}\left(\frac{\sqrt{3}}{3}\right) = \frac{\pi}{6} \\ y = \sqrt{3}x &\Rightarrow \theta_2 = \text{tg}^{-1}\left(\frac{y}{x}\right) = \text{tg}^{-1}(\sqrt{3}) = \frac{\pi}{3} \end{aligned} \right\} \Rightarrow \theta = \theta_2 - \theta_1 = \frac{\pi}{3} - \frac{\pi}{6} = \frac{\pi}{6}$$

پس مساحت ناحیه D ، ۲ برابر مساحت ناحیه یک قطاع است. چون مساحت یک قطاع برابر با $\frac{\pi}{3}$ است، بنابراین مساحت دو قطاع $\frac{2\pi}{3}$ می‌شود.

پس خواهیم داشت:

$$I = \frac{1}{2} (\text{مساحت } D) = \frac{1}{2} \left(\frac{2\pi}{3}\right) = \frac{\pi}{3}$$

یادآوری: مساحت یک قطاع از دایره‌ای به شعاع r ، برابر با مقدار زیر است:

$$S_{\text{قطاع}} = \frac{1}{2} \times r^2 \times \theta$$

در این سؤال $\theta = \frac{\pi}{6}$ و $r = 2$ ، بنابراین مساحت یک قطاع به‌صورت مقابل حساب شد:

$$S = \frac{1}{2} \times 2^2 \times \frac{\pi}{6} = \frac{\pi}{3}$$

(صنایع - سیستم - سراسری ۷۸)

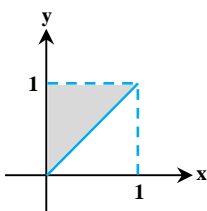
کلمه مثال ۱۱: مقدار $\int_0^1 \int_x^1 \sqrt{1-y^2} dy dx$ برابر است با:

(۴) $\frac{2}{3}$

(۳) ۱

(۲) $\frac{2}{3}$

(۱) $\frac{1}{3}$



پاسخ: گزینه «۱» با توجه به شکل مقابل با تعویض ترتیب انتگرال‌گیری داریم:

$$\int_0^1 \int_x^1 \sqrt{1-y^2} dy dx = \int_0^1 \int_0^y \sqrt{1-y^2} dx dy = \int_0^1 y \sqrt{1-y^2} dy = \left. \frac{-1}{3} (1-y^2)^{\frac{3}{2}} \right|_0^1 = \frac{1}{3}$$

(عمران - سراسری ۷۹)

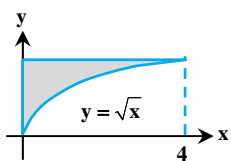
کلمه مثال ۱۲: مقدار انتگرال دوگانه $\int_0^2 \int_{\sqrt{x}}^2 \cos(y^3) dy dx$ چقدر است؟

(۴) $1/3^3^3^3$

(۳) $\frac{\sin 8}{2}$

(۲) $\frac{\sin 8}{3}$

(۱) $\frac{\sin 8}{6}$



پاسخ: گزینه «۲» با توجه به شکل مقابل ترتیب انتگرال‌گیری را عوض می‌کنیم:

$$\int_0^2 \int_{\sqrt{x}}^2 \cos(y^3) dy dx = \int_0^2 \int_0^y \cos(y^3) dx dy = \int_0^2 y^2 \cos(y^3) dy = \left. \frac{1}{3} \sin(y^3) \right|_0^2 = \frac{1}{3} \sin 8$$

کله مثال ۱۳: مقدار $\int_0^4 \int_{\sqrt{y}}^2 \sqrt{x^2+1} dx dy$ کدام است؟

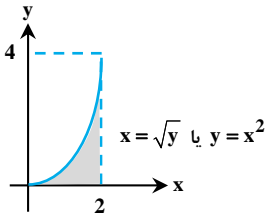
(صنایع - سیستم - سراسری ۷۹)

(۴) $\frac{52}{9}$

(۳) $\frac{26}{9}$

(۲) $\frac{26}{3}$

(۱) $\frac{17}{3}$



پاسخ: گزینه «۴» با توجه به شکل مقابل با تعویض ترتیب انتگرال‌گیری خواهیم داشت:

$$\int_0^4 \int_{\sqrt{y}}^2 \sqrt{x^2+1} dx dy = \int_0^2 \int_0^{x^2} \sqrt{x^2+1} dy dx = \int_0^2 x^2 \sqrt{x^2+1} dx = \frac{2}{9} (x^3+1)^{\frac{3}{2}} \Big|_0^2 = \frac{52}{9}$$

کله مثال ۱۴: حاصل $\iint_D e^{2y-x} dx dy$ که در آن میدان D مثلثی با سه رأس (۱ و ۰) و (۰ و ۲) و مبدأ مختصات باشد، کدام است؟ (هستای - سراسری ۷۹)

(۴) $\frac{1}{2}(1-e^{-2})$

(۳) $\frac{1}{2}(1+e^{-2})$

(۲) $1-e^{-2}$

(۱) $\frac{1}{2}+e^{-2}$

پاسخ: گزینه «۳»

$$\iint_D e^{2y-x} dy dx = \int_0^2 \int_0^x e^{2y-x} dy dx = \int_0^2 \frac{1}{2} e^{2y-x} \Big|_0^x dx = \int_0^2 \left(\frac{1}{2} - \frac{1}{2} e^{-x} \right) dx = \left(\frac{x}{2} + \frac{1}{2} e^{-x} \right) \Big|_0^2 = \frac{1}{2}(1+e^{-2})$$

کله مثال ۱۵: اگر D مساحت مربع واحد به رئوس (۰,۰)، (۰,۱)، (۱,۱)، (۱,۰) و $f(x,y) = yx^{\frac{-1}{2}}$ باشد، مقدار انتگرال $\iint_D f(x,y) dx dy$ چقدر است؟ (مکانیک - سراسری ۸۰)

(۴) ۲

(۳) $\sqrt{2}$

(۲) ۱

(۱) $\frac{1}{2}$

$$\iint_D f(x,y) dx dy = \int_0^1 \int_0^1 yx^{-\frac{1}{2}} dx dy = 2\sqrt{x} \Big|_0^1 \times \frac{1}{2} y^2 \Big|_0^1 = 1$$

پاسخ: گزینه «۲»

کله مثال ۱۶: تابع $f(x,y)$ با دامنه تعریف $0 \leq x, y \leq 2$ به صورت تابع $f(x,y) = \begin{cases} x(2+y) & 0 \leq x \leq y \\ y(1+x^2) & y \leq x \leq 2 \end{cases}$ تعریف شده، مقدار $\iint_D f(x,y) dx dy$ چقدر می‌باشد؟ (عمران - آزاد ۸۰)

(۴) $12/2$

(۳) $11/2$

(۲) $10/2$

(۱) $9/2$

پاسخ: گزینه «۱»

$$\iint_D f(x,y) dx dy = \int_0^2 \int_0^y x(2+y) dx dy + \int_0^2 \int_y^2 y(1+x^2) dx dy = \int_0^2 \left(\frac{y^2}{2} + y^2 \right) dy + \int_0^2 \left(-\frac{y^2}{3} - y^2 + \frac{14}{3} \right) dy = \frac{14}{3} + \frac{68}{15} = 9/2$$

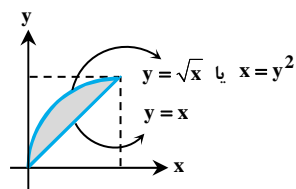
کله مثال ۱۷: حاصل $\int_0^1 dx \int_x^{\sqrt{x}} \phi(x,y) dy$ با کدام گزینه برابر است؟ (ژئوفیزیک و هواشناسی - سراسری ۸۰)

(۴) $\int_0^1 dy \int_0^y \phi(x,y) dx$

(۳) $\int_0^1 dy \int_y^y \phi(x,y) dx$

(۲) $\int_0^1 dy \int_0^{\sqrt{y}} \phi(x,y) dx$

(۱) $\int_0^1 dy \int_y^{\sqrt{y}} \phi(x,y) dx$



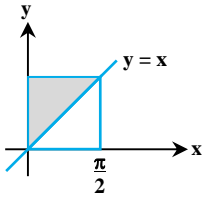
پاسخ: گزینه «۳» با توجه به ناحیه انتگرال‌گیری و تعویض ترتیب انتگرال‌گیری گزینه (۳) حاصل می‌شود.

$$\Rightarrow \int_0^1 \int_x^{\sqrt{x}} \phi(x,y) dy dx = \int_0^1 \int_y^y \phi(x,y) dx dy$$

(معدن - سراسری ۸۰)

مثال ۱۸: مقدار انتگرال $\int_0^{\frac{\pi}{2}} \int_x^{\frac{\pi}{2}} \frac{\sin y}{y} dy dx$ برابر است با:

- (۱) -۱ (۲) ۱ (۳) -۲ (۴) ۲



پاسخ: گزینه «۲» با توجه به شکل مقابل، با تعویض ترتیب انتگرال گیری داریم:

$$\int_0^{\frac{\pi}{2}} \int_x^{\frac{\pi}{2}} \frac{\sin y}{y} dy dx = \int_0^{\frac{\pi}{2}} \int_0^y \frac{\sin y}{y} dx dy = \int_0^{\frac{\pi}{2}} \sin y dy = 1$$

(ریاضی - سراسری ۸۰)

مثال ۱۹: مقدار انتگرال دوگانه $\int_0^4 \int_{x/2}^2 e^{y^2} dy dx$ برابر است با:

- (۱) $e^3 - 1$ (۲) $e^2 + 1$ (۳) $e^4 + 1$ (۴) $e^4 - 1$

پاسخ: گزینه «۴» ترتیب انتگرال گیری را عوض می‌کنیم:

$$\int_0^4 \int_{x/2}^2 e^{y^2} dy dx = \int_0^2 \int_0^{2y} e^{y^2} dx dy = \int_0^2 2y e^{y^2} dy = e^{y^2} \Big|_0^2 = e^4 - 1$$

مثال ۲۰: مقدار انتگرال دوگانه $\iint_R (x \sin y - ye^x) dx dy$ که در آن $R = \{(x,y) | -1 \leq x \leq 1, 0 < y \leq \frac{\pi}{2}\}$ برابر است با: (صنایع - سیستم - آزاد ۸۲)

- (۱) $\frac{\pi^2}{\lambda} (e^2 - e)$ (۲) $\frac{\pi^2}{\lambda} (e^{-2} - e)$ (۳) $\frac{\pi^2}{\lambda} (e + e^2)$ (۴) $\frac{\pi^2}{\lambda} (e - e^{-2})$

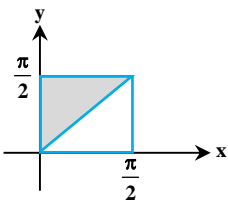
پاسخ: گزینه «۴» چون تابع $x \sin y$ فرد و ناحیه انتگرال گیری نسبت به محور y متقارن است، بنابراین انتگرال آن برابر صفر می‌شود.

$$\iint_R (x \sin y - ye^x) dx dy = \int_0^{\frac{\pi}{2}} \int_{-1}^1 -ye^x dx dy = \int_0^{\frac{\pi}{2}} -y dy \times \int_{-1}^1 e^x dx = \frac{-\pi^2}{\lambda} (e - \frac{1}{e}) = \frac{\pi^2}{\lambda} (\frac{1}{e} - e)$$

(معدن - سراسری ۸۲)

مثال ۲۱: مقدار $\int_0^{\frac{\pi}{2}} \int_x^{\frac{\pi}{2}} \frac{\cos y}{y} dy dx$ کدام است؟

- (۱) ۱ (۲) ۲ (۳) $\frac{\pi}{2}$ (۴) π



پاسخ: گزینه «۱» با تعویض ترتیب انتگرال گیری داریم:

$$\int_0^{\frac{\pi}{2}} \int_x^{\frac{\pi}{2}} \frac{\cos y}{y} dy dx = \int_0^{\frac{\pi}{2}} \int_0^y \frac{\cos y}{y} dx dy = \int_0^{\frac{\pi}{2}} \cos y dy = 1$$

(صنایع - سیستم - سراسری ۸۳)

مثال ۲۲: حاصل انتگرال $\iint xe^{x+y} dx dy$ روی ناحیه $(x,y) \in [1,2] \times (-\infty, -2]$ کدام است؟

- (۱) e (۲) -1 (۳) ۱ (۴) $e-1$

پاسخ: گزینه «۳»

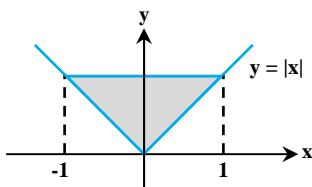
$$\int_1^2 \int_{-\infty}^{-2} xe^{x+y} dy dx = \int_1^2 xe^x dx \times \int_{-\infty}^{-2} e^y dy = (xe^x - e^x) \Big|_1^2 \times e^y \Big|_{-\infty}^{-2} = e^2 \times e^{-2} = 1$$

(تاریخ و فلسفه علم - سراسری ۸۳)

مثال ۲۳: انتگرال دوگانه $\int_{-1}^1 \int_{|x|}^1 f(x,y) dy dx$ را می‌توان به کدام صورت زیر نوشت؟

- (۱) $\int_{-1}^1 \int_{-y}^y f(x,y) dx dy$ (۲) $\int_0^1 \int_{-y}^y f(x,y) dx dy$ (۳) $\int_0^1 \int_0^{|y|} f(x,y) dx dy$ (۴) $\int_{-1}^1 \int_0^{|y|} f(x,y) dx dy$

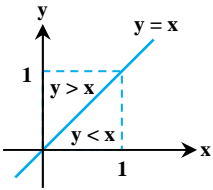
پاسخ: گزینه «۲»



شکل ناحیه انتگرال گیری به صورت روبرو می‌باشد. با توجه به شکل خطوط موازی محور x ها از $x = -y$ وارد و از $x = y$ خارج می‌شوند، بنابراین $-y \leq x \leq y$ حدود y نیز به صورت $0 \leq y \leq 1$ است.

کلمه مثال ۲۴: اگر $f(x,y) = \text{Max}\{x,y\}$ به ازای هر (x,y) در مربع D ، که در آن $0 \leq x \leq 1$ ، $0 \leq y \leq 1$ ، آن‌گاه مقدار انتگرال دوگانه $\iint_D f(x,y) dx dy$ (هسته‌ای - سراسری ۸۳) برابر است با:

- (۱) ۱ (۲) ۲ (۳) $\frac{1}{2}$ (۴) $\frac{2}{3}$



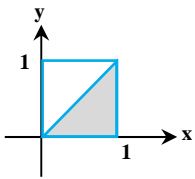
پاسخ: گزینه «۴» با توجه به شکل در ناحیه‌ی بالایی داریم $f(x,y) = y$ و در ناحیه‌ی پایینی داریم $f(x,y) = x$ پس:

$$\iint_D f(x,y) dx dy = \int_0^1 \int_0^x x dy dx + \int_0^1 \int_x^1 y dx dy = \int_0^1 x^2 dx + \int_0^1 y^2 dy = \frac{1}{3} + \frac{1}{3} = \frac{2}{3}$$

(صنایع - سیستم - سراسری ۸۴)

کلمه مثال ۲۵: مقدار انتگرال $\int_0^1 dy \int_y^1 \sin \pi x^2 dx$ کدام است؟

- (۱) ۰ (۲) $\frac{1}{2}$ (۳) $\frac{1}{\pi}$ (۴) $\frac{2}{3}$



پاسخ: گزینه «۳» محاسبه مستقیم انتگرال امکان پذیر نیست، بنابراین ترتیب انتگرال گیری را عوض می‌کنیم.

$$\int_0^1 dy \int_y^1 \sin(\pi x^2) dx = \int_0^1 \int_0^x \sin(\pi x^2) dy dx = \int_0^1 x \sin(\pi x^2) dx = \left. \frac{-1}{2\pi} \cos(\pi x^2) \right|_0^1 = \frac{1}{\pi}$$

(ژئوفیزیک و هواشناسی - سراسری ۸۴)

کلمه مثال ۲۶: مقدار انتگرال $\int_0^1 \int_0^{\sqrt{1+x^2}} \frac{1}{x^2+y^2+1} dy dx$ کدام است؟

- (۱) $\frac{\pi}{3} \text{Ln}(1+\sqrt{2})$ (۲) $\frac{\pi}{4} \text{Ln}(1+\sqrt{2})$ (۳) $\frac{\pi}{4} \text{Ln}(1+\sqrt{3})$ (۴) $\frac{\pi}{3} \text{Ln}(1+\sqrt{3})$

پاسخ: گزینه «۲»

$$\int_0^1 \int_0^{\sqrt{1+x^2}} \frac{dy dx}{(\sqrt{x^2+1})^2 + y^2} = \int_0^1 \left[\frac{1}{\sqrt{x^2+1}} \text{Arctg} \frac{y}{\sqrt{x^2+1}} \right]_0^{\sqrt{1+x^2}} dx = \frac{\pi}{4} \int_0^1 \frac{dx}{\sqrt{x^2+1}} = \frac{\pi}{4} \text{Ln}(x + \sqrt{x^2+1}) \Big|_0^1 = \frac{\pi}{4} \text{Ln}(1+\sqrt{2})$$

(ریاضی - سراسری ۸۴)

کلمه مثال ۲۷: حاصل $\int_0^1 \int_0^{\sin x} \frac{x dy dx}{\sqrt{1-y^2}}$ کدام است؟

- (۱) $\frac{1}{6}$ (۲) $\frac{1}{5}$ (۳) $\frac{1}{4}$ (۴) $\frac{1}{3}$

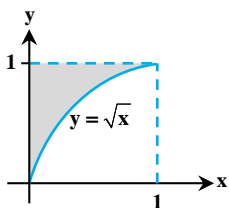
$$\int_0^1 \int_0^{\sin x} \frac{x dy dx}{\sqrt{1-y^2}} = \int_0^1 [x \text{Arc sin } y]_0^{\sin x} dx = \int_0^1 x^2 dx = \frac{1}{3}$$

پاسخ: گزینه «۴»

(عمران، نقشه‌برداری - سراسری ۸۵)

کلمه مثال ۲۸: مقدار انتگرال $I = \int_0^1 dx \int_{\sqrt{x}}^1 e^{y^2} dy$ برابر با چیست؟

- (۱) $e-1$ (۲) $\frac{e-1}{3}$ (۳) $\frac{e-1}{2}$ (۴) $\frac{e+1}{2}$



پاسخ: گزینه «۲» با توجه به شکل مقابل ترتیب انتگرال گیری را عوض می‌کنیم:

$$I = \int_0^1 \int_{\sqrt{x}}^1 e^{y^2} dy dx = \int_0^1 \int_0^y e^{y^2} dx dy = \int_0^1 y^2 e^{y^2} dy = \left. \frac{1}{3} e^{y^2} \right|_0^1 = \frac{1}{3} (e-1)$$

(ریاضی - سراسری ۸۵)

 مثال ۲۹: برای تابع f روی $[a, b]$ کدامیک از موارد زیر درست است؟

$$\frac{1}{\sqrt{2}} \int_a^b \left(\int_a^x f(x)f(y)dy \right) dx = \left(\int_a^b f^{\sqrt{2}}(x)dx \right)^{\sqrt{2}} \quad (۲)$$

$$\frac{1}{\sqrt{2}} \int_a^b \left(\int_a^b f(x)f(y)dy \right) dx = \int_a^b f^{\sqrt{2}}(x)dx \quad (۱)$$

$$\sqrt{2} \int_a^b \left(\int_x^b f(x)f(y)dy \right) dx = \left(\int_a^b f(x)dx \right)^{\sqrt{2}} \quad (۴)$$

$$\sqrt{2} \int_a^b \left(\int_a^b f(x)f(y)dy \right) dx = \left(\int_a^b f(x)dx \right)^{\sqrt{2}} \quad (۳)$$

 پاسخ: گزینه «۴»

 روش اول: تابع دلخواه f را تابع ثابت $f(x) = 1$ در نظر می‌گیریم. در این صورت به وضوح گزینه‌های (۱)، (۲) و (۳) برقرار نمی‌باشند و فقط در گزینه (۴)

$$f(x) = 1 \Rightarrow \left(\int_a^b f(x)dx \right)^{\sqrt{2}} = \left(\int_a^b dx \right)^{\sqrt{2}} = (b-a)^{\sqrt{2}}$$

تساوی برقرار می‌شود.

$$f(x) = 1 \Rightarrow \sqrt{2} \int_a^b \int_x^b f(x)f(y)dydx = \sqrt{2} \int_a^b \int_x^b dydx = \sqrt{2} \int_a^b (b-x)dx = \left(\sqrt{2}bx - x^{\sqrt{2}} \right) \Big|_a^b = b^{\sqrt{2}} - \sqrt{2}ab + a^{\sqrt{2}} = (b-a)^{\sqrt{2}}$$

 روش دوم: تابع اولیه $f(x)$ را $F(x)$ در نظر می‌گیریم، در این صورت $F'(x) = f(x)$ و در نتیجه داریم:

$$\sqrt{2} \int_a^b \int_x^b f(x)f(y)dydx = \sqrt{2} \int_a^b f(x)F(y) \Big|_x^b dx = \sqrt{2}F(b) \int_a^b f(x)dx - \int_a^b \sqrt{2} \frac{f(x)}{F'(x)} F(x)dx$$

$$= \sqrt{2}F(b)F(x) \Big|_a^b - F^{\sqrt{2}}(x) \Big|_a^b = F^{\sqrt{2}}(b) - \sqrt{2}F(b)F(a) + F^{\sqrt{2}}(a) = (F(b) - F(a))^{\sqrt{2}} = \left(\int_a^b f(x)dx \right)^{\sqrt{2}} = (F(x) \Big|_a^b)^{\sqrt{2}} = (F(b) - F(a))^{\sqrt{2}}$$

(صنایع - سیستم - سراسری ۸۵)

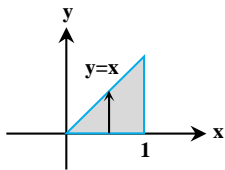
 مثال ۳۰: مقدار انتگرال دوگانه $\int_0^1 \int_y^1 \sin \pi x^2 dx dy$ کدام است؟

 (۴) 2π

(۳) ۱

 (۲) $\frac{2}{\pi}$

 (۱) $\frac{1}{\pi}$

 پاسخ: گزینه «۱» ترتیب انتگرال‌گیری را عوض می‌کنیم:


$$\int_0^1 \int_y^1 \sin \pi x^2 dx dy = \int_0^1 \int_0^x \sin \pi x^2 dy dx = \int_0^1 x \sin \pi x^2 dx = \left. \frac{-1}{2\pi} \cos \pi x^2 \right|_0^1 = \frac{1}{\pi}$$

(MBA - سراسری ۸۶)

 مثال ۳۱: حاصل $\int_0^1 \int_x^{2-x} \frac{x}{y} dy dx$ برابر $\ln A$ است، A کدام است؟

 (۴) $\frac{e}{4}$

 (۳) $\frac{e}{2}$

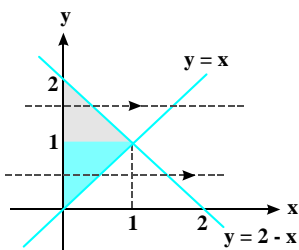
 (۲) $\frac{2}{e}$

 (۱) $\frac{4}{e}$

 پاسخ: گزینه «۱» ابتدا ناحیه انتگرال‌گیری را مشخص می‌کنیم. حاصل

 انتگرال را به روش x منظم حل می‌کنیم که برای این کار باید ناحیه انتگرال‌گیری

را به دو ناحیه تقسیم کنیم چراکه با توجه به ناحیه انتگرال‌گیری مرزهای خروجی

 خط فرضی که موازی محور x ها رسم می‌کنیم متفاوت می‌باشد. پس داریم:


$$I = \int_0^1 \int_0^y \frac{x}{y} dx dy + \int_1^2 \int_0^{2-y} \frac{x}{y} dx dy = \int_0^1 \frac{1}{y} \left(\frac{x^2}{2} \right) \Big|_0^y dy + \int_1^2 \frac{1}{y} \left(\frac{x^2}{2} \right) \Big|_0^{2-y} dy = \int_0^1 \frac{y}{2} dy + \int_1^2 \frac{(2-y)^2}{2y} dy$$

$$= \frac{1}{2} \left(\frac{y^2}{2} \right) \Big|_0^1 + \int_1^2 \left(\frac{y^2 + 4 - 4y}{2y} \right) dy = \frac{1}{4} + \int_1^2 \left(\frac{y}{2} + \frac{2}{y} - 2 \right) dy = \frac{1}{4} + \left(\frac{y^2}{4} + 2 \ln y - 2y \right) \Big|_1^2 = \frac{1}{4} + ((1 + 2 \ln 2 - 4) - (\frac{1}{4} + 2 \ln 1 - 2))$$

$$= \frac{1}{4} + (2 \ln 2 - 3 + \frac{7}{4}) = 2 \ln 2 - 1 = \ln 4 - \ln e = \ln \left(\frac{4}{e} \right)$$

 توجه داشته باشید که اگر می‌خواستیم حاصل انتگرال را به روش y منظم حل کنیم با وجود اینکه مرزهای ورود و خروج فقط یک مسیر را نشان می‌داد ولی در

 انتگرال اول برحسب y به $\ln y$ می‌رسیدیم که با قرار دادن حدود انتگرال به انتگرال‌های $x \ln x$ و $x \ln(2-x)$ می‌رسیدیم که حل ما را طولانی‌تر می‌کرد.

(آمار - سراسری ۸۶)

کج مثال ۳۲: مقدار $\iint_A e^{-2x-3y} dx dy$ که در آن $A = \{(x,y) : x \geq 0, y \geq 0\}$ کدام است؟

- (۱) $\frac{1}{6}$ (۲) ۱ (۳) ۶ (۴) ∞

پاسخ: گزینه «۱» $\iint_A e^{-2x-3y} dA = \int_0^\infty e^{-2x} dx \int_0^\infty e^{-3y} dy = \frac{-1}{2} e^{-2x} \Big|_0^\infty \times \frac{-1}{3} e^{-3y} \Big|_0^\infty = \frac{1}{6}$

(ریاضی - سراسری ۸۷)

کج مثال ۳۳: مقدار انتگرال $\iint_R (x^2 y^2 + xy^2) dx dy$ که در آن R مستطیل $-1 \leq x \leq 1$ و $0 \leq y \leq 1$ می‌باشد کدام است؟

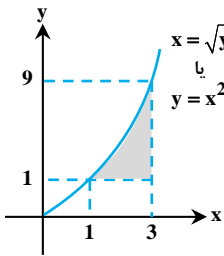
- (۱) ۰ (۲) ۱ (۳) ۲ (۴) ۳

پاسخ: گزینه «۱» چون تابع مقابل انتگرال نسبت به متغیر x فرد و ناحیه انتگرال‌گیری نسبت به محور y متقارن است پس انتگرال مورد نظر برابر صفر است.

(ریاضی - سراسری ۸۷)

کج مثال ۳۴: حاصل $\int_1^3 \int_{\sqrt{y}}^3 \frac{e^{x^2-2x}}{x+1} dx dy$ کدام است؟

- (۱) $\frac{1}{2}(e^2 + \frac{1}{e})$ (۲) $\frac{1}{2}(e^2 - \frac{1}{e})$ (۳) $\frac{1}{2}(e - \frac{1}{e})$ (۴) $\frac{1}{2}(e + \frac{1}{e})$



پاسخ: گزینه «۲» محاسبه انتگرال مورد نظر به ترتیب داده شده ممکن نیست. پس باید ترتیب انتگرال‌گیری را عوض کنیم. ناحیه انتگرال‌گیری مطابق شکل روبرو می‌باشد که اگر آن را به شکل y محدب توصیف کنیم، آن‌گاه داریم:

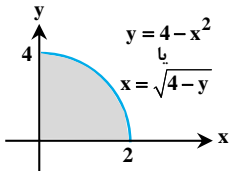
$$I = \int_1^3 \int_1^{x^2} \frac{e^{x^2-2x}}{x+1} dy dx = \int_1^3 \frac{e^{x^2-2x}}{x+1} \times y \Big|_1^{x^2} dx$$

$$= \int_1^3 \frac{e^{x^2-2x}}{x+1} (x^2 - 1) dx = \int_1^3 e^{x^2-2x} \frac{x^2 - 1}{x+1} dx = \int_1^3 e^{x^2-2x} (x-1) dx = \int_1^3 e^{x^2-2x} \frac{1}{2} du = \frac{1}{2} e^{x^2-2x} \Big|_1^3 = \frac{1}{2} e^2 - \frac{1}{2} e^{-1} = \frac{1}{2} (e^2 - \frac{1}{e})$$

(عمران - سراسری ۸۷)

کج مثال ۳۵: مقدار انتگرال $\int_0^2 \int_0^{4-x^2} \frac{xe^{xy}}{4-y} dy dx$ برابر است با:

- (۱) $\frac{1}{2}(e^4 - 1)$ (۲) $\frac{1}{2}(1 - e^4)$ (۳) $\frac{1}{2}(1 - e^4)$ (۴) $\frac{1}{4}(e^4 - 1)$



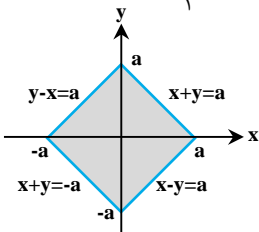
پاسخ: گزینه «۴» با تعویض ترتیب انتگرال‌گیری نتیجه می‌شود:

$$\int_0^2 \int_0^{4-x^2} \frac{xe^{xy}}{4-y} dy dx = \int_0^4 \int_0^{\sqrt{4-y}} \frac{xe^{xy}}{4-y} dx dy = \frac{1}{2} \int_0^4 e^{xy} dy = \frac{1}{4} e^{xy} \Big|_0^4 = \frac{1}{4} (e^4 - 1)$$

(عمران - نقشه‌برداری - سراسری ۸۸)

کج مثال ۳۶: مقدار انتگرال $\iint_{|x|+|y| \leq a} e^{x+y} dx dy$ برابر با چیست؟

- (۱) $a \sinh a$ (۲) $2a \sinh a$ (۳) $4a \sinh a$ (۴) $\frac{1}{2} a \sinh a$



پاسخ: گزینه «۲» ناحیه انتگرال‌گیری به شکل روبرو می‌باشد. ناحیه روبرو را می‌توان به شکل دو ناحیه y محدب مطابق زیر توصیف کرد:

$$D_1 : \begin{cases} 0 \leq x \leq a \\ x-a \leq y \leq a-x \end{cases}, \quad D_2 : \begin{cases} -a \leq x \leq 0 \\ -a-x \leq y \leq a+x \end{cases}$$

بنابراین انتگرال مورد نظر برابر است با:

$$I = \iint_D e^{x+y} dy dx = \int_0^a \int_{x-a}^{a-x} e^{x+y} dy dx + \int_{-a}^0 \int_{-a-x}^{a+x} e^{x+y} dy dx = \int_0^a e^{x+y} \Big|_{x-a}^{a-x} dx + \int_{-a}^0 e^{x+y} \Big|_{-a-x}^{a+x} dx$$

$$= \int_0^a (e^a - e^{2x-a}) dx + \int_{-a}^0 (e^{a+2x} - e^{-a}) dx = (xe^a - \frac{1}{2} e^{2x-a}) \Big|_0^a + (\frac{1}{2} e^{a+2x} - e^{-a}x) \Big|_{-a}^0$$

$$= (ae^a - \frac{1}{2} e^a + \frac{1}{2} e^{-a}) + (\frac{1}{2} e^a - \frac{1}{2} e^{-a} - ae^{-a}) = ae^a - ae^{-a} = a(e^a - e^{-a}) = 2a \sinh a$$

(مکانیک - سراسری ۸۸)

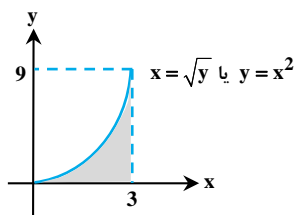
 کج مثال ۳۷: مقدار انتگرال $\int_0^9 \int_{\sqrt{y}}^3 \sin(\pi x^2) dx dy$ کدام است؟

$$\frac{2\pi}{3} \quad (۴)$$

$$\frac{3}{2\pi} \quad (۳)$$

$$\frac{2}{3\pi} \quad (۲)$$

$$\frac{1}{\pi} \quad (۱)$$



پاسخ: گزینه «۲» محاسبه مستقیم انتگرال مورد نظر غیر ممکن است. با توجه به شکل مقابل ناحیه انتگرال گیری

 را می توان به صورت $\begin{cases} 0 < x < 3 \\ 0 < y < x^2 \end{cases}$ توصیف نمود که در این صورت با تعویض ترتیب انتگرال گیری نتیجه می شود:

$$\int_0^9 \int_{\sqrt{y}}^3 \sin(\pi x^2) dx dy = \int_0^3 \int_0^{x^2} \sin(\pi x^2) dy dx = \int_0^3 x^2 \sin(\pi x^2) dx = \left. \frac{-1}{3\pi} \cos(\pi x^3) \right|_0^3 = \frac{2}{3\pi}$$

(صنایع - سیستم - سراسری ۸۸)

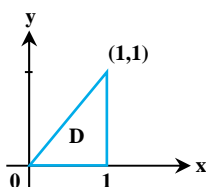
 کج مثال ۳۸: مقدار انتگرال $\iint_D x \sin y dA$ روی ناحیه نشان داده شده در شکل کدام است؟

$$\cos 1 + \sin 1 \quad (۱)$$

$$\frac{3}{2} - \sin 1 - \cos 1 \quad (۲)$$

$$\frac{1}{2} + \cos 1 - \sin 1 \quad (۳)$$

$$\frac{3}{2} + \cos 1 - \sin 1 \quad (۴)$$



پاسخ: گزینه «۲»

 روش اول: ناحیه داده شده را می توان به صورت $\begin{cases} 0 \leq x \leq 1 \\ 0 \leq y \leq x \end{cases}$ توصیف کرد، در این صورت داریم:

$$\iint_D x \sin y dA = \int_0^1 \int_0^x x \sin y dy dx = \int_0^1 (-x \cos y) \Big|_0^x dx = \int_0^1 (-x \cos x + x) dx = (-x \sin x - \cos x + \frac{x^2}{2}) \Big|_0^1 = \frac{3}{2} - \sin 1 - \cos 1$$

 روش دوم: ناحیه را می توان به صورت $\begin{cases} 0 \leq y \leq 1 \\ y \leq x \leq 1 \end{cases}$ توصیف کرد، در این صورت داریم:

$$\iint_D x \sin y dA = \int_0^1 \int_y^1 x \sin y dx dy = \int_0^1 \left(\frac{x^2}{2} \sin y \right) \Big|_y^1 dy = \int_0^1 \left(\frac{1}{2} \sin y - \frac{y^2}{2} \sin y \right) dy = \frac{3}{2} - \sin 1 - \cos 1$$

ملاحظه می کنید که در روش دوم محاسبه انتگرال کمی سخت تر از روش اول می باشد.

(مواد - سراسری ۸۸)

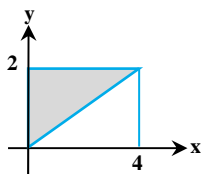
 کج مثال ۳۹: مقدار انتگرال $\int_0^4 \int_{\frac{y}{2}}^2 x e^{y^2} dy dx$ برابر کدام است؟

$$e^4 - 1 \quad (۴)$$

$$e^3 - 1 \quad (۳)$$

$$e^4 + 1 \quad (۲)$$

$$e^3 + 1 \quad (۱)$$



پاسخ: گزینه «۴» با تعویض ترتیب انتگرال گیری نتیجه می شود:

$$\int_0^4 \int_{\frac{y}{2}}^2 x e^{y^2} dy dx = \int_0^2 \int_0^{2y} x e^{y^2} dx dy = \int_0^2 \frac{1}{2} y e^{y^2} dy = e^{y^2} \Big|_0^2 = e^4 - 1$$

(صنایع غذایی - سراسری ۸۸)

 کج مثال ۴۰: اگر $f(x) = \int_0^x \frac{dy}{(x+y)^2}$ باشد حاصل $\int_1^e f(x) dx$ کدام است؟

$$e - 1 \quad (۴)$$

$$e - \frac{1}{2} \quad (۳)$$

$$e \quad (۲)$$

$$\frac{1}{2} \quad (۱)$$

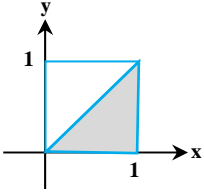
$$\int_1^e f(x) dx = \int_1^e \int_0^x \frac{dy}{(x+y)^2} dx = \int_1^e \frac{-1}{x+y} \Big|_0^x dx = \int_1^e \frac{1}{2x} dx = \frac{1}{2} \ln x \Big|_1^e = \frac{1}{2}$$

پاسخ: گزینه «۱»

(کشاورزی - سراسری ۸۸)

کدام مثال ۴۱: حاصل انتگرال دوگانه $\int_0^1 \int_y^1 e^{-x^2} dx dy$ کدام است؟

- (۱) $\frac{e-1}{e}$ (۲) $\frac{e-1}{2e}$ (۳) $\frac{e-2}{e}$ (۴) $\frac{2e-1}{2e}$



پاسخ: گزینه «۲» محاسبه انتگرال به ترتیب داده شده ممکن نیست، لازم است ترتیب انتگرال‌گیری را عوض کنیم.

$$I = \int_0^1 \int_y^1 e^{-x^2} dx dy = \int_0^1 \int_0^x e^{-x^2} dy dx = \int_0^1 x e^{-x^2} dx = \frac{-1}{2} e^{-x^2} \Big|_0^1 = \frac{1}{2} (1 - \frac{1}{e}) = \frac{e-1}{2e}$$

(ریاضی - سراسری ۸۹)

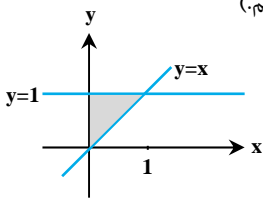
کدام مثال ۴۲: تابع $F: \mathbb{R} \rightarrow \mathbb{R}$ موجود به طوری که $F'(x) = e^{-x^2}$ و $F(1) = 1$ مقدار $\int_0^1 F(x) dx$ کدام است؟

- (۱) $\frac{1}{2}(e^{-1} + 1)$ (۲) $\frac{1}{2}(1 - e^{-1})$ (۳) $(1 + e^{-1})$ (۴) $(1 - e^{-1})$

پاسخ: گزینه «۱» از صورت سؤال داریم $F'(x) = e^{-x^2}$ پس می‌توان گفت $F'(y) = e^{-y^2}$. از رابطه‌ی $F'(y) = e^{-y^2}$ متوجه می‌شویم که

$$\int_a^x F'(y) dy = \int_a^x e^{-y^2} dy$$

(از نظر نگارشی درست نیست که وقتی dx داریم حدود انتگرال هم بر حسب x باشند، به همین دلیل از متغیر y استفاده کردیم.)



$$[F(y)]_a^x = \int_a^x e^{-y^2} dy \Rightarrow F(x) - F(a) = \int_a^x e^{-y^2} dy$$

پس در سمت چپ داریم:

چون در صورت سؤال $F(1) = 1$ را داده است، ما $a = 1$ را در رابطه‌ی فوق قرار می‌دهیم تا $F(x)$ به دست آید:

$$F(x) - 1 = \int_1^x e^{-y^2} dy \Rightarrow F(x) = \int_1^x e^{-y^2} dy + 1$$

با قرار دادن این نتیجه در انتگرال $\int_0^1 F(x) dx$ خواهیم داشت:

$$\int_0^1 F(x) dx = \int_0^1 (\int_1^x e^{-y^2} dy + 1) dx \Rightarrow \int_0^1 F(x) dx = \int_0^1 \int_1^x e^{-y^2} dy dx + \int_0^1 dx \Rightarrow \int_0^1 F(x) dx = \int_0^1 \int_1^x e^{-y^2} dy dx + 1$$

حالا به محاسبه‌ی $\int_0^1 \int_1^x e^{-y^2} dy dx$ می‌پردازیم.

در ناحیه‌ی انتگرال‌گیری خط $y = x$ زیر خط $y = 1$ قرار دارد، پس کران‌های بالا و پایین انتگرال وسطی باید جابه‌جا شوند:

$$\int_0^1 \int_1^x e^{-y^2} dy dx = - \int_0^1 \int_x^1 e^{-y^2} dy dx$$

$$- \int_0^1 \int_x^1 e^{-y^2} dy dx = - \int_0^1 \int_0^y e^{-y^2} dx dy = - \int_0^1 y e^{-y^2} dy = \frac{1}{2} e^{-y^2} \Big|_0^1 = \frac{1}{2} e^{-1} - \frac{1}{2} = \frac{1}{2} (e^{-1} - 1)$$

حالا ترتیب متغیرها را عوض می‌کنیم:

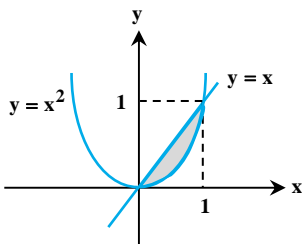
$$\int_0^1 F(x) dx = \frac{1}{2} (e^{-1} - 1) + 1 = \frac{1}{2} (e^{-1} + 1)$$

با جایگذاری جواب انتگرال دوگانه در $\int_0^1 F(x) dx$ داریم:

(کشاورزی - سراسری ۸۹)

کدام مثال ۴۳: حاصل $\iint_R \frac{x}{y} e^y dx dy$ که در آن R ناحیه محدود به $x^2 \leq y \leq x$ و $0 \leq x \leq 1$ می‌باشد، کدام است؟

- (۱) $e-1$ (۲) $e-2$ (۳) $\frac{1}{2}(e-1)$ (۴) $\frac{1}{2}(e-2)$



پاسخ: گزینه «۴» ابتدا ناحیه‌ی انتگرال‌گیری (R) را رسم می‌کنیم تا حدود انتگرال‌گیری مشخص شود.

$$\iint_R \frac{x}{y} e^y dx dy = \int_0^1 \int_{y^2}^y \frac{x}{y} e^y dx dy = \int_0^1 \frac{e^y}{y} \times \frac{x^2}{2} \Big|_{y^2}^y dy$$

$$= \int_0^1 \frac{e^y}{y} (\frac{y}{2} - \frac{y^2}{2}) dy = \frac{1}{2} \int_0^1 (e^y - y e^y) dy \stackrel{\text{جزء به جزء}}{=} \frac{1}{2} (e^y - y e^y + e^y) \Big|_0^1 = \frac{1}{2} (e-2)$$

مثال ۴۴: مقدار انتگرال $\iint_R xy \, dA$ که در آن R ناحیه محدود به محورهای مختصات و منحنی $\sqrt{x} + \sqrt{y} = 1$ می‌باشد چقدر است؟ (مواد - سراسری ۹۰)

(۱) $\frac{1}{280}$ (۲) $\frac{1}{140}$ (۳) $\frac{3}{280}$ (۴) $\frac{3}{140}$

پاسخ: گزینه «۱»

$$\int_0^1 \int_0^{(1-\sqrt{x})^2} xy \, dy \, dx = \int_0^1 x \frac{y^2}{2} \Big|_0^{(1-\sqrt{x})^2} dx = \int_0^1 \frac{1}{2} x (1-\sqrt{x})^4 dx$$

برای حل انتگرال فوق از تغییر متغیر $1-\sqrt{x} = u$ استفاده می‌کنیم. $\begin{cases} x=0 \rightarrow u=1 \\ x=1 \rightarrow u=0 \end{cases}$

$$\Rightarrow \int_0^1 \frac{1}{2} x (1-\sqrt{x})^4 dx = \int_1^0 \frac{1}{2} (1-u)^2 \times u^4 \times (-2)(1-u) du = -\int_1^0 u^4 (-u^2 + 2u^3 - 2u^4 + u^5) du = \int_1^0 (u^6 - 2u^5 + 2u^4 - u^3) du$$

$$= \left[\frac{u^7}{7} - 2 \frac{u^6}{6} + 2 \frac{u^5}{5} - \frac{u^4}{4} \right]_1^0 = - \left[\frac{1}{7} - \frac{2}{6} + \frac{2}{5} - \frac{1}{4} \right] = - \left[\frac{35 - 120 + 140 - 56}{280} \right] = + \frac{1}{280}$$

مثال ۴۵: حاصل $\iint_D \frac{y}{x} \, dx \, dy$ که در آن میدان D به صورت $2x \leq y \leq 5, x \leq 5, x \leq 2$ باشد، کدام است؟ (کشاورزی - سراسری ۹۰)

(۱) ۱۲ (۲) ۹ (۳) ۸ (۴) ۶

پاسخ: گزینه «۱» چون کران‌های y به صورت تابعی از x تغییر می‌کنند ابتدا نحوه‌ی انتگرال‌گیری را تغییر می‌دهیم و پیش از تعریف انتگرال دوگانه برای محاسبه انتگرال استفاده می‌کنیم:

$$I = \iint_D \frac{y}{x} \, dx \, dy = \int_2^5 \int_x^{2x} \frac{y}{x} \, dy \, dx = \int_2^5 \frac{y^2}{2x} \Big|_x^{2x} dx = \int_2^5 \frac{4x^2 - x^2}{2x} dx = \int_2^5 \frac{3}{2} x \, dx = \frac{3x^2}{4} \Big|_2^5 = \frac{3}{4} (25 - 4) = \frac{3}{4} \times 21 = 15.75$$

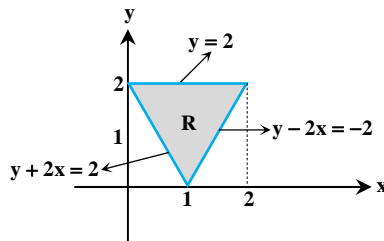
مثال ۴۶: فرض کنید R مثلثی به رئوس $(0,2), (2,2), (1,0)$ باشد. کدام گزینه برای $I = \iint_R f(x,y) \, dA$ نادرست است؟ (ژئوفیزیک و هواشناسی - سراسری ۹۰)

(۱) $I = \int_0^2 \int_{1-\frac{y}{2}}^{1+\frac{y}{2}} f(x,y) \, dx \, dy$ (۲) $I = \int_0^2 \int_{-2x+2}^{2x-2} f(x,y) \, dy \, dx$

(۳) $I = \int_0^1 \int_0^{2x+2} f(x,y) \, dy \, dx + \int_1^2 \int_1^{2x-2} f(x,y) \, dy \, dx$ (۴) $I = \int_0^1 \int_{-2x+2}^{1+\frac{y}{2}} f(x,y) \, dx \, dy + \int_1^2 \int_{1-\frac{y}{2}}^{2x-2} f(x,y) \, dx \, dy$

پاسخ: گزینه «۳»

ابتدا ناحیه R داده شده را رسم می‌کنیم:



حال بر حسب ترتیب انتگرال‌گیری حالات مختلف زیر امکان‌پذیر است.

حالت ۱:

$$\Rightarrow \iint_R f(x,y) \, dA = \int_0^2 \int_{1-\frac{y}{2}}^{1+\frac{y}{2}} f(x,y) \, dx \, dy$$

لذا گزینه ۱ صحیح است.

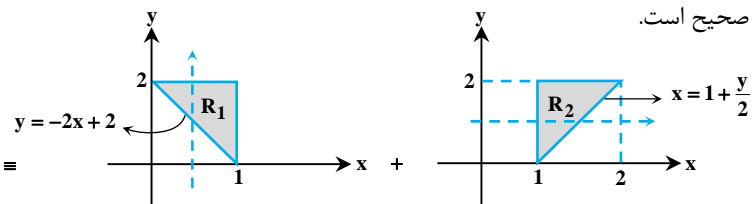
حالت ۲:

$$\Rightarrow I = \iint_R f(x,y) \, dA = \iint_{R_1} f(x,y) \, dA + \iint_{R_2} f(x,y) \, dA$$

$$\Rightarrow I = \int_0^1 \int_{-2x+2}^{2x-2} f(x,y) \, dy \, dx + \int_1^2 \int_{1-\frac{y}{2}}^{2x-2} f(x,y) \, dy \, dx$$

بنابراین گزینه ۲ صحیح است.

حالت ۳:



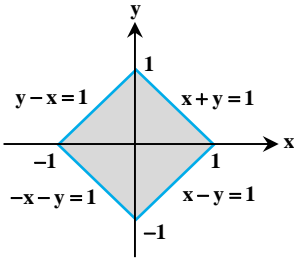
$$I = \iint_{R_1} f(x,y) \, dA + \iint_{R_2} f(x,y) \, dA = \int_0^1 \int_{-2x+2}^{2x-2} f(x,y) \, dy \, dx + \int_1^2 \int_{1-\frac{y}{2}}^{2x-2} f(x,y) \, dy \, dx$$

بنابراین گزینه ۴ صحیح است.

درسنامه: تغییر متغیر در انتگرال دوگانه

کج مثال ۱: حاصل $I = \iint_{|x|+|y|\leq 1} x^2 dx dy$ ، برابر کدام گزینه است؟

- (۱) $\frac{5}{3}$ (۲) $\frac{1}{3}$ (۳) ۱ (۴) ۲



پاسخ: گزینه «۲» ناحیه انتگرال‌گیری به صورت زیر است، با توجه به اینکه مرز ناحیه یعنی نمودار $|x|+|y|=1$ از چهار خط $x+y=\pm 1$ و $x-y=\pm 1$ تشکیل شده است، همان‌طور که می‌دانید این نوع نواحی نسبت به هر دو محور x و y نامنظم هستند پس با توجه به معادله‌ی مرزها از تغییر متغیر $u = x+y$ و $v = x-y$ استفاده می‌کنیم. در این صورت داریم:

$$-1 \leq u \leq 1, \quad -1 \leq v \leq 1$$

ژاکوبین به صورت مقابل محاسبه می‌شود:

$$J_{xy} = \frac{\partial(u,v)}{\partial(x,y)} = \begin{vmatrix} 1 & 1 \\ 1 & -1 \end{vmatrix} = -2 \Rightarrow |J_{uv}| = \frac{1}{|J_{xy}|} = \frac{1}{2}$$

در تابع زیر انتگرال باید x^2 را برحسب u و v بنویسیم. $u = x+y$ و $v = x-y \Rightarrow u+v = 2x \Rightarrow x = \frac{u+v}{2}$

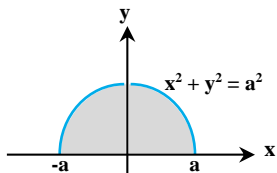
بنابراین $x^2 = \frac{(u+v)^2}{4}$ است.

$$I = \int_{-1}^1 \int_{-1}^1 \frac{(u+v)^2}{4} \times \frac{1}{2} dv du = \frac{1}{8} \int_{-1}^1 \int_{-1}^1 (u+v)^2 dv du \Rightarrow I = \frac{1}{8} \int_{-1}^1 \left[\frac{(u+v)^3}{3} \right]_{-1}^1 du = \frac{1}{24} \int_{-1}^1 [(u+1)^3 - (u-1)^3] du$$

$$= \frac{1}{24} \left[\frac{(u+1)^4}{4} - \frac{(u-1)^4}{4} \right]_{-1}^1 = \frac{1}{96} [2^4 - 0 - 0 + 2^4] = \frac{1}{3}$$

کج مثال ۲: حاصل $\iint_R \sqrt{x^2+y^2} dx dy$ در صورتی که R ناحیه $x^2+y^2 \leq a^2$ و $y \geq 0$ باشد چقدر است؟

- (۱) $\frac{\pi a^3}{2}$ (۲) $\frac{\pi a^3}{3}$ (۳) $\frac{2\pi a^3}{3}$ (۴) $\frac{4\pi a^3}{3}$



پاسخ: گزینه «۲» ناحیه‌ی انتگرال‌گیری یک نیم‌دایره به شعاع a است. عبارت x^2+y^2 هم در تابع زیر انتگرال وجود دارد. بنابراین از دستگاه قطبی استفاده می‌کنیم. برای نیم‌دایره‌ی بالایی داریم $0 \leq \theta \leq \pi$ و حدود r هم عبارتند از $0 \leq r \leq a$.

$$\iint_R \sqrt{x^2+y^2} dx dy = \int_0^\pi \int_0^a r \cdot r dr d\theta = \int_0^\pi d\theta \int_0^a r^2 dr = \frac{\pi a^3}{3}$$

کج مثال ۳: مقدار انتگرال $I = \int_0^\infty \int_0^\infty e^{-(x^2+y^2)} dx dy$ کدام است؟

- (۱) $\frac{\pi}{4}$ (۲) $\frac{\pi}{2}$ (۳) $\frac{\sqrt{\pi}}{2}$ (۴) $\sqrt{\pi}$

پاسخ: گزینه «۱» به علت وجود عبارت x^2+y^2 در تابع زیر انتگرال، حدس می‌زنیم که استفاده از دستگاه قطبی بهتر است. (در واقع حل این انتگرال در دستگاه دکارتی، مشکل است و نیاز به تغییر متغیر و استفاده از تابع گاما دارد) ناحیه‌ی انتگرال‌گیری، ربع اول صفحه است. در این ناحیه

$$I = \int_0^\pi \int_0^\infty r e^{-r^2} dr d\theta = \int_0^\pi \left[\frac{-e^{-r^2}}{2} \right]_0^\infty d\theta = \int_0^\pi \frac{1}{2} d\theta = \frac{\pi}{4}$$

داریم $0 \leq r < \infty$ و $0 \leq \theta \leq \frac{\pi}{2}$

کج مثال ۴: انتگرال دوگانه $z = \cos(x^2+y^2)$ در ناحیه محصور به دایره $x^2+y^2 = \frac{\pi}{6}$ کدام است؟

- (۱) $\frac{\pi}{2}$ (۲) π (۳) $\frac{\pi}{6}$ (۴) 2π

پاسخ: گزینه «۱» ناحیه‌ی داده شده درون یک دایره به مرکز مبدأ و شعاع $\sqrt{\frac{\pi}{6}}$ است. عبارت x^2+y^2 نیز در تابع زیر انتگرال دیده می‌شود. پس از

مختصات قطبی استفاده می‌کنیم. درون دایره‌ای به شعاع $\sqrt{\frac{\pi}{6}}$ داریم $0 \leq \theta \leq 2\pi$ و $0 \leq r \leq \sqrt{\frac{\pi}{6}}$.

$$I = \int_0^{2\pi} \int_0^{\sqrt{\frac{\pi}{6}}} \cos r^2 r dr d\theta = \int_0^{2\pi} d\theta \int_0^{\sqrt{\frac{\pi}{6}}} r \cos r^2 dr = 2\pi \times \left[\frac{1}{2} \sin r^2 \right]_0^{\sqrt{\frac{\pi}{6}}} = \pi \times \sin \frac{\pi}{6} = \frac{\pi}{2}$$

مثال ۵: مقدار $I = \iint_D (x^2 + y^2) dx dy$ در صورتی که D ناحیه‌ای بین دایره‌های $x^2 + y^2 = 2y$ و $x^2 + y^2 = 4y$ باشد، کدام است؟

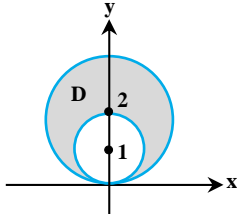
 (۴) 5π

 (۳) 45π

 (۲) 25π

 (۱) $22/5\pi$

پاسخ: گزینه «۱» وجود $x^2 + y^2$ در انتگرال و دایروی بودن ناحیه‌ی D نشانه‌های استفاده از دستگاه قطبی هستند. اگر بتوانید دایره‌های $x^2 + y^2 = 2y$ و $x^2 + y^2 = 4y$ را رسم کنید بهتر است. اما بدون رسم شکل هم می‌توان حدود r و θ را تشخیص داد. معادله‌ی دایره‌ها را در دستگاه قطبی می‌نویسیم:



$$x^2 + y^2 = 2y \Rightarrow r^2 = 2r \sin \theta \Rightarrow r = 2 \sin \theta$$

$$x^2 + y^2 = 4y \Rightarrow r^2 = 4r \sin \theta \Rightarrow r = 4 \sin \theta$$

بنابراین حدود r عبارتند از $r = 4 \sin \theta$ و $r = 2 \sin \theta$ و از همین جا می‌توانیم حدود θ را هم تشخیص دهیم. متغیر r به لحاظ مفهومی نمی‌تواند منفی باشد و باید همیشه $r \geq 0$ باشد پس $\sin \theta \geq 0$ یعنی $0 \leq \theta \leq \pi$.

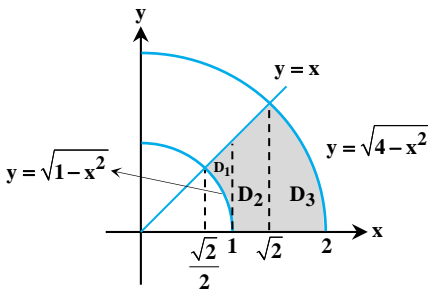
$$\begin{aligned} I &= \iint_D (x^2 + y^2) dx dy = \int_0^\pi \int_{2 \sin \theta}^{4 \sin \theta} r^2 dr d\theta = \int_0^\pi \left[\frac{r^3}{3} \right]_{2 \sin \theta}^{4 \sin \theta} d\theta = \int_0^\pi \frac{64 \sin^3 \theta - 8 \sin^3 \theta}{3} d\theta \\ &= \frac{56}{3} \int_0^\pi \sin^3 \theta d\theta = \frac{56}{3} \int_0^\pi (1 - \cos^2 \theta) \sin \theta d\theta = \frac{56}{3} \left[\sin \theta - \frac{\cos^3 \theta}{3} \right]_0^\pi \\ &= \frac{56}{3} \left[0 - \frac{1}{3} + 1 - 0 \right] = \frac{56}{3} \cdot \frac{2}{3} = \frac{112}{9} \end{aligned}$$

مثال ۶: حاصل $I = \int_{\frac{1}{\sqrt{2}}}^1 \int_{\sqrt{1-x^2}}^x xy dy dx + \int_1^{\sqrt{2}} \int_0^x xy dy dx + \int_{\sqrt{2}}^2 \int_0^{\sqrt{4-x^2}} xy dy dx$ کدام است؟

 (۴) $\frac{15}{16}$

 (۳) $\frac{15\sqrt{2}}{16}$

 (۲) $\frac{5}{4}$

 (۱) $\frac{5\sqrt{2}}{4}$


پاسخ: گزینه «۴» ابتدا ناحیه‌ی انتگرال‌گیری را تشخیص می‌دهیم.

ابتدا با یک نگاه به کران‌های استفاده شده در این انتگرال‌ها متوجه می‌شویم که نواحی موردنظر بین خط $y=x$ ، نیم‌دایره‌ی $y = \sqrt{1-x^2}$ و نیم‌دایره‌ی $y = \sqrt{4-x^2}$ قرار دارند. محل برخورد خط $y=x$ با این نیم‌دایره‌ها به ترتیب در $x = \frac{\sqrt{2}}{2}$ و $x = \sqrt{2}$ است. اکنون به ۳ انتگرال دوگانه‌ی داده شده توجه می‌کنیم.

در اولین انتگرال دوگانه داریم $\frac{\sqrt{2}}{2} \leq x \leq 1$ و $\sqrt{1-x^2} \leq y \leq x$ ، این ناحیه را D_1 می‌نامیم. در دومین انتگرال دوگانه داریم $1 \leq x \leq \sqrt{2}$ و $0 \leq y \leq x$ ، این ناحیه را D_2 می‌نامیم. اکنون به ناحیه‌ی D_3 نشان می‌دهیم. در سومین انتگرال دوگانه داریم $\sqrt{2} \leq x \leq 2$ و $0 \leq y \leq \sqrt{4-x^2}$ ، این ناحیه را D_3 می‌نامیم. اکنون به ناحیه‌ی $D = D_1 \cup D_2 \cup D_3$ توجه کنید. این ناحیه در مختصات قطبی به راحتی قابل بیان است. روی خط $y=x$ داریم $\theta = \frac{\pi}{4}$. بنابراین در این ناحیه $0 \leq \theta \leq \frac{\pi}{4}$ است و واضح است که بین دو دایره به شعاع‌های یک و دو داریم $1 \leq r \leq 2$. در نتیجه می‌توان نوشت:

$$I = \iint_D xy dy dx = \int_{\frac{\pi}{4}}^{\frac{\pi}{2}} \int_1^2 (r \cos \theta)(r \sin \theta) r dr d\theta = \left(\int_{\frac{\pi}{4}}^{\frac{\pi}{2}} \sin \theta \cos \theta d\theta \right) \left(\int_1^2 r^2 dr \right) = \left[\frac{\sin^2 \theta}{2} \right]_{\frac{\pi}{4}}^{\frac{\pi}{2}} \times \left[\frac{r^3}{3} \right]_1^2 = \frac{15}{16}$$

مثال ۷: حاصل $I = \int_0^{\frac{\pi}{2}} \int_0^{\cos \theta} \rho \sin \theta d\rho d\theta$ کدام است؟

 (۴) π

 (۳) $\frac{1}{6}$

 (۲) $\frac{\pi}{6}$

 (۱) 6

پاسخ: گزینه «۳» حدود انتگرال داده شده‌اند. کافیست آن را حل کنیم:

$$I = \int_0^{\frac{\pi}{2}} \int_0^{\cos \theta} \rho \sin \theta d\rho d\theta = \int_0^{\frac{\pi}{2}} \sin \theta \left[\frac{\rho^2}{2} \right]_0^{\cos \theta} d\theta = \int_0^{\frac{\pi}{2}} \sin \theta \times \frac{\cos^2 \theta}{2} d\theta = \frac{1}{2} \int_0^{\frac{\pi}{2}} \cos^2 \theta \sin \theta d\theta = -\frac{1}{2} \left[\frac{\cos^3 \theta}{3} \right]_0^{\frac{\pi}{2}} = \frac{1}{6}$$

کج مثال ۸: حاصل $\iint_R xy dA$ وقتی R ناحیه محدود به دایره $x^2 + y^2 = 1$ و محورهای مختصات در ربع اول باشد، کدام است؟ (مکانیک - سراسری ۷۸)

- (۱) $\frac{1}{2}$ (۲) $\frac{1}{4}$ (۳) $\frac{1}{6}$ (۴) $\frac{1}{8}$

پاسخ: گزینه «۴» از مختصات قطبی استفاده می‌کنیم:

$$\iint_R xy dA = \int_0^{\frac{\pi}{2}} \int_0^1 r \cos \theta \times r \sin \theta \times r dr d\theta = \int_0^{\frac{\pi}{2}} \frac{1}{3} \sin 2\theta d\theta \times \int_0^1 r^3 dr = \frac{-1}{4} \cos 2\theta \Big|_0^{\frac{\pi}{2}} \times \frac{1}{4} r^4 \Big|_0^1 = \frac{1}{8}$$

کج مثال ۹: مقدار انتگرال $\iint_D \sqrt{1 - \frac{x^2}{a^2} - \frac{y^2}{b^2}} dx dy$ که در آن D ناحیه محدود به بیضی $\frac{x^2}{a^2} + \frac{y^2}{b^2} = 1$ است، برابر است با: (عمران - سراسری ۷۸)

- (۱) $\frac{1}{3} \pi ab$ (۲) $\frac{2}{3} \pi ab$ (۳) πab (۴) $\frac{4}{3} \pi ab$

پاسخ: گزینه «۲» از مختصات بیضوی استفاده می‌کنیم:

$$\begin{cases} x = ar \cos \theta \\ y = br \sin \theta \end{cases}, J = abr$$

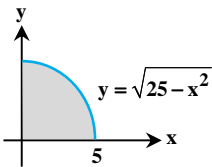
$$\iint_D \sqrt{1 - \frac{x^2}{a^2} - \frac{y^2}{b^2}} dx dy = \int_0^{2\pi} \int_0^1 \sqrt{1 - r^2} \times abr dr d\theta = 2\pi ab \times \frac{-1}{3} (1 - r^2)^{\frac{3}{2}} \Big|_0^1 = \frac{2}{3} \pi ab$$

(ژئوفیزیک و هواشناسی - سراسری ۷۹)

کج مثال ۱۰: حاصل $\int_0^{\frac{\pi}{2}} \int_0^{\sqrt{25-x^2}} dy dx$ ، کدام است؟

- (۱) $\frac{15\pi}{2}$ (۲) $\frac{25\pi}{2}$ (۳) $\frac{15\pi}{4}$ (۴) $\frac{25\pi}{4}$

پاسخ: گزینه «۴» با توجه به ناحیه انتگرال‌گیری از مختصات قطبی استفاده می‌کنیم. در این صورت داریم:



$$\int_0^{\frac{\pi}{2}} \int_0^{\sqrt{25-x^2}} dy dx = \int_0^{\frac{\pi}{2}} \int_0^5 r dr d\theta = \frac{25\pi}{4}$$

(آمار - سراسری ۷۹)

کج مثال ۱۱: حاصل $\int_0^2 \int_0^{\sqrt{4-x^2}} \frac{1}{1+x^2+y^2} dy dx$ برابر کدام است؟

- (۱) $\frac{\pi}{2} \text{Ln} \frac{1}{5}$ (۲) $\frac{\pi}{2} \text{Ln} \Delta$ (۳) $\frac{\pi}{4} \text{Ln} \frac{1}{\Delta}$ (۴) $\frac{\pi}{4} \text{Ln} \Delta$

پاسخ: گزینه «۴» از مختصات قطبی استفاده می‌کنیم:

$$\int_0^2 \int_0^{\sqrt{4-x^2}} \frac{1}{1+x^2+y^2} dy dx = \int_0^{\frac{\pi}{2}} \int_0^2 \frac{1}{1+r^2} \times r dr d\theta = \left(\int_0^{\frac{\pi}{2}} d\theta \right) \left(\int_0^2 \frac{r}{1+r^2} dr \right) = \theta \Big|_0^{\frac{\pi}{2}} \times \frac{1}{2} \text{Ln}(1+r^2) \Big|_0^2 = \frac{\pi}{4} \text{Ln} \Delta$$

(ریاضی - سراسری ۸۰)

کج مثال ۱۲: اگر $D = \{(x, y) \in \mathbb{R}^2 \mid |x| + |y| \leq 1\}$ و $I = \int_{-1}^1 f(u) du$ ، کدام است $\iint_D f(x+y) dx dy$ ؟

- (۱) $-I$ (۲) $\frac{1}{2} I$ (۳) I (۴) $2I$

پاسخ: گزینه «۳» برای محاسبه انتگرال داده شده از تغییر متغیر مقابل استفاده می‌کنیم:

$$\begin{cases} u = x + y \\ v = x - y \end{cases} \Rightarrow J(u, v) = \begin{vmatrix} \frac{\partial x}{\partial u} & \frac{\partial x}{\partial v} \\ \frac{\partial y}{\partial u} & \frac{\partial y}{\partial v} \end{vmatrix} = \begin{vmatrix} \frac{1}{2} & \frac{1}{2} \\ \frac{1}{2} & -\frac{1}{2} \end{vmatrix} = \frac{-1}{2}$$

$$R: -1 \leq u \leq 1, -1 \leq v \leq 1$$

با تغییر متغیر فوق ناحیه D در صفحه uov به صورت روبرو در می‌آید:

$$\iint_D f(x+y) dx dy = \iint_R f(u) |J(u, v)| dudv = \frac{1}{2} \int_{-1}^1 \int_{-1}^1 f(u) dudv = \frac{1}{2} \int_{-1}^1 \left(\int_{-1}^1 f(u) du \right) dv = \frac{1}{2} \int_{-1}^1 I dv = I$$

بنابراین داریم:

(ریاضی - سراسری ۸۰)

کلمه مثال ۱۳: مقدار $\iint_R \frac{x+y}{\sqrt{x^2+y^2}} dx dy$ روی ربع اول دایره‌ای به معادله $x^2 + y^2 = a^2$ عبارتست از:

- (۱) πa^2 (۲) a^2 (۳) πa^2 (۴) $\frac{a^2}{2}$

 پاسخ: گزینه «۲» از مختصات قطبی استفاده می‌کنیم:

$$\iint_R \frac{x+y}{\sqrt{x^2+y^2}} dx dy = \int_0^{\frac{\pi}{2}} \int_0^a \frac{r \cos \theta + r \sin \theta}{r} \times r dr d\theta = \int_0^{\frac{\pi}{2}} (\cos \theta + \sin \theta) d\theta \times \int_0^a r dr = a^2$$

(MBA - سراسری ۸۱)

کلمه مثال ۱۴: اگر D ناحیه $\begin{cases} 1 \leq x^2 + y^2 \leq 4 \\ y \geq 0 \end{cases}$ در صفحه باشد، حاصل $\iint_D \text{Ln}(x^2 + y^2) dA$ برابر است با:

- (۱) $2\pi(\text{Ln}4 - \frac{3}{4})$ (۲) $\pi(\text{Ln}4 - \frac{3}{4})$ (۳) $4\pi(\text{Ln}4 - \frac{3}{4})$ (۴) $42\pi(\text{Ln}4 - \frac{3}{4})$

 پاسخ: گزینه «۱» از مختصات قطبی استفاده می‌کنیم:

$$\iint_D \text{Ln}(x^2 + y^2) dA = \int_0^{\pi} \int_1^2 \text{Ln}(r^2) \times r dr d\theta = 2 \int_0^{\pi} d\theta \times \int_1^2 r \text{Ln}r dr = 2\pi(\text{Ln}4 - \frac{3}{4})$$

کلمه مثال ۱۵: مقدار انتگرال $\iint_D \left(\frac{x-2y}{x+2y}\right)^2 dx dy$ که در آن D ناحیه محصور به خطوط $x-2y=1$ ، $x-2y=2$ ، $x+2y=1$ و $x+2y=2$ می‌باشد، کدام

(عمران - سراسری ۸۲)

است؟

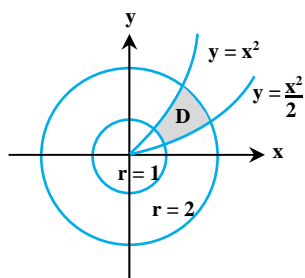
- (۱) $\frac{5}{12}$ (۲) $\frac{4}{9}$ (۳) $\frac{5}{3}$ (۴) $\frac{4}{3}$

 پاسخ: گزینه «۱» از تغییر متغیر $u = x - 2y$ و $v = x + 2y$ استفاده می‌کنیم، در این صورت داریم: $\frac{1}{J} = \frac{\partial(u, v)}{\partial(x, y)} = \begin{vmatrix} 1 & -2 \\ 1 & 2 \end{vmatrix} = 4 \Rightarrow J = \frac{1}{4}$

$$\iint_D \left(\frac{x-2y}{x+2y}\right)^2 dx dy = \int_1^2 \int_1^2 \left(\frac{u}{v}\right)^2 \times \frac{1}{4} du dv = \frac{1}{4} \int_1^2 \int_1^2 \frac{u^2}{v^3} du dv = \frac{15}{16} \int_1^2 \frac{dv}{v^3} = \frac{5}{12}$$

بنابراین داریم:

(عمران - آزاد ۸۲)

کلمه مثال ۱۶: حاصل $\iint_D \frac{2y^2 + x^2}{x^3} dx dy$ که در آن D به صورت زیر است، چقدر است؟


- (۱) $\frac{1}{4}$
(۲) $\frac{1}{2}$
(۳) $\frac{3}{4}$
(۴) ۱

 پاسخ: گزینه «۳» با توجه به مرزهای ناحیه انتگرال‌گیری از تغییر متغیر $u = \frac{y}{x}$ و $v = x^2 + y^2$ استفاده می‌کنیم. در این صورت داریم:

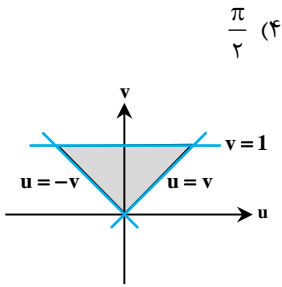
$$J_{xy} = \frac{\partial(u, v)}{\partial(x, y)} = \begin{vmatrix} \frac{-2y}{x^2} & \frac{1}{x^2} \\ 2x & 2y \end{vmatrix} = \frac{-4y^2}{x^2} - \frac{2x}{x^2} = \frac{-4y^2 - 2x^2}{x^2} \Rightarrow |J_{uv}| = \frac{x^2}{2x^2 + 4y^2}$$

 کران‌های ناحیه انتگرال‌گیری به صورت $\frac{1}{2} \leq u \leq 1$ و $1 \leq v < 4$ در می‌آید. در نتیجه داریم:

$$\iint_D \frac{2y^2 + x^2}{x^3} dA = \int_1^4 \int_{\frac{1}{2}}^1 \frac{2y^2 + x^2}{x^3} \times \frac{x^2}{2x^2 + 4y^2} du dv = \int_1^4 \int_{\frac{1}{2}}^1 \frac{1}{2} du dv = \frac{3}{4}$$

(ریاضی - سراسری ۸۳)

مثال ۱۷: مقدار $\iint_E \sin\left(\frac{x-y}{x+y}\right) dx dy$ وقتی E ناحیه محدود به $x=0$ ، $y=0$ و $x+y \leq 1$ باشد کدام است؟



$$\begin{cases} u = x - y \\ v = x + y \end{cases} \Rightarrow J_{xy} = \begin{vmatrix} 1 & -1 \\ 1 & 1 \end{vmatrix} = 2 \Rightarrow J_{uv} = \frac{1}{J_{xy}} = \frac{1}{2}$$

پاسخ: گزینه «۱»

مرزهای E عبارتند از $x=0$ ، $y=0$ و $x+y=1$. در دستگاه uov این مرزها به ترتیب تبدیل می‌شوند به خطوط $v=1$ و $v=u$ و $v=-u$. بنابراین در دستگاه uov (مطابق شکل) داریم $0 \leq v \leq 1$ و $-v \leq u \leq v$.

$$\iint_E \sin\left(\frac{x-y}{x+y}\right) dx dy = \int_0^1 \int_{-v}^v \sin \frac{u}{v} \times \frac{1}{2} du dv$$

بنابراین داریم:

تابع $\sin \frac{u}{v}$ نسبت به متغیر u تابعی فرد می‌باشد و ناحیه انتگرال‌گیری نسبت به u متقارن است، بنابراین حاصل انتگرال برابر صفر است.

(صنایع - سیستم - سراسری ۸۴)

مثال ۱۸: مقدار انتگرال دوگانه $\iint_R \frac{\sin \sqrt{x^2+y^2}}{\sqrt{x^2+y^2}} dA$ روی ناحیه $R: \frac{\pi^2}{16} \leq x^2+y^2 \leq \frac{\pi^2}{9}$ کدام است؟

(۴) $\pi\left(\frac{\sqrt{2}+1}{2}\right)$

(۳) $\pi(\sqrt{2}+1)$

(۲) $\pi(\sqrt{2}-1)$

(۱) $\pi\frac{\sqrt{2}}{2}$

پاسخ: گزینه «۲» با توجه به دایروی بودن ناحیه انتگرال‌گیری و همچنین وجود x^2+y^2 در تابع زیر انتگرال، از مختصات قطبی استفاده می‌کنیم.

$$\frac{\pi^2}{16} \leq x^2+y^2 \leq \frac{\pi^2}{9} \Rightarrow \frac{\pi^2}{16} \leq r^2 \leq \frac{\pi^2}{9} \Rightarrow \frac{\pi}{4} \leq r \leq \frac{\pi}{3}, \quad 0 \leq \theta \leq 2\pi$$

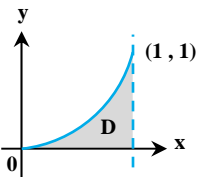
در این صورت داریم:

$$\iint_R \frac{\sin \sqrt{x^2+y^2}}{\sqrt{x^2+y^2}} dA = \int_0^{2\pi} \int_{\frac{\pi}{4}}^{\frac{\pi}{3}} \frac{\sin r}{r} \times r dr d\theta = \int_0^{2\pi} \int_{\frac{\pi}{4}}^{\frac{\pi}{3}} \sin r dr d\theta = \int_0^{2\pi} d\theta \int_{\frac{\pi}{4}}^{\frac{\pi}{3}} \sin r dr$$

$$= \theta \Big|_0^{2\pi} \times (-\cos r) \Big|_{\frac{\pi}{4}}^{\frac{\pi}{3}} = 2\pi \times \left(-\frac{1}{2} + \frac{\sqrt{2}}{2} \right) = \pi(\sqrt{2}-1)$$

(هسته‌ای - سراسری ۸۴)

مثال ۱۹: اگر $D = \{(x,y) : 0 \leq y \leq x^2, 0 \leq x \leq 1\}$ ، آن‌گاه مقدار انتگرال دوگانه ناسره $\iint_D \frac{dA}{(x-y)^2}$ ، کدام است؟



(۱) صفر

(۲) ۱

(۳) $\ln 2$

(۴) ∞

پاسخ: گزینه «۴» $\iint_D \frac{dA}{(x-y)^2} = \int_0^1 \int_0^{x^2} \frac{1}{(x-y)^2} dy dx = \int_0^1 \frac{1}{x-y} \Big|_0^{x^2} dx = \int_0^1 \left(\frac{1}{x-x^2} - \frac{1}{x} \right) dx = \int_0^1 \frac{dx}{1-x} = -[\ln |1-x|]_0^1 = \infty$

(عمران - سراسری ۸۵)

مثال ۲۰: مقدار انتگرال $\int_0^1 \left[\int_{x^2}^x (x^2+y^2)^{-\frac{1}{2}} dy \right] dx$ برابر با چیست؟

(۴) $2\sqrt{2}-2$

(۳) $\sqrt{2}-1$

(۲) $2\sqrt{2}-1$

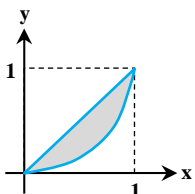
(۱) $\sqrt{2}+1$

پاسخ: گزینه «۳» می‌توان انتگرال را به طور مستقیم محاسبه کرد ولی شاید استفاده از مختصات قطبی بهتر باشد.

$$y = x^2 \Rightarrow r \sin \theta = r^2 \cos^2 \theta \Rightarrow r = \frac{\sin \theta}{\cos^2 \theta}$$

معادله $y = x^2$ را در مختصات قطبی می‌نویسیم، بنابراین با توجه به شکل، $0 \leq r \leq \frac{\sin \theta}{\cos^2 \theta}$ و $0 \leq \theta \leq \frac{\pi}{4}$ است.

$$\int_0^1 \int_{x^2}^x \frac{dy dx}{\sqrt{x^2+y^2}} = \int_0^{\frac{\pi}{4}} \int_0^{\frac{\sin \theta}{\cos^2 \theta}} \frac{r dr d\theta}{r} = \int_0^{\frac{\pi}{4}} \frac{\sin \theta d\theta}{\cos^2 \theta} = \frac{1}{\cos \theta} \Big|_0^{\frac{\pi}{4}} = \sqrt{2}-1$$



(آمار - سراسری ۸۵)

مثال ۲۱: اگر A ناحیه درون دایره به معادله $x^2 + y^2 = x$ باشد، مقدار $\iint_A \frac{dx dy}{\sqrt{1-x^2-y^2}}$ کدام است؟

(۴) $2\pi - 2$

(۳) $2\pi - 1$

(۲) $\pi - 2$

(۱) $\pi - 1$

پاسخ: گزینه «۲» برای محاسبه انتگرال از مختصات قطبی استفاده می‌کنیم. معادله دایره داده شده به صورت $r^2 = r \cos \theta$ و یا

$r = \cos \theta$ در می‌آید $(-\frac{\pi}{2} \leq \theta \leq \frac{\pi}{2})$. بنابراین داریم:

$$\iint_A \frac{dx dy}{\sqrt{1-x^2-y^2}} = \int_{-\frac{\pi}{2}}^{\frac{\pi}{2}} \int_0^{\cos \theta} \frac{r dr d\theta}{\sqrt{1-r^2}} = \int_{-\frac{\pi}{2}}^{\frac{\pi}{2}} -\sqrt{1-r^2} \Big|_0^{\cos \theta} d\theta = \int_{-\frac{\pi}{2}}^{\frac{\pi}{2}} (1 - |\sin \theta|) d\theta = 2 \int_0^{\frac{\pi}{2}} (1 - \sin \theta) d\theta = 2(\theta + \cos \theta) \Big|_0^{\frac{\pi}{2}} = \pi - 2$$

(MBA - سراسری ۸۵)

مثال ۲۲: حاصل $\iint_D e^{\frac{x-y}{x+y}} dx dy$ داخل مثلثی به معادلات اضلاع $x=0$ ، $y=0$ و $x+y=1$ کدام است؟

(۴) $\frac{1}{4}(e - \frac{1}{e})$

(۳) $\frac{1}{4}(e + \frac{1}{e})$

(۲) $\frac{1}{2}(e - \frac{1}{e})$

(۱) $\frac{1}{2}(e + \frac{1}{e})$

پاسخ: گزینه «۴» از تغییر متغیر $u = x+y$ و $v = x-y$ استفاده می‌کنیم. در این صورت ناحیه انتگرال‌گیری به صورت $0 \leq u \leq 1$ و $-u \leq v \leq u$

در می‌آید.

$$\frac{1}{J} = \frac{\partial(u, v)}{\partial(x, y)} = \begin{vmatrix} 1 & 1 \\ 1 & -1 \end{vmatrix} = 2 \Rightarrow |J| = \frac{1}{2}$$

$$\iint_D e^{\frac{x-y}{x+y}} dx dy = \frac{1}{2} \int_0^1 \int_{-u}^u e^{\frac{v}{u}} dv du = \frac{1}{2} \int_0^1 u e^{\frac{v}{u}} \Big|_{-u}^u du = \frac{1}{2} (e - \frac{1}{e}) \int_0^1 u du = \frac{1}{4} (e - \frac{1}{e})$$

مثال ۲۳: اگر S یک چهار ضلعی با رئوس $(0, \pi)$ ، $(\pi, 0)$ ، $(\frac{\pi}{2}, \frac{\pi}{2})$ ، $(\frac{3\pi}{2}, \frac{\pi}{2})$ باشد، آن‌گاه مقدار انتگرال دوگانه $\iint_S (x-y) \sin(x+y) dx dy$ برابر

(نفت - سراسری ۸۵)

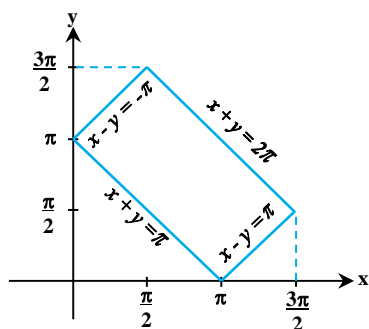
است با:

(۴) 2π

(۳) π

(۲) 0

(۱) $-\pi$



پاسخ: گزینه «۲» با توجه به تابع مقابل انتگرال از تغییر متغیرهای زیر استفاده می‌کنیم:

$$\begin{cases} u = x - y \\ v = x + y \end{cases} \Rightarrow \frac{1}{J} = \frac{\partial(u, v)}{\partial(x, y)} = \begin{vmatrix} 1 & -1 \\ 1 & 1 \end{vmatrix} = 2 \Rightarrow |J| = \frac{1}{2}$$

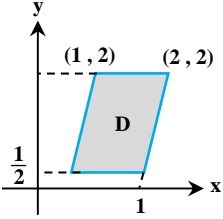
با توجه به اینکه معادلات مرزهای ناحیه S به صورت $x+y = \pi$ ، $x+y = 2\pi$ ، $x-y = \pm\pi$ هستند،

بنابراین مرزهای S در دستگاه جدید به صورت $\pi \leq v \leq 2\pi$ و $-\pi \leq u \leq \pi$ در می‌آیند.

$$\iint_S (x-y) \sin(x+y) dx dy = \int_{-\pi}^{\pi} \int_{\pi}^{2\pi} \frac{1}{2} u \sin v dv du = \frac{1}{2} \int_{-\pi}^{\pi} u du \times \int_{\pi}^{2\pi} \sin v dv = 0$$

(ریاضی - سراسری ۸۶)

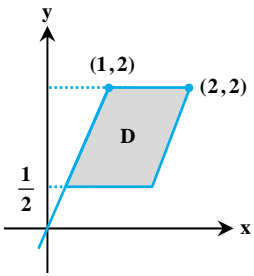
مثال ۲۴: مقدار انتگرال $I = \iint_D \frac{(y-2x)^6}{y^6} dA$ که در آن D ناحیه‌ی شکل مقابل است، کدام است؟



- (۱) $\frac{4}{3}$
 (۲) $\frac{8}{21}$
 (۳) $\frac{2}{2}$
 (۴) $\frac{8}{3}$

پاسخ: هیچکدام از گزینه‌ها صحیح نیست. متأسفانه شکل رسم شده دارای ایراداتی است که حل این سؤال را غیرممکن کرده است. برای حل کردن

سؤال لازم است معادله‌ی مرزها را داشته باشیم. مرزهای پایینی و بالایی به وضوح $y = \frac{1}{2}$ و $y = 2$ هستند، اما خطوط مایلی که مرزهای D هستند قابل تشخیص نیستند. زیرا از هر خط فقط یک نقطه‌اش را داریم. ضمن آن که نقطه‌ی $(1, 2)$ و نقطه‌ی $x = 1$ در یک راستا قرار نگرفته‌اند که این امر غیرمنطقی است. زیرا هر دوی آن‌ها دارای طول‌های یکسانی هستند. با این حال اگر شکل را اصلاح کنیم، انتگرال به این صورت حل می‌شود:



خطی که از مبدأ و نقطه‌ی $(1, 2)$ می‌گذرد خط $y = 2x$ است. ضلع موازی با این خط، دارای شیب ۲ است و از نقطه‌ی $(2, 2)$ عبور می‌کند پس معادله‌ی آن $y = 2x - 2$ است. مرزهای افقی هم $y = 1$ و $y = \frac{1}{2}$ هستند. معادله‌ی مرزها را به این صورت می‌نویسیم:

$y = \frac{1}{2}, y = 1, y - 2x = -2, y - 2x = 0$. با انتخاب $u = y - 2x$ و $v = y$ معادله‌ی مرزها به صورت

$$v = \frac{1}{2}, v = 1, u = -2, u = 0 \text{ در می‌آید. ژاکوبین دستگاه جدید را حساب می‌کنیم.}$$

$$J_{xy} = \begin{vmatrix} u_x & u_y \\ v_x & v_y \end{vmatrix} = \begin{vmatrix} -2 & 1 \\ 0 & 1 \end{vmatrix} = -2 \Rightarrow J_{uv} = \frac{1}{-2}$$

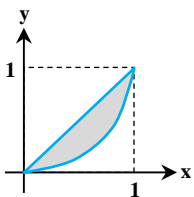
$$\text{البته قدرمطلق آن یعنی } \frac{1}{2} \text{ در انتگرال ضرب می‌شود. پس داریم: } \int_{\frac{1}{2}}^1 \int_{-2}^0 \frac{u^6}{v^6} \times \frac{1}{2} dudv = \frac{1}{2} \left(\int_{\frac{1}{2}}^1 \frac{dv}{v^6} \right) \left(\int_{-2}^0 u^6 du \right) = \frac{1}{2} \left[-\frac{1}{5v^5} \right]_{\frac{1}{2}}^1 \times \left[\frac{u^7}{7} \right]_{-2}^0 = 24$$

(عمران - سراسری ۸۶)

مثال ۲۵: مقدار انتگرال $\int_0^1 \int_{x^2}^x \frac{dydx}{\sqrt{x^2+y^2}}$ برابر با چیست؟

- (۱) ۱
 (۲) $\sqrt{2}$
 (۳) $\sqrt{2}-1$
 (۴) $\sqrt{2}+1$

پاسخ: گزینه «۳» می‌توان انتگرال را به طور مستقیم محاسبه کرد ولی شاید استفاده از مختصات قطبی بهتر باشد.



معادله $y = x^2$ را در مختصات قطبی می‌نویسیم، $r \sin \theta = r^2 \cos^2 \theta \Rightarrow r = \frac{\sin \theta}{\cos^2 \theta}$. بنابراین با توجه به شکل، $0 \leq \theta \leq \frac{\pi}{4}$ و $0 \leq r \leq \frac{\sin \theta}{\cos^2 \theta}$ است.

$$\int_0^1 \int_{x^2}^x \frac{dydx}{\sqrt{x^2+y^2}} = \int_0^{\frac{\pi}{4}} \int_0^{\frac{\sin \theta}{\cos^2 \theta}} \frac{r dr d\theta}{r} = \int_0^{\frac{\pi}{4}} \frac{\sin \theta d\theta}{\cos^2 \theta} = \frac{1}{\cos \theta} \Big|_0^{\frac{\pi}{4}} = \sqrt{2} - 1$$

(تاریخ و فلسفه علم - سراسری ۸۶)

مثال ۲۶: حاصل $\iint_{xoy} \frac{\operatorname{tgh}(x^2+y^2)}{\cosh(x^2+y^2)} dx dy$ روی صفحه xoy کدام است؟

- (۱) π
 (۲) $\frac{2\pi}{e}$
 (۳) $\frac{\pi}{2}(e+e^{-1})$
 (۴) انتگرال واگراست.

پاسخ: گزینه «۱» با توجه به تابع مقابل انتگرال از تغییر مختصات قطبی استفاده می‌کنیم، صفحه xoy در مختصات قطبی به صورت $\begin{cases} 0 \leq r < \infty \\ 0 \leq \theta < 2\pi \end{cases}$

$$\iint \frac{\operatorname{tgh}(x^2+y^2)}{\cosh(x^2+y^2)} dx dy = \int_0^{2\pi} \int_0^{\infty} \frac{\operatorname{tgh} r^2}{\cosh r^2} \cdot r dr d\theta = \int_0^{2\pi} d\theta \int_0^{\infty} \frac{r \sinh r^2}{\cosh^2 r^2} dr = (2\pi) \left(\frac{1}{2} \right) = \pi$$

توضیح: برای محاسبه انتگرال دوم در بالا از تغییر متغیر $u = \cosh r^2$ و $du = 2r \sinh r^2$ استفاده کرده‌ایم که در این صورت داریم:

$$\int \frac{r \sinh r^2}{\cosh^2 r^2} dr = \frac{1}{2} \int \frac{du}{u^2} = \frac{-1}{2u} + c = \frac{-1}{2 \cosh r^2} + c$$

(عمران - سراسری ۸۷)

مثال ۲۷: مقدار انتگرال $\int_0^1 \int_0^{1-x} \cos\left(\frac{x-y}{x+y}\right) dy dx$ برابر است با:

- (۱) $\sin 1$
 (۲) $\frac{3}{2} \sin 1$
 (۳) $\frac{1}{2} \sin 1$
 (۴) $2 \sin 1$

پاسخ: گزینه «۳» با استفاده از تغییر متغیر $\begin{cases} u = x - y \\ v = x + y \end{cases}$ ، $|J| = \frac{1}{2}$ نتیجه می‌شود:

$$\int_0^1 \int_0^{1-x} \cos\left(\frac{x-y}{x+y}\right) dy dx = \frac{1}{2} \int_0^1 \int_{-v}^v \cos \frac{u}{v} du dv = \frac{1}{2} \int_0^1 v \sin\left(\frac{u}{v}\right) \Big|_{-v}^v dv = \sin 1 \times \int_0^1 v dv = \frac{1}{2} \sin 1$$

مثال ۲۸: $\iint_D \frac{x^2}{y^4} dA$ که در آن D ناحیه محدود به هذلولی‌های $xy = 2$ ، $xy = 4$ و سهمی‌های $y^2 = 3x$ و $y^2 = x$ است، کدام است؟

(صنایع - سیستم - سراسری ۸۷)

- (۱) $\frac{2}{3}$
 (۲) $\frac{4}{9}$
 (۳) $\frac{8}{27}$
 (۴) $\frac{1}{30}$

پاسخ: گزینه «۳» با توجه به معادله مرزهای ناحیه از تغییر متغیر $\begin{cases} u = xy \\ v = \frac{y^2}{x} \end{cases}$ استفاده می‌کنیم، در این صورت $2 \leq u \leq 4$ و $1 \leq v \leq 3$ بدست می‌آید

$$\frac{\partial(u, v)}{\partial(x, y)} = \begin{vmatrix} \frac{\partial u}{\partial x} & \frac{\partial u}{\partial y} \\ \frac{\partial v}{\partial x} & \frac{\partial v}{\partial y} \end{vmatrix} = \begin{vmatrix} y & x \\ -\frac{y^2}{x^2} & \frac{2y}{x} \end{vmatrix} = \frac{2y^2}{x} \Rightarrow |J| = \frac{1}{\frac{\partial(u, v)}{\partial(x, y)}} = \frac{x}{2y^2} = \frac{1}{2v}$$

و ژاکوبین برابر است با:

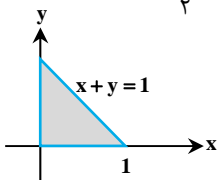
عبارت مقابل انتگرال در صورت مسأله یعنی $\frac{x^2}{y^4}$ بر حسب متغیرهای جدید به صورت $\frac{1}{2v}$ در می‌آید، پس داریم:

$$\iint_D \frac{x^2}{y^4} dA = \int_2^4 \int_1^3 \frac{1}{2v^3} dv du = \frac{1}{2} \int_2^4 du \int_1^3 \frac{dv}{v^3} = \frac{8}{27}$$

(عمران - سراسری ۸۴ و ریاضی - سراسری ۸۹)

مثال ۲۹: انتگرال دوگانه $\int_0^1 \int_0^{1-x} \exp\left(-\frac{y}{x+y}\right) dy dx$ برابر است با:

- (۱) $\frac{1}{2} e - 1$
 (۲) $\frac{1}{2} (e - 1)$
 (۳) $\frac{1}{2} e + 1$
 (۴) $\frac{1}{2} (e + 1)$



پاسخ: گزینه «۲» ناحیه انتگرال‌گیری به صورت مقابل می‌باشد. برای محاسبه انتگرال از تغییر

متغیر $\begin{cases} u = y \\ v = x + y \end{cases}$ استفاده می‌کنیم، در این صورت $0 \leq v \leq 1$ و $0 \leq u \leq v$ حاصل می‌شود.

$$J_{xy} = \frac{\partial(u, v)}{\partial(x, y)} = \begin{vmatrix} 1 & 1 \\ 0 & 1 \end{vmatrix} = 1 \Rightarrow |J_{uv}| = 1 \Rightarrow \int_0^1 \int_0^{1-x} \exp\left(-\frac{y}{x+y}\right) dy dx = \int_0^1 \int_0^v e^{-\frac{u}{v}} du dv = \int_0^1 v e^{-\frac{u}{v}} \Big|_0^v dv = (e-1) \int_0^1 v dv = \frac{e-1}{2}$$

(معدن - سراسری ۸۹)

مثال ۳۰: اگر $D = \{(x, y) : x, y > 0, x + y < 1\}$ مقدار $\iint_D e^{\frac{x-y}{x+y}} dx dy$ چقدر است؟

- (۱) $\frac{1}{4} (e - e^{-1})$
 (۲) $\frac{1}{4} (e^{-1} + e)$
 (۳) $\frac{1}{4} (e - e^{-1})$
 (۴) $\frac{1}{4} (e^{-1} + e)$

پاسخ: گزینه «۱» با توجه به تابع تحت انتگرال از تغییر متغیر $\begin{cases} u = x - y \\ v = x + y \end{cases}$ استفاده می‌کنیم، در این صورت داریم:

$$J_{xy} = \frac{\partial(u, v)}{\partial(x, y)} = \begin{vmatrix} 1 & -1 \\ 1 & 1 \end{vmatrix} = 2 \Rightarrow |J_{uv}| = \frac{1}{2}$$

با توجه به ناحیه انتگرال‌گیری $0 \leq v \leq 1$ ، $-v \leq u \leq v$ حاصل می‌شود، بنابراین داریم:

$$\iint_D e^{\frac{x-y}{x+y}} dx dy = \frac{1}{2} \int_0^1 \int_{-v}^v e^{\frac{u}{v}} du dv = \frac{1}{2} \int_0^1 v e^{\frac{u}{v}} \Big|_{-v}^v dv = \frac{1}{2} \int_0^1 (e - e^{-1}) v dv = \frac{1}{4} (e - e^{-1}) v^2 \Big|_0^1 = \frac{1}{4} (e - e^{-1})$$

مثال ۳۱: مقدار $\iint_A (\sqrt{xy} + \sqrt{\frac{y}{x}}) dx dy$ ، که در آن A ناحیه محصور بین هذلولی‌های $xy = 2$ ، $xy = 1$ و خطوط $y = x$ و $y = 4x$ در ربع اول باشد

(علوم کامپیوتر - سراسری ۸۹)

برابر است با:

(۱) $2\sqrt{\lambda} + 1$ (۲) $2\sqrt{\lambda} - 1$ (۳) $-2\sqrt{\lambda} - 1$ (۴) $-2\sqrt{\lambda} + 1$

پاسخ: هیچکدام از گزینه‌ها صحیح نیست. با استفاده از روش تغییر متغیر به صورت $v = \frac{y}{x}$ و $u = xy$ انتگرال موردنظر را محاسبه می‌کنیم. با توجه به محدوده داده شده در سؤال داریم $1 \leq u \leq 2$ و $1 \leq v \leq 4$. هم‌چنین داریم:

$$J_{uv} = \frac{1}{J_{xy}} = \frac{1}{\begin{vmatrix} \frac{\partial u}{\partial x} & \frac{\partial u}{\partial y} \\ \frac{\partial v}{\partial x} & \frac{\partial v}{\partial y} \end{vmatrix}} = \frac{1}{\begin{vmatrix} y & x \\ -\frac{y}{x^2} & \frac{1}{x} \end{vmatrix}} = \frac{1}{\frac{y}{x} + \frac{y}{x}} = \frac{1}{2v} \Rightarrow \iint_A (\sqrt{xy} + \sqrt{\frac{y}{x}}) dx dy = \int_1^2 \int_1^4 \frac{1}{2v} (\sqrt{u} + \sqrt{v}) du dv$$

در انتگرال وسطی ضریب ثابت است و می‌توان آن را از انتگرال خارج کرد:

$$\int_1^2 (\sqrt{u} + \sqrt{v}) du = \left[\frac{2}{3} u^{\frac{3}{2}} + \sqrt{vu} \right]_1^2 = \frac{2}{3} (\sqrt{\lambda} - 1) + \sqrt{v}$$

$$\Rightarrow \int_1^4 \frac{2}{3} \frac{(\sqrt{\lambda} - 1) + \sqrt{v}}{2v} dv = \left[\frac{1}{3} (\sqrt{\lambda} - 1) \text{Ln} v + \sqrt{v} \right]_1^4 = \frac{2}{3} (\sqrt{\lambda} - 1) \text{Ln} 2 + 1$$

با قرار دادن جواب در انتگرال دوم داریم:

مثال ۳۲: مقدار انتگرال $\iint_D \text{Ln}(x^2 + y^2) dx dy$ که در آن D ناحیه بین دو دایره $x^2 + y^2 = a^2$ و $x^2 + y^2 = b^2$ ($0 < a < b$) در نیم صفحه بالایی می‌باشد برابر است با:

(ژئوفیزیک و هواشناسی - سراسری ۸۹)

می‌باشد برابر است با:

(۱) $\pi(b^2 \text{Ln} b - a^2 \text{Ln} a + \frac{1}{2} b^2 - \frac{1}{2} a^2)$ (۲) $\pi(b \text{Ln} b - a \text{Ln} a - \frac{1}{2} b^2 + \frac{1}{2} a^2)$

(۳) $\pi(b^2 \text{Ln} b - a^2 \text{Ln} a - \frac{1}{2} b^2 + \frac{1}{2} a^2)$ (۴) $\pi(b \text{Ln} b - a \text{Ln} a + \frac{1}{2} b^2 - \frac{1}{2} a^2)$

پاسخ: گزینه «۳» برای محاسبه انتگرال از تغییر مختصات قطبی استفاده می‌کنیم. در این صورت ناحیه $a^2 \leq x^2 + y^2 \leq b^2$ به صورت $a^2 \leq r^2 \leq b^2$ یا $a \leq r \leq b$ در می‌آید و در نتیجه انتگرال داده شده به صورت زیر خواهد بود:

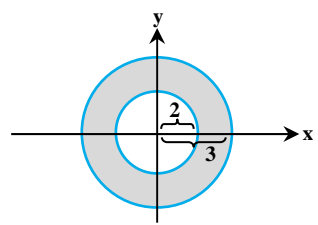
$$\iint_D \text{Ln}(x^2 + y^2) dx dy = \int_0^\pi \int_a^b \text{Ln}(r^2) r dr d\theta = \int_0^\pi d\theta \int_a^b 2r \text{Ln} r dr = \theta \times \left(r^2 \text{Ln} r - \frac{r^2}{2} \right) \Big|_a^b = \pi \left(b^2 \text{Ln} b - \frac{b^2}{2} - a^2 \text{Ln} a + \frac{a^2}{2} \right)$$

مثال ۳۳: حاصل $\iint_D \sqrt{x^2 + y^2} dx dy$ که در آن D ناحیه محدود به دو دایره به مرکزهای مبدأ مختصات و شعاع‌های ۲ و ۳ واحد باشد، برابر کدام است؟

(MBA - سراسری ۹۰)

است؟

(۱) $\frac{22\pi}{3}$ (۲) $\frac{22\pi}{3}$ (۳) $\frac{28\pi}{3}$ (۴) $\frac{28\pi}{3}$



پاسخ: گزینه «۳» ناحیه انتگرال‌گیری عبارت است از:

$$D = \left\{ (x, y), 4 \leq x^2 + y^2 \leq 9 \right\}$$

برای محاسبه‌ی این انتگرال از مختصات قطبی استفاده می‌کنیم:

$$r^2 = x^2 + y^2$$

$$dx dy = r dr d\theta$$

با توجه به شکل رسم شده در بالا، حدود انتگرال دوگانه در دستگاه مختصات قطبی به صورت مقابل می‌باشد:

$$D = \left\{ (r, \theta) : 2 \leq r \leq 3, 0 \leq \theta \leq 2\pi \right\}$$

اگر مقدار انتگرال را با I نمایش دهیم، داریم:

$$I = \iint_D \sqrt{x^2 + y^2} dx dy = \int_0^{2\pi} \int_2^3 r^2 dr d\theta = \int_0^{2\pi} \left[\frac{1}{3} r^3 \right]_2^3 d\theta = \int_0^{2\pi} \frac{19}{3} d\theta = 2\pi \left(\frac{19}{3} \right) = \frac{38\pi}{3}$$



درسنامه ۳: کاربردهای انتگرال دوگانه



مثال ۱: هرگاه ناحیه D درون بیضی $1 = \frac{x^2}{9} + \frac{y^2}{4}$ باشد و چگالی هر نقطه از ناحیه D برابر $f(x, y) = x^2 y^2$ باشد. جرم جسم چقدر است؟

$$12\pi \quad (۴)$$

$$4\pi \quad (۳)$$

$$9\pi \quad (۲)$$

$$6\pi \quad (۱)$$

پاسخ: گزینه «۲» ناحیهی انتگرال‌گیری یک بیضی با شعاع‌های $a = 3$ و $b = 2$ است. بهتر است از تغییر مختصات بیضوی به صورت $x = 3r \cos \theta$ و $y = 2r \sin \theta$ استفاده کنیم. با این کار این بیضی تبدیل به دایره‌ی واحد می‌شود و خواهیم داشت: $0 \leq \theta \leq 2\pi$ و $0 \leq r \leq 1$. زاویه‌بین دستگاه بیضوی برابر است با: $J = abr = 6r$.

$$\text{جرم} = \iint_D x^2 y^2 dA = \int_0^{2\pi} \int_0^1 (9r^2 \cos^2 \theta)(4r^2 \sin^2 \theta)(2 \times 3) r dr d\theta = 216 \left(\int_0^{2\pi} \sin^2 \theta \cos^2 \theta d\theta \right) \left(\int_0^1 r^5 dr \right) = 216 \times \frac{\pi}{4} \times \frac{1}{6} = 9\pi$$

توضیح: برای محاسبه $\int_0^{2\pi} \sin^2 \theta \cos^2 \theta d\theta$ می‌توانیم از تابع گاما استفاده کنیم (رجوع کنید به کتاب ریاضی عمومی (۱)) و یا به شکل زیر عمل کنیم:

$$\int_0^{2\pi} \sin^2 \theta \cos^2 \theta d\theta = \frac{1}{4} \int_0^{2\pi} \sin^2 2\theta d\theta = \frac{1}{4} \int_0^{2\pi} \frac{1 - \cos 4\theta}{2} d\theta = \frac{1}{8} \left(\theta - \frac{1}{4} \sin 4\theta \right) \Big|_0^{2\pi} = \frac{\pi}{4}$$

مثال ۲: جرم یک صفحه مربعی با رئوس $(0,0)$, $(a,0)$, $(0,a)$ و (a,a) ، که چگالی آن در نقطه (x,y) سه برابر مربع فاصله آن نقطه از مبدأ مختصات می‌باشد، کدام است؟

$$\frac{3}{2} a^4 \quad (۴)$$

$$\frac{2}{3} a^4 \quad (۳)$$

$$2a^4 \quad (۲)$$

$$a^4 \quad (۱)$$

پاسخ: گزینه «۲» فاصله‌ی نقطه‌ی (x,y) از مبدأ برابر است با $\sqrt{x^2 + y^2}$. بنابراین تابع چگالی از ضابطه‌ی $\rho(x,y) = 3(x^2 + y^2)$ به دست می‌آید. در ناحیه‌ی انتگرال‌گیری مربعی است که در آن $0 \leq x \leq a$ و $0 \leq y \leq a$ است.

$$M = \int_0^a \int_0^a 3(x^2 + y^2) dy dx = 3 \int_0^a \left[x^2 y + \frac{y^3}{3} \right]_0^a dx = 3 \int_0^a \left[x^2 a + \frac{a^3}{3} \right] dx = 3 \left[\frac{ax^3}{3} + \frac{a^3}{3} x \right]_0^a = 2a^4$$

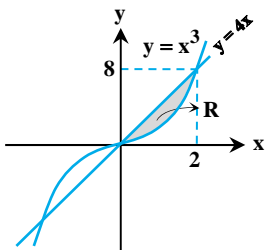
مثال ۳: فاصله مرکز ناحیه محدود به منحنی $y = x^3$ و خط $y = 4x$ واقع در ناحیه اول از محور y ها چقدر است؟

$$\frac{64}{21} \quad (۴)$$

$$\frac{32}{21} \quad (۳)$$

$$\frac{15}{16} \quad (۲)$$

$$\frac{16}{15} \quad (۱)$$



پاسخ: گزینه «۱» ابتدا دقت کنید که فاصله‌ی هر نقطه از محور y ها برابر است با قدرمطلق طول آن

نقطه. اگر (\bar{x}, \bar{y}) مختصات مرکز این ناحیه باشد، کافی است \bar{x} را به دست آوریم تا فاصله‌ی این نقطه با محور y ها معلوم شود. برای تشخیص حدود x و y ابتدا محل برخورد منحنی‌های داده شده را تعیین می‌کنیم.

$$x^3 = 4x \Rightarrow 4x - x^3 = 0 \Rightarrow x(4 - x^2) = 0 \Rightarrow x = 0, \pm 2$$

البته در ربع اول هستیم پس $0 \leq x \leq 2$ است. حدود y نیز واضح هستند، $y = 4x$ و $y = x^3$ در مسأله داده شده‌اند. این ناحیه را با R نشان داده‌ایم.

$$\bar{x} = \frac{\iint_R x dy dx}{\iint_R dy dx} = \frac{\int_0^2 \int_{x^3}^{4x} x dy dx}{\int_0^2 \int_{x^3}^{4x} dy dx} = \frac{\int_0^2 (4x^2 - x^4) dx}{\int_0^2 (4x - x^3) dx} = \frac{\left(\frac{4x^3}{3} - \frac{x^5}{5} \right) \Big|_0^2}{\left(\frac{4x^2}{2} - \frac{x^4}{4} \right) \Big|_0^2} = \frac{\frac{64}{3} - \frac{32}{5}}{4 - \frac{4}{4}} = \frac{64}{4} = 16$$

توضیح: اگر شکل را رسم نکرده باشید برای آن‌که متوجه شوید $y = 4x$ و $y = x^3$ کدام‌یک کران بالا و کدام‌یک کران پایین است، کافیست از محدوده‌ی $0 \leq x \leq 2$ عدد انتخاب کرده، در آن‌ها قرار دهید. مثلاً در $x = 1$ داریم $4x \geq x^3$ پس $y = 4x$ کران بالا و $y = x^3$ کران پایین است.

کله مثال ۴: مساحت مقطع بیضی وار $z = 4$ با صفحه $\frac{x^2}{4} + \frac{y^2}{9} + \frac{z^2}{25} = 1$ کدام است؟

(۱) $\frac{36\pi}{25}$ (۲) $\frac{42\pi}{25}$ (۳) $\frac{48\pi}{25}$ (۴) $\frac{54\pi}{25}$

پاسخ: گزینه «۴» مقطع بیضی وار با صفحه $z = 4$ بیضی $\frac{x^2}{4} + \frac{y^2}{9} = \frac{9}{25}$ می‌باشد. هر چند می‌توانیم مساحت این ناحیه را با استفاده از انتگرال دوگانه $S = \iint_D dydx$ و با استفاده از تغییر دستگاه بیضوی به دست آوریم اما از آن‌جا که برای مساحت بیضی یک فرمول ساده‌تر وجود دارد، به جای استفاده از انتگرال دوگانه، بهتر است معادله بیضی را به صورت استاندارد نوشته و شعاع‌های آن را مشخص کنیم. معادله بیضی را به صورت $\frac{x^2}{(\frac{6}{5})^2} + \frac{y^2}{(\frac{9}{5})^2} = 1$ می‌نویسیم. شعاع‌های این بیضی $a = \frac{6}{5}$ و $b = \frac{9}{5}$ هستند، پس داریم:

یادآوری: مساحت بیضی با شعاع‌های a و b برابر با $S = \pi ab$ است.

کله مثال ۵: جرم جسمی که درون استوانه‌ای به معادله $x^2 + y^2 = 1$ و خارج مخروط به معادله $z^2 = x^2 + y^2$ قرار داشته با چگالی در نقطه‌ی (x, y, z) برابر $\sqrt{x^2 + y^2}$ باشد، کدام است؟

(۱) π (۲) $\frac{\pi}{2}$ (۳) $\frac{3\pi}{2}$ (۴) 2π

پاسخ: گزینه «۱» ناحیه درون دایره‌ی $x^2 + y^2 = 1$ را D می‌نامیم، در این صورت جرم موردنظر برابر است با:

$$M = \iint_D \left(\int_{-\sqrt{x^2+y^2}}^{\sqrt{x^2+y^2}} \sqrt{x^2+y^2} dz \right) dx dy = \iint_D 2(x^2+y^2) dx dy$$

برای محاسبه انتگرال فوق از مختصات قطبی استفاده می‌کنیم:

$$M = \int_0^{2\pi} \int_0^1 2r^2 \times r dr d\theta = \int_0^{2\pi} d\theta \times \int_0^1 2r^3 dr = 2\pi \times \frac{1}{2} = \pi$$

کله مثال ۶: حجم ناحیه‌ی محدود به استوانه‌ای به معادله $y = x^2$ و صفحه‌ای به معادله $y + z = 4$ و صفحات xoy و $yozy$ واقع در ناحیه‌ی اول از z ناحیه‌ی فضا کدام است؟

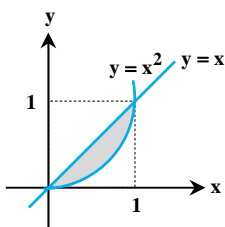
(۱) $\frac{64}{15}$ (۲) $\frac{64}{30}$ (۳) $\frac{128}{15}$ (۴) $\frac{128}{30}$

پاسخ: گزینه «۳» حجم محصور زیر صفحه $z = 4 - y$ مدنظر می‌باشد، بنابراین داریم:

$$V = \int_0^4 \int_0^{\sqrt{y}} (4 - y) dx dy = \int_0^4 (4\sqrt{y} - y\sqrt{y}) dy = \left[\frac{4}{3} \times \frac{2}{5} y^{\frac{5}{2}} - \frac{2}{5} y^{\frac{5}{2}} \right]_0^4 = \frac{128}{15}$$

کله مثال ۷: کدام روش برای محاسبه مساحت ناحیه‌ی محدود به نمودارهای $y = x^2$ و $y = x$ نادرست است؟

(۱) $\int_0^1 \int_{x^2}^x dx dy$ (۲) $\int_0^1 \int_y^{\sqrt{y}} dx dy$ (۳) $\int_0^1 \int_{x^2}^x (x^2 - x) dx dy$ (۴) $\int_0^1 (x - x^2) dx$



پاسخ: گزینه «۳» با رسم نمودار $y = x^2$ و $y = x$ ناحیه‌ی موردنظر را مشخص می‌کنیم. این دو منحنی در $(0,0)$ و $(1,1)$ با هم برخورد می‌کنند.

با دو ترتیب مختلف می‌توانیم مساحت این ناحیه را به کمک انتگرال دوگانه بنویسیم. با ترتیب $S = \iint_D dydx$ که در آن $0 \leq x \leq 1$ است و برای حدود y از پایین به بالا که حرکت

کنیم $y = x^2$ مرز ورودی و $y = x$ مرز خروجی است. پس داریم:

پس گزینه‌ی (۱) صحیح است. اگر انتگرال وسطی را حل کنیم داریم:

پس گزینه‌ی (۴) هم صحیح است. حالا ترتیب $S = \iint_D dx dy$ را انتخاب می‌کنیم. $0 \leq y \leq 1$ است و از چپ به راست که حرکت کنیم، $x = y$ مرز ورودی

و $x = \sqrt{y}$ (یعنی $y = x^2$) مرز خروجی است پس $S = \int_0^1 \int_y^{\sqrt{y}} dx dy$ ؛ یعنی گزینه (۲) هم صحیح است. در همین انتگرال، با حل انتگرال وسطی داریم:

$$S = \int_0^1 (\sqrt{y} - y) dy$$

اما هیچکدام از روابط به دست آمده برای مساحت این ناحیه، با گزینه‌ی (۳) مطابقت ندارند. در واقع از همان ابتدا نیز با یک نگاه می‌توانستیم بگوییم گزینه (۳) غلط است. زیرا در دستگاه دکارتی، وقتی مساحت یک ناحیه را با انتگرال دوگانه می‌نویسیم، تابع زیر انتگرال، تابع ثابت یک است.

(ریاضی - سراسری ۸۱)

مثال ۸: حجم ناحیه T محدود به سهموی به معادله $z = 4 - x^2 - y^2$ و صفحه xoy کدام است؟

(۴) 8π

(۳) 7π

(۲) 6π

(۱) 5π

پاسخ: گزینه «۴» محل تلاقی سهموی و صفحه xoy ، دایره $D: x^2 + y^2 = 4$ می‌باشد. بنابراین داریم:

$$V = \iint_D (4 - x^2 - y^2) dA \stackrel{\text{مختصات قطبی}}{=} \int_0^{2\pi} \int_0^2 (4 - r^2) r dr d\theta = \int_0^{2\pi} d\theta \times \int_0^2 (4r - r^3) dr = 8\pi$$

(MBA - سراسری ۸۲)

مثال ۹: انتگرال معین $\int_{-2}^0 \int_{-\sqrt{9-x^2}}^0 dy dx$

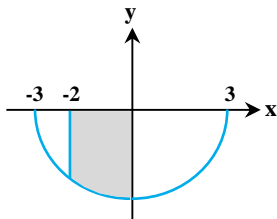
(۱) مساحت ربع دایره‌ی $x^2 + y^2 = 9$ است.

(۲) مساحت نیم دایره‌ی $x^2 + y^2 = 9$ است

(۳) مساحت نواری از دایره‌ی $x^2 + y^2 = 9$ محدود به محور y ها و خط $x = -2$ است.

(۴) مساحت نیم‌نواری از دایره‌ی $x^2 + y^2 = 9$ محدود به محور x ها و y ها و خط $x = -2$ است.

پاسخ: گزینه «۴»



انتگرال موردنظر ناحیه $\begin{cases} -2 \leq x \leq 0 \\ -\sqrt{9-x^2} \leq y \leq 0 \end{cases}$ است، بنابراین ناحیه موردنظر به شکل روبرو خواهد بود.

(صنایع - سیستم - سراسری ۸۳)

مثال ۱۰: حجم محدود به رویه $z = 9 - x^2 - y^2$ ، صفحه $z = 0$ و داخل استوانه $x^2 + y^2 = 4$ کدام است؟

(۴) 28π

(۳) 18π

(۲) 16π

(۱) 14π

پاسخ: گزینه «۴» برای محاسبه، حجم موردنظر از مختصات قطبی استفاده می‌کنیم، در این صورت معادله رویه به صورت $z = 9 - r^2$ در می‌آید.

$$V = \int_0^{2\pi} \int_0^2 (9 - r^2) r dr d\theta = \int_0^{2\pi} d\theta \times \int_0^2 (9r - r^3) dr = 28\pi$$

(علوم کامپیوتر - سراسری ۸۴)

مثال ۱۱: اگر جسم S توسط سطوح به معادله‌های $z = xy$ و $y = x^2$ و $y^2 = x$ و صفحه $z = 0$ محدود شده باشد، حجم آن کدام است؟

(۴) $\frac{1}{9}$

(۳) $\frac{1}{3}$

(۲) $\frac{1}{12}$

(۱) $\frac{1}{6}$

پاسخ: گزینه «۲» از تلاقی $y = x^2$ و $y^2 = x$ ، مقادیر ۰ و ۱ برای x به دست می‌آید، بنابراین: $V = \int_0^1 \int_{x^2}^{\sqrt{x}} xy dy dx = \frac{1}{2} \int_0^1 (x^2 - x^5) dx = \frac{1}{12}$

(ریاضی - سراسری ۸۵)

مثال ۱۲: اگر D ناحیه‌ی محصور بین منحنی‌های $y = x^2$ ، $y = \lambda x^2$ ، $xy = 1$ و $xy = 2$ باشد، آن‌گاه مساحت ناحیه D برابر کدام است؟

(۴) $\ln 2$

(۳) $\frac{2}{3} \ln 2$

(۲) $\frac{7}{3}$

(۱) ۷

پاسخ: گزینه «۴» با توجه به منحنی‌های داده شده و ناحیه انتگرال‌گیری از تغییر متغیر $u = \frac{y}{x}$ و $v = xy$ استفاده می‌کنیم. با این تغییر متغیر

ناحیه انتگرال‌گیری به صورت $1 \leq u \leq 8$ ، $1 \leq v \leq 2$ در می‌آید.

$$\frac{1}{J} = \frac{\partial(u, v)}{\partial(x, y)} = \begin{vmatrix} \frac{-2y}{x^3} & \frac{1}{x^2} \\ y & x \end{vmatrix} = \frac{-2y}{x^2} = -2u \Rightarrow |J| = \frac{1}{2u}$$

$$S = \int_1^2 \int_1^8 \frac{1}{2u} du dv = \frac{1}{2} \int_1^2 dv \int_1^8 \frac{du}{u} = \frac{1}{2} \ln 8 = \ln 2$$

کج مثال ۱۳: مساحت ناحیه در صفحه محصور به سهمی‌های $x = y^2$ ، $y = x^2$ ، $y = 2x^2$ ، $x = y^2$ و $x = 3y^2$ برابر با کدام مورد می‌باشد؟ (عمران - سراسری ۸۸)

- (۱) $\frac{1}{9}$ (۲) $\frac{1}{6}$ (۳) $\frac{1}{4}$ (۴) $\frac{1}{3}$

پاسخ: گزینه «۱» معادله‌ی مرزها به صورت $\frac{x^2}{y} = \frac{1}{2}$ ، $\frac{x^2}{y} = 1$ و $\frac{y^2}{x} = 1$ و $\frac{y^2}{x} = \frac{1}{3}$ نوشته می‌شوند. از تغییر متغیر $u = \frac{x^2}{y}$ و $v = \frac{y^2}{x}$ استفاده

می‌کنیم، در این صورت معادله‌ی مرزها به ترتیب $u = 1$ ، $u = \frac{1}{2}$ ، $u = 1$ ، $v = 1$ و $v = \frac{1}{3}$ است و داریم:

$$J_{xy} = \frac{\partial(u, v)}{\partial(x, y)} = \begin{vmatrix} \frac{2x}{y} & \frac{-x^2}{y^2} \\ \frac{-y^2}{x^2} & \frac{2y}{x} \end{vmatrix} = 4 - 1 = 3 \Rightarrow J_{uv} = \frac{1}{3}$$

$$\text{مساحت} = \iint J_{xy} du dv = \int_{\frac{1}{3}}^1 \int_{\frac{1}{2}}^1 \frac{1}{3} du dv = \frac{1}{3} \times \frac{1}{3} \times \frac{1}{2} = \frac{1}{9}$$

کج مثال ۱۴: حجم ناحیه واقع در بالای صفحه xoy و زیر سهمی‌گون $z = 1 - \frac{x^2}{a^2} - \frac{y^2}{b^2}$ کدام است؟ (عمران - سراسری ۸۹)

- (۱) $\frac{3\pi ab}{2}$ (۲) πab (۳) $\frac{\pi ab}{2}$ (۴) $2\pi ab$

پاسخ: گزینه «۳» حجم مورد نظر برابر $V = \iint (1 - \frac{x^2}{a^2} - \frac{y^2}{b^2}) dA$ می‌باشد که در آن، ناحیه انتگرال‌گیری درون بیضی $\frac{x^2}{a^2} + \frac{y^2}{b^2} = 1$ می‌باشد. برای

محاسبه انتگرال از تغییر مختصات بیضوی استفاده می‌کنیم، یعنی $x = ar \cos \theta$ ، $y = br \sin \theta$ ، $dA = abr dr d\theta$. در این صورت:

$$V = \int_0^{2\pi} \int_0^1 (1 - r^2) abr dr d\theta = ab \int_0^{2\pi} d\theta \int_0^1 (r - r^3) dr = (ab)(2\pi) \left(\frac{r^2}{2} - \frac{r^4}{4} \right) \Big|_0^1 = \frac{\pi ab}{2}$$



درسنامه ۴: انتگرال‌های سه‌گانه

مثال ۱: حاصل $\int_0^{\frac{\pi}{2}} \int_0^z \int_0^y \sin(x+y+z) dx dy dz$ کدام است؟

- (۱) $\frac{1}{3}$ (۲) $\frac{2}{3}$ (۳) $\frac{2}{\sqrt{3}}$ (۴) ۲

پاسخ: گزینه «۱»

$$\begin{aligned} I &= \int_0^{\frac{\pi}{2}} \int_0^z \int_0^y \sin(x+y+z) dx dy dz = \int_0^{\frac{\pi}{2}} \int_0^z [-\cos(x+y+z)]_0^y dy dz \\ &= \int_0^{\frac{\pi}{2}} \int_0^z [-\cos(\pi y+z) + \cos(y+z)] dy dz = \int_0^{\frac{\pi}{2}} \left[-\frac{1}{\pi} \sin(\pi y+z) + \sin(y+z) \right]_0^z dz \\ &= \int_0^{\frac{\pi}{2}} \left(-\frac{1}{\pi} \sin \pi z + \sin \pi z + \frac{1}{\pi} \sin z - \sin z \right) dz = \left[\frac{1}{\pi} \cos \pi z - \frac{1}{\pi} \cos \pi z - \frac{1}{\pi} \cos z + \cos z \right]_0^{\frac{\pi}{2}} = \frac{1}{3} \end{aligned}$$

مثال ۲: حاصل $I = \iiint_{\mathbb{R}^3} e^{-x^2-2y^2-3z^2} dv$ کدام است؟

- (۱) $\pi\sqrt{\frac{\pi}{2}}$ (۲) $\pi\sqrt{\frac{\pi}{6}}$ (۳) $\pi\sqrt{\frac{\pi}{3}}$ (۴) ۰

پاسخ: گزینه «۲» در فضای سه‌بعدی \mathbb{R}^3 داریم $-\infty < x, y, z < +\infty$ تابع انتگرالده قابل تفکیک به توابع یک متغیره است. کران‌ها نیز همه ثابت هستند. پس می‌توان انتگرال‌ها را تفکیک کرد:

$$I = \int_{-\infty}^{+\infty} \int_{-\infty}^{+\infty} \int_{-\infty}^{+\infty} e^{-x^2} e^{-2y^2} e^{-3z^2} dz dy dx = \left(\int_{-\infty}^{+\infty} e^{-x^2} dx \right) \left(\int_{-\infty}^{+\infty} e^{-2y^2} dy \right) \left(\int_{-\infty}^{+\infty} e^{-3z^2} dz \right)$$

اکنون فرض کنیم: $F(\lambda) = \int_{-\infty}^{+\infty} e^{-\lambda t^2} dt$ باشد. به علت زوج بودن $e^{-\lambda t^2}$ داریم $F(\lambda) = 2 \int_0^{+\infty} e^{-\lambda t^2} dt$. با استفاده از تغییر متغیر $u = \lambda t^2$ داریم

$$F(\lambda) = 2 \times \frac{1}{\sqrt{\lambda}} \int_0^{\infty} u^{-\frac{1}{2}} e^{-u} du = \frac{1}{\sqrt{\lambda}} \Gamma\left(\frac{1}{2}\right) = \sqrt{\frac{\pi}{\lambda}}$$

پس می‌توان نوشت:

$$I = F(1)F(2)F(3) = \sqrt{\frac{\pi}{1}} \sqrt{\frac{\pi}{2}} \sqrt{\frac{\pi}{3}} = \pi\sqrt{\frac{\pi}{6}}$$

یادآوری: $\int_0^{\infty} u^\alpha e^{-u} du = \Gamma(\alpha+1)$

مثال ۳ (سخت): ناحیه D در $\frac{1}{8}$ اول فضای \mathbb{R}^3 قرار دارد و با نامعادله $x+y+z \leq 1$ مشخص شده است. حاصل انتگرال سه‌گانه‌ی

$$I = \iiint_D \sqrt{\frac{1-x-y-z}{xyz}} dx dy dz$$

کدام است؟

- (۱) $\frac{\sqrt{2}}{2} \pi^2$ (۲) $\frac{\pi^2}{4}$ (۳) $2\sqrt{2} \pi^2$ (۴) $\frac{\pi^2}{2}$

پاسخ: گزینه «۲» در $\frac{1}{8}$ اول فضا، شرط $x, y, z \geq 0$ را داریم. بنابراین در ناحیه D خواهیم داشت: $0 \leq x+y+z \leq 1$. بنابراین از فرمول دیریکله

$$I = \iiint_D x^{-\frac{1}{2}} y^{-\frac{1}{2}} z^{-\frac{1}{2}} (1-x-y-z)^{\frac{1}{2}} dx dy dz$$

در حالت $h_1 = 1$ و $h_2 = h_3 = 0$ استفاده می‌کنیم. با مرتب کردن تابع زیر انتگرال خواهیم داشت:

پس $m = n = k = -\frac{1}{2}$ و $f(x+y+z) = (1-x-y-z)^{\frac{1}{2}}$ یعنی $f(t) = (1-t)^{\frac{1}{2}}$ است. با استفاده از فرمول داریم:

$$I = \frac{\Gamma(-\frac{1}{2}+1)\Gamma(-\frac{1}{2}+1)\Gamma(-\frac{1}{2}+1)}{\Gamma(-\frac{1}{2}-\frac{1}{2}-\frac{1}{2}+3)} \int_0^1 (1-t)^{\frac{1}{2}} t^{-\frac{1}{2}-\frac{1}{2}-\frac{1}{2}+\frac{1}{2}} dt = \frac{\Gamma(\frac{1}{2})\Gamma(\frac{1}{2})\Gamma(\frac{1}{2})}{\Gamma(\frac{3}{2})} \int_0^1 t^{\frac{1}{2}} (1-t)^{\frac{1}{2}} dt$$

$$\Gamma(\frac{1}{2}) = \sqrt{\pi}$$

یادآوری می‌کنیم که $\int_0^1 t^a (1-t)^b dt = \frac{\Gamma(a+1)\Gamma(b+1)}{\Gamma(a+b+2)}$ است. بنابراین داریم:

$$I = \frac{(\sqrt{\pi})^3 \Gamma(\frac{3}{2})\Gamma(\frac{3}{2})}{\Gamma(3)} = \frac{(\sqrt{\pi})^3 \frac{1}{2} \sqrt{\pi} \frac{1}{2} \sqrt{\pi}}{2!} = \frac{\pi^2}{4}$$

و $\Gamma(\frac{3}{2}) = \frac{1}{2} \Gamma(\frac{1}{2}) = \frac{1}{2} \sqrt{\pi}$ است. با این جایگذاری‌ها داریم:

کله مثال ۴ (سخت): حاصل انتگرال سه‌گانه $I = \iiint_D \text{Ln}(x+y+z) dx dy dz$ روی ناحیه D که به صفحات مختصات و صفحه‌ی $x+y+z=1$ محدود شده کدام است؟

(۱) $\frac{1}{9}$ (۲) $-\frac{1}{9}$ (۳) $\frac{1}{18}$ (۴) $-\frac{1}{18}$

پاسخ: گزینه «۴» با توجه به نامنفی بودن x, y, z در ناحیه‌ی D داریم $0 \leq x+y+z \leq 1$ پس از قضیه‌ی دیریکله استفاده می‌کنیم. با توجه به

عبارت زیر انتگرال $f(t) = \text{Ln}t$ و $n = m = k = 0$ است. $I = \iiint_D \text{Ln}(x+y+z) dx dy dz = \frac{\Gamma(0)\Gamma(0)\Gamma(0)}{\Gamma(3)} \int_0^1 t^{\text{Ln}t} dt$

با استفاده از روش جزء‌به‌جزء داریم:

$$\begin{cases} u = \text{Ln}t \Rightarrow du = \frac{1}{t} dt \\ dv = t^{\text{Ln}t} dt \Rightarrow v = \frac{1}{3} t^{\text{Ln}t} \end{cases} \Rightarrow \int_0^1 t^{\text{Ln}t} dt = \left[\frac{1}{3} t^{\text{Ln}t} \right]_0^1 - \int_0^1 \frac{1}{3} t^{\text{Ln}t} dt = [0] - \left[\frac{1}{9} t^{\text{Ln}t} \right]_0^1 = -\frac{1}{9}$$

$I = \frac{0!0!0!}{3!} \times \left(-\frac{1}{9}\right) = -\frac{1}{18}$ با جایگذاری این مقدار در I خواهیم داشت:

در مورد عبارت $\left[\frac{1}{3} t^{\text{Ln}t} \right]_0^1$ توجه کنید که به ازای $t=1$ به وضوح $\text{Ln}1=0$ است و وقتی $t \rightarrow 0$ میل می‌کند داریم:

$$\lim_{t \rightarrow 0} t^{\text{Ln}t} = \lim_{t \rightarrow 0} \frac{\text{Ln}t}{\frac{1}{t}} \stackrel{\text{Hop}}{=} \lim_{t \rightarrow 0} \frac{\frac{1}{t}}{-\frac{1}{t^2}} = \lim_{t \rightarrow 0} -t = 0$$

توضیح: در مثال‌های فوق اگر از قضیه‌ی دیریکله استفاده نکنیم، نوشتن حدود انتگرال و سپس حل آن به زمان بیشتری نیاز دارد. در اغلب آن‌ها استفاده از انتگرال‌گیری جزء‌به‌جزء لازم می‌شود و ما مجبور می‌شویم جزء‌به‌جزء را برای هر کدام از متغیرهای x, y, z تکرار کنیم. برخی از این مثال‌ها با استفاده از تغییر دستگاه حل می‌شوند؛ اما در آن‌ها هم نحوه‌ی انتخاب u, v, w روش مشخصی ندارد و تجربی است.

کله مثال ۵: حاصل انتگرال سه‌گانه $I = \int_0^1 \int_0^1 \int_0^1 \frac{1}{1-xyz} dz dy dx$ برابر با کدام یک از سری‌های زیر است؟

(۱) $\sum_{n=1}^{\infty} \frac{1}{n^2}$ (۲) $\sum_{n=1}^{\infty} \frac{(-1)^{n-1}}{n^3}$ (۳) $\sum_{n=1}^{\infty} \frac{1}{n^3}$ (۴) $\sum_{n=1}^{\infty} \frac{(-1)^{n-1}}{n^3}$

پاسخ: گزینه «۳» می‌دانید که اگر $|u| < 1$ باشد، داریم: $\frac{1}{1-u} = \sum_{n=0}^{\infty} u^n$

در این مثال متغیرهای x, y, z همگی بین صفر و یک قرار دارند، پس حاصل ضرب آن‌ها عددی کوچکتر از یک است. بنابراین می‌توان نوشت:

$$\frac{1}{1-xyz} = \sum_{n=0}^{\infty} (xyz)^n \Rightarrow \frac{1}{1-xyz} = \sum_{n=0}^{\infty} x^n y^n z^n$$

با استفاده از این معادله در انتگرال سه‌گانه به جای تابع $\frac{1}{1-xyz}$ معادل آن به صورت سری را می‌نویسیم:

$$I = \int_0^1 \int_0^1 \int_0^1 \frac{1}{1-xyz} dz dy dx = \sum_{n=0}^{\infty} \int_0^1 \int_0^1 \int_0^1 x^n y^n z^n dz dy dx$$

حدود انتگرال اعداد ثابتی هستند؛ پس می‌توانیم انتگرال سه‌گانه را به صورت حاصل ضرب چند انتگرال یگانه نوشت:

$$I = \sum_{n=0}^{\infty} \left(\int_0^1 x^n dx \right) \left(\int_0^1 y^n dy \right) \left(\int_0^1 z^n dz \right) = \sum_{n=0}^{\infty} \left[\frac{x^{n+1}}{n+1} \right]_0^1 \left[\frac{y^{n+1}}{n+1} \right]_0^1 \left[\frac{z^{n+1}}{n+1} \right]_0^1 = \sum_{n=0}^{\infty} \left(\frac{1}{n+1} \right) \left(\frac{1}{n+1} \right) \left(\frac{1}{n+1} \right) = \sum_{n=0}^{\infty} \frac{1}{(n+1)^3}$$

$I = \sum_{n=1}^{\infty} \frac{1}{n^3}$ در نهایت از یک ویژگی سری‌ها استفاده می‌کنیم. اگر به کران‌ها یک واحد اضافه کنیم باید از متغیر سری یک واحد کم کنیم:

با قرار دادن $\Gamma(\frac{1}{2}) = \sqrt{\pi}$ و $\Gamma(\frac{3}{2}) = \frac{1}{2}\sqrt{\pi}$ و ضرب کردن صورت و مخرج عبارت مقابل انتگرال در $\sqrt{1-t}$ خواهیم داشت: $I = \frac{\sqrt{\pi}}{4\sqrt{\pi}} \int_0^1 \frac{(1-t)^{\frac{1}{2}}}{(1-t^2)^{\frac{1}{2}}} t^{\frac{1}{2}} dt$

اکنون تغییر متغیر $p = t^2$ را انجام می‌دهیم. $t = \sqrt{p}$ و $dt = \frac{dp}{2\sqrt{p}}$ خواهد بود. $0 \leq t \leq 1$ پس $0 \leq p \leq 1$ است.

$$I = \frac{\pi}{4} \int_0^1 \frac{1-\sqrt{p}}{(1-p)^{\frac{1}{2}}} p^{\frac{1}{4}} \frac{dp}{2\sqrt{p}} = \frac{\pi}{8} \left[\int_0^1 p^{-\frac{1}{4}} (1-p)^{-\frac{1}{2}} dp - \int_0^1 p^{\frac{1}{4}} (1-p)^{-\frac{1}{2}} dp \right] = \frac{\pi}{8} \left[\beta\left(\frac{3}{4}, \frac{1}{2}\right) - \beta\left(\frac{5}{4}, \frac{1}{2}\right) \right]$$

(آمار - سراسری ۸۰)

مثال ۴: حاصل $\iiint_V \frac{dx dy dz}{(x^2 + y^2 + z^2)^{\frac{3}{2}}}$ در ناحیه بین دو کره به شعاع ۱ و ۴ برابر است با:

۸πLn۲ (۴)

۴πLn۲ (۳)

۸πLn۴ (۲)

۴πLn۴ (۱)

پاسخ: گزینه «۱ و ۴» از مختصات کروی استفاده می‌کنیم.

$$I = \int_0^{2\pi} \int_0^{\pi} \int_1^4 \frac{1}{\rho^3} \times \rho^2 \sin \phi d\rho d\phi d\theta = \int_0^{2\pi} \int_0^{\pi} \int_1^4 \frac{1}{\rho} \sin \phi d\rho d\phi d\theta = \int_0^{2\pi} d\theta \int_0^{\pi} \sin \phi d\phi \int_1^4 \frac{1}{\rho} d\rho = 2\pi \times 2 \times \text{Ln} 4 = 4\pi \text{Ln} 4 = 8\pi \text{Ln} 2$$

(ریاضی - سراسری ۸۱)

مثال ۵: مقدار انتگرال $\iiint_V e^{(x^2+y^2+z^2)^{\frac{1}{2}}} dv$ بر روی کره $x^2 + y^2 + z^2 = 1$ کدام است؟

$\frac{4}{3}\pi(e-1)$ (۴)

$\frac{3}{4}\pi(e-1)$ (۳)

$\frac{4}{3}\pi e$ (۲)

$\frac{3}{4}\pi e$ (۱)

پاسخ: گزینه «۴» از مختصات کروی استفاده می‌کنیم.

$$\iiint_D e^{(x^2+y^2+z^2)^{\frac{1}{2}}} dv = \int_0^{2\pi} \int_0^{\pi} \int_0^1 e^{\rho} \times \rho^2 \sin \phi d\rho d\phi d\theta = \int_0^{2\pi} d\theta \times \int_0^{\pi} \sin \phi d\phi \times \int_0^1 \rho^2 e^{\rho} d\rho = 2\pi \times 2 \times \left(\frac{1}{3}e - \frac{1}{3}\right) = \frac{4\pi}{3}(e-1)$$

(تاریخ و فلسفه علم - سراسری ۸۴)

مثال ۶: مقدار انتگرال سه‌گانه $\iiint \frac{dz dy dx}{\sqrt{x^2 + y^2 + z^2}}$ روی نیم‌گوی $x^2 + y^2 + z^2 \leq 1$ و $z \geq 0$ چقدر است؟

۲π (۴)

π√۲ (۳)

$\frac{\pi\sqrt{2}}{2}$ (۲)

π (۱)

پاسخ: گزینه «۱» از دستگاه مختصات کروی استفاده می‌کنیم. در این صورت معادله گوی به صورت $\rho = 1$ در می‌آید و چون $z \geq 0$ است،

پس $0 \leq \phi \leq \frac{\pi}{2}$ خواهد بود و در نتیجه داریم:

$$\iiint \frac{dz dy dx}{\sqrt{x^2 + y^2 + z^2}} = \int_0^{2\pi} \int_0^{\frac{\pi}{2}} \int_0^1 \frac{1}{\rho} \rho^2 \sin \phi d\rho d\phi d\theta = \int_0^{2\pi} d\theta \int_0^{\frac{\pi}{2}} \sin \phi d\phi \int_0^1 \rho d\rho = (2\pi)(1)\left(\frac{1}{2}\right) = \pi$$

(ریاضی - سراسری ۸۴)

مثال ۷: حاصل $\iiint_R \frac{dx dy dz}{(x^2 + y^2 + z^2)^{\frac{3}{2}}}$ وقتی R ناحیه محدود به دو کره $x^2 + y^2 + z^2 = 2$ و $x^2 + y^2 + z^2 = 1$ باشد، کدام است؟

۴πLn۳ (۴)

۲πLn۳ (۳)

۴πLn۲ (۲)

۲πLn۲ (۱)

پاسخ: گزینه «۱» از مختصات کروی استفاده می‌کنیم، در این صورت معادله کره‌ها به ترتیب $\rho = \sqrt{2}$ و $\rho = 1$ خواهد بود. بنابراین داریم:

$$\iiint_R \frac{dx dy dz}{(x^2 + y^2 + z^2)^{\frac{3}{2}}} = \int_0^{2\pi} \int_0^{\pi} \int_1^{\sqrt{2}} \frac{1}{\rho^3} \times \rho^2 \sin \phi d\rho d\phi d\theta = \int_0^{2\pi} d\theta \times \int_0^{\pi} \sin \phi d\phi \times \int_1^{\sqrt{2}} \frac{d\rho}{\rho} = 2\pi \times 2 \times \frac{1}{2} \text{Ln} 2 = 2\pi \text{Ln} 2$$

کج مثال ۸: مقدار انتگرال $\iiint_B (x^2 + y^2) dx dy dz$ که در آن B گوی $x^2 + y^2 + z^2 \leq a^2$ می باشد، کدام است؟

(عمران - سراسری ۸۴ و عمران - نقشه برداری - سراسری ۸۸)

$\frac{8\pi a^5}{15}$ (۴) $\frac{8\pi a^5}{5}$ (۳) $\frac{4\pi a^5}{3}$ (۲) $\frac{2\pi a^5}{5}$ (۱)

پاسخ: گزینه «۴» با توجه به اینکه ناحیه انتگرال گیری به شکل کره می باشد، از دستگاه مختصات کروی استفاده می کنیم.

$$\iiint_B (x^2 + y^2) dx dy dz = \int_0^{2\pi} \int_0^{\pi} \int_0^a (\rho^2 \sin^2 \phi) \rho^2 \sin \phi d\rho d\phi d\theta = \int_0^{2\pi} d\theta \int_0^{\pi} \sin^3 \phi d\phi \int_0^a \rho^4 d\rho = 2\pi \times \frac{4}{3} \times \frac{a^5}{5} = \frac{8\pi a^5}{15}$$

کج مثال ۹: مقدار انتگرال $\iiint_D \sqrt{x^2 + y^2 + z^2} dv$ که در آن D ناحیهی بالای مخروط $z = \sqrt{x^2 + y^2}$ محدود شده توسط کره $x^2 + y^2 + z^2 = 1$ است،

(مکانیک - سراسری ۸۸)

برابر کدام است؟

$\pi^2 \sqrt{2}$ (۴) $\pi(\sqrt{2} - 1)$ (۳) $\frac{\pi}{2}(1 - \frac{\sqrt{2}}{2})$ (۲) $\frac{\pi^2}{2}$ (۱)

پاسخ: گزینه «۲» با توجه به تابع مقابل انتگرال و همچنین ناحیه انتگرال گیری، برای محاسبه انتگرال از مختصات کروی استفاده می کنیم. مخروط

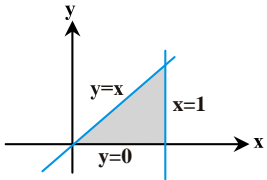
در مختصات کروی به صورت $\phi = \frac{\pi}{4}$ و کره $x^2 + y^2 + z^2 = 1$ در مختصات کروی به صورت $\rho = 1$ در می آید. بنابراین داریم:

$$\iiint_D \sqrt{x^2 + y^2 + z^2} dv = \int_0^{2\pi} \int_{\frac{\pi}{4}}^{\pi} \int_0^1 \rho \times \rho^2 \sin \phi d\rho d\phi d\theta = \int_0^{2\pi} d\theta \int_{\frac{\pi}{4}}^{\pi} \sin \phi d\phi \int_0^1 \rho^3 d\rho = 2\pi(1 - \frac{\sqrt{2}}{2}) \times \frac{1}{4} = \frac{\pi}{2}(1 - \frac{\sqrt{2}}{2})$$

درسنامه ۷: کاربردهای انتگرال سه‌گانه

مثال ۱: حجم جسمی قائم که قاعده آن در صفحه xOy ، محدود به محور x ها و نیمساز ناحیه اول و خط $x=1$ و از بالا به صفحه $z = x + 1 + y$ محدود است، کدام است؟

- (۱) ۱ (۲) ۲ (۳) $\frac{1}{2}$ (۴) $\frac{3}{2}$



پاسخ: گزینه «۱» ابتدا حدود Z را تشخیص می‌دهیم. یکی از حدود آن به وضوح $Z = 1 + x + y$ است و اگر دقت کنید؛ صفحه‌ی xOy یعنی $Z = 0$ هم در صورت سؤال داده شده است. حالا ببینیم چه معادلاتی برحسب x و y داریم تا با کمک آن‌ها حدود x و y را پیدا کنیم. محور x ها یعنی $y = 0$ ، نیمساز ناحیه‌ی اول یعنی $y = x$ و خط $x = 1$ هم داده شده است. تصویر جسم بر صفحه‌ی xOy به سادگی مشخص می‌شود (شکل مقابل). بنابراین $0 \leq x \leq 1$ و $0 \leq y \leq x$ است.

$$V = \int_0^1 \int_0^x \int_0^{x+y+1} dz dy dx = \int_0^1 \int_0^x (x+y+1) dy dx = \int_0^1 [xy + \frac{y^2}{2} + y]_0^x dx = \int_0^1 (\frac{3x^2}{2} + x) dx = 1$$

مثال ۲: حجم محدود به رویه $x^2 + y^2 + z = 4$ و استوانه $x^2 + y^2 = 2$ و صفحه‌ی $z = 0$ کدام است؟

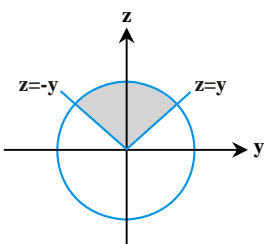
- (۱) 2π (۲) 4π (۳) 6π (۴) 8π

پاسخ: گزینه «۳» استوانه‌ی $x^2 + y^2 = 2$ نشان می‌دهد که تصویر این جسم بر صفحه‌ی xOy یک دایره است پس تصمیم می‌گیریم از مختصات استوانه‌ای استفاده کنیم. به وضوح $0 \leq \theta \leq 2\pi$ و $0 \leq r \leq \sqrt{2}$ ، کران‌های Z نیز در صورت سؤال داده شده‌اند، $Z = 0$ و $Z = 4 - x^2 - y^2$ یعنی $Z = 4 - r^2$ ، اگر تردید دارید که $Z = 4 - r^2$ کران بالاست یا کران پایین یک مقدار دلخواه از بازه‌ی $0 \leq r \leq \sqrt{2}$ در آن قرار دهید، مثلاً $r = 0$ یا $r = 1$ را انتخاب کنید می‌بینید که $4 - r^2 \geq 0$ است، پس $Z = 0$ کران پایین و $Z = 4 - r^2$ کران بالاست.

$$V = \int_0^{2\pi} \int_0^{\sqrt{2}} \int_0^{4-r^2} r dz dr d\theta = \int_0^{2\pi} \int_0^{\sqrt{2}} [4r - r^3] dr d\theta = \int_0^{2\pi} d\theta \times \int_0^{\sqrt{2}} [4r - r^3] dr = 2\pi \times [2r^2 - \frac{r^4}{4}]_0^{\sqrt{2}} = 2\pi \times (4 - 1) = 6\pi$$

مثال ۳: حجم محدود به کره‌ای به معادله $x^2 + y^2 + z^2 = 1$ و داخل مخروط دوار $z = \sqrt{x^2 + y^2}$ کدام است؟

- (۱) $\frac{\pi(2-\sqrt{2})}{3}$ (۲) $\frac{\pi(\sqrt{2}-1)}{3}$ (۳) $\frac{\pi(\sqrt{2}+1)}{3}$ (۴) $\frac{\pi(\sqrt{2}+2)}{3}$



پاسخ: گزینه «۱» برخورد یک کره و یک مخروط را در مختصات کروی حل می‌کنیم. از آنجا که شرطی روی علامت x و y نداریم $0 \leq \theta \leq 2\pi$ است. روی مخروط $z = \sqrt{x^2 + y^2}$ داریم $\phi = \frac{\pi}{4}$ اگر در معادله‌ی کره و مخروط $x = 0$ قرار دهیم و تصویر شکل را در صفحه‌ی YOZ رسم کنید (مطابق شکل) واضح است که $0 \leq \phi \leq \frac{\pi}{4}$.

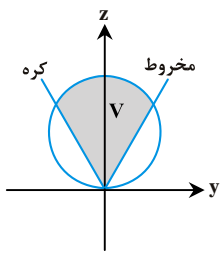
حدود ρ هم در داخل کره‌ای به شعاع یک به صورت $0 \leq \rho \leq 1$ هستند. چون حدود انتگرال، اعداد ثابت هستند، می‌توانیم انتگرال‌ها را در هم ضرب کنیم:

$$V = \int_0^{2\pi} \int_0^{\frac{\pi}{4}} \int_0^1 \rho^2 \sin \phi d\rho d\phi d\theta = \int_0^{2\pi} d\theta \times \int_0^{\frac{\pi}{4}} \sin \phi d\phi \times \int_0^1 \rho^2 d\rho = 2\pi \times [-\cos \phi]_0^{\frac{\pi}{4}} \times [\frac{\rho^3}{3}]_0^1 = \frac{2\pi}{3} (1 - \frac{\sqrt{2}}{2}) = \frac{\pi(2-\sqrt{2})}{3}$$

مثال ۴: مخروط $z = \sqrt{x^2 + y^2}$ ، کره $x^2 + y^2 + z^2 = 2az$ را به دو قسمت تقسیم می‌کند. حجم قسمت بزرگتر، چند برابر حجم قسمت کوچکتر است؟ (از سؤالات پایان ترم دانشگاه علم و صنعت و دانشگاه آزاد تهران مرکز)

- ۱) ۸ ۲) $\frac{1}{4}$ ۳) ۴ ۴) ۶

پاسخ: گزینه «۲» ابتدا حجمی که از پایین به مخروط و از بالا به کره محدود می‌شود را حساب می‌کنیم. اگر این کره، کره‌ای به مرکز مبدأ بود از مختصات کروی برای این ناحیه استفاده می‌کردیم. اما وقتی مرکز کره در مبدأ نباشد بهتر است از دستگاه استوانه‌ای استفاده کنیم. حد پایین z از مخروط به دست می‌آید: $z = \sqrt{r^2} = r$ و حد بالا به این صورت از معادله کره به دست می‌آید.



$$x^2 + y^2 + z^2 = 2az \Rightarrow r^2 + z^2 = 2az \Rightarrow z^2 - 2az + r^2 = 0 \xrightarrow{\Delta = 4a^2 - 4r^2} z = \frac{2a \pm \sqrt{4(a^2 - r^2)}}{2} = a \pm \sqrt{a^2 - r^2}$$

مقدار کوچکتر یعنی، $z = a - \sqrt{a^2 - r^2}$ مربوط به نیم کره‌ی پایینی است و $z = a + \sqrt{a^2 - r^2}$ از نیم کره‌ی بالایی به دست می‌آید. می‌دانیم که کران بالای z از نیم کره‌ی بالایی به دست می‌آید، پس داریم: $z = a + \sqrt{a^2 - r^2}$.

حالا باید تصویر این ناحیه بر صفحه‌ی xoy را مشخص کنیم تا به کمک آن حدود r و θ را بنویسیم. هیچ کدام از رویه‌ها معادله‌ی دو متغیره بر حسب x و y ندارند پس باید آن‌ها را برخورد بدهیم و با حذف z به رابطه‌ای بر حسب x و y برسیم.

$$\begin{cases} z = \sqrt{x^2 + y^2} \\ x^2 + y^2 + z^2 = 2az \end{cases} \Rightarrow x^2 + y^2 + x^2 + y^2 = 2a\sqrt{x^2 + y^2} \Rightarrow 2(x^2 + y^2) = 2a\sqrt{x^2 + y^2} \Rightarrow \sqrt{x^2 + y^2} = a \Rightarrow x^2 + y^2 = a^2$$

در نتیجه دایره $x^2 + y^2 = a^2$ تصویر این ناحیه روی صفحه xoy است. پس $0 \leq \theta \leq 2\pi$ و $0 \leq r \leq a$.

$$V = \int_0^{2\pi} \int_0^a \int_r^{a+\sqrt{a^2-r^2}} r dz dr d\theta = \int_0^{2\pi} \int_0^a r(a + \sqrt{a^2 - r^2} - r) dr d\theta = \int_0^{2\pi} \left(\frac{ar^2}{2} - \frac{1}{3}(a^2 - r^2)^{3/2} - \frac{r^3}{3} \right) \Big|_0^a d\theta$$

$$V = 2\pi \left[\left(\frac{a^3}{2} - \frac{a^3}{3} \right) - \left(0 - \frac{1}{3}a^3 - 0 \right) \right] = 2\pi \left(\frac{a^3}{6} \right) = \frac{\pi a^3}{3}$$

حجم کل کره $\frac{4}{3}\pi a^3$ است. پس حجم قسمت زیرین مخروط برابر است با $\frac{1}{3}\pi a^3 - \frac{\pi a^3}{3} = \frac{2}{3}\pi a^3$. بنابراین داریم: $\frac{V}{V'} = \frac{\frac{\pi a^3}{3}}{\frac{2}{3}\pi a^3} = \frac{1}{2}$.

توضیح: استفاده از مختصات کروی نیز برای حل این انتگرال ممکن است. در این صورت کافیست حجم V (حجم بالای مخروط و زیر کره) را به شکل زیر

$$V = \int_0^{2\pi} \int_0^{\frac{\pi}{4}} \int_0^{2a \cos \phi} \rho^2 \sin \phi d\rho d\phi d\theta = \pi a^3$$

حساب کنیم:

در مورد حدود ρ توجه کنید که در مبدأ $\rho = 0$ است و روی سطح کره‌ی $x^2 + y^2 + z^2 = 2az$ داریم $\rho^2 = 2a\rho \cos \phi$ پس $\rho = 2a \cos \phi$ است.

مثال ۵: حجم ناحیه‌ای که توسط رویه‌های $z = x^2 + y^2$ و $z = \frac{1}{4}(x^2 + y^2 + 1)$ محدود شده، چند برابر π است؟

- ۱) $\frac{1}{8}$ ۲) $\frac{1}{4}$ ۳) $\frac{1}{2}$ ۴) ۱

پاسخ: گزینه «۲» ابتدا از برخورد دادن رویه‌ها، تصویر این ناحیه بر صفحه‌ی xoy را مشخص می‌کنیم:

$$\frac{1}{4}(x^2 + y^2 + 1) = x^2 + y^2 \Rightarrow x^2 + y^2 = \frac{1}{4}$$

بنابراین دایره‌ی واحد به دست می‌آید که در مختصات قطبی به صورت $0 \leq \theta \leq 2\pi$ و $0 \leq r \leq 1$ مشخص می‌شود. از طرفی حدود z از معادله‌ی رویه‌ها معلوم می‌شود.

در مختصات قطبی داریم $z = \frac{1}{4}(r^2 + 1)$ و $z = r^2$. اگر مقادیر $0 \leq r \leq 1$ را در این رویه‌ها قرار دهیم، معلوم می‌شود که کران پایین $z = r^2$ و کران

$$V = \int_0^{2\pi} \int_0^1 \int_{r^2}^{\frac{1}{4}(r^2+1)} r dz dr d\theta = \int_0^{2\pi} \int_0^1 r \left[\frac{1}{4}(r^2+1) - r^2 \right] dr d\theta = \int_0^{2\pi} \int_0^1 \frac{1}{4}(r - r^2) dr d\theta$$

بالا است.

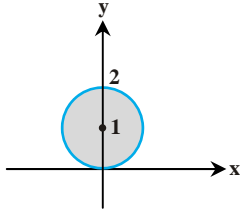
$$\Rightarrow V = 2\pi \left[\frac{1}{2} \left(\frac{r^2}{2} - \frac{r^3}{3} \right) \right]_0^1 = 2\pi \times \frac{1}{8} = \frac{\pi}{4}$$

کله مثال ۶: حجم ناحیه‌ی واقع در داخل استوانه $z^2 = 2y$ و داخل استوانه‌ی سهموی $z^2 = y$ کدام است؟

- (۱) $\frac{8\sqrt{2}}{15}$ (۲) $\frac{32\sqrt{2}}{15}$ (۳) $\frac{16\sqrt{2}}{15}$ (۴) $\frac{64\sqrt{2}}{15}$

پاسخ: گزینه «۴» می‌دانیم که حجم یک ناحیه از فرمول $V = \iiint_D dzdydx$ به دست می‌آید. یکی از رویه‌ها استوانه است و معادله‌ی آن نشان

می‌دهد که تصویر این شکل بر صفحه‌ی xOy یک دایره است. پس بهتر است از دستگاه استوانه‌ای استفاده کنیم. در نتیجه داریم: $V = \iiint_D r dzdrd\theta$



معادله‌ی $x^2 + y^2 = 2y$ در دستگاه استوانه‌ای به صورت $r^2 = 2r \sin \theta$ نوشته می‌شود یعنی $r = 2 \sin \theta$ است. اگر یادمان باشد که این یک دایره با قطر ۲ است که مرکزش روی محور y ‌ها قرار دارد، با رسم شکل متوجه می‌شویم $0 \leq \theta \leq \pi$ است. اما اگر نتوانیم منحنی $r = 2 \sin \theta$ را رسم کنیم با استفاده از این که همیشه $r \geq 0$ است می‌توانیم حدود θ را تعیین کنیم:

به هر حال در این ناحیه داریم: $0 \leq \theta \leq \pi$ و $0 \leq r \leq 2 \sin \theta$.

از استوانه سهموی $z^2 = y$ داریم $z = \pm \sqrt{y}$ که در مختصات قطبی به صورت $z = \pm \sqrt{r \sin \theta}$ در می‌آید. پس حدود تغییرات متغیرها در مختصات استوانه‌ای به صورت مقابل است:

بنابراین حجم برابر است با:

$$V = \int_0^\pi \int_0^{2 \sin \theta} \int_{-\sqrt{r \sin \theta}}^{\sqrt{r \sin \theta}} r dzdrd\theta = 2 \int_0^\pi \int_0^{2 \sin \theta} r \sqrt{r \sin \theta} drd\theta$$

$$= 2 \int_0^\pi \int_0^{2 \sin \theta} \sqrt{\sin \theta} \cdot r^{\frac{3}{2}} drd\theta = \frac{4}{5} \int_0^\pi \sqrt{\sin \theta} [r^{\frac{5}{2}}]_0^{2 \sin \theta} d\theta = \frac{16\sqrt{2}}{5} \int_0^\pi \sin^{\frac{3}{2}} \theta d\theta = \frac{16\sqrt{2}}{5} \times \frac{4}{3} = \frac{64\sqrt{2}}{15}$$

انتگرال $\sin^{\frac{3}{2}} \theta$ به صورت مقابل به دست می‌آید:

البته می‌توانستیم حجم را برای $0 \leq z \leq \sqrt{r \sin \theta}$ حساب کرده و در پایان جواب را دو برابر کنیم زیرا معادله‌ی $z^2 = xy$ با تبدیل z به $-z$ تغییر نمی‌کند.

کله مثال ۷: گشتاور جسم محدود به صفحات مختصات و صفحات $x=1$ و $y=2$ و $y+z=4$ با تابع چگالی $\rho(x,y,z) = xy$ نسبت به صفحه xOy کدام است؟

- (۱) $\frac{11}{3}$ (۲) $\frac{7}{3}$ (۳) $\frac{10}{3}$ (۴) $\frac{5}{3}$

پاسخ: گزینه «۱» با استفاده از انتگرال سه‌گانه و با توجه به این که گشتاور خواسته شده نسبت به صفحه xOy است، مقدار Z در تابع چگالی یعنی

$\rho = xy$ ضرب می‌شود. برای تعیین حدود انتگرال به معادله‌ی رویه‌های داده شده توجه کنید. صفحات مختصات جزء مرزهای این ناحیه هستند یعنی صفحات $z=0$ و $y=0$ و $x=0$. علاوه بر آن‌ها صفحات $x=1$ ، $y=2$ و $y+z=4$ را نیز داریم. پس برای Z دو کران به صورت $Z=0$ و $Z=4-y$ وجود دارد. حدود x و y نیز واضح هستند: $0 \leq x \leq 1$ و $0 \leq y \leq 2$.

$$M_{xy} = \iiint_D z \rho(x,y,z) dzdydx = \int_0^1 \int_0^2 \int_0^{4-y} xyz dzdydx = \int_0^1 \int_0^2 xy \left[\frac{z^2}{2} \right]_0^{4-y} dydx$$

$$\Rightarrow M_{xy} = \frac{1}{2} \int_0^1 \int_0^2 xy(4-y)^2 dydx = \frac{1}{2} \int_0^1 \int_0^2 x(16y - 8y^2 + y^3) dydx = \frac{1}{2} \int_0^1 x \left[8y^2 - \frac{8}{3}y^3 + \frac{y^4}{4} \right]_0^2 dx = \frac{1}{2} \times \frac{44}{3} \times \left[\frac{x^2}{2} \right]_0^1 = \frac{1}{2} \times \frac{44}{3} \times \frac{1}{2} = \frac{11}{3}$$

کله مثال ۸: گشتاور ماند جسمی همگن که دارای دانسیته (چگالی) $\rho=1$ است و داخل مخروط $z^2 = x^2 + y^2$ و زیر سهموی $z = 2 - (x^2 + y^2)$ قرار دارد،

نسبت به محور z ‌ها چند برابر $\frac{\pi}{15}$ است؟

- (۱) ۲ (۲) ۴ (۳) ۳ (۴) ۶

پاسخ: گزینه «۲» گشتاور ماند جسم همگن نسبت به محور z ‌ها از رابطه‌ی $I_z = \iiint_D (x^2 + y^2) dzdydx$ به دست می‌آید. ابتدا حدود انتگرال را

مشخص می‌کنیم. برخورد مخروط و سهموی را به دست می‌آوریم: $z^2 = x^2 + y^2$ و $z = 2 - (x^2 + y^2)$ پس $\sqrt{x^2 + y^2} = 2 - (x^2 + y^2)$ که به سادگی $x^2 + y^2 = 1$ به دست می‌آید. برای ناحیه‌ی درون دایره بهتر است از (r, θ) به جای (x, y) استفاده کنیم. پس $0 \leq \theta \leq 2\pi$ و $0 \leq r \leq 1$ حدود z نیز از

معادله مخروط $z = \sqrt{x^2 + y^2} = r$ و معادله سهموی $z = 2 - (x^2 + y^2) = 2 - r^2$ مشخص هستند.

$$I_z = \iiint_D (x^2 + y^2) dzdydx = \int_0^{2\pi} \int_0^1 \int_r^{2-r^2} r^2 r dzdrd\theta = \int_0^{2\pi} \int_0^1 r^3 (2-r^2-r) drd\theta = \int_0^{2\pi} \left(\frac{2}{4}r^4 - \frac{1}{6}r^6 - \frac{1}{5}r^5 \right) \Big|_0^1 d\theta = 2\pi \left(\frac{1}{2} - \frac{1}{6} - \frac{1}{5} \right) = \frac{4\pi}{15}$$

پس حاصل انتگرال، ۴ برابر $\frac{\pi}{15}$ است.

کله مثال ۹: حجم محدود به صفحه $z = 0$ از پائین، مخروط $z = \sqrt{x^2 + y^2}$ از بالا و استوانه $z = 0$ از اطراف، با کدام رابطه برابر است؟

(عمران - سراسری ۷۹)

(۱) $\frac{3}{2}\pi a^3$ (۲) $\frac{1}{3}a^3$ (۳) $\frac{32}{9}a^3$ (۴) $\frac{16}{3}\pi a^3$

پاسخ: گزینه «۳» از دستگاه مختصات استوانه‌ای استفاده می‌کنیم. در این صورت معادله مخروط به صورت $Z = r$ و معادله استوانه به صورت

$$V = \int_{-\frac{\pi}{2}}^{\frac{\pi}{2}} \int_0^{2a \cos \theta} \int_0^{2a \cos \theta} r^2 dz dr d\theta = \int_{-\frac{\pi}{2}}^{\frac{\pi}{2}} \int_0^{2a \cos \theta} r^2 dr d\theta = \int_{-\frac{\pi}{2}}^{\frac{\pi}{2}} \frac{\lambda a^3}{3} \cos^3 \theta d\theta$$

$$= \frac{\lambda a^3}{3} \int_{-\frac{\pi}{2}}^{\frac{\pi}{2}} (1 - \sin^2 \theta) \cos \theta d\theta = \frac{\lambda a^3}{3} \left(\sin \theta - \frac{\sin^3 \theta}{3} \right) \Big|_{-\frac{\pi}{2}}^{\frac{\pi}{2}} = \frac{32 a^3}{9}$$

کله مثال ۱۰: حجم محصور به سهمی‌گون $az = x^2 + y^2$ ، صفحه $z = 0$ و استوانه $x^2 + y^2 = a$ ($a > 0$)، کدام است؟

(عمران - سراسری ۸۰)

(۱) $\frac{1}{2}\pi a^3$ (۲) $2\pi a^3$ (۳) $\frac{3}{2}\pi a^3$ (۴) $\frac{2}{3}\pi a^3$

پاسخ: گزینه «۳» از دستگاه مختصات استوانه‌ای استفاده می‌کنیم. در این صورت معادله سهمی‌گون به صورت $az = r^2$ و معادله استوانه به صورت

$$V = \int_{-\frac{\pi}{2}}^{\frac{\pi}{2}} \int_0^{2a \cos \theta} \int_0^{\frac{r^2}{a}} r dz dr d\theta = \int_{-\frac{\pi}{2}}^{\frac{\pi}{2}} \int_0^{2a \cos \theta} \frac{1}{a} r^3 dr d\theta = \frac{2a^3}{3} \int_{-\frac{\pi}{2}}^{\frac{\pi}{2}} \cos^3 \theta d\theta = \frac{2\pi a^3}{3}$$

کله مثال ۱۱: اگر چگالی یک جسم مکعب شکل به ابعاد واحد در هر نقطه (x, y, z) از ناحیه‌ای که اشغال می‌کند به صورت $\delta(x, y, z) = 1 + x + yz$ باشد،

(معدن - سراسری ۸۱)

جرم این جسم برابر است با:

(۱) $\frac{5}{7}$ (۲) $\frac{4}{7}$ (۳) $\frac{4}{5}$ (۴) $\frac{4}{5}$

پاسخ: گزینه «۴»

$$\iiint_V \delta(x, y, z) dv = \int_0^1 \int_0^1 \int_0^1 (1 + x + yz) dx dy dz = \int_0^1 \int_0^1 \left(\frac{3}{2} + yz \right) dy dz = \int_0^1 \left(\frac{3}{2} + \frac{1}{2} z \right) dz = \frac{4}{5}$$

کله مثال ۱۲: به فرض آنکه V ناحیه محصور بین نمودارهای $z = x^2 + 2y + 1$ و $z = y + 2$ در یک هشتم اول باشد، حجم V کدام است؟ (عمران - سراسری ۸۲)

(۱) $\frac{4}{15}$ (۲) $\frac{3}{5}$ (۳) $\frac{2}{15}$ (۴) $\frac{2}{5}$

پاسخ: گزینه «۱» ابتدا محل تلاقی دو رویه را به دست می‌آوریم:

$$\begin{cases} z = x^2 + 2y + 1 \\ z = y + 2 \end{cases} \Rightarrow x^2 + 2y + 1 = y + 2 \Rightarrow y = 1 - x^2$$

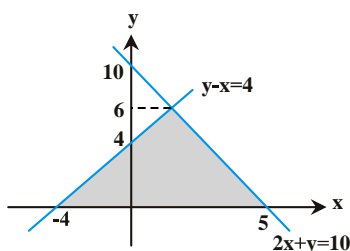
$$V = \int_0^1 \int_0^{1-x^2} \int_{x^2+2y+1}^{y+2} dz dy dx = \int_0^1 \int_0^{1-x^2} (1 - x^2 - y) dy dx = \int_0^1 \frac{1}{2} (1 - x^2)^2 dx = \frac{4}{15}$$

کله مثال ۱۳: حجم هرم مثلث القاعده‌ای که قاعده‌ی آن در صفحه $z = -6$ قرار دارد و وجوه آن صفحات قائم $y = 0$ و $y - x = 4$ و صفحه‌ی مورب

(MBA - سراسری ۸۲)

$2x + y + z = 4$ است برابر است با:

(۱) $\int_0^6 \int_{y-4}^{\frac{10-y}{2}} \int_{-6}^{4-2x-y} dz dx dy$ (۲) $\int_0^6 \int_{y-4}^{\frac{6-y}{2}} \int_{-6}^{4-2x-y} dz dx dy$ (۳) $\int_0^6 \int_{y-4}^{\frac{10-y}{2}} \int_{-6}^{4-2x-y} dz dx dy$ (۴) $\int_0^6 \int_{y-4}^{\frac{6-y}{2}} \int_{-6}^{4-2x-y} dz dx dy$



پاسخ: هیچ‌کدام از گزینه‌ها صحیح نیست.

واضح است که $-6 \leq z \leq 4 - 2x - y$ می‌باشد. حال باید ناحیه را بر صفحه xOy تصویر کنیم، بدین منظور z را از روابط حذف می‌کنیم یعنی $4 - 2x - y = -6$ و بنابراین $2x + y = 10$. پس مرزهای ناحیه مورد نظر خط $2x + y = 10$ و خط $y - x = 4$ و $y = 0$ می‌باشد در نتیجه داریم:

$$V = \int_0^6 \int_{y-4}^{\frac{10-y}{2}} \int_{-6}^{4-2x-y} dz dx dy$$

(آمار - سراسری ۸۲)

کج مثال ۱۴: حجم هرم محدود به صفحه‌ی $x + \frac{y}{2} + \frac{z}{3} = 1$ و صفحات مختصات کدام است؟

- ۱ (۱) ۲ (۲) ۳ (۳) ۴ (۴) ۶

پاسخ: گزینه «۱» به طور کلی حجم هرم محدود به صفحه $\frac{x}{a} + \frac{y}{b} + \frac{z}{c} = 1$ و صفحات مختصات برابر $V = \frac{abc}{6}$ می‌باشد.

(مکانیک - سراسری ۸۳)

کج مثال ۱۵: حجم محدود به دو رویه $z = \sqrt{x^2 + y^2}$ و $2z = x^2 + y^2$ کدام است؟

- ۱ (۱) $\frac{2\pi}{3}$ ۲ (۲) $\frac{4\pi}{3}$ ۳ (۳) $\frac{5\pi}{3}$ ۴ (۴) $\frac{8\pi}{3}$

پاسخ: گزینه «۲» از مختصات استوانه‌ای استفاده می‌کنیم. در این صورت معادلات رویه‌ها به صورت $z = r$ و $z = \frac{r^2}{2}$ در می‌آید. دو رویه همدیگر را

$$V = \int_0^{2\pi} \int_0^2 \int_{\frac{r^2}{2}}^r r \, dz \, dr \, d\theta = \int_0^{2\pi} \int_0^2 (r^2 - \frac{r^3}{2}) \, dr \, d\theta = \int_0^{2\pi} (\frac{r^3}{3} - \frac{r^4}{8}) \Big|_0^2 \, d\theta = \int_0^{2\pi} \frac{2}{3} \, d\theta = \frac{4\pi}{3}$$

در $\frac{r^2}{2} = r$ و یا $r = 2$ قطع می‌کنند، بنابراین داریم: $\frac{4\pi}{3}$

(علوم کامپیوتر - سراسری ۸۴)

کج مثال ۱۶: حجم محدود شده توسط مخروط به معادله‌ی $z^2 = x^2 + y^2$ و کره به معادله‌ی $x^2 + y^2 + z^2 = 4z$ در بالای مخروط کدام است؟

- ۱ (۱) 9π ۲ (۲) 8π ۳ (۳) 7π ۴ (۴) 6π

پاسخ: گزینه «۲» از مختصات کروی استفاده می‌کنیم. در مختصات کروی معادلات مخروط و کره داده شده به ترتیب $\phi = \frac{\pi}{4}$ و $\rho = 4 \cos \phi$ می‌باشد. بنابراین داریم:

$$V = \int_0^{2\pi} \int_0^{\frac{\pi}{4}} \int_0^{4 \cos \phi} \rho^2 \sin \phi \, d\rho \, d\phi \, d\theta = \int_0^{2\pi} \int_0^{\frac{\pi}{4}} \frac{64}{3} \cos^3 \phi \sin \phi \, d\phi \, d\theta = \frac{64}{3} \theta \Big|_0^{2\pi} \times \frac{-1}{4} \cos^4 \phi \Big|_0^{\frac{\pi}{4}} = \frac{128\pi}{3} \times (\frac{-1}{4} (\frac{1}{4} - 1)) = 8\pi$$

(ریاضی - سراسری ۸۴)

کج مثال ۱۷: مقدار حجم ناحیه محدود به مخروط $z = \sqrt{x^2 + y^2}$ و سهمی‌گون $z = 4 - x^2 - y^2$ کدام است؟

- ۱ (۱) $\frac{\pi}{4}$ ۲ (۲) $\frac{\pi}{3}$ ۳ (۳) $\frac{\pi}{2}$ ۴ (۴) π

پاسخ: گزینه «۳» از مختصات استوانه‌ای استفاده می‌کنیم. در این صورت معادله مخروط به صورت $z = r$ و معادله سهمی‌گون به صورت

$$z = \frac{4 - r^2}{2}$$

در می‌آید. همچنین از تلاقی مخروط و سهمی‌گون یعنی از معادله $\frac{4 - r^2}{2} = r$ مقدار $r = 1$ به دست می‌آید. بنابراین داریم:

$$V = \int_0^{2\pi} \int_0^1 \int_r^{\frac{4-r^2}{2}} r \, dz \, dr \, d\theta = \int_0^{2\pi} \int_0^1 r (\frac{4-r^2}{2} - r) \, dr \, d\theta = \frac{\pi}{2}$$

(صنایع - سیستم - سراسری ۸۵)

کج مثال ۱۸: حجم ناحیه‌ی محدود به کره‌ی $\rho = a$ و مخروط‌های $\phi = \frac{\pi}{3}$ و $\phi = \frac{2\pi}{3}$ کدام است؟

- ۱ (۱) πa^3 ۲ (۲) $2\pi a^3$ ۳ (۳) $\frac{2\pi a^3}{3}$ ۴ (۴) $\frac{3\pi a^3}{4}$

$$V = \int_0^{2\pi} \int_{\frac{\pi}{3}}^{\frac{2\pi}{3}} \int_0^a \rho^2 \sin \phi \, d\rho \, d\phi \, d\theta = \int_0^{2\pi} d\theta \cdot \int_{\frac{\pi}{3}}^{\frac{2\pi}{3}} \sin \phi \, d\phi \cdot \int_0^a \rho^2 \, d\rho = 2\pi \times 1 \times \frac{a^3}{3} = \frac{2\pi a^3}{3}$$

پاسخ: گزینه «۳»

(معدن - سراسری ۸۵)

کج مثال ۱۹: جرم پوسته کره‌ی $1 < \rho < 2$ که چگالی جرمی نقاط مختلف آن از رابطه $\delta(x, y, z) = \frac{1}{\sqrt{x^2 + y^2 + z^2}}$ محاسبه می‌شود کدام است؟

- ۱ (۱) 4π ۲ (۲) 6π ۳ (۳) 8π ۴ (۴) 12π

$$M = \iiint_V \delta \, dv = \int_0^{2\pi} \int_0^\pi \int_1^2 \frac{1}{\rho} \rho^2 \sin \phi \, d\rho \, d\phi \, d\theta = \int_0^{2\pi} d\theta \cdot \int_0^\pi \sin \phi \, d\phi \cdot \int_1^2 \rho \, d\rho = 6\pi$$

پاسخ: گزینه «۲»



مثال ۲۰: حجم ناحیه‌ی سه بعدی D که از پایین به کره $x^2 + y^2 + z^2 = 2$ و از بالا به مخروط $z = 2 - \sqrt{x^2 + y^2}$ محصور است، کدام است؟

(تاریخ و فلسفه علم - سراسری ۸۶)

(۱) $\frac{\pi}{8}$ (۲) $\frac{\pi}{2} - 1$ (۳) $\pi(2 - \sqrt{3})$ (۴) $2\pi(1 - \frac{2\sqrt{2}}{3})$

پاسخ: گزینه «۴» حدود Z در این مثال مشخص هستند. با توجه به آن که ناحیه‌ی D از پایین به کره و از بالا به مخروط محدود است، متوجه می‌شویم

$\sqrt{2 - x^2 - y^2} \leq z \leq 2 - \sqrt{x^2 + y^2}$. برای نوشتن حدود x و y ، معادله‌ی کره و مخروط را برخورد می‌دهیم:

$z = 2 - \sqrt{x^2 + y^2} \Rightarrow x^2 + y^2 = (z - 2)^2 \xrightarrow{\text{(در معادله‌ی کره قرار می‌دهیم)}} (z - 2)^2 + z^2 = 2 \Rightarrow 2z^2 - 4z + 2 = 0 \Rightarrow z^2 - 2z + 1 = 0$
 $\Rightarrow z = 1 \Rightarrow x^2 + y^2 = 1$

پس تصویر این ناحیه بر صفحه‌ی XOY دایره‌ی واحد است. به همین دلیل تصمیم می‌گیریم از مختصات استوانه‌ای استفاده کنیم. به وضوح $0 \leq \theta \leq 2\pi$ و $0 \leq r \leq 1$ است و حدود Z هم به صورت $\sqrt{2 - r^2} \leq z \leq 2 - r$ نوشته می‌شوند.

$$V = \iiint_D dz dy dx = \int_0^{2\pi} \int_0^1 \int_{\sqrt{2-r^2}}^{2-r} r dz dr d\theta = \int_0^{2\pi} \int_0^1 (2r - r^2 - r\sqrt{2-r^2}) dr d\theta$$

$$= \int_0^{2\pi} [r^2 - \frac{r^3}{3} + \frac{1}{3}(2-r^2)^{\frac{3}{2}}]_0^1 d\theta = \int_0^{2\pi} (1 - \frac{2\sqrt{2}}{3}) d\theta = 2\pi(1 - \frac{2\sqrt{2}}{3})$$

(ریاضی - سراسری ۸۷)

مثال ۲۱: حجم جسم محدود به رویه $z = 9 - x^2 - y^2$ در \mathbb{R}^3 و $z = 0$ عبارت است از:

(۱) $\frac{27\pi}{2}$ (۲) 18π (۳) $\frac{81\pi}{2}$ (۴) 81π

پاسخ: گزینه «۳» حجم مورد نظر را در مختصات استوانه‌ای محاسبه می‌کنیم:

$$V = \int_0^{2\pi} \int_0^3 \int_0^{9-r^2} r dz dr d\theta = \int_0^{2\pi} d\theta \int_0^3 (9r - r^3) dr = \theta \left[\frac{9}{2}r^2 - \frac{r^4}{4} \right]_0^3 = \frac{81\pi}{2}$$

(مکانیک - سراسری ۸۷)

مثال ۲۲: حجم محصور به دو رویه $z = x^2 + y^2 + 1$ و $z = x^2 + y^2$ کدام است؟

(۱) $\frac{3}{4}$ (۲) 1 (۳) $\frac{2\pi}{7}$ (۴) $\frac{\pi}{4}$

$$x^2 + y^2 = \frac{x^2 + y^2 + 1}{2} \Rightarrow x^2 + y^2 = 1$$

پاسخ: گزینه «۴»

برای محاسبه حجم مورد نظر از مختصات استوانه‌ای استفاده می‌کنیم.

$$\Rightarrow V = \int_0^{2\pi} \int_0^1 \int_{r^2}^{\frac{r^2+1}{2}} r dz dr d\theta = \int_0^{2\pi} \int_0^1 \frac{r-r^3}{2} dr d\theta = \int_0^{2\pi} d\theta \times \left(\frac{r^2}{4} - \frac{r^4}{8} \right) \Big|_0^1 = 2\pi \times \frac{1}{8} = \frac{\pi}{4}$$

(آمار - سراسری ۸۷)

مثال ۲۳: حجم جسمی که در ناحیه اول از هشت ناحیه فضا قرار گرفته و به رویه‌های $x^2 + y^2 = 4$ و $z^2 = x^2 + y^2$ محدود است، کدام است؟

(۱) $\frac{\pi}{2}$ (۲) $\frac{2\pi}{3}$ (۳) $\frac{3\pi}{2}$ (۴) $\frac{4\pi}{3}$

$$V = \int_0^{\frac{\pi}{2}} \int_0^2 \int_0^r r dz dr d\theta = \int_0^{\frac{\pi}{2}} \int_0^2 r^2 dr d\theta = \frac{4\pi}{3}$$

پاسخ: گزینه «۴» از مختصات استوانه‌ای استفاده می‌کنیم.

(معماری کشتی - سراسری ۸۷)

مثال ۲۴: حجم بین استوانه $z = 4 - x^2$ و صفحات $z = 0$ و $x = 0$ و $y = 0$ و $y = 6$ برابر است با:

(۱) 18 (۲) 24 (۳) 32 (۴) 40

پاسخ: گزینه «۳» برای یافتن تصویر ناحیه انتگرال‌گیری بر صفحه XOY ، متغیر Z را بین دو معادله $Z = 4 - x^2$ و $Z = 0$ حذف می‌کنیم که در این صورت $x = \pm 2$ به دست می‌آید. پس $0 \leq x \leq 2$ است، یا $-2 \leq x \leq 0$. به علت آن که این ناحیه نسبت به متغیر x متقارن است، مقدار جواب در این دو ناحیه فرقی نمی‌کند، لذا x را مثبت فرض کرده و محدوده تغییرات آن را $0 \leq x \leq 2$ در نظر می‌گیریم.

$$V = \int_0^6 \int_0^2 \int_0^{4-x^2} dz dx dy = \int_0^6 dy \int_0^2 (4 - x^2) dx = y \left[4x - \frac{x^3}{3} \right]_0^2 = 32$$

(کشاورزی - سراسری ۸۷)

مثال ۲۵: حجم بریده شده از کره $\rho = a$ توسط مخروط دوار $\phi = \frac{\pi}{3}$ برابر کدام است؟

(۱) $\frac{\pi a^3}{6}$ (۲) $\frac{\pi a^3}{2}$ (۳) $\frac{\pi a^3}{3}$ (۴) $\frac{\pi a^3 \sqrt{3}}{2}$

پاسخ: گزینه «۳» $V = \int_0^{2\pi} \int_0^{\frac{\pi}{3}} \int_0^a \rho^2 \sin \phi d\rho d\phi d\theta = \int_0^{2\pi} d\theta \int_0^{\frac{\pi}{3}} \sin \phi d\phi \int_0^a \rho^2 d\rho = 2\pi \times \frac{1}{2} \times \frac{a^3}{3} = \frac{\pi a^3}{3}$

(MBA - سراسری ۸۸)

مثال ۲۶: حجم محدود به رویه $z = \frac{1}{x^2 + y^2 + 1}$ که در داخل استوانه $x^2 + y^2 = 1$ قرار می‌گیرد، کدام است؟

(۱) π (۲) $\frac{\pi}{2} \text{Ln} 2$ (۳) $\pi \text{Ln} 2$ (۴) $\frac{\pi}{2} - \text{Ln} 2$

پاسخ: گزینه «۳» برای محاسبه حجم مورد نظر از مختصات استوانه‌ای استفاده می‌کنیم. در این صورت رویه $z = \frac{1}{x^2 + y^2 + 1}$ به صورت

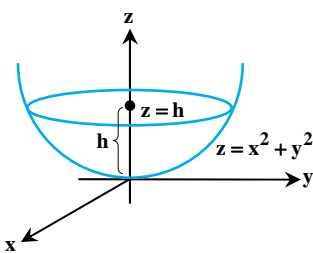
$\Rightarrow V = \int_0^{2\pi} \int_0^1 \int_0^{\frac{1}{r^2+1}} r dz dr d\theta = \int_0^{2\pi} d\theta \int_0^1 \frac{r dr}{r^2+1} = \theta \left[\frac{1}{2} \text{Ln}(r^2+1) \right]_0^1 = \pi \text{Ln} 2$ در می‌آید و بنابراین حجم مورد نظر برابر است با: $z = \frac{1}{r^2+1}$

مثال ۲۷: فرض کنید مخزنی به شکل سهمی گون $z = x^2 + y^2$ با سرعت ۱ متر مکعب در ثانیه از نفت پر شود. سرعت افزایش سطح نفت در مخزن

(ریاضی - سراسری ۸۹)

وقتی که ارتفاع نفت به یک متر رسیده باشد عبارت تست از:

(۱) $\frac{1}{\pi}$ (۲) $\frac{2}{\pi}$ (۳) $\frac{\pi}{2}$ (۴) π



پاسخ: گزینه «۱» (در صورت سؤال یک بی‌دقتی وجود دارد. طراح سؤال، سرعت افزایش ارتفاع نفت در

مخزن را می‌خواهد. اما جمله‌ی به کار رفته، افزایش سطح نفت در مخزن است که ممکن است باعث ابهام شود.) ابتدا

باید حجم نفت جمع شده در مخزن را وقتی که ارتفاع آن به h رسیده است، حساب کنیم. مطابق شکل، حجم داخل

رویبه‌ی $z = x^2 + y^2$ و زیر صفحه‌ی $z = h$ را می‌خواهیم. برخورد آن‌ها با هم دایره‌ی $x^2 + y^2 = h$ را می‌دهد

پس $0 \leq r \leq h$ و $0 \leq \theta \leq 2\pi$ است. حدود z هم عبارتند از $z = x^2 + y^2 = r^2$ و $z = h$:

با مشتق‌گیری از طرفین نسبت به زمان داریم: $\frac{dv}{dt} = \pi(2h - 2h^2) \frac{dh}{dt}$

حالا از صورت سؤال می‌دانیم که $\frac{dv}{dt} = 1$ و $h = 1$ است. پس داریم: $1 = \pi(2 - 2) \frac{dh}{dt} \Rightarrow \frac{dh}{dt} = \frac{1}{\pi}$

(کشاورزی - سراسری ۸۹)

مثال ۲۸: حجم محدود به رویه $z = x^2 + y^2$ و صفحه $z = 4$ کدام است؟

(۱) $\frac{16}{3}\pi$ (۲) $\frac{32}{3}\pi$ (۳) 4π (۴) 8π

پاسخ: گزینه «۴» برای محاسبه حجم مورد نظر از مختصات استوانه‌ای استفاده می‌کنیم. در این صورت معادله $z = x^2 + y^2$ به صورت $z = r^2$ در

می‌آید. از تلاقی رویه $z = r^2$ و صفحه $z = 4$ ، $r^2 = 4$ و در نتیجه $r = 2$ به دست می‌آید. پس حجم مورد نظر برابر است با:

$V = \int_0^{2\pi} \int_0^2 \int_{r^2}^4 r dz dr d\theta = \int_0^{2\pi} \int_0^2 r z \Big|_{r^2}^4 dr d\theta = \int_0^{2\pi} \int_0^2 (4r - r^3) dr d\theta = \int_0^{2\pi} d\theta \int_0^2 (4r - r^3) dr = \theta \left[2r^2 - \frac{r^4}{4} \right]_0^2 = 8\pi$



مثال ۲۹: حجم ناحیه توپر T محدود به استوانه سهموی $z = \frac{1}{3}y^2$ و صفحه $x = 0$ و صفحه $x + z = 2$ برابر است با: (علوم کامپیوتر - سراسری ۹۰)

- (۱) $\frac{8}{15}$ (۲) $\frac{64}{15}$ (۳) $\frac{8}{5}$ (۴) $\frac{64}{5}$

پاسخ: گزینه «۲» ابتدا کران‌های انتگرال‌گیری مربوط به تعیین حجم را به دست می‌آوریم:

$$\begin{cases} x=0 & 0 \leq x \leq 2-z, \quad 0 \leq z \leq 2 \\ x+z=2 \Rightarrow x=2-z & z = \frac{1}{3}y^2 \Rightarrow y^2 = 3z \Rightarrow y = \pm\sqrt{3z} \end{cases}$$

حجم V را محاسبه می‌کنیم: $V = \iiint_D dx dy dz = \int_0^2 \int_{-\sqrt{3z}}^{\sqrt{3z}} \int_0^{2-z} dx dy dz = \int_0^2 \int_{-\sqrt{3z}}^{\sqrt{3z}} (2-z) dy dz = \int_0^2 2\sqrt{3z}(2-z)\sqrt{3z} dz$

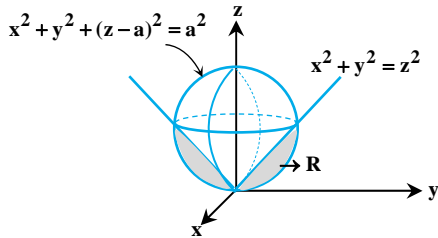
$$V = 2\sqrt{3} \int_0^2 [2z\sqrt{z} - z^2\sqrt{z}] dz = 2\sqrt{3} \left[\frac{4}{3}z^{3/2} - \frac{2}{5}z^{5/2} \right]_0^2 = \frac{32}{3} - \frac{32}{5} = \frac{160-96}{15} \Rightarrow V = \frac{64}{15}$$

مثال ۳۰: حجم قسمتی از کره‌ی $x^2 + y^2 + z^2 = 2az$ ($a > 0$) که خارج از مخروط $z^2 = x^2 + y^2$ می‌باشد کدام است؟ (ژئوفیزیک و هواشناسی - سراسری ۹۰)

- (۱) $\frac{1}{4}\pi a^3$ (۲) $\frac{1}{3}\pi a^3$ (۳) $\frac{2}{3}\pi a^3$ (۴) $\frac{1}{2}\pi a^3$

پاسخ: گزینه «۲»

روش اول: ابتدا برای درک بهتر مسئله، شکل حجم خواسته شده را به صورت مقابل رسم می‌کنیم:



$$x^2 + y^2 + z^2 = 2az \Rightarrow x^2 + y^2 + z^2 - 2az + a^2 = a^2 \Rightarrow x^2 + y^2 + (z-a)^2 = a^2$$

رویه فوق کره‌ای به مرکز $(0,0,a)$ و شعاع a می‌باشد و رویه $x^2 + y^2 = z^2$ مخروطی در راستای محور z هاست. حال نقطه تلاقی مخروط و کره را به دست می‌آوریم:

$$\begin{cases} x^2 + y^2 + z^2 = 2az \\ x^2 + y^2 = z^2 \end{cases} \Rightarrow 2z^2 = 2az \Rightarrow z^2 - az = 0 \Rightarrow \begin{cases} z=0 \\ z=a \end{cases} \xrightarrow{\text{جایگذاری در رابطه مخروط}} x^2 + y^2 = a^2$$

سطح مقطع حاصل از تلاقی دو رویه، یک دایره به مرکز $(0,0)$ و شعاع $r = a$ در صفحه xoy می‌باشد.

لذا برای به دست آوردن حجم R کافیست که حجم نصف کره به شعاع $R = a$ را محاسبه کرده و حجم مخروط به ارتفاع $h = a$ و به شعاع سطح مقطع $r = a$ را از آن کم کنیم.

$$\text{حجم مخروط} = \frac{1}{3}\pi r^2 h \xrightarrow{r=a, h=a} V_r = \frac{1}{3}\pi a^2 \times a = \frac{1}{3}\pi a^3$$

$$\text{حجم ناحیه R} : V = V_1 - V_r = \frac{2}{3}\pi a^3 - \frac{1}{3}\pi a^3 = \frac{1}{3}\pi a^3$$

روش دوم: بعد از به دست آوردن محل تلاقی مخروط و کره برای محاسبه حجم R با استفاده از انتگرال سه‌گانه داریم:

برای محاسبه کران‌های z_1 و z_2 : $x^2 + y^2 + (z-a)^2 = a^2 \Rightarrow z = a \pm \sqrt{a^2 - (x^2 + y^2)}$

که $z = a + \sqrt{a^2 - (x^2 + y^2)}$ نیمه بالایی کره است و $z = a - \sqrt{a^2 - (x^2 + y^2)}$ نیمه پایینی کره می‌باشد، در نتیجه $z_1 = a - \sqrt{a^2 - (x^2 + y^2)}$ می‌باشد

و $z_2 = \sqrt{x^2 + y^2}$ است. بنابراین $z_2 = \sqrt{x^2 + y^2}$ هم معادله مخروط است، بنابراین $z_2 = \sqrt{x^2 + y^2}$ است.

$$V = \iint_D \int_{a - \sqrt{a^2 - (x^2 + y^2)}}^{\sqrt{x^2 + y^2}} dz dA = \iint_D (\sqrt{x^2 + y^2} - a + \sqrt{a^2 - (x^2 + y^2)}) dA$$

تصویر حجم ناحیه R بر روی صفحه xoy دایره $x^2 + y^2 = a^2$ می‌باشد، لذا برای محاسبه انتگرال فوق از مختصات قطبی استفاده می‌کنیم:

$$\begin{cases} x = r \cos \theta \\ y = r \sin \theta \end{cases} \rightarrow \begin{cases} 0 \leq r \leq a \\ 0 \leq \theta \leq 2\pi \end{cases}$$

$$V = \int_0^{2\pi} \int_0^a (r - a + \sqrt{a^2 - r^2}) r dr d\theta = \int_0^{2\pi} \left(\frac{r^3}{3} - \frac{ar^2}{2} - \frac{1}{3}(a^2 - r^2)^{3/2} \right) \Big|_0^a d\theta = \int_0^{2\pi} \left(\frac{a^3}{3} - \frac{a^3}{2} - 0 + \frac{a^3}{3} \right) d\theta = \frac{a^3}{6} \times 2\pi = \frac{\pi a^3}{3}$$

مثال ۳۱: حجم ناحیه T که در یک هشتم اول قرار دارد و محدود به استوانه بیضوی $4x^2 + z^2 = 1$ و صفحات $y=0, y=x$ و $z=0$ می‌باشد برابر است با: (تاریخ و فلسفه علم - سراسری ۹۰)

- (۱) $\frac{1}{2}$ (۲) $\frac{1}{3}$ (۳) $\frac{1}{6}$ (۴) $\frac{1}{12}$

پاسخ: گزینه «۴» با توجه به ناحیه T داده شده کران‌های انتگرال‌گیری برابر است با:

$$\begin{cases} z=0 \\ 4x^2 + z^2 = 1 \Rightarrow z = \sqrt{1-4x^2}, 0 \leq x \leq \frac{1}{2} \\ y=0 \\ y=x \Rightarrow 0 \leq y \leq x \end{cases}$$

لذا با توجه به کران‌های انتگرال‌گیری فوق داریم:

$$V = \int_0^{\frac{1}{2}} \int_0^x \int_0^{\sqrt{1-4x^2}} dz dy dx = \int_0^{\frac{1}{2}} \int_0^x z \Big|_0^{\sqrt{1-4x^2}} dy dx = \int_0^{\frac{1}{2}} \int_0^x \sqrt{1-4x^2} dy dx$$

$$V = \int_0^{\frac{1}{2}} y \sqrt{1-4x^2} \Big|_0^x dx = \int_0^{\frac{1}{2}} x \sqrt{1-4x^2} dx = \frac{-1}{12} (1-4x^2)^{\frac{3}{2}} \Big|_0^{\frac{1}{2}} = \frac{1}{12}$$

مثال ۳۲: حجم ناحیه‌ی واقع در زیر رومیه $z = \frac{1}{x+y}$ که بالای صفحه $z=0$ و ناحیه‌ی $1 \leq x \leq 2$ و $0 \leq y \leq x$ قرار دارد. برابر کدام است؟ (تاریخ و فلسفه علم - سراسری ۹۰)

- (۱) $\frac{1}{3} \ln 2$ (۲) $\frac{1}{2} \ln 2$ (۳) $\ln 2$ (۴) $2 \ln 2$

پاسخ: گزینه «۳» با توجه به کران‌های داده شده برای ناحیه موردنظر داریم:

$$V = \int_1^2 \int_0^x \int_0^{\frac{1}{x+y}} dz dy dx = \int_1^2 \int_0^x z \Big|_0^{\frac{1}{x+y}} dy dx = \int_1^2 \int_0^x \frac{1}{x+y} dy dx$$

$$V = \int_1^2 \ln(x+y) \Big|_0^x dx = \int_1^2 (\ln 2x - \ln x) dx = \int_1^2 \ln 2x dx = (\ln 2)x \Big|_1^2 = \ln 2$$

مثال ۳۳: هرگاه حجم هرم حاصل از برخورد صفحه‌ی $ax+by+cz=d$ و صفحات مختصات برابر با $\frac{1}{6}$ باشد، آن‌گاه حجم هرم حاصل از برخورد صفحه‌ی $2ax+3by+4cz=24d$ با صفحات مختصات کدام است؟ (تاریخ و فلسفه علم - سراسری ۹۰)

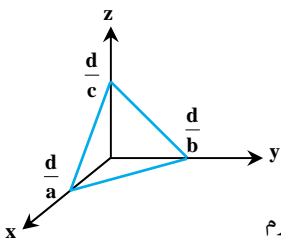
- (۱) ۲۸۸ (۲) ۴۳۲ (۳) ۵۷۶ (۴) ۸۶۴

پاسخ: گزینه «۱» حجم هرم حاصل از برخورد $ax+by+cz=d$ برابر است با:

$$\text{حجم هرم} = \frac{1}{6} \frac{d^3}{abc} = \frac{1}{6} \Rightarrow \frac{d^3}{abc} = 3$$

بنابراین حجم حاصل از $2ax+3by+4cz=24d$ برابر است با:

$$\text{حجم هرم} = \frac{1}{6} \frac{(24d)^3}{(2a)(3b)(4c)} = \frac{1}{6} \frac{24^3 d^3}{24abc} = \frac{1}{6} \frac{24^2 d^3}{abc} = \frac{1}{6} \times 24 \times 24 \times 3 = \frac{24 \times 24}{2} = 288$$





مدرسین شریف

فصل پنجم

« انتگرال روی خط یا انتگرال روی منحنی »

درسنامه: انتگرال روی خط یا انتگرال روی منحنی



مثال ۱: اگر C دارای معادلات پارامتری $x = \text{Ln}(1+t^2)$ و $y = 2\arctgt - t + 3$ باشد، حاصل انتگرال $I = \int_C ye^{-x} ds$ ، برای $0 \leq t \leq 1$ کدام است؟

$$\frac{\pi^2}{4} - \text{Ln}2 + \frac{\pi}{4} \quad (۴)$$

$$\frac{\pi^2}{4} - \text{Ln}\sqrt{2} + \frac{\pi}{4} \quad (۳)$$

$$\frac{\pi^2}{16} - \text{Ln}\sqrt{2} + \frac{3\pi}{4} \quad (۲)$$

$$\frac{\pi^2}{16} - \text{Ln}2 + \frac{3\pi}{4} \quad (۱)$$

پاسخ: گزینه «۲» در این سؤال $x(t)$ ، $y(t)$ و بازه تغییرات t داده شده و بنابراین کفایت $x'(t)$ و $y'(t)$ را حساب کنیم و در فرمول قرار دهیم:

$$x(t) = \text{Ln}(1+t^2) \Rightarrow x'(t) = \frac{2t}{1+t^2} \Rightarrow (x'_t)^2 = \frac{4t^2}{(1+t^2)^2}, \quad y(t) = 2\arctgt - t + 3 \Rightarrow y'(t) = \frac{2}{1+t^2} - 1$$

$$\Rightarrow (y'_t)^2 = \left(\frac{1-t^2}{1+t^2}\right)^2 \Rightarrow \sqrt{(x'_t)^2 + (y'_t)^2} = \sqrt{\frac{4t^2}{(1+t^2)^2} + \frac{(1-t^2)^2}{(1+t^2)^2}} = \sqrt{\frac{1+t^4 - 2t^2 + 4t^2}{(1+t^2)^2}} = \sqrt{\frac{(1+t^2)^2}{(1+t^2)^2}} = 1$$

$$I = \int_0^1 (2\arctgt - t + 3)e^{-\text{Ln}(1+t^2)} dt \xrightarrow{e^{\text{Ln}u} = u} I = \int_0^1 (2\arctgt - t + 3) \times \frac{1}{1+t^2} dt = 2 \int_0^1 \frac{\arctgt}{1+t^2} dt - \int_0^1 \frac{t}{1+t^2} dt + 3 \int_0^1 \frac{dt}{1+t^2}$$

$$\Rightarrow I = [(2\arctgt)^2]_0^1 - \frac{1}{2} [\text{Ln}(1+t^2)]_0^1 + 3[\arctgt]_0^1 = (\arctgt)^2 - \frac{1}{2} \text{Ln}2 + 3\arctgt = \left(\frac{\pi}{4}\right)^2 - \text{Ln}2 + 3 \times \frac{\pi}{4} = \frac{\pi^2}{16} - \text{Ln}\sqrt{2} + \frac{3\pi}{4}$$

مثال ۲: هرگاه C پاره خطی از نقطه $A(0,0)$ تا $B(1,1)$ باشد، آن گاه حاصل $\int_C (x+y^2) ds$ ، چند برابر $\sqrt{2}$ است؟

$$\frac{1}{3} \quad (۴)$$

$$\frac{5}{6} \quad (۳)$$

$$\frac{5}{8} \quad (۲)$$

$$\frac{2}{3} \quad (۱)$$

پاسخ: گزینه «۳» حُب ماجرا کمی سخت تر از حالت قبل شد، چون سؤال ضابطه $C(t)$ را به وضوح اعلام نکرده است. اما به دست آوردن $C(t)$

برای این سؤال چندان سخت نیست. واضح است؛ معادله خط C به صورت $y = x$ است و این یعنی می توان معادله پارامتری C را با فرض $x = t$ و در نتیجه $y = t$ به شکل زیر نوشت:

$$\vec{C}(t) = x(t)\vec{i} + y(t)\vec{j} = t\vec{i} + t\vec{j}$$

$$ds = \sqrt{x'(t)^2 + y'(t)^2} dt = \sqrt{1^2 + 1^2} dt = \sqrt{2} dt$$

بنابراین داریم:

از طرفی بازه و تغییرات t به صورت $0 \leq t \leq 1$ است، چرا؟ چون که ما فرض کردیم: $x = t$ ، بنابراین تغییرات t مانند تغییرات x است و چون x از 0 تا 1

$$\int_C (x+y^2) ds = \int_0^1 (t+t^2)\sqrt{2} dt = \sqrt{2} \left[\frac{t^2}{2} + \frac{t^3}{3} \right]_0^1 = \sqrt{2} \left[\frac{1}{2} + \frac{1}{3} \right] = \frac{5}{6} \sqrt{2}$$

تغییر کرده، t هم بازه تغییراتش از 0 تا 1 است، بنابراین داریم:

کله مثال ۳: انتگرال خط تابع برداری $\vec{F} = 6xy\vec{i} + 10xy\vec{j}$ ، در طول سهمی $y = x^2$ از نقطه $(1,1)$ تا $(2,4)$ چقدر است؟

- (۱) $\frac{307}{2}$ (۲) $\frac{299}{2}$ (۳) $\frac{301}{2}$ (۴) $\frac{293}{2}$

پاسخ: گزینه «۴» چون تعیین منحنی C و پارامتری کردن منحنی را در قسمت قبل کامل آموزش دادیم، بنابراین همه بلدید! اگر فرض کنیم $x = t$ آن گاه $y = t^2$ و

چون $1 \leq x \leq 2$ ، بنابراین $1 \leq t \leq 2$ ، پس می‌تونیم منحنی C را به راحتی به شکل مقابل بنویسیم:

$$\vec{C}(t) = t\vec{i} + t^2\vec{j} \Rightarrow \vec{C}'(t) = \vec{i} + (2t)\vec{j}$$

حالا در ضابطه \vec{F} به جای تمام x ها، متغیر t و به جای تمام y ها، عبارت t^2 را جایگزین می‌کنیم:

$$I = \int_C \vec{F} \cdot d\vec{r} = \int_1^2 [6(t)(t^2)\vec{i} + (10)(t)(t^2)\vec{j}] \cdot [\vec{i} + (2t)\vec{j}] dt$$

با ضرب دو گروهی مقابل انتگرال درهم داریم:

$$\Rightarrow I = \int_1^2 (6t^3 + 20t^4) dt = \left[\frac{6t^4}{4} + \frac{20t^5}{5} \right]_1^2 = \left[\frac{6 \times 2^4}{4} + \frac{20 \times 2^5}{5} - \frac{6 \times 1^4}{4} - \frac{20 \times 1^5}{5} \right] = 24 + 4 \times 32 - \frac{3}{2} - 4 = 148 - \frac{3}{2} = \frac{293}{2}$$

کله مثال ۴: حاصل انتگرال خط $\int_C xy dx + x dy$ ، که C قسمتی از منحنی $y = x^2$ از نقطه $A(1,1)$ تا نقطه $B(2,4)$ می‌باشد، کدام است؟

- (۱) $\frac{104}{12}$ (۲) $\frac{109}{12}$ (۳) $\frac{101}{12}$ (۴) $\frac{118}{12}$

پاسخ: گزینه «۳» با فرض $x = t$ ، آن گاه $y = t^2$ و لذا داریم:

$$x'_t = 1, y'_t = 2t, 1 \leq t \leq 2$$

$$\text{حاصل انتگرال} = \int_1^2 [(t)(t^2)(1) + t(2t)] dt = \int_1^2 (t^3 + 2t^2) dt = \left[\frac{t^4}{4} + \frac{2t^3}{3} \right]_1^2 = \frac{2^4}{4} + 2 \times \frac{2^3}{3} - \frac{1}{4} - \frac{2}{3} = \frac{3 \times 16 + 4 \times 16 - 3 - 8}{12} = \frac{101}{12}$$

کله مثال ۵: در صورتی که C پاره خط واصل از نقطه $A(1,0,1)$ به نقطه $B(2,2,1)$ و سپس از نقطه $B(2,2,1)$ به نقطه $D(2,5,2)$ باشد، حاصل

انتگرال خط $\int_C (x+y)dx + 2xdy + xydz$ کدام است؟

- (۱) ۱۴ (۲) ۱۶ (۳) ۲۶ (۴) ۲۸

پاسخ: گزینه «۴» فرض کنیم C_1 و C_2 نشان‌دهنده پاره‌خط‌های AB و BD باشند. روی مسیر C_1 داریم:

$$\vec{C}_1(t) = A + (B-A)t = (1,0,1) + (2-1, 2-0, 1-1)t = (1+t, 2t, 1) \Rightarrow C_1 : \begin{cases} x = 1+t \Rightarrow dx = dt \\ y = 2t \Rightarrow dy = 2dt ; 0 \leq t \leq 1 \\ z = 1 \Rightarrow dz = 0 \end{cases}$$

روی مسیر C_2 داریم:

$$\vec{C}_2(t) = B + (D-B)t = (2,2,1) + (2-2, 5-2, 2-1)t = (2, 2+3t, 1+t) \Rightarrow C_2 : \begin{cases} x = 2 \Rightarrow dx = 0 \\ y = 2+3t \Rightarrow dy = 3dt ; 0 \leq t \leq 1 \\ z = 1+t \Rightarrow dz = dt \end{cases}$$

بنابراین انتگرال ساده‌ی مقابل را داریم:

$$= \int_0^1 [(1+t+2t)dt + 2(1+t)(2dt) + 0] + \int_0^1 [0 + 4(2dt) + 2(2t+3)dt]$$

$$= \int_0^1 (1+t+2t)dt + \int_0^1 (4t+14)dt = \left[\frac{1}{2}t^2 + 2t \right]_0^1 + \left[\frac{4t^2}{2} + 14t \right]_0^1 = 5 + 2 + 14 = 28$$

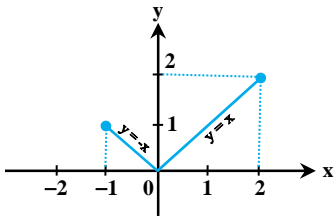


مثال ۶: انتگرال خط میدان $\vec{F} = (x^2 + y^2)\vec{i} + (x^2 - y)\vec{j}$ ، روی منحنی $|y = x|$ ، از نقطه $(-1, 1)$ تا نقطه $(2, 2)$ مساوی است با:

- (۱) $\frac{2}{3}$ (۲) $\frac{31}{6}$ (۳) -2 (۴) $\frac{41}{6}$

پاسخ: گزینه «۴» مسیر موردنظر در شکل زیر نمایش داده شده است:

یعنی دو مسیر داریم که C_1 خط به معادله $y = -x$ از -1 تا 0 است و C_2 خط به معادله $y = x$ از 0 تا 2 می‌باشد، پس معادله پارامتری برای C_1 ، با فرض $x = t, y = -t$ ، برای C_2 با فرض $x = t, y = t$ خواهد بود، لذا داریم:



$$\int_C \vec{F} \cdot d\vec{r} = \int_{C_1} \vec{F} \cdot d\vec{r} + \int_{C_2} \vec{F} \cdot d\vec{r} = I_1 + I_2 \Rightarrow I_1 = \int_{-1}^0 (t^2 + t^2) dt + (t^2 + t)(-dt)$$

$$= \int_{-1}^0 (t^2 - t) dt = \left[\frac{t^3}{3} - \frac{t^2}{2} \right]_{-1}^0 = +\frac{1}{3} + \frac{1}{2} = \frac{5}{6}$$

$$I_2 = \int_0^2 (t^2 + t^2) dt + (t^2 - t) dt = \int_0^2 (3t^2 - t) dt = \left[t^3 - \frac{t^2}{2} \right]_0^2 = 6$$

بنابراین حاصل انتگرال $I = \frac{5}{6} + 6 = \frac{41}{6}$ است.

مثال ۷: حاصل $\int_C \vec{F} \cdot d\vec{r}$ را که در آن $\vec{F}(x, y, z) = x\vec{i} - z\vec{j} + y\vec{k}$ و $\vec{r}(t) = 2t\vec{i} + 3t\vec{j} - t\vec{k}$ از نقطه نظیر $t = -1$ تا $t = 1$ کدام است؟

(صنایع - سیستم - سراسری ۷۹)

- (۱) 1 (۲) 0 (۳) -1 (۴) -2

پاسخ: گزینه «۴» معادله پارامتری شده C به صورت $\vec{r}(t) = (2t)\vec{i} + (3t)\vec{j} - t\vec{k}$ است، بنابراین میدان \vec{F} روی خم داده شده به صورت $\vec{F} = 2t\vec{i} + t^2\vec{j} + 3t\vec{k}$ در می‌آید و همچنین داریم:

$$\int_C \vec{F} \cdot d\vec{r} = \int_{-1}^1 \vec{F}[\vec{C}(t)]C'(t) dt = \int_{-1}^1 [(2t\vec{i} - (-t^2)\vec{j} + (3t)\vec{k})][2\vec{i} + 3\vec{j} - t\vec{k}] dt = \int_{-1}^1 [(4t) + 3t^2 - 6t^2] dt = \int_{-1}^1 (4t - 3t^2) dt$$

$$= [2t^2 - t^3]_{-1}^1 = (2 - 1) - (2 + 1) = 1 - 3 = -2$$

مثال ۸: اگر منحنی C خط $y = x$ از نقطه $(0, 0)$ تا نقطه $(1, 1)$ باشد، در این صورت مقدار انتگرال $\int_C (x + y)dx + (x - y)dy$ برابر است با...

(کامپیوتر - سراسری ۸۰)

- (۱) صفر (۲) 1 (۳) -1 (۴) 2

پاسخ: گزینه «۲» منحنی C را به صورت مقابل پارامتری می‌کنیم:

$$I = \int_C (x + y)dx + (x - y)dy = \int_0^1 [(t + t) + (t - t)] dt = \int_0^1 2t dt = 1$$

بنابراین داریم:

مثال ۹: مقدار $\int_C xy^2 ds$ وقتی معادله پارامتری C به صورت $x = \cos t, y = \sin t, 0 \leq t \leq \frac{\pi}{4}$ برابر است با.....

- (۱) $\frac{2}{3}$ (۲) 3 (۳) $\frac{1}{3}$ (۴) $\frac{3}{2}$

پاسخ: گزینه «۳» ابتدا توجه کنید که داریم:

$$ds = \sqrt{\left(\frac{dx}{dt}\right)^2 + \left(\frac{dy}{dt}\right)^2} dt = \sqrt{(-\sin t)^2 + \cos^2 t} dt = dt$$

$$\int_C xy^2 ds = \int_0^{\frac{\pi}{4}} \cos t \sin^2 t dt = \left[-\frac{1}{3} \sin^3 t \right]_0^{\frac{\pi}{4}} = \frac{1}{3}$$

بنابراین خواهیم داشت:

مثال ۱۰: اگر $\vec{F} = x\vec{i} + y\vec{j} + z\vec{k}$ ، آن‌گاه حاصل $\int_C \vec{F} \cdot d\vec{R}$ بر روی مسیر $z = t^2$ و $y = t^2$ و $x = 2t$ از نقطه نظیر $t = 0$ تا $t = 1$ کدام است؟

(صنایع - سیستم - سراسری ۸۳)

- (۱) 2 (۲) 3 (۳) 4 (۴) 5

پاسخ: گزینه «۲» روی مسیر داده شده، میدان \vec{F} به صورت $\vec{F} = 2t\vec{i} + t^2\vec{j} + t^2\vec{k}$ در می‌آید. از طرفی داریم:

$$\vec{C}(t) = (2t, t^2, t^2) \Rightarrow d\vec{R} = C'(t) dt = (2, 2t, 2t) dt \Rightarrow \vec{F} \cdot d\vec{R} = (2t\vec{i} + t^2\vec{j} + t^2\vec{k}) \cdot (2\vec{i} + 2t\vec{j} + 2t\vec{k}) dt = (4t + 2t^3 + 2t^3) dt$$

$$\int_C \vec{F} \cdot d\vec{R} = \int_0^1 (4t + 2t^3 + 2t^3) dt = \left(2t^2 + \frac{1}{2}t^4 + \frac{1}{2}t^4 \right) \Big|_0^1 = 3$$

بنابراین داریم:

مثال ۱۱: اگر $\vec{F} = M\vec{i} + N\vec{j} + P\vec{k}$ یک میدان برداری و C یک منحنی با معادلات پارامتری $\vec{r}_1 = (x_1, y_1, z_1)$ و $\vec{r}_2 = (x_2, y_2, z_2)$ باشد. در این صورت کدام حکم در مورد $\oint_C \vec{F} \cdot d\vec{r}_1$ و $\oint_C \vec{F} \cdot d\vec{r}_2$ صحیح است؟

(ریاضی - سراسری ۸۳)

- (۱) فقط در صورتی برابرند که \vec{F} میدان گرادیان باشد.
 (۲) فقط در صورتی برابرند که منحنی C بسته باشد.
 (۳) فقط در صورتی برابرند که \vec{F} میدان گرادیان و منحنی C بسته باشد.
 (۴) با هم برابرند.

پاسخ: گزینه «۴» کار انجام شده توسط میدان \vec{F} روی خم C مستقل از نحوه پارامتری کردن خم می‌باشد، لذا حاصل هر دو انتگرال برابر است.

مثال ۱۲: حاصل $\int ydx - xdy$ در امتداد یک قوس از بیضی $x = \cos t$ و $y = 2\sin t$ کدام است؟

(مکانیک - آزاد ۸۴)

- (۱) -2π (۲) -4π (۳) -3π (۴) $+\pi$

پاسخ: گزینه «۲»

$$\int_C ydx - xdy = \int_0^{2\pi} (-2\sin^2 t - 2\cos^2 t) dt = -2 \int_0^{2\pi} dt = -4\pi$$

مثال ۱۳: مقدار انتگرال $\oint_C (2xy - x^2)dx + (x + y^2)dy$ ، که در آن C مرز ناحیه محصور به وسیله منحنی‌های $y = x^2$ و $y^2 = x$ است و یک بار در جهت خلاف عقربه‌های ساعت پیموده شده است، کدام است؟

(عمران - سراسری ۸۴)

- (۱) $\frac{1}{30}$ (۲) $\frac{1}{25}$ (۳) $\frac{1}{20}$ (۴) $\frac{1}{15}$

پاسخ: گزینه «۱» منحنی‌های داده شده همدیگر را در نقاط $(0,0)$ و $(1,1)$ قطع می‌کنند. خم C از دو خم $C_1: y = x^2$ و $C_2: x = y^2$ تشکیل شده است، بنابراین:

$$I = \int_0^1 (2x^3 - x^2) dx + (x + x^2) \times 2x dx + \int_0^1 (2y^3 - y^4) \times 2y dy + (y^2 + y^2) dy = \left(\frac{x^4}{2} - \frac{x^3}{3} + \frac{2x^3}{3} + \frac{x^6}{3} \right) \Big|_0^1 + \left(\frac{4}{5}y^5 - \frac{y^6}{3} + \frac{2y^3}{3} \right) \Big|_0^1 = \frac{1}{30}$$

مثال ۱۴: حاصل وقتی $\int_C xy^2 dy$ وقتی C سهمی به معادله $y = x^2$ از نقطه $(0,0)$ تا نقطه $(2,4)$ است، کدام است؟

(آمار - سراسری ۸۴)

- (۱) $\frac{257}{7}$ (۲) $\frac{256}{7}$ (۳) $\frac{255}{7}$ (۴) $\frac{254}{7}$

پاسخ: گزینه «۲» در روی منحنی $y = x^2$ ، داریم: $dy = 2x dx$ ، پس $x = t$ و $y = t^2$ و $dy = 2t dt$ ، بنابراین خواهیم داشت:

$$\int_C xy^2 dy = \int_0^2 t(t^2)^2 \times (2t dt) = 2 \int_0^2 t^5 dt = \frac{256}{7}$$

مثال ۱۵: اگر $\vec{F}(x,y) = (x^2 - xy)\vec{i} + (y^2 - xy)\vec{j}$ و از $(-1,1)$ تا $(1,1)$ روی خم سهمی C به معادله $y = x^2$ اثر کند، آن‌گاه حاصل انتگرال خطی

(معدن - سراسری ۸۵)

$\int_C (\vec{F} \cdot \vec{T}) ds = \int_C M dx + N dy$ کدام است؟

- (۱) $-\frac{1}{15}$ (۲) $-\frac{2}{15}$ (۳) $\frac{1}{15}$ (۴) $\frac{2}{15}$

پاسخ: گزینه «۲» در روی خم $y = x^2$ ، انتگرال، منحنی الخط داده شده به صورت مقابل در می‌آید: $(dy = 2x dx, dx = dt, y = t^2, x = t)$

$$\int_C M dx + N dy = \int_{-1}^1 ((t^2 - t^3) dt + (t^4 - t^3) 2t dt) = \int_{-1}^1 (2t^5 - 2t^4 - t^3 + t^2) dt = -\frac{2}{15}$$

مثال ۱۶: هرگاه C پاره خطی از نقطه $(0,1,-1)$ تا $(1,2,1)$ بوده، آن‌گاه حاصل $\int_C (ydx + zdy - xdz)$ برابر است با:

(عمران - سراسری ۸۸)

- (۱) $\frac{1}{4}$ (۲) $\frac{1}{3}$ (۳) $\frac{2}{3}$ (۴) 3

پاسخ: گزینه «۲» ابتدای پاره خط $A(0,1,-1)$ و انتهای آن $B(1,2,1)$ است. معادله پارامتری آن را می‌نویسیم:

$$\vec{C}(t) = A + (B - A)t = (0,1,-1) + (1-0, 2-1, 1+1)t = (t, 1+t, -1+2t)$$

$$x = t, y = 1+t, z = -1+2t \Rightarrow dx = dt, dy = dt, dz = 2dt$$

و در این روش همیشه $0 \leq t \leq 1$ است. پس داریم:

$$\int_C (ydx + zdy - xdz) = \int_0^1 ((1+t)dt + (2t-1)dt - t \times 2dt) = \int_0^1 t dt = \frac{t^2}{2} \Big|_0^1 = \frac{1}{2}$$



کله مثال ۱۷: مقدار انتگرال خط $\int_C 2ydx + xdy$ ، که در آن C نیم‌دایره $x = \cos t, y = \sin t, 0 \leq t \leq \pi$ است، کدام است؟

(صنایع - سیستم - سراسری ۸۷ و ۸۸)

(۱) $\frac{\pi}{2}$ (۲) π (۳) $-\pi$ (۴) $3\frac{\pi}{2}$

$$\begin{cases} x = \cos t \Rightarrow dx = -\sin t dt \\ y = \sin t \Rightarrow dy = \cos t dt \end{cases}$$

پاسخ: گزینه «۳» ابتدا توجه کنید که:

با جایگزینی روابط بالا در انتگرال داده شده داریم:

$$\int_C 2ydx + xdy = \int_0^\pi (-3\sin^2 t + \cos^2 t) dt = \int_0^\pi \left(-3\left(\frac{1-\cos 2t}{2}\right) + \left(\frac{1+\cos 2t}{2}\right)\right) dt = \int_0^\pi (-1 + 2\cos 2t) dt = -\pi$$

کله مثال ۱۸: مقدار $\int_C (x^2y - z) dt$ که در آن C با معادله پارامتری $\vec{C}(t) = (\cos t)\vec{i} + (\sin t)\vec{j} - t\vec{k}, 0 \leq t \leq \pi$ داده شده برابر است با:

(ریاضی - سراسری ۸۹)

(۱) $\frac{\pi}{2}$ (۲) $\frac{\pi^2}{2}$ (۳) $\frac{2}{3} + \frac{\pi}{2}$ (۴) $\frac{2}{3} + \frac{\pi^2}{2}$

پاسخ: گزینه «۴» با جایگذاری مقادیر بر حسب t (با توجه به معادله C) مقدار انتگرال را محاسبه می‌کنیم:

$$\int_C (x^2y - z) dt = \int_0^\pi (\cos^2 t \sin t + t) dt = \left(-\frac{\cos^3 t}{3} + \frac{t^2}{2}\right) \Big|_0^\pi = \frac{2}{3} + \frac{\pi^2}{2}$$

(MBA - سراسری ۹۰)

کله مثال ۱۹: اگر $\vec{F} = yz\vec{i} + xz\vec{j} + x\vec{k}$ حاصل $\int_C \vec{F} \cdot d\vec{R}$ در امتداد منحنی $\begin{cases} y = x^2 \\ z = x^3 \end{cases}$ از نقطه $x=0$ تا $x=1$ کدام است؟

(۱) $\frac{3}{2}$ (۲) $\frac{3}{4}$ (۳) $\frac{5}{4}$ (۴) $\frac{5}{2}$

پاسخ: گزینه «۳» چون منحنی از $x=0$ تا $x=1$ داده شده است، پس بهتر است $t = x$ در نظر گرفته شود در این صورت $y = t^2$ و $z = t^3$ و با جایگزینی داریم:

$$\vec{F}(\vec{C}(t)) = (t^2 \times t^3)\vec{i} + (t \times t^2)\vec{j} + t\vec{k}, \quad \vec{C}(t) = t\vec{i} + t^2\vec{j} + t^3\vec{k}, \quad C'(t) = \vec{i} + 2t\vec{j} + 3t^2\vec{k}$$

$$\int_C \vec{F} \cdot d\vec{R} = \int_0^1 (t^5\vec{i} + t^4\vec{j} + t\vec{k}) \cdot (\vec{i} + 2t\vec{j} + 3t^2\vec{k}) dt = \int_0^1 (t^5 + 2t^5 + 3t^3) dt = \int_0^1 (3t^5 + 3t^3) dt = \left[\frac{3t^6}{6} + \frac{3t^4}{4}\right]_0^1 = \frac{1}{2} + \frac{3}{4} = \frac{5}{4}$$

کله مثال ۲۰: مقدار انتگرال $\int_C xdx + (x-y)dy + (x+y+z)dz$ که در آن C پاره خط از $(1,0,-1)$ تا $(2,3,4)$ می‌باشد برابر است با:

(تاریخ و فلسفه علم - سراسری ۹۰)

(۱) $\frac{23}{2}$ (۲) $\frac{43}{2}$ (۳) 24 (۴) 34

پاسخ: گزینه «۳» ابتدا معادله پارامتری C را می‌نویسیم. نقطه‌ی ابتدا $A(1,0,-1)$ و نقطه‌ی انتها $B(2,3,4)$ است.

$$\vec{C}(t) = A + (B-A)t = (1+t, 3t, -1+\Delta t)$$

$$\Rightarrow x = 1+t, y = 3t, z = -1+\Delta t \Rightarrow dx = dt, dy = 3dt, dz = \Delta dt$$

در این روش همواره $0 \leq t \leq 1$ است. با جایگذاری روابط فوق در انتگرال منحنی‌الخط داده شده داریم:

$$\int_C xdx + (x-y)dy + (x+y+z)dz = \int_0^1 (t+1)dt + (t+1-3t)(3dt) + (t+1+3t+\Delta t-1)(\Delta dt)$$

$$= \int_0^1 (t-6t+4+4\Delta t)dt = \int_0^1 (4 \cdot 0 + 4)dt = (2 \cdot 0 + 4t) \Big|_0^1 = 2 \cdot 0 + 4 = 24$$

درسنامه ۲: تعاریف دیگر و کاربردهای انتگرال خط

کله مثال ۱: جرم سیمی را که از تقاطع دو رویه $z = x^2 - 2y^2 - z$ و $z = x^2$ بین نقاط $(0, 1, 0)$ و $(1, 0, 1)$ واقع در یک هشتم اول دستگاه مختصات دکارتی قرار دارد در صورتی که چگالی سیم در نقطه (x, y, z) برابر $p(x, y, z) = xy$ باشد، کدام است؟

(۱) $\pi + 2$ (۲) $\frac{\pi + 2}{2}$ (۳) $\frac{\pi + 2}{8}$ (۴) $\frac{\pi + 2}{4}$

پاسخ: گزینه «۳» ابتدا لازم است خم موردنظر (C) را به نحوی مناسب به شکل پارامتری در آوریم. از آنجا که خم روی $z = x^2$ قرار دارد و x از ۰ تا ۱ تغییر می‌کند، لذا می‌توانیم قرار دهیم $x = t$ و $z = t^2$ و بنابراین داریم:

$$2y^2 = 2 - x^2 - z = 2 - 2t^2 \Rightarrow y^2 = 1 - t^2 \Rightarrow y = \pm\sqrt{1-t^2}$$

خم داده شده در یک هشتم اول قرار دارد، پس $y \geq 0$ است و داریم $y = \sqrt{1-t^2}$. پس معادله پارامتری منحنی C به این صورت است:

$$x = t, y = \sqrt{1-t^2}, z = t^2$$

$$x'_t = 1, y'_t = \frac{-t}{\sqrt{1-t^2}}, z'_t = 2t \Rightarrow ds = \sqrt{1 + \frac{t^2}{1-t^2} + 4t^2} dt = \frac{\sqrt{1+4t^2-4t^4}}{\sqrt{1-t^2}} dt$$

$$\text{جرم سیم} = M = \int_C \rho ds = \int_C xy ds = \int_0^1 (t\sqrt{1-t^2}) \frac{\sqrt{1+4t^2-4t^4}}{\sqrt{1-t^2}} dt = \int_0^1 t\sqrt{1+4t^2-4t^4} dt$$

بنابراین جرم سیم برابر است با:

عبارت زیر رادیکال به صورت $2 - (2t^2 - 1)^2$ نوشته می‌شود پس از تغییر متغیر $2t^2 - 1 = \sqrt{2} \sin \theta$ استفاده می‌کنیم. از $0 \leq t \leq 1$ داریم $-\frac{\pi}{4} \leq \theta \leq \frac{\pi}{4}$ و با مشتق‌گیری از طرفین داریم $\sqrt{2} \cos \theta d\theta = 4t dt \Rightarrow t dt = \frac{\sqrt{2}}{4} \cos \theta d\theta$ در نتیجه

$$M = \int_{-\frac{\pi}{4}}^{\frac{\pi}{4}} \frac{\sqrt{2}}{4} \cos \theta \sqrt{2-2\sin^2 \theta} \frac{\sqrt{2}}{4} \cos \theta d\theta = \int_{-\frac{\pi}{4}}^{\frac{\pi}{4}} \frac{\sqrt{2}}{4} \cos \theta \sqrt{2} \cos \theta d\theta \xrightarrow{\text{زوج بودن زیر انتگرال}} \frac{2\sqrt{2}\sqrt{2}}{4} \int_0^{\frac{\pi}{4}} \cos^2 \theta d\theta = \int_0^{\frac{\pi}{4}} \frac{1}{2} (1 + \cos 2\theta) d\theta = \frac{\pi + 2}{8}$$

کله مثال ۲: نقاشی می‌خواهد دو طرف یک حصار قدیمی نشان داده شده در شکل زیر را نقاشی کند. اگر او به ازای هر ۳ مترمربع نقاشی، مبلغ ۲۰۰ هزار تومان دریافت کند، درآمد او از نقاشی این حصار چند میلیون تومان است؟



پاسخ: گزینه «۲» با توجه به فرمول بالا، مساحت «نصف یک طرف حصار» برابر با انتگرال $\int_C f(x, y) ds$ است. در این سؤال $f(x, y) = 1 + \frac{y}{3}$ داده شده است و بنابراین کافیتست ds را حساب کنیم.

$$C'(t) = (-90 \cos^2 t \sin t) \vec{i} + (90 \sin^2 t \cos t) \vec{j} \Rightarrow |C'(t)| = 90 \sin t \cos t \Rightarrow ds = (90 \sin t \cos t) dt$$

با توجه به معادله $C(t)$ ، واضح است $y = 30 \sin^3 t$ ، از طرفی برای تعیین حدود t توجه کنید که تابع $f(x, y) = 1 + \frac{y}{3}$ به x بستگی ندارد، لذا می‌توان حدود t را برای یک چهارم اول صفحه تعیین کرد و حاصل انتگرال را در عدد ۲ ضرب کرد. برای تعیین حدود t داریم:

$$\left. \begin{array}{l} \text{نقطه A: } y = 0 \Rightarrow 30 \sin^3 t = 0 \Rightarrow t = 0 \\ \text{نقطه B: } x = 0 \Rightarrow 30 \cos^3 t = 0 \Rightarrow \cos t = 0 \Rightarrow t = \frac{\pi}{2} \end{array} \right\} \Rightarrow 0 \leq t \leq \frac{\pi}{2}$$

$$S = \int_C (1 + \frac{y}{3}) ds = 2 \int_0^{\frac{\pi}{2}} (1 + \frac{30 \sin^3 t}{3}) (90 \sin t \cos t) dt = 2 \times 90 \int_0^{\frac{\pi}{2}} (\sin t + 10 \sin^4 t) \cos t dt = 180 \left[\frac{\sin^2 t}{2} + 2 \sin^5 t \right]_0^{\frac{\pi}{2}}$$

و لذا داریم:

$$\Rightarrow S = 180 \left(\frac{1}{2} + 2 \right) = 180 \times \frac{5}{2} = 450$$

چون دو طرف حصار باید رنگ شود، بنابراین مساحت قابل رنگ ۹۰۰ مترمربع است و چون برای نقاشی ۳۰ متر مربع، مبلغ ۲۰۰ هزار تومان پرداخت می‌شود، لذا داریم:

$$\text{درآمد نقاش} = \frac{900}{30} \times 200000 = 30 \times 200000 = 6,000,000$$



کله مثال ۳: مساحت بخشی از استوانه $x^2 + y^2 = 1$ ، که بین صفحات $x + y + z + 1 = 0$ و $x + y - z + 3 = 0$ قرار دارد، چقدر است؟

$$6\pi \quad (4)$$

$$12\pi \quad (3)$$

$$8\pi \quad (2)$$

$$4\pi \quad (1)$$

پاسخ: گزینه «۲» از معادله‌های داده شده $Z_1 = -1 - x - y$ و $Z_2 = 3 + x + y$ به دست می‌آید، در واقع مساحت بخشی از استوانه‌ای که روی محیط

دایره $C: x^2 + y^2 = 1$ به ارتفاع $Z_2 - Z_1$ تشکیل می‌شود، باید حساب شود. مساحت مورد نظر برابر $\int_C (Z_2 - Z_1) ds$ است. خم $C: x^2 + y^2 = 1$ را به صورت

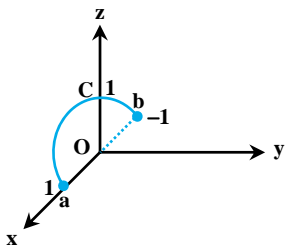
پارامتری $\vec{C}(t) = (\cos t, \sin t)$ در نظر می‌گیریم، در این صورت داریم:

$$ds = \sqrt{x'^2 + y'^2} dt = \sqrt{(-\sin t)^2 + (\cos t)^2} dt = dt$$

بنابراین مساحت مورد نظر برابر است با:

$$\int_C [(3 + x + y) - (-1 - x - y)] ds = \int_0^{2\pi} (4 + 2\cos t + 2\sin t) dt = 8\pi$$

کله مثال ۴: ذره‌ای روی نیم‌دایره شکل مقابل از نقطه‌ی a تا b تحت تأثیر نیروی $\vec{F} = -z\vec{i} + x\vec{k}$ حرکت می‌کند. کار انجام شده توسط این نیرو چقدر است؟



$$\frac{\pi}{2} \quad (1)$$

$$\pi \quad (2)$$

$$\frac{3\pi}{2} \quad (3)$$

$$2\pi \quad (4)$$

پاسخ: گزینه «۲» منحنی C نیم‌دایره‌ای به شعاع ۱ است و در صفحه xoz قرار دارد و این یعنی $y = 0$ ، لذا معادله‌ی دایره‌ی کامل $z^2 + x^2 = 1$

است که می‌دانیم معادله‌ی پارامتری دایره $x = \cos t$ و $z = \sin t$ می‌باشد و به راحتی $x'(t) = -\sin t$ و $z'(t) = \cos t$ ، به دست می‌آید:

$$\int_C \vec{F} \cdot d\vec{r} = \int_C (-z)dx + \int_C xdz = \int_0^\pi (-\sin t)(-\sin t)dt + \int_0^\pi (\cos t)(\cos t)dt = \int_0^\pi (\sin^2 t + \cos^2 t)dt = \int_0^\pi dt = \pi$$

کله مثال ۵: میدان نیروی دو بعدی \vec{F} با معادله‌ی $\vec{F}(x,y) = cxy\vec{i} + x^2y^2\vec{j}$ مفروض است، که c مقدار ثابت مثبتی است. این نیرو بر ذره‌ای اثر می‌کند و

آن را از نقطه‌ی $(0,0)$ تا خط $x=1$ در طول خمی به معادله‌ی $y = ax^b$ ($a > 0$ و $b > 0$) حرکت می‌دهد. اگر کار انجام شده توسط این نیرو از b مستقل

باشد، آن‌گاه مقدار a بر حسب c کدام است؟

$$a = \sqrt{\frac{c}{6}} \quad (4)$$

$$a = \sqrt{\frac{c}{6}} \quad (3)$$

$$a = \sqrt{\frac{3c}{2}} \quad (2)$$

$$a = \sqrt{\frac{3}{2}}c \quad (1)$$

پاسخ: گزینه «۲» معادله‌ی پارامتری خم داده شده به صورت $r(t) = (t, at^b)$ است، در این صورت داریم:

$$\vec{F} \cdot d\vec{r} = (ct \cdot at^b, t^6 \cdot a^2 t^{2b}) \cdot (1, abt^{b-1}) dt = (act^{b+1} + a^2 bt^{2b+6}) dt$$

بنابراین کار انجام شده برابر است با:

$$\int_C \vec{F} \cdot d\vec{r} = \int_0^1 (act^{b+1} + a^2 bt^{2b+6}) dt = \left(\frac{ac}{b+2} t^{b+2} + \frac{a^2 b}{2b+6} t^{2b+6} \right) \Big|_0^1 = \frac{ac}{b+2} + \frac{a^2 b}{2(b+2)} = \frac{ac}{b+2} + \frac{a^2}{2} - \frac{2a^2}{2(b+2)}$$

برای این که مقدار انتگرال از b مستقل باشد، بایستی مقدار عبارت $\frac{ac}{b+2} - \frac{2a^2}{2(b+2)}$ برابر صفر باشد، که در این صورت داریم:

$$\frac{ac}{b+2} - \frac{2a^2}{2(b+2)} = 0 \Rightarrow \frac{3ac - 2a^2}{2(b+2)} = 0 \Rightarrow 3c = 2a^2 \Rightarrow a = \sqrt{\frac{3c}{2}}$$

سؤال دانشجو: چرا پس از حل انتگرال، جمله‌ی $\frac{a^2}{2}$ را جدا کردید؟

پاسخ: زیرا می‌خواهیم جملاتی که به b وابسته نیستند را کنار بگذاریم. سایر جملات به b بستگی دارند و مجموع آن‌ها باید صفر باشد.

کله مثال ۶: جریان میدان برداری $\vec{F} = (x+y)\vec{i} - (x^2+y^2)\vec{j}$ روی مسیر C که متشکل از دو پاره خط از $(1,0)$ تا $(0,-1)$ و از $(0,-1)$ تا $(-1,0)$ است، چقدر می باشد؟

- (۱) ۱ (۲) ۲ (۳) ۳ (۴) ۴

پاسخ: گزینه «۱» مسیر C از دو قسمت تشکیل شده است، پاره خط C_1 که از $A(1,0)$ به $B(0,-1)$ می رسد و پاره خط C_2 که از $B(0,-1)$ به $D(-1,0)$ می رسد:

$$\vec{C}_1(t) = A + (B-A)t = (1-t, -t) \Rightarrow \begin{cases} x = -t+1 \Rightarrow dx = -dt \\ y = -t \Rightarrow dy = -dt \end{cases}, 0 \leq t \leq 1$$

$$\vec{C}_2(t) = B + (D-B)t = (-t, -1+t) \Rightarrow \begin{cases} x = -t \Rightarrow dx = -dt \\ y = t-1 \Rightarrow dy = dt \end{cases}, 0 \leq t \leq 1$$

$$\text{جریان} = \int_C \vec{F} \cdot d\vec{r} = \int_{C_1} \vec{F} \cdot d\vec{r} + \int_{C_2} \vec{F} \cdot d\vec{r}$$

$$I_1 = \int_{C_1} \vec{F} \cdot d\vec{r} = \int_0^1 (-t+1-t)(-dt) - [(-t+1)^2 + (-t)^2](-dt) = \int_0^1 [(2t-1) + (t^2 - 2t + 1 + t^2)]dt$$

$$= \int_0^1 (2t-1+2t^2-2t+1)dt = \int_0^1 2t^2 dt = \left[\frac{2t^3}{3} \right]_0^1 = \frac{2}{3}$$

$$I_2 = \int_{C_2} \vec{F} \cdot d\vec{r} = \int_0^1 [(-t+t-1)(-dt)] - [(-t)^2 + (t-1)^2]dt = \int_0^1 (1-2t^2+2t-1)dt = \left[-\frac{2t^3}{3} + t^2 \right]_0^1 = -\frac{2}{3} + 1$$

$$I = I_1 + I_2 = \frac{2}{3} - \frac{2}{3} + 1 = 1$$

چون حاصل انتگرال برابر با مجموع دو مقدار I_1 و I_2 است، لذا داریم:

کله مثال ۷: مقدار کار انجام شده توسط میدان نیروی $\vec{F}(x,y) = y^2\vec{i} + x^2\vec{j}$ روی مسیر $y = x^2$ از نقطه $(0,0)$ تا نقطه $(1,1)$ چقدر است؟

(آمار - سراسری ۷۸)

- (۱) $\frac{12}{20}$ (۲) $\frac{13}{20}$ (۳) $\frac{14}{20}$ (۴) $\frac{15}{20}$

پاسخ: گزینه «۳» با فرض $x = t$ ، آن گاه $y = t^2$ و $dx = dt$ و $dy = 2t dt$ و بنابراین داریم:

$$\text{کار} = \int_C \vec{F} \cdot d\vec{R} = \int_C y^2 dx + x^2 dy = \int_0^1 (t^2)^2 dt + t^2(2t dt) = \frac{14}{20}$$

کله مثال ۸: نیروی $\vec{F} = x\vec{i} + y\vec{j} + (yz-x)\vec{k}$ در امتداد مسیر $0 \leq t \leq 1$ و $\vec{R}(t) = 2t\vec{i} + t^2\vec{j} + 4t\vec{k}$ ، چند واحد کار انجام می دهد؟ (معدن - سراسری ۸۲)

- (۱) $-\frac{5}{2}$ (۲) ۲ (۳) -۲ (۴) $\frac{5}{2}$

پاسخ: گزینه «۴» در امتداد مسیر با معادله پارامتری $\vec{R}(t)$ ، میدان \vec{F} به صورت زیر در می آید:

$$\vec{F} = x\vec{i} + y\vec{j} + (yz-x)\vec{k} \Rightarrow \vec{F}(\vec{R}(t)) = 2t\vec{i} + t^2\vec{j} + (4t^3 - 2t)\vec{k}$$

$$\vec{R}(t) = 2t\vec{i} + t^2\vec{j} + 4t\vec{k} \Rightarrow d\vec{R} = (2\vec{i} + 2t\vec{j} + 4\vec{k})dt \Rightarrow \left. \begin{aligned} \vec{F} \cdot d\vec{R} &= 4t + 2t^3 + 12t^2(4t - 2t) = 48t^3 - 22t^2 + 4t \\ \text{مقدار کار انجام شده} &= \int_0^1 \vec{F} \cdot d\vec{R} = \int_0^1 (48t^3 - 22t^2 + 4t) dt = \frac{5}{2} \end{aligned} \right\}$$

کله مثال ۹: کار انجام شده توسط نیروی $\vec{F} = 3x^2\vec{i} + xy\vec{j}$ که ذره ای را در امتداد سهمی $y = 4x^2$ از نقطه $(0,0)$ به $(1,4)$ به حرکت در می آورد برابر است با:

(معدن - سراسری ۸۳)

- (۱) ۷ (۲) ۳۷ (۳) $\frac{۳۷}{۵}$ (۴) ۳۵

پاسخ: گزینه «۳» سهمی داده شده را می توان به صورت پارامتری $\vec{R}(t) = (t, 4t^2)$ در نظر گرفت. در این صورت داریم:

$$d\vec{R} = (1, 8t)dt, \vec{F}(\vec{R}(t)) = (3t^2, 4t^3) \Rightarrow \vec{F} \cdot d\vec{R} = (3t^2 + 32t^4)dt$$

$$\text{کار انجام شده} = \int_0^1 \vec{F} \cdot d\vec{R} = \int_0^1 (3t^2 + 32t^4) dt = \frac{37}{5}$$

بنابراین داریم:



🔗 مثال ۱۰: کار انجام شده توسط نیروی $\vec{F} = (xy, yz, xz)$ در طول منحنی $\vec{C}(t) = (t, t^2, t^3)$ با فرض $0 \leq t \leq 1$ برابر است با: (عمران - سراسری ۸۴)

(۱) ۷ (۲) $\frac{۳۲}{۱۱}$ (۳) ۱۱ (۴) $\frac{۲۷}{۲۸}$

🔗 پاسخ: گزینه «۴»

$\vec{C}(t) = (t, t^2, t^3) \Rightarrow \vec{C}'(t) = (1, 2t, 3t^2), F(\vec{C}(t)) = (t^3, t^5, t^6)$

$\int_C \vec{F} \cdot d\vec{R} = \int_0^1 (t^3 + 2t^6 + 3t^6) dt = \frac{27}{28}$

🔗 مثال ۱۱: کار انجام شده توسط میدان نیروی $\vec{F}(x, y, z) = (x, y, z)$ روی مارپیچ $\vec{R}(t) = (\cos t)\vec{i} + (\sin t)\vec{j} + t\vec{k}, 0 \leq t \leq \frac{\pi}{4}$ برابر چیست؟ (عمران - سراسری ۸۶)

(۱) $\frac{\pi}{2} - 1$ (۲) $2\pi - 1$ (۳) $\pi - \frac{1}{2}$ (۴) $\frac{\pi}{2} - \frac{1}{2}$

🔗 پاسخ: هیچ کدام از گزینه‌ها صحیح نیست.

$F(\vec{C}(t)) = (\cos t, \sin t, t)$

$\vec{C}(t) = (\cos t, \sin t, t) \Rightarrow \vec{C}'(t) = (-\sin t, \cos t, 1)$

$F(\vec{C}(t)) \cdot \vec{C}'(t) = -\sin t \cos t + \sin t \cos t + t = t \Rightarrow \text{کار} = \int_0^{\frac{\pi}{4}} F(\vec{C}(t)) \cdot \vec{C}'(t) dt = \int_0^{\frac{\pi}{4}} t dt = \frac{t^2}{2} \Big|_0^{\frac{\pi}{4}} = \frac{\pi^2}{8}$

🔗 مثال ۱۲: حاصل $\int_C \frac{ds}{x-y}$ بر روی پاره‌خطی از نقطه $(0, 3)$ تا $(6, 0)$ و ds عنصر قوس است، کدام است؟ (کشاورزی - سراسری ۸۸)

(۱) $\sqrt{5} \ln 2$ (۲) $\frac{\sqrt{5}}{5} \ln 2$ (۳) $\sqrt{5} \ln 3$ (۴) $\sqrt{3} \ln 3$

🔗 پاسخ: گزینه «۱» معادله پارامتری خط داده شده به صورت $\begin{cases} x = 6 - 2t \\ y = -t \end{cases}$ و $0 \leq t \leq 3$ می‌باشد.

$\Rightarrow ds = \sqrt{x'^2 + y'^2} dt = \sqrt{(-2)^2 + (-1)^2} dt = \sqrt{5} dt$

$\int_C \frac{ds}{x-y} = \int_0^3 \frac{\sqrt{5} dt}{6-2t+t} = \sqrt{5} \int_0^3 \frac{dt}{6-t} = -\sqrt{5} \ln(6-t) \Big|_0^3 = -\sqrt{5} \ln 3 + \sqrt{5} \ln 6 = \sqrt{5} \ln 2$

درسنامه: میدان‌های پایستار

مثال ۱: اگر تابع ϕ فقط بر حسب z باشد و میدان برداری \vec{F} به صورت $\vec{F} = (xy - \sin z)\vec{i} + [\frac{x^2}{y} + e^y\phi(z)]\vec{j} + (\frac{e^y}{z} \text{Ln}z - x \cos z)\vec{k}$ تعریف شود. ضابطه‌ی $\phi(z)$ کدام گزینه باشد، تا حاصل $\int \vec{F} \cdot d\vec{r}$ بین هر دو نقطه‌ی A و B مستقل از مسیر باشد؟ ($z > 0$)

- (۱) $\text{Ln}^2 z + C$ (۲) $\frac{1}{y} \text{Ln}^2 z + C$ (۳) $\frac{1}{y} \text{Ln}z + C$ (۴) $\text{Ln}z + C$

پاسخ: گزینه «۲» برای این که حاصل انتگرال مستقل از مسیر باشد، باید کرل \vec{F} صفر باشد.

$$\text{curl} \vec{F} = \begin{vmatrix} \vec{i} & \vec{j} & \vec{k} \\ \frac{\partial}{\partial x} & \frac{\partial}{\partial y} & \frac{\partial}{\partial z} \\ P & Q & R \end{vmatrix} = 0 \Rightarrow \left(\frac{\partial R}{\partial y} - \frac{\partial Q}{\partial z}\right)\vec{i} - \left(\frac{\partial R}{\partial x} - \frac{\partial P}{\partial z}\right)\vec{j} + \left(\frac{\partial Q}{\partial x} - \frac{\partial P}{\partial y}\right)\vec{k} = 0 \Rightarrow \left(\frac{e^y \text{Ln}z}{z} - e^y \phi'(z)\right)\vec{i} - (-\cos z + \cos z)\vec{j} + (x - x)\vec{k} = 0$$

$$\Rightarrow \left[\frac{e^y \text{Ln}z}{z} - e^y \phi'(z)\right]\vec{i} = 0 \Rightarrow \frac{e^y \text{Ln}z}{z} - e^y \phi'(z) = 0 \xrightarrow{\text{طرفین تقسیم بر } e^y} \phi'(z) = \frac{\text{Ln}z}{z} \Rightarrow \phi(z) = \int \frac{\text{Ln}z}{z} dz = \frac{\text{Ln}^2 z}{2} + C$$

مثال ۲: اگر C خم مشترک $z = \text{Ln}(1+x)$ و $y = x$ از نقطه‌ی $(0,0,0)$ تا $(1,1,\text{Ln}2)$ باشد، آنگاه حاصل $\int_C (\pi x \sin \pi y - e^z) dx + (\pi x^2 \cos \pi y) dy - x e^z dz$ کدام است؟

- (۱) $\text{Ln}2$ (۲) $-\text{Ln}2$ (۳) -2 (۴) 2

پاسخ: گزینه «۳» ابتدا توجه کنید، داریم:

$$P = \pi x \sin \pi y - e^z, \quad Q = \pi x^2 \cos \pi y, \quad R = -x e^z$$

$$\text{curl} \vec{F} = 0\vec{i} + (-e^z + e^z)\vec{j} + (\pi x \cos \pi y - \pi x \cos \pi y)\vec{k} = 0$$

کرل F صفر شد و این یعنی میدان پایستار است، لذا تابع پتانسیل را حساب می‌کنیم:

$$f = \int (\pi x \sin \pi y - e^z) dx + \int 0 dy + \int 0 dz = x^2 \sin(\pi y) - x e^z$$

$$\int \vec{F} \cdot d\vec{r} = f(\text{انتها}) - f(\text{ابتدا}) = [x^2 \sin \pi y - x e^z]_{(0,0,0)}^{(1,1,\text{Ln}2)} = -1 \times e^{\text{Ln}2} = -2$$

مثال ۳: چه تعداد از عبارتهای زیر، درست نیست؟

الف) مقدار $I = \int_C (2xy + 4yz) dx + (x^2 + 4xz - 2z^2) dy + (4xy - 4yz) dz$ از نقطه‌ی $(-1, 1, 2)$ تا نقطه‌ی $(3, -2, 1)$ برابر با -23 است.
 ب) اگر حاصل انتگرال منحنی الخط $I = \int_C z^2 dx + 2y dy + axz dz$ بر روی منحنی بسته C به معادله‌ی $x^2 + y^2 = 1$ و $x + y + z = 2$ صفر باشد، آنگاه مقدار a برابر با -2 است.

ج) مقدار انتگرال خط $I = \int_C (2xy^2 - y^2 \cos x) dx + (1 - 2y \sin x + 3x^2 y^2) dy$ که در آن C سهمی $2x = \pi y^2$ از مبدأ تا نقطه‌ی $(\frac{\pi}{4}, 1)$ می‌باشد، برابر با $\frac{\pi^2}{4}$ است.

- (۱) ۰ (۲) ۱ (۳) ۲ (۴) ۳

پاسخ: گزینه «۲» هر کدام از گزینه‌های این سؤال می‌توانند یک تست مستقل باشند و ما برای تمرین بیشتر در قالب یک تست مطرح کرده‌ایم!

هر ۳ مورد را بررسی می‌کنیم:

بررسی الف) ابتدا شرط پایستار بودن را کنترل می‌کنیم:

$$\frac{\partial P}{\partial y} = 2x + 4z, \quad \frac{\partial Q}{\partial x} = 2x + 4z \Rightarrow \frac{\partial P}{\partial y} = \frac{\partial Q}{\partial x}$$

$$\frac{\partial P}{\partial z} = 4y, \quad \frac{\partial R}{\partial x} = 4y \Rightarrow \frac{\partial P}{\partial z} = \frac{\partial R}{\partial x}$$

$$\frac{\partial Q}{\partial z} = 4x - 4z, \quad \frac{\partial R}{\partial y} = 4x - 4y \Rightarrow \frac{\partial Q}{\partial z} = \frac{\partial R}{\partial y}$$



پس میدان پایستار است و لذا انتگرال گیری به مسیر بستگی ندارد، با محاسبه‌ی تابع پتانسیل داریم:

$$\left. \begin{aligned} \int (\cancel{2}xy + \cancel{4}yz) dx &= x^{\cancel{2}}y + \cancel{4}xyz \\ \int (-\cancel{2}z^{\cancel{2}}) dy &= -\cancel{2}z^{\cancel{2}}y \\ \int (\circ) dz &= \circ \end{aligned} \right\} \Rightarrow \phi(x, y, z) = x^{\cancel{2}}y + \cancel{4}xyz - \cancel{2}z^{\cancel{2}}y$$

بنابراین داریم:

$$I = \phi(\cancel{3}, -\cancel{2}, \cancel{1}) - \phi(-\cancel{1}, \cancel{1}, \cancel{2}) = [(\cancel{3}^{\cancel{2}} \times (-\cancel{2}) + \cancel{4}(\cancel{3})(-\cancel{2})(\cancel{1}) - \cancel{2}(\cancel{1})^{\cancel{2}}(-\cancel{2})) - [(-\cancel{1})^{\cancel{2}}(\cancel{1}) + \cancel{4}(-\cancel{1})(\cancel{1})(\cancel{2}) - \cancel{2}(\cancel{2})^{\cancel{2}}(\cancel{1})] = [-\cancel{18} - \cancel{24} + \cancel{4}] - [-\cancel{1} - \cancel{8} - \cancel{8}] = -\cancel{23}$$

بنابراین عبارت الف درست است.

بررسی ب) با توجه به نوع جمله بندی باید میدان پایستار باشد، با این حال شرط ابتدایی پایستار بودن را بررسی می کنیم:

$$\frac{\partial P}{\partial y} = \circ, \frac{\partial Q}{\partial x} = \circ \Rightarrow \frac{\partial P}{\partial y} = \frac{\partial Q}{\partial x} = \circ$$

$$\frac{\partial P}{\partial z} = \cancel{2}z, \frac{\partial R}{\partial x} = az, \frac{\partial P}{\partial z} = \frac{\partial R}{\partial x} \Rightarrow \cancel{2}z = az \Rightarrow a = \cancel{2}$$

بنابراین عبارت (ب) غلط است.

بررسی ج) ابتدا شرط ابقایی بودن را بررسی می کنیم:

$$\left. \begin{aligned} \frac{\partial P}{\partial y} &= \cancel{6}xy^{\cancel{2}} - \cancel{2}y \cos x \\ \frac{\partial Q}{\partial x} &= -\cancel{2}y \cos x + \cancel{6}xy^{\cancel{2}} \end{aligned} \right\} \Rightarrow \frac{\partial P}{\partial y} = \frac{\partial Q}{\partial x}$$

پس میدان پایستار است و لذا با محاسبه‌ی تابع پتانسیل می توانیم مقدار انتگرال را حساب کنیم:

$$\int (\cancel{2}xy^{\cancel{2}} - y^{\cancel{2}} \cos x) dx = x^{\cancel{2}}y^{\cancel{2}} - y^{\cancel{2}} \sin x$$

$$\int (\circ) dy = y$$

$$\Rightarrow \phi(x, y) = x^{\cancel{2}}y^{\cancel{2}} - y^{\cancel{2}} \sin x + y \Rightarrow I = \phi(\frac{\pi}{\cancel{2}}, \cancel{1}) - \phi(\circ, \circ) = [(\frac{\pi}{\cancel{2}})^{\cancel{2}}(\cancel{1})^{\cancel{2}} - \cancel{1}^{\cancel{2}} \times \sin \frac{\pi}{\cancel{2}} + \cancel{1}] - \circ = \frac{\pi^{\cancel{2}}}{\cancel{4}}$$

بنابراین عبارت (ج) نیز صحیح است.

مثال ۴: میدان برداری $\vec{F} = (ax \sin(\pi y))\vec{i} + (x^{\cancel{2}} \cos(\pi y) + bye^{-z})\vec{j} + y^{\cancel{2}}e^{-z}\vec{k}$ پایستار است. اگر C منحنی حاصل از برخورد سهمی گون بیضوی $z = x^{\cancel{2}} + \cancel{4}y^{\cancel{2}}$ و صفحه‌ی $z = \cancel{3}x - \cancel{2}y$ از مبدأ تا نقطه‌ی $A(1, \frac{1}{\cancel{2}}, \cancel{2})$ باشد، آنگاه حاصل $\int_C \vec{F} \cdot d\vec{r}$ کدام است؟

$$\frac{1}{\pi} + \frac{1}{\cancel{2}}e^{-\cancel{2}} \quad (۴)$$

$$\frac{1}{\pi} - \frac{1}{\cancel{4}}e^{-\cancel{2}} \quad (۳)$$

$$\frac{1}{\pi} - \frac{1}{\cancel{2}}e^{-\cancel{2}} \quad (۲)$$

$$\frac{1}{\pi} + \frac{1}{\cancel{4}}e^{-\cancel{2}} \quad (۱)$$

پاسخ: گزینه «۳» ابتدا مؤلفه‌های میدان برداری را به شکل مقابل تعریف می کنیم: $P = ax \sin(\pi y)$, $Q = x^{\cancel{2}} \cos(\pi y) + bye^{-z}$, $R = y^{\cancel{2}}e^{-z}$ حالا مقادیر مشتق مورد نظر را حساب می کنیم و شرایط پایستار بودن را نیز اعمال می کنیم:

$$\frac{\partial P}{\partial y} = ax\pi \cos \pi y, \frac{\partial Q}{\partial x} = \cancel{2}x \cos(\pi y) \Rightarrow \frac{\partial P}{\partial y} = \frac{\partial Q}{\partial x} \Rightarrow a = \frac{\cancel{2}}{\pi}$$

$$\frac{\partial Q}{\partial z} = -bye^{-z}, \frac{\partial R}{\partial y} = \cancel{2}ye^{-z} \Rightarrow \frac{\partial Q}{\partial z} = \frac{\partial R}{\partial y} \Rightarrow -bye^{-z} = \cancel{2}ye^{-z} \Rightarrow b = -\cancel{2}$$

پس F به صورت مقابل قابل نمایش است:

$$\vec{F} = \underbrace{\frac{\cancel{2}}{\pi} x \sin(\pi y)}_P \vec{i} + \underbrace{(x^{\cancel{2}} \cos \pi y - \cancel{2}ye^{-z})}_Q \vec{j} + \underbrace{(y^{\cancel{2}}e^{-z})}_R \vec{k}$$

برای محاسبه‌ی تابع پتانسیل داریم:

$$f = \int \frac{\cancel{2}}{\pi} x \sin(\pi y) dx + \int (-\cancel{2}ye^{-z}) dy + \int \circ dz = \frac{x^{\cancel{2}}}{\pi} \sin \pi y - y^{\cancel{2}}e^{-z}$$

چون میدان پایستار است، بنابراین داریم:

$$\int_C \vec{F} \cdot d\vec{r} = f(1, \frac{1}{\cancel{2}}, \cancel{2}) - f(\circ, \circ, \circ) = \frac{1}{\pi} \times \sin \frac{\pi}{\cancel{2}} - (\frac{1}{\cancel{2}})^{\cancel{2}} e^{-\cancel{2}} - \circ = \frac{1}{\pi} - \frac{1}{\cancel{4}e^{\cancel{2}}}$$

کله مثال ۵: اگر $f(x,y) = \ln(x^2 + y^2)$ و C دایره $x^2 + y^2 = a^2$ باشد، آن گاه حاصل $I = \oint_C \vec{\nabla} f \cdot \vec{n} ds$ برابر با کدام گزینه است؟

- (۱) ۰ (۲) 2π (۳) 4π (۴) -2π

پاسخ: گزینه «۳» ابتدا $\vec{\nabla} f$ را حساب می‌کنیم (توجه کنید که $\vec{\nabla} f$ همان \vec{F} می‌باشد).

$$\vec{F} = \vec{\nabla} f = \vec{\nabla} \ln(x^2 + y^2) = \frac{2x}{x^2 + y^2} \vec{i} + \frac{2y}{x^2 + y^2} \vec{j}$$

$$\int_C \vec{F} \cdot \vec{n} ds = \oint_C P dy - Q dx = 2 \int \frac{-y}{x^2 + y^2} dx + \frac{x}{x^2 + y^2} dy$$

با توجه به مطالب گفته شده حاصل انتگرال فوق برابر با 2π است و چون عدد 2 در پشت انتگرال ضرب می‌شود، جواب سؤال 4π است.

کله مثال ۶: کار انجام شده توسط میدان نیرویی به صورت $\vec{F}(x,y) = y^2 \vec{i} + (2xy) \vec{j}$ از مبدأ تا نقطه $(1,1)$ بر مسیر دلخواه C کدام است؟ (مکانیک - سراسری ۷۸)

- (۱) ۱ (۲) ۲ (۳) ۳ (۴) ۴

پاسخ: گزینه «۱» چون $\frac{\partial}{\partial x}(2xy) = \frac{\partial}{\partial y}(y^2) = 2y$ ، بنابراین میدان \vec{F} پایستار است و تابع پتانسیل آن $f(x,y) = xy^2$ می‌باشد. در نتیجه:

$$\int_C \vec{F} \cdot d\vec{r} = f(1,1) - f(0,0) = 1$$

کله مثال ۷: حاصل $\int_C (y+z)dx + (z+x)dy + (x+y)dz$ که در آن منحنی C دایره‌ای به معادلات $x^2 + y^2 + z^2 = a^2$ و $x+y+z=0$ باشد، کدام

(صنایع - سیستم - سراسری ۷۹)

است؟

- (۱) ۰ (۲) $\frac{1}{2}$ (۳) ۱ (۴) $\frac{3}{2}$

پاسخ: گزینه «۱» قرار می‌دهیم $\vec{F} = (y+z, z+x, x+y)$ ، میدان \vec{F} یک میدان پایستار است ($\text{curl} \vec{F} = 0$) و با توجه به اینکه مسیر C نیز یک

مسیر بسته است پس حاصل انتگرال موردنظر برابر صفر است.

کله مثال ۸: مقدار $I = \int_C e^y dx + xe^y dy$ بر روی نیم‌دایره $y = \sqrt{1-x^2}$ در جهت مثلثاتی کدام است؟ (هسته‌ای - سراسری ۷۹)

- (۱) -۲ (۲) -۱ (۳) ۱ (۴) ۲

پاسخ: گزینه «۱» ابتدا توجه کنید که داریم:

$$\frac{\partial}{\partial x}(xe^y) = e^y, \quad \frac{\partial}{\partial y}(e^y) = e^y$$

بنابراین میدان پایستار است و تابع پتانسیل آن $f(x,y) = xe^y$ می‌باشد. از طرفی نیم‌دایره $y = \sqrt{1-x^2}$ از نقطه $(1,0)$ آغاز و به نقطه $(-1,0)$ ختم

می‌شود، بنابراین داریم: $I = \int_C e^y dx + xe^y dy = f(-1,0) - f(1,0) = -1 - 1 = -2$

کله مثال ۹: به ازای کدام مقادیر a و b ، انتگرال $\int_A^B (2axz + y^2) dx + y(bx + az) dy + (ax^2 + y^2) dz$ مستقل از مسیر است؟

(نقشه‌برداری - سراسری ۸۹ و عمران - سراسری ۸۰)

- (۱) $a = b = 1$ (۲) $a = b = 2$ (۳) $a = 1, b = 2$ (۴) $a = 2, b = 1$

پاسخ: گزینه «۲» برای اینکه انتگرال مستقل از مسیر باشد، لازم است $\text{curl} \vec{F} = 0$ ، بنابراین داریم:

$$\text{curl} \vec{F} = \begin{vmatrix} \vec{i} & \vec{j} & \vec{k} \\ \frac{\partial}{\partial x} & \frac{\partial}{\partial y} & \frac{\partial}{\partial z} \\ 2axz + y^2 & bxy + azy & ax^2 + y^2 \end{vmatrix} = (2y - ay, 2ax - 2ax, by - 2y) = (0, 0, 0)$$

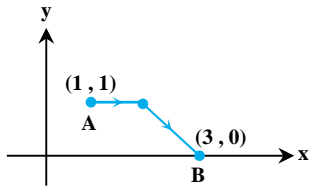
از معادله فوق نتیجه می‌شود $a = b = 2$.



کله مثال ۱۰: اگر $f(x,y) = 2x^2 + xy + y^2$ در این صورت مقدار انتگرال $\int_C \vec{\nabla}f(X).dX$ ، که در آن C منحنی زیر از نقطه‌ی A تا نقطه‌ی B

(کامپیوتر - سراسری ۸۰)

می‌باشد، برابر است با:



(۱) ۱۴

(۲) صفر

(۳) ۱۸

(۴) ۱

پاسخ: گزینه «۱» انتگرال داده شده برابر کار میدان پایستار $\vec{\nabla}f$ روی مسیر C می‌باشد. چون میدان پایستار است، بنابراین انتگرال مستقل از مسیر

$$I = \int_C \vec{\nabla}f(X).dX = f(3,0) - f(1,1) = 18 - 4 = 14$$

می‌باشد و تابع پتانسیل آن برابر f است. بنابراین داریم:

کله مثال ۱۱: اگر C نیم‌دایره‌ی $x^2 + y^2 = 1$ ، $y \geq 0$ که در جهت عقربه‌های ساعت جهت‌گذاری شده است در این صورت مقدار انتگرال

(کامپیوتر - سراسری ۸۰)

$$\int_C (x^2 + y^2)dx + 2xydy$$

برابر است با:

(۴) -۲

(۳) ۲

(۲) $-\frac{2}{3}$

(۱) $\frac{2}{3}$

پاسخ: گزینه «۱» ابتدا توجه کنید که داریم:

$$\frac{\partial}{\partial x}(2xy) = 2y, \quad \frac{\partial}{\partial y}(x^2 + y^2) = 2y$$

بنابراین انتگرال داده شده مستقل از مسیر است و به سادگی می‌توان نشان داده تابع پتانسیل آن به صورت $f(x,y) = xy^2 + \frac{x^3}{3}$ می‌باشد. از طرفی

$$I = \int_C (x^2 + y^2)dx + 2xydy = f(1,0) - f(-1,0) = \frac{2}{3}$$

نقطه $(-1,0)$ نقطه آغاز خم C و نقطه $(1,0)$ انتهای خم C می‌باشد. بنابراین داریم:

کله مثال ۱۲: اگر منحنی C مربع $(0,0)$ ، $(1,0)$ ، $(1,1)$ و $(0,1)$ باشد که در جهت مثلثاتی جهت‌گذاری شده است در این صورت مقدار انتگرال

(کامپیوتر - سراسری ۸۰)

$$\int_C e^x \sin y dx + e^x \cos y dy$$

برابر است با:

(۴) صفر

(۳) 2π

(۲) π

(۱) $\frac{\pi}{2}$

پاسخ: گزینه «۴»

$$\frac{\partial}{\partial x}(e^x \cos y) = e^x \cos y, \quad \frac{\partial}{\partial y}(e^x \sin y) = e^x \cos y$$

بنابراین میدان پایستار می‌باشد و چون مسیر داده شده یک مسیر بسته است، پس مقدار انتگرال برابر صفر است.

کله مثال ۱۳: مقدار $\oint_C (x+y)dx + (x-y)dy$ که در آن C یک خم به معادلات پارامتری $x = \frac{t}{1+t}$ و $y = \frac{1}{1+t}$ ، $0 \leq t \leq 2$ باشد، برابر کدام است؟

(مکانیک - سراسری ۸۱)

(۴) $\frac{2}{3}$

(۳) $\frac{5}{18}$

(۲) $\frac{8}{9}$

(۱) $-\frac{8}{9}$

پاسخ: گزینه «۲» ابتدا توجه کنید که $\frac{\partial}{\partial y}(x+y) = \frac{\partial}{\partial x}(x-y) = 1$. بنابراین انتگرال مستقل از مسیر می‌باشد. تابع پتانسیل میدان

$$I = f(B) - f(A) = f\left(\frac{2}{3}, \frac{1}{3}\right) - f\left(0, 1\right) = \frac{8}{9}$$

مربور $f = \frac{x^2}{2} + xy - \frac{y^2}{2}$ می‌باشد. از طرفی دو سر خم C ، $A(0,1)$ و $B(\frac{2}{3}, \frac{1}{3})$ می‌باشد. بنابراین داریم:

کلمه مثال ۱۴: مقدار انتگرال خط $\int_C (2xy^2 - y^2 \cos x) dx + (1 - 2y \sin x + 3x^2 y^2) dy$ که در آن C سهمی $2x = \pi y^2$ از نقطه $(0,0)$ تا نقطه $(\frac{\pi}{4}, 1)$

(عمران - سراسری ۸۱)

می‌باشد، کدام است؟

(۱) $\frac{\pi^2}{12}$ (۲) $\frac{\pi^2}{8}$ (۳) $\frac{\pi^2}{4}$ (۴) $\frac{\pi^2}{2}$

پاسخ: گزینه «۳» ابتدا توجه کنید که داریم:

$$\frac{\partial}{\partial x} (1 - 2y \sin x + 3x^2 y^2) = -2y \cos x + 6xy^2$$

$$\frac{\partial}{\partial y} (2xy^2 - y^2 \cos x) = 4xy - 2y \cos x$$

بنابراین انتگرال مستقل از مسیر می‌باشد و تابع پتانسیل آن به صورت $f = y - y^2 \sin x + x^2 y^2$ می‌باشد.

$$I = \int_C (2xy^2 - y^2 \cos x) dx + (1 - 2y \sin x + 3x^2 y^2) dy = f\left(\frac{\pi}{4}, 1\right) - f(0, 0) = \frac{\pi^2}{4}$$

(عمران - آزاد ۸۱)

کلمه مثال ۱۵: اگر $\vec{F} = (e^x \cos y + yz)\vec{i} + (xz - e^x \sin y)\vec{j} + (xy + z)\vec{k}$ باشد. f را پیدا کنید به طوری که $\vec{F} = \nabla f$ باشد.

(۱) $f(x, y, z) = e^x \cos y + z + c$ (۲) $f(x, y, z) = e^x \cos y + xyz + \frac{z^2}{2} + c$

(۳) $f(x, y, z) = e^x \sin y + xyz + c$ (۴) $f(x, y, z) = e^x \sin y + \frac{z^2}{2} + c$

پاسخ: گزینه «۲» اگر \vec{F} را به صورت $\vec{F} = F_x \vec{i} + F_y \vec{j} + F_z \vec{k}$ در نظر بگیریم، آن‌گاه تابع پتانسیل f از فرمول زیر به دست می‌آید.

$$f(x, y, z) = \int (e^x \cos y + yz) dx + \int (0) dy + \int z dz = e^x \cos y + xyz + \frac{z^2}{2} + c$$

بنابراین داریم:

کلمه مثال ۱۶: اگر C قسمتی از منحنی $y = (1+x)^2$ باشد که نقطه $(-1, 0)$ را به نقطه $(0, 1)$ وصل می‌کند، مقدار انتگرال $\int_C (1 + 2xy) dx + x^2 dy$ برابر

(MBA - سراسری ۸۱)

است با:

(۱) $\frac{1}{2}$ (۲) صفر (۳) ۱ (۴) -۱

پاسخ: گزینه «۳» ابتدا توجه کنید که داریم:

$$\frac{\partial}{\partial y} (1 + 2xy) = 2x, \quad \frac{\partial}{\partial x} (x^2) = 2x$$

بنابراین میدان پایستار است و انتگرال مستقل از مسیر می‌باشد، تابع پتانسیل $f(x, y) = x + x^2 y$ می‌باشد.

$$\int_C (1 + 2xy) dx + x^2 dy = f(0, 1) - f(-1, 0) = 0 - (-1) = 1$$

(چون داریم: $f(x, y) = \int (1 + 2xy) dx = x + x^2 y$ بنابراین داریم:

کلمه مثال ۱۷: به ازای کدام مقدار a ، حاصل انتگرال $\int_{(1,2)}^{(3,4)} (6xy^2 - y^2) dx + (ax^2 y - 3xy^2) dy$ بستگی به مسیر ندارد؟

(معدن - سراسری ۸۱)

(۱) ۳ (۲) هر مقدار a (۳) ۶ (۴) هیچ مقدار a

پاسخ: گزینه «۳» برای اینکه انتگرال مستقل از مسیر باشد، لازم است $\text{curl} \vec{F} = 0$. و چون میدان \vec{F} دو متغیره است، کافی است $\frac{\partial F_y}{\partial x} = \frac{\partial F_x}{\partial y}$ یعنی داریم:

$$2axy - 3y^2 = 12xy - 3y^2 \Rightarrow 2a = 12 \Rightarrow a = 6$$

کلمه مثال ۱۸: اگر C نیم‌دایره‌ی بالائی $x^2 + y^2 = 1$ باشد، که در خلاف جهت عقربه‌های ساعت پیموده می‌شود، مقدار انتگرال خطی $\int_C 2xy dx + x^2 dy$

(ریاضی - سراسری ۸۱)

چیست؟

(۱) صفر (۲) $\frac{1}{2}$ (۳) ۱ (۴) ۲

پاسخ: گزینه «۱» چون $\frac{\partial}{\partial y} (2xy) = \frac{\partial}{\partial x} (x^2) = 2x$ ، بنابراین میدان داده شده پایستار است و تابع پتانسیل آن $f(x, y) = x^2 y$ می‌باشد. از طرفی

$$\int_C 2xy dx + x^2 dy = f(B) - f(A) = 0 - 0 = 0$$

نقاط ابتدایی و انتهایی مسیر $A(1, 0)$ و $B(-1, 0)$ می‌باشند، بنابراین داریم:



کج مثال ۱۹: مقدار $\int_{(2,0)}^{(0,2)} (-2x + 2y)dx + (3x + 2y)dy$ روی مسیری به معادله $\frac{x^2}{4} + \frac{y^2}{9} = 1$ واقع در ربع اول صفحه مختصات کدام است؟

(مکانیک - سراسری ۸۲)

- (۱) ۱۳ (۲) ۵ (۳) -۱۳ (۴) -۵

پاسخ: گزینه «۱» چون $\frac{\partial}{\partial x}(-2x + 2y) = \frac{\partial}{\partial y}(3x + 2y) = 3$ پس انتگرال مستقل از مسیر می‌باشد و تابع پتانسیل مربوط به آن

$$\int_{(2,0)}^{(0,2)} (-2x + 2y)dx + (3x + 2y)dy = f(0,2) - f(2,0) = 9 - (-4) = 13$$

در نتیجه داریم: $f = -x^2 + 3xy + y^2$

کج مثال ۲۰: اگر تابع اسکالر f در شرط $\vec{\nabla}f = (2x - \frac{y}{x})\vec{i} + \frac{1}{x}\vec{j}$ صدق کند و $f(1,1) = 4$ باشد، حاصل $f(2,2)$ کدام است؟ (صنایع - سیستم - آزاد ۸۳)

- (۱) ۳ (۲) ۵ (۳) ۷ (۴) ۹

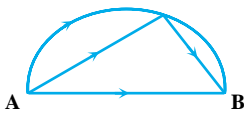
پاسخ: گزینه «۳» ابتدا تابع پتانسیل را به دست می‌آوریم:

$$f = \int (2x - \frac{y}{x})dx = x^2 + \frac{y}{x} + c$$

$$f(x, y) = x^2 + \frac{y}{x} + c$$

از رابطه $f(1,1) = 4$ مقدار $c = 2$ به دست می‌آید. در نتیجه داریم: $f(x, y) = x^2 + \frac{y}{x} + 2 \Rightarrow f(2,2) = 4 + 1 + 2 = 7$

کج مثال ۲۱: نقطه اثر نیروی $\vec{F} = z^2\vec{i} + 2y\vec{j} + 2xz\vec{k}$ در طول منحنی C از نقطه $A(0,1,1)$ به نقطه $B(1,2,3)$ نقل مکان می‌کند، کار انجام شده در کدام مسیر: «نیم‌دایره - خط شکسته - خط راست» کمتر است؟ (MBA - سراسری ۸۳)



- (۱) نیم‌دایره
(۲) خط شکسته
(۳) خط راست
(۴) در هر سه مسیر برابر است.

پاسخ: گزینه «۴» میدان \vec{F} پایستار می‌باشد ($\text{curl}\vec{F} = 0$). بنابراین کار انجام شده مستقل از مسیر می‌باشد.

کج مثال ۲۲: مقدار $\oint_C 2xydx + (x^2 + y^2)dy$ وقتی C بیضی به معادله $4x^2 + 9y^2 = 36$ باشد، کدام است؟ (ریاضی - سراسری ۸۳)

- (۱) ۶ (۲) ۴ (۳) ۲ (۴) صفر

پاسخ: گزینه «۴» میدان داده شده پایستار می‌باشد و منحنی C یک مسیر بسته می‌باشد، بنابراین مقدار انتگرال موردنظر برابر صفر است.

کج مثال ۲۳: انتگرال خطی $I = \int_{(1,4)}^{(3,1)} 2xy^2dx + (1 + 3x^2y^2)dy$ برابر است با: (مکانیک - سراسری ۸۴)

- (۱) ۴۵ (۲) -۵۸ (۳) ۲۸ (۴) -۳۲

پاسخ: گزینه «۲» چون $\frac{\partial}{\partial y}(2xy^2) = \frac{\partial}{\partial x}(1 + 3x^2y^2) = 6xy^2$

$$I = f(3,1) - f(1,4) = 10 - 68 = -58$$

است. در نتیجه داریم:

کج مثال ۲۴: به ازای کدام مقدار a انتگرال منحنی الخط $\int_C z^2dx + 2ydy + axzdz$ بر روی منحنی بسته C به معادله $(x+y+z=2, x^2+y^2=1)$ برابر صفر است؟ (عمران - آزاد ۸۴)

- (۱) -۲ (۲) ۲ (۳) -۱ (۴) ۱

پاسخ: گزینه «۲» برای اینکه انتگرال روی مسیر بسته برابر صفر باشد، کافی است $\text{curl}\vec{F} = 0$ باشد:

$$\text{curl}\vec{F} = \begin{vmatrix} \vec{i} & \vec{j} & \vec{k} \\ \frac{\partial}{\partial x} & \frac{\partial}{\partial y} & \frac{\partial}{\partial z} \\ z^2 & 2y & axz \end{vmatrix} = (0, 2z - az, 0) = (0, 0, 0) \Rightarrow a = 2$$

مثال ۲۵: کار انجام شده توسط نیروی $\vec{F} = y\vec{i} + (x+z)\vec{j} + y\vec{k}$ در تمام محیط بیضی فصل مشترک استوانه $x^2 + y^2 = 4$ با صفحه $z = 3 + 2x$ کدام است؟

- (۱) صفر (۲) ۴ (۳) ۶ (۴) ۱۲

پاسخ: گزینه «۱» میدان \vec{F} پایستار می‌باشد و چون مسیر یک منحنی بسته است، پس کار انجام شده برابر صفر است.

$$\text{curl}\vec{F} = \begin{vmatrix} \vec{i} & \vec{j} & \vec{k} \\ \frac{\partial}{\partial x} & \frac{\partial}{\partial y} & \frac{\partial}{\partial z} \\ y & x+z & y \end{vmatrix} = (1-1)\vec{i} - (0+0)\vec{j} + (1-1)\vec{k} = \vec{0}$$

مثال ۲۶: λ باید کدامیک از مقادیر زیر باشد تا انتگرال $\int_A^B (z^2 dx + 2y dy + \lambda xz dz)$ از مسیر انتگرال‌گیری مستقل باشد؟ (عمران - سراسری ۸۳ و ۸۵)

- (۱) $\lambda = 0$ (۲) $\lambda = -1$ (۳) $\lambda = 1$ (۴) $\lambda = 2$

پاسخ: گزینه «۴» قرار می‌دهیم: $\vec{F} = (z^2, 2y, \lambda xz)$. برای مستقل بودن انتگرال داده شده از مسیر، لازم است $\text{curl}\vec{F} = \vec{0}$. بنابراین داریم:

$$\text{curl}\vec{F} = \begin{vmatrix} \vec{i} & \vec{j} & \vec{k} \\ \frac{\partial}{\partial x} & \frac{\partial}{\partial y} & \frac{\partial}{\partial z} \\ z^2 & 2y & \lambda xz \end{vmatrix} = (0, 2z - \lambda z, 0) \xrightarrow{\text{curl}\vec{F}=\vec{0}} \lambda z = 2z \Rightarrow \lambda = 2$$

مثال ۲۷: رابطه میان ثابت‌های حقیقی a و b و c چگونه باشد تا میدان برداری $\vec{F}(x, y, z) = (ay^2 + 2czx)\vec{i} + y(bx + cz)\vec{j} + (ay^2 + cx^2)\vec{k}$ پایستار باشد؟

- (۱) $a = b = c$ (۲) $a = b = -c$ (۳) $2a = b = c$ (۴) $2a = b = -c$

پاسخ: گزینه «۳» برای پایستار بودن میدان \vec{F} ، لازم است $\text{curl}\vec{F} = \vec{0}$. بنابراین داریم:

$$\text{curl}\vec{F} = \begin{vmatrix} \vec{i} & \vec{j} & \vec{k} \\ \frac{\partial}{\partial x} & \frac{\partial}{\partial y} & \frac{\partial}{\partial z} \\ ay^2 + 2czx & bxy + cyz & ay^2 + cx^2 \end{vmatrix} = (2ay - cy, 2cx - 2cx, by - 2ay)$$

از نتیجه $\text{curl}\vec{F} = \vec{0}$ نتیجه می‌شود $2a = b = c$.

مثال ۲۸: حاصل $\int (x^2 y \cos x + 2xy \sin x) dx + x^2 \sin x dy$ در امتداد منحنی به معادله $x^2 + y^2 = 1$ کدام است؟ (ریاضی - سراسری ۸۵)

- (۱) صفر (۲) ۱ (۳) ۲ (۴) ۳

پاسخ: گزینه «۱» ابتدا توجه کنید که داریم: $P(x, y) = x^2 y \cos x + 2xy \sin x \Rightarrow \frac{\partial P}{\partial y} = x^2 \cos x + 2x \sin x$

$$Q(x, y) = x^2 \sin x \Rightarrow \frac{\partial Q}{\partial x} = 2x \sin x + x^2 \cos x$$

چون $\frac{\partial P}{\partial y} = \frac{\partial Q}{\partial x}$ بنابراین میدان داده شده پایستار (باقی) می‌باشد و مسیر موردنظر نیز بسته است، پس مقدار انتگرال موردنظر برابر صفر است.

مثال ۲۹: انتگرال منحنی الخط $\oint (x + 2xy) dx + (x^2 - y) dy$ بر روی منحنی $6 = 2x^2 + 2y^2$ ، کدام است؟ (MBA - سراسری ۸۵)

- (۱) ۰ (۲) ۳ (۳) ۴ (۴) ۶

پاسخ: گزینه «۱» ابتدا توجه کنید که داریم: $P(x, y) = x + 2xy \Rightarrow \frac{\partial P}{\partial y} = 2x$ ، $Q(x, y) = x^2 - y \Rightarrow \frac{\partial Q}{\partial x} = 2x$

بنابراین میدان پایستار است و چون مسیر داده شده بسته است، پس مقدار انتگرال برابر صفر است.

کله مثال ۳۰: اگر C خم ساده بسته بیضی $\frac{x^2}{a^2} + \frac{y^2}{b^2} = 1$ در جهت مثلثاتی باشد، آن گاه انتگرال روی خم $\oint_C (3x^2 - y)dx + (4y^2 - x)dy$ برابر است با:

(هسته‌ای - سراسری ۸۵)

- (۱) $-ab$ (۲) ab (۳) $7ab$ (۴) $(a^3 + b^3)$

پاسخ: گزینه «۱» قرار می‌دهیم: $P = 3x^2 - y$ و $Q = 4y^2 - x$. چون $\frac{\partial P}{\partial y} = \frac{\partial Q}{\partial x} = -1$ ، پس میدان پایستار می‌باشد و چون مسیر C بسته است،

پس حاصل انتگرال برابر صفر است.

کله مثال ۳۱: حاصل $I = \oint_C 2xyz^2 dx + x^2 z^2 dy + 2x^2 yz^2 dz$ ، که در آن C فصل مشترک استوانه $x^2 + y^2 = 4$ با صفحه به معادله $x + 2z = 0$ باشد،

(MBA - سراسری ۸۶)

کدام است؟

- (۱) 4 (۲) 8 (۳) $\frac{5\pi}{2}$ (۴) $\frac{\pi}{2}$

پاسخ: گزینه «۱» به راحتی واضح است میدان پایستار و در نتیجه مستقل از مسیر است و چون C یک منحنی بسته است، حاصل انتگرال صفر

است. $\frac{\partial P}{\partial y} = \frac{\partial Q}{\partial x} = 2xz^2$ ، $\frac{\partial P}{\partial z} = \frac{\partial R}{\partial x} = 4xyz^2$ ، $\frac{\partial Q}{\partial z} = \frac{\partial R}{\partial y} = 2x^2 z^2$

(معدن - سراسری ۸۶)

کله مثال ۳۲: اگر $C: x^2 + y^2 = r^2$ در جهت مثبت، آن گاه حاصل $\oint_C \frac{-ydx}{x^2 + y^2} + \frac{xdy}{x^2 + y^2}$ برابر است با:

- (۱) صفر (۲) π (۳) 2π (۴) $2\pi r$

پاسخ: گزینه «۳»

روش اول: منحنی C را می‌توان به صورت پارامتری $\alpha(t) = (r \cos t, r \sin t)$ ، در نظر گرفت، در این صورت:

$$\alpha'(t) = (-r \sin t, r \cos t) \Rightarrow \vec{F}(\alpha(t)) = \left(\frac{-r \sin t}{r^2}, \frac{r \cos t}{r^2} \right) \Rightarrow \vec{F}(\alpha(t)) \cdot \alpha'(t) = 1 \Rightarrow \int_C \frac{-ydx}{x^2 + y^2} + \frac{xdy}{x^2 + y^2} = \int_0^{2\pi} 1 dt = 2\pi$$

روش دوم: طبقه متن کتاب انتگرال موردنظر روی هر مسیر بسته‌ای که شامل مبدأ باشد، برابر 2π است.

(صنایع - سیستم - سراسری ۸۶)

کله مثال ۳۳: کدام میدان پایستار است؟

(۱) $\vec{F}(x, y) = y\vec{i} - x\vec{j}$ (۲) $\vec{F}(x, y) = 2xy\vec{i} + xy^2\vec{j}$

(۳) $\vec{F}(x, y) = (3 + 2xy)\vec{i} + (x^2 - 2y^2)\vec{j}$ (۴) $\vec{F}(x, y) = (x^2 + y^2)\vec{i} + (x^2 + y^2)\vec{j}$

پاسخ: گزینه «۳» $P(x, y) = 3 + 2xy$ ، $Q(x, y) = x^2 - 2y^2 \Rightarrow \frac{\partial P}{\partial y} = 2x$ ، $\frac{\partial Q}{\partial x} = 2x$

کله مثال ۳۴: اگر بدانیم که مقدار انتگرال $\int_C (x + 2y + az)dx + (bx - 3y - z)dy + (4x + cy + 2z)dz$ مستقل از مسیر است، مقدار $a + b + c$ کدام

(ریاضی - سراسری ۸۷)

است؟

- (۱) -5 (۲) 4 (۳) 5 (۴) 6

پاسخ: گزینه «۳»

$$\text{curl } \vec{F} = \begin{vmatrix} \vec{i} & \vec{j} & \vec{k} \\ \frac{\partial}{\partial x} & \frac{\partial}{\partial y} & \frac{\partial}{\partial z} \\ x + 2y + az & bx - 3y - z & 4x + cy + 2z \end{vmatrix} = 0 \Rightarrow c + 1 = 0, a - 4 = 0, b - 2 = 0 \Rightarrow a + b + c = 5$$

مثال ۳۵: به ازای کدام مقدار m ، میدان برداری $\vec{F}(x,y,z) = (3x^2 + y^2)\vec{i} + mxy\vec{j} - 3z^2\vec{k}$ یک میدان پایستار است؟ (ریاضی - سراسری ۸۷)

- (۱) -2 (۲) -1 (۳) 1 (۴) 2

پاسخ: گزینه «۴» برای اینکه میدان پایستار باشد، لازم است $\text{curl}\vec{F} = 0$ باشد، بنابراین داریم:

$$\text{curl}\vec{F} = \begin{vmatrix} \vec{i} & \vec{j} & \vec{k} \\ \frac{\partial}{\partial x} & \frac{\partial}{\partial y} & \frac{\partial}{\partial z} \\ 3x^2 + y^2 & mxy & -3z^2 \end{vmatrix} = (0-0)\vec{i} + (0-0)\vec{j} + (my - 2y)\vec{k} = 0 \Rightarrow m = 2$$

مثال ۳۶: فرض کنید $\vec{F}(x,y,z) = (e^x \cos y + ayz)\vec{i} + (axz + be^x \sin y)\vec{j} + (cxy + az)\vec{k}$. بازنه چه مقادیری از a ، b و c مقدار انتگرال $\int \vec{F} \cdot d\vec{R}$ مستقل از مسیر است؟ (مکانیک - سراسری ۸۷)

- (۱) $a = b = c = -1$ (۲) $a = b = c = 1$ (۳) $a = b = -1, c = 1$ (۴) $a = c = -1, b = 1$

پاسخ: گزینه «۱» برای اینکه انتگرال موردنظر مستقل از مسیر باشد، لازم است $\text{curl}\vec{F} = 0$ باشد، بنابراین داریم:

$$\text{curl}\vec{F} = \begin{vmatrix} \vec{i} & \vec{j} & \vec{k} \\ \frac{\partial}{\partial x} & \frac{\partial}{\partial y} & \frac{\partial}{\partial z} \\ e^x \cos y + ayz & axz + be^x \sin y & cxy + az \end{vmatrix} = (cx - ax)\vec{i} + (ay - cy)\vec{j} + (b+1)e^x \sin y \vec{k}$$

بنابراین لازم است $a = c$ و $b = -1$ باشد. که تنها گزینه (۱) می‌تواند صحیح باشد.

مثال ۳۷: مقدار $\int_C x^2 dx - y^2 dy$ از نقطه $(-1,0)$ تا $(1,0)$ روی منحنی C به معادله $x^2 + y^2 = 1$ ($y \geq 0$) برابر است با: (ریاضی - سراسری ۸۸)

- (۱) $\frac{3}{2}$ (۲) $\frac{2}{3}$ (۳) 0 (۴) $\frac{1}{5}$

پاسخ: گزینه «۲» قرار می‌دهیم $\vec{F} = (x^2, -y^2)$ ، واضح است که میدان \vec{F} ابقایی است. (زیرا $\frac{\partial(-y^2)}{\partial x} = \frac{\partial(x^2)}{\partial y} = 0$) و تابع پتانسیل آن

$$\int_C x^2 dx - y^2 dy = \left(\frac{x^3}{3} - \frac{y^3}{3} \right) \Big|_{(-1,0)}^{(1,0)} = \frac{2}{3}$$

می‌باشد. پس داریم: $f(x,y) = \frac{x^3}{3} - \frac{y^3}{3}$

مثال ۳۸: اگر منحنی C نشان‌دهنده قسمت بالایی دایره $x^2 + y^2 = 1$ باشد، آنگاه مقدار $\int_C \cos x \cosh y dx + \sin x \sinh y dy$ کدام است؟ (جهت حرکت بر روی C جهت مثلثاتی است.) (ریاضی - سراسری ۸۸)

- (۱) $-2 \sin 1$ (۲) $2 \sin 1$ (۳) $2 \cos 1$ (۴) $2 \cosh 1$

پاسخ: گزینه «۱» قرار می‌دهیم $\vec{F} = (\cos x \cosh y, \sin x \sinh y)$ ، در این صورت میدان \vec{F} یک میدان پایستار (ابقایی) می‌باشد، زیرا داریم:

$$\frac{\partial F_y}{\partial x} = \cos x \sinh y, \quad \frac{\partial F_x}{\partial y} = \cos x \sinh y$$

و تابع پتانسیل آن برابر $f(x,y) = \sin x \cosh y$ می‌باشد. با توجه به اینکه نقاط ابتدایی و انتهایی نیم‌دایره بالایی $A(1,0)$ و $B(-1,0)$ است، لذا داریم:

$$\int_C \cos x \cosh y dx + \sin x \sinh y dy = \sin x \cosh y \Big|_{(1,0)}^{(-1,0)} = -2 \sin 1$$



مثال ۳۹: فرض کنید $\vec{F} = (z^3 + 2xy)\vec{i} + x^2z\vec{j} + 3xz^2\vec{k}$ ، اگر C مرز مستطیل با رأس‌های $(+1, \pm 1, 0)$ و $(0, \pm 1, 1)$ پیموده شده در جهت مثلثاتی از دیدگاه چشم ناظر واقع مبدأ باشد، آن‌گاه مقدار انتگرال روی منحنی $\oint_C \vec{F} \cdot d\vec{R}$ کدام است؟ (مکانیک - سراسری ۸۹)

- (۱) $\frac{2}{3}$ (۲) -2 (۳) 2 (۴) 0

پاسخ: گزینه «۴» با توجه به این‌که $\text{curl } \vec{F} = 0$ می‌باشد، پس میدان برداری \vec{F} یک میدان ابقایی (پایستار) است و چون مسیر بسته است پس مقدار انتگرال برابر صفر است.

$$\text{curl } \vec{F} = \begin{vmatrix} \vec{i} & \vec{j} & \vec{k} \\ \frac{\partial}{\partial x} & \frac{\partial}{\partial y} & \frac{\partial}{\partial z} \\ z^3 + 2xy & x^2 & 3xz^2 \end{vmatrix} = (0-0)\vec{i} - (3z^2 - 3z^2)\vec{j} + (2x - 2x)\vec{k} = 0$$

مثال ۴۰: مقدار انتگرال $\int_C (2x \cos y - 3)dx - (x^2 \sin y + z^2)dy - (2yz - 2)dz$ از نقطه $A(-1, 0, 2)$ تا نقطه $B(1, \pi, 0)$ چقدر است؟ (C خط به معادله

(معدن - سراسری ۸۹)

$$t = \frac{x+1}{2} = \frac{y}{\pi} = \frac{z-2}{-3} \text{ می‌باشد.}$$

- (۱) -14 (۲) -7 (۳) 7 (۴) 14

پاسخ: گزینه «۱» قرار می‌دهیم $\vec{F} = (2x \cos y - 3, -(x^2 \sin y + z^2), -(2yz - 2))$ در این صورت:

$$\text{curl } \vec{F} = \begin{vmatrix} \vec{i} & \vec{j} & \vec{k} \\ \frac{\partial}{\partial x} & \frac{\partial}{\partial y} & \frac{\partial}{\partial z} \\ 2x \cos y - 3 & -(x^2 \sin y + z^2) & -(2yz - 2) \end{vmatrix} = (-2z + 2z)\vec{i} - (0, 0)\vec{j} + (-2x \sin y + 2x \sin y)\vec{k} = \vec{0}$$

چون $\text{curl } \vec{F} = 0$ است، پس انتگرال مستقل از مسیر است، تابع پتانسیل میدان برداری \vec{F} برابر $f(x, y, z) = x^2 \cos y - 3x - yz^2 + 2z$ می‌باشد،

$$\int_C \vec{F} \cdot d\vec{R} = f(B) - f(A) = (x^2 \cos y - 3x - yz^2 + 2z) \Big|_A^B = -14 \text{ بنابراین داریم:}$$

مثال ۴۱: مقدار انتگرال $\int_C 2xyz dx + x^2 z dy + x^2 y dz$ در امتداد منحنی C از نقطه $A(1, 1, 1)$ تا نقطه $B(1, 2, 4)$ برابر است با:

(تاریخ و فلسفه علم - سراسری ۸۹)

- (۱) 7 (۲) 5 (۳) -5 (۴) -7

پاسخ: گزینه «۱» قرار می‌دهیم $\vec{F} = 2xyz\vec{i} + x^2z\vec{j} + x^2y\vec{k}$ ، در این صورت داریم:

$$\text{curl } \vec{F} = \begin{vmatrix} \vec{i} & \vec{j} & \vec{k} \\ \frac{\partial}{\partial x} & \frac{\partial}{\partial y} & \frac{\partial}{\partial z} \\ 2xyz & x^2z & x^2y \end{vmatrix} = (x^2 - x^2)\vec{i} - (2xy - 2xy)\vec{j} + (2xz - 2xz)\vec{k} = \vec{0}$$

چون کرل میدان برداری \vec{F} برابر صفر است، پس میدان پایستار است، تابع پتانسیل میدان \vec{F} برابر $f(x, y, z) = x^2yz$ می‌باشد. بنابراین داریم:

$$\int_C 2xyz dx + x^2 z dy + x^2 y dz = f(B) - f(A) = [x^2yz]_{(1,1,1)}^{(1,2,4)} = 8 - 1 = 7$$

مثال ۴۲: هرگاه منحنی C ، دایره‌ای به مرکز مبدا مختصات و به شعاع $\varepsilon > 0$ پیموده شده در جهت مثبت باشد، حاصل $\oint_C \frac{xdy - ydx}{x^2 + y^2}$ کدام است؟ (مواد - سراسری ۹۰)

- (۱) -2π (۲) $-\pi$ (۳) 2π (۴) 4π

پاسخ: گزینه «۳» در متن کتاب اشاره شد که حاصل این انتگرال همواره برابر 2π است.

درسنامه ۴: قضیه گرین

مثال ۱: فرض کنید C مرز مستطیل $z=3$ ، $0 \leq y \leq 1$ و $0 \leq x \leq \pi$ است که در جهت مثلثاتی در نظر گرفته شده است. مقدار انتگرال

$$\int_C \sin z dx - \cos x dy + \sin y dz$$

کدام است؟

- (۱) ۱ (۲) ۴ (۳) ۲ (۴) $\frac{3}{2}$

پاسخ: گزینه «۳» چون خم داده شده در صفحه‌ی $z=3$ قرار دارد، $dz=0$ است و در نتیجه انتگرال را می‌توان به صورت $\int_C (\sin 3) dx - \cos x dy$ نوشت.

حال از قضیه‌ی گرین استفاده می‌کنیم:

$$\int_C (\sin 3) dx - \cos x dy = \iint_D (\sin 3 - 0) dA = \int_0^1 \int_0^\pi \sin 3 dx dy = \int_0^1 dy \int_0^\pi \sin 3 dx = 2$$

مثال ۲: حاصل $I = \int_C x dy - y dx$ که در آن C بیضی $y^2 = 4x - 4x^2$ (در جهت مثبت) است، کدام است؟

- (۱) ۰ (۲) $\frac{\pi}{2}$ (۳) π (۴) 2π

پاسخ: گزینه «۳» ابتدا توجه کنید که C یک بیضی با معادله‌ی استاندارد زیر است:

$$y^2 + 4x^2 - 4x = 0 \Rightarrow y^2 + 4(x^2 - x) = 0 \Rightarrow y^2 + 4(x - \frac{1}{2})^2 = 1 \Rightarrow y^2 + \frac{(x - \frac{1}{2})^2}{\frac{1}{4}} = 1$$

$$\int_C x dy - y dx = \iint_D (\frac{\partial Q}{\partial x} - \frac{\partial P}{\partial y}) dA = \iint_D (1 - (-1)) dx dy = \iint_D 2 dx dy = 2 \times (D \text{ مساحت ناحیه})$$

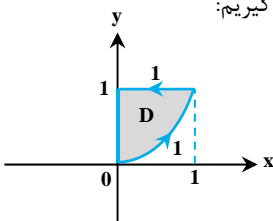
با استفاده از قضیه گرین داریم:

اما مساحت ناحیه D و یا به عبارت دیگر مساحت بیضی فوق $\frac{\pi}{4} = \pi \times 1 \times \frac{1}{4}$ است و لذا حاصل انتگرال $2 \times \frac{\pi}{4} = \pi$ می‌شود.

مثال ۳: فرض کنید C منحنی طی شده از مبدأ به نقطه‌ی $(1,1)$ در امتداد منحنی $y = x^2$ و سپس از نقطه‌ی $(1,1)$ به نقطه‌ی $(0,1)$ در امتداد خط $y=1$ و در نهایت از نقطه‌ی $(0,1)$ به مبدأ در امتداد خط $x=0$ باشد، در صورتی که $\vec{F} = (x + xy^2)\vec{i} + 2(x^2y - y^2 \sin y)\vec{j}$ ، آن‌گاه حاصل $I = \int_C \vec{F} \cdot d\vec{r}$ کدام است؟

- (۱) ۰ (۲) $\frac{1}{2}$ (۳) $\frac{1}{3}$ (۴) $\frac{1}{6}$

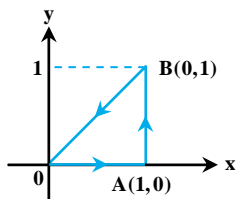
پاسخ: گزینه «۳» با ترسیم ناحیه مرز C به شکل مقابل است؛ چون مسیر بسته است، لذا از قضیه‌ی گرین کمک می‌گیریم:



$$I = \iint_D (\frac{\partial Q}{\partial x} - \frac{\partial P}{\partial y}) dA = \iint_D (4xy - 2xy) dA = 2 \int_0^1 \int_{y=x^2}^{y=1} xy dy dx = 2 \int_0^1 [xy^2]_x^1 dx$$

$$= \int_0^1 (x - x^5) dx = [\frac{x^2}{2} - \frac{x^6}{6}]_0^1 = \frac{1}{2} - \frac{1}{6} = \frac{1}{3}$$

کلمه مثال ۴: اگر C خم شکل زیر باشد، حاصل انتگرال $\oint_C y\sqrt{x^2+y^2}dx + xdy$ کدام است؟



$$1 + \frac{\sqrt{2}}{3} \quad (۲)$$

$$\frac{2}{2} - \frac{\sqrt{2}}{3} \quad (۱)$$

$$\frac{1}{2} + \frac{\sqrt{2}}{3} \quad (۴)$$

$$\frac{2}{2} + \frac{\sqrt{2}}{3} \quad (۳)$$

پاسخ: گزینه «۳» خُب اگر بخواهیم از قضیه‌ی شما کمک بگیریم! برای حل این سؤال ابتدا با تعریف $P = y\sqrt{x^2+y^2}$ و $Q = x$ ، خواهیم داشت:

$$\frac{\partial Q}{\partial x} = 1, \quad \frac{\partial P}{\partial y} = \sqrt{x^2+y^2} + \frac{2y}{2\sqrt{x^2+y^2}} \times y = \sqrt{x^2+y^2} + \frac{y^2}{\sqrt{x^2+y^2}} \Rightarrow \frac{\partial Q}{\partial x} - \frac{\partial P}{\partial y} = 1 - \frac{x^2+2y^2}{\sqrt{x^2+y^2}}$$

خُب با توجه به ناحیه‌ی داده شده و تابع به دست آمده فکر می‌کنم انتگرال‌گیری دوگانه کمی سخت باشد!

می‌خواهیم انتگرال مقابل را روی مثلث فوق به دست آوریم، با توجه به تابع تحت انتگرال از تغییر مختصات قطبی استفاده می‌کنیم، در این صورت داریم:

$$\text{دقت کنید ناحیه مثلثی به صورت } (0 \leq \theta \leq \frac{\pi}{4}, 0 \leq r \leq \sec \theta)$$

$$\iint_D \left(1 - \frac{x^2+2y^2}{\sqrt{x^2+y^2}}\right) dx dy = \iint_D \left(1 - \frac{r^2+r^2 \sin^2 \theta}{r}\right) r dr d\theta = \int_0^{\frac{\pi}{4}} \int_0^{\sec \theta} (r-r^2-r^2 \sin^2 \theta) dr d\theta = \int_0^{\frac{\pi}{4}} \left(\frac{r^2}{2} - \frac{r^3}{3} - \frac{r^3}{3} \sin^2 \theta\right) \Big|_0^{\sec \theta} d\theta$$

$$= \int_0^{\frac{\pi}{4}} \left(\frac{1}{2} \sec^2 \theta - \frac{1}{3} \sec^3 \theta - \frac{1}{3} \sec^3 \theta \sin^2 \theta\right) d\theta = \int_0^{\frac{\pi}{4}} \left[\frac{1}{2} \sec^2 \theta - \frac{1}{3} \sec^3 \theta - \frac{1}{3} \sec^3 \theta (1 - \cos^2 \theta)\right] d\theta$$

$$= \int_0^{\frac{\pi}{4}} \left(\frac{1}{2} \sec^2 \theta - \frac{2}{3} \sec^3 \theta + \frac{1}{3} \sec \theta\right) d\theta = \left[\frac{1}{2} \operatorname{tg} \theta - \frac{2}{3} \left(\frac{1}{2} \sec \theta \operatorname{tg} \theta + \frac{1}{2} \operatorname{Ln} |\sec \theta + \operatorname{tg} \theta|\right) + \frac{1}{3} \operatorname{Ln} |\sec \theta + \operatorname{tg} \theta|\right]_0^{\frac{\pi}{4}} = \left[\frac{1}{2} \operatorname{tg} \theta - \frac{1}{3} \sec \theta \operatorname{tg} \theta\right]_0^{\frac{\pi}{4}}$$

$$= \frac{1}{2} \times \operatorname{tg} \frac{\pi}{4} - \frac{1}{3} \times \frac{1}{\cos(\frac{\pi}{4})} \times \operatorname{tg} \left(\frac{\pi}{4}\right) - 0 = \frac{1}{2} - \frac{2}{3 \times \sqrt{2}} = \frac{1}{2} - \frac{\sqrt{2}}{3}$$

حل سؤال با انتگرال روی منحنی و پارامتری‌سازی:

$$OA: \vec{C}_1(t) = t\vec{i}, \quad AB: \vec{C}_2(t) = \vec{i} + t\vec{j}, \quad OB: \vec{C}_3(t) = t\vec{i} + t\vec{j}$$

به راحتی داریم:

$$\vec{C}_1(t): dx = dt, dy = 0, \quad \vec{C}_2(t): dx = 0, dy = dt, \quad \vec{C}_3(t): dx = dt, dy = dt$$

$$\Rightarrow \int_C \vec{F} \cdot d\vec{r} = \int_0^1 (0 \times dx + 0) + \int_0^1 dt + \int_0^1 t\sqrt{2t} dt + \int_0^1 t dt = [t]_0^1 + \sqrt{2} \left[\frac{t^3}{3}\right]_0^1 + \left[\frac{t^2}{2}\right]_0^1 = 1 - \frac{\sqrt{2}}{3} - \frac{1}{2} = \frac{1}{2} - \frac{\sqrt{2}}{3}$$

بنابراین داریم:

کلمه مثال ۵: میدان برداری $\vec{F} = (y, 2x + \operatorname{tg}(y))$ را در صفحه‌ی xy در نظر بگیرید و خم C را مرز ناحیه‌ی محدود

$D = \{(x, y) \mid 0 \leq x \leq 2, 0 \leq y \leq 2, (x-2)^2 + (y-2)^2 \geq 1\}$ که در جهت مثلثانی جهت‌گذاری شده است، در نظر بگیرید. حاصل $\int_C \vec{F} \cdot d\vec{r}$ کدام است؟

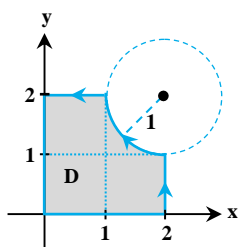
(از سؤالات ریاضی عمومی ۲ دانشگاه Harvard)

$$2 - \frac{\pi}{2} \quad (۴)$$

$$4 - \frac{\pi}{4} \quad (۳)$$

$$4 - \frac{\pi}{2} \quad (۲)$$

$$2 + \frac{\pi}{2} \quad (۱)$$



پاسخ: گزینه «۳» با توجه به ناحیه D داده شده شکل به صورت مقابل است، با توجه به این که مسیر بسته

است، لذا از قضیه‌ی گرین کمک می‌گیریم:

$$I = \iint_D \left(\frac{\partial Q}{\partial x} - \frac{\partial P}{\partial y}\right) dA = \iint_D (2-1) dA = \iint_D dA = D \text{ مساحت ناحیه}$$

اما مساحت ناحیه D برابر با مقدار زیر است:

$$D \text{ مساحت ناحیه} = (\text{مساحت دایره‌ای به شعاع } 1) - \frac{1}{4} \times (\text{مساحت مربعی به ضلع } 2) = 2 \times 2 - \frac{1}{4} \times \pi \times 1 = 4 - \frac{\pi}{4}$$

توضیح: استفاده از روش پارامتری‌سازی به محاسبات طولانی منجر خواهد شد و این مثال هم از آن مثال‌هایی است که می‌تواند ارزش قضیه گرین را مشخص کند!

مثال ۶: چرخش بردار $\vec{V} = \frac{x}{1+x^2+y^2} \vec{i} + \frac{y}{1+x^2+y^2} \vec{j}$ در طول منحنی C به معادله $x^2 + y^2 - 2x = 1$ کدام است؟

- (۱) π (۲) 2π (۳) 4π (۴) 8π

پاسخ: گزینه «۱» با تعریف $\vec{V} = P\vec{i} + Q\vec{j}$ داریم: $P = \frac{x}{1+x^2+y^2} \Rightarrow \frac{\partial P}{\partial y} = \frac{-2yx}{(1+x^2+y^2)^2}$, $Q = \frac{y}{1+x^2+y^2} \Rightarrow \frac{\partial Q}{\partial x} = \frac{-2xy}{(1+x^2+y^2)^2}$ می‌دانیم چرخش برابر با $\int_C \vec{V} \cdot d\vec{r}$ است که چون منحنی C دایره‌ی $(x-1)^2 + y^2 = 2$ است، لذا از قضیه گرین داریم:

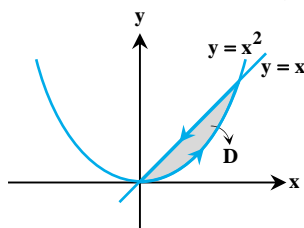
$$\int_C \vec{V} \cdot d\vec{r} = \iint_D \left(\frac{\partial Q}{\partial x} - \frac{\partial P}{\partial y} \right) dx dy = 0$$

دقت کنید \vec{V} در تمام نقاط پیوسته است و بنابراین می‌توانیم از قضیه‌ی گرین استفاده کنیم.

مثال ۷: حاصل انتگرال خط $\int_C [(\arctg \frac{y}{x}) dy - dx]$ که در آن C منحنی بسته حاصل از تقاطع $y = x^2$ و $y = x$ می‌باشد، کدام است؟

- (۱) $\frac{\pi}{4} + 1$ (۲) $\frac{\pi}{4}$ (۳) $\frac{\pi}{4} - 1$ (۴) $\frac{\pi}{2}$

پاسخ: گزینه «۳» چون مسیر بسته است از قضیه گرین استفاده می‌کنیم. ناحیه‌ی درون C را با D نشان می‌دهیم:



$$\begin{cases} Q = \text{Arctg} \frac{y}{x} \Rightarrow \frac{\partial Q}{\partial x} = \frac{-y}{x^2 + y^2} = \frac{-y}{x^2 + y^2} \\ P = -1 \Rightarrow \frac{\partial P}{\partial y} = 0 \end{cases} \Rightarrow \frac{\partial Q}{\partial x} - \frac{\partial P}{\partial y} = \frac{-y}{x^2 + y^2}$$

$$\text{حاصل انتگرال} = \iint_D \left(\frac{\partial Q}{\partial x} - \frac{\partial P}{\partial y} \right) dA = \iint_D \frac{-y}{x^2 + y^2} dA = \int_0^1 \int_{x^2}^x \left(\frac{-y}{x^2 + y^2} \right) dy dx$$

$$= \int_0^1 \left[\frac{-1}{2} \text{Ln}(x^2 + y^2) \right]_{x^2}^x dx = \frac{-1}{2} \int_0^1 [\text{Ln}(2x^2) - \text{Ln}(x^2 + x^4)] dx$$

تابع زیر انتگرال به این صورت ساده‌تر می‌شود: $\text{Ln}(2x^2) - \text{Ln}(x^2 + x^4) = \text{Ln}\left(\frac{2x^2}{x^2 + x^4}\right) = \text{Ln}\left(\frac{2}{1+x^2}\right) = \text{Ln}2 - \text{Ln}(1+x^2)$ پس داریم:

$$\text{حاصل انتگرال} = \frac{-1}{2} \int_0^1 [\text{Ln}2 - \text{Ln}(1+x^2)] dx = \frac{-1}{2} [x \text{Ln}2 - x \text{Ln}(1+x^2) + 2x - 2 \text{Arctg}x]_0^1 = \frac{\pi}{4} - 1$$

توضیح: برای حل انتگرال $\int \text{Ln}(1+x^2) dx$ از روش جزء به جزء استفاده کردیم، به این شکل که $u = \text{Ln}(1+x^2)$ و $dv = dx$ پس $du = \frac{2x}{1+x^2} dx$ و $v = x$ است.

$$\begin{aligned} \int \text{Ln}(1+x^2) dx &= x \text{Ln}(1+x^2) - \int \frac{2x^2}{1+x^2} dx = x \text{Ln}(1+x^2) - 2 \int \frac{1+x^2-1}{1+x^2} dx \\ &= x \text{Ln}(1+x^2) - 2 \int \left(1 - \frac{1}{1+x^2} \right) dx = x \text{Ln}(1+x^2) - 2x + 2 \text{Arctg}x \end{aligned}$$

مثال ۸: اگر C مرز منحنی بسته‌ی محدود به سهمی‌های $y = x^2$ و $y = x(2-x)$ باشد که در جهت مثلثاتی پیموده شده است، آن‌گاه حاصل

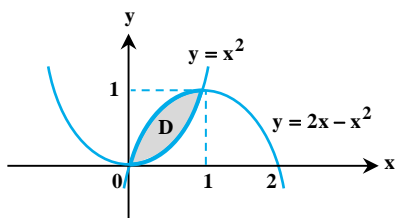
$$I = \oint_C x^2 y^2 dx + (10-x-y) dy$$

- (۱) $-\frac{7}{60}$ (۲) $-\frac{7}{13}$ (۳) $-\frac{7}{15}$ (۴) $-\frac{7}{30}$

پاسخ: گزینه «۳» ابتدا نقاط تلاقی دو سهمی را حساب می‌کنیم:

$$\begin{cases} y = x^2 \\ y = x(2-x) \end{cases} \Rightarrow x^2 = x(2-x) \Rightarrow x^2 = 2x - x^2 \Rightarrow 2x^2 - 2x = 0 \Rightarrow x = 0, x = 1$$

در واقع نمودار زیر را داریم و چون منحنی بسته است، حاصل انتگرال خط را با استفاده از قضیه‌ی گرین حساب می‌کنیم:



$$\begin{aligned} I &= \iint_D [(-1) - (2x^2 y)] dA = - \int_0^1 \int_{y=x^2}^{y=2x-x^2} (2x^2 y + 1) dy dx = - \int_0^1 [x^2 y^2 + y]_{x^2}^{2x-x^2} dx \\ &= - \int_0^1 [(x^2(2x-x^2))^2 + 2x-x^2] - (x^2 \times x^4 + x^2) dx \\ &= - \int_0^1 [x^2(4x^2 + x^4 - 4x^3) + 2x - x^2 - x^6 - x^2] dx = - \int_0^1 (4x^4 - 4x^5 + 2x - 2x^2) dx \\ &= - \left[\frac{4x^5}{5} - \frac{4x^6}{6} + x^2 - \frac{2x^3}{3} \right]_0^1 = - \left[\frac{4}{5} - \frac{2}{3} + 1 - \frac{2}{3} \right] = - \left(\frac{12-10+15-10}{15} \right) = - \frac{7}{15} \end{aligned}$$

مثال ۹: حاصل انتگرال $\oint_C (2y^2 + 2xe^{y^2})dx + (2x^2ye^{y^2})dy$ در صورتی که C مرز متوازی الاضلاعی به رئوس $(0,0)$ ، $(2,0)$ ، $(3,1)$ و $(1,1)$ باشد

که در خلاف جهت حرکت عقربه‌های ساعت پیموده شده است، کدام است؟

(۴) -۱۲

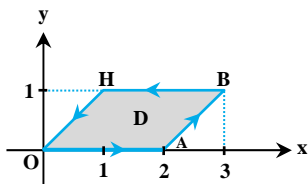
(۳) ۱۲

(۲) ۶

(۱) -۶

پاسخ: گزینه «۱» مرز C ، مرز متوازی الاضلاع شکل مقابل است:

با توجه به این که مسیر بسته است، بنابراین می‌توانیم از قضیه‌ی گرین استفاده کنیم. اگر دقت کنید ناحیه نسبت به محور y ها نامنظم است و برای رفع این مشکل ابتدا لازم است معادله‌ی خطوط OH و AB تعیین شوند:



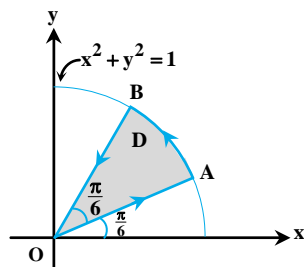
$$OH \text{ معادله‌ی خط } \Rightarrow y - 0 = \frac{1-0}{1-0}(x-0) \Rightarrow y = x \Rightarrow x = y$$

$$AB \text{ معادله‌ی خط } \Rightarrow y - 0 = \frac{1-0}{3-2}(x-2) \Rightarrow y = x - 2 \Rightarrow x = y + 2$$

و با توجه به این که کران‌های y هم از ۰ تا ۱ تغییر می‌کنند، بنابراین داریم:

$$I = \iint_D \left(\frac{\partial Q}{\partial x} - \frac{\partial P}{\partial y} \right) dx dy = \int_{y=0}^{y=1} \int_{x=y}^{x=y+2} (-6y) dx dy = \int_0^1 [-6xy]_y^{y+2} dy = \int_0^1 -12y dy = [-6y^2]_0^1 = -6$$

مثال ۱۰: انتگرال منحنی الخط $\oint_C -xy^2 dx + x^2y dy$ را که در آن C مرز ناحیه قطاعی D (مرز ناحیه هاشورخورده) می‌باشد، چقدر است؟



(۱) ۰

(۲) $\frac{1}{2}$

(۳) $\frac{1}{8}$

(۴) $\frac{1}{4}$

پاسخ: گزینه «۴» با توجه به بسته بودن منحنی C ، واضح است بهترین روش حل استفاده از قضیه گرین است: لذا با فرض $P = -xy^2$ و $Q = x^2y$ آن‌گاه

$$\oint_C [(-xy^2)dx + x^2y dy] = \iint_D \left(\frac{\partial Q}{\partial x} - \frac{\partial P}{\partial y} \right) dx dy = \iint_D [2xy - (-2xy)] dx dy = \iint_D (4xy) dx dy \quad \text{و بنابراین داریم: } \frac{\partial Q}{\partial x} = 2xy \text{ و } \frac{\partial P}{\partial y} = -2xy$$

با توجه به منحنی داده شده، برای محاسبه‌ی انتگرال دوگانه بهتر است از مختصات قطبی استفاده کنیم. توجه کنید مطابق شکل داده شده معادله‌ی منحنی

اصلی به صورت $x^2 + y^2 = 1$ است، ناحیه فوق را می‌توان به شکل مقابل نوشت:

$$x^2 + y^2 \leq 1 \Rightarrow r^2 \leq 1 \Rightarrow 0 \leq r \leq 1, \quad \frac{\pi}{6} \leq \theta \leq \frac{\pi}{3}$$

و لذا انتگرال به صورت زیر بازنویسی می‌شود:

$$\begin{aligned} \iint_D 4xy dx dy &= 4 \int_{\frac{\pi}{6}}^{\frac{\pi}{3}} \int_0^1 (r \cos \theta)(r \sin \theta) r dr d\theta = 4 \int_{\frac{\pi}{6}}^{\frac{\pi}{3}} \int_0^1 (r^3 \sin \theta \cos \theta) dr d\theta = 4 \int_{\frac{\pi}{6}}^{\frac{\pi}{3}} (\sin \theta \cos \theta) d\theta \left[\frac{r^4}{4} \right]_0^1 = 4 \int_{\frac{\pi}{6}}^{\frac{\pi}{3}} \left(\frac{1}{4} \sin 2\theta \right) d\theta \times \left(\frac{1}{4} \right) \\ &= \int_{\frac{\pi}{6}}^{\frac{\pi}{3}} \left(\frac{1}{4} \sin 2\theta \right) d\theta = \frac{1}{4} \int_{\frac{\pi}{6}}^{\frac{\pi}{3}} \sin 2\theta d\theta = \frac{1}{4} \left[-\frac{1}{2} \cos 2\theta \right]_{\frac{\pi}{6}}^{\frac{\pi}{3}} = -\frac{1}{4} \cos \left(2 \times \frac{\pi}{3} \right) + \frac{1}{4} \cos \left(2 \times \frac{\pi}{6} \right) = -\frac{1}{4} \left(-\frac{1}{2} \right) + \frac{1}{4} \left(\frac{1}{2} \right) = \frac{1}{8} + \frac{1}{8} = \frac{1}{4} \end{aligned}$$

کلمه مثال ۱۱ (سخت): فرض کنید C اجتماع نمودار تابع $r = \theta$ ($0 \leq \theta \leq 2\pi$) و پاره خط از $(0,0)$ تا $(2\pi, 0)$ در صفحه‌ی xoy است. انتگرال میدان برداری $\vec{F} = -y^2 \vec{i} + x^2 \vec{j}$ در صورتی که C در جهت مثلثاتی طی شده باشد، کدام است؟

$24\pi^5$ (۴)

$12\pi^4$ (۳)

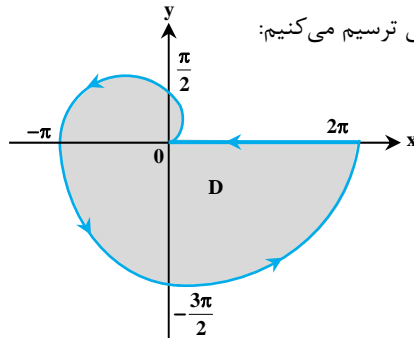
$\frac{24\pi^5}{5}$ (۲)

$\frac{12\pi^4}{5}$ (۱)

پاسخ: گزینه «۲» ابتدا منحنی قطبی را با روش نقطه‌یابی ترسیم می‌کنیم:

θ	0	$\frac{\pi}{2}$	π	$\frac{3\pi}{2}$	2π
r	0	$\frac{\pi}{2}$	π	$\frac{3\pi}{2}$	2π

(دقت کنید $r = \theta$ است)



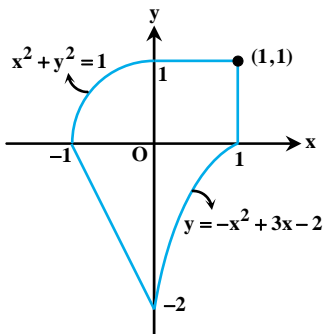
بنابراین ناحیه D به صورت $0 \leq \theta \leq 2\pi$ و $0 \leq r \leq \theta$ می‌باشد. (توجه داشته باشید که پاره خط از $(0,0)$ تا $(2\pi, 0)$ جزء منحنی قطبی $r = \theta$ نیست و شکل بالا از اجتماع این پاره خط با نمودار منحنی قطبی $r = \theta$ حاصل شده است.) از طرفی چون منحنی بسته است، لذا برای محاسبه‌ی انتگرال خط می‌توانیم از قضیه گرین کمک بگیریم:

$$I = \oint_C \vec{F} \cdot d\vec{r} = \oint_C -y^2 dx + x^2 dy = \iint_D \left(\frac{\partial(x^2)}{\partial x} - \frac{\partial(-y^2)}{\partial y} \right) dx dy = 2 \iint_D (x^2 + y^2) dx dy$$

$$\Rightarrow I = 2 \int_0^{2\pi} \int_0^\theta r^2 \cdot r dr d\theta = 2 \int_0^{2\pi} \left[\frac{r^4}{4} \right]_0^\theta d\theta = \frac{2}{4} \int_0^{2\pi} \theta^4 d\theta = \frac{1}{2} \left[\frac{\theta^5}{5} \right]_0^{2\pi} = \frac{1}{2} \times \frac{(2\pi)^5}{5} = \frac{24\pi^5}{5}$$

کلمه مثال ۱۲ (سخت): اگر C منحنی شکل زیر در جهت مثبت باشد،

آن‌گاه کار انجام شده به وسیله‌ی نیروی $\vec{F} = (y + \cos y - y \sin x) \vec{i} + (2x + \cos x - x \sin y) \vec{j}$ کدام است؟

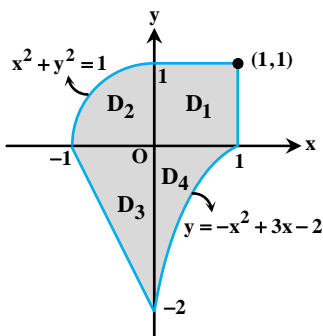


$\frac{\pi}{4} + \frac{17}{3}$ (۱)

$\frac{\pi}{4} + \frac{17}{6}$ (۲)

$\frac{\pi}{2} + \frac{17}{6}$ (۳)

$\frac{\pi}{2} + \frac{17}{3}$ (۴)



پاسخ: گزینه «۲» ابتدا ناحیه داده شده را به چهار قسمت به شکل مقابل

تقسیم می‌کنیم که هر چهار منحنی بسته هستند و بنابراین برای به‌دست آوردن انتگرال خط می‌توانیم از قضیه گرین کمک بگیریم:

$$I = \int_C \vec{F} \cdot d\vec{r} = \int_{C_1} \vec{F} \cdot d\vec{r} + \int_{C_2} \vec{F} \cdot d\vec{r} + \int_{C_3} \vec{F} \cdot d\vec{r} + \int_{C_4} \vec{F} \cdot d\vec{r}$$

اما قبل از استفاده از قضیه گرین بهتر است $\frac{\partial Q}{\partial x} - \frac{\partial P}{\partial y}$ را محاسبه کنیم:

$$\frac{\partial Q}{\partial x} - \frac{\partial P}{\partial y} = (2 - \sin x - \sin y) - (1 - \sin y - \sin x) = 1$$

بنابراین حاصل انتگرال به صورت مقابل بازنویسی می‌شود:

می‌دانیم حاصل انتگرال $\iint_D dx dy$ ، برابر با مساحت ناحیه D است، و چون سه انتگرال اول شکل‌هایی هستند که مساحت آن‌ها معلوم است، بنابراین لازم

به انتگرال‌گیری نیست و همان عدد مساحت شکل‌های مربوطه را به جای این انتگرال‌ها وارد می‌کنیم، اما در مورد انتگرال چهارم باید حاصل انتگرال به روش انتگرال‌گیری حساب شود:

$$I = (\text{مساحت ناحیه } D_1) + (\text{مساحت ناحیه } D_2) + (\text{مساحت ناحیه } D_3) + \int_0^1 \int_{-x^2+3x-2}^0 dy dx = 1 \times 1 + \frac{1}{4}(\pi \times 1^2) + \frac{1}{2}(1 \times 2) + \int_0^1 (x^2 - 3x + 2) dx$$

$$\Rightarrow I = 1 + \frac{\pi}{4} + 1 + \left[\frac{x^3}{3} - 3\left(\frac{x^2}{2}\right) + 2x \right]_0^1 = 2 + \frac{\pi}{4} + \frac{1}{3} - \frac{3}{2} + 2 = \frac{\pi}{4} + \frac{17}{6}$$



مثال ۱۳: اگر C مرز ناحیه محدود به منحنی‌های $y = x + 1$ ، $y = 1$ ، و $xy = 2$ باشد که در جهت مثلثاتی جهت‌دار شده است، آن‌گاه حاصل

$$I = \oint_C (x^2 y dx + \frac{x}{y^2} dy)$$

کدام است؟

$$\frac{1}{4} - \ln 2 \quad (۴)$$

$$\frac{1}{3} - \ln 2 \quad (۳)$$

$$\frac{2}{3} - \ln 2 \quad (۲)$$

$$\frac{1}{4} - \ln 2 \quad (۱)$$

پاسخ: گزینه «۳» با توجه به این که منحنی بسته است، بهتر است از قضیه‌ی گرین کمک بگیریم:

$$\left. \begin{aligned} P = x^2 y &\Rightarrow \frac{\partial P}{\partial y} = x^2 \\ Q = \frac{x}{y^2} &\Rightarrow \frac{\partial Q}{\partial x} = \frac{1}{y^2} \end{aligned} \right\} \Rightarrow \frac{\partial Q}{\partial x} - \frac{\partial P}{\partial y} = \frac{1}{y^2} - x^2$$

بنابراین حاصل انتگرال برابر با مقدار زیر است:

$$\begin{aligned} I &= \iint_D \left(\frac{\partial Q}{\partial x} - \frac{\partial P}{\partial y} \right) dx dy = \int_{y=1}^{y=2} \int_{x=y-1}^{\frac{2}{y}} \left(\frac{1}{y^2} - x^2 \right) dx dy = \int_1^2 \left[\frac{x}{y^2} - \frac{x^3}{3} \right]_{x=y-1}^{\frac{2}{y}} dy = \int_1^2 \left[\left(\frac{2}{y} - \frac{(2)^3}{3} \right) - \left(\frac{y-1}{y^2} - \frac{(y-1)^3}{3} \right) \right] dy \\ &= \int_1^2 \left[\frac{2}{y} - \frac{8}{3y} - \frac{y-1}{y^2} + \frac{(y-1)^3}{3} \right] dy = \int_1^2 \left[-\frac{2}{3} \left(\frac{1}{y} \right) - \frac{1}{y} + \frac{1}{y^2} + \frac{1}{3} (y-1)^3 \right] dy = \left[-\frac{1}{3y} - \ln y - \frac{1}{y} + \frac{1}{3} \left(\frac{(y-1)^4}{4} \right) \right]_1^2 \\ &= \left(-\frac{1}{3 \times 2} - \ln 2 - \frac{1}{2} + \frac{(2-1)^4}{12} \right) - \left(-\frac{1}{3} - \ln 1 - \frac{1}{1} + \frac{(1-1)^4}{12} \right) = \left(-\frac{1}{6} - \frac{1}{2} + \frac{1}{12} \right) - \left(-\frac{1}{3} - 1 \right) - \ln 2 = \frac{1-6+1-4+12}{12} - \ln 2 = \frac{4}{12} - \ln 2 = \frac{1}{3} - \ln 2 \end{aligned}$$

مثال ۱۴: اگر C خم محل برخورد خم‌های $xy = 1$ ، $xy = 4$ ، $x^2 - y^2 = 9$ و $x^2 - y^2 = 16$ برای $x \geq 0$ و $y \geq 0$ باشد، آن‌گاه حاصل انتگرال

$$I = \oint_C (e^y - y^2) dx + (x^2 + xe^y) dy$$

کدام است؟

$$۳۲ \quad (۴)$$

$$۳۱/۵ \quad (۳)$$

$$۳۱ \quad (۲)$$

$$۳۰/۵ \quad (۱)$$

پاسخ: گزینه «۳» این سؤال بیشتر یک سؤال انتگرال دوگانه و استفاده از تغییر متغیر در حل انتگرال می‌باشد و هدف از طراحی آن در این بخش آشنایی با فرم‌های مختلف انتگرال روی خط می‌باشد. با توجه به این که منحنی بسته است، لذا از قضیه‌ی گرین استفاده می‌کنیم:

$$\oint_C (e^y - y^2) dx + (x^2 + xe^y) dy = \iint_D \left(\frac{\partial Q}{\partial x} - \frac{\partial P}{\partial y} \right) dx dy$$

$$\frac{\partial Q}{\partial x} - \frac{\partial P}{\partial y} = 2x - (-2y) = 2(x + y)$$

در این سؤال $P = e^y - y^2$ و $Q = x^2 + xe^y$ و بنابراین خواهیم داشت:

بنابراین حاصل انتگرال خواسته شده در سؤال برابر با $I = 2 \iint_D (x + y) dx dy$ است، اما قسمت اصلی حل این سؤال از این جا به بعد است، چون ناحیه D نامنظم است، باید با استفاده از تغییر متغیر آن را منظم کنیم.

$$\begin{cases} xy = 1 \\ xy = 4 \end{cases} \Rightarrow u = xy, \quad 1 \leq u \leq 4, \quad \begin{cases} x^2 - y^2 = 9 \\ x^2 - y^2 = 16 \end{cases} \Rightarrow v = x^2 - y^2, \quad 9 \leq v \leq 16$$

$$\frac{1}{J} = \frac{\partial(u, v)}{\partial(x, y)} = \begin{vmatrix} \frac{\partial u}{\partial x} & \frac{\partial u}{\partial y} \\ \frac{\partial v}{\partial x} & \frac{\partial v}{\partial y} \end{vmatrix} = \begin{vmatrix} y & x \\ 2x & -2y \end{vmatrix} = -2y^2 - 2x^2 = -2(x^2 + y^2) \Rightarrow |J| = \frac{1}{2(x^2 + y^2)}$$

بنابراین خواهیم داشت:

$$I = 2 \iint_D (x + y) dx dy = 2 \int_1^4 \int_9^{16} (x + y) \frac{1}{2(x^2 + y^2)} du dv = \int_1^4 \int_9^{16} du dv = \int_1^4 [u]_9^{16} dv = \int_1^4 7 dv = \frac{7}{2} [v]_9^{16} = \frac{63}{2} = 31/5$$

کلمه مثال ۱۵: اگر C دایره‌ی $x^2 + y^2 = a^2$ باشد، آن‌گاه حاصل انتگرال خط $I = \oint_C \sqrt{1+x^2+y^2} dx + y(xy + \ln(x + \sqrt{1+x^2+y^2})) dy$ ، چند برابر π است؟

- (۱) $\frac{a^4}{2}$ (۲) $\frac{a^4}{4}$ (۳) $\frac{a^2}{4}$ (۴) $\frac{a^2}{2}$

پاسخ: گزینه «۲» با توجه به این که ناحیه بسته است، بهتر است از قضیه‌ی گرین استفاده کنیم (حتی یک درصد هم فکر پارامتری کردن منحنی و حل این تست با آن روش را نکنید! برای صرف نظر کردن از این روش بهتر است نگاهی به تابع زیر انتگرال کنید تا ببینید پس از جایگزینی $x = a \cos t$ و $y = a \sin t$ به چه انتگرال و حشتناکی می‌رسید! هر چند استفاده از قضیه‌ی گرین هم باعث نمی‌شود این انتگرال به سادگی حل شود، اما خیلی بهتر از روش پارامتری کردن است!) \checkmark خُب بهتر است سراغ حل سؤال برویم، با توجه به P و Q داریم:

$$P = \sqrt{1+x^2+y^2} \Rightarrow \frac{\partial P}{\partial y} = \frac{2y}{2\sqrt{1+x^2+y^2}} = \frac{y}{\sqrt{1+x^2+y^2}}$$

$$Q = y[xy + \ln(x + \sqrt{1+x^2+y^2})] \Rightarrow \frac{\partial Q}{\partial x} = (y + \frac{y}{x + \sqrt{1+x^2+y^2}})y \Rightarrow \frac{\partial Q}{\partial x} = (y + \frac{1}{\sqrt{1+x^2+y^2}})y$$

$$\Rightarrow \frac{\partial Q}{\partial x} - \frac{\partial P}{\partial y} = (y^2 + \frac{y}{\sqrt{1+x^2+y^2}}) - (\frac{y}{\sqrt{1+x^2+y^2}}) = y^2$$

$I = \iint_D (\frac{\partial Q}{\partial x} - \frac{\partial P}{\partial y}) dx dy = \iint_D y^2 dx dy$ بنابراین حاصل انتگرال برابر با مقدار مقابل است:

اما در تعیین حدود انتگرال دقت کنید که ناحیه انتگرال‌گیری دایره‌ی $x^2 + y^2 = a^2$ است و بنابراین بهتر است از مختصات قطبی استفاده کنیم:
 $x^2 + y^2 = r^2$, $0 \leq r \leq a$, $0 \leq \theta \leq 2\pi$

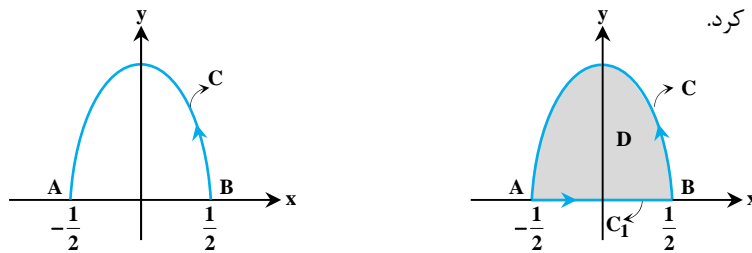
$$\iint_D y^2 dx dy = \int_0^{2\pi} \int_0^a (r \sin \theta)^2 (r dr d\theta) = \int_0^{2\pi} \sin^2 \theta d\theta \int_0^a r^3 dr = \int_0^{2\pi} \sin^2 \theta [\frac{r^4}{4}]_0^a = \frac{a^4}{4} \int_0^{2\pi} \sin^2 \theta d\theta = \frac{a^4}{4} [\frac{1}{2} \times 2\pi] = \frac{a^4}{4} (\pi)$$

دقت کنید در محاسبات پایانی از این نکته که «حاصل انتگرال $\int_0^{2\pi} \sin^2 \theta d\theta$ ، همواره نصف حد بالای انتگرال است» استفاده کردیم. در این سؤال حد بالا 2π بود و نصف آن $\frac{1}{2} \times 2\pi = \pi$ شد.

کلمه مثال ۱۶: اگر C نیمه بالایی بیضی $x^2 + y^2 = 1$ باشد که در جهت مثلثاتی طی شده است، آن‌گاه حاصل $I = \int_C (-xy) dx + (y^2 + 16) dy$ کدام است؟

- (۱) $\frac{1}{6}$ (۲) $\frac{1}{12}$ (۳) $\frac{1}{3}$ (۴) 0

پاسخ: گزینه «۴» همان‌طور که در شکل می‌بینید، منحنی بسته نیست (شکل سمت چپ) اما با اضافه کردن مسیر C_1 یعنی خط AB به مسیر C ، می‌توان C را به یک منحنی بسته تبدیل کرد.



$I = \int_C P dx + Q dy = \iint_D (\frac{\partial Q}{\partial x} - \frac{\partial P}{\partial y}) dx dy - \int_C P dx - Q dy = I_1 - I_2$ خُب، حالا می‌توانیم از قضیه‌ی گرین استفاده کنیم و داریم:

هر کدام از I_1 و I_2 را جداگانه حساب می‌کنیم:

$$I_1 = \iint_D (\frac{\partial Q}{\partial x} - \frac{\partial P}{\partial y}) dx dy = \iint_D [0 - (-x)] dx dy = \iint_D x dx dy = \int_{-1/2}^{1/2} \int_0^{\sqrt{1-4x^2}} x dy dx = \int_{-1/2}^{1/2} x \sqrt{1-4x^2} dx = 0$$

در قسمت آخر انتگرال تابعی فرد باید در بازه‌ای متقارن حساب شود که می‌دانیم همواره برابر با صفر است. حالا سراغ I_2 می‌رویم. معادله‌ی پارامتری خط AB به صورت $x = t, y = 0$ ، و همچنین $dx = dt$ و $dy = 0$ است، پس داریم: $I_2 = \int_{C_1} -xy dx + (y^2 + 16) dy = \int_{C_1} (-t)(0) dt + (0 + 16) \times 0 = 0$ پس مقدار I برابر با صفر است.



مثال ۱۷: اگر C دایره $x^2 + y^2 = a^2$ باشد، مقدار انتگرال خط $I = \oint_C \sqrt{1+x^2+y^2} dx + y[xy + \ln(x + \sqrt{1+x^2+y^2})] dy$ ، کدام است؟

(۱) $\frac{\pi a^4}{4}$ (۲) $-\frac{\pi a^4}{4}$ (۳) $-\frac{\pi a^2}{4}$ (۴) $\frac{\pi a^2}{4}$

پاسخ: گزینه «۲» اما در این مثال می‌توانیم از خاصیت نکته‌ی فوق استفاده کرده و محاسبات را ساده‌تر کنیم. همان‌طور که می‌بینید عبارت

$P = \sqrt{1+a^2} \Rightarrow \frac{\partial P}{\partial y} = 0$ زیرا انتگرال وجود دارد که برابر با a^2 است، بنابراین می‌توانیم مقدار a^2 را جایگزین آن کنیم:

$Q = y(xy + \ln(x + \sqrt{1+a^2})) \Rightarrow \frac{\partial Q}{\partial x} = y(y + \frac{1}{x + \sqrt{1+a^2}})$

$\frac{\partial Q}{\partial x} - \frac{\partial P}{\partial y} = y^2 + \frac{y}{x + \sqrt{1+a^2}}$

$I = \iint_D (y^2 + \frac{y}{x + \sqrt{1+a^2}}) dx dy \stackrel{(*)}{=} \iint_D y^2 dx dy = \int_0^{2\pi} \int_0^a r^2 \sin^2 \theta (r dr d\theta)$ حال از قضیه‌ی گرین استفاده می‌کنیم:

$\Rightarrow I = \int_0^{2\pi} \sin^2 \theta d\theta \times \int_0^a r^2 dr = \frac{1}{2} \int_0^{2\pi} (1 - \cos 2\theta) d\theta \times [\frac{r^3}{3}]_0^a = \frac{1}{2} [\theta - \frac{1}{2} \sin 2\theta]_0^{2\pi} \times \frac{a^3}{3} = \frac{\pi a^3}{3}$

توضیح: در قسمت (*) چون ناحیه نسبت به y زوج است و تابع $\frac{y}{x + \sqrt{1+a^2}}$ نسبت به y فرد است. لذا حاصل $\iint_D \frac{y}{x + \sqrt{1+a^2}} dx dy$ برابر با صفر می‌شود.

مثال ۱۸: مقدار انتگرال $\oint_C \frac{y^2 dx - xy^2 dy}{(x^2 + y^2)^2}$ ، که در آن C بیضی $x^2 + 3y^2 = 1$ می‌باشد، کدام است؟

(۱) $-\pi$ (۲) π (۳) 2π (۴) -2π

پاسخ: گزینه «۲» ابتدا توجه کنید که $\frac{\partial P}{\partial y} = \frac{\partial Q}{\partial x} = \frac{2xy^2 - y^4}{(x^2 + y^2)^2}$ و بنابراین می‌توان به جای خم C با معادله‌ی $x^2 + 3y^2 = 1$ ، برای راحتی در

محاسبات C را دایره $x^2 + y^2 = 1$ در نظر گرفت (با توجه به عبارت جلوی انتگرال) که به صورت پارامتری $\begin{cases} x = \cos t \\ y = \sin t \end{cases}$ درمی‌آید. بنابراین داریم:

$\oint_C \frac{y^2 dx - xy^2 dy}{(x^2 + y^2)^2} = \int_0^{2\pi} \frac{\sin^2 t (-\sin t) - \cos t \sin^2 t (-\cos t)}{(\cos^2 t + \sin^2 t)^2} dt$
 $= -\int_0^{2\pi} (\sin^4 t + \sin^2 t \cos^2 t) dt = -\int_0^{2\pi} \sin^2 t dt = -\pi$

سؤال دانشجو: چرا در این مثال از قضیه‌ی گرین استفاده نمی‌کنیم؟ اگر از آن استفاده کنیم حاصل انتگرال صفر می‌شود.
پاسخ: در این مثال، مخرج کسر در مبدأ صفر می‌شود و چون این نقطه درون مرز قرار دارد، پس نمی‌توانیم از قضیه گرین استفاده کنیم.

مثال ۱۹: شار برون سوی میدان $\vec{F} = (2xy - \frac{x}{1+y})\vec{i} + (e^x + tg^{-1}y)\vec{j}$ از دایره $r = a(1 + \cos \theta)$ ، $(a > 0)$ چقدر است؟

(۱) π (۲) $-\pi$ (۳) 2π (۴) 3π

پاسخ: گزینه «۱» ابتدا از قضیه دیورژانس در صفحه استفاده می‌کنیم و سپس از مختصات قطبی کمک می‌گیریم:

شار $= \iint_R (\frac{\partial P}{\partial x} + \frac{\partial Q}{\partial y}) dx dy = \iint_R 2y dx dy = 2 \int_0^{2\pi} \int_0^{a(1+\cos \theta)} r^2 \sin \theta dr d\theta = 2 \int_0^{2\pi} \frac{a^3}{3} (1 + \cos \theta)^3 \sin \theta d\theta = 0$

در انتگرال فوق با فرض $u = 1 + \cos \theta$ ، $du = -\sin \theta d\theta$ ، برای $\theta = 0$ و $\theta = 2\pi$ ، u برابر با ۲ است و لذا داریم: شار $= -3a^3 \int_2^2 u^2 du = 0$

مثال ۲۰: حاصل $\oint_C 2y dx + 4x dy$ وقتی C قوسی از سهمی $y = x^2$ از مبدأ تا نقطه $A(2, 4)$ و پاره خط واصل از نقطه‌ی A تا مبدأ باشد، کدام است؟

(هسته‌ای - سراسری ۷۸)

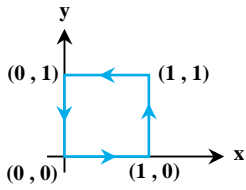
(۱) $\frac{2}{3}$ (۲) $\frac{3}{4}$ (۳) $\frac{4}{3}$ (۴) $\frac{1}{3}$

پاسخ: گزینه «۴» چون منحنی C بسته است، می‌توانیم از قضیه گرین استفاده کنیم:

$\int_C 2y dx + 4x dy = \iint_R (\frac{\partial}{\partial x}(4x) - \frac{\partial}{\partial y}(2y)) dA = \int_0^2 \int_{x^2}^{2x} 2 dy dx = \int_0^2 (4x - 2x^2) dx = \frac{1}{3}$

مثال ۲۱: با استفاده از قضیه‌ی Green مقدار انتگرال خطی $\oint_C [(e^{-x^2} + y^2)dx + (Lny - x^2)dy]$ را که در آن C مربع نشان داده شده است کدام

(مکانیک - سراسری ۸۰)



است؟

(۱) -۲

(۲) ۴

(۳) -۱۱

(۴) $3\text{Ln}2$

پاسخ: گزینه «۱» از قضیه گرین استفاده می‌کنیم:

$$I = \iint_D \left(\frac{\partial}{\partial x} (Lny - x^2) - \frac{\partial}{\partial y} (e^{-x^2} + y^2) \right) dA = -2 \int_0^1 \int_0^1 (x + y) dx dy = -2 \int_0^1 \left(\frac{1}{2} + y \right) dy = -2$$

مثال ۲۲: مقدار انتگرال $\oint_C (6y + x)dx + (y + 2x)dy$ که در آن C دایره $(x-2)^2 + (y-3)^2 = 4$ پیموده شده (یکبار) در جهت خلاف عقربه‌های

(عمران - سراسری ۸۰)

ساعت می‌باشد، کدام است؟

(۴) 32π

(۳) صفر

(۲) -4π

(۱) -16π

پاسخ: گزینه «۱» از قضیه گرین استفاده می‌کنیم، در این صورت داریم:

$$\int_C (6y + x)dx + (y + 2x)dy = \iint_D \left(\frac{\partial}{\partial x} (y + 2x) - \frac{\partial}{\partial y} (6y + x) \right) dA = \iint_D (2 - 6) dA = -4 \iint_D dA = -4 \times \text{مساحت دایره} = -16\pi$$

مثال ۲۳: حاصل $I = \oint_C [(x^2 + xy)dx + (y^2 + x^2)dy]$ که در آن C مربعی به معادلات اضلاع $|x|=1$ و $|y|=1$ باشد، کدام است؟

(مکانیک - سراسری ۸۱)

(۴) ۴

(۳) +۱

(۲) -۱

(۱) صفر

$$I = \iint_D \left(\frac{\partial}{\partial x} (y^2 + x^2) - \frac{\partial}{\partial y} (x^2 + xy) \right) dA = \iint_D x dA = 0$$

پاسخ: گزینه «۱» از قضیه گرین استفاده می‌کنیم:

چون x تابعی فرد و ناحیه D نسبت به x متقارن می‌باشد، پس حاصل انتگرال موردنظر برابر صفر است.

مثال ۲۴: حاصل $\oint_C (e^{x^2} + y)dx + (x^2 - \text{Arctg}\sqrt{y})dy$ وقتی C مستطیل با رئوس به مختصات $(1,2)$ ، $(5,2)$ ، $(5,4)$ و $(1,4)$ باشد کدام است؟

(هسته‌ای - سراسری ۸۱)

(۴) ۴۰

(۳) ۳۰

(۲) ۲۰

(۱) ۱۰

پاسخ: گزینه «۴» چون C یک مسیر بسته است، بنابراین می‌توانیم از قضیه گرین استفاده کنیم.

$$\int_C (e^{x^2} + y)dx + (x^2 - \text{Arctg}\sqrt{y})dy = \iint_D (2x - 1) dA = \int_1^5 \int_2^4 (2x - 1) dy dx = \int_1^5 (4x - 2) dx = 40$$

مثال ۲۵: مقدار انتگرال $\int_C xy dx + \left(\frac{1}{2}x^2 + xy\right)dy$ که در آن C از بازه $[-1,1]$ روی محور x و نیمه بالایی بیضی $x^2 + 4y^2 = 1$ تشکیل شده است و

(عمران - سراسری ۸۲)

یک بار در جهت خلاف عقربه‌های ساعت پیموده شده است، کدام است؟

(۴) $\frac{1}{3}$

(۳) $\frac{1}{4}$

(۲) $\frac{1}{6}$

(۱) صفر

پاسخ: گزینه «۲» از قضیه گرین استفاده می‌کنیم.

$$I = \iint_D \left(\frac{\partial}{\partial x} \left(\frac{1}{2}x^2 + xy \right) - \frac{\partial}{\partial y} (xy) \right) dA = \iint_D y dA = \int_{-1}^1 \int_0^{\sqrt{1-x^2}} y dy dx = \int_{-1}^1 \frac{1}{2}(1-x^2) dx = \frac{1}{6}$$



مثال ۲۶: فرض کنید f در معادله $\frac{\partial^2 f}{\partial x^2} + \frac{\partial^2 f}{\partial y^2} = 0$ صدق کند، C یک منحنی هموار و بسته باشد و f و مشتق‌های نسبی آن روی C و داخل آن پیوسته باشند. در این صورت مقدار $\oint_C \frac{\partial f}{\partial y} dx - \frac{\partial f}{\partial x} dy$ برابر است با:

(ریاضی - سراسری ۸۰ و MBA - سراسری ۸۲)

- (۱) صفر (۲) ۱ (۳) -۱ (۴) 2π

پاسخ: گزینه «۱» از قضیه گرین استفاده می‌کنیم:

$$\int_C \frac{\partial f}{\partial y} dx - \frac{\partial f}{\partial x} dy = \iint_D \left[\left(\frac{\partial}{\partial x} \left(-\frac{\partial f}{\partial x} \right) - \frac{\partial}{\partial y} \left(\frac{\partial f}{\partial y} \right) \right) \right] dA = -\iint_D \left(\frac{\partial^2 f}{\partial x^2} + \frac{\partial^2 f}{\partial y^2} \right) dA = 0$$

مثال ۲۷: فرض کنید C منحنی $\vec{F} = \vec{i}(z-y) + \vec{j}(x-z) + \vec{k}(y-x)$ و منحنی C فصل مشترک $z = 4 - x^2 - y^2$ با صفحه xoy باشد، $\oint_C \vec{F} \cdot d\vec{R}$ کدام است؟

(مکانیک - آزاد ۸۳)

- (۱) 6π (۲) 8π (۳) 4π (۴) صفر

پاسخ: گزینه «۲» خم C ، دایره $x^2 + y^2 = 4$ در صفحه $z = 0$ می‌باشد. بنابراین داریم:

$$I = \int_C \vec{F} \cdot d\vec{R} = \int_C (0 - y) dx + (x - 0) dy = \int_C -y dx + x dy \xrightarrow{\text{قضیه گرین}}$$

$$I = \iint_D \left(\frac{\partial}{\partial x}(x) - \frac{\partial}{\partial y}(-y) \right) dA = 2 \iint_D dA = 2 \times \text{مساحت دایره} = 2 \times 2\pi = 4\pi$$

مثال ۲۸: مقدار انتگرال خط $\oint_C -x^2 y dx + xy^2 dy$ که در آن C دایره به مرکز مبدأ مختصات و شعاع ۲ است، کدام است؟ (صنایع - سیستم - سراسری ۸۴)

- (۱) ۰ (۲) $\frac{4\pi}{5}$ (۳) 2π (۴) $16\frac{\pi}{3}$

پاسخ: هیچکدام از گزینه‌ها صحیح نیست. برای محاسبه انتگرال داده شده از قضیه گرین استفاده می‌کنیم.

$$I = \int_C -x^2 y dx + xy^2 dy = \iint_D \left(\frac{\partial}{\partial x}(xy^2) - \frac{\partial}{\partial y}(-x^2 y) \right) dx dy = \iint_D (y^2 + x^2) dx dy$$

$$I = \iint_D (x^2 + y^2) dx dy = \int_0^{2\pi} \int_0^2 r^2 \times r dr d\theta = \int_0^{2\pi} d\theta \times \int_0^2 r^3 dr = 8\pi$$

برای محاسبه انتگرال فوق، از مختصات قطبی استفاده می‌کنیم:

مثال ۲۹: حاصل $\oint_C (xy^2 dy - x^2 y dx)$ وقتی مسیری C در جهت مثلثاتی روی نمودار تابع قطبی $r = 1 + \cos \theta$ باشد، کدام است؟ (ریاضی - سراسری ۸۴)

- (۱) $\frac{25}{8}\pi$ (۲) $\frac{25}{16}\pi$ (۳) $\frac{35}{8}\pi$ (۴) $\frac{35}{16}\pi$

پاسخ: گزینه «۴» از قضیه گرین استفاده می‌کنیم:

$$\int_C (-x^2 y dx + xy^2 dy) = \iint_D (y^2 + x^2) dA = \int_0^{2\pi} \int_0^{1+\cos\theta} r^2 \times r dr d\theta = \int_0^{2\pi} \int_0^{1+\cos\theta} r^3 dr d\theta = \frac{1}{4} \int_0^{2\pi} (1 + \cos \theta)^4 d\theta = \frac{25\pi}{16}$$

مثال ۳۰: مقدار انتگرال $\oint_C (2xy dx - x^2 y dy)$ که در آن C مثلثی است به رئوس $(0,0)$ ، $(1,0)$ و $(1,1)$ که یک بار در جهت مثلثاتی پیموده شده است، برابر با چیست؟

(عمران، نقشه‌برداری - سراسری ۸۵)

- (۱) -۱ (۲) $-\frac{5}{12}$ (۳) $-\frac{11}{12}$ (۴) -۴

پاسخ: گزینه «۳» چون مسیر داده شده بسته است، پس می‌توانیم از قضیه گرین استفاده کنیم.

$$P = 2xy, Q = -x^2 y \Rightarrow \frac{\partial Q}{\partial x} - \frac{\partial P}{\partial y} = -2xy - 2x$$

$$I = \oint_C (2xy dx - x^2 y dy) \xrightarrow{\text{قضیه گرین}} \int_0^1 \int_0^x (-2xy - 2x) dy dx = \int_0^1 (-xy^2 - 2xy) \Big|_0^x dx = \int_0^1 (-x^3 - 2x^2) dx = \left(-\frac{x^4}{4} - \frac{2}{3}x^3 \right) \Big|_0^1 = -\frac{11}{12}$$

کله مثال ۳۱: انتگرال خط $\int_C (x^2 + y^2)dx + (x + 2y)^2 dy$ روی مثلث C با رأس‌های $(0,0)$ ، $(1,1)$ و $(0,2)$ در جهت مثلثاتی کدام است؟

(صنایع - سیستم - سراسری ۸۵)

- (۱) $-\frac{2}{8}$ (۲) $-\frac{8}{3}$ (۳) $\frac{3}{8}$ (۴) $\frac{8}{3}$

پاسخ: گزینه «۴» قرار می‌دهیم $P = x^2 + y^2$ و $Q = (x + 2y)^2$ ، در این صورت طبق قضیه گرین داریم:

$$\int_C Pdx + Qdy = \iint_D \left(\frac{\partial Q}{\partial x} - \frac{\partial P}{\partial y} \right) dx dy = \iint_D 2(x + 2y) - 2y dx dy = \int_0^1 \int_x^{2-x} (2x + 2y) dy dx = \frac{8}{3}$$

کله مثال ۳۲: مقدار انتگرال $I = \oint_C y^2 dx + x dy$ که در آن C دایره به مرکز مبدأ و شعاع ۲ می‌باشد که یک بار در جهت خلاف عقربه‌های ساعت پیموده شده است، برابر با چیست؟

(عمران - سراسری ۸۶)

- (۱) 4π (۲) 3π (۳) 2π (۴) π

پاسخ: گزینه «۱» از قضیه گرین استفاده می‌کنیم.

برای حل این انتگرال از مختصات قطبی استفاده می‌کنیم:

$$\begin{aligned} \Rightarrow I &= \iint_D (1 - 2y) dA = 2 \int_0^{2\pi} \int_0^2 (1 - 2r \sin \theta) r dr d\theta = \int_0^{2\pi} \int_0^2 (r - 2r^2 \sin \theta) dr d\theta = \int_0^{2\pi} \left[\frac{r^2}{2} - \frac{2r^3}{3} \sin \theta \right]_0^2 d\theta \\ &= \int_0^{2\pi} \left(2 - \frac{16}{3} \sin \theta \right) d\theta = \left[2\theta + \frac{16}{3} \cos \theta \right]_0^{2\pi} = 2 \times 2\pi = 4\pi \end{aligned}$$

کله مثال ۳۳: مقدار انتگرال $\oint_C y dx + 3x dy$ روی خم بیضی $C: x^2 + 4y^2 = 1$ در جهت مثلثاتی کدام است؟

(مکانیک - سراسری ۸۶)

- (۱) $\frac{\pi}{2}$ (۲) π (۳) 2π (۴) 4π

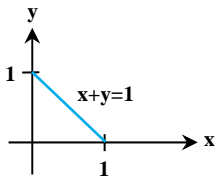
پاسخ: گزینه «۲» از قضیه گرین استفاده می‌کنیم.

کله مثال ۳۴: مقدار انتگرال خط $\int_C x^2 dx + xy dy$ که در آن C مثلثی به رئوس $(0,0)$ ، $(1,0)$ و $(0,1)$ است و در جهت عکس عقربه‌های ساعت طی می‌شود، کدام است؟

(آمار - سراسری ۸۶)

- (۱) $\frac{1}{6}$ (۲) $\frac{1}{3}$ (۳) $\frac{1}{2}$ (۴) ۱

پاسخ: گزینه «۱» از صورت دیگر قضیه گرین استفاده می‌کنیم:



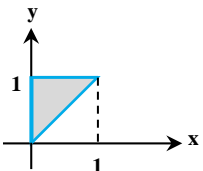
$$\begin{aligned} \int_C x^2 dx + xy dy &= \iint_D \left(\frac{\partial(xy)}{\partial x} - \frac{\partial(x^2)}{\partial y} \right) dA \\ &= \int_0^1 \int_0^{1-x} y dy dx = \int_0^1 \frac{(1-x)^2}{2} dx = \frac{-(1-x)^3}{6} \Big|_0^1 = \frac{1}{6} \end{aligned}$$

کله مثال ۳۵: فرض کنید C مسیری مثلثی به رئوس $(0,0)$ ، $(1,1)$ و $(0,1)$ است که در جهت مثلثاتی طی می‌شود. $\int_C x^2 dx + xy dy$ کدام است؟

(مکاترونیک - سراسری ۸۶)

- (۱) ۱ (۲) $\frac{1}{2}$ (۳) $\frac{1}{3}$ (۴) $\frac{1}{6}$

پاسخ: گزینه «۳» از قضیه گرین استفاده می‌کنیم:



$$\int_C x^2 dx + xy dy = \iint_D \left(\frac{\partial(xy)}{\partial x} - \frac{\partial(x^2)}{\partial y} \right) dA = \int_0^1 \int_0^y y dx dy = \int_0^1 y^2 dy = \frac{1}{3}$$



کله مثال ۳۶: شار برون سوی میدان $\vec{F}(x,y) = (x-y)\vec{i} + x\vec{j}$ گذرنده از دایره C به معادلات پارامتری $0 \leq t \leq 2\pi$ و $x = \cos t$ $y = \sin t$ در جهت مثلثاتی کدام است؟

(صنایع - سیستم - سراسری ۸۶)

- (۱) ۰ (۲) π (۳) 2π (۴) ۲

پاسخ: گزینه «۲» از قضیه گرین استفاده می‌کنیم:

$$\vec{F}(x,y) = (x-y)\vec{i} + x\vec{j} \Rightarrow \text{div}\vec{F} = 1+0=1 \Rightarrow \int_C \vec{F} \cdot \vec{n} ds = \iint_D \text{div}\vec{F} dA = \iint_D dA = (\text{مساحت دایره}) = \pi \times 1^2 = \pi$$

کله مثال ۳۷: گردش تابع برداری $\vec{F}(x,y) = (x-y)\vec{i} + x\vec{j}$ روی دایره واحد کدام است؟

(صنایع - سیستم - سراسری ۸۶)

- (۱) $\frac{1}{2}$ (۲) π (۳) 2π (۴) ۱

پاسخ: گزینه «۳» گردش تابع برداری برابر با $\int_C \vec{F} \cdot d\vec{r}$ می‌باشد، چون مسیر بسته است از قضیه گرین استفاده می‌کنیم:

$$\int_C \vec{F} \cdot d\vec{r} = \oint P dx + Q dy = \iint \left(\frac{\partial Q}{\partial x} - \frac{\partial P}{\partial y} \right) dx dy$$

$$\oint_C (x-y) dx + x dy = \iint (1 - (-1)) dx dy = 2 \iint dx dy = 2 \times \text{مساحت دایره} = 2\pi$$

کله مثال ۳۸: مقدار انتگرال $\oint_C (e^x - yx^2) dx + (xy^2 - e^y) dy$ که در آن C دایره $x^2 + y^2 - 2y = 0$ می‌باشد که یک بار در جهت مثلثاتی پیموده شده

(عمران - سراسری ۸۷)

است، برابر با چیست؟

- (۱) $\frac{3\pi}{4}$ (۲) $\frac{\pi}{2}$ (۳) $\frac{\pi}{4}$ (۴) $\frac{3\pi}{2}$

پاسخ: گزینه «۴» از قضیه گرین نتیجه می‌شود:

$$\int_C (e^x - yx^2) dx + (xy^2 - e^y) dy = \int_D (y^2 + x^2) dx dy \xrightarrow{\text{مختصات قطبی}} \int_0^\pi \int_0^{2\sin\theta} r^2 \times r dr d\theta = \int_0^\pi 4 \sin^4 \theta d\theta = 3 \frac{\pi}{2}$$

کله مثال ۳۹: اگر C دایره $(x-2)^2 + (y-2)^2 = 4$ در جهت مثلثاتی باشد، مقدار انتگرال $\int_C (6y + x^2) dx + (y^2 + 2x) dy$ را حساب کنید.

(معدن - سراسری ۸۷)

- (۱) -16π (۲) -48 (۳) 16π (۴) 48

پاسخ: گزینه «۱» برای محاسبه انتگرال مورد نظر از قضیه گرین استفاده می‌کنیم:

$$\int_C (6y + x^2) dx + (y^2 + 2x) dy = \iint \left(\frac{\partial}{\partial x}(y^2 + 2x) - \frac{\partial}{\partial y}(6y + x^2) \right) dx dy = \iint (2 - 6) dx dy = -4 \times (\text{مساحت دایره‌ای به شعاع ۲}) = -16\pi$$

کله مثال ۴۰: مقدار انتگرال $\int_C (\sin x + 2y^2) dx + (2x - e^{-y^2}) dy$ که در آن C مرز نیم قرص $x^2 + y^2 \leq a^2$ ، $y \geq 0$ در جهت خلاف عقربه‌های ساعت

(عمران - سراسری ۸۴ و عمران، نقشه‌برداری - سراسری ۸۸)

می‌باشد برابر است با:

- (۱) $2\pi a^2$ (۲) $(\pi - 6)a^2$ (۳) $\pi a^2 - 4a^3$ (۴) $\pi a^2 - 6a^3$

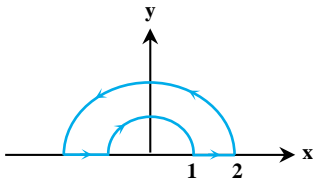
پاسخ: گزینه «۳» با توجه به اینکه مرز C بسته می‌باشد، می‌توانیم از قضیه گرین استفاده کنیم:

$$\int_C Q dx + P dy = \iint \left(\frac{\partial Q}{\partial x} - \frac{\partial P}{\partial y} \right) dx dy = \iint \left(\frac{\partial(2x - e^{-y^2})}{\partial x} - \frac{\partial(\sin x + 2y^2)}{\partial y} \right) dx dy = \iint (2 - 6y) dx dy \xrightarrow{\text{مختصات قطبی}}$$

$$\int_0^\pi \int_0^a (2 - 6r \sin \theta) r dr d\theta = \int_0^\pi (r^2 - 2r^3 \sin \theta) \Big|_0^a d\theta = \int_0^\pi (a^2 - 2a^3 \sin \theta) d\theta = (a^2 \theta + 2a^3 \cos \theta) \Big|_0^\pi = \pi a^2 - 4a^3$$

مثال ۴۱: فرض کنید C منحنی بسته متشکل از دو نیم‌دایره به شعاع‌های ۱ و ۲ و دو پاره‌خط مطابق شکل زیر باشد. مقدار $I = \int_C y^2 dx - x^2 dy$ کدام است؟

(مکانیک - سراسری ۸۸)



- (۱) $-\frac{35}{3}\pi$
- (۲) -12π
- (۳) $-\frac{45}{4}\pi$
- (۴) -11π

پاسخ: گزینه «۳» با توجه به اینکه C یک منحنی بسته است می‌توانیم از قضیه گرین استفاده کنیم.

$$I = \int_C Pdx + Qdy = \iint_D \left(\frac{\partial Q}{\partial x} - \frac{\partial P}{\partial y} \right) dA = \iint_D -2(x^2 + y^2) dA$$

برای محاسبه انتگرال فوق با توجه به ناحیه انتگرال‌گیری و همچنین عبارت مقابل انتگرال، مختصات قطبی مناسب است، بنابراین داریم:

$$I = \int_0^\pi \int_1^2 -2r^2 \times r dr d\theta = \int_0^\pi d\theta \int_1^2 -2r^3 dr = \pi \times \frac{-45}{4} = \frac{-45\pi}{4}$$

مثال ۴۲: مقدار انتگرال $\oint_C (x \sin y^2 - y^2) dx + (x^2 y \cos y^2 + 3x) dy$ که در آن C دوزنقه به رئوس $(0, 2)$ ، $(1, 1)$ ، $(1, -1)$ ، $(0, -2)$ می‌باشد که یک بار در جهت خلاف عقربه‌های ساعت پیموده شده است، کدام است؟

(عمران - سراسری ۸۴، ۸۵ و ۸۹)

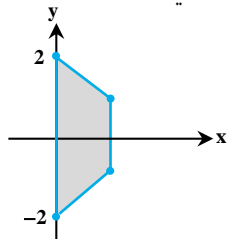
(۴) ۱۲

(۳) ۳

(۲) ۶

(۱) ۹

پاسخ: گزینه «۱» با توجه به اینکه مسیر مورد نظر یک مسیر بسته می‌باشد پس از قضیه گرین استفاده می‌کنیم. ابتدا توجه کنید که:



$$F_1 = x \sin y^2 - y^2 \Rightarrow \frac{\partial F_1}{\partial y} = 2xy \cos y^2 - 2y$$

$$F_2 = x^2 y \cos y^2 + 3x \Rightarrow \frac{\partial F_2}{\partial x} = 2xy \cos y^2 + 3$$

$$I = \int_C F_1 dx + F_2 dy = \iint_D \left(\frac{\partial F_2}{\partial x} - \frac{\partial F_1}{\partial y} \right) dx dy = \iint_D (3 + 2y) dx dy$$

حال طبق قضیه گرین:

چون ناحیه انتگرال‌گیری نسبت به محور x متقارن است پس انتگرال $2y$ روی این ناحیه برابر صفر می‌باشد ($2y$ تابع فرد نسبت به متغیر y است).

$$I = \iint_D 3 dx dy = 3 \times (\text{مساحت دوزنقه}) = 3 \times \left(\frac{1 \times (4 + 2)}{2} \right) = 9$$

در نتیجه:

مثال ۴۳: فرض کنید C بیضی $4 = 9x^2 + 4y^2$ در جهت مثلثاتی باشد در این صورت مقدار انتگرال $\int_C (2xy^3 + \cos x) dx + (2x^2y^2 + 5x) dy$ کدام است؟

(مواد - سراسری ۸۹)

(۴) $\frac{10\pi}{3}$

(۳) 5π

(۲) 3π

(۱) $-\frac{10\pi}{3}$

پاسخ: گزینه «۴» فرض کنیم R ناحیه محدود به درون و روی C باشد و فرض کنیم که $P(x, y) = 2xy^3 + \cos x$ ، $Q(x, y) = 2x^2y^2 + 5x$ چون P و Q و مشتقات جزئی مرتبه اول آن‌ها در R پیوسته است لذا طبق قضیه گرین:

$$\oint_C Pdx + Qdy = \iint_R \left(\frac{\partial Q}{\partial x} - \frac{\partial P}{\partial y} \right) dx dy$$

$$\iint_R \left(\frac{\partial Q}{\partial x} - \frac{\partial P}{\partial y} \right) dx dy = \iint_R (6xy^2 + 5 - 6xy^2) dx dy = 5 \iint_R dx dy = 5 \times (\text{مساحت بیضی}) = 5 \times \frac{2\pi}{3} = \frac{10\pi}{3}$$

توضیح: به‌طور کلی مساحت بیضی $1 = \frac{x^2}{a^2} + \frac{y^2}{b^2}$ برابر πab می‌باشد، پس بیضی مورد نظر را به‌صورت $1 = \frac{x^2}{\left(\frac{2}{3}\right)^2} + y^2$ می‌نویسیم در این صورت $S = \frac{2\pi}{3}$

خواهد بود.

مثال ۴۴: فرض کنید C خط مستقیم از نقطه $(0,0,1)$ تا نقطه $(0,1,1)$ باشد. مقدار انتگرال $\int_C (3x^2 - 6yz)dx + (2y + 3xz)dy + (1 - 4xyz^2)dz$

(آمار - سراسری ۸۹)

کدام است؟

(۴) ۲

(۳) ۱

(۲) $-\frac{1}{2}$

(۱) -۱

پاسخ: گزینه «۳» معادله پارامتری خط مورد نظر را می‌توانیم به صورت روبرو در نظر بگیریم: $r(t) = (x(t), y(t), z(t)) = (0, t, 1) \quad 0 \leq t \leq 1$

در این صورت $dx = dz = 0$ و $dy = dt$ به دست می‌آید، پس مقدار انتگرال برابر است با:

$$\int_0^1 (2t) dt = t^2 \Big|_0^1 = 1$$

مثال ۴۵: حاصل $\int_C y^2 dx + x^2 dy$ بر روی اضلاع مثلثی محصور به خطوط $x=0$ ، $y=0$ و $x+y=1$ کدام است؟ (MBA - سراسری ۹۰)

(۴) $\frac{2}{3}$

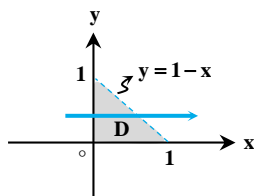
(۳) $\frac{1}{3}$

(۲) $\frac{1}{2}$

(۱) صفر

پاسخ: گزینه «۱» ناحیه درون این شکل، ناحیه‌ای همبند و ساده در صفحه‌ی \mathbb{R}^2 است پس با توجه به اینکه توابع $P(x, y) = y^2$ و $Q(x, y) = x^2$

دارای مشتقات جزئی پیوسته از هر مرتبه‌اند می‌توان از قضیه‌ی گرین استفاده نمود:



$$\int_C P(x, y)dx + Q(x, y)dy = \iint_D \left(\frac{\partial Q}{\partial x} - \frac{\partial P}{\partial y} \right) dA$$

منحنی بسته C و ناحیه بسته D داخل آن به صورت مقابل است:

حدود انتگرال گیری عبارتند از:

$$\begin{cases} 0 \leq x \leq 1-y \\ 0 \leq y \leq 1 \end{cases}$$

در نتیجه در قضیه گرین جایگذاری می‌کنیم:

$$\int_C y^2 dx + x^2 dy = \iint_D 2(x-y) dx dy = \int_0^1 \int_0^{1-y} 2(x-y) dx dy$$

$$= 2 \int_0^1 \left[\frac{1}{2} x^2 - xy \right]_0^{1-y} dy = 2 \int_0^1 \left(\frac{1}{2} (1-y)^2 - y(1-y) \right) dy = \left[\frac{1}{6} (1-y)^3 - \frac{1}{2} y^2 + \frac{1}{2} y^3 \right]_0^1 = 0$$

مثال ۴۶: مقدار انتگرال $\oint_C xy dx + x^2 dy$ که در آن C منحنی بسته محدود به سهمی‌های $y=x^2$ و $x=y^2$ است که یک بار در جهت خلاف عقربه‌های

(عمران - سراسری ۹۰)

ساعت پیموده شده است برابر است با:

(۴) $\frac{27}{20}$

(۳) $\frac{3}{5}$

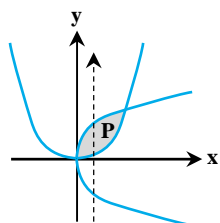
(۲) $\frac{1}{5}$

(۱) $\frac{3}{20}$

$$\oint_C P dx + Q dy = \iint_D \left(\frac{\partial Q}{\partial x} - \frac{\partial P}{\partial y} \right) dx dy$$

پاسخ: گزینه «۱» بر طبق قضیه گرین داریم:

که D سطح داخل منحنی بسته C است، بنابراین داریم:



$$\oint_C xy dx + \frac{x^2}{2} dy = \iint_D (2x - x) dA = \iint_D x dy dx = \int_0^1 \int_{x^2}^{\sqrt{x}} x dy dx$$

$$= \int_0^1 x(\sqrt{x} - x^2) dx = \int_0^1 (x^{\frac{3}{2}} - x^3) dx = \left[\frac{2}{5} x^{\frac{5}{2}} - \frac{x^4}{4} \right]_0^1 = \frac{2}{5} - \frac{1}{4} = \frac{3}{20}$$

مثال ۴۷: فرض کنید C دایره با معادله $(x-1)^2 + y^2 = 25$ باشد که در خلاف جهت حرکت عقربه‌های ساعت در نظر گرفته شده است، مقدار انتگرال $\oint_C (2xye^{x^2} + e^{\cos x})dx + (e^{y^2} + e^{x^2} + x)dy$ کدام است؟ (صنایع - سیستم - سراسری ۹۰)

- (۱) ۰ (۲) π (۳) 12π (۴) 25π

پاسخ: گزینه «۴» C خم یک خم ساده بسته و قطعه به قطعه هموار می‌باشد و همچنین میدان برداری داده شده بر روی این خم پیوسته است و دارای مشتقات جزئی مرتبه اول پیوسته می‌باشد، لذا طبق قضیه گرین داریم:

$$\oint_C Pdx + Qdy = \iint_R \left(\frac{\partial Q}{\partial x} - \frac{\partial P}{\partial y} \right) dx dy, \quad \begin{cases} P = 2xye^{x^2} + e^{\cos x} \\ Q = e^{y^2} + e^{x^2} + x \end{cases} \Rightarrow \begin{cases} \frac{\partial P}{\partial y} = 2xe^{x^2} \\ \frac{\partial Q}{\partial x} = 2xe^{x^2} + 1 \end{cases}$$

$$\Rightarrow I = \oint_C (2xye^{x^2} + e^{\cos x})dx + (e^{y^2} + e^{x^2} + x)dy = \iint_R (1 + 2xe^{x^2} - 2xe^{x^2}) dx dy$$

$$\Rightarrow I = \iint_R dx dy = (\text{مساحت داخل منحنی } C) = \pi(\Delta)^2 = 25\pi$$

مثال ۴۸: فرض کنید C مرز بیضی به معادله $x^2 + \frac{y^2}{4} = 1$ باشد. در این صورت حاصل انتگرال $\oint_C x dy$ کدام است؟ (معدن - سراسری ۹۰)

- (۱) $\frac{\pi}{2}$ (۲) π (۳) 2π (۴) 4π

پاسخ: گزینه «۳» از آنجایی که مشتقات نسبی مرتبه اول میدان در ناحیه‌ی داده شده پیوسته هستند، لذا شرط استفاده از قضیه گرین برقرار است، لذا طبق قضیه گرین داریم:

$$\oint_C Pdx + Qdy = \iint_D \left(\frac{\partial Q}{\partial x} - \frac{\partial P}{\partial y} \right) dA \Rightarrow \oint_C x dy = \iint_D dA = A (\text{مساحت بیضی}) \Rightarrow \oint_C x dy = \pi \times 2 \times 1 = 2\pi$$

مثال ۴۹: هرگاه $\vec{F} = (y-z)\vec{i} + (z-x)\vec{j} + (x-y)\vec{k}$ و C منحنی فصل مشترک کره $x^2 + y^2 + z^2 = 3$ و سهمی گون به معادله $x^2 + y^2 = 2z$ باشد، مقدار انتگرال $\oint_C \vec{F} \cdot d\vec{R}$ کدام است؟ (آمار - سراسری ۹۰)

- (۱) -2π (۲) $-\pi^2$ (۳) π (۴) -4π

پاسخ: گزینه «۴» ابتدا فصل مشترک کره و سهمی گون را به دست می‌آوریم:

$$\text{فصل مشترک: } \begin{cases} x^2 + y^2 + z^2 = 3 \\ x^2 + y^2 = 2z \end{cases} \Rightarrow z^2 + 2z - 3 = 0 \Rightarrow \begin{cases} z = -3 \\ z = 1 \end{cases} \xrightarrow{(1)} z \geq 0 \Rightarrow z = 1 \Rightarrow x^2 + y^2 = 2$$

بنابراین منحنی C (فصل مشترک کره و سهمی گون) دایره‌ای به شعاع $\sqrt{2}$ و به مرکز مبدأ در صفحه xOy می‌باشد.

$$\vec{F} \cdot d\vec{R} = (y-z)dx + (z-x)dy + (x-y)dz \quad \vec{F} \cdot d\vec{R} = \vec{F} \cdot (\vec{i}dx + \vec{j}dy + \vec{k}dz) \text{ بنابراین داریم:}$$

چون فصل مشترک یک دایره در صفحه xOy است و $z=1$ می‌باشد، بنابراین $dz=0$ است. این مقدار را در انتگرال جایگذاری می‌کنیم:

$$\oint_C \vec{F} \cdot d\vec{R} = \oint_C (y-1)dx + (1-x)dy$$

$$\oint_C \vec{F} \cdot d\vec{R} = \iint_D (-1-1)dA = -2 \iint_D dA = -2 \iint_D dx dy \quad \text{بنابراین طبق قضیه گرین داریم:}$$

$$\oint_C \vec{F} \cdot d\vec{R} = -2 \times \pi \times 2 = -4\pi \quad \iint_D dx dy \text{ همان مساحت دایره است یعنی } \pi r^2 \text{ که } r = \sqrt{2} \text{ بنابراین داریم:}$$

تذکر: البته یک روش دیگر حل این سؤال، استفاده از قضیه استوکس است که در فصل انتگرال روی سطح به آن اشاره می‌شود.



مدرسین شریف

فصل ششم

«انتگرال روی سطح»



درسنامه: انتگرال روی سطح برای توابع حقیقی و کاربردهای آن

مثال ۱: انتگرال $\iint_S xz d\sigma$ را که در آن S بخشی از سطح $z = x^2$ است و در یک هشتم اول فضای سه بعدی و داخل سهمی گون $z = 1 - 3x^2 - y^2$ قرار دارد، چقدر است؟

$$\frac{1}{92} \quad (۴)$$

$$\frac{1}{96} \quad (۳)$$

$$\frac{1}{48} \quad (۲)$$

$$\frac{1}{192} \quad (۱)$$

پاسخ: گزینه «۳» ابتدا توجه کنید که معادله‌ی سطح S به صورت $z = x^2 - z = 0$ است بنابراین $\vec{g} = (2x)\vec{i} - \vec{k}$ و لذا $|\vec{\nabla}g| = \sqrt{4x^2 + 1}$

اگر صفحه تصویر را صفحه xOy در نظر بگیریم، در این صورت داریم:

$$d\sigma = \frac{|\vec{\nabla}g|}{|\vec{\nabla}g \cdot \vec{k}|} dA = \sqrt{4x^2 + 1} dA$$

تصویر ناحیه S روی صفحه xOy از تلاقی سهمی گون و سطح $z = x^2$ حاصل می‌شود:

$$x^2 = 1 - 3x^2 - y^2 \Rightarrow 4x^2 + y^2 = 1 \Rightarrow \frac{x^2}{\frac{1}{4}} + \frac{y^2}{1} = 1$$

یک بیضی با شعاع افقی $\frac{1}{2}$ و شعاع عمودی 1 داریم. البته فقط ربع اول از این بیضی مورد نظر است. پس $0 \leq x \leq \frac{1}{2}$ و $0 \leq y \leq \sqrt{1 - 4x^2}$ است.

بنابراین انتگرال مورد نظر برابر است با:

$$\iint_S xz d\sigma = \iint_D x \cdot x^2 \sqrt{4x^2 + 1} dA = \int_0^{\frac{1}{2}} \int_0^{\sqrt{1-4x^2}} x^3 \sqrt{1+4x^2} dy dx = \int_0^{\frac{1}{2}} x^3 \sqrt{1+4x^2} dx = \frac{-1}{96} [(1+16x^4)^{\frac{3}{2}}]_0^{\frac{1}{2}} = \frac{1}{96}$$

مثال ۲: حاصل انتگرال $\iint_S y d\sigma$ ، که در آن S بخشی از صفحه $z = 1 + y$ است که داخل مخروط $z = \sqrt{2(x^2 + y^2)}$ قرار دارد، چقدر است؟

$$2\pi \quad (۴)$$

$$\frac{\pi}{2} \quad (۳)$$

$$4\pi \quad (۲)$$

$$\frac{3\pi}{2} \quad (۱)$$

پاسخ: گزینه «۴» برای به دست آوردن تصویر S روی صفحه xOy ، z را از بین معادله‌ها حذف می‌کنیم:

$$1 + y = \sqrt{2(x^2 + y^2)} \Rightarrow 2(x^2 + y^2) = (y+1)^2 \Rightarrow 2x^2 + y^2 - 2y = 1 \Rightarrow x^2 + \frac{(y-1)^2}{2} = 1$$

ناحیه D تصویر S روی صفحه xOy ، درون بیضی $x^2 + \frac{(y-1)^2}{2} = 1$ است، حالا $d\sigma$ را حساب می‌کنیم، چون z به طور صریح بر حسب y داده شده داریم:

$$z = 1 + y \Rightarrow d\sigma = \sqrt{1 + z_x^2 + z_y^2} dA = \sqrt{1 + 1} dA = \sqrt{2} dA$$

$$\iint_S y d\sigma = \sqrt{2} \iint_D y dA = \sqrt{2} \iint_D ((y-1) + 1) dA = \sqrt{2} \iint_D dA = \sqrt{2} \times (\text{مساحت بیضی}) = 2\pi$$

توجه کنید که انتگرال عبارت $(y-1)$ روی بیضی مورد نظر به دلیل تقارن صفر است.

کله مثال ۳: حاصل $I = \iint_{\Sigma} (x+y+z) d\sigma$ در صورتی که Σ سطح مکعب $0 \leq x \leq 1, 0 \leq y \leq 1, 0 \leq z \leq 1$ باشد، کدام است؟

۱۲ (۴)

۹ (۳)

۶ (۲)

۳ (۱)

پاسخ: گزینه «۳» این مکعب دارای ۶ وجه می‌باشد؛ سقف آن صفحه‌ی $Z=1$ و کف آن صفحه‌ی $Z=0$ است، ابتدا حاصل انتگرال را روی این دو وجه حساب می‌کنیم. انتگرال سطح بر روی قاعده‌ی تحتانی یعنی صفحه‌ی $Z=0$ برابر با مقدار زیر است:

$$\int_0^1 \int_0^1 (x+y+0) dx dy = \int_0^1 \left[\frac{x^2}{2} + xy \right]_0^1 dy = \int_0^1 \left(\frac{1}{2} + y \right) dy = \left[\frac{1}{2}y + \frac{y^2}{2} \right]_0^1 = \frac{1}{2} + \frac{1}{2} = 1$$

اما انتگرال سطح بر روی قاعده‌ی فوقانی یعنی صفحه‌ی $Z=1$ برابر با مقدار زیر است:

$$\int_0^1 \int_0^1 (x+y+1) dx dy = \int_0^1 \left[\frac{x^2}{2} + yx + x \right]_0^1 dy = \int_0^1 \left(\frac{3}{2} + y \right) dy = \left[\frac{3}{2}y + \frac{y^2}{2} \right]_0^1 = \frac{3}{2} + \frac{1}{2} = 2$$

حاصل جمع دو انتگرال فوق برابر با $2+1=3$ است، حالا دقت کنید که تابع زیر انتگرال نسبت به همه‌ی متغیرهای x, y و Z تقارن دارد؛ مثلاً تبدیل y به Z و Z به y معادله‌ی $x+y+Z$ را تغییر نمی‌دهد. بنابراین حاصل انتگرال روی وجه‌های $y=0$ و $y=1$ مانند حاصل انتگرال روی وجه‌های $Z=0$ و $Z=1$ است. به این ترتیب حاصل انتگرال روی هر جفت از وجوه $(Z=1, Z=0), (y=1, y=0)$ و $(x=1, x=0)$ برابر با ۳ است در نتیجه داریم: $I = 3+3+3 = 9$

کله مثال ۴ (سخت): اگر S قسمتی از رویه $z = \sqrt{x^2 + y^2}$ باشد که داخل استوانه به معادله‌ی $x^2 + y^2 = 2ax$ قرار گرفته است، آن‌گاه حاصل $I = \iint_S (xy + yz + zx) d\sigma$ ، چند برابر a^4 است؟

$\frac{16}{15}$ (۴)

$\frac{32\sqrt{2}}{5}$ (۳)

$\frac{64}{15}$ (۲)

$\frac{64\sqrt{2}}{15}$ (۱)

پاسخ: گزینه «۱» ابتدا توجه کنید که ناحیه D درون استوانه $x^2 + y^2 = 2ax$ در صفحه‌ی xOy است، از طرفی با توجه به معادله‌ی رویه که Z به طور صریح بر حسب x و y داده شده به راحتی $d\sigma$ را به صورت زیر حساب می‌کنیم:

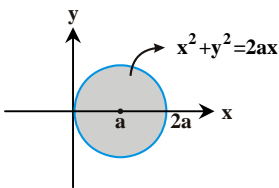
$$d\sigma = \sqrt{1 + z_x^2 + z_y^2} dy dx = \sqrt{1 + \frac{x^2}{x^2 + y^2} + \frac{y^2}{x^2 + y^2}} dy dx = \sqrt{\frac{x^2 + y^2 + x^2 + y^2}{x^2 + y^2}} dy dx = \sqrt{\frac{2(x^2 + y^2)}{x^2 + y^2}} dy dx = \sqrt{2} dy dx$$

از طرفی در تابع زیر انتگرال باید به جای Z ، معادل آن یعنی $z = \sqrt{x^2 + y^2}$ را قرار دهیم. فرض کنیم ناحیه‌ی R درون دایره‌ی $x^2 + y^2 = 2ax$ باشد.

$$I = \iint_S (xy + yz + zx) d\sigma = \iint_R (xy + y\sqrt{x^2 + y^2} + x\sqrt{x^2 + y^2}) \sqrt{2} dy dx$$

اما اگر کمی دقت کنید؛ از معادله‌ی $x^2 + y^2 = 2ax$ معلوم است که این ناحیه نسبت به محور x تقارن دارد یعنی تغییر y به $-y$ معادله آن را عوض نمی‌کند. پس برای هر مقدار مثبت y یک مقدار منفی هم داریم. می‌توانید با رسم این ناحیه، از این نکته اطمینان پیدا کنید. علامت x همواره مثبت است اما y تغییر علامت می‌دهد. بنابراین عبارت‌های yx و $y\sqrt{x^2 + y^2}$ نسبت به y فرد هستند و حاصل انتگرال برای آن‌ها صفر خواهد بود.

$$\iint_D (yx + y\sqrt{x^2 + y^2}) dy dx = 0$$



بنابراین فقط کافیست از عبارت $x\sqrt{x^2 + y^2}$ انتگرال بگیریم و چون درون انتگرال $\sqrt{x^2 + y^2}$ داریم و ناحیه D هم دایره‌ای در

صفحه‌ی xOy می‌باشد، بهتر است از مختصات قطبی کمک بگیریم. در مختصات قطبی داریم $-\frac{\pi}{2} \leq \theta \leq \frac{\pi}{2}$ و $0 \leq r \leq 2a \cos \theta$

(دقت کنید که معادله‌ی $x^2 + y^2 = 2ax$ در دستگاه قطبی به $r^2 = 2ar \cos \theta$ تبدیل می‌شود، یعنی $r = 2a \cos \theta$)

$$I = \sqrt{2} \iint_R x\sqrt{x^2 + y^2} dy dx = \sqrt{2} \int_{-\frac{\pi}{2}}^{\frac{\pi}{2}} \int_0^{2a \cos \theta} r \cos \theta \sqrt{r^2} (r dr d\theta) = \sqrt{2} \int_{-\frac{\pi}{2}}^{\frac{\pi}{2}} \int_0^{2a \cos \theta} r^3 \cos \theta dr d\theta = \sqrt{2} \int_{-\frac{\pi}{2}}^{\frac{\pi}{2}} \cos \theta d\theta \times \left[\frac{r^4}{4} \right]_0^{2a \cos \theta}$$

$$\Rightarrow I = 4a^4 \sqrt{2} \int_{-\frac{\pi}{2}}^{\frac{\pi}{2}} \cos^5 \theta d\theta \xrightarrow{\text{زوج است}} I = 8a^4 \sqrt{2} \int_0^{\frac{\pi}{2}} \cos^5 \theta d\theta$$

$$\Rightarrow I = 8a^4 \sqrt{2} \int_0^{\frac{\pi}{2}} \cos^4 \theta \cos \theta d\theta = 8a^4 \sqrt{2} \int_0^{\frac{\pi}{2}} (1 - \sin^2 \theta)^2 \cos \theta d\theta$$

$$\Rightarrow I = 8a^4 \sqrt{2} \int_0^{\frac{\pi}{2}} (1 - 2\sin^2 \theta + \sin^4 \theta) \cos \theta d\theta = 8a^4 \sqrt{2} \left[\sin \theta - \frac{2}{3} \sin^3 \theta + \frac{\sin^5 \theta}{5} \right]_0^{\frac{\pi}{2}} = 8a^4 \sqrt{2} \left(1 - \frac{2}{3} + \frac{1}{5} \right) = \frac{64\sqrt{2}}{15} a^4$$



کله مثال ۵: مساحت قسمتی از رویه‌ی مخروطی $z^2 = x^2 + y^2$ را که بین دو صفحه‌ی $z = 0$ و $z = 3$ قرار دارد، کدام است؟

- (۱) $2\pi\sqrt{3}$ (۲) $2\pi\sqrt{6}$ (۳) $\pi\sqrt{3}$ (۴) $\pi\sqrt{6}$

پاسخ: گزینه «۲» می‌دانیم برای مخروط $z^2 = x^2 + y^2$ داریم $d\sigma = \sqrt{2}dA$ ، که صفحه تصویر را صفحه xOy در نظر می‌گیریم، از تلاقی صفحه $z = 3$ و مخروط معادله‌ی زیر به دست می‌آید:

$$x^2 + y^2 = \left(\frac{3-x}{2}\right)^2 \Rightarrow 4x^2 + 4y^2 = 9 + x^2 - 6x$$

$$\Rightarrow 3x^2 + 6x + 4y^2 = 9 \Rightarrow 3(x+1)^2 + 4y^2 = 12 \Rightarrow \frac{(x+1)^2}{4} + \frac{y^2}{3} = 1$$

مساحت بیضی به دست آمده که همان تصویر است برابر $2\pi\sqrt{3}$ می‌باشد و بنابراین مساحت مورد نظر برابر است با:

$$S = \iint_D \sqrt{2}dA = \sqrt{2} \times (\text{مساحت بیضی}) = 2\pi\sqrt{6}$$

کله مثال ۶: مساحت قسمتی از سطح $z = x^2 - y^2$ که داخل استوانه‌ی $x^2 + y^2 = 4$ قرار دارد، برابر $\frac{\pi}{6}(A\sqrt{A} - 1)$ می‌باشد. مقدار A کدام است؟

- (۱) ۱۳ (۲) ۱۷ (۳) ۱۵ (۴) ۱۱

پاسخ: گزینه «۲» می‌خواهیم $\iint_S d\sigma$ را روی ناحیه درون $x^2 + y^2 = 4$ به دست آوریم. $d\sigma$ به صورت زیر حساب می‌شود:

$$d\sigma = \sqrt{1 + z_x^2 + z_y^2}dA = \sqrt{1 + (2x)^2 + (-2y)^2}dA = \sqrt{1 + 4x^2 + 4y^2}dA$$

برای محاسبه انتگرال، از مختصات قطبی استفاده می‌کنیم. دقت کنید ناحیه D همان استوانه‌ی $x^2 + y^2 \leq 4$ در صفحه‌ی xOy است.

$$\iint_S d\sigma = \iint_D \sqrt{4(x^2 + y^2) + 1}dA = \int_0^{2\pi} \int_0^2 \sqrt{4r^2 + 1} \cdot r dr d\theta = \int_0^{2\pi} d\theta \int_0^2 r\sqrt{4r^2 + 1} dr = 2\pi \left(\frac{1}{12} (4r^2 + 1)^{3/2} \right) \Big|_0^2 = \frac{\pi}{6} (17\sqrt{17} - 1)$$

کله مثال ۷: فرض کنید S بخشی از مخروط $z = \sqrt{x^2 + y^2}$ باشد که بین صفحات $z = 1$ و $z = 4$ واقع است و نیز چگالی در هر نقطه‌ی p از سطح S مساوی

فاصله‌ی p تا صفحه‌ی $z = 0$ باشد. در این صورت جرم کل S ، مختصات طول مرکز جرم S و همچنین گشتاور ماند S حول محور z ها را حساب کنید.

پاسخ: اولاً توجه کنید که چگالی برابر با z است (فاصله‌ی p تا صفحه‌ی $z = 0$) پس $\delta = z$ ، طبق فرمول گفته شده داریم:

$$M = \iint_S \delta d\sigma = \iint_S z d\sigma \quad \text{چون سطح مخروط } z = \sqrt{x^2 + y^2} \text{ است، لذا } d\sigma = \sqrt{2}dA \text{ و بنابراین داریم:}$$

$$M = \iint_S \sqrt{x^2 + y^2} (\sqrt{2}dA)$$

دقت کنید با توجه به این که $1 \leq z \leq 4$ ، لذا $1 \leq \sqrt{x^2 + y^2} \leq 4$ و یا $1 \leq x^2 + y^2 \leq 16$ و بنابراین در مختصات استوانه‌ای $1 \leq r \leq 4$ و $0 \leq \theta \leq 2\pi$ است و

$$M = \sqrt{2} \iint_S \sqrt{x^2 + y^2} dA = \sqrt{2} \int_0^{2\pi} \int_1^4 r^2 (r dr d\theta) = \sqrt{2} \int_0^{2\pi} \left[\frac{r^4}{4} \right]_1^4 d\theta = \sqrt{2} (2\pi) \times \frac{63}{4} = 42\sqrt{2}\pi$$

خواهیم داشت:

حالا طول مرکز جرم صفحه‌ی S را حساب می‌کنیم:

$$\bar{x} = \frac{\iint_S x \delta d\sigma}{M} = \frac{1}{M} (\iint_S x z d\sigma) = \frac{1}{M} \iint_S x \sqrt{x^2 + y^2} (\sqrt{2}dA) = \frac{\sqrt{2}}{M} \iint_S x \sqrt{x^2 + y^2} dA = \frac{\sqrt{2}}{M} \int_0^{2\pi} \int_1^4 r^3 \cos \theta dr d\theta$$

$$\bar{x} = \frac{\sqrt{2}}{M} [\sin \theta]_0^{2\pi} \times \left[\frac{r^4}{4} \right]_1^4 = 0$$

و بالاخره گشتاور لختی حول محور z ها از رابطه‌ی زیر حساب می‌شود:

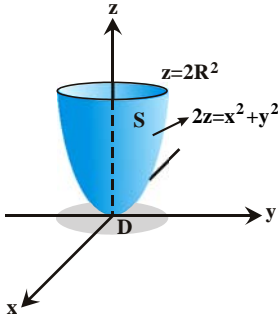
$$I_z = \iint_S (x^2 + y^2) \delta d\sigma = \iint_S (x^2 + y^2) z (\sqrt{2}dA) = \sqrt{2} \iint_S (x^2 + y^2) \sqrt{x^2 + y^2} dA = \sqrt{2} \int_0^{2\pi} \int_1^4 r^3 \cdot r (r dr d\theta)$$

$$\Rightarrow I_z = \sqrt{2} \int_0^{2\pi} \int_1^4 r^4 dr d\theta = \sqrt{2} \times 2\pi \times \left[\frac{r^5}{5} \right]_1^4 = \frac{2(4^5 - 1)\sqrt{2}\pi}{5} = \frac{2046\sqrt{2}\pi}{5}$$

مثال ۸: جسمی از سهمی گون به معادله $z = 2R^2 - x^2 - y^2$ ، به وسیله صفحه‌ای به معادله $z = 2R^2$ جدا می‌شود. جرم جسم حاصل با فرض این که چگالی $\delta(x, y, z) = k$ باشد، کدام است؟

(۱) $2k\pi\left[\frac{(4R^2 + 1)^{\frac{2}{3}}}{3}\right]$ (۲) $2k\pi\left[\frac{(4R^2 + 1)^{\frac{2}{3}} - 1}{3}\right]$ (۳) $4k\pi\left[\frac{(4R^2 + 1)^{\frac{2}{3}}}{3}\right]$ (۴) $4k\pi\left[\frac{(4R^2 + 1)^{\frac{2}{3}} - 1}{3}\right]$

پاسخ: گزینه «۲» جسم مورد نظر ما قسمتی از سطح سهمی گون $z = 2R^2 - x^2 - y^2$ است. قبل از هر کاری باید تصویر آن را به دست بیاوریم، چون z به طور صریح بر حسب x و y بیان شده است، صفحه‌ی تصویر را xOy در نظر می‌گیریم و z را بین دو معادله حذف می‌کنیم:



$$\begin{cases} z = 2R^2 \\ z = \frac{x^2 + y^2}{2} \end{cases} \Rightarrow 2R^2 = \frac{x^2 + y^2}{2} \Rightarrow x^2 + y^2 = 4R^2 = (2R)^2$$

پس تصویر سطح داده شده بر صفحه‌ی xOy ، داخل دایره‌ای به شعاع $2R$ است. حالا باید $d\sigma$ را به دست بیاوریم،

$$d\sigma = \sqrt{1 + \left(\frac{\partial z}{\partial x}\right)^2 + \left(\frac{\partial z}{\partial y}\right)^2} dA = \sqrt{1 + x^2 + y^2} dA$$

حال جرم به صورت زیر محاسبه می‌شود:

$$M = \iint_S \delta d\sigma = k \iint_S d\sigma = k \iint_D \sqrt{x^2 + y^2 + 1} dA = k \int_0^{2\pi} \int_0^{2R} \sqrt{r^2 + 1} r dr d\theta = k \int_0^{2\pi} d\theta \left[\frac{1}{3} \frac{(r^2 + 1)^{\frac{3}{2}}}{\frac{3}{2}} \right]_0^{2R} = 2k\pi \left[\frac{(4R^2 + 1)^{\frac{3}{2}} - 1}{3} \right]$$

مثال ۹: مقدار $\iint_{\Sigma} (x + y + z) ds$ که در آن Σ قسمتی از صفحه‌ی $x + y = 1$ با شرط $x, y \geq 0$ و $0 \leq z \leq 1$ برابر کدام است؟ (معدن - سراسری ۸۱)

(۱) $\frac{3\sqrt{2}}{2}$ (۲) $\frac{3\sqrt{3}}{2}$ (۳) $\frac{2\sqrt{2}}{3}$ (۴) $\frac{2\sqrt{3}}{3}$

پاسخ: گزینه «۱» انتگرال داده شده، یک انتگرال رویه‌ای می‌باشد. صفحه تصویر را صفحه xOz در نظر می‌گیریم تصویر ناحیه Σ در صفحه xOz ،

مربع $0 \leq x \leq 1$ و $0 \leq z \leq 1$ می‌باشد. اگر Σ را به صورت $g(x, y, z) = x + y - 1 = 0$ در نظر بگیریم، آن گاه داریم:

$$ds = \frac{|\vec{\nabla} g|}{|\vec{\nabla} g \cdot \vec{j}|} dx dz = \sqrt{2} dx dz$$

بنابراین داریم:

$$I = \iint_{\Sigma} (x + y + z) ds = \int_0^1 \int_0^1 (x + (1-x) + z) \sqrt{2} dx dz = \sqrt{2} \int_0^1 \int_0^1 (1 + z) dx dz = \sqrt{2} x \left|_0^1 \times \left(z + \frac{z^2}{2}\right) \right|_0^1 = \frac{3\sqrt{2}}{2}$$

مثال ۱۰: مساحت آن قسمت از نیم کره $z^2 = x^2 + y^2 + z^2 = 2, z \geq 0$ که به وسیله مخروط $z^2 = x^2 + y^2$ قطع می‌شود، چقدر است؟ (کامپیوتر - سراسری ۸۲)

(۱) $\sqrt{2}\pi$ (۲) $\pi(2 - \sqrt{2})$ (۳) $2\pi(2 - \sqrt{2})$ (۴) $\pi(2 + \sqrt{2})$

پاسخ: گزینه «۳» صفحه تصویر را صفحه xOy در نظر می‌گیریم. برای به دست آوردن ناحیه تصویر در صفحه xOy به ترتیب زیر عمل می‌کنیم:

$$\begin{cases} x^2 + y^2 + z^2 = 2 \\ z^2 = x^2 + y^2 \end{cases} \Rightarrow x^2 + y^2 + x^2 + y^2 = 2 \Rightarrow x^2 + y^2 = 1$$

بنابراین ناحیه تصویر درون دایره $x^2 + y^2 = 1$ می‌باشد. از طرفی توجه کنید که داریم:

$$ds = \frac{|\vec{\nabla} g|}{|\vec{\nabla} g \cdot \vec{k}|} dA = \frac{\sqrt{4x^2 + 4y^2 + 4z^2}}{2z} = \frac{\sqrt{2}}{\sqrt{2 - x^2 - y^2}} dA$$

$$\text{مساحت} = \iint_S ds = \iint_D \frac{\sqrt{2}}{\sqrt{2 - x^2 - y^2}} dx dy = \int_0^{2\pi} \int_0^1 \frac{\sqrt{2}}{\sqrt{2 - r^2}} \times r dr d\theta = \sqrt{2} \int_0^{2\pi} d\theta \times \int_0^1 \frac{r}{\sqrt{2 - r^2}} dr = \sqrt{2} \times \theta \left|_0^{2\pi} \times \left(-\sqrt{2 - r^2}\right) \right|_0^1$$

$$\Rightarrow \text{مساحت} = 2\pi(2 - \sqrt{2})$$



📌 مثال ۱۱: مساحت قسمتی از رویه‌ی $z = x^2 + y^2$ که بین صفحات $z = 0$ و $z = 4$ قرار دارد کدام است؟ (معدن - سراسری ۸۲)

$$(۱) \frac{1}{6}\pi(17\sqrt{17}+1) \quad (۲) \frac{1}{6}\pi(\sqrt{17}-1) \quad (۳) \pi(17\sqrt{17}+1) \quad (۴) \frac{1}{6}\pi(17\sqrt{17}-1)$$

📌 پاسخ: گزینه «۴» معادله رویه داده شده را به صورت $g(x, y, z) = x^2 + y^2 - z = 0$ می‌نویسیم، و صفحه تصویر را صفحه xOy در نظر می‌گیریم. در

این صورت تصویر ناحیه موردنظر داخل دایره $x^2 + y^2 = 4$ خواهد بود. از طرفی داریم:

$$g(x, y, z) = x^2 + y^2 - z = 0 \Rightarrow \vec{\nabla}g = (2x, 2y, -1)$$

$$ds = \frac{|\vec{\nabla}g|}{|\vec{\nabla}g \cdot \vec{k}|} dA = \frac{\sqrt{4x^2 + 4y^2 + 1}}{1} dA = \sqrt{4x^2 + 4y^2 + 1} dA$$

بنابراین مساحت ناحیه موردنظر برابر است با:

با توجه به ناحیه انتگرال‌گیری و عبارت مقابل انتگرال بهتر است از مختصات قطبی برای محاسبه استفاده کنیم:

$$\iint_D \sqrt{4x^2 + 4y^2 + 1} dA = \int_0^{2\pi} \int_0^2 \sqrt{4r^2 + 1} \times r dr d\theta = \int_0^{2\pi} d\theta \int_0^2 r \sqrt{4r^2 + 1} dr = \theta \left| \frac{1}{12} (4r^2 + 1)^{\frac{3}{2}} \right|_0^2 = \frac{1}{6}\pi(17\sqrt{17}-1)$$

📌 مثال ۱۲: مساحت قسمتی از رویه $z^2 - y^2 = x^2$ در ناحیه $x > 0$ و $y > 0$ و $z > 0$ محدود به صفحه $y + z = a$ ، کدام است؟ (معدن - سراسری ۸۳)

$$(۱) 2a^2 \quad (۲) \frac{1}{2}a^2 \quad (۳) \sqrt{2}a^2 \quad (۴) \frac{\sqrt{2}}{2}a^2$$

📌 پاسخ: گزینه «۴» صفحه تصویر را، صفحه yOz انتخاب می‌کنیم بنابراین بردار یکه عمود بر صفحه تصویر بردار \vec{i} می‌باشد. در این صورت ناحیه تصویر

مثلث محدود به خطوط $z = 0$ ، $y = 0$ و $y + z = a$ خواهد بود. رویه داده شده را به صورت $g(x, y, z) = -x^2 + y^2 + z^2 = 0$ می‌نویسیم. در این صورت:

$$ds = \frac{|\vec{\nabla}g|}{|\vec{\nabla}g \cdot \vec{i}|} dA = \frac{|(-2x, 2y, 2z)|}{2x} = \frac{\sqrt{4x^2 + 4y^2 + 4z^2}}{2x} = \frac{\sqrt{x^2 + y^2 + z^2}}{x} = \frac{\sqrt{x^2 + x^2}}{x} = \sqrt{2}$$

بنابراین داریم:

📌 مثال ۱۳: مساحت قسمتی از سطح، $z = 2 - (x^2 + y^2)$ که در بالای صفحه xOy قرار دارد چقدر است؟ (عمران - سراسری ۸۴)

$$(۱) \frac{11\pi}{3} \quad (۲) \frac{12\pi}{3} \quad (۳) \frac{11\pi}{5} \quad (۴) \frac{12\pi}{5}$$

📌 پاسخ: گزینه «۲»

$$g(x, y, z) = x^2 + y^2 + z - 2 \Rightarrow \vec{\nabla}g = (2x, 2y, 1) \Rightarrow ds = \frac{|\vec{\nabla}g|}{|\vec{\nabla}g \cdot \vec{k}|} dA = \sqrt{1 + 4(x^2 + y^2)} dA$$

$$\text{مساحت} = \iint_D \sqrt{1 + 4(x^2 + y^2)} dA = \int_0^{2\pi} \int_0^{\sqrt{2}} \sqrt{1 + 4r^2} \times r dr d\theta = \frac{12\pi}{3}$$

📌 مثال ۱۴: قسمتی از مساحت رویه $z = \sqrt{x^2 + y^2}$ داخل استوانه $x^2 + y^2 = 2x$ کدام است؟ (MBA - سراسری ۸۴)

$$(۱) \frac{2\pi}{2} \quad (۲) \pi\sqrt{2} \quad (۳) 2\pi \quad (۴) 2\pi\sqrt{2}$$

📌 پاسخ: گزینه «۲» صفحه تصویر را صفحه xOy در نظر می‌گیریم، در این صورت ناحیه تصویر درون دایره $x^2 + y^2 = 2x$ می‌باشد. معادله مخروط را

به صورت $g(x, y, z) = x^2 + y^2 - z^2 = 0$ می‌نویسیم. در این صورت داریم:

$$ds = \frac{|\vec{\nabla}g|}{|\vec{\nabla}g \cdot \vec{k}|} dA = \frac{\sqrt{4x^2 + 4y^2 + 4z^2}}{2z} dA = \frac{\sqrt{4z^2 + 4z^2}}{2z} dA = \sqrt{2} dA$$

بنابراین داریم:

توجه کنید که معادله دایره $x^2 + y^2 = 2x$ را می‌توان به صورت $(x-1)^2 + y^2 = 1$ نوشت که دایره‌ای به شعاع ۱ می‌باشد.

مثال ۱۵: اگر سطح Γ بخشی از رویه $z = \sqrt{x^2 + y^2}$ محدود به $z = 0$ و $z = 1$ باشد، آنگاه انتگرال رویه‌ای $\iint_{\Gamma} (x^2 + y^2) d\sigma$ کدام است؟

(معدن - سراسری ۸۴)

$$\frac{2\pi(\sqrt{2}-1)}{3} \quad (۴) \qquad \frac{4\pi(\sqrt{2}+1)}{15} \quad (۳) \qquad \frac{2\pi(\sqrt{2}+1)}{15} \quad (۲) \qquad \frac{9}{10}\pi \quad (۱)$$

پاسخ: هیچ کدام از گزینه‌ها صحیح نیست. صفحه تصویر را صفحه xOy انتخاب می‌کنیم در این صورت ناحیه تصویر درون دایره $x^2 + y^2 = 1$ خواهد بود. رویه داده شده را به صورت $g(x, y, z) = x^2 + y^2 - z^2 = 0$ می‌نویسیم، در این صورت داریم:

$$d\sigma = \frac{|\nabla g|}{|\nabla g \cdot \mathbf{k}|} = \frac{\sqrt{4x^2 + 4y^2 + 4z^2}}{2z} dA = \frac{\sqrt{4z^2}}{2z} dA = \sqrt{2} dA$$

$$\iint_{\Gamma} (x^2 + y^2) d\sigma = \iint_{x^2+y^2 \leq 1} (x^2 + y^2) \sqrt{2} dA = \sqrt{2} \int_0^{2\pi} \int_0^1 r^2 \times r dr d\theta = \frac{\pi\sqrt{2}}{2}$$

بنابراین داریم:

مثال ۱۶: فرض کنیم $f = \text{Ln} \sqrt{x^2 + y^2 + z^2}$ ، مطلوب است $\iint_S \frac{\partial f}{\partial n} d\sigma$ که در آن \vec{n} بردار واحد قائم بر رویه S می‌باشد، و $d\sigma$ جزء سطح است و S

(نفت - سراسری ۸۵)

قسمت واقع شده از کره $\rho^2 = a^2$ در $\frac{1}{\lambda}$ اول فضا است.

$$\frac{\pi^2 a^2}{36} \quad (۴) \qquad \frac{\pi^2 a}{36} \quad (۳) \qquad \frac{\pi a^2}{6} \quad (۲) \qquad \frac{\pi a}{4} \quad (۱)$$

پاسخ: هیچکدام از گزینه‌ها صحیح نیست. منظور از $\frac{\partial f}{\partial n}$ ، مشتق سوئی f در جهت بردار واحد \vec{n} می‌باشد. بنابراین داریم:

صفحه تصویر را صفحه xOy در نظر می‌گیریم. تصویر $\frac{1}{\lambda}$ اول از کره بر صفحه xOy داخل دایره $x^2 + y^2 = a^2$ در ربع اول خواهد بود. از طرفی داریم:

$$f = \text{Ln} \sqrt{x^2 + y^2 + z^2} = \frac{1}{2} \text{Ln}(x^2 + y^2 + z^2) \Rightarrow \nabla f = \left(\frac{x}{x^2 + y^2 + z^2}, \frac{y}{x^2 + y^2 + z^2}, \frac{z}{x^2 + y^2 + z^2} \right)$$

اگر معادله کره داده شده را به صورت $g(x, y, z) = x^2 + y^2 + z^2 - a^2 = 0$ در نظر بگیریم، آنگاه خواهیم داشت:

$$\vec{n} = \frac{\nabla g}{|\nabla g|} = \frac{(2x, 2y, 2z)}{2\sqrt{x^2 + y^2 + z^2}} = \frac{(x, y, z)}{a} \Rightarrow \nabla f \cdot \vec{n} = \left(\frac{x^2}{x^2 + y^2 + z^2} + \frac{y^2}{x^2 + y^2 + z^2} + \frac{z^2}{x^2 + y^2 + z^2} \right) \frac{1}{a} = \frac{1}{a}$$

$$\Rightarrow \iint_S \frac{\partial f}{\partial n} d\sigma = \iint_S \frac{1}{a} d\sigma = \frac{1}{a} \times (\text{مساحت } S)$$

مساحت کره‌ای به شعاع a برابر است با $4\pi a^2$ ، در نتیجه مساحت $\frac{1}{\lambda}$ اول آن یعنی S برابر است با $\frac{1}{\lambda} 4\pi a^2$ ، بنابراین داریم:

$$\iint_S \frac{\partial f}{\partial n} d\sigma = \frac{1}{a} \frac{\pi a^2}{2} = \frac{\pi a}{2}$$

مثال ۱۷: مطلوب است مساحت قسمتی از کره $\rho^2 = 4a^2$ که به وسیله استوانه $r^2 = 2ars \sin \theta$ بریده می‌شود (قسمت بالای صفحه xOy) $a \neq 1$.

(نفت - سراسری ۸۵)

$$4a^2(\pi - 2) \quad (۴) \qquad 4a^2 \quad (۳) \qquad a^2 \pi \quad (۲) \qquad 4\pi \quad (۱)$$

پاسخ: گزینه «۴» معادله کره داده شده در مختصات دکارتی $g(x, y, z) = x^2 + y^2 + z^2 - 4a^2 = 0$ و معادله استوانه $a^2 = x^2 + (y-a)^2$ می‌باشد. صفحه تصویر را صفحه xOy در نظر می‌گیریم. واضح است که تصویر سطح کره بر صفحه xOy درون دایره‌ی $x^2 + (y-a)^2 = a^2$ قرار دارد. از طرفی

$$ds = \frac{|\nabla g|}{|\nabla g \cdot \mathbf{k}|} dA = \frac{\sqrt{4x^2 + 4y^2 + 4z^2}}{2z} dA = \frac{2a}{z} dA = \frac{2a}{\sqrt{4a^2 - x^2 - y^2}} dA$$

داریم:

$$\text{مساحت} = \iint \frac{|\nabla g|}{|\nabla g \cdot \mathbf{k}|} dA \xrightarrow{\text{مختصات قطبی}} \int_0^\pi \int_0^{2a \sin \theta} \frac{2a}{\sqrt{4a^2 - r^2}} \times r dr d\theta = 2a \int_0^\pi \left. -\sqrt{4a^2 - r^2} \right|_0^{2a \sin \theta} d\theta$$

بنابراین داریم:

$$= 2a \int_0^\pi (2a - 2a |\cos \theta|) d\theta = 4a^2 \left(\int_0^\pi (1 - \cos \theta) d\theta + \int_{\frac{\pi}{2}}^\pi (1 + \cos \theta) d\theta \right) = 4a^2 (\pi - 2)$$



مثال ۱۸: مساحت قسمتی از رویه $z = x^2 - y^2$ که در داخل استوانه $x^2 + y^2 = 4$ قرار دارد، کدام است؟ (ریاضی - سراسری ۸۶)

(۱) $\frac{3\pi}{2}(\sqrt{17}-1)$ (۲) $\frac{7\pi}{6}(\sqrt{17}-1)$ (۳) $\frac{17\pi}{6}(\sqrt{17}-1)$ (۴) $\frac{\pi}{6}(17\sqrt{17}-1)$

پاسخ: گزینه «۴» لازم است از انتگرال روی سطح استفاده کنیم، بنابراین مساحت مورد نظر برابر $\iint_S ds$ است. قرار می‌دهیم $f = x^2 - y^2 - z = 0$.

$ds = \frac{|\vec{\nabla}g|}{|\vec{\nabla}g \cdot \vec{k}|} dxdy = \sqrt{1+4x^2+4y^2} dxdy$ در این صورت داریم:

برای محاسبه $\iint_D ds$ از مختصات قطبی استفاده می‌کنیم: $\int_0^{2\pi} \int_0^2 \sqrt{1+4r^2} \times r dr d\theta = \frac{\pi}{6}(17\sqrt{17}-1)$

مثال ۱۹: مساحت قسمتی از رویه به معادله $z = \sqrt{1-x^2-y^2}$ وقتی که تصویر این قسمت از رویه بر صفحه xOy ناحیه محدود به دایره $x^2 + y^2 = 1$ باشد کدام است؟ (ریاضی - سراسری ۸۶)

(۱) $(\sqrt{3}-1)\pi$ (۲) $(2-\sqrt{3})\pi$ (۳) $(\sqrt{3}+1)\pi$ (۴) $(2+\sqrt{3})\pi$

پاسخ: گزینه «۲» در واقع می‌خواهیم $\iint_D ds$ را محاسبه کنیم که ناحیه انتگرال گیری درون دایره $x^2 + y^2 = \frac{1}{4}$ می‌باشد که در مختصات قطبی به صورت $r = \frac{1}{4}$ در می‌آید. رویه $z = \sqrt{1-x^2-y^2}$ در واقع قسمت بالایی کره به شعاع ۱ می‌باشد. بنابراین $ds = \frac{dxdy}{\sqrt{1-x^2-y^2}}$ و در نتیجه داریم:

$\iint_D ds = \iint_D \frac{dxdy}{\sqrt{1-x^2-y^2}} = \int_0^{2\pi} d\theta \int_0^{\frac{1}{4}} \frac{r dr}{\sqrt{1-r^2}} = \int_0^{2\pi} d\theta \int_0^{\frac{1}{4}} \frac{r dr}{\sqrt{1-r^2}} = \pi(2-\sqrt{3})$

مثال ۲۰: مساحت بخشی از رویه $z = x^2 + y^2$ که زیر صفحه $z = 2$ قرار دارد، کدام است؟ (صنایع - سیستم - سراسری ۸۶)

(۱) $\frac{3}{13}$ (۲) $\frac{13\pi}{3}$ (۳) $\frac{13}{3}$ (۴) $\frac{3\pi}{13}$

پاسخ: گزینه «۲» اگر سطح S به صورت $z = h(x, y)$ باشد، آن گاه داریم:

$ds = \sqrt{1+(\frac{\partial z}{\partial x})^2+(\frac{\partial z}{\partial y})^2} dxdy$ و مساحت رویه برابر $\int ds$ است. بنابراین داریم:

\Rightarrow مساحت $= \int_0^{2\pi} \int_0^{\sqrt{2}} r\sqrt{1+4r^2} dr d\theta = \int_0^{2\pi} d\theta \int_0^{\sqrt{2}} r\sqrt{1+4r^2} dr = \theta \left[\frac{1}{12}(1+4r^2)^{\frac{3}{2}} \right]_0^{\sqrt{2}} = 2\pi \left(\frac{27}{12} - \frac{1}{12} \right) = \frac{13\pi}{3}$

مثال ۲۱: مساحت بخشی از رویه $z = x^2 + y^2 + z^2 = 4$ که توسط استوانه $x^2 + y^2 = 1$ جدا می‌شود چقدر است؟ (علوم کامپیوتر - سراسری ۸۹)

(۱) 2π (۲) 6π (۳) 8π (۴) 10π

پاسخ: هیچکدام از گزینه‌ها صحیح نیست. معادله S به صورت $g: x^2 + y^2 + z^2 = 1$ است. استوانه $x^2 + y^2 = 1$ نشان می‌دهد که تصویر S بر صفحه xOy یعنی ناحیه D درون دایره $z = 0$ است. اما دقت کنید که از معادله S داریم $z = \pm\sqrt{1-x^2-y^2}$ در واقع S دارای دو نیمه‌ی متقارن در $z \geq 0$ و $z \leq 0$ است. ما مساحت قسمت بالایی را با معادله $z = \sqrt{1-x^2-y^2}$ حساب کرده و دو برابر می‌کنیم. چون تصویر روی صفحه xOy افتاده است پس $\vec{p} = \vec{k}$ خواهد بود.

$d\sigma = \frac{|\vec{\nabla}g|}{|\vec{\nabla}g \cdot \vec{k}|} dA = \frac{\sqrt{(4x^2+4y^2+4z^2)}}{|z|} dA = \frac{2\sqrt{x^2+y^2+z^2}}{2\sqrt{1-x^2-y^2}} dA = \frac{dA}{\sqrt{1-x^2-y^2}}$

مساحت $S = 2 \iint_S d\sigma = 2 \iint_D \frac{dA}{\sqrt{1-x^2-y^2}}$

با استفاده از مختصات قطبی داریم $dxdy = r dr d\theta$ و $0 \leq r \leq 1$ و $0 \leq \theta \leq 2\pi$ در نتیجه خواهیم داشت:

مساحت $S = 2 \iint_{x^2+y^2 \leq 1} \frac{r dr d\theta}{\sqrt{4-r^2}} = 2 \int_0^{2\pi} d\theta \int_0^1 \frac{r dr}{\sqrt{4-r^2}} = 2 \left(\int_0^{2\pi} d\theta \right) \left(\int_0^1 \frac{r dr}{\sqrt{4-r^2}} \right) = 4\pi(-2\sqrt{4-r^2}) \Big|_0^1 = 8\pi(2-\sqrt{3})$

مثال ۲۲: مساحت قسمتی از کره به معادله $x^2 + y^2 + z^2 = 4$ بریده شده با استوانه $x^2 + y^2 = 2y$ کدام است؟ (کشاورزی - سراسری ۸۹)

(۱) $2(\pi-2)$ (۲) $4(\pi-2)$ (۳) $8(\pi-2)$ (۴) $4(\pi-1)$

پاسخ: گزینه «۳» به طور کلی مساحت قسمتی از کره $x^2 + y^2 + z^2 = a^2$ که درون استوانه $ax + by = ay$ یا $x^2 + y^2 = ay$ قرار می‌گیرد برابر $2a^2(\pi-2)$ می‌باشد.

توضیح: مثال فوق بارها در تست‌های چند سال اخیر مورد سؤال قرار گرفته است. پیشنهاد می‌شود نتیجه آن حفظ شود.

درسنامه ۲: انتگرال سطح برای توابع برداری و قضیه دیورژانس

کلمه مثال ۱ (سخت): فرض کنید S رویه‌ی پارامتری زیر باشد که در آن ناحیه D ناحیه $u^2 + v^2 = 1$ برای $u \geq 0$ و $v \geq 0$ می‌باشد.

$$S: \vec{r}(u, v) = (u^2 + v^2)\vec{i} + (u^2 - v^2)\vec{j} + u^2v^2\vec{k}$$

و $\vec{F} = \frac{1}{y}(x+y)\vec{i} + (y^2 + 4z)\vec{j} + \frac{1}{y}z\vec{k}$ در این صورت حاصل $I = \iint_S \vec{F} \cdot \vec{n} d\sigma$ کدام است؟

- (۱) $\frac{1}{9}$ (۲) $\frac{1}{6}$ (۳) $\frac{1}{12}$ (۴) $\frac{1}{24}$

پاسخ: گزینه «۳» ابتدا توجه کنید که داریم: $\frac{\partial \vec{r}}{\partial u} = (2u, 2uv^2, 2uv^2)$, $\frac{\partial \vec{r}}{\partial v} = (2v, -2v, 2uv^2)$

$$\vec{n} d\sigma = \left(\frac{\partial \vec{r}}{\partial u} \times \frac{\partial \vec{r}}{\partial v} \right) du dv = 4uv[(u^2 + v^2), -(u^2 - v^2), -2] du dv$$

$$\vec{F}(\vec{r}(u, v)) = (u^2, (u^2 + v^2)^2, \frac{u^2v^2}{y})$$

$$I = \iint_S \vec{F} \cdot \vec{n} d\sigma = \iint_D 4uv(u^2 + v^2) - (u^2 - v^2)(u^2 + v^2)^2 - u^2v^2 du dv \xrightarrow{u^2 + v^2 = 1} I = \iint_D 4uv(u^2 - u^2 + v^2 - u^2v^2) du dv$$

$$\Rightarrow I = \iint_D 4uv(v^2 - u^2v^2) du dv = \iint_D 4uv^3(1 - u^2) du dv \xrightarrow{1 - u^2 = v^2} I = \iint_D 4uv^5 du dv$$

با استفاده از تغییر متغیر $u = r \cos \theta$ و $v = r \sin \theta$ و $du dv = r dr d\theta$ داریم. $0 \leq \theta \leq \frac{\pi}{2}$, $0 \leq r \leq 1$. پس حاصل انتگرال به صورت زیر حساب می‌شود:

$$\iint_D 4uv^5 du dv = \int_0^{\frac{\pi}{2}} \int_0^1 (4r \cos \theta)(r^5 \sin^5 \theta) r dr d\theta = \int_0^{\frac{\pi}{2}} \int_0^1 4r^6 \cos \theta \sin^5 \theta d\theta dr = \left[\frac{r^7}{7} \right]_0^1 \times \left[\frac{\sin^6 \theta}{6} \right]_0^{\frac{\pi}{2}} = \frac{1}{12}$$

کلمه مثال ۲ (سخت): اگر S سطح بیضوی $\frac{x^2}{a^2} + \frac{y^2}{b^2} + \frac{z^2}{c^2} = 1$ باشد، آن گاه حاصل $I = \iint_S \left(\frac{dydz}{x} + \frac{dx dz}{y} + \frac{dx dy}{z} \right)$ چند برابر abc است؟ ($a, b, c > 0$)

- (۱) $\pi \left(\frac{1}{a^2} + \frac{1}{b^2} + \frac{1}{c^2} \right)$ (۲) $2\pi \left(\frac{1}{a^2} + \frac{1}{b^2} + \frac{1}{c^2} \right)$ (۳) $3\pi \left(\frac{1}{a^2} + \frac{1}{b^2} + \frac{1}{c^2} \right)$ (۴) $4\pi \left(\frac{1}{a^2} + \frac{1}{b^2} + \frac{1}{c^2} \right)$

پاسخ: گزینه «۴» برای میدان برداری $\vec{F} = (P, Q, R)$ داریم:

$$I = \iint_S \left(\frac{dydz}{x} + \frac{dx dz}{y} + \frac{dx dy}{z} \right) = \iint_S \vec{F} \cdot \vec{n} d\sigma$$

در این مثال برای میدان برداری $\vec{F} = \left(\frac{1}{x}, \frac{1}{y}, \frac{1}{z} \right)$ داریم:

حالا لازم است $\vec{F} \cdot \vec{n} d\sigma$ را به دست آوریم که \vec{n} بردار یک‌ه‌ی قائم بر سطح بیضی گون S با معادله‌ی $g: \frac{x^2}{a^2} + \frac{y^2}{b^2} + \frac{z^2}{c^2} = 1$ است. معادله بیضی گون برای $\pm z$

تغییری نمی‌کند، بنابراین S دارای دو نیمه‌ی متقارن در $z > 0$ و $z < 0$ است. از این تقارن استفاده می‌کنیم و مقدار انتگرال را روی نیمه‌ی بالایی آن (که آن را S_1 می‌نامیم) حساب کرده و نتیجه را ۲ برابر می‌کنیم. اگر در معادله‌ی بیضی گون، $z = 0$ قرار دهیم، می‌بینیم که تصویر S_1 روی صفحه xoy بیضی

است که آن را با D نشان می‌دهیم. برای صفحه‌ی xoy داریم $\vec{p} = \vec{k}$ در نتیجه داریم:

$$\vec{n} d\sigma = \frac{\vec{\nabla} g}{|\vec{\nabla} g \cdot \vec{k}|} dA = \frac{\left(\frac{2x}{a^2}, \frac{2y}{b^2}, \frac{2z}{c^2} \right)}{\left| \frac{2z}{c^2} \right|} dy dx = \frac{\left(\frac{x}{a^2}, \frac{y}{b^2}, \frac{z}{c^2} \right)}{\frac{1}{c^2} z} dy dx \Rightarrow \vec{F} \cdot \vec{n} d\sigma = \frac{\frac{1}{a^2} + \frac{1}{b^2} + \frac{1}{c^2}}{\frac{1}{c^2} z}$$

$$I = 2 \iint_{S_1} \vec{F} \cdot \vec{n} d\sigma = 2 \left(\frac{1}{a^2} + \frac{1}{b^2} + \frac{1}{c^2} \right) \iint_D \frac{dy dx}{\frac{1}{c} \sqrt{1 - \frac{x^2}{a^2} - \frac{y^2}{b^2}}} \quad \text{البته روی سطح } S_1 \text{ داریم؛ } z = c \sqrt{1 - \frac{x^2}{a^2} - \frac{y^2}{b^2}}$$

اکنون تغییر دستگاه بیضوی $(u, v) = \left(\frac{x}{a}, \frac{y}{b} \right)$ را انجام می‌دهیم. ژاکوبین دستگاه جدید برابر با ab است.

$$I = 2 \left(\frac{1}{a^2} + \frac{1}{b^2} + \frac{1}{c^2} \right) \iint_{D'} \frac{abc}{\sqrt{1 - u^2 - v^2}} du dv$$

از معادله $\frac{x^2}{a^2} + \frac{y^2}{b^2} = 1$ داریم $u^2 + v^2 = 1$ پس ناحیه D در دستگاه جدید تبدیل به ناحیه D' می‌شود که درون دایره‌ی واحد است. بنابراین از مختصات قطبی استفاده می‌کنیم:

$$\Rightarrow I = 2 \left(\frac{1}{a^2} + \frac{1}{b^2} + \frac{1}{c^2} \right) \int_0^{2\pi} \int_0^1 \frac{abc}{\sqrt{1-r^2}} r dr d\theta = 2abc \left(\frac{1}{a^2} + \frac{1}{b^2} + \frac{1}{c^2} \right) \int_0^{2\pi} [-(1-r^2)^{-1/2}]_0^1 d\theta = 4\pi abc \left(\frac{1}{a^2} + \frac{1}{b^2} + \frac{1}{c^2} \right)$$

مثال ۳: شار گذرنده برون‌سوی میدان $\vec{F} = (x, y, z)$ از کره $x^2 + y^2 + z^2 = 9$ کدام است؟

(۴) 324π

(۳) 108π

(۲) 36π

(۱) 360π

پاسخ: گزینه «۳» شار گذرنده برون‌سوی از میدان \vec{F} برابر $\iint_S \vec{F} \cdot \vec{n} d\sigma$ است، که چون ناحیه بسته است پس طبق قضیه دیورژانس شار برابر است با:

$$\vec{F} = (x, y, z) \Rightarrow \text{div} \vec{F} = 1 + 1 + 1 = 3$$

$$\text{شار} = \iint_S \vec{F} \cdot \vec{n} d\sigma = \iiint_V (\text{div} \vec{F}) dv = \iiint_V 3 dv = 3 \times (\text{حجم کره‌ای به شعاع ۳}) = 3 \left[\frac{4}{3} \pi (3)^3 \right] = 108\pi$$

مثال ۴: اگر $\vec{F} = -y^2 \vec{i} + x^2 \vec{j} + z^2 \vec{k}$ حاصل $\iint_S \vec{F} \cdot \vec{n} d\sigma$ که در آن S سطح کره $x^2 + y^2 + z^2 = 1$ و \vec{n} بردار قائم یک‌ه بر کره به طرف بیرون می‌باشد، کدام است؟

(۴) $\frac{3\pi}{4}$

(۳) $\frac{3\pi}{2}$

(۲) $\frac{4\pi}{5}$

(۱) $\frac{2\pi}{5}$

پاسخ: گزینه «۲» برای محاسبه انتگرال مورد نظر از قضیه دیورژانس استفاده می‌کنیم.

$$I = \iint_S \vec{F} \cdot \vec{n} d\sigma = \iiint_V \text{div} \vec{F} dv = \iiint_V 2z^2 dv$$

برای محاسبه انتگرال فوق از تغییر مختصات کروی استفاده می‌کنیم:

$$I = \int_0^{2\pi} \int_0^\pi \int_0^1 2\rho^2 \cos^2 \phi \times \rho^2 \sin \phi d\rho d\phi d\theta = \int_0^{2\pi} d\theta \int_0^\pi 2 \cos^2 \phi \sin \phi d\phi \int_0^1 \rho^4 d\rho = 2\pi \times 2 \times \frac{1}{5} = \frac{4\pi}{5}$$

مثال ۵: اگر S سطح کره به معادله $x^2 + y^2 + z^2 = 1$ با قائم رو به خارج باشد، همچنین بردار \vec{F} به صورت

$$\vec{F} = [2x^2 + \text{Ln}(y^2 + z^2)]\vec{i} + [2y^2 + \text{Ln}(z^2 + x^2)]\vec{j} + [2z^2 + \text{Ln}(x^2 + y^2)]\vec{k}$$

تعریف شود، آن‌گاه شار میدان نیروی \vec{F} کدام است؟

(۴) $\frac{24\pi}{5}$

(۳) $\frac{12\pi}{5}$

(۲) $\frac{4\pi}{5}$

(۱) $\frac{8\pi}{5}$

پاسخ: گزینه «۴» چون ناحیه بسته است پس می‌توان از قضیه دیورژانس کمک گرفت، ابتدا $\text{div} \vec{F}$ را حساب می‌کنیم:

$$\text{div} \vec{F} = 6x^2 + 6y^2 + 6z^2 = 6(x^2 + y^2 + z^2) \Rightarrow \text{شار} = 6 \iiint_V (x^2 + y^2 + z^2) dz dy dx$$

با توجه به ناحیه و عبارت زیر انتگرال بهتر است از مختصات کروی استفاده کنیم:

$$\text{شار} = 6 \int_0^{2\pi} \int_0^\pi \int_0^1 \rho^2 (\rho^2 \sin \phi) d\rho d\phi d\theta \Rightarrow \text{شار} = \left(\int_0^{2\pi} d\theta \right) \left(\int_0^\pi \sin \phi d\phi \right) \left(\int_0^1 6\rho^4 d\rho \right) = 2\pi \times [-\cos \phi]_0^\pi \times \left[\frac{6\rho^5}{5} \right]_0^1 = 2\pi \times 2 \times \frac{6}{5} = \frac{24\pi}{5}$$

مثال ۶: شار رو به خارج $\vec{F} = x^2 \vec{i} + y^2 \vec{j} + z^2 \vec{k}$ در سراسر مرز ناحیه توپر چهار وجهی $x \geq 0, y \geq 0, z \geq 0$ و $x + y + z \leq 3$ کدام است؟

(۴) $\frac{81}{2}$

(۳) $\frac{81}{4}$

(۲) $\frac{9}{4}$

(۱) $\frac{9}{2}$

پاسخ: گزینه «۳» چون $\vec{F} = x^2 \vec{i} + y^2 \vec{j} + z^2 \vec{k}$ ، بنابراین $\text{div} \vec{F} = 2x + 2y + 2z$. چون ناحیه موردنظر بسته است، پس طبق قضیه دیورژانس داریم:

$$\text{شار} = \iint_S \vec{F} \cdot \vec{n} d\sigma = \iiint_V (\text{div} \vec{F}) dv = 2 \iiint_V (x + y + z) dv$$

از شرط‌های داده شده نتیجه می‌شود $0 \leq z \leq 3 - x - y$ و با حذف z بین روابط داده شده در سؤال به رابطه $x + y \leq 3$ می‌رسیم که

$$\text{شار} = 2 \int_0^3 \int_0^{3-x} \int_0^{3-x-y} (x + y + z) dz dy dx = 2 \int_0^3 \int_0^{3-x} ((x + y)(3 - x - y) + \frac{(3 - x - y)^2}{2}) dy dx$$

به دست می‌آید.

$$\text{شار} = \int_0^3 \int_0^{3-x} (9 - (x + y)^2) dy dx = \int_0^3 \left(9y - \frac{(x + y)^3}{3} \right) \Big|_0^{3-x} dx = \int_0^3 (9(3 - x) - 9 + \frac{x^3}{3}) dx = \int_0^3 (18 - 9x + \frac{x^3}{3}) dx$$

$$\Rightarrow \text{شار} = \left(18x - \frac{9}{2}x^2 + \frac{x^4}{12} \right) \Big|_0^3 = \frac{81}{4}$$

مثال ۷: اگر S ناحیه محدود به صفحات $x=y=z=0$ و $2x+2y+z=6$ باشد، آن‌گاه با فرض $\vec{F} = (2xy+z)\vec{i} + y^2\vec{j} - (x+2y)\vec{k}$ ، حاصل $I = \iint_S \vec{F} \cdot \vec{n} d\sigma$ کدام است؟

- (۱) $\frac{135}{2}$ (۲) 27 (۳) $\frac{27}{2}$ (۴) 18

پاسخ: گزینه «۲» حل مستقیم سؤال با توجه به ناحیه داده شده، بسیار پر زحمت و مستلزم حل چهار انتگرال سطح می‌باشد، اما استفاده از قضیه دیورژانس کار را نسبتاً راحت‌تر است:

$$\operatorname{div} \vec{F} = \frac{\partial P}{\partial x} + \frac{\partial Q}{\partial y} + \frac{\partial R}{\partial z} = \frac{\partial(2xy+z)}{\partial x} + \frac{\partial(y^2)}{\partial y} + \frac{\partial(-x-2y)}{\partial z} = 2y + 2y + 0 = 4y$$

در انتگرال سه‌گانه، حدود Z عبارتند از $Z=0$ و $Z=6-2x-2y$. برای تعیین حدود x و y باید صفحه‌ی $Z=0$ را با صفحه‌ی $Z=6-2x-2y$ برخورد دهیم که خط $2x+2y=6$ ، یعنی $x+y=3$ به دست می‌آید. بنابراین در صفحه‌ی XOY ، خطوط $x=0$ ، $y=0$ و $x+y=3$ را داریم. مثلی به وجود می‌آید که در آن $0 \leq x \leq 3-x$ و $0 \leq y \leq 3-x$ است.

$$\Rightarrow I = \int_0^3 \int_0^{3-x} \int_0^{6-2x-2y} 4y dz dy dx = \int_0^3 dx \int_0^{3-x} 4y(6-2x-2y) dy dx$$

$$\Rightarrow I = 8 \int_0^3 \int_0^{3-x} (3-x)(3-x-y) - (3-x-y)^2 dy dx = 8 \int_0^3 \left[(3-x) \left(-\frac{(3-x-y)^2}{2} \right) + \frac{1}{3}(3-x-y)^3 \right]_{y=0}^{y=3-x} dx$$

$$\Rightarrow I = 8 \int_0^3 \left[+\frac{1}{6}(3-x)^3 - \frac{1}{3}(3-x)^3 \right] dx = \frac{8}{6} \int_0^3 (3-x)^3 dx = -\frac{1}{3} [(3-x)^4]_0^3 = 27$$

مثال ۸: فرض کنید S سطحی باشد که ناحیه V را به وسیله‌ی صفحات $z=0$ ، $y=0$ و $y=e$ و سهمی $z=1-x^2$ محصور کرده است. اگر \vec{n} قائم سطح S و رو به خارج باشد، آن‌گاه با فرض $\vec{F} = (x + \cos y, y + \sin z, z + e^x)$ ، حاصل $I = \iint_S \vec{F} \cdot \vec{n} d\sigma$ کدام است؟

- (۱) 0 (۲) $\frac{8e}{3}$ (۳) $\frac{4}{3}e$ (۴) $4e$

پاسخ: گزینه «۴» با توجه به این که ناحیه S سطحی بسته است بنابراین می‌توان از قضیه دیورژانس استفاده کرد. ابتدا $\operatorname{div} \vec{F}$ را حساب می‌کنیم:

$$\operatorname{div} \vec{F} = \frac{\partial(x + \cos y)}{\partial x} + \frac{\partial(y + \sin z)}{\partial y} + \frac{\partial(z + e^x)}{\partial z} = 1 + 1 + 1 = 3$$

$$I = \iiint_V 3 dv = 3 \int_{-1}^1 \int_0^e \int_0^{1-x^2} dz dy dx = 3 \int_{-1}^1 \int_0^e [z]_0^{1-x^2} dy dx = 3 \int_{-1}^1 \int_0^e (1-x^2) dy dx = 3 \int_{-1}^1 (1-x^2) dx \times \int_0^e dy$$

$$\Rightarrow I = 3 \times 2 \int_0^1 (1-x^2) dx \times [y]_0^e = 6 \left[x - \frac{x^3}{3} \right]_0^1 \times e = 4e$$

مثال ۹: اگر رویه S محدود به مخروط $z = \sqrt{x^2 + y^2}$ و صفحه‌ی $z=1$ با بردار قائم رو به خارج \vec{n} باشد و \vec{F} میدان برداری $\vec{F} = (x^2 + 2y^2)\vec{i} + (y^2 + 2z)\vec{j} + (z^2 + 2x^2)\vec{k}$ باشد، آن‌گاه حاصل $I = \iint_S \vec{F} \cdot \vec{n} d\sigma$ کدام است؟

- (۱) $\frac{2\pi}{5}$ (۲) $\frac{4\pi}{5}$ (۳) $\frac{3\pi}{10}$ (۴) $\frac{9\pi}{10}$

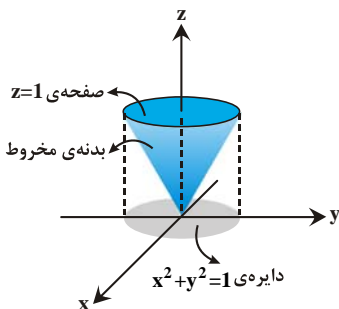
پاسخ: گزینه «۴» حل مستقیم انتگرال روی سطح پر زحمت است، اما استفاده از قضیه دیورژانس کمک زیادی به ما می‌کند.

$$I = \iiint_V (\operatorname{div} \vec{F}) dv = 3 \iiint_V (x^2 + y^2 + z^2) dx dy dz$$

ناحیه‌ی V از پایین به مخروط $z = \sqrt{x^2 + y^2}$ و از بالا به صفحه‌ی $z=1$ محدود شده است. برای این ناحیه از مختصات استوانه‌ای استفاده می‌کنیم. از برخورد مخروط با صفحه‌ی $z=1$ ، دایره‌ی $x^2 + y^2 = 1$ به دست می‌آید. پس $0 \leq \theta \leq 2\pi$ و $0 \leq r \leq 1$ است. کران پایین Z از معادله‌ی مخروط به دست می‌آید: $z = \sqrt{x^2 + y^2} = r$ و کران بالای آن $Z=1$ است.

$$I = 3 \int_0^{2\pi} \int_0^1 \int_r^1 (r^2 + z^2) r dz dr d\theta = 3 \int_0^{2\pi} \int_0^1 \left[r^3 z + r \frac{z^3}{3} \right]_r^1 dr d\theta = 3 \int_0^{2\pi} \int_0^1 \left(r^3 + \frac{r}{3} - \frac{4r^4}{3} \right) dr d\theta$$

$$\Rightarrow I = 3 \int_0^{2\pi} \left[\frac{r^4}{4} + \frac{r^2}{6} - \frac{4}{15} r^5 \right]_0^1 d\theta = 3 \left(\frac{1}{4} + \frac{1}{6} - \frac{4}{15} \right) (2\pi) \Rightarrow I = \frac{9\pi}{10}$$





کلمه مثال ۱۰ (سخت): اگر S سطح ناحیه‌ی محدود به استوانه $y^2 + z^2 = 9$ و صفحه‌ی $x = 2$ و صفحات مختصات در یک هشتم اول با بردار قائم رو به خارج \vec{n} باشد و $\vec{F} = (2xz)\vec{i} - y^2\vec{j} + 4xz\vec{k}$ ، آن گاه حاصل $I = \iint_S \vec{F} \cdot \vec{n} d\sigma$ کدام است؟

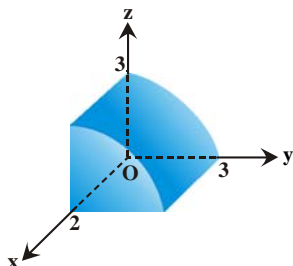
۱۸۰ (۴)

۳۶ + ۱۸۰ (۳)

۷۲ + ۱۸۰ (۲)

۷۲ (۱)

پاسخ: گزینه «۳» ناحیه مورد نظر در شکل مقابل نشان داده شده است. سطح S از ۵ قسمت تشکیل شده است، قسمتی از استوانه‌ی $y^2 + z^2 = 9$ ، قسمتی از صفحه‌ی $x = 2$ ، همچنین صفحات مختصات یعنی $x = 0$ ، $y = 0$ و $z = 0$ ، پس اگر بخواهیم انتگرال سطح را مستقیماً حل کنیم، باید پنج انتگرال را حل کنیم! اما استفاده از قضیه دیورژانس به مراتب راحت‌تر است. زیرا با استفاده از این قضیه، به جای ۵ انتگرال روی سطح، فقط یک انتگرال سه‌گانه روی حجم مورد نظر می‌گیریم:



$$\operatorname{div} \vec{F} = \frac{\partial(2xz)}{\partial x} + \frac{\partial(-y^2)}{\partial y} + \frac{\partial(4xz)}{\partial z} = 4xy - 2y + 4x$$

بنابراین داریم:

$$I = \iiint_V (\operatorname{div} \vec{F}) dv = \int_0^2 \int_0^{\sqrt{9-z^2}} \int_0^{\sqrt{9-z^2}} (4xy - 2y + 4x) dx dy dz$$

$$I = \int_0^2 dz \int_0^{\sqrt{9-z^2}} dy \int_0^{\sqrt{9-z^2}} (4xy - 2y + 4x) dx = \int_0^2 dz \int_0^{\sqrt{9-z^2}} dy [2x^2y - 2xy + 2x^2]_0^{\sqrt{9-z^2}} = \int_0^2 dz \int_0^{\sqrt{9-z^2}} (4y + 4) dy = \int_0^2 dz [2y^2 + 4y]_0^{\sqrt{9-z^2}}$$

$$\Rightarrow I = \int_0^2 [18 - 2z^2 + 4\sqrt{9-z^2}] dz = \int_0^2 [18 - 2z^2] dz + 4 \int_0^2 \sqrt{9-z^2} dz = [18z - \frac{2z^3}{3}]_0^2 + 4 \int_0^2 \sqrt{9-z^2} dz = 18 \times 2 - \frac{2 \times 2^3}{3} + 4 \int_0^2 \sqrt{9-z^2} dz$$

$$I = 36 + 4 \int_0^2 \sqrt{9-z^2} dz$$

برای حل انتگرال باقیمانده از تغییر متغیر $z = 3 \cos \theta$ استفاده می‌کنیم که $dz = -3 \sin \theta d\theta$ را نتیجه می‌دهد و طبیعی است حدود θ هم از $\frac{\pi}{2}$ تا صفر می‌شود.

$$\int_0^2 \sqrt{9-z^2} dz = \int_{\frac{\pi}{2}}^0 \sqrt{9-9\cos^2\theta} (-3\sin\theta) d\theta = -\int_0^{\frac{\pi}{2}} (3\sin\theta)(-3\sin\theta) d\theta = +9 \int_0^{\frac{\pi}{2}} \sin^2\theta d\theta = 9 \int_0^{\frac{\pi}{2}} \left(\frac{1-\cos 2\theta}{2}\right) d\theta$$

$$= \frac{9}{2} \left[\theta - \frac{1}{2} \sin 2\theta \right]_0^{\frac{\pi}{2}} = \frac{9}{2} \times \frac{\pi}{2} = \frac{9\pi}{4}$$

$$I = 36 + 4 \times \frac{9\pi}{4} = 36 + 36\pi$$

کلمه مثال ۱۱ (سخت): حاصل $I = \iint_S (x-y+z) dy dz + (y-z+x) dz dx + (z-x+y) dx dy$ که در آن S طرف بیرونی سطح

$$|x-y+z| + |y-z+x| + |z-x+y| = 1$$

۴ (۴)

۳ (۳)

۲ (۲)

۱ (۱)

پاسخ: گزینه «۱» فرض کنیم D ناحیه محدود شده توسط سطح بسته S باشد، همان‌طور که می‌بینید میدان برداری

$$\vec{F} = (P, Q, R) = (x-y+z, y-z+x, z-x+y)$$

را داریم که $\operatorname{div} \vec{F}$ برابر است با: $\frac{\partial P}{\partial x} + \frac{\partial Q}{\partial y} + \frac{\partial R}{\partial z} = 1+1+1=3$ ، می‌دانیم بنابر قضیه

$$\iiint_V \operatorname{div} \vec{F} dv = \iiint_V 3 dv$$

بنابراین داریم: $I = \iiint_V 3 dv$. با توجه به آن‌که مرز V دارای معادله‌ی

$$|x-y+z| + |y-z+x| + |z-x+y| = 1$$

است، نوشتن حدود انتگرال بر حسب x, y, z ساده نیست. بهتر است با استفاده از تغییر متغیر مناسب،

این معادله را ساده‌تر کنیم. با استفاده از تغییر دستگاه به صورت $u = x-y+z$ و $v = y-z+x$ و $w = z-x+y$ داریم: $|u| + |v| + |w| = 1$.

$$J_{xyz} = \begin{vmatrix} 1 & -1 & 1 \\ 1 & 1 & -1 \\ -1 & 1 & 1 \end{vmatrix} = 4 \Rightarrow J_{uvw} = \frac{1}{J_{xyz}} = \frac{1}{4}$$

ژاکوبین دستگاه جدید را حساب می‌کنیم:

بنابراین در دستگاه جدید، ناحیه‌ی V درون رویه‌ی $|u| + |v| + |w| = 1$ قرار دارد و داریم:

$$I = \iiint_V 3 dz dy dx = \iiint_V 3 \left(\frac{1}{4}\right) dw dv du = \frac{3}{4} \times (V \text{ حجم})$$

محاسبه‌ی حجم V ساده است. در معادله‌ی $|u| + |v| + |w| = 1$ تبدیل u به $-u$ ، v به $-v$ ، w به $-w$ تغییر می‌دهیم. پس این ناحیه نسبت به همه‌ی محورها متقارن است. حجم واقع در $\frac{1}{8}$ اول را حساب کرده و ۸ برابر می‌کنیم. در $\frac{1}{8}$ اول داریم $u + v + w = 1$ و طبق فرمولی که در بخش

انتگرال‌های سه‌گانه داشتیم، حجم محدود به این صفحه در $\frac{1}{8}$ اول برابر است با $\frac{1}{6}$. در نتیجه حجم V برابر است با $\frac{1}{6} \times 8 = \frac{4}{3}$ و با جایگذاری در I داریم:

$$I = \frac{3}{4} \times (V \text{ حجم}) = \frac{3}{4} \times \frac{4}{3} = 1$$

یادآوری: حجم محدود به صفحه‌ی $ax + by + cz = d$ در $\frac{1}{8}$ اول برابر با $\frac{d^3}{6abc}$ است.

کلمه مثال ۱۲: حاصل انتگرال $\iint_S (3xz^2 \vec{i} - x\vec{j} - y\vec{k}) \cdot \vec{n} ds$ ، در صورتی که S بخشی از استوانه $y^2 + z^2 = 1$ باشد که در یک هشتم اول و بین صفحات $x=0$ و $x=1$ قرار دارد، کدام است؟

○ (۱) $-\frac{1}{2}$ (۲) $\frac{3\pi}{16}$ (۳) $-\frac{1}{4}$ (۴) ۱-

پاسخ: گزینه «۴» دقت کنید که سطح S بسته نیست، چون سؤال گفته بخشی از استوانه که بین صفحات $x=0$ و $x=1$ قرار دارد و لذا نمی‌توانیم از قضیه دیورژانس استفاده کنیم؛ اما اگر صفحات مختصات و صفحه‌ی $x=1$ را به آن اضافه کنیم، سطح بسته می‌شود و می‌توانیم از قضیه دیورژانس استفاده کنیم، در این صورت داریم:

$$I = \iint_S \vec{F} \cdot \vec{n} ds = \iiint_V \text{div } \vec{F} dv = \iiint_V 3xz^2 dv$$

برای محاسبه‌ی این انتگرال از مختصات استوانه‌ای استفاده می‌کنیم. البته با کمی تفاوت نسبت به حالت معمولی دستگاه استوانه‌ای! معمولاً وقتی ناحیه‌ی انتگرال‌گیری بخشی از استوانه‌ی $x^2 + y^2 = a^2$ باشد، از مختصات استوانه‌ای استفاده می‌کنیم. به این ترتیب که x و y را به صورت $x = r \cos \theta$ و $y = r \sin \theta$ قطبی می‌کنیم و با متغیر z کاری نداریم. در واقع به جای (x, y, z) از (r, θ, z) استفاده می‌کنیم. اما در این مثال، استوانه‌ی $y^2 + z^2 = 1$ را داریم که قاعده‌ی آن در صفحه YOZ قرار دارد. یعنی در صفحه‌ی YOZ یک ربع دایره داریم نه در صفحه‌ی XOY . بنابراین y و z را به صورت $y = r \sin \theta$ و $z = r \cos \theta$ قطبی می‌کنیم و با متغیر x کاری نداریم. در صفحه‌ی YOZ داریم $0 \leq \theta \leq \frac{\pi}{2}$ و $0 \leq r \leq 1$ و حدود x هم به وضوح $x=0$ و $x=1$ هستند.

$$I = \int_0^1 \int_0^{\frac{\pi}{2}} \int_0^1 3(r \cos \theta)^2 r dx dr d\theta$$

از آنجا که حدود انتگرال اعداد ثابت هستند، می‌توان آن‌ها را به صورت زیر نوشت و در هم ضرب کرد:

$$I = \left(\int_0^1 \cos^2 \theta d\theta \right) \left(\int_0^1 3r^3 dr \right) \left(\int_0^1 dx \right) = \left(\int_0^{\frac{\pi}{2}} \frac{1}{2} (1 + \cos 2\theta) d\theta \right) \times \left[\frac{3}{4} r^4 \right]_0^1 \times [x]_0^1 = \left[\frac{1}{2} \left(\theta + \frac{\sin 2\theta}{2} \right) \right]_0^{\frac{\pi}{2}} \times \frac{3}{4} \times 1 = \frac{3\pi}{16}$$

حالا باید شار گذرنده از صفحات مختصات و صفحه $x=1$ را محاسبه و از مقدار به دست آمده در بالا کم کنیم.

در روی صفحه $z=0$ بردار قائم برون سو $(-\vec{k})$ است و $\vec{F} \cdot \vec{n} = y$ به دست می‌آید، از طرفی در صفحه‌ی $z=0$ یعنی صفحه‌ی XOY باید حدود x و y را تشخیص دهیم. طبق صورت سؤال داریم $0 \leq x \leq 1$ و اگر

استوانه‌ی $y^2 + z^2 = 1$ را با $z=0$ برخورد دهیم، $y = \pm 1$ به دست می‌آید. البته ما $\frac{1}{8}$ اول را می‌خواهیم

$$\iint_S \vec{F} \cdot \vec{n} ds = \int_0^1 \int_0^1 y dy dx = \frac{1}{2}$$

پس $0 \leq y \leq 1$ خواهد بود، بنابراین داریم:

در روی صفحه $y=0$ بردار قائم برون سو $(-\vec{j})$ می‌باشد و $\vec{F} \cdot \vec{n} = x$ به دست می‌آید، از طرفی در صفحه‌ی xOZ باید حدود x و z را تشخیص دهیم. به وضوح $0 \leq x \leq 1$ است. از برخورد استوانه‌ی $y^2 + z^2 = 1$ و صفحه‌ی $y=0$ داریم $z = \pm 1$ البته ما $\frac{1}{8}$ اول را می‌خواهیم پس $0 \leq z \leq 1$.

$$\iint_S \vec{F} \cdot \vec{n} ds = \int_0^1 \int_0^1 x dx dz = \frac{1}{2}$$

بنابراین داریم:

در روی صفحه $x=0$ بردار قائم $(-\vec{i})$ می‌باشد و $\vec{F} \cdot \vec{n} = 0$ به دست می‌آید و در نتیجه شار صفر است.

بالاخره در روی صفحه $x=1$ بردار قائم برون سو \vec{i} می‌باشد و $\vec{F} \cdot \vec{n} = 3z^2$ به دست می‌آید، از طرفی برای تعیین حدود y و z از معادله‌ی $y^2 + z^2 = 1$ و

این‌که در $\frac{1}{8}$ اول قرار داریم، استفاده می‌کنیم. پس در مختصات قطبی داریم $0 \leq \theta \leq \frac{\pi}{2}$ و $0 \leq r \leq 1$. بنابراین داریم:

$$\iint_S \vec{F} \cdot \vec{n} ds = \iint_D 3z^2 dA = \int_0^{\frac{\pi}{2}} \int_0^1 3r^2 \cos^2 \theta \cdot r dr d\theta = \left(\int_0^{\frac{\pi}{2}} \cos^2 \theta d\theta \right) \left(\int_0^1 3r^3 dr \right) = \left(\int_0^{\frac{\pi}{2}} \frac{1}{2} (1 + \cos 2\theta) d\theta \right) \left(\int_0^1 3r^3 dr \right) = \left(\frac{\pi}{2} \right) \left(\frac{3}{4} \right) = \frac{3\pi}{16}$$

از محاسبات بالا نتیجه می‌شود شار گذرنده از سطح S برابر -1 است. $\frac{3\pi}{16} - \frac{1}{2} - \frac{1}{2} - \frac{3\pi}{16} = -1$



مثال ۱۳: اگر S سطح خارجی مخروط $x^2 + y^2 = z^2$ (برای $0 \leq z \leq h$) باشد، آن‌گاه حاصل زیر کدام است؟

$$I = \iint_S (y-z)dydz + (z-x)dzdx + (x-y)dxdy$$

(۴) $\frac{h^2}{2}$

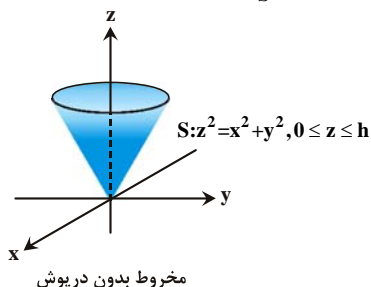
(۳) $\frac{h}{3}$

(۲) $\frac{h}{2}$

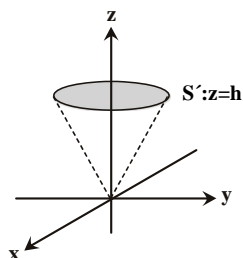
(۱) 0

پاسخ: گزینه «۱» همان‌طور که می‌دانیم برای میدان برداری $\vec{F} = (P, Q, R)$ داریم:

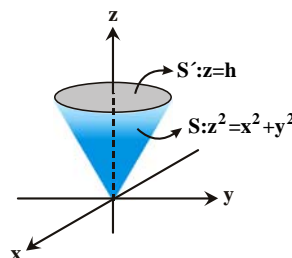
$$I = \iint_S (Pdydz + Qdx dz + Rdx dy) = \iint_S \vec{F} \cdot \vec{n} d\sigma \quad P = y - z, \quad Q = z - x, \quad R = x - y$$



مخروط بدون درپوش



می‌خواهیم بخشی از صفحه‌ی $z = h$ را به مخروط اضافه کنیم



با ترکیب این دو سطح به یک سطح بسته می‌رسیم

توجه کنید که سطح S فقط شامل بخشی از بدنه‌ی مخروط است، بنابراین بسته نیست. اگر ما بخشی از صفحه‌ی $z = h$ را که با مخروط تلاقی دارد با S' نشان داده و به سطح S اضافه کنیم، SUS' یک سطح بسته می‌شود و می‌توانیم روی SUS' از قضیه‌ی دیورژانس استفاده کنیم. سپس انتگرال روی S' را نیز که انتگرال ساده‌تری است محاسبه می‌کنیم و از تفاضل این دو مقدار جواب به‌دست می‌آید. ناحیه‌ی درون SUS' را با V نشان می‌دهیم. دقت کنید که $\text{div} \vec{F} = 0$ است.

$$\iint_{SUS'} \vec{F} \cdot \vec{n} d\sigma = \iiint_V \text{div} \vec{F} dv = \iiint_V (0) dv = 0$$

$$\iint_S \vec{F} \cdot \vec{n} d\sigma + \iint_{S'} \vec{F} \cdot \vec{n} d\sigma = 0 \Rightarrow I = \iint_S \vec{F} \cdot \vec{n} d\sigma = -\iint_{S'} \vec{F} \cdot \vec{n} d\sigma$$

بنابراین داریم:

حاصل انتگرال روی S' را حساب می‌کنیم. معادله‌ی S' به‌صورت $z = h$ است، بنابراین بردار قائم یکه رو به خارج برای آن به‌صورت مقابل است:

$$\vec{n} = \frac{(0, 0, 1)}{1} = (0, 0, 1)$$

$$d\sigma = \sqrt{1 + z_x^2 + z_y^2} dydx = dydx$$

به این ترتیب با محاسبه‌ی $\vec{F} \cdot \vec{n}$ داریم: $\vec{F} \cdot \vec{n} = x - y$ و از معادله‌ی $S' : z = h$ داریم:

از برخورد صفحه‌ی $z = h$ با مخروط $x^2 + y^2 = z^2$ دایره‌ی $x^2 + y^2 = h^2$ به‌دست می‌آید. پس تصویر S' بر صفحه‌ی xoy دایره‌ی $x^2 + y^2 = h^2$ است. ناحیه درون این دایره را با D نشان می‌دهیم:

$$I = \iint_D (x - y) dydx$$

می‌توانیم سریع بگوییم حاصل انتگرال به‌دست آمده صفر است. علت صفر بودن این انتگرال آن است که ناحیه‌ی D نسبت به محورهای x و y متقارن است و (x) نسبت به x و (y) نسبت به y فرد است و در نتیجه $I = 0$ خواهد بود.

مثال ۱۴: حاصل انتگرال $I = \iint_S \left(\frac{x^2 + z^2}{\sqrt{x^2 + 4y^2 + z^2}} \right) d\sigma$ در صورتی که S سطح بیضی‌گون $x^2 + 2y^2 + z^2 = 1$ باشد، کدام است؟

(۴) $\frac{2}{3}\pi$

(۳) $\frac{4}{3}\pi$

(۲) $\frac{4\sqrt{2}}{3}\pi$

(۱) $\frac{\sqrt{2}\pi}{3}$

پاسخ: گزینه «۲» همان‌طور که می‌بینید با انتگرال سطح یک تابع عددی روبه‌رو هستیم و قطعاً محاسبه‌ی آن سخت و زمان‌بر است! اگر بتوانیم تابع تحت انتگرال را به‌صورت $\vec{F} \cdot \vec{n}$ بنویسیم، چون اتفاقاً سطح هم بسته است، می‌توانیم از قضیه دیورژانس استفاده کنیم. برای این منظور ابتدا بردار \vec{n} را برای رویه S حساب می‌کنیم:

$$\vec{n} = \frac{(2x)\vec{i} + (4y)\vec{j} + (2z)\vec{k}}{\sqrt{4x^2 + 16y^2 + 4z^2}} = \frac{2(x\vec{i} + 2y\vec{j} + z\vec{k})}{2\sqrt{x^2 + 4y^2 + z^2}} = \frac{(x)\vec{i} + (2y)\vec{j} + (z)\vec{k}}{\sqrt{x^2 + 4y^2 + z^2}}$$

از طرفی فرض کنید بردار \vec{F} موردنظر به‌صورت $\vec{F} = P\vec{i} + Q\vec{j} + R\vec{k}$ در نظر گرفته شود، برای این که $\vec{F} \cdot \vec{n}$ برابر با تابع زیر انتگرال باشد، باید تساوی زیر را داشته باشیم:

$$\frac{(x)P + (2y)Q + (R)z}{\sqrt{x^2 + 4y^2 + z^2}} = \frac{x^2 + z^2}{\sqrt{x^2 + 4y^2 + z^2}} \Rightarrow xP + (2y)Q + Rz = x^2 + z^2$$

واضح است راحت‌ترین انتخاب، $P = x$ ، $Q = 0$ و $R = z$ می‌باشد (انتخاب‌های دیگر را هم می‌توانیم داشته باشیم ولی این انتخاب‌ها، راحت‌ترین‌ها هستند!) پس $\vec{F} = x\vec{i} + z\vec{k}$ می‌باشد و چون گفتیم انتگرال داده شده برابر با $I = \iint_S \vec{F} \cdot \vec{n} d\sigma$ می‌باشد و از طرفی سطح هم بسته است، لذا حاصل این انتگرال با استفاده از قضیه دیورژانس به راحتی حساب می‌شود:

$$I = \iiint_V (\text{div} \vec{F}) dv = \iiint_V (1+0+1) dv = 2 \iiint_V dv = 2 \times (V \text{ ناحیه})$$

از طرفی می‌دانیم حجم بیضی‌گون $1 = \frac{z^2}{c^2} + \frac{y^2}{b^2} + \frac{x^2}{a^2}$ برابر با $\frac{4}{3} \pi abc$ است و چون بیضی‌گون داده شده در این سؤال به صورت $1 = \frac{x^2}{1} + \frac{y^2}{1} + \frac{z^2}{2}$ است

(یعنی $a = 1$ ، $b = 1$ و $c = 2$ است)، پس حجم موردنظر برابر با $\frac{2\sqrt{2}}{3} \pi$ می‌شود و چون I دو برابر این حجم بود، لذا $I = \frac{4\sqrt{2}}{3} \pi$

کله مثال ۱۵: میدان برداری $\vec{F} = (4x + 2xz)\vec{i} - y(x^2 + z^2)\vec{j} - (3x^2z^2 + 4y^2z)\vec{k}$ از کدام سطح بسته در فضای \mathbb{R}^3 بیشترین شار عبوری را دارد؟

(۱) $x^2 + 4y^2 + z^2 \leq 16$ (۲) $x^2 + 2y^2 + z^2 \leq 16$ (۳) $x^2 + 4y^2 + z^2 \leq 4$ (۴) $x^2 + 2y^2 + z^2 \leq 4$

پاسخ: گزینه «۳» فرض کنید S سطحی باشد که ناحیه V را محصور کرده است، در این صورت داریم:

$$\text{شار} = \iiint_V (\text{div} \vec{F}) dv = \iiint_V (4 - x^2 - 4y^2 - z^2) dv$$

برای اینکه انتگرال ماکزیمم شود، توجه کنید که تابع $\text{div} \vec{F} = 4 - x^2 - 4y^2 - z^2$ درون ناحیه بیضوی $x^2 + 4y^2 + z^2 \leq 4$ مقدار مثبت؛ روی آن مقدار صفر و در خارج از آن مقدار منفی دارد. بنابراین بزرگترین ناحیه‌ای که $\text{div} \vec{F}$ در آن مقدار نامنفی دارد درون این بیضوی است. انتگرال روی این ناحیه به بیشترین مقدار ممکن می‌رسد.

کله مثال ۱۶: مقدار $\iint_S \vec{F} \cdot \vec{n} ds$ که در آن $\vec{F}(x, y, z) = (xy^2, yz^2, zx^2)$ و S کره $x^2 + y^2 + z^2 = a^2$ بردار قائم بیکه خارجی است برابر است با:

(عمران - سراسری ۷۸)

(۱) $\frac{4}{5} \pi a^5$ (۲) $\frac{4}{3} \pi a^5$ (۳) $4 \pi a^5$ (۴) $\frac{2}{3} \pi a^5$

پاسخ: گزینه «۱» از قضیه دیورژانس استفاده می‌کنیم:

$$\iint_S \vec{F} \cdot \vec{n} ds = \iiint_V (\text{div} \vec{F}) \cdot dv = \iiint_V \left(\frac{\partial}{\partial x}(xy^2) + \frac{\partial}{\partial y}(yz^2) + \frac{\partial}{\partial z}(zx^2) \right) dv$$

$$= \iiint_V (y^2 + z^2 + x^2) dv \stackrel{\text{مختصات کروی}}{=} \int_0^{2\pi} \int_0^\pi \int_0^a \rho^2 \times \rho^2 \sin \phi d\rho d\phi d\theta = \int_0^{2\pi} d\theta \int_0^\pi \sin \phi d\phi \int_0^a \rho^4 d\rho = \frac{4}{5} \pi a^5$$

کله مثال ۱۷: مقدار انتگرال $\iint_S \vec{F} \cdot \vec{n} ds$ کدام است در صورتی که در آن $\vec{F}(x, y, z) = (x, y, z)$ و S سطح بیضی‌گون $1 = \frac{x^2}{a^2} + \frac{y^2}{b^2} + \frac{z^2}{c^2}$ و بردار قائم

(عمران - سراسری ۷۹)

بیکه خارجی است؟

(۱) $\frac{2}{3} \pi abc$ (۲) $\frac{4}{3} \pi abc$ (۳) $2 \pi abc$ (۴) $4 \pi abc$

پاسخ: گزینه «۴» از قضیه دیورژانس استفاده می‌کنیم:

$$I = \iint_S \vec{F} \cdot \vec{n} ds = \iiint_V (\text{div} \vec{F}) dv = \iiint_V \left(\frac{\partial}{\partial x}(x) + \frac{\partial}{\partial y}(y) + \frac{\partial}{\partial z}(z) \right) dv = \iiint_V 3 dv = 3(V \text{ ناحیه}) = 4 \pi abc$$

$$I = 4 \left(\frac{1}{3} \pi abc \right) = 4 \pi abc$$

کله مثال ۱۸: اگر $\vec{F} = \vec{i}x + \vec{j}(1-y) + \vec{k}(2z+1)$ و عنصر برداری مساحت کره Σ به معادله $x^2 + y^2 + z^2 = 9$ باشد حاصل $\iint_\Sigma \vec{F} \cdot d\vec{\delta}$ کدام است؟

(هسته‌ای - سراسری ۷۹)

(۱) 24π (۲) 36π (۳) 48π (۴) 72π

پاسخ: گزینه «۴» از قضیه دیورژانس استفاده می‌کنیم:

$$\iint_\Sigma \vec{F} \cdot \vec{n} d\delta = \iiint_V (\text{div} \vec{F}) dv = \iiint_V \left(\frac{\partial}{\partial x}(x) + \frac{\partial}{\partial y}(1-y) + \frac{\partial}{\partial z}(2z+1) \right) dv = \iiint_V 2 dv = 2 \times \text{حجم کره} = 2 \times \frac{4}{3} \pi (3)^3 = 72\pi$$



کلمه مثال ۱۹: اگر میدان اسکالر $\phi \neq 0$ دارای خواص $\text{div}(\phi \nabla \phi) = 1 \circ \phi$ و $\|\nabla \phi\|^2 = \phi \phi$ و آنگاه مقدار $\iint_S \frac{\partial \phi}{\partial n} ds$ به طوری که S کره‌ی یکه‌ای به مرکز

(ریاضی - سراسری ۸۰)

مبداء مختصات و \vec{n} بردار یکه قائم خارجی آن باشد، کدام است؟

(۴) 4π

(۳) 6π

(۲) 8π

(۱) 14π

پاسخ: گزینه «۲» می‌دانیم منظور از $\frac{\partial \phi}{\partial n}$ ، مشتق جهتی ϕ در راستای بردار \vec{n} یعنی $\vec{\nabla} \phi \cdot \vec{n}$ می‌باشد. بنابراین برای محاسبه انتگرال موردنظر از قضیه

$$I = \iint_S \frac{d\phi}{\partial n} ds = \iint_S \vec{\nabla} \phi \cdot \vec{n} ds = \iiint_V \text{div}(\vec{\nabla} \phi) dv = \iiint_V \nabla^2 \phi dv$$

دیورژانس استفاده می‌کنیم.

$$\text{div}(\phi \vec{\nabla} \phi) = \vec{\nabla} \phi \cdot \vec{\nabla} \phi + \phi \text{div}(\vec{\nabla} \phi) = |\vec{\nabla} \phi|^2 + \phi \nabla^2 \phi = \phi \phi + \phi \nabla^2 \phi$$

از طرفی توجه کنید که داریم:

$$\phi \phi + \phi \nabla^2 \phi = 1 \circ \phi \Rightarrow \phi \nabla^2 \phi = \phi \Rightarrow \nabla^2 \phi = 1$$

بنابراین خواهیم داشت:

$$I = \iiint_V \phi dv = 1 \times \text{حجم کره واحد} = 1 \times \frac{4\pi}{3} = \frac{4\pi}{3}$$

در نتیجه داریم:

کلمه مثال ۲۰: مقدار انتگرال سطح $\iint_S \vec{F} \cdot \vec{n} ds$ که در آن $\vec{F}(x, y, z) = x^2 \vec{i} + y \cos^2 x \vec{j} + z \vec{k} = (x^2, y \cos^2 x, z)$ و S سطح استوانه

(عمران - سراسری ۸۱)

$4 \leq x^2 + y^2 + z^2 \leq 4$ و \vec{n} بردار یکه خارجی S است، با کدام گزینه برابر می‌باشد؟

(۴) $8\pi^2$

(۳) $6\pi^2$

(۲) $4\pi^2$

(۱) $2\pi^2$

پاسخ: گزینه «۴» از قضیه دیورژانس استفاده می‌کنیم:

$$\iint_S \vec{F} \cdot \vec{n} ds = \iiint_V (\text{div} \vec{F}) dv = \iiint_V \left(\frac{\partial}{\partial x}(x^2) + \frac{\partial}{\partial y}(y \cos^2 x) + \frac{\partial}{\partial z}(z) \right) dv = \iiint_V (2x + \cos^2 x + 1) dv$$

تابع $2x + \cos^2 x + 1$ فرد است و در بازه‌ی $-\pi \leq x \leq \pi$ انتگرالش صفر می‌شود. همچنین انتگرال $\int_{-\pi}^{\pi} \cos^2 x dx$ در این بازه صفر است. در واقع با یک محاسبه‌ی ساده داریم:

$$\int_{-\pi}^{\pi} \cos^2 x dx = \int_{-\pi}^{\pi} (1 - \sin^2 x) \cos x dx = \left[\sin x - \frac{\sin^3 x}{3} \right]_{-\pi}^{\pi} = 0$$

اما بدون محاسبه‌ی انتگرال هم می‌توانستیم از این نکته استفاده کنیم که انتگرال توان‌های فرد $\sin x$ و $\cos x$ روی یک دوره‌ی تناوب آن‌ها صفر است.

$$\iint_S \vec{F} \cdot \vec{n} ds = \iiint_V 2 dv = 2 \times (\text{حجم } V)$$

در هر صورت با صفر شدن انتگرال برای $2x + \cos^2 x + 1$ خواهیم داشت:

ناحیه V درون استوانه‌ی $4 \leq x^2 + y^2 + z^2 \leq 4$ و بین صفحات $x = -\pi$ و $x = \pi$ قرار دارد. معادله‌ی $4 \leq x^2 + y^2 + z^2 \leq 4$ نشان می‌دهد که قاعده‌ی این استوانه یک

بیضی با شعاع‌های ۲ و ۱ است. (کافیست فرم استاندارد معادله‌ی بیضی را بنویسیم: $\frac{y^2}{4} + z^2 = 1$) بنابراین مساحت قاعده‌ی استوانه برابر است

با $2\pi \times 1 \times 2 = 4\pi$ و امتداد این استوانه از $x = -\pi$ تا $x = \pi$ ادامه دارد یعنی ارتفاع آن 2π است. به این ترتیب حجم آن برابر است با:

$$(V \text{ حجم}) = \text{ارتفاع} \times \text{مساحت قاعده} = 2\pi \times 4\pi = 8\pi^2$$

و در نتیجه داریم: $I = 8\pi^2$.

کلمه مثال ۲۱: فرض کنید V ناحیه محصور به نیم‌کره $x^2 + y^2 + z^2 = 4$ از بالا و صفحه $z = 0$ از پایین و S مرز V باشد. اگر \vec{n} بردار قائم یکه رو به

(عمران - سراسری ۸۲)

خارج S باشد و $\vec{F}(x, y, z) = (x^2, y^2, z^2)$ مقدار انتگرال $\iint_S \vec{F} \cdot \vec{n} ds$ کدام است؟

(۴) $\frac{192}{5}\pi$

(۳) $\frac{96}{5}\pi$

(۲) $\frac{96}{3}\pi$

(۱) $\frac{192}{3}\pi$

پاسخ: گزینه «۴» از قضیه دیورژانس استفاده می‌کنیم:

$$\iint_S \vec{F} \cdot \vec{n} ds = \iiint_V (\text{div} \vec{F}) dv = \iiint_V (2x^2 + 2y^2 + 2z^2) dv$$

مختصات کروی

$$= \int_0^{2\pi} \int_0^{\pi} \int_0^2 2\rho^2 \times \rho^2 \sin \phi d\rho d\phi d\theta = 2 \int_0^{2\pi} d\theta \int_0^{\pi} \sin \phi d\phi \int_0^2 \rho^4 d\rho = \frac{192\pi}{5}$$

کلمه مثال ۲۲: اگر حجم V به وسیله سطح S محصور شده باشد و \vec{n} بردار یک عمود بر سطح S و به سمت خارج از جسم باشد، ϕ و ψ توابع عددی تعریف شده در حجم V باشد، $\int_V \phi \nabla^2 \psi \, dv$ برابر است با:

$$\int_S \phi \frac{\partial \psi}{\partial n} \, ds \quad (1) \quad \int_S (\phi \nabla \psi) \cdot \vec{n} \, ds \quad (2) \quad \int_S \nabla \phi \cdot \nabla \psi \, ds \quad (3) \quad \int_S \phi \frac{\partial \psi}{\partial n} \, ds - \int_V \nabla \phi \cdot \nabla \psi \, dv \quad (4)$$

پاسخ: گزینه «۴» چند توضیح مقدماتی لازم است. در برخی از منابع، همه‌ی انتگرال‌های دوگانه، سه‌گانه، انتگرال روی سطح را به صورت انتگرال یگانه می‌نویسند اما ناحیه‌ی انتگرال‌گیری را زیر علامت انتگرال مشخص می‌کنند. مثلاً وقتی می‌نویسند $\int_S f \, d\sigma$ متوجه می‌شویم که انتگرال روی سطح موردنظر بوده است و در واقع منظور همان $\iint_S f \, d\sigma$ است. یا وقتی می‌نویسند $\int_V f \, dv$ متوجه می‌شویم که انتگرال روی یک حجم گرفته شده و در واقع منظور، $\iiint_V f \, dv$ است. توضیح دیگری که لازم است، در مورد $\frac{\partial f}{\partial n}$ است. اگر f یک تابع حقیقی و \vec{n} یک بردار باشد، منظور از $\frac{\partial f}{\partial n}$ همان مشتق سویی f در جهت بردار \vec{n} است. به عبارتی $\frac{\partial f}{\partial n} = \frac{\nabla f \cdot \vec{n}}{|\vec{n}|}$. حالا اگر \vec{n} یک بردار یک‌بعدی باشد داریم $|\vec{n}| = 1$ پس $\frac{\partial f}{\partial n} = \nabla f \cdot \vec{n}$.

اکنون به توضیح حل این مثال می‌پردازیم. طبق صورت سؤال ϕ و ψ توابع حقیقی (عددی) هستند و \vec{n} بردار یک‌عمود بر سطح S است. طبق توضیحات فوق داریم $\frac{\partial \psi}{\partial n} = \nabla \psi \cdot \vec{n}$. بنابراین داریم:

$$\iint_S \phi \frac{\partial \psi}{\partial n} \, ds = \iint_S \phi \nabla \psi \cdot \vec{n} \, ds \quad (I)$$

$\nabla \psi$ یک بردار است. ϕ یک تابع عددی (حقیقی) است پس $\phi \nabla \psi$ یک تابع برداری (میدان برداری) است، اگر آن را با \vec{F} نشان دهیم خواهیم داشت:

$$\iint_S \phi \nabla \psi \cdot \vec{n} \, ds = \iint_S \vec{F} \cdot \vec{n} \, ds \quad (II)$$

$$\iint_S \vec{F} \cdot \vec{n} \, ds = \iiint_V (\operatorname{div} \vec{F}) \, dv \quad (III)$$

حالا طبق قضیه‌ی دیورژانس داریم:

$$\operatorname{div} \vec{F} = \nabla \cdot \vec{F} = \nabla \cdot (\phi \nabla \psi) = \nabla \phi \cdot \nabla \psi + \phi \nabla^2 \psi$$

دیورژانس \vec{F} را محاسبه می‌کنیم:

$$\iint_S \phi \frac{\partial \psi}{\partial n} \, ds = \iiint_V \nabla \phi \cdot \nabla \psi \, dv + \iiint_V \phi \nabla^2 \psi \, dv$$

با جایگذاری این نتیجه در III و استفاده از روابط I، II و III داریم:

$$\iint_S \phi \frac{\partial \psi}{\partial n} \, ds = \iint_S \phi \frac{\partial \psi}{\partial n} \, ds - \int_V \nabla \phi \cdot \nabla \psi \, dv$$

حالا اگر از نمادهای استفاده شده در صورت سؤال استفاده کنیم داریم:

کلمه مثال ۲۳: مقدار انتگرال $\iint_S \vec{F} \cdot \vec{n} \, ds$ که در آن S سطح بسته محدود به نیم‌کره $z = \sqrt{a^2 - x^2 - y^2}$ از بالا و صفحه $z = 0$ از پایین است و \vec{n} بردار

(عمران - سراسری ۸۳)

قائم یکه خارجی S است و $\vec{F}(x, y, z) = (xz^2, x^2y - z^2, 2xy + y^2z)$ کدام است؟

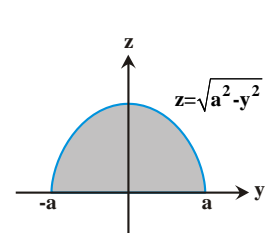
$$\frac{2\pi a^5}{5} \quad (4) \quad \frac{4\pi a^5}{5} \quad (3) \quad \frac{4\pi a^5}{3} \quad (2) \quad \frac{2\pi a^5}{3} \quad (1)$$

پاسخ: گزینه «۴» سطح S بسته است بنابراین از قضیه دیورژانس استفاده می‌کنیم:

$$\vec{F} = (xz^2, x^2y - z^2, 2xy + y^2z) \Rightarrow \operatorname{div} \vec{F} = z^2 + x^2 + y^2$$

$$I = \iint_S \vec{F} \cdot \vec{n} \, ds = \iiint_V (\operatorname{div} \vec{F}) \, dv = \iiint_V (x^2 + y^2 + z^2) \, dv$$

فرض کنیم V ناحیه‌ی درون S باشد، خواهیم داشت:



ناحیه‌ی V درون نیم‌کره‌ی $z = \sqrt{a^2 - x^2 - y^2}$ و $z \geq 0$ است. در مختصات کروی داریم $0 \leq \rho \leq a$ و $0 \leq \theta \leq 2\pi$ و $0 \leq \phi \leq \frac{\pi}{2}$. اگر حدود ϕ را برای نیم‌کره‌ی بالایی به خاطر نداشتیم، کافیست در معادلات رویه‌ها $x = 0$ قرار دهیم و تصویر این ناحیه را در صفحه‌ی YOZ پیدا کنیم. ناحیه‌ی درون نیم‌دایره‌ی $z = \sqrt{a^2 - y^2}$ به دست می‌آید.

روی محور Z ها داریم $\phi = 0$ و با حرکت به سمت راست روی محور Y ها داریم $\phi = \frac{\pi}{2}$. بنابراین $0 \leq \phi \leq \frac{\pi}{2}$ است.

$$I = \iiint_V (x^2 + y^2 + z^2) \, dv = \int_0^{2\pi} \int_0^{\pi/2} \int_0^a \rho^2 \rho^2 \sin \phi \, d\rho \, d\phi \, d\theta = \left(\int_0^{2\pi} d\theta \right) \left(\int_0^{\pi/2} \sin \phi \, d\phi \right) \left(\int_0^a \rho^4 \, d\rho \right)$$

$$= [2\pi]_0^{2\pi} \times [-\cos \phi]_0^{\pi/2} \times \left[\frac{\rho^5}{5} \right]_0^a = (2\pi)(1) \left(\frac{a^5}{5} \right) = \frac{2\pi a^5}{5}$$



کله مثال ۲۴: اگر $\vec{F}(x,y,z) = (a^2x, y, c^2z)$ و S کره $x^2 + y^2 + z^2 = 1$ و \vec{n} قائم یکه رو به خارج کره باشد، آنگاه مقدار $\iint_S \vec{F} \cdot \vec{n} ds$ برابر است با:

(عمران - آزاد ۸۳)

$$\frac{4\pi}{3}(a^2+1+c^2) \quad (۴) \quad (a^2+1+c^2)^3 \quad (۳) \quad 4\pi(a+1+c^2) \quad (۲) \quad \frac{4}{3}\pi \quad (۱)$$

پاسخ: گزینه «۴» از قضیه دیورژانس استفاده می‌کنیم:

$$\iint_S \vec{F} \cdot \vec{n} ds = \iiint_V (\text{div} \vec{F}) dv = \iiint_V (a^2 + 1 + c^2) dv = (a^2 + 1 + c^2) \times (\text{حجم کره}) = \frac{4\pi}{3}(a^2 + 1 + c^2)$$

کله مثال ۲۵: اگر G جسمی باشد که از بالا با نیم کره $z = \sqrt{1-x^2-y^2}$ و از پایین با صفحه $z = 0$ محصور شده باشد، مقدار انتگرال

دوگانه $I = \iint_{\sigma} \vec{F} \cdot \vec{n} d\sigma$ که در آن $\vec{F}(x,y,z) = x^2\vec{i} + y^2\vec{j} + z^2\vec{k}$ و σ سطح G و \vec{n} بردار یکه عمود بر این سطح به سمت خارج می‌باشد، برابر است با:

(مکانیک - سراسری ۸۴)

$$I = \frac{6\pi}{5} \quad (۴) \quad I = \frac{3\pi}{8} \quad (۳) \quad I = \frac{4\pi}{5} \quad (۲) \quad I = \frac{2\pi}{3} \quad (۱)$$

پاسخ: گزینه «۴» با توجه به آن که G از بالا به نیم کره و از پایین به صفحه $z = 0$ محدود می‌شود، بنابراین سطح آن یعنی σ یک سطح بسته

است. می‌توانیم از قضیه دیورژانس استفاده کنیم. پس از محاسبه دیورژانس \vec{F} ، برای حل انتگرال سه گانه، روی نیم کره بالایی بهتر است از مختصات

کروی استفاده کنیم. می‌دانیم که در نیم کره بالایی $0 \leq \theta \leq 2\pi$ و $0 \leq \phi \leq \frac{\pi}{2}$ است و چون شعاع نیم کره یک است داریم: $0 \leq \rho \leq 1$.

$$I = \iint_{\sigma} \vec{F} \cdot \vec{n} d\sigma = \iiint_V (\text{div} \vec{F}) dv = \iiint_V (2x^2 + 2y^2 + 2z^2) dv = 2 \int_0^{2\pi} \int_0^{\frac{\pi}{2}} \int_0^1 \rho^2 \times \rho^2 \sin \phi d\rho d\phi d\theta = \frac{6\pi}{5}$$

کله مثال ۲۶: بردار $\vec{F} = (x+y)\vec{i} + (y+z)\vec{j} + (z+x)\vec{k}$ و S سطح ناحیه D محدود به $|x| \leq 1$ ، $|y| \leq 1$ و $|z| \leq 1$ است. حاصل $\iint_S \vec{F} \cdot \vec{n} d\sigma$ کدام است؟

(MBA - سراسری ۸۴)

$$24 \quad (۴) \quad 18 \quad (۳) \quad 12 \quad (۲) \quad 6 \quad (۱)$$

پاسخ: گزینه «۴» $\iint_S \vec{F} \cdot \vec{n} d\sigma = \iiint_V (\text{div} \vec{F}) dv = \iiint_V 3 dv = 3 \times (\text{حجم ناحیه } D) = 3 \times (2 \times 2 \times 2) = 24$

کله مثال ۲۷: Q متوازی السطوح محدود به صفحات مختصات و صفحات به معادله‌های $x=1$ ، $y=2$ و $z=3$ است.

(ریاضی - سراسری ۸۴)

اگر $\vec{F}(x,y,z) = -x^2\vec{i} + xy^2\vec{j} + z^2\vec{k}$ ، شار \vec{F} بر سطح S از متوازی السطوح Q کدام است؟

$$54 \quad (۴) \quad 35 \quad (۳) \quad 27 \quad (۲) \quad 9 \quad (۱)$$

پاسخ: گزینه «۴» از قضیه دیورژانس استفاده می‌کنیم:

$$\begin{aligned} \iint_S \vec{F} \cdot \vec{n} ds &= \iiint_Q (\text{div} \vec{F}) dv = \iiint_Q (-2x + 2xy + 2z^2) dv = \int_0^3 \int_0^2 \int_0^1 (-2x + 2xy + 2z^2) dx dy dz \\ &= \int_0^3 \int_0^2 (-1 + y + 2z^2) dy dz = \int_0^3 6z^2 dz = 54 \end{aligned}$$

کله مثال ۲۸: اگر $\vec{F}(x,y,z) = x\vec{i} - 2y\vec{j} + 4z\vec{k} = (x, -2y, 4z)$ و S کره $x^2 + y^2 + z^2 = a^2$ ، $a > 0$ باشد، مقدار انتگرال $\iint_S \vec{F} \cdot \vec{n} ds$ که در آن \vec{n} بردار

(عمران - سراسری ۸۵)

قائم یکه خارجی S است، برابر با چیست؟

$$4\pi a^3 \quad (۴) \quad 3\pi a^3 \quad (۳) \quad 2\pi a^3 \quad (۲) \quad \frac{4}{3}\pi a^3 \quad (۱)$$

پاسخ: گزینه «۴» از قضیه دیورژانس استفاده می‌کنیم:

$$\vec{F} = x\vec{i} - 2y\vec{j} + 4z\vec{k} \Rightarrow \text{div} \vec{F} = 1 - 2 + 4 = 3$$

$$\iint_S \vec{F} \cdot \vec{n} ds = \iiint_V (\text{div} \vec{F}) dv = \iiint_V 3 dv = 3 \times (\text{حجم کره}) = 4\pi a^3$$

کلمه مثال ۲۹: اگر $F(x,y,z) = (x^2 + y^2, y^2 - z^2, z)$ و S کره $x^2 + y^2 + z^2 = a^2$ ، $a > 0$ باشد، مقدار انتگرال $\iint_S \vec{F} \cdot \vec{n} ds$ که در آن بردار \vec{n} یکه قاعده خارجی S است، برابر با چیست؟

(عمران، نقشه‌برداری - سراسری ۸۵)

(۱) πa^3 (۲) $\frac{2}{3} \pi a^3$ (۳) $\frac{4}{3} \pi a^3$ (۴) $\frac{8}{3} \pi a^3$

پاسخ: گزینه «۳» از قضیه دیورژانس استفاده می‌کنیم.

چون توابع $2x$ و $2y$ توابعی فرد هستند و ناحیه انتگرال‌گیری نسبت به x و y متقارن است، لذا $\iiint_V 2x \, dv = 0$ و $\iiint_V 2y \, dv = 0$ بنابراین داریم:

$$\iint_S \vec{F} \cdot \vec{n} ds = \iiint_V \text{div} \vec{F} \, dv = \iiint_V (2x + 2y + 1) \, dv = \iiint_V 1 \, dv = \text{حجم کره‌ای به شعاع } a = \frac{4}{3} \pi a^3$$

کلمه مثال ۳۰: اگر S پوسته جسم توپر W در فضای سه بعدی و \vec{n} بردار نرمال یکه خارجی بر S و V نیز حجم W باشد، آنگاه: (ریاضی - سراسری ۸۵)

(۱) $V = \frac{1}{3} \iint_S (x + y + z) ds$ (۲) $V = \frac{1}{3} \iint_S (x, y, z) \cdot ds$ (۳) $V = \frac{1}{3} \iint_S (x, y, z) \cdot \vec{n} ds$ (۴) $V = \frac{1}{3} \iint_S (x, y, z) \cdot \vec{n} ds$

پاسخ: گزینه «۳» با توجه به قضیه دیورژانس داریم.

$$V = \text{حجم ناحیه } W = \iiint_W \text{div}(x, y, z) \, dv = \iiint_W (1 + 1 + 1) \, dv = 3V$$

کلمه مثال ۳۱: اگر $\vec{F} = (x + y)\vec{i} + (y + z)\vec{j} + (z + x)\vec{k}$ و Σ سطحی باشد که ناحیه D با مشخصات $0 \leq x^2 + y^2 \leq 9$ و $0 \leq z \leq 5$ را محصور کرده است، حاصل $\iint_{\Sigma} \vec{F} \cdot d\vec{\sigma}$ کدام است؟ (MBA - سراسری ۸۵)

(۱) 45π (۲) 75π (۳) 90π (۴) 135π

پاسخ: گزینه «۴» ابتدا یک توضیح در مورد نمادهای به کار رفته در این مسأله ضروری است. در برخی از منابع $\vec{n} ds$ را به صورت $d\vec{\sigma}$ خلاصه‌نویسی می‌کنند یعنی منظور از انتگرال $\iint_S \vec{F} \cdot d\vec{\sigma}$ همان انتگرال $\iint_S \vec{F} \cdot \vec{n} ds$ است. هر چند این علامت، مرسوم نیست اما اگر در مسأله‌ای با $\vec{F} \cdot d\vec{\sigma}$ روبرو شدید منظور همان $\vec{F} \cdot \vec{n} ds$ است. در این مثال سطح Σ بسته است پس از قضیه دیورژانس استفاده می‌کنیم:

$$\iint_{\Sigma} \vec{F} \cdot d\vec{\sigma} = \iiint_D (\text{div} \vec{F}) \, dv = \iiint_D (1 + 1 + 1) \, dv = 3(D \text{ حجم})$$

برای محاسبه‌ی حجم D توجه کنید که ناحیه‌ی D با مشخصات $0 \leq x^2 + y^2 \leq 9$ و $0 \leq z \leq 5$ معلوم شده است. $x^2 + y^2 = 9$ یک دایره به شعاع ۳ است. مساحت آن 9π است. نامساوی $0 \leq z \leq 5$ نشان می‌دهد که ارتفاع D برابر با ۵ است. پس حجم D که یک استوانه با قاعده‌ی دایره‌ی است چنین به دست می‌آید:

$$I = 3 \times 45\pi = 135\pi$$

در نتیجه داریم:

کلمه مثال ۳۲: اگر $\vec{F}(x,y,z) = (\frac{x^2}{3}, \frac{2y^2}{3}, \frac{z^2}{3})$ و S رویه بیضی‌وار $x^2 + 2y^2 + z^2 = 1$ باشد مقدار انتگرال سطح (رویه‌ای) $\iint_S \vec{F} \cdot \vec{n} d\sigma$ برابر است با

(معدن - سراسری ۸۵)

(\vec{n} قائم یکه برون‌سو بر رویه S و $d\sigma$ جزء مساحت رویه است.)

(۱) $\frac{4\pi}{5}$ (۲) $\frac{4\pi}{3}$ (۳) $\frac{4\pi}{3\sqrt{2}}$ (۴) $\frac{4\pi}{5\sqrt{2}}$

پاسخ: گزینه «۴» از قضیه دیورژانس استفاده می‌کنیم.

چون ناحیه انتگرال‌گیری، بیضی‌گون $x^2 + \frac{y^2}{2} + z^2 = 1$ می‌باشد. از تغییر متغیر زیر استفاده می‌کنیم:

$$x = \rho \sin \phi \cos \theta, \quad y = \frac{\rho}{\sqrt{2}} \sin \phi \sin \theta, \quad z = \rho \cos \phi \Rightarrow J = \frac{1}{\sqrt{2}} \rho^2 \sin \phi$$

$$\iint_S \vec{F} \cdot \vec{n} d\sigma = \int_0^{2\pi} \int_0^{\pi} \int_0^1 \rho^2 \times \frac{1}{\sqrt{2}} \rho^2 \sin \phi \, d\rho \, d\phi \, d\theta = \frac{1}{\sqrt{2}} \int_0^{2\pi} d\theta \int_0^{\pi} \sin \phi \, d\phi \int_0^1 \rho^4 \, d\rho = \frac{4\pi}{5\sqrt{2}}$$

در این صورت داریم:



کلمه مثال ۳۳: حاصل $\iint_S xz^2 dydz + (x^2y - z) dx dz + (xy + y^2z) dx dy$ که در آن S سطح نیم‌کره به معادله $z = \sqrt{a^2 - x^2 - y^2}$ و صفحه $z = 0$

(MBA - سراسری ۸۶)

می‌باشد، چند برابر a^5 است؟

(۱) $\frac{2\pi}{5}$ (۲) $\frac{2\pi}{3}$ (۳) $\frac{3\pi}{2}$ (۴) $\frac{\pi}{2}$

پاسخ: گزینه «۱» از قضیه دیورژانس استفاده می‌کنیم: $\vec{F} = (xz^2, x^2y - z, xy + y^2z) \Rightarrow \text{div} \vec{F} = z^2 + x^2 + y^2$

$$\Rightarrow \text{شار} = \iiint_V (x^2 + y^2 + z^2) dv = \text{مختصات کروی} \int_0^{2\pi} \int_0^{\pi} \int_0^a \rho^2 \times \rho^2 \sin \phi d\rho d\phi d\theta = \int_0^{2\pi} d\theta \int_0^{\pi} \sin \phi d\phi \int_0^a \rho^4 d\rho = \frac{2\pi}{5} a^5$$

(ریاضی - سراسری ۸۶)

کلمه مثال ۳۴: اگر Σ کره $x^2 + y^2 + z^2 = 2$ و $F(x, y, z) = 2xi + 2yj + 2zk$ مقدار $A = \iint_{\Sigma} \vec{F} \cdot \vec{n} ds$ کدام است؟

(۱) $4\sqrt{2}\pi$ (۲) $8\sqrt{2}\pi$ (۳) $16\sqrt{2}\pi$ (۴) $32\sqrt{2}\pi$

پاسخ: گزینه «۳» از قضیه دیورژانس استفاده می‌کنیم.

$$A = \iint_{\Sigma} \vec{F} \cdot \vec{n} ds = \iiint_V (\text{div} \vec{F}) dv = \iiint_V (2 + 2 + 2) dv = 6 \times (\text{حجم کره } \Sigma) = 6 \times \frac{4}{3} \pi \times (\sqrt{2})^3 = 16\sqrt{2}\pi$$

کلمه مثال ۳۵: مقدار انتگرال روی سطح $\iint_S (x^2 + y^2) ds$ که در آن S کره $x^2 + y^2 + z^2 = a^2$ می‌باشد، برابر با چیست؟ (راهنمایی: از قضیه دیورژانس استفاده کنید.)

(عمران - سراسری ۸۶)

(۱) $\frac{8}{3}\pi a^4$ (۲) $\frac{4}{3}\pi a^4$ (۳) $\frac{8}{3}\pi a^3$ (۴) $\frac{4}{3}\pi a^3$

پاسخ: گزینه «۱» با توجه به راهنمایی گفته شده در مسأله از قضیه دیورژانس استفاده می‌کنیم. بردار قائم بر کره داده شده $\vec{n} = (\frac{x}{a}, \frac{y}{a}, \frac{z}{a})$ است

حال تابع \vec{F} را طوری انتخاب می‌کنیم که حاصل $\vec{F} \cdot \vec{n}$ برابر $x^2 + y^2$ شود بدین منظور $\vec{F} = (ax, ay, 0)$ را برابر $\vec{F}(x, y, z) = (ax, ay, 0)$ در نظر می‌گیریم. در اینصورت

$$\iint_S (x^2 + y^2) ds = \iint_S \vec{F} \cdot \vec{n} ds \stackrel{\text{قضیه دیورژانس}}{=} \iiint_V (\text{div} \vec{F}) dv = \iiint_V (a + a) dv = 2a \times a = \frac{8\pi}{3} a^4 = \text{حجم کره به شعاع } a$$

کلمه مثال ۳۶: فرض کنید $\vec{F} = axi + byj + czk$ و S رویه بیضی‌گون $\frac{x^2}{a^2} + \frac{y^2}{b^2} + \frac{z^2}{c^2} = 1$ ، بردار یکه قائم بر بیضی‌گون S و رو به خارج باشد. مقدار

(مکانیک - سراسری ۸۶)

انتگرال رویه‌ای $\iint_S (\vec{F} \cdot \vec{n}) d\sigma$ ، ($a > 0, b > 0, c > 0$) کدام است؟

(۱) $\pi a^2 b^2 c^2$ (۲) $\frac{4}{3} \pi a^2 b^2 c^2$ (۳) $\pi abc(a + b + c)$ (۴) $\frac{4}{3} \pi abc(a + b + c)$

پاسخ: گزینه «۴» از قضیه دیورژانس استفاده می‌کنیم.

$$\text{div} \vec{F} = \frac{\partial F_x}{\partial x} + \frac{\partial F_y}{\partial y} + \frac{\partial F_z}{\partial z} = a + b + c \Rightarrow \iint_S (\vec{F} \cdot \vec{n}) d\sigma = \iiint_V (\text{div} \vec{F}) dv = (a + b + c) \times \text{حجم بیضی‌گون} = \frac{4}{3} \pi abc(a + b + c)$$

کلمه مثال ۳۷: مقدار انتگرال $\iint_S \vec{F} \cdot \vec{n} ds$ که در آن $\vec{F}(x, y, z) = (xz^2, yx^2, zy^2) = xz^2i + yx^2j + zy^2k$ و سطح بسته محدود به

(عمران - سراسری ۸۷)

نیم‌کره $z = \sqrt{a^2 - x^2 - y^2}$ و صفحه $z = 0$ است (شار برون سوی \vec{F} روی S) برابر است با:

(۱) $\frac{2}{3}\pi a^5$ (۲) $\frac{2}{5}\pi a^5$ (۳) $\frac{2}{3}\pi a^3$ (۴) $\frac{2}{5}\pi a^3$

پاسخ: گزینه «۲» از قضیه دیورژانس کمک می‌گیریم:

$$\iint_S \vec{F} \cdot \vec{n} ds = \iiint_V (\text{div} \vec{F}) dv = \iiint_V (x^2 + y^2 + z^2) dv \stackrel{\text{مختصات کروی}}{=} \int_0^{2\pi} \int_0^{\pi} \int_0^a \rho^2 \times \rho^2 \sin \phi d\rho d\phi d\theta = \frac{2\pi}{5} a^5$$

همان‌طور که می‌بینید این سؤال با تغییر در تابع \vec{F} در سال‌های ۸۳ برای رشته عمران و در سال ۸۶ برای رشته MBA سؤال بوده است!!

کله مثال ۳۸: فرض کنید S رویه بسته متشکل از کره $x^2 + y^2 + z^2 = 4$ در یک هشتم اول فضا و صفحات مختصات باشد. اگر \vec{n} بردار یکه قائم بر رویه رو به خارج و $\vec{F} = x^2\vec{i} - 2xy\vec{j} + 3z\vec{k}$ باشد، مقدار انتگرال $\iint_S \vec{F} \cdot \vec{n} d\sigma$ کدام است؟

(مکانیک - سراسری ۸۷)

- (۱) 2π (۲) 6π (۳) 4π (۴) 8π

پاسخ: گزینه «۳» با توجه به قضیه دیورژانس داریم:

$$\iint_S \vec{F} \cdot \vec{n} d\sigma = \iiint_V (\text{div} \vec{F}) dv = \iiint_V 3 dv = 3 \times (\text{حجم کره به شعاع } 2) = 3 \times \frac{4}{3} \pi \times 2^3 = 32\pi$$

با توجه به اینکه انتگرال مورد نظر فقط در یک هشتم اول فضا مورد نظر است پس جواب انتگرال مورد نظر $\frac{1}{8}$ مقدار بدست آمده یعنی 4π است.

کله مثال ۳۹: شار برون‌سوی میدان برداری $\vec{F} = z\vec{i} + 2y\vec{j} + x\vec{k}$ از کره $x^2 + y^2 + z^2 = 1$ کدام است؟

(آمار - سراسری ۸۷)

- (۱) π (۲) 2π (۳) 3π (۴) 4π

پاسخ: گزینه «۴» از قضیه دیورژانس استفاده می‌کنیم. $\iint_S \vec{F} \cdot \vec{n} d\sigma = \iiint_V (\text{div} \vec{F}) dv = \iiint_V 3 dv = 3 \times (\text{حجم کره‌ای به شعاع } 1) = 4\pi$

کله مثال ۴۰: حاصل $\iint_S (x+y^2z) dx dy + (xz^2+y) dy dz + (x^2y-1) dx dz$ که در آن S سطح نیم‌کره به معادله $z = \sqrt{4-x^2-y^2}$ و صفحه $z=0$ می‌باشد، کدام است؟

(MBA - سراسری ۸۸)

- (۱) $\frac{22\pi}{3}$ (۲) $\frac{64\pi}{3}$ (۳) $\frac{22\pi}{5}$ (۴) $\frac{64\pi}{5}$

پاسخ: گزینه «۴» چون S یک سطح بسته است پس می‌توانیم از قضیه دیورژانس برای محاسبه انتگرال استفاده کنیم.

$$\vec{F} = (xz^2 + y, x^2y - 1, x + y^2z) \Rightarrow \text{div} \vec{F} = z^2 + x^2 + y^2$$

$$\Rightarrow I = \iint_S (xz^2 + y) dy dx + (x^2y - 1) dx dz + (x + y^2z) dx dy = \iiint_V (x^2 + y^2 + z^2) dv$$

از آن‌جا که ناحیه V درون نیم‌کره‌ی بالایی است، بهتر است از مختصات کروی استفاده کنیم. در نیم‌کره‌ی بالایی می‌دانیم که $0 \leq \theta \leq 2\pi$ و $0 \leq \phi \leq \frac{\pi}{2}$ است. شعاع این نیم‌کره برابر با ۲ است در نتیجه داریم $0 \leq \rho \leq 2$. همان‌طور که می‌دانید $x^2 + y^2 + z^2 = \rho^2$ و ژاکوبی دستگاه کروی هم $\rho^2 \sin \phi$ است. در ضمن چون حدود انتگرال، اعداد ثابتی هستند می‌توانیم آن را به صورت حاصل ضرب انتگرال‌های یگانه بنویسیم:

$$I = \int_0^{2\pi} \int_0^{\frac{\pi}{2}} \int_0^2 \rho^4 \sin \phi d\rho d\phi d\theta = \int_0^{2\pi} d\theta \times \int_0^{\frac{\pi}{2}} \sin \phi d\phi \times \int_0^2 \rho^4 d\rho = \frac{64\pi}{5}$$

کله مثال ۴۱: فرض کنید D ناحیه $1 \leq \frac{x^2}{a^2} + \frac{y^2}{b^2} + \frac{z^2}{c^2} \leq 1$ و $\vec{F} = \alpha x^2\vec{i} + \beta y^2\vec{j} + \gamma z^2\vec{k}$ باشند، به طوری که $\alpha a^2 = \beta b^2 = \gamma c^2 = 1$. در این صورت اگر شار

(ریاضی - سراسری ۸۸)

برون‌سوی میدان \vec{F} از مرز ناحیه D برابر ϕ باشد، آن‌گاه:

(۱) به ازای یک مقدار مناسب K که مستقل از $\gamma, \beta, \alpha, c, b, a$ است، داریم $\phi = K \frac{abc}{\alpha\beta\gamma}$

(۲) به ازای یک مقدار مناسب K که مستقل از $\gamma, \beta, \alpha, c, b, a$ است، داریم $\phi = k\pi$

(۳) به ازای یک مقدار مناسب K که مستقل از γ, β, α است، داریم $\phi = K\alpha\beta\gamma$

(۴) به ازای یک مقدار مناسب K که مستقل از c, b, a است، داریم $\phi = Kabc$

پاسخ: گزینه «۴» شار برون‌سوی میدان \vec{F} از مرز ناحیه D برابر $\iint_D \vec{F} \cdot \vec{n} d\sigma$ می‌باشد، که با توجه به شرایط مسأله می‌توانیم برای محاسبه آن از

$$\text{div} \vec{F} = 3\alpha x^2 + 3\beta y^2 + 3\gamma z^2 = 3\left(\frac{x^2}{a^2} + \frac{y^2}{b^2} + \frac{z^2}{c^2}\right)$$

قضیه دیورژانس استفاده کنیم.

$$I = \iint_D \vec{F} \cdot \vec{n} d\sigma = \iiint_V 3\left(\frac{x^2}{a^2} + \frac{y^2}{b^2} + \frac{z^2}{c^2}\right) dv$$

انتگرال فوق با استفاده از تغییر مختصات $x = a\rho \sin \phi \cos \theta$ و $y = b\rho \sin \phi \sin \theta$ ، $z = c\rho \cos \phi$ و $J = abc\rho^2 \sin \phi$ به صورت زیر تبدیل می‌شود:

$$I = \int_0^{2\pi} \int_0^{\pi} \int_0^1 3\rho^2 \times abc\rho^2 \sin \phi d\rho d\phi d\theta = abc \int_0^{2\pi} d\theta \int_0^{\pi} \sin \phi d\phi \int_0^1 3\rho^4 d\rho = \frac{12\pi}{5} abc$$



مثال ۴۲: مقدار انتگرال $\iint_S \vec{F} \cdot \vec{n} \, d\sigma$ که در آن S رویه‌ای هموار و بسته با بردار قائم یکانی خارجی \vec{n} و محدودکننده‌ی ناحیه‌ای به حجم ۳ واحد

مکعب، و $\vec{F}(x, y, z) = (3x + e^{3y})\vec{i} + (e^{4z} - 4y)\vec{j} + (\Delta z + e^{\Delta y})\vec{k}$ باشد، برابر است با:

(ریاضی - سراسری ۸۸)

۶ (۱) ۹ (۲) ۱۲ (۳) ۱۵ (۴)

پاسخ: گزینه «۳» چون سطح S بسته و هموار است می‌توانیم برای محاسبه انتگرال موردنظر از قضیه دیورژانس استفاده کنیم.

$$\vec{F} = (3x + e^{3y}, e^{4z} - 4y, \Delta z + e^{\Delta y}) \Rightarrow \iint_S \vec{F} \cdot \vec{n} \, d\sigma = \iiint_V (\text{div} \vec{F}) \, dv = \iiint_V 4 \, dv = 4 \times (\text{حجم ناحیه}) = 4 \times 3 = 12$$

مثال ۴۳: با استفاده از قضیه دیورژانس، مقدار انتگرال رویه‌ای $\iint_S (x^2 + y^2 + z^2) \, ds$ که در آن S کره $x^2 + y^2 + z^2 = a^2$ می‌باشد، کدام است؟

(عمران - نقشه‌برداری - سراسری ۸۸)

$\frac{4}{3} \pi a^4$ (۴) $\frac{4}{3} \pi a^6$ (۳) $4 \pi a^4$ (۲) $2 \pi a^4$ (۱)

پاسخ: گزینه «۲» طبق راهنمایی صورت مسأله از قضیه دیورژانس استفاده می‌کنیم. با توجه به صورت مسأله باید $\vec{F} \cdot \vec{n} = x^2 + y^2 + z^2$ باشد، از

طرفی چون S کره $x^2 + y^2 + z^2 = a^2$ می‌باشد، پس $\vec{n} = (\frac{x}{a}, \frac{y}{a}, \frac{z}{a})$ خواهد بود و در نتیجه $\vec{F} = (ax, ay, az)$ می‌باشد. حال طبق قضیه دیورژانس داریم:

$$\iint_S \vec{F} \cdot \vec{n} \, ds = \iiint_{\text{درون کره}} (\text{div} \vec{F}) \, dv = \iiint_{x^2+y^2+z^2=a^2} 3a \, dv = 3a \times (\text{حجم کره‌ای به ارتفاع } a) = 4 \pi a^4$$

مثال ۴۴: فرض کنید D ناحیه داخل نیم کره فوقانی به شعاع ۲، $(x^2 + y^2 + z^2 \leq 4, z \geq 0)$ و S سطح بسته محصورکننده ناحیه D باشد.

(مکانیک - سراسری ۸۸)

اگر $\vec{F} = x^2 \vec{i} + y^2 \vec{j} + z^2 \vec{k}$ ، در این صورت مقدار انتگرال $\iint_S \vec{F} \cdot \vec{n} \, d\sigma$ کدام است؟

$\frac{68}{3} \pi$ (۴) 38π (۳) 16π (۲) $\frac{192}{5} \pi$ (۱)

پاسخ: گزینه «۱» با توجه به شرایط مسأله، می‌توان از قضیه دیورژانس استفاده کرد. $I = \iint_S \vec{F} \cdot \vec{n} \, d\sigma = \iiint_D (\text{div} \vec{F}) \, dv = \iiint_D 3(x^2 + y^2 + z^2) \, dv$

برای محاسبه انتگرال بالا مختصات کروی مناسب می‌باشد، در نیم کره‌ی بالایی داریم $0 \leq \theta \leq 2\pi$ و $0 \leq \phi \leq \frac{\pi}{2}$ و چون شعاع نیم کره ۲ است داریم $0 \leq \rho \leq 2$.

$$I = \int_0^{2\pi} \int_0^{\frac{\pi}{2}} \int_0^2 3\rho^2 \times \rho^2 \sin \phi \, d\rho \, d\phi \, d\theta = \int_0^{2\pi} d\theta \int_0^{\frac{\pi}{2}} \sin \phi \, d\phi \int_0^2 3\rho^4 \, d\rho = (2\pi) \times (1) \times \left(\frac{96}{5}\right) = \frac{192\pi}{5}$$

مثال ۴۵: فرض کنید D ناحیه توپر محصور به استوانه $x^2 + z^2 = 1$ و صفحات $y = 1$ و $y = -1$ باشد و رویه S مرز ناحیه D باشد، همچنین فرض کنید

$\vec{F} = (x + \cos yz)\vec{i} + (2y - \sin xz)\vec{j} + (x^2 + 1)e^{yz}\vec{k}$ اگر \vec{n} بردار یکه قائم بر S و رو به خارج ناحیه D باشد، مقدار انتگرال $\iint_S \vec{F} \cdot \vec{n} \, d\sigma$ کدام است؟

(مواد - سراسری ۸۹)

2π (۴) 3π (۳) 4π (۲) 6π (۱)

پاسخ: گزینه «۱» چون سطح موردنظر بسته است، پس می‌توانیم از قضیه دیورژانس استفاده کنیم.

$$\iint_S \vec{F} \cdot \vec{n} \, d\sigma = \iiint_V (\text{div} \vec{F}) \, dv = \iiint_V \left(\frac{\partial}{\partial x}(x + \cos yz) + \frac{\partial}{\partial y}(2y - \sin xz) + \frac{\partial}{\partial z}((x^2 + 1)e^{yz}) \right) \, dv$$

$$= \iiint_V (2 + 2 + 0) \, dv = 3 \iiint_V \, dv = 3 \times (\text{حجم استوانه}) = 3 \times 2\pi = 6\pi$$

در قسمت نهایی حجم استوانه را حساب کردیم. حجم استوانه برابر مساحت قاعده در ارتفاع استوانه است. قاعده استوانه داده شده دایره‌ای به شعاع ۱

می‌باشد، پس مساحت قاعده π و ارتفاع آن ۲ می‌باشد پس حجم استوانه 2π خواهد بود.

مثال ۴۶: فرض کنیم Γ رویه محصور کننده ناحیه Ω باشد که توسط صفحات $z=0$, $y=0$, $y=e$ و استوانه $z=1-x^2$ محصور شده، اگر میدان برداری $\vec{F} = (x + \cos y)\vec{i} + (y + \cosh z)\vec{j} + (z + e^{-x^2})\vec{k}$ آنگاه مقدار $\iint_{\Gamma} (\vec{F} \cdot \vec{n}) d\sigma$ کدام است؟ (\vec{n} قائم یکه برون سو بر Γ و $d\sigma$ جزء مساحت رویه است)
(مکانیک - سراسری ۹۰)

(۱) $\frac{e}{3}$ (۲) $\frac{e}{2}$ (۳) $\frac{2}{3}(e-1)$ (۴) $4e$

پاسخ: گزینه «۴» از قضیه دیورژانس استفاده می‌کنیم و داریم:
ابتدا دیورژانس تابع $F(x, y, z)$ را محاسبه می‌کنیم. بنابراین داریم:

$$\text{div} \vec{F} = \frac{\partial(x + \cos y)}{\partial x} + \frac{\partial(y + \cosh z)}{\partial y} + \frac{\partial(z + e^{-x^2})}{\partial z} = 1 + 1 + 1 = 3 \Rightarrow I = \iiint_V 3 \, dv \Rightarrow 3 \int_0^e \int_{-1}^1 \int_0^{1-x^2} dz dx dy$$

$$= 6 \int_0^e \int_0^1 \int_0^{1-x^2} dz dx dy = 6 \int_0^e \int_0^1 (1-x^2) dx dy = 6 \int_0^e \left(x - \frac{x^3}{3}\right) \Big|_0^1 dy = 6 \int_0^e \frac{2}{3} dy = 6 \times \frac{2}{3} y \Big|_0^e = 4e$$

مثال ۴۷: اگر $I = \iint_S \vec{F} \cdot \vec{n} d\sigma$ که در آن S سطح جانبی استوانه‌ای قائم محصور به رویه‌های $z=2$ و $z=-2$, $x^2 + y^2 = 9$ باشد، مقدار I کدام است؟
(صنایع - سیستم - سراسری ۹۰)

(۱) 36π (۲) 54π (۳) 72π (۴) 108π

پاسخ: گزینه «۴» طبق قضیه دیورژانس داریم:
ابتدا دیورژانس تابع برداری \vec{F} را محاسبه می‌کنیم:
با توجه به ناحیه محصور از مختصات استوانه‌ای استفاده می‌کنیم، بنابراین داریم:

$$I = 3 \int_0^{2\pi} \int_0^2 \int_{-2}^2 r \, dz \, r \, dr \, d\theta = 12 \left(\int_0^{2\pi} d\theta \right) \left(\int_0^2 r \, dr \right) = 12 \times 2\pi \times \frac{9}{2} = 108\pi$$

مثال ۴۸: ناحیه بین دو کره $\rho=1$ و $\rho=4$ است و $\vec{F}(x, y, z) = \frac{x\vec{i} + y\vec{j} + z\vec{k}}{x^2 + y^2 + z^2}$ ، شار برون سوی \vec{F} گذرنده از مرز ناحیه D با کدام مقدار زیر برابر است؟
(مواد - سراسری ۹۰)

(۱) 0 (۲) 4π (۳) 8π (۴) 12π

پاسخ: گزینه «۴» طبق صورت سؤال فرض کنیم D ناحیه‌ی بین دو کره باشد. سطح این ناحیه را با S نشان می‌دهیم. برای محاسبه شار برون سوی \vec{F} گذرنده از سطح S از رابطه $\iint_S \vec{F} \cdot \vec{n} ds$ استفاده می‌کنیم. سطح S بسته است بنابراین از قضیه‌ی دیورژانس استفاده می‌کنیم:
برای حل انتگرال فوق طبق قضیه دیورژانس عمل می‌کنیم:

$$\text{div} \vec{F} = \frac{-x^2 + y^2 + z^2}{(x^2 + y^2 + z^2)^2} + \frac{x^2 - y^2 + z^2}{(x^2 + y^2 + z^2)^2} + \frac{x^2 + y^2 - z^2}{(x^2 + y^2 + z^2)^2} = \frac{x^2 + y^2 + z^2}{(x^2 + y^2 + z^2)^2} = \frac{1}{x^2 + y^2 + z^2} = \frac{1}{\rho^2}$$

ابتدا $\text{div} \vec{F}$ را محاسبه می‌کنیم.
با جایگذاری $\text{div} \vec{F}$ در رابطه بالا و استفاده از مختصات کروی، انتگرال را حل می‌کنیم. در ناحیه‌ی بین دو کره داریم $1 \leq \rho \leq 4$, $0 \leq \phi \leq \pi$ و $0 \leq \theta \leq 2\pi$:

$$\text{شار} = \int_0^{2\pi} \int_0^\pi \int_1^4 \frac{1}{\rho^2} \rho^2 \sin \phi \, d\rho \, d\phi \, d\theta = \left(\int_0^{2\pi} d\theta \right) \left(\int_0^\pi \sin \phi \, d\phi \right) \left(\int_1^4 d\rho \right) = (2\pi)(2)(3) = 12\pi$$

مثال ۴۹: فرض کنید $\vec{F}(x, y, z) = (yz + \tan^{-1}(yz))\vec{i} + (2y - e^{\sin z})\vec{j} + \frac{1}{x^2 + y^2 + 1}\vec{k}$ و R ناحیه‌ی محدود به صفحه‌های $z=0$ و $z=2$ و استوانه‌ای $x^2 + y^2 = 4$ است. سطح S را مرز R تعریف می‌کنیم و در ضمن فرض کنیم سطح S با نرمال رو به خارج جهت‌دار شده است. شار \vec{F} در امتداد S کدام است؟
(آمار - سراسری ۹۰)

(۱) $\frac{1}{32\pi}$ (۲) $\frac{1}{\pi}$ (۳) π (۴) 32π

پاسخ: گزینه «۴» سطح S بسته است و ناحیه‌ی درون آن یعنی R به صفحات $z=0$, $z=2$ و استوانه‌ی $x^2 + y^2 = 4$ محدود شده است. از قضیه‌ی دیورژانس استفاده می‌کنیم:
با توجه به معادله‌ی \vec{F} داریم:

در ناحیه‌ی R بهتر است از مختصات استوانه‌ای استفاده کنیم، به وضوح $0 \leq z \leq 2$ است و با توجه به معادله‌ی $x^2 + y^2 = 4$ داریم $0 \leq r \leq 2$ و $0 \leq \theta \leq 2\pi$:

$$I = \iiint_R 2(z+1) \, dv = \int_0^{2\pi} \int_0^2 \int_0^2 2(z+1) r \, dz \, r \, dr \, d\theta = 2 \int_0^{2\pi} \int_0^2 r \left[\frac{z^2}{2} + z \right] \Big|_0^2 dr \, d\theta = 2 \int_0^{2\pi} \int_0^2 4r \, dr \, d\theta = 2 \int_0^{2\pi} [2r^2] \Big|_0^2 d\theta = 16 \times 2\pi = 32\pi$$



درسنامه ۳: قضیه استوکس

مثال ۱: اگر C خم با معادله‌ی پارامتری $\vec{r}(t) = (\sin t)\vec{i} + (\cos t)\vec{j} + (\sin 2t)\vec{k}$ برای $0 \leq t \leq 2\pi$ باشد. آن‌گاه حاصل انتگرال $I = \int_C (y + \sin x)dx + (z^2 \cos y)dy + z^2 dz$ کدام است؟

- π (۴) π (۳)- 2π (۲) 2π (۱)

پاسخ: گزینه «۳» اگر به معادلات پارامتری خم C دقت شود. با توجه به اتحاد $\sin 2t = 2 \sin t \cos t$ داریم:

$$\vec{r}(t) = (x(t), y(t), z(t)) = (\sin t, \cos t, 2 \sin t \cos t), \quad x = \sin t, \quad y = \cos t, \quad z = 2 \sin t \cos t$$

و این یعنی روی خم C داریم $z = 2xy$ ، همچنین چون $\sin^2 t + \cos^2 t = 1$ پس رابطه‌ی $x^2 + y^2 = 1$ را نیز داریم. در واقع خم C مرز بخشی از سطح $S: z = 2xy$ است که درون استوانه‌ی $x^2 + y^2 = 1$ قرار دارد. با استفاده از قضیه‌ی استوکس برای میدان برداری $\vec{F} = (y + \sin x, z^2 \cos y, z^2)$ می‌توان انتگرال روی مرز را به انتگرال روی سطح S تبدیل کرد. ابتدا $\text{curl} \vec{F}$ را به دست می‌آوریم:

$$\text{curl} \vec{F} = \begin{vmatrix} \vec{i} & \vec{j} & \vec{k} \\ \frac{\partial}{\partial x} & \frac{\partial}{\partial y} & \frac{\partial}{\partial z} \\ y + \sin x & z^2 \cos y & z^2 \end{vmatrix} = (-2z \cos y)\vec{i} - \vec{k}$$

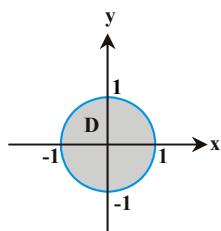
حالا $\vec{n} d\sigma$ را برای رویه‌ی پارامتری $g: z = 2xy = 0$ ، تعیین می‌کنیم، دقت کنید $\vec{p} = \vec{k}$ و لذا $|\vec{\nabla} g \cdot \vec{p}| = 1$ پس داریم:

$$\vec{n} d\sigma = \pm \frac{\vec{\nabla} g}{|\vec{\nabla} g \cdot \vec{p}|} dA = \pm \left(\frac{-2y\vec{i} - 2x\vec{j} + \vec{k}}{1} \right) dA$$

لحظه‌ی حساس پاسخ به این سؤال، اینجاست! کدام علامت؟ مثبت یا منفی؟ اگر فکر کنیم چون طراح چیزی نگفته پس حتماً در جهت مثلثاتی روی مرز دایره $x^2 + y^2 = 1$ حرکت کرده‌ایم، خیلی اشتباه کرده‌ایم!! چرا که معادله‌ی این دایره به صورت $\vec{C}(t) = \sin t \vec{i} + \cos t \vec{j}$ شده، یعنی جای $\cos t$ و $\sin t$ عوض شده و این یعنی دایره در جهت خلاف مثلثاتی طی شده است، پس قائم رو به خارج به سمت پایین است و این یعنی باید ضرب \vec{k} منفی شود و بنابراین علامت منفی را انتخاب می‌کنیم، پس داریم:

که به راحتی $\text{curl} \vec{F} \cdot \vec{n} d\sigma$ برابر با $(-4y \cos y + 1) dA$ به دست می‌آید.

$$I = \iint_S \text{curl} \vec{F} \cdot \vec{n} d\sigma = \iint_D (-4yz \cos y + 1) dy dx = \iint_D (-4xy^2 \cos y + 1) dy dx$$



ناحیه‌ی D تصویر S بر صفحه‌ی xoy است و توسط استوانه‌ی $x^2 + y^2 = 1$ مشخص می‌شود، در واقع D دایره واحد در صفحه xoy است.

همان‌طور که می‌بینید ناحیه‌ی D نسبت به محورهای مختصات متقارن است و از طرفی عبارت $xy^2 \cos y$ نسبت به x فرد است. بنابراین حاصل انتگرال این عبارت بر ناحیه‌ی D ، صفر می‌شود، پس می‌توان نوشت:

$$I = \iint_D dy dx = (D \text{ مساحت}) = \pi$$

مثال ۲: فرض کنید S بخشی از صفحه‌ی $z = 2$ باشد که درون استوانه‌ی $x^2 + y^2 = 1$ قرار دارد. اگر \vec{n} بردار قائم یکه S (رو به بالا) باشد، در صورتی که $I = \iint_S \text{curl} \vec{F} \cdot \vec{n} d\sigma$ حاصل $\vec{F} = -y\vec{i} + x \cos(1 - x^2 - y^2)\vec{j} + (yz)\vec{k}$ کدام است؟

- 4π (۴) 3π (۳) 2π (۲) π (۱)

پاسخ: گزینه «۲» فرض کنید S سطح دلخواهی با بردار یکه رو به بالا با مرزهای $x^2 + y^2 = 1$ و $z = 2$ باشد. دنبال محاسبه‌ی انتگرال I هستیم که با توجه به وجود $\text{curl} \vec{F} \cdot \vec{n}$ ، متوجه می‌شویم سمت راست قضیه استوکس از ما خواسته شده است، می‌توانیم به جای آن انتگرال خط $I = \oint_C \vec{F} \cdot d\vec{r}$ را حساب کنیم که راحت‌تر است. دقت کنید که فرم پارامتری منحنی C را می‌توان به شکل زیر نوشت:

$$x = \cos t, \quad y = \sin t, \quad z = 2 \Rightarrow \vec{C}(t) = (\cos t)\vec{i} + (\sin t)\vec{j} + 2\vec{k}, \quad 0 \leq t \leq 2\pi$$

و لذا $\vec{C}'(t) = (-\sin t)\vec{i} + \cos t \vec{j}$ و می‌دانیم انتگرال $\oint_C \vec{F} \cdot d\vec{r}$ برابر $\int_0^{2\pi} \vec{F}[\vec{C}(t)] \vec{C}'(t) dt$ است. پس با جایگذاری داریم:

$$I = \int_0^{2\pi} [(-\sin t)\vec{i} + (\cos t)\vec{j} + (2 \sin t)\vec{k}] [(-\sin t)\vec{i} + (\cos t)\vec{j}] dt = \int_0^{2\pi} (\sin^2 t + \cos^2 t) dt = \int_0^{2\pi} (1) dt = 2\pi$$

کلمه مثال ۳ (سخت): اگر C مرز فصل مشترک نیم کره $x^2 + y^2 + z^2 = 2ax$ با استوانه $x^2 + y^2 = 2bx$ باشد، $(2b > a > b > 0)$ آن گاه حاصل (از سؤالات ریاضی عمومی (۲) در دانشگاه‌های روسیه)

$$I = \int_C (y^2 + z^2) dx + (x^2 + z^2) dy + (x^2 + y^2) dz$$

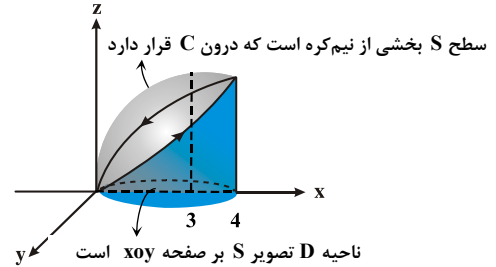
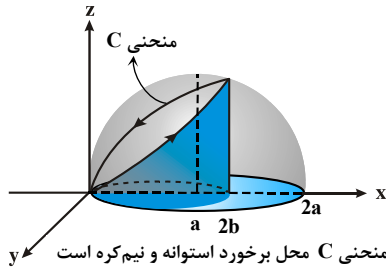
۴) $2\pi ab^2$

۳) $2\pi a^2 b$

۲) $\pi a^2 b$

۱) $4\pi ab^2$

پاسخ: گزینه «۴» منحنی C را در شکل زیر نشان داده‌ایم. فرض کنیم سطح S بخشی از نیم کره‌ی $x^2 + y^2 + z^2 = 2ax$ باشد که مرز آن است. انتگرال خط را می‌توان از هر دو روش محاسبه کرد ولی بهتر است. از قضیه‌ی استوکس کمک بگیریم.



میدان برداری $\vec{F} = (y^2 + z^2, x^2 + z^2, x^2 + y^2)$ را داریم، بنابراین $\text{curl } \vec{F}$ را محاسبه می‌کنیم:

$$\text{curl } \vec{F} = \begin{vmatrix} \vec{i} & \vec{j} & \vec{k} \\ \frac{\partial}{\partial x} & \frac{\partial}{\partial y} & \frac{\partial}{\partial z} \\ y^2 + z^2 & x^2 + z^2 & x^2 + y^2 \end{vmatrix} = 2(y-z)\vec{i} - 2(x-z)\vec{j} + 2(x-y)\vec{k}$$

با توجه به معادله $g(x, y, z) = x^2 + y^2 + z^2 - 2ax = 0$ و نظر به این که $\vec{p} = \vec{k}$ ، لذا $|\vec{\nabla} g \cdot \vec{p}| = 2z$ خواهیم داشت:

$$\vec{n} d\sigma = \pm \frac{(2x - 2a, 2y, 2z)}{2z} dA = \frac{(x - a, y, z)}{z} dy dx$$

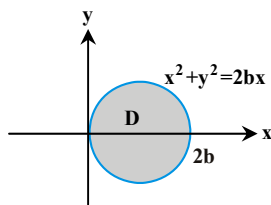
بنابراین اگر D تصویر S بر صفحه‌ی xoy باشد که توسط استوانه‌ی $x^2 + y^2 = 2bx$ مشخص می‌شود، داریم:

$$I = \iint_S \text{curl } \vec{F} \cdot \vec{n} d\sigma = \iint_D \frac{2(y-z)(x-a) - 2y(x-z) + 2z(x-y)}{z} dy dx = 2 \iint_D \frac{yx - ya - zx + za - yx + yz + zx - zy}{z} dy dx$$

$$I = 2 \iint_D \frac{a(z-y)}{z} dy dx = 2a \iint_D \left(1 - \frac{y}{z}\right) dy dx$$

$$I = 2a \iint_D \left(1 - \frac{y}{\sqrt{2ax - x^2 - y^2}}\right) dy dx$$

از معادله‌ی S داریم $z = \sqrt{2ax - x^2 - y^2}$. پس می‌توان نوشت:



معادله‌ی $x^2 + y^2 = 2bx$ با تبدیل y به $-y$ تغییر نمی‌کند. بنابراین ناحیه‌ی D نسبت به محور x ها تقارن دارد. همچنین تابع $\frac{y}{\sqrt{2ax - x^2 - y^2}}$ نسبت به y فرد است، بنابراین انتگرال آن روی D صفر می‌شود و بنابراین داریم:

$$I = 2a \iint_D (1) dy dx = 2a \times (\text{مساحت } D) = 2a(\pi b^2) = 2\pi ab^2$$



کلمه مثال ۴: مقدار انتگرال روی منحنی $I = \int_C ydx + zdy + xdz$ که C محل برخورد کره $x^2 + y^2 + z^2 = a^2$ ، با صفحه‌ی $x + y + z = 0$ در خلاف جهت

مثلثاتی است، کدام است؟

$$\pi a^2 \sqrt{3} \quad (۴)$$

$$\pi a^2 \quad (۳)$$

$$\pi a^3 \sqrt{3} \quad (۲)$$

$$\pi a \sqrt{3} \quad (۱)$$

پاسخ: گزینه «۴» خم C از تلاقی کره با یک صفحه به دست می‌آید، پس یک خم بسته است و می‌توانیم از قضیه استوکس استفاده کنیم. در این

صورت با فرض $\vec{F} = (y, z, x)$ خواهیم داشت:

$$\int_C \vec{F} \cdot d\vec{r} = \iint_S \text{curl} \vec{F} \cdot \vec{n} ds$$

که در آن S قسمتی از صفحه $g(x, y, z): x + y + z = 0$ است که درون کره قرار دارد.

$$\text{curl} \vec{F} = \begin{vmatrix} \vec{i} & \vec{j} & \vec{k} \\ \frac{\partial}{\partial x} & \frac{\partial}{\partial y} & \frac{\partial}{\partial z} \\ y & z & x \end{vmatrix} = (-1, -1, -1)$$

$$\vec{n} = \pm \frac{\vec{\nabla} g}{|\vec{\nabla} g|} = \pm \frac{(1, 1, 1)}{\sqrt{3}}$$

بردار یکه عمود بر سطح S (بردار یکه عمود بر صفحه) به صورت مقابل است:

چون خم C در جهت عکس مثلثاتی طی شده، بنابراین $\vec{n} = \frac{(-1, -1, -1)}{\sqrt{3}}$ قابل قبول است و در نتیجه $\frac{1+1+1}{\sqrt{3}} = \sqrt{3}$ است.

$$\int_C \vec{F} \cdot d\vec{r} = \iint_S \text{curl} \vec{F} \cdot \vec{n} ds = \sqrt{3} \iint_S ds = \sqrt{3} (S \text{ مساحت سطح})$$

چون سطح S از تلاقی کره‌ای به شعاع a با صفحه‌ای که از مرکز کره می‌گذرد، ایجاد شده است، بنابراین شعاع دایره حاصل با شعاع کره برابر و بنابراین مساحت سطح S برابر $\pi a^2 \sqrt{3}$ و مقدار انتگرال $\pi a^2 \sqrt{3}$ است.

کلمه مثال ۵: فرض کنید C منحنی بسته‌ی ساده‌ای باشد که وقتی از بالا به آن نگاه می‌کنیم، خلاف جهت عقربه‌های ساعت جهت‌دار شده و بخشی از

صفحه‌ی $x + y + z = 1$ را محصور کرده است. همچنین C طوری است که انتگرال $\oint_C \vec{F} \cdot d\vec{r}$ روی آن ماکزیمم و برابر با M می‌شود.

اگر $\vec{F} = (xy^2)\vec{i} + (3z - xy^2)\vec{j} + (4y - x^2y)\vec{k}$ ، آن‌گاه مقدار M کدام است؟

$$\frac{\pi}{4\sqrt{3}} \quad (۴)$$

$$\frac{\pi}{2\sqrt{3}} \quad (۳)$$

$$\frac{\pi}{4} \quad (۲)$$

$$\frac{\pi}{2} \quad (۱)$$

$$g: x + y + z = 1 \Rightarrow \vec{\nabla} g = \vec{i} + \vec{j} + \vec{k}$$

پاسخ: گزینه «۱» فرض کنید C ناحیه‌ی S را محصور کرده باشد، در این صورت داریم:

حالا باید $\text{curl} \vec{F}$ را حساب کنیم:

$$\text{curl} \vec{F} = \begin{vmatrix} \vec{i} & \vec{j} & \vec{k} \\ \frac{\partial}{\partial x} & \frac{\partial}{\partial y} & \frac{\partial}{\partial z} \\ xy^2 & 3z - xy^2 & 4y - x^2y \end{vmatrix} = (1 - x^2)\vec{i} + 2xy\vec{j} - (y^2 + 2xy)\vec{k}$$

بنابراین داریم: $\text{curl} \vec{F} \cdot \vec{n} d\sigma = [(1 - x^2)\vec{i} + (2xy)\vec{j} - (y^2 + 2xy)\vec{k}] \cdot [\vec{i} + \vec{j} + \vec{k}] dA = [1 - x^2 + 2xy - y^2 - 2xy] dA = (1 - x^2 - y^2) dA$

از طرفی اگر تصویر S روی صفحه‌ی xoy قرص $x^2 + y^2 \leq 1$ باشد، این انتگرال ماکزیمم می‌شود، بنابراین داریم:

$$I = \iint_{x^2 + y^2 \leq 1} (1 - x^2 - y^2) dA = \iint_{x^2 + y^2 \leq 1} (1 - x^2 - y^2) dx dy = \int_0^{2\pi} \int_0^1 (1 - r^2) r dr d\theta = \left(\int_0^{2\pi} d\theta \right) \times \left(\int_0^1 (1 - r^2) r dr \right) = 2\pi \left(\frac{1}{2} - \frac{1}{6} \right) = \frac{\pi}{3}$$

کلمه مثال ۶: اگر γ مرز مثلث ABC با رئوس $A(1,0,0)$ و $B(0,2,0)$ ، $C(0,0,3)$ باشد که در جهت مثلثاتی پیموده شده است، آن‌گاه حاصل (از سؤالات پایان ترم دانشگاه علم و صنعت)

$$I = \oint_{\gamma} 2xydx + 3xzdy + (x^2 + y^2)dz$$

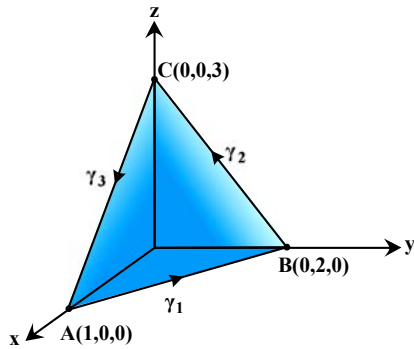
- (۴) $\frac{7}{6}$ (۳) $\frac{7}{3}$ (۲) $\frac{7}{9}$ (۱)

پاسخ: گزینه «۲» برای تمرین و این که دانشجو برابری دو طرف قضیه استوکس را لمس کند، سؤال را به دو روش پاسخ می‌دهیم.

روش اول: روش پارامتری کردن (بدون استفاده از قضیه استوکس)

با توجه به این که معادله پارامتری خط راست، ساده و از درجهی یک است، می‌توانیم بدون به کار بردن قضیه استوکس، مرز بسته γ را به بخش‌های γ_1 و γ_2 و γ_3 تقسیم کنیم که به ترتیب اضلاع AB و BC و CA هستند. یادآوری می‌کنیم که پاره‌خط AB را می‌توان به صورت زیر پارامتری کرد:

$$(x, y, z) = A + (B - A)t, \quad 0 \leq t \leq 1$$



$$I = \int_{\gamma} 2xydx + 3xzdy + (x^2 + y^2)dz = \int_{\gamma_1} \vec{F} \cdot d\vec{r} + \int_{\gamma_2} \vec{F} \cdot d\vec{r} + \int_{\gamma_3} \vec{F} \cdot d\vec{r}$$

مسیر γ_1 پاره‌خط AB است. روی آن داریم:

$$(x, y, z) = A + (B - A)t = (1-t, 2t, 0), \quad 0 \leq t \leq 1$$

بنابراین $(dx, dy, dz) = (-1, 2, 0)$ و به این ترتیب داریم:

$$I_1 = \int_{\gamma_1} 2xydx + 3xzdy + (x^2 + y^2)dz = \int_0^1 -4t(1-t)dt = \left(-4\frac{t^2}{2} + 4\frac{t^3}{3}\right) \Big|_0^1 = \frac{4}{3} - 2 = -\frac{2}{3}$$

مسیر γ_2 پاره‌خط BC است. روی این پاره‌خط داریم:

$$(x, y, z) = B + (C - B)t = (0, 2-2t, 2t), \quad 0 \leq t \leq 1$$

$$I_2 = \int_{\gamma_2} 2xydx + 3xzdy + (x^2 + y^2)dz = \int_0^1 3(2-2t)^2 dt = -\frac{3}{2} \left(\frac{2-2t}{3}\right) \Big|_0^1 = 4$$

بنابراین: $(dx, dy, dz) = (0, -2, 2)$ و خواهیم داشت:

مسیر γ_3 نیز پاره‌خط CA است و به صورت زیر پارامتری می‌شود:

$$(x, y, z) = C + (A - C)t = (t, 0, 3-3t), \quad 0 \leq t \leq 1$$

$$I_3 = \int_{\gamma_3} 2xydx + 3xzdy + (x^2 + y^2)dz = \int_0^1 -3t^2 dt = -t^3 \Big|_0^1 = -1$$

بنابراین: $(dx, dy, dz) = (1, 0, -3)$ و به این ترتیب داریم:

$$I = \int \vec{F} \cdot d\vec{r} = I_1 + I_2 + I_3 = -\frac{2}{3} + 4 - 1 = \frac{7}{3}$$

با جمع کردن جواب‌ها داریم:

روش دوم: استفاده از قضیه استوکس

مرز بسته γ در واقع مرز بخشی از صفحه S است که از نقاط A ، B ، C می‌گذرد. معادله صفحه‌ای که از این ۳ نقطه می‌گذرد به صورت $x + \frac{y}{2} + \frac{z}{3} = 1$ است.

معادله صفحه‌ای که محورهای x ، y ، z را به ترتیب در نقاط $(a, 0, 0)$ و $(0, b, 0)$ و $(0, 0, c)$ قطع می‌کند به شکل $\frac{x}{a} + \frac{y}{b} + \frac{z}{c} = 1$ نوشته می‌شود.

$$\text{curl } \vec{F} = \begin{vmatrix} \vec{i} & \vec{j} & \vec{k} \\ \frac{\partial}{\partial x} & \frac{\partial}{\partial y} & \frac{\partial}{\partial z} \\ 2xy & 3xz & x^2 + y^2 \end{vmatrix} = (2y - 3x)\vec{i} - 2x\vec{j} + (3z - 2x)\vec{k}$$

حالا به محاسبه $\text{curl } \vec{F}$ و $\vec{n} \cdot d\vec{\sigma}$ می‌پردازیم.

پس $\text{curl } \vec{F} = (2y - 3x, -2x, 3z - 2x)$ است و با توجه به معادله $S: x + \frac{y}{2} + \frac{z}{3} = 1$ داریم: $\vec{n} \cdot d\vec{\sigma} = 3(1, \frac{1}{2}, \frac{1}{3})dydx$

$$I = \iint_S \text{curl } \vec{F} \cdot \vec{n} \cdot d\vec{\sigma} = 3 \iint_D (2y - 3x - x + z - \frac{2}{3}x)dydx$$

بنابراین داریم:

در این انتگرال ناحیه D سایه S روی صفحه xoy است.

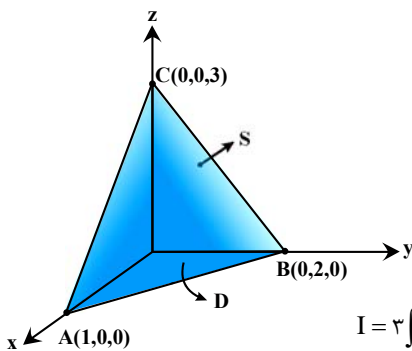
اگر در معادله صفحه $x + \frac{y}{2} + \frac{z}{3} = 1$ مقدار $z = 0$ را قرار دهیم خط $x + \frac{y}{2} = 1$ به دست می‌آید که

مرز ناحیه D است. همچنین در ناحیه D داریم $x \geq 0$ و $y \geq 0$. اکنون به سادگی دیده می‌شود که

$0 \leq x \leq 1$ و $0 \leq y \leq 2(1-x)$ است. با جایگذاری $z = 3(1-x - \frac{y}{2})$ در انتگرالده و نوشتن کران‌ها داریم:

$$I = 3 \iint_R (2y - 3x - x + z - \frac{2}{3}x)dydx = 3 \iint_R (\frac{1}{2}y - \frac{23}{3}x + 3)dydx = 3 \int_0^1 \int_0^{2(1-x)} (\frac{1}{2}y - \frac{23}{3}x + 3)dydx$$

$$\Rightarrow I = 3 \int_0^1 (\frac{1}{2} \frac{y^2}{2} - \frac{23}{3}xy + 3y) \Big|_0^{2(1-x)} dx = 3 \int_0^1 (7 - \frac{7}{3}x + \frac{49}{3}x^2) dx = 3(7x - \frac{7}{6}x^2 + \frac{49}{9}x^3) \Big|_0^1 = \frac{7}{3}$$





مثال ۷: اگر C محل برخورد کره $x^2 + y^2 + z^2 = 4$ و صفحه $z = 1$ باشد که در جهت مثلثاتی طی شده است، آنگاه حاصل انتگرال زیر کدام است؟

$$I = \oint_C (ye^{xy} \sin z + y)dx + (xe^{xy} \sin z + x)dy + (e^{xy} \cos z - x)dz$$

- (۱) ۰ (۲) -۱ (۳) ۱ (۴) ۲

پاسخ: گزینه «۱» بهتر است از قضیه استوکس کمک بگیریم، با توجه به این که C محل برخورد کره $x^2 + y^2 + z^2 = 4$ با صفحه $z = 1$ است، پس فرقی ندارد، روی کدام سطح انتگرال را حساب کنیم، خوب بهتر است روی صفحه $z = 1$ این کار را انجام دهیم و بنابراین داریم: $\vec{V}g = \vec{k} \Rightarrow \vec{V}g = \vec{k} \Rightarrow z = 1$ بنابراین $n = \vec{k}$ ، حالا که \vec{n} مشخص شد، پس فقط لازم است مؤلفه z را حساب کنیم، با توجه به این که داریم:

$$P = ye^{xy} \sin z + y, \quad Q = xe^{xy} \sin z + x, \quad R = e^{xy} \cos z - x$$

پس خواهیم داشت:

$$\text{curl} \vec{F} = \begin{vmatrix} \vec{i} & \vec{j} & \vec{k} \\ \frac{\partial}{\partial x} & \frac{\partial}{\partial y} & \frac{\partial}{\partial z} \\ P & Q & R \end{vmatrix} = (e^{xy} \sin z + ye^{xy} \sin z + 1 - e^{xy} \sin z - xe^{xy} \sin z - 1) \vec{k} = (e^{xy} \sin z + ye^{xy} \sin z - xe^{xy} \sin z) \vec{k}$$

و لذا $\text{curl} \vec{F} \cdot \vec{n} = [(0)\vec{k}] \cdot [\vec{k}] = 0$ پس داریم:

$$\iint_S \text{curl} \vec{F} \cdot \vec{n} d\sigma = 0 \Rightarrow \int_C \vec{F} \cdot d\vec{r} = 0$$

مثال ۸: حاصل انتگرال $\iint_S \text{curl} \vec{F} \cdot \vec{n} d\sigma$ در صورتی که S نیم کره $z \geq 0$ ، $x^2 + y^2 + z^2 = a^2$ با فائز رو به خارج باشد

و $\vec{F} = 3y\vec{i} - 2xz\vec{j} + (x^2 - y^2)\vec{k}$ ، چقدر است؟

- (۱) $-6\pi a^2$ (۲) $6\pi a^2$ (۳) $3\pi a^2$ (۴) $-3\pi a^2$

پاسخ: گزینه «۴» فرض کنید C مرز سطح S ، یعنی دایره $x^2 + y^2 = a^2$ ، $z = 0$ باشد و D ناحیه محصور توسط این دایره در صفحه xoy با قائم \vec{k} باشد، در این صورت داریم:

$$\text{curl} \vec{F} = \begin{vmatrix} \vec{i} & \vec{j} & \vec{k} \\ \frac{\partial}{\partial x} & \frac{\partial}{\partial y} & \frac{\partial}{\partial z} \\ 3y & -2xz & x^2 - y^2 \end{vmatrix} = (2x - 2y)\vec{i} - 2xz\vec{j} - (2z + 2)\vec{k}$$

طبق نتیجهی قضیه استوکس، می توانیم به جای محاسبه $\iint_S \text{curl} \vec{F} \cdot \vec{n} d\sigma$ ، انتگرال زیر را محاسبه کنیم. توجه داشته باشید که مرز سطح S و سطح S' یکسان است.

$$\iint_S \text{curl} \vec{F} \cdot \vec{n} d\sigma = \iint_{S'} \text{curl} \vec{F} \cdot \vec{k} d\sigma = - \iint_{\substack{x^2+y^2 \leq a \\ z=0}} (2z+2) dA = - \iint_D 2 dA = -2 \times (\text{مساحت دایره}) = -2\pi a^2$$

مثال ۹: مقدار انتگرال $\oint_C x^2 y^2 dx + dy + z dz$ که در آن C دایره $z = 0$ ، $x^2 + y^2 = R^2$ می باشد، با کدام گزینه برابر است؟ (عمران - سراسری ۸۰)

- (۱) $-\frac{2\pi R^3}{20}$ (۲) $-\frac{3\pi R^5}{8}$ (۳) $-\frac{\pi R^6}{4}$ (۴) $-\frac{\pi R^6}{8}$

پاسخ: گزینه «۴» انتگرال داده شده، انتگرال میدان $\vec{F} = (x^2 y^2, 1, z)$ روی خم بسته C می باشد. بنابراین از قضیه استوکس استفاده می کنیم، چون خم C در صفحه $z = 0$ قرار دارد، بنابراین $\vec{n} = \vec{k}$ و همچنین $ds = dA$ از طرفی داریم:

$$\text{curl} \vec{F} = \begin{vmatrix} \vec{i} & \vec{j} & \vec{k} \\ \frac{\partial}{\partial x} & \frac{\partial}{\partial y} & \frac{\partial}{\partial z} \\ x^2 y^2 & 1 & z \end{vmatrix} = (0, 0, -3x^2 y^2) \Rightarrow \text{curl} \vec{F} \cdot \vec{k} = -3x^2 y^2$$

در نتیجه داریم:

$$\int_C \vec{F} \cdot d\vec{r} = \iint_S \text{curl} \vec{F} \cdot \vec{n} ds = \iint_S -3x^2 y^2 dA \xrightarrow{\text{مختصات قطبی}} \int_0^{2\pi} \int_0^R -3r^2 \cos^2 \theta r^2 \sin^2 \theta \times r dr d\theta$$

$$= -3 \int_0^{2\pi} \sin^2 \theta \cos^2 \theta d\theta \times \int_0^R r^5 dr = -3 \times \frac{\pi}{4} \times \frac{1}{6} R^6 = -\frac{\pi R^6}{8}$$

مثال ۱۰: مقدار انتگرال $\iint_S \text{curl} \vec{F} \cdot \vec{n} \, ds$ که در آن S سطح $x^2 + y^2 + z^2 = 1, z \geq 0$ ، بردار قائم یکه خارجی S است

(عمران - سراسری ۸۰)

و $\vec{F}(x, y, z) = y\vec{i} - x\vec{j} + zx^2y^2\vec{k}$ ، با کدام گزینه برابر است؟

- (۱) 2π (۲) $\frac{2\pi}{3}$ (۳) $\frac{2\pi}{3\sqrt{3}}$ (۴) $\frac{2\pi\sqrt{3}}{3}$

پاسخ: گزینه «۱» مرز سطح S دایره $x^2 + y^2 = 1$ در صفحه $z = 0$ می‌باشد. در این صورت طبق قضیه استوکس داریم:

$$\iint_S \text{curl} \vec{F} \cdot \vec{n} \, ds = \int_C \vec{F} \cdot d\vec{r} \quad (\text{چون قائم } S \text{ رو به پایین است، بنابراین مرز } C \text{ باید در جهت خلاف مثلثاتی پیموده شود.})$$

$$\vec{r}(t) = (\cos t, \sin t, 0) \Rightarrow \vec{F}(\vec{r}(t)) = (\sin t, -\cos t, 0) \Rightarrow d\vec{r} = (-\sin t, \cos t, 0) dt$$

خم C را به صورت پارامتری روبرو می‌نویسیم:

$$\int_C \vec{F} \cdot d\vec{r} = -\int_0^{2\pi} (-\sin^2 t - \cos^2 t + 0) dt = 2\pi$$

در نتیجه خواهیم داشت:

مثال ۱۱: حاصل $\oint_C 2xyz^2 dx + x^2z^2 dy + 3x^2yz^2 dz$ که در آن منحنی C فصل مشترک استوانه $x^2 + y^2 = 4$ با صفحه $z = 0$ باشد، برابر کدام است؟

(MBA - سراسری ۸۶)

برابر کدام است؟

- (۱) صفر (۲) $\frac{5\pi}{2}$ (۳) ۴ (۴) ۸

پاسخ: گزینه «۱» از قضیه استوکس استفاده می‌کنیم.

$$\vec{F} = (2xyz^2, x^2z^2, 3x^2yz^2) \Rightarrow \text{curl} \vec{F} = \begin{vmatrix} \vec{i} & \vec{j} & \vec{k} \\ \frac{\partial}{\partial x} & \frac{\partial}{\partial y} & \frac{\partial}{\partial z} \\ 2xyz^2 & x^2z^2 & 3x^2yz^2 \end{vmatrix} = (0, 0, 0) \Rightarrow \int_C \vec{F} \cdot d\vec{r} = \iint_A \text{curl} \vec{F} \cdot \vec{n} \, ds = 0$$

(صنایع - سیستم - سراسری ۸۷)

مثال ۱۲: کدام قضیه رابط انتگرال رویه و انتگرال خط است؟

- (۱) قضیه گرین (۲) قضیه استوکس (۳) قضیه دیورژانس (۴) قضیه مقدار میانگین

پاسخ: گزینه «۲» می‌دانیم طبق قضیه استوکس $\int_C \vec{F} \cdot d\vec{r} = \iint_S \text{curl} \vec{F} \cdot \vec{n} \, ds$ ، که این رابطه انتگرال رویه‌ای را به انتگرال خط تبدیل می‌کند.

مثال ۱۳: اگر $\vec{F} = yz\vec{j} + xz\vec{j} + xy\vec{k}$ و C منحنی بسته حاصل از محل تلاقی صفحه $x + y + z = 0$ با استوانه $x^2 + y^2 = 1$ باشد، آن‌گاه $\int_C \vec{F} \cdot d\vec{R}$ برابر

(مواد - سراسری ۸۸)

کدام مقدار است؟

- (۱) ۱ (۲) ۰ (۳) -۱ (۴) 2π

پاسخ: گزینه «۲» برای محاسبه $\int_C \vec{F} \cdot d\vec{R}$ با توجه اینکه منحنی C بسته است. قضیه استوکس استفاده می‌کنیم. ابتدا توجه کنید که داریم:

$$\text{curl} \vec{F} = \begin{vmatrix} \vec{i} & \vec{j} & \vec{k} \\ \frac{\partial}{\partial x} & \frac{\partial}{\partial y} & \frac{\partial}{\partial z} \\ yz & xz & xy \end{vmatrix} = (x-x)\vec{i} - (y-y)\vec{j} + (z-z)\vec{k} = (0, 0, 0)$$

$$\int_C \vec{F} \cdot d\vec{R} = \iint_{(0,0,0)} \text{curl} \vec{F} \cdot \vec{n} \, ds = 0$$

بنابراین طبق قضیه استوکس داریم:

مثال ۱۴: فرض کنید $\vec{F}(x, y, z) = (z-y)\vec{i} + (x+y)\vec{j} + (x+2y)\vec{k}$ مقدار $\int_C \vec{F} \cdot d\vec{r}$ کدام است هرگاه C دایره‌ی $\begin{cases} x^2 + y^2 = 4 \\ z = 2 \end{cases}$ باشد که تصویر آن بر

(صنایع - سیستم - سراسری ۹۰)

صفحه‌ی xoy در جهت مثلثاتی در نظر گرفته شده است.

- (۱) 4π (۲) 6π (۳) 8π (۴) 12π

پاسخ: گزینه «۳» برای محاسبه انتگرال کار از قضیه استوکس استفاده می‌کنیم:

$$\oint_C \vec{F} \cdot d\vec{r} = \iint_S \vec{\nabla} \times \vec{F} \cdot \vec{n} \, ds \quad ; \quad (1)$$

که در این مسئله S سطح داخل دایره $\begin{cases} x^2 + y^2 = 4 \\ z = 2 \end{cases}$ می‌باشد، از طرفی وقتی C در صفحه‌ی xoy است، $\vec{n} = \vec{k}$ می‌باشد.

$$\text{curl} \vec{F} = \begin{vmatrix} \vec{i} & \vec{j} & \vec{k} \\ \frac{\partial}{\partial x} & \frac{\partial}{\partial y} & \frac{\partial}{\partial z} \\ z-y & x+y & x+2y \end{vmatrix} = 2\vec{i} + 2\vec{k} \Rightarrow \text{curl} \vec{F} \cdot \vec{n} \, ds = (2\vec{i} + 2\vec{k}) \cdot \vec{k} \, ds = 2 \, ds$$

$$\oint_C \vec{F} \cdot d\vec{r} = \iint_S \text{curl} \vec{F} \cdot \vec{n} \, ds = \iint_S 2 \, ds = 2 \times (\text{مساحت}) = 2 \times \frac{\pi \times 2^2}{\text{مساحت دایره}} = 8\pi$$

در رابطه (۱) جایگذاری می‌کنیم.